


تلاشی در مسیر موفقیت



- دانلود گام به گام تمام دروس ✓
- دانلود آزمون های قلم چی و گاج + پاسخنامه ✓
- دانلود جزوه های آموزشی و شب امتحانی ✓
- دانلود نمونه سوالات امتحانی ✓
- مشاوره کنکور ✓
- فیلم های انگیزشی ✓

 www.ToranjBook.Net

 [ToranjBook_Net](https://www.toranjbook.net)

 [ToranjBook_Net](https://www.toranjbook.net)

دفترچه شماره ۱

آزمون شماره ۹

جمعه ۱۴۰۱/۰۸/۰۶



آزمون‌های سراسری گاج

گزینه دروس را انتخاب کنید.

سال تحصیلی ۱۴۰۲-۱۴۰۱

سوالات آزمون

پایه دهم انسانی

دوره دوم متوسطه

نام و نام خانوادگی:	شماره داوطلبی:
تعداد سوال: ۸۵	مدت پاسخگویی: ۹۰ دقیقه

عناوین مواد امتحانی آزمون گروه آزمایشی علوم انسانی، تعداد سوالات و مدت پاسخگویی

ردیف	مواد امتحانی	تعداد سوال		مدت پاسخگویی
		از	تا	
۱	ریاضی و آمار ۱	۱	۱۰	۱۵ دقیقه
۲	اقتصاد	۱۱	۱۰	۱۰ دقیقه
۳	علوم و فنون ادبی ۱	۲۱	۱۵	۱۵ دقیقه
۴	زبان عربی (اختصاصی)	۳۶	۱۰	۱۰ دقیقه
۵	تاریخ ایران و جهان ۱	۴۶	۱۰	۱۰ دقیقه
۶	جغرافیای ایران	۵۶	۱۰	۱۰ دقیقه
۷	جامعه‌شناسی ۱	۶۶	۱۰	۱۰ دقیقه
۸	منطق	۷۶	۱۰	۱۰ دقیقه



۱- تعدادی شکلات را می‌خواهیم بین تعدادی کودک تقسیم کنیم، اگر به هر کودک ۴ شکلات بدهیم ۲ شکلات باقی می‌ماند، اگر به هر کودک ۷ شکلات بدهیم، به یک کودک هیچ شکلاتی نمی‌رسد، چند کودک وجود دارد؟

- (۱) ۲ (۲) ۳ (۳) ۱۴ (۴) ۱۵

۲- اگر $x = \frac{1}{p}$ جواب معادله $\frac{x}{p} - 3a = \frac{a}{p} + 2x$ باشد، مقدار a کدام است؟

- (۱) ۱ (۲) -۱ (۳) $-\frac{1}{4}$ (۴) $\frac{1}{4}$

۳- وقتی نیکا به دنیا آمد برادرش ۲ ساله بود. اگر اکنون سن پدر آن‌ها دو برابر مجموع سن آن‌ها باشد و ۲۲ سال دیگر سن پدر با مجموع سن آن دو برابر شود، اکنون نیکا چند سال دارد؟

- (۱) ۱۰ (۲) ۱۲ (۳) ۸ (۴) ۱۴

۴- در معادله درجه دوم $ax^2 + bx + c = 0$ با کدام شرط حاصل ضرب جواب‌ها صفر می‌شود؟

- (۱) $c = 0$ (۲) $b = 0$ (۳) $a = c$ (۴) $b = c$

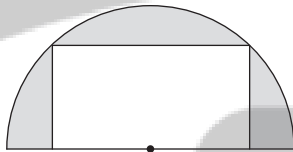
۵- اگر یکی از جواب‌های معادله $2x(x-n) = n^2 + 3$ برابر با (-1) باشد، جواب دیگر کدام است؟

- (۱) -۲ (۲) ۱ (۳) -۱ (۴) ۲

۶- مجموع جواب‌های معادله $x - 1 = 6 = (x-1)^2$ کدام است؟

- (۱) ۲ (۲) ۳ (۳) ۱ (۴) ۴

۷- اگر طول مستطیل زیر دو برابر عرض آن باشد و مساحت قسمت رنگی برابر با ۱۶ باشد، محیط مستطیل چقدر است؟



(۱) $\frac{4}{\sqrt{\pi-2}}$

(۲) $\frac{24}{\sqrt{\pi-2}}$

(۳) $\frac{16}{\pi-2}$

(۴) $\frac{12}{\pi-2}$

۸- معادله درجه دوم $x^2 + mx + n = 0$ دارای ریشه مضاعف $x = 2$ است، حاصل $m - n$ کدام است؟

- (۱) -۶ (۲) ۸ (۳) -۸ (۴) صفر

۹- برای حل معادله درجه دوم $2x^2 + 6x + 1 = 0$ به روش مربع کامل، از چه عددی در طرف دوم تساوی جذر می‌گیریم؟

- (۱) ۱ (۲) ۲ (۳) $\frac{11}{4}$ (۴) $\frac{7}{4}$

۱۰- به ازای کدام مقدار k معادله $(x-k)^2 = 2$ دارای دو ریشه مثبت است؟

- (۱) $\frac{3}{2}$ (۲) ۱ (۳) $\frac{1}{2}$ (۴) $\frac{6}{5}$



۱۱- هر یک از عبارات‌های زیر مربوط به کدام یک از انواع کسب و کار است؟

- (الف) امروزه در ایران بسیاری از کسب و کارها به این شکل هستند.
 (ب) کسب و کار شما برای رشد بهتر می‌تواند تبلیغ کند، کارمند استخدام کند و برخی افراد، همراه شما صاحب کسب و کار شوند.
 (ج) این کسب و کارها اغلب مأموریت‌هایی با زمینه‌های انسانی و اجتماعی دارند.
 (د) راه‌اندازی آسان و هزینه‌های نسبتاً اندک از مزایای ایجاد یک کسب و کار این‌چنینی است.

(۱) الف: شخصی ب: شرکت ج: تعاونی د: شرکت (۲) الف: شخصی ب: شرکت ج: غیرانتفاعی د: شخصی

(۳) الف: شرکت ب: تعاونی ج: غیرانتفاعی د: شخصی (۴) الف: شرکت ب: تعاونی ج: تعاونی د: شرکت

۱۲- کدام گزینه در ارتباط با ویژگی‌های کارآفرینان نادرست است؟

- (۱) کارآفرین باید بیش از سایرین توانایی مالی داشته باشد تا بتواند تا انتها کسب و کارش را حمایت کند.
 (۲) کارآفرین یادگیرنده، کسی است که از متخصصان، همکاران و مشتریان می‌آموزد و خود را با شرایط بازار وفق می‌دهد.
 (۳) کارآفرین با مهارت ابتکار عمل خود، تمام عوامل تولید را در کنار هم جمع می‌کند تا بتواند محصولی جدید را تولید کند.
 (۴) این افراد واقع‌بین هستند اما از موفقیت اقتصادی دلسرده و نامطمئن نمی‌شوند و این همان خوش‌بینی است.

۱۳- کدام گزینه پاسخ درست و کاملی به پرسش‌های زیر می‌دهد؟

- (الف) پولی که برای تولید صرف می‌شود، نام دارد.
 (ب) پیش از آغاز کسب و کار جدید، کارآفرین به این فکر می‌کند که
 (ج) در شرکت، سود چگونه تقسیم می‌شود؟

(د) چرا دولت قوانینی را برای شرکت‌ها در نظر می‌گیرد؟

- (۱) الف: هزینه تولید ب: تنها یا همراه با دیگران، کار را شروع کند. ج: بر مبنای سهام خریداری شده د: اطمینان دادن به سرمایه‌گذاران
 (۲) الف: درآمد ب: چگونه از زیان خود بکاهد. ج: بر مبنای سهام خریداری شده د: اطمینان دادن به سرمایه‌گذاران
 (۳) الف: درآمد ب: چگونه از زیان خود بکاهد. ج: براساس نسبت توافق شده د: جلوگیری از فریب خوردن سرمایه‌گذاران
 (۴) الف: هزینه تولید ب: تنها یا همراه با دیگران، کار را شروع کند. ج: براساس نسبت توافق شده د: جلوگیری از فریب خوردن سرمایه‌گذاران

۱۴- شرکتی با ۲۳ کارمند، سالانه ۳۸,۰۰۰ عدد لباس را به قیمت هر عدد ۶۹,۰۰۰ تومان به فروش می‌رساند. با توجه به اطلاعات جدول زیر، این

شرکت چه میزان سود یا زیان کرده است؟

۲,۷۰۰,۰۰۰	حقوق ماهیانه کارمندان
۶,۳۰۰,۰۰۰	اجاره ماهیانه
۳۲,۰۰۰,۰۰۰	هزینه سالیانه تعمیر دستگاه‌ها
۱۲۰,۰۰۰,۰۰۰	خرید سالیانه مواد اولیه
۱,۵۰۰,۰۰۰	هزینه آب و برق ماهیانه

(۱) ۹۹۰,۸۰۰,۰۰۰ سود

(۲) ۱,۶۳۱,۲۰۰,۰۰۰ سود

(۳) ۱,۶۳۱,۲۰۰,۰۰۰ زیان

(۴) ۹۹۰,۸۰۰,۰۰۰ زیان

۱۵- کدام عبارت‌ها در ارتباط با واقعیت صحیح است؟

- (الف) برای تکمیل اساسنامه ممکن است به وکیل نیاز داشته باشید، وکیل در سایر اسناد هم می‌تواند کمک کند.
 (ب) مشاغل صنعتگران خرد و هنرمندان و حتی کسب و کارهای تخصصی مثل وکالت و پزشکی اغلب تعاونی هستند.
 (ج) افرادی که به کسب و کارهای حرام اشتغال دارند، معمولاً ترجیح می‌دهند از شهرهای کوچک به شهرهای بزرگ کوچ کنند.
 (د) شرکت‌ها به صاحبان محل فعالیت خود مثل صاحب‌خانه‌ها مابه‌ازای ملکشان، دستمزد پرداخت می‌کنند.

(۴) ب - د

(۳) الف - ج

(۲) ب - ج

(۱) الف - ب



۱۶- کدام گزینه انگیزه لازم کارآفرین را برای پذیرش خطرات آغاز یک کار اقتصادی فراهم می‌کند؟

- (۱) این‌که بسیاری از کسب و کارهایی که به تازگی تأسیس شده‌اند (نوپا)، ورشکست می‌شوند.
- (۲) با ایمان به توانایی‌های خود می‌تواند از کسب و کاری که تأسیس کرده، مراقبت کند.
- (۳) علی‌رغم این‌که احتمال شکست یک کسب و کار وجود دارد، احتمال موفقیت و سودآوری آن نیز کم نیست.
- (۴) بسیاری از رقبای او مثل سایر کسب و کارهای دنیا متولد می‌شوند و همین‌طور به زودی از بین می‌روند.

۱۷- کدام گزینه پاسخ کاملی به پرسش‌های زیر می‌دهد؟

- (الف) کدام گزینه در ارتباط با پرهیز از استخدام نیروی کار غیرلازم، درست است؟
 (ب) برای پاسخ به سؤالاتی مثل «صاحب نهایی محصول کیست؟» از مفهوم استفاده می‌کنیم.
 (ج) اگر از مجموع ۱۶۷,۰۰۰ سهام یک شرکت، فردی ۲۹,۰۰۰ سهم را بخرد، وی حدوداً مالک چند درصد سهام این شرکت است؟
 (د) هدف از تشکیل تعاونی چیست؟

- (۱) الف: با این کار درآمد و سود افزایش می‌یابد. ب: کارآفرین ج: ۱۷ د: رفع نیازهای اعضا
- (۲) الف: با این کار درآمد افزایش و ضرر کاهش می‌یابد. ب: کارآفرین ج: ۲۵ د: سودآوری
- (۳) الف: با این کار هزینه‌ها و ضرر کاهش می‌یابد. ب: سازمان تولید ج: ۲۵ د: سودآوری
- (۴) الف: با این کار هزینه‌ها کاهش و سود افزایش می‌یابد. ب: سازمان تولید ج: ۱۷ د: رفع نیازهای اعضا

۱۸- موارد ذکرشده در کدام گزینه همگی از معایب یا مزایای کسب و کار شرکت سهامی هستند؟

- (۱) هزینه‌های راه‌اندازی بالاتر - امکان رقابت بالاتر به علت تولید بیشتر
- (۲) هزینه‌های راه‌اندازی بالاتر - بار سنگین مسئولیت
- (۳) مشکل تأمین مالی - مالکیت کامل سود
- (۴) بار سنگین مسئولیت - امکان رقابت بالاتر به علت تولید بیشتر

۱۹- کدام گزینه پاسخ درستی به دو پرسش زیر می‌دهد؟

(الف) کدام یک شاهد مثالی برای هویت قانونی شرکت‌ها است؟

(ب) کدام یک در ارتباط با تعاونی‌ها نادرست است؟

- (۱) الف: شرکت‌ها می‌توانند از هم شکایت کنند. ب: هر کس به مقدار سهمش می‌تواند رأی بدهد.
- (۲) الف: امکان جذب افراد توانمندتر در زمینه‌های تخصصی تر ب: هر کس به مقدار سهمش می‌تواند رأی بدهد.
- (۳) الف: امکان جذب افراد توانمندتر در زمینه‌های تخصصی تر ب: هر کس به تناسب سهمش در سود و زیان شریک است.
- (۴) الف: شرکت‌ها این توانایی را دارند که دارایی داشته باشند. ب: هر کس به تناسب سهمش در سود و زیان شریک است.

۲۰- کدام گزینه به ترتیب درست (ص) یا نادرست (غ) بودن عبارتهای زیر را به درستی نشان می‌دهد؟

- (الف) شرکت‌ها انواع مختلفی دارند اما در میان آن‌ها مهم‌ترینشان شرکت‌های سهامی هستند.
 (ب) مؤسسات غیرانتفاعی برخلاف سایر کسب و کارها می‌توانند بدون مجوزهای قانونی کار کنند.
 (ج) سال‌ها پیش کسی درباره تلفن‌های همراه چیزی شنیده بود زیرا کسی نبوده است که آن را تولید کند.
 (د) کارآفرین تیزبین، ایده‌ها را به محصولات جدید، فرآیندها و یا کسب و کارهای نوین تبدیل می‌کند.

(۱) ص - غ - غ - ص (۲) ص - غ - ص - غ (۳) غ - ص - ص - غ (۴) غ - ص - ص - غ



علوم و فنون ادبی



۲۱- کدام بیت یادآور نام اثری از عطار است که داستان «روبه و شکارچی» در آن آمده است؟

- | | |
|---------------------------------|------------------------------|
| ۱) جهان معرفت، اسرارنامه است | بهبشت اهل دل، مختارنامه است |
| ۲) مقامات طیور اما چنان است | که مرغ عشق را معراج جان است |
| ۳) مصیبت‌نامه زاد رهروان است | الهی‌نامه گنج خسروان است |
| ۴) چو خسرونامه را طرزی عجیب است | ز طرز او که و مه را نصیب است |

۲۲- اگر بیت‌های زیر، هر کدام از میانه یک شعر انتخاب شده باشند، کدام گزینه در قالب شعری مثنوی سروده شده است؟

- | | |
|-----------------------------------|----------------------------------|
| ۱) ز روی کار من، برقع برانداخت | به یک بار آن که در برقع نهان است |
| ۲) ندانم هیچ کس در عهد حسنش | که با دل باشد آلا بی‌بصارت |
| ۳) نه آزاد از سرش بر می‌توان خاست | نه با او می‌توان آسوده بنشست |
| ۴) میان آن همه گفت و شنیدم | سخن را به ازین نوعی ندیدم |

۲۳- نوع «را» در کدام گزینه، متفاوت است؟

- | | |
|-------------------------------------|-----------------------------------|
| ۱) لب دریا ستاده بود مردی | که ماهی را ز دریا صید کردی |
| ۲) پرید جانب او مرغ روح و با من گفت | که من شدم، تو نگهدار آشیان مرا |
| ۳) مهل که روز وفاتم به خاک بسپارند | مرا به میکده بر، در خم شراب انداز |
| ۴) زدم دی به زنجیر گیسوش دست | مرا گفت، باز این چه دیوانگی ست |

۲۴- کاربرد فعل «گسستن» در کدام گزینه با عبارت «چندان که شاخ بگسست و آن بیچاره حریص در دهان ازدها افتاد.» متفاوت است؟

- | | |
|----------------------------------|---------------------------------|
| ۱) مرد عارف، گفت‌وگو را در بست | مست خود گردید و از عالم گسست |
| ۲) پنجه شیران شکست قوت سودای او | جوشن مردان گسست ناوک مژگان او |
| ۳) باز حرف اندر گلوی او شکست | از لبش آهسی جگرتابی گسست |
| ۴) ز من گسستی و با دیگران پیوستی | مرا درست شد اکنون که عهد بشکستی |

۲۵- در کدام گزینه، کاربرد واژه «قاتل» متفاوت است؟

- | | |
|-------------------------------------|----------------------------------|
| ۱) خطاست این‌که دل دوستان بیازاری | ولیک قاتل عمد از خطا چه غم دارد؟ |
| ۲) ضربتی چون ضربت سودای او دستی نزد | شربتی چون شربت هجران او قاتل نشد |
| ۳) در فغانم ز دست قاتل خویش | کشته را هیچ در فغان دیدی؟ |
| ۴) عاشقی می‌گفت و خوش خوش می‌گریست | جان بیاساید که جانان قاتل است |

۲۶- کدام گزینه برخلاف وزن نشاط آور بیت، مفهومی غم‌آلود دارد؟

- | | |
|---------------------------------|------------------------------|
| ۱) بار دگر جانب یار آمدیم | خیره نگر سوی نگار آمدیم |
| ۲) هر دم از این باغ، بری می‌رسد | تازه‌تر از تازه‌تری می‌رسد |
| ۳) هر که نه گویای تو، خاموش به | هر چه نه یار تو، فراموش به |
| ۴) گریه ز چشمم به امان آمده است | نالاه ز آهم به فغان آمده است |



۲۷- با توجه به ابیات زیر از شاهنامه، کدام گزینه در «ترسیم فضای حماسی» نقش برجسته‌ای ندارد؟

- «زمین آمد از سُمّ اسپان به جوش
چو برخاست از دشت، گرد سپاه
که آمد سپاهی چو کوه گران
(۱) اشاره به واژه‌های دشت و دیدگاه
(۲) اغراق در توصیف بلندی سروصدای نبرد
(۳) تشبیه سپاه به کوه گران
(۴) مقدم شدن فعل بر سایر ارکان جمله

۲۸- همه گزینه‌ها به ویژگی‌های زبانی ابیات زیر اشاره دارد؛ به جز

- «که گر صیاد بیند هم‌چنینم
پس آن‌گه، مُرده کرد او خویشتن را
چو صیاد آمد، او را مرده پنداشت
ز بُن بُرید حالی گوش او لیک
(۱) کاربردهای تاریخی دستور در ابیات دیده می‌شود.
(۲) شعر، ظاهری ساده، محسوس و عینی دارد.
(۳) در ابیات، واژگان کهن به کار رفته است.
(۴) زبان شعر ساده و جمله‌ها کوتاه است.

۲۹- مفهوم کلی دوبیتی زیر چیست؟

- «نهنگی بچه خود را چه خوش گفت:
به موج آویز و از ساحل بپرهیز
(۱) دعوت به قناعت
(۲) دعوت به پاسداری از میهن
(۳) پرهیز از پرداختن به مادیات
(۴) دعوت به تلاش و پویایی مداوم

۳۰- در کدام گزینه، آرایه «تشخیص» به چشم نمی‌خورد؟

- (۱) به خدا گل ز تو آموخت شکر خندیدن
(۲) به خدا چرخ همان دید که من دیدستم
(۳) گفتم ای نی تو چنین زار چرا می‌نالی؟
(۴) مست، این‌سان که تو از خانه به در می‌آبی

۳۱- کدام گزینه، آراسته به آرایه «تشبیه» نیست؟

- (۱) تا بود بر دیگران وصلت حلال
(۲) مرا چو زندگی از یاد روی چون مه توست
(۳) دور از رخ تو دم به دم از گوشه چشمم
(۴) شاخ شمشاد است یا سرو سهی یا نارون

۳۲- کدام گزینه با عبارت زیر، تناسب معنایی ندارد؟

«پیش خویش، زنبورخانه‌ای و قدری شهد یافت، چیزی از آن به لب بُرد، از نوعی در حلاوت آن مشغول گشت که از کار خود غافل ماند و نه‌اندیشید که پای او بر سر چهار مار است و نتوان دانست که کدام وقت در حرکت آیند، و موشان در بریدن شاخ‌ها، جدّ بلیغ می‌نمایند.»

- (۱) دل در بقا میند کز این باغ پرفریب
(۲) ای که گفتمی به هوا دل منه و مهر میند
(۳) برق سبک‌عنان نرسد در شتاب عمر
(۴) دل به تار نفس سست میند از غفلت
بی‌بال و پر چو قطره شب‌نم پریدنی است
من چنینم تو برو مصلحت خویش اندیش
ز نهار دل میند به مدّ شهاب عمر
که به هر دم زدن آماده بگسیختن است



۳۳- کدام بیت، در بردارندهٔ مضمون بیت «هرکه زین گلشن، لبی خندان تر از گل بابدش / خاطری فارغ ز عالم چون توگل بابدش» نیست؟

- ۱) تازه‌رویوان توگل، فارغاند از فکر رزق
- ۲) با توگل سفری شو که در این راه، به چاه
- ۳) مکن از کسب، دست خویش کوتاه چون گران جانان
- ۴) صائب چو موج از خطر بحر، ایمن است

۳۴- کدام گزینه با بیت «شب تاریک و بیم موج و گردابی چنین هایل / کجا دانند حال ما سبکباران ساحل‌ها؟» تناسب معنایی بیشتری دارد؟

- ۱) قدر یاقوت لب او را که می‌داند که چیست؟
- ۲) مرا از حال عشق و صبر پرسید
- ۳) حساب سال و ماه از دشت پیمایان چه می‌پرسی؟
- ۴) حال ما راهروان آبله‌پایی داند

۳۵- کدام گزینه با بیت «هرکه می‌خواهد که از سنجیده‌گفتاران شود / بر زبان، بند گرانی از تأمل بابدش» تناسب معنایی ندارد؟

- ۱) سخن کاو از سر اندیشه ناید
- ۲) ای که پنجاه رفت و در خوابی
- ۳) مزن بی‌تأمل به گفتار، دم
- ۴) اول اندیشه وان‌گهی گفتار

سایت کنکور
نکته بوک

تلاشی در مسیر موفقیت



زبان عربی (اختصاصی)



■ عین الصحیح فی الترجمة أو المفهوم أو المفردات (۴۲ - ۳۶):

۳۶- «كَانَ ثَلَاثَةَ رِجَالٍ يَزِينُونَ الْمَسَاجِدَ بِمَصَابِيحَ لُضْيَاءِهَا أَرْبَعَةَ أَلْوَانٍ!»:

- (۱) چهار مرد، مساجد را با چراغ‌هایی زینت می‌دادند که روشنائیشان سه رنگ داشت!
- (۲) مساجد را سه جوان با کاغذهایی زینت دادند که ظاهرشان چهار رنگ داشت!
- (۳) سه مرد، مسجد را با چراغی می‌آرایند که روشنائی‌اش شش‌رنگ دارد!
- (۴) سه مرد، مسجدها را با چراغ‌هایی می‌آراستند که روشنائیشان، چهار رنگ داشت!

۳۷- «إِبْحَثُوا عَنْ نَصِّ قَصِيرٍ حَوْلَ كَيْفِيَّةِ ظَهْوَرِ الْغَيْمِ الْأَسْوَدِ وَ نَزُولِ الْمَطَرِ مِنْهُ مُسْتَعِينًا بِالْحَاسِبِ قَبْلَ السَّاعَةِ التَّاسِعَةِ!»:

- (۱) پیش از ساعت نه پیرامون چگونگی پدید آمدن ابر سیاه و باریدن باران از آن، با استفاده از رایانه به دنبال متنی کوتاه بگردید!
- (۲) قبل از ساعت هفت به دنبال متنی کوتاه درباره کیفیت ظهور طوفان سریع و نزول باران با استفاده از رایانه بگردید!
- (۳) با استفاده از تلفن همراه، قبل از ساعت نه پیرامون کیفیت پدیدار شدن ابر سیاه و باریدن باران از آن، به دنبال متنی بلند می‌گشتند!
- (۴) قبل از ساعت هفت، با استفاده از رایانه، به دنبال متنی طولانی درباره چگونگی پدید آمدن ابرهای سیاه و فرو آمدن آب از آن، گشتیم!

۳۸- «كَأَنَّ الشَّمْسَ الَّتِي جَذَوْتَهَا مُسْتَعْرَةً، تُرِيدُ أَنْ تُحْرِقَ كُلَّ مَا فِي الْأَرْضِ فِي الصَّيْفِ!»:

- (۱) قطعاً خورشید که پاره آتش آن فروزان است، می‌تواند هر چیزی را که در زمین است، در تابستان بسوزاند!
- (۲) گویی ماه که روشنائی‌اش جذاب است، می‌خواهد هر چه را در زمین است، در بهار روشن گرداند!
- (۳) گویی خورشید که پاره آتشش فروزان است، در تابستان می‌خواهد هر آن چه را در زمین است، بسوزاند!
- (۴) به درستی ماه که روشنائی‌اش جذاب است، در تابستان می‌خواهد هر آن چه را در آسمان است، زیبا گرداند!

۳۹- عین الخطأ:

- (۱) لأولئك الشعراء أشعار ذات عاطفة كثيرة! أن شاعران، اشعاری دارند که دارای عاطفه‌ای بسیار است!
- (۲) سيعطى معلم ذو أخلاق حسنة تلاميذه المجدين ستّ جوائز أخرى! یک معلم دارای اخلاق نیکو به دانش‌آموزان کوشا، هشت جایزه دیگر خواهد داد!
- (۳) إن الطالب الراسب قذف حجراً و شقّ رأس المدير! همانا دانش‌آموز مردود، سنگی انداخت و سر مدیر را شکافت!
- (۴) ربّنا هو الذي ما خلق شيئاً في العالم باطلاً! پروردگار ما کسی است که چیزی را در جهان بی‌هوده نیافریده است!

۴۰- «إِذَا مَلَكَ الْأَرَاذِلُ هَلَكَ الْأَفْضَلُ!»: عین الأقرب من المفهوم:

- (۱) من بر سر ناتوان دست زور / که روزی در افتی به پایش چو مور
- (۲) آسایش دو گیتی تفسیر این دو حرف است / با دوستان مرّوت با دشمنان مدارا
- (۳) این قوم اراذل اگر آزاد بمانند / بس شیره، جان کز گل خشخاش بگیرند
- (۴) چو افتد به دست اراذل امور / شود عدل و انصاف منکوب زور

۴۱- میز الخطأ في توضيح الكلمات:

- (۱) الشررة: قطعة من النار.
- (۲) الأنجم: أجرام سماوية كثيرة لها ضياء.
- (۳) الفستان: من الأحجار الجميلة الغالية ذات اللون الأبيض.
- (۴) الأنعم: هي كلّ ما خلقه الله لانتفاع الإنسان به.

۴۲- في أيّ عبارة توجد كلمة غريبة عن الكلمات الأخرى؟

- (۱) الجذوة - الشررة - النار - الحرارة
- (۲) الخضرة - النجم - الكوكب - الضياء
- (۳) الغصون - الثمرة - الشجرة - النضرة
- (۴) السماء - الغيم - المطر - السحاب



■ عین المناسب في الجواب عن الأسئلة التالية (۴۵ - ۴۳):

۴۳- كم الساعة؟ الساعة.....

(۱) الثانية و الربع!

(۲) الثانية إلا ربعاً!

(۳) الثانية تماماً!

(۴) الثالثة و الربع!

۴۴- ميّز الخطأ عن الأفعال:

(۱) لا تدخلن: فعل مضارع - جمع مؤنث مخاطب

(۳) أتركا: فعل أمر - مثنى مؤنث مخاطب

۴۵- عيّن الصحيح في تعيين الساعة:



(۲) ما فرحت: فعل ماضى منفي - مفرد مؤنث مخاطب

(۴) لا تنطقن: فعل نهى - جمع مؤنث مخاطب

(۲) = الساعة السابعة إلا ربعاً!



(۱) = الساعة الثالثة و الربع!



(۴) = الساعة الحادية عشرة إلا ربعاً!



(۳) = الساعة الثانية عشرة و النصف!



سایت کنکور
نہانجے بوبک
تلاشی در مسیر موفقیت



۴۶- با توجه به این که مرحله اول هر پژوهش تاریخی «انتخاب موضوع» و مرحله ششم آن «گزارش یافته‌های پژوهش» است، کدام گزینه ترتیب

مراحل دوم تا پنجم پژوهش‌های تاریخی را به درستی نشان می‌دهد؟

- ۱) شناسایی منابع - گردآوری و تنظیم اطلاعات - تحلیل و تفسیر اطلاعات - تدوین پرسش‌های تحقیق
- ۲) تدوین پرسش‌های تحقیق - شناسایی منابع - گردآوری و تنظیم اطلاعات - تحلیل و تفسیر اطلاعات
- ۳) شناسایی منابع - گردآوری و تنظیم اطلاعات - تدوین پرسش‌های تحقیق - تحلیل و تفسیر اطلاعات
- ۴) تدوین پرسش‌های تحقیق - گردآوری و تنظیم اطلاعات - تحلیل و تفسیر اطلاعات - شناسایی منابع

۴۷- کدام گروه از منابع زیر، در پژوهش‌های تاریخی منبع دست اول محسوب نمی‌شوند؟

- ۱) هر وسیله‌ای که از گذشته به جای مانده است.
- ۲) منابعی که نویسندگان آن، شرح ماجرا را از شاهدان واقعه شنیده‌اند.
- ۳) آثاری که نویسندگان آن تنها ناظر رویدادها بوده‌اند.
- ۴) آثاری که با استفاده از منابع اصلی پدید آمده‌اند.

۴۸- از چه زمانی توجه انسان به ثبت و نگارش رویدادهای عصر خویش جلب شد؟

- ۱) پس از اختراع خط در حدود ۵ هزار سال پیش
- ۲) از زمان شکل‌گیری اولین جوامع بشری
- ۳) از دوران حکومت فرعون بر مصر حدود ۴ هزار سال پیش
- ۴) از قرن پنجم پیش از میلاد در یونان باستان

۴۹- چرا ژولیوس سزار دستور اصلاح تقویم رومی را براساس تقویم مصری داد؟

- ۱) قصد داشت مبدأ آن را به میلاد مسیح تغییر دهد.
- ۲) زیرا تقویم مصری جدیدتر و دقیق‌تر بود.
- ۳) به دستور پاپ گرگوار سیزدهم آن را اصلاح کرد.
- ۴) زیرا تقویم رومیان چندان دقیق نبود.

۵۰- تقویم رایج بیشتر کشورهای اسلامی چیست و مبدأ آن کدام است؟

- ۱) هجری شمسی - اول فروردین سال میلاد پیامبر اسلام (ص)
- ۲) هجری قمری - روز میلاد پیامبر اسلام (ص)
- ۳) هجری شمسی - اول فروردین سال هجرت پیامبر (ص) از مکه به مدینه
- ۴) هجری قمری - اول محرم سال هجرت پیامبر (ص) از مکه به مدینه

۵۱- کدام گزینه جزء اطلاعاتی که نقشه‌های تاریخی نمایش می‌دهند، نیست؟

- ۱) معماری و مصالح بناهای تاریخی
- ۲) تقسیمات اداری و مالیاتی
- ۳) محل دقیق رویدادها به خصوص جنگ‌ها
- ۴) مسیرهای مهاجرت

۵۲- تعریف دقیق آثار باستانی یا آثار تاریخی در کدام گزینه آمده است؟

- ۱) مکان‌هایی که انسان‌های نخستین به عنوان سکونتگاه انتخاب می‌کردند.
- ۲) تمامی اشیاء، ابزارها، بناها و مکان‌هایی که ساخته دست بشر و محصول اندیشه او هستند.
- ۳) بناها، لوح‌های گلی، نقاشی دیواره‌ها و سنگ‌نوشته‌هایی که گذشته بشر را نشان می‌دهند.
- ۴) لایه‌های باستانی که از روی هم قرار گرفتن سکونتگاه‌های مردمان دوره‌های زمانی مختلف به وجود آمده‌اند.

۵۳- به کدام دلیل، بیشتر آگاهی و اطلاعاتی که تاکنون درباره زندگی انسان‌ها و جوامع دوران پیش از تاریخ به دست آمده، حاصل تحقیقات

علمی باستان‌شناسان است؟

- ۱) چون مطالعه و شناخت این دوران بسیار طولانی، عمدتاً متکی به کاوش‌های باستان‌شناسی است.
- ۲) زیرا از این دوره هیچ خبر و اطلاع مکتوبی به دست ما نرسیده است.
- ۳) زیرا باستان‌شناسان از نوشته‌های مورخان برای شناسایی، کشف و مطالعه آثار و مکان‌های باستانی بهره می‌برند.
- ۴) زیرا منابع مکتوب برای شناخت این دوره مخصوصاً اوایل آن، کافی نیستند.

۵۴- مکان کدام یک از موزه‌های مهم جهان، درست بیان شده است؟

- ۱) آرمیتاژ؛ لندن
- ۲) بریتانیا؛ پاریس
- ۳) متروپولیتن؛ نیویورک
- ۴) لور؛ سن پترزبورگ

۵۵- کدام یک از آثار و بناهای تاریخی ایران، به طور تصادفی کشف شده‌اند؟

- ۱) تخت جمشید - شهر سوخته
- ۲) مردان نمکی زنجان - شهر سوخته
- ۳) مردان نمکی زنجان - تمدن عظیم جیرفت
- ۴) تخت جمشید - تمدن عظیم جیرفت



۵۶- بررسی تأثیر عناصر و عوامل آب و هوایی بر نوع مصالح ساختمانی و فعالیت‌های اقتصادی در حوزه کدام دانش قرار می‌گیرد و این علم با

کدام شاخه از دانش جغرافیا در ارتباط است؟

- (۱) هواشناسی - طبیعی
(۲) آب و هواشناسی - طبیعی
(۳) هواشناسی - انسانی
(۴) آب و هواشناسی - انسانی

۵۷- با توجه به شاخه‌های مختلف دانش جغرافیا و علوم مرتبط با آن‌ها، کدام گزینه از تنوع بیشتری برخوردار است؟

- (۱) جغرافیای زیستی - ژئومورفولوژی - آب و هواشناسی
(۲) جغرافیای آب‌ها - جغرافیای شهری - جغرافیای اقتصادی
(۳) سنجش از دور - کارتوگرافی - نقشه‌کشی
(۴) جغرافیای جمعیت - آب و هواشناسی - کارتوگرافی

۵۸- چرا جغرافیا علمی برای زندگی بهتر است؟

- (۱) زیرا شناخت توان‌ها و ظرفیت‌های محیطی بدون دانش جغرافیا امکان‌پذیر نیست.
(۲) زیرا به تأثیرگذاری انسان در محیط طبیعی کمک می‌کند.
(۳) چون زمینه تغییر محیط طبیعی به محیط جغرافیایی را فراهم می‌آورد.
(۴) چون به انسان در بهره‌برداری از محیط طبیعی به منظور رفع نیازهای خود، کمک می‌کند.

۵۹- دو مفهوم اساسی در دانش جغرافیا عبارت‌اند از و که در مورد باید گفت

- (۱) مکان - روابط متقابل انسان با محیط - اولی - مجموعه‌ای متعادل است که پدیده‌های مختلفی در آن وجود دارد.
(۲) محیط طبیعی - محیط جغرافیایی - اولی - منظور از آن محل انجام فعالیت‌های انسانی است.
(۳) مکان - روابط متقابل انسان با محیط - دومی - گسترش استفاده از فناوری‌های جدید، میزان دسترسی و تغییر محیط طبیعی توسط انسان را افزایش داده است.

(۴) محیط طبیعی - محیط جغرافیایی - دومی - از تعامل بین محیط طبیعی و محیط انسانی به وجود می‌آید.

۶۰- منظور از «دید ترکیبی» در مطالعات جغرافیایی چیست؟

- (۱) استفاده از نتایج سایر علوم در بررسی پراکندگی پدیده‌ها در مکان
(۲) مطالعه همه‌جانبه و جامع پدیده‌ها با تمام ویژگی‌های آن در یک مکان
(۳) مطالعه در مورد چگونگی شکل‌گیری محیط‌های جغرافیایی و تغییرات آن‌ها در کوتاه‌مدت
(۴) شناخت ویژگی‌های طبیعی و انسانی محیط‌های جغرافیایی

۶۱- در یک محیط جغرافیایی، اجزا و عوامل محیطی چگونه عمل می‌کنند؟

- (۱) در تقابل با یکدیگر
(۲) در ارتباط با یکدیگر
(۳) به طور مستقل از هم
(۴) تحت عملکرد انسان

۶۲- کدام عبارت درباره سؤال «چه کسی» یا «چه کسانی» به عنوان یکی از سؤالات کلیدی جغرافیا صحیح است؟

- (۱) به بررسی سیر تکوین و تحول پدیده‌ها می‌پردازد.
(۲) علت وقوع یک پدیده را بررسی می‌کند.
(۳) تأثیر یک پدیده بر محیط و انسان را مورد ارزیابی قرار می‌دهد.
(۴) بر ماهیت یک مسئله دلالت دارد.



۶۳- در عبارت «سواحل صخره‌ای ممکن است در اثر حرکت امواج دریا و جزر و مد فرسایش یافته و به سواحل پست تبدیل شوند» بررسی

کدام یک از سوالات کلیدی جغرافیا قابل طرح نیست؟

(۱) چه چیز؟ (۲) چرا؟ (۳) چطور؟ (۴) چه موقع؟

۶۴- با توجه به عبارت «خشکسالی و گرم شدن هوا، کاهش بارندگی، حفر چاه‌های عمیق و نیمه‌عمیق و استفاده بی‌رویه از آب‌های زیرزمینی از

جمله مهم‌ترین عوامل بیابانی شدن هستند»، کدام دسته از سوالات جغرافیایی زیر قابلیت مطرح شدن دارند؟

(۱) چطور - چه چیز - چه کسانی
(۲) چه موقع - چطور - کجا
(۳) کجا - چه کسانی - چطور
(۴) چرا - چه چیز - چه موقع

۶۵- کدام گزینه درباره‌ی ترتیب مراحل انجام یک پژوهش جغرافیایی صحیح است؟

(۱) طرح سؤال ← جمع‌آوری اطلاعات ← بیان مسئله ← تدوین فرضیه ← نتیجه‌گیری

(۲) بیان مسئله ← تدوین فرضیه ← جمع‌آوری اطلاعات ← پردازش اطلاعات ← نتیجه‌گیری

(۳) تدوین فرضیه ← طرح سؤال ← جمع‌آوری اطلاعات ← پردازش اطلاعات ← ارائه پیشنهاد

(۴) جمع‌آوری اطلاعات ← طرح سؤال ← تدوین فرضیه ← پردازش اطلاعات ← ارائه پیشنهاد

سایت کنکور
کنکور
بوک
تلاشی در مسیر موفقیت



۶۶- به ترتیب، دست بالا بردن دانش‌آموز در کلاس درس، بیانگر کدام ویژگی کنش می‌باشد و با توجه به پیامدهای ارادی و غیرارادی کنش، کدام گزینه درست نیست؟

- ۱) معنادار بودن کنش - پیامدهای غیرارادی کنش، کنش نیستند بلکه نتیجه طبیعی کنش هستند.
- ۲) هدفدار بودن کنش - انسان‌ها از انجام برخی کنش‌ها، به دلیل پیامدهای نامطلوبشان خودداری می‌کنند.
- ۳) معنادار بودن کنش - پیامدهای ارادی کنش، قطعی است یعنی حتماً انجام می‌شود.
- ۴) هدفدار بودن کنش - انسان‌ها در بسیاری از موارد، کنش‌های خود را با توجه به پیامدهای ارادی و غیرارادی آن انجام می‌دهند.

۶۷- عبارت‌ها و گزاره‌های زیر به ترتیب، بیانگر کدام ویژگی کنش هستند؟

- گردشگر اروپایی نمی‌تواند به زبان فارسی حرف بزند.
- وقتی برای اولین بار، برای استفاده از یک کالای پیچیده، به دفترچه راهنمای آن مراجعه می‌کنیم.
- سربازان در مراسم صبحگاهی، پرچم را بالا می‌برند.

- ۱) آگاهانه بودن کنش - آگاهانه بودن کنش - معنادار بودن کنش
- ۲) ارادی بودن کنش - آگاهانه بودن کنش - ارادی بودن کنش
- ۳) ارادی بودن کنش - ارادی بودن کنش - هدفدار بودن کنش
- ۴) آگاهانه بودن کنش - هدفدار بودن کنش - معنادار بودن کنش

۶۸- به ترتیب درس خواندن برای دستیابی به شغل و درآمد، بیانگر کدام ویژگی کنش است و در رابطه با مفهوم کنش، کدام عبارت زیر درست می‌باشد؟

- ۱) ارادی بودن کنش - کنش انسان، همانند فعالیت سایر مخلوقات، معنادار است.
- ۲) هدفدار بودن کنش - در علوم انسانی به همه فعالیت‌هایی که در بدن انسان انجام می‌شود، کنش می‌گویند.
- ۳) هدفدار بودن کنش - کنش دارای ویژگی‌هایی است که آن را از فعالیت مخلوقات دیگر متمایز می‌کند.
- ۴) ارادی بودن کنش - برای انجام کنش، علاوه بر آگاهی، اراده انسان نیز ضروری است.

۶۹- اگر کنش اجتماعی نباشد، هیچ شکل نمی‌گیرد و هیچ‌یک از مانند عدالت، امنیت و آزادی محقق نمی‌شوند و از جنس هدف و مقصود هستند و شیوه‌های احوالپرسی در هر جامعه، نوعی محسوب می‌شود.

- ۱) ارزشی - هنجارهای اجتماعی - هنجارها - ارزش اجتماعی
- ۲) هنجاری - ارزش‌های اجتماعی - ارزش‌ها - هنجار اجتماعی
- ۳) ارزشی - ارزش‌های اجتماعی - هنجارها - هنجار اجتماعی
- ۴) هنجاری - هنجارهای اجتماعی - ارزش‌ها - ارزش اجتماعی

۷۰- پاسخ هر یک از پرسش‌های زیر، به ترتیب در کدام گزینه بیان شده است؟

- ارزش‌ها و هنجارها از طریق کنش‌های اجتماعی، وجود کدام پدیده را ضروری می‌سازند؟
- خردترین پدیده اجتماعی که سایر پدیده‌ها، آثار و پیامدهای آن هستند، چه نام دارد؟
- در کدام مفهوم، آگاهی و اراده کنشگر، ناظر به دیگران، ویژگی‌ها و اعمال آن‌هاست؟
- به پدیده‌های مطلوب و خواستنی که افراد یک جامعه، به آن‌ها گرایش و تمایل دارند، چه می‌گویند؟

- ۱) پدیده اجتماعی - کنش اجتماعی - هنجار اجتماعی - ارزش‌های اجتماعی
- ۲) جامعه‌پذیری - نظام خانواده - هنجار اجتماعی - هنجارهای اجتماعی
- ۳) پدیده طبیعی - نظام خانواده - کنش اجتماعی - هنجارهای اجتماعی
- ۴) کنترل اجتماعی - کنش اجتماعی - کنش اجتماعی - ارزش‌های اجتماعی

۷۱- به ترتیب، پدیده اجتماعی چیست و در رابطه با پدیده اجتماعی، کدام عبارت درست نیست؟

- ۱) کنش اجتماعی و پیامدهای آن - پدیده‌های اجتماعی، مستقل از خواست و اراده انسان هستند و پیش از انسان بوده‌اند.
- ۲) وسیله و روش رسیدن به ارزش‌ها - فرصت‌ها و محدودیت‌هایی را برای کنش‌ها و زندگی انسان‌ها ایجاد می‌کنند.
- ۳) شیوه احوالپرسی از دیگران در جوامع - پدیده‌های اجتماعی را انسان‌ها خلق می‌کنند و نتیجه کنش‌های افراد هستند.
- ۴) انتقال ارزش‌ها و هنجارها به افراد - به مرور از انسان‌هایی که آن‌ها را به وجود آورده‌اند، مستقل می‌شوند.



۷۲- به ترتیب، کدام دسته از مفاهیم زیر، پدیدهٔ اجتماعی‌اند و جهان اجتماعی و نظم آن چگونه است؟

- ۱) خویشاوندان، ستارگان و زلزله - تکوینی است و با اراده و آگاهی انسان‌ها تعریف می‌شود.
- ۲) خیابان، امنیت و خشکسالی - اعتباری است و مبتنی بر آگاهی‌های فردی و خصوصی می‌باشد.
- ۳) خانواده، عدالت و مدرسه - قراردادی است و با آگاهی و ارادهٔ انسان‌ها تعریف می‌شود.
- ۴) اتوبوس، رودخانه و فرشتگان - قراردادی است و مبتنی بر آگاهی‌های فردی و خصوصی می‌باشد.

۷۳- به ترتیب، جهان اجتماعی چگونه تداوم می‌یابد و منظور از عبارت «عضویت و نظم در بدن موجودات زنده تکوینی است» چیست؟

- ۱) از طریق وراثت - یعنی اعتباری است و با آگاهی و ارادهٔ انسان‌ها تعریف می‌شود.
- ۲) با انتقال فرهنگ - یعنی براساس آگاهی و ارادهٔ اعضا به وجود نمی‌آید.
- ۳) با انتقال فرهنگ - یعنی با آگاهی و ارادهٔ انسان‌ها تعریف می‌شود و قراردادی است.
- ۴) از طریق وراثت - یعنی براساس آگاهی و ارادهٔ اعضا به وجود می‌آید.

۷۴- کدام گزینه، به ترتیب درست (ص) یا نادرست (غ) بودن عبارت‌های زیر را به درستی نشان می‌دهد؟

- الف) موجودات زنده، طول عمر معینی دارند و ویژگی‌های آن‌ها مانند رنگ و جنس از طریق وراثت به نسل بعد منتقل می‌شود.
- ب) آگاهی و شناختی که جهان اجتماعی براساس آن شکل می‌گیرد، نوعی آگاهی مشترک و عمومی است.
- ج) سنت‌ها و قوانین الهی با انسان‌های شاکر و ناسپاس و جوامع عادل و ظالم، یکسان عمل می‌کند.
- د) زلزله یا خشکسالی با این‌که پدیده‌های طبیعی‌اند، تأثیرات تعیین‌کننده‌ای در کنش‌های اجتماعی انسان‌ها دارند.

- ۱) ص - ص - غ - ص ۲) غ - ص - غ - ص ۳) ص - ص - ص - غ ۴) غ - ص - غ - غ

۷۵- به ترتیب تداوم زندگی موجودات زنده در طول زمان، از چه طریقی صورت می‌گیرد و کدام عبارت در رابطه با جهان اجتماعی درست نیست؟

- ۱) آگاهی‌های مشترک و تداوم آن‌ها - جهان اجتماعی و نظم آن تکوینی نیست بلکه اعتباری است یعنی با آگاهی و ارادهٔ انسان‌ها شکل می‌گیرد.
- ۲) با انتقال فرهنگ خود - جهان اجتماعی، بیشتر شبیه یک بازی گروهی است که بازیکنان، داوران و تماشاگران، آگاهی‌های مشترکی دارند.
- ۳) از طریق زاد و ولد - مجموعه پدیده‌های اجتماعی، جهان اجتماعی را شکل می‌دهد که عضویت اعضا و نظم آن‌ها تکوینی است.
- ۴) از طریق فرآیند به ارث رسیدن - آگاهی و شناختی که جهان اجتماعی براساس آن شکل می‌گیرد، نوعی آگاهی مشترک و عمومی است.

سایت کنکور
نرتیج بولک
تلاشی در مسیر موفقیت



۷۶- چگونه می‌توان سریع‌تر و دقیق‌تر، خطاهای ذهن را تشخیص داد؟

- (۱) با یادگیری قواعدی که در علم منطق تدوین شده است.
- (۲) با به کار بستن قواعدی که توسط منطق‌دانان اختراع شده است.
- (۳) با به کارگیری قواعدی که توسط منطق‌دانان کشف شده است.
- (۴) خطاهای ذهن بی‌شمارند و نمی‌توان آن‌ها را سریع‌تر تشخیص داد.

۷۷- کدام گزینه به شباهت علم منطق با دوچرخه‌سواری اشاره نکرده است؟

- (۱) تبحر در آن‌ها نیازمند تمرین و ممارست است.
- (۲) تبحر در آن‌ها نیازمند یادگیری علمی است.
- (۳) علمی کاربردی و دارای قواعد مشخص هستند.
- (۴) یادگیری آن‌ها، به شکل نظری و عملی صورت می‌گیرد.

۷۸- کدام گزینه درباره مغالطه‌ها درست است؟

- (۱) با یادگیری و به کارگیری علم منطق، می‌توان از همه مغالطه‌ها بر حذر بود.
- (۲) وجه شباهت مغالطه به بیماری، اجتناب‌ناپذیری از دچار شدن به آن‌هاست.
- (۳) منطق با تأکید بر شیوه‌های غلط اندیشیدن، از بروز مغالطه‌ها پیشگیری می‌کند.
- (۴) در علم منطق، با بیان قوانین حاکم بر ذهن، از بروز مغالطه پیشگیری می‌شود.

۷۹- عبارت‌های موجود در کدام گزینه، تماماً تصور هستند؟

- (۱) حقوق تجارت در کشور ایران، کمی قدیمی است - دکتر اشراقی آرانی، استاد دانشگاه تهران
- (۲) علاقه‌مندی دانش‌آموزان به تحصیل در رشته حقوق - ورود دانشجویان به دانشکده الهیات و معارف
- (۳) برای وکیل شدن، روابط عمومی‌ات را قوی کن - برای وکیل شدن، روابط عمومی‌ام را قوی می‌کنم.
- (۴) شرح قانون مدنی دکتر بیات، کتاب زردرنگی است - میدان انقلاب در تهران، پر از کتاب‌فروشی است.

۸۰- کدام گزینه به رابطه میان ذهن، زبان و خارج به درستی اشاره کرده است؟

- (۱) تقویت ذهن موجب تقویت زبان می‌شود اما خطای در ذهن به آن تسری پیدا نمی‌کند.
- (۲) هرگونه خطا در حوزه ذهن به حیطة زبان و عالم خارج تسری پیدا میکند و نه برعکس.
- (۳) میان این سه حیطة، ارتباط سه‌سویه وجود دارد و خطا در هر یک به دیگری تسری می‌یابد.
- (۴) رابطه مستقیمی میان آن‌ها وجود ندارد بلکه از مواد و محتوای هر یک در دیگری استفاده می‌شود.

۸۱- در کدام گزینه، مغالطه اشتراک لفظ وجود ندارد؟

- (۱) با وجود امثال شما وضع دانشگاه اصلاح نمی‌شود.
- (۲) او سیر است، سیر بدبو است؛ پس او بدبو است.
- (۳) نازنین و همسرش پنج سال اختلاف داشتند.
- (۴) گفته بودم برایت نوشابه می‌خرم، آب هم نوعی نوشابه است.

۸۲- در کدام گزینه، دلالت لفظ بر معنا، مطابق معنای اصلی است؟

- (۱) آموزشگاهی که در آن درس می‌خوانم، آتش گرفته است.
- (۲) برای خروج از کلاس، باید از آموزشگاه اجازه گرفته شود.
- (۳) پدرم من را با ماشین زردرنگش، به آموزشگاه رساند.
- (۴) آموزشگاه پس از آتش‌سوزی گسترده، رنگ‌آمیزی شد.



۸۳- کدام گزینه دارای مغالطهٔ توسل به معنای ظاهری است؟

- ۱) اگر طلبکاران آمدند، من می‌روم در حیاط، بگو در خانه نیست.
- ۲) او چند غزل سعدی را خوب خواند.
- ۳) او برای بازدید دو ساله از اصفهان به شیراز آمد.
- ۴) جسد مرد کشته‌شده توسط برادرش کشف شد.

۸۴- کدام گزینه دربارهٔ مغالطهٔ شیوهٔ نگارش کلمات درست است؟

- ۱) این مغالطه به دو صورت کتبی و شفاهی ممکن است برای افراد رخ دهد.
- ۲) این مغالطه فقط برای ویراستاران و نویسندگان رخ می‌دهد.
- ۳) این مغالطه فقط به عدم رعایت علائم سجاوندی محدود نمی‌شود.
- ۴) رستم بر اسبی نشست دستی بر سرش کشید و رفت، نمونه‌ای از این مغالطه است.

۸۵- در کدام گزینه، مغالطهٔ ابهام در مرجع ضمیر وجود ندارد؟

- ۱) پلنگی به دنبال آهو بود شکارچی به طرفش شلیک کرد.
- ۲) پدر از راه رسید پسر گرد و خاک لباسش را تکاند.
- ۳) به نظر علی احمدی دانشجوی خوبی است.
- ۴) او گفت: این کتاب که می‌بینی، کتاب من است.

سایت کنکور
کنکور
بوک
تلاشی در مسیر موفقیت


تلاشی در مسیر موفقیت



- دانلود گام به گام تمام دروس ✓
- دانلود آزمون های قلم چی و گاج + پاسخنامه ✓
- دانلود جزوه های آموزشی و شب امتحانی ✓
- دانلود نمونه سوالات امتحانی ✓
- مشاوره کنکور ✓
- فیلم های انگیزشی ✓

 www.ToranjBook.Net

 [ToranjBook_Net](https://t.me/ToranjBook_Net)

 [ToranjBook_Net](https://www.instagram.com/ToranjBook_Net)