

تلاشی در مسیر معرفت



دانلود گام به گام تمام دروس ✓

دانلود آزمون های قلم چی و گاج + پاسخنامه ✓

دانلود جزوه های آموزشی و شب امتحانی ✓


دانلود نمونه سوالات امتحانی ✓

مشاوره کنکور ✓

فیلم های انگیزشی ✓

 www.ToranjBook.Net

 ToranjBook_Net

 ToranjBook_Net

دانش آموز عزیز:

در آزمون قبل به چند سؤال از ۱۰ سؤال پاسخ داده‌اید؟
در این آزمون فکر می‌کنید به چند سؤال از ۱۰ سؤال پاسخ می‌دهید؟ در جدول زیر بنویسید.

چند از ۱۰ آزمون قبل	هدف‌گذاری چند از ۱۰ برای آزمون امروز

۲۰ دقیقه

فارسی

صفحه ۹ تا صفحه ۲۹

نگارش

صفحه ۱۲ تا صفحه ۲۴

سؤال‌های فارسی

(سؤال‌های طرازی)

۱- واژه‌های «مصحف» و «طایفه» به ترتیب چه معنایی دارند؟ (نگاه به گذشته)

(۱) کتاب آسمانی، روزه‌دار (۲) قرآن‌خوان، روزه‌دار

(۳) قرآن‌خوان، قوم (۴) کتاب آسمانی، قوم

۲- کدام واژه نادرست معنا شده است؟

(۱) غرقه: غرق شده (۲) اعجاز: خواهش

(۳) جلال: بزرگی (۴) کشتزار: مزرعه

۳- بر اساس معنا، کدام گزینه ابیات زیر را کامل می‌کند؟

«بر آرد تهی دست‌های نیاز / ز رحمت ... تهی دست باز

همه طاعت آرند و مسکین نیاز / بیا تا به درگاه مسکین نواز

چو شاخ برهنه بر آریم دست / که بی برگ از این ... نتوان نشست»

(۱) نگردد / بیش (۲) نگردد / بیش

(۳) بگردد / بیش (۴) بگردد / بیش

۴- در کدام گزینه سه واژه‌ی هم‌خانواده وجود ندارد؟

(۱) طالع، طلوع، مطلع (۲) نعمت، نعیم، منعم

(۳) کریم، اکرام، مکار (۴) سلامت، سالم، مسلم

۵- کدام عبارت جمله نیست؟

(۱) دانه آرام بر زمین غلتید

(۲) به خالق طبیعت می‌اندیشیدم و ابیات سعدی

(۳) ابر باشم، دوباره آب شوم

(۴) نگاه‌های پژمرده‌ی هزاران درخت تشنه

(سؤال‌های منتخب از کتاب آبی)

۱۱- برای پر کردن ابیات زیر، به کدام گزینه احتیاجی نداریم؟

الف) ملکی که ... شد، از شومی شیطان شد / باز آن سلیمان شد، تا باد چنین بادا

ب) به ... من سر به سر گوش دار / پذیرنده باش و به دل هوش دار

ج) فریاد حافظ این همه آخر به هرزه نیست / هم قصه‌ای عجیب و حدیثی ... هست

(۱) پریشان (۲) غریب

(۳) اندرز (۴) جلال

۱۲- متن زیر را به ترتیب کدام واژه‌ها بهتر کامل می‌کنند؟

«شیعیان، پیش از ماه ...، ماه محرم را به یاد کسی که در دشت کربلا در میان دشمنان ... و تنها ماند، گرامی می‌دارند.»

(۱) سفر - قریب (۲) سفر - غریب

(۳) صفر - قریب (۴) صفر - غریب

۱۳- متن زیر را کدام کلمه‌ها کامل می‌کنند؟

«کتاب ... را ... به تقلید از ... سعدی نوشته است.»

(۱) پریشان - قآنی - گلستان (۲) پریشان - قائم‌مقام فراهانی - بوستان

(۳) بهارستان - قائم‌مقام فراهانی - بوستان (۴) بهارستان - قآنی - بوستان

۱۴- در بیت زیر چند جمله وجود دارد؟

«که را رسد که کند عیب دامن پاکت / که همچو قطره که بر برگ گل چکد پاکی»

(۱) چهار تا (۲) سه تا

(۳) دو تا (۴) یکی

۱۵- به ابیاتی که بدون هم، ساختار جمله آن‌ها کامل نیست، موقوف‌المعانی می‌گویند. کدام ابیات زیر کاملاً موقوف‌المعانی است؟

«با رخ همچو صبح و زلف چو شام / بامدادان برآی بر لب بام

تا بدانند نور از ظلمت / تا شناسند صبح را از شام

بگذری گر ز معبد گبران / ور برآیی به قبله اسلام

نشاسند زاهدان محراب / نپرستند کافران اصنام

محض عشوه است مر تو را ترکیب / وز کرشمه است مر تو را اندام»

(۱) ابیات اول و دوم و سوم (۲) ابیات دوم و سوم

(۳) ابیات سوم و چهارم (۴) ابیات سوم و چهارم و پنجم

۶- کدام نوع جمله در عبارت زیر نیست؟ علامت‌های نگارشی گذاشته نشده است.

«به او بگو که از من ضعیف، رمقی باقی نمانده است جسم بی‌جان تا کی زنده بماند»

(۱) امری

(۲) خبری

(۳) عاطفی

(۴) پرسشی

۷- کدام بیت با بیت زیر نزدیکی معنایی بیشتری دارد؟

«برگ درختان سبز در نظر هوشیار / هر ورقش دفتری است معرفت کردگار»

(۱) جهان جمله فروغ روی حق دان / حق اندر وی ز بیدایی است پنهان

(۲) کاش روزی به کام خود برسید / بچه‌ها آرزوی من این است

(۳) ای نام تو بهترین سرآغاز / بی نام تو نامه کی کنم باز؟

(۴) ای کارگشای هر چه هستند / نام تو کلید هر چه بستند

* بر اساس متن زیر به سه سؤالی که در پی می‌آید پاسخ دهید.

«جیغ زنان و مویه کنان راه رفته را برگشت. دشت را یک‌پارچه صدای نفس‌زدن‌های گِـرگ و آزاد پر کرده بود. بازوی آزاد، حلقه‌ای تنگ دور گردن گِـرگ بسته بود. گِـرگ خاست چنگ بیاندازد و گردنش را آزاد کند. اما تمام وجود آزاد انگار دست‌هایش شده بود. گِـرگ نتوانست گردن برهاند. آزاد فریاد می‌کشید و حلقه را کوچک‌تر می‌کرد. گِـرگ به خرناسه افتاده بود و خرناسه‌اش تکه‌تکه می‌شد. کمی بعد دست و پایش از تقلاً افتاد. آزاد رهایش نکرد. نفس داغ گِـرگ یک‌باره سرد شد. دست‌وپایش از حرکت ماند. آزاد بر زمین افتاد.»

۸- در کدام گزینه معنای واژه‌ای از متن بالا، در برابر آن نادرست نوشته شده است؟

(۱) تقلاً: تلاش

(۲) رهاندن: آزاد کردن

(۳) یک‌پارچه: ناگهان

(۴) مویه: زاری

۹- متن چند نادرستی املایی و یا رسم‌الخطی دارد؟

(۱) یکی

(۲) دو تا

(۳) سه تا

(۴) چهار تا

۱۰- به کدام مورد در متن بالا اشاره نشده است؟

(۱) درگیری آزاد و گِـرگ، هیاهوی زیادی داشته است.

(۲) گِـرگ متوجه بوده است گرفتاری گردنش در دستان آزاد، منجر به آسیب به او می‌شود.

(۳) آزاد تا حد مرگ نیروی خود را در دستانش جمع کرده است.

(۴) پس از مرگ گِـرگ، صدای خرناسه‌های تکه‌تکه‌شده‌اش همچنان به گوش می‌رسیده است.

۱۶- کدام عبارت نثر مسجع نیست؟

- ۱) ابتدا می‌ترسیدم که مرا بگیرد به بلای خویش، اکنون می‌ترسم که مرا بفریبی به عطای خویش.
- ۲) ای حکیمی که روندگان تو را از بلای تو گریز نیست، ای کریمی که بندگان را غیر از تو دست‌آویز نیست.
- ۳) بر همه چیز توانایی آنچه می‌خواهم می‌توانی که به این بنده برسانی و از شر ظالمان مرا برهانی.
- ۴) الهی جای گریز نداریم، چون عزیزان به‌ناز پرورده ما را فراموش کنند تو بر ما رحمت کن.

۱۷- مفهوم کنایه «در پوستین خلق افتادن» و هشدار به ترک آن، در کدام بیت آمده است؟

- ۱) مرا به رندی و عشق آن فضول عیب کند / که اعتراض بر اسرار علم غیب کند
- ۲) مرد عاشق چون بود در عشق زار / کی خبر یابد ز عیب چشم یار
- ۳) همه حمال عیب خویشتیم / طعنه بر عیب دیگران مزینم
- ۴) در من این عیب قدیمست و به‌در می‌نرود / که مرا بی می و معشوق به‌سر می‌نرود

۱۸- شاعر در بیت زیر به کدام صفت‌های خداوند اشاره کرده است؟

«ای هست کن اساس هستی / کوته ز درت درازدستی»

- ۱) خالق - عادل
- ۲) غفار - بصیر
- ۳) پروردگار - رزاق
- ۴) سمیع - ستار

۱۹- منظور از «خود» در بیت «از ظلمت خود رهایی‌ام ده / با نور خود آشنایی‌ام ده» به ترتیب کدام است؟

- ۱) خدا - بنده
- ۲) خدا - خدا
- ۳) بنده - خدا
- ۴) بنده - بنده

۲۰- عبارت «الهی بینی ده تا در چاه نیفتیم» با کدام بیت ارتباط معنایی دارد؟

- ۱) فقیرم به جرم گناهم مگیر / غنی را ترحم بود بر فقیر
- ۲) گرم ره نمایی رسیدم به خیر / و گر گم کنی بازماندم ز سیر
- ۳) اگر جرم بخشی به مقدار جود / نماند گنهکاری اندر وجود
- ۴) تو دانی ضمیر زبان بستگان / تو مرهم نهی بر دل خستگان

فهرست هفتم - برنامه تمرینی آزمون بعد

مبحث	کتاب آبی (کد ۶۸۱۸)	کتاب سه‌سطحی عمومی (کد ۵۴۵۲)
فارسی: ستایش، کل فصل زیبایی آفرینش، نسل آینده‌ساز، توفیق ادب صفحه ۹ تا صفحه ۳۶ نگارش: صفحه ۱۲ تا صفحه ۲۴	سؤال‌های ۹۱ تا ۱۱۵ کتاب آبی ۲۵ سؤال جدید	سؤال‌های ۶۱ تا ۸۵ کتاب سه‌سطحی عمومی ۲۵ سؤال جدید

۲۵- مفهوم عبارت «العالم بلا عمل كالشجر بلا ثمر» در کدام گزینه نیامده است؟

(۱) علم چندان که بیش تر خوانی / چون عمل در تو نیست، نادانی

(۲) عالم بی عمل به چه ماند؟ به زنبور بی عسل!

(۳) با علم اگر عمل برابر گردد / کام دو جهان تو را میسر گردد

(۴) ز گهواره تا گور دانش بجوی!

۲۶- کدام گزینه اسم اشاره نیست؟

(۱) هاتان

(۲) تلک

(۳) هُما

(۴) هذا

۲۷- کدام مورد غلط است؟

(۱) لک = علیک

(۲) المرء = الإنسان

(۳) فريضة = واجبة

(۴) العالم ≠ الجاهل

۲۸- نام علامت‌های صحیح برای کلمه «مُحَجَّبَةٌ» به ترتیب در کدام گزینه آمده است؟

(۱) ضمه - کسره - کسره - کسره - تنوین

(۲) ضمه - فتحه - فتحه - فتحه - تنوین

(۳) تنوین - فتحه - فتحه - فتحه - ضمه

(۴) ضمه - فتحه - تشدید - کسره - تشدید

۲۹- در کدام گزینه با رعایت ترتیب، اسم‌های اشاره برای کلمات زیر مناسب هستند؟

«قَوِيَّةٌ، وَلَدٌ، شاعِرَةٌ، رَجُلٌ»

(۱) تلک - هذا - هذه - ذلک

(۲) هذا - ذلک - هذه - ذلک

(۳) هذه - ذلک - هذا - ذلک

(۴) تلک - هذا - تلک - هذه

۳۰- کدام کلمه مناسب جای خالی است؟

«هذان ... صغیران.»

(۱) المدرستان

(۲) البناتان

(۳) الكتابان

(۴) الإیمان

۱۰ دقیقه

عربی

صفحه ۹ تا صفحه ۳۰

دانش آموز عزیز:

در آزمون قبل به چند سؤال از ۱۰ سؤال پاسخ داده‌اید؟
فکر می‌کنید در این آزمون به چند سؤال از ۱۰ سؤال پاسخ می‌دهید؟ در جدول زیر بنویسید.

چند از ۱۰ آزمون قبل	هدف‌گذاری چند از ۱۰ برای آزمون امروز

سؤال‌های عربی

(سؤال‌های طرामी)

۲۱- در کدام گزینه «تشبیه» آمده است؟ (نگاه به گذشته)

(۱) حُسْنُ السَّوَالِ نِصْفُ الْعِلْمِ!

(۲) هَذِهِ الْمَجَلَّةُ كَبِيرَةٌ.

(۳) الْمُؤْمِنُ فِي الْإِسْتِقَامَةِ كَالْجَبَلِ!

(۴) تَمَارِينُ الدَّرْسِ الْأَوَّلِ كَثِيرَةٌ.

۲۲- ترجمه عبارت «لِهَذَا الصَّفِّ كِرَاسِيٌّ مِنَ الْخَشَبِ وَ نَوَافِذُ كَبِيرَةٌ.» در کدام گزینه درست آمده است؟

(۱) آن کلاس یک صندلی چوبی و دو پنجره بزرگ دارد.

(۲) صندلی‌های این کلاس، همگی از چوب و پنجره‌های بزرگ هستند.

(۳) برای آن کلاس‌ها صندلی‌هایی از چوب و پنجره‌هایی بلند است.

(۴) این کلاس صندلی‌هایی از چوب و پنجره‌هایی بزرگ دارد.

۲۳- کدام ترجمه درست است؟

(۱) «هَاتَانِ الشَّجَرَتَانِ بِلَا ثَمَرٍ»: آن دو درخت، بدون شاخه هستند.

(۲) «قِيَمَةُ هَذِهِ اللَّوْحَةِ كَالذَّهَبِ.» ارزش این تابلو به‌خاطر طلاش است.

(۳) «مُجَالَسَةُ الطَّالِبِ النَّاجِحِ فَخْرٌ لَكَ.» همنشینی (با) دانش‌آموز موفق افتخاری برای تو است.

(۴) «نِسْيَانُ هَذَا الرَّجُلِ آفَةٌ.» فراموشی، آسیب به این مرد است.

۲۴- ترجمه کدام عبارت نادرست آمده است؟

(۱) «رِضَا اللَّهِ فِي رِضَا الْوَالِدَيْنِ.» خشنودی خدا در خشنودی پدر و مادر است.

(۲) «بِنْتُ هَذِهِ الْمَرْأَةِ مَدْرَسَةٌ نَاجِحَةٌ.» این خانم یک دختر معلم موفق دارد.

(۳) «أَدَبُ الْمَرْءِ خَيْرٌ مِنْ ذَهَبِهِ.» ادب انسان بهتر از طلاش است.

(۴) «ذَلِكَ الْجَبَلُ مَرْتَفِعٌ وَعَجِيبٌ.» آن کوه، بلند و شگفت‌انگیز است.

۱۰ دقیقه

پیامهای آسمان

صفحه ۱۵ تا صفحه ۳۴

مطالعات اجتماعی

صفحه ۱ تا صفحه ۲۰

دانش آموز عزیز:

در آزمون قبل به چند سؤال از ۱۰ سؤال پاسخ داده‌اید؟
در این آزمون فکر می‌کنید به چند سؤال از ۱۰ سؤال پاسخ می‌دهید؟ در جدول زیر بنویسید.

چند از ۱۰ آزمون قبل	هدف‌گذاری چند از ۱۰ برای آزمون امروز

سؤال‌های عمومی

(پیام‌های آسمان)

۳۱- امام صادق (ع) چه چیزی را مصداق شکر نعمت می‌دانند؟ (نگاه به گذشته)

- | | |
|-----------------------|--------------------------|
| (۱) دوری کردن از حرام | (۲) شکر زبانی |
| (۳) دعا کردن | (۴) رضایت خداوند از بنده |

۳۲- با دقت در آیه «لئن شکرتم لآزیدنکم» خداوند در چه صورتی نعمت‌ها را زیاد می‌کند؟

- | | |
|-------------------|--------------------------|
| (۱) تقوا | (۲) استفاده زیاد از نعمت |
| (۳) کمک به هموعان | (۴) شکرگزاری |

۳۳- مسلمانان شکست‌خورده در جنگ احد، چگونه توانستند خود را باز یابند و در جنگ پیروز باشند؟

- | | |
|----------------|----------------------|
| (۱) صبر و تقوا | (۲) یاری دادن خداوند |
| (۳) دعا | (۴) جهاد در راه خدا |

۳۴- کدام گزینه مصداق آیه «ان تنصروا الله...» نیست؟

- (۱) انجام واجبات و ترک محرمات
- (۲) طلب یاری از خداوند
- (۳) جهاد در راه خدا
- (۴) دفاع از دین با مال و جان

۳۵- کدام گزینه بر اساس سخن رسول خدا (ص) در مورد دعاهایی که مستجاب شده و یا نشده‌اند، صحیح نیست؟

- (۱) خداوند دعای مستجاب نشده را برای مسلمانان در قیامت ذخیره می‌کند.
- (۲) خداوند بخشی از گناهان فرد را در برابر دعای مستجاب نشده می‌آمرزد.
- (۳) خداوند به‌جای استجاب دعای فرد، بخشی از پاداش او را در قیامت کم می‌کند.
- (۴) گاهی خداوند دعای مسلمان را در این دنیا مستجاب می‌کند.

(مطالعات اجتماعی)

۳۶- در کدام گزینه تمامی موارد از حقوق افراد در خانه و خانواده محسوب می‌شود؟

- (۱) برخورداری از شناسنامه - برخورداری از خدمات مناسب پزشکی
- (۲) محبت و توجه پدر و مادر - زندگی در محیطی پاک و تمیز
- (۳) حق داشتن لباس، غذا و مسکن - داشتن امنیت در کوچه و خیابان
- (۴) شکوفایی استعدادها - داشتن شناسنامه

۳۷- کدام گزینه صحیح نیست؟

- (۱) تبعه یک کشور بودن موجب می‌شود افراد حقوقی بر مبنای قوانین آن کشور داشته باشند.
- (۲) برای هر فردی، به همراه هر حقی، مسئولیت‌هایی نیز وجود دارد.
- (۳) با توجه به نقش‌هایی که افراد می‌پذیرند، برخی مسئولیت‌های مهمی دارند و برخی مسئولیتی ندارند.
- (۴) همان‌طور که ما حق داریم، دیگران نیز حق دارند. این به معنای وجود حقوق متقابل است.

۳۸- هر یک از موارد ذکر شده بیانگر مسئولیت انسان در برابر چه کسی است؟

«دروغ نگفتن - خوب درس خواندن و امیدواری به آینده کشور»

- | | |
|-------------------------|-------------------------------|
| (۱) خود - اعضای جامعه | (۲) خود - خود |
| (۳) خدا - اعضای خانواده | (۴) خدا - معلمان و همکلاسی‌ها |

۳۹- چه تعداد از جملات زیر صحیح می‌باشد؟

- (الف) انسان‌ها در استفاده از حقوق خود دارای آزادی مطلق و بی‌قید و شرط هستند.
- (ب) یکی از دلایل به‌وجود آمدن قانون، حفظ حقوق افراد است.
- (ج) ما باید هنگام انجام کارهای خود، احکام الهی را نیز رعایت کنیم.
- (د) مقررات برای فعالیت‌های گروهی لازم و ضروری نیست، زیرا با مشورت و همدلی و گذشت مشکلات برطرف می‌شود.

- | | |
|-------|-------|
| ۴ (۱) | ۳ (۲) |
| ۲ (۳) | ۱ (۴) |

۴۰- کدام گزینه از وظایف شورای نگهبان نیست؟

- (۱) بررسی قوانین تصویب شده در مجلس
- (۲) انتخاب رئیس مجلس
- (۳) نظارت بر انتخابات
- (۴) تأیید صلاحیت نامزدهای انتخاباتی

۲۰ دقیقه

زبان انگلیسی

Student Book: صفحه ۲ تا صفحه ۹

دانش آموز عزیز:

در آزمون قبل به چند سؤال از ۱۰ سؤال پاسخ داده‌اید؟
در این آزمون فکر می‌کنید به چند سؤال از ۱۰ سؤال پاسخ می‌دهید؟ در جدول زیر بنویسید.

چند از ۱۰ آزمون قبل	هدف‌گذاری چند از ۱۰ برای آزمون امروز
---------------------	--------------------------------------

سؤال‌های زبان انگلیسی - سؤال‌های طراحی

۴۱- در کدام گزینه حروف کوچک همه حروف الفبای داده شده به ترتیب صحیح یافت می‌شود؟

(D,G,I,P,R)

1) b, g, l, p, r

2) d, j, i, q, t

3) d, g, i, p, r

4) b, j, l, q, t

۴۲- کدام گزینه مکالمه زیر را به درستی کامل می‌کند؟

A: What's your first name?

B: ...

1) I'm fine, thanks.

2) I'm Ali.

3) Good afternoon.

4) My name is Mr. Azari.

۴۳- کلمه ناهماهنگ از لحاظ معنی کدام است؟

1) sit

2) blackboard

3) notebook

4) bench

44- Hello class! I'm Mrs. Ahmadi, your new ...

1) teacher English

2) English student

3) English teacher

4) student English

۴۵- در املای کدام یک از لغت‌های زیر در زبان انگلیسی دو حرف "o" کنار هم نیامده‌اند؟

(۴) تخته سیاه

(۳) کلاس درس

(۲) در

(۱) مدرسه

۴۶- تمام گزینه‌های زیر ابزاری برای نوشتن هستند به جز ...

1) pencil

2) eraser

3) marker

4) chalk

۴۷- کدام یک از مکالمه‌های زیر نادرست است؟

1) A: What's your first name? B: My first name is Karimi.

2) A: How are you? B: Fine, thanks.

3) A: How do you spell your name? B: K - A - R - I - M - I.

4) A: Tell me your name. B: My name is Ali.

۵۴- کدام گزینه با تصویر مطابقت دارد؟

- 1) a ruler
- 2) a pen
- 3) an eraser
- 4) a bench



۵۵- ترتیب اعداد در کدام گزینه رعایت شده است؟

- | | |
|-------------------------------|-------------------------------|
| 1) two - four - five - seven | 2) seven - six - five - eight |
| 3) seven - nine - eight - ten | 4) three - four - two - ten |

۵۶- فعل مناسب با تصویر زیر را از میان گزینه‌ها انتخاب کنید.

- 1) sit down
- 2) fill out
- 3) stand up
- 4) talk about



۵۷- مکالمه زیر با کدام گزینه به درستی کامل می‌شود؟

A:

B: My name is Mina Karimi.

- | | |
|---------------------|-----------------------|
| 1) Spell yourself | 2) Introduce yourself |
| 3) Talk to yourself | 4) Ask yourself |

۵۸- برای پاسخ زیر مناسب‌ترین سؤال را انتخاب کنید.

A: ...?

B: Komijani, K - O - M - I - J - A - N - I.

- | | |
|------------------------------------|-------------------|
| 1) What's your name. | 2) Can I help you |
| 3) How do you spell your last name | 4) How are you |

۵۹- کدام گزینه صحیح نیست؟

- | | |
|------------------------|------------------------|
| 1) First name = Mahdi. | 2) First name = Mahsa |
| 3) Last name = Azar | 4) Last name = Kimiaei |

۶۰- کدام گزینه از نظر دستور زبان مشکل دارد؟

- | | |
|--------------------------|-------------------------------------|
| 1) Please say your name. | 2) How are you today? |
| 3) I can spell me name. | 4) Ask and answer with a classmate. |

۴۸- کدام گزینه جاهای خالی جمله زیر را به درستی تکمیل می کند؟

Excuse . . . , I . . . Mrs. Moradi.

1) I - is

2) I - am

3) me - is

4) me - am

49- The bench is one of the . . . in a classroom.

1) markers

2) objects

3) chalks

4) letters

۵۰- کلمه ناقص زیر با حروف کدام گزینه به ترتیب از چپ به راست کامل می شود؟

Gr - - ting: سلام و احوال پرسی کردن

1) e - e

2) e - a

3) i - e

4) e - i

(سؤال های منتخب از کتاب آبی)

۵۱- با توجه به حرف اول اسامی زیر، در کدام گزینه اسامی به ترتیب حروف الفبا قرار گرفته اند؟

“Reza- Ali- Zahra- Mina- Neda- Sahar”

1) Ali - Mina - Neda - Reza - Sahar - Zahra

2) Ali - Mina- Neda - Sahar - Reza - Zahra

3) Ali - Mina - Neda - Sahar - Zahra - Reza

4) Ali - Mina - Neda - Reza - Zahra - Sahar

۵۲- جاهای خالی را با حروف کوچک یا بزرگ مناسب کامل کنید.

A, . . .

. . . , k

M, . . .

1) q, K, n

2) a, K, m

3) a, K, n

4) e, K, m

۵۳- کلمه ناقص زیر با حروف کدام گزینه کامل می شود؟

dict - - n - ry (لغت نامه)



1) o, i, e

2) i, o, a

3) i, e, e

4) e, i, a



۳۰ دقیقه

ریاضی

صفحة ۱ تا صفحه ۱۹

محل انجام محاسبات

دانش آموز عزیز:

در آزمون قبل به چند سؤال از ۱۰ سؤال پاسخ داده‌اید؟
در این آزمون فکر می‌کنید به چند سؤال از ۱۰ سؤال پاسخ می‌دهید؟ در جدول زیر بنویسید.

چند از ۱۰ آزمون قبل	هدف‌گذاری چند از ۱۰ برای آزمون امروز

سؤال‌های ریاضی

(سؤال‌های طرामी)

۶۱- عددی را سه برابر کرده و ۵ واحد از آن کم کردیم، حاصل ۳۱ شد. عدد موردنظر چند برابر ۳

است؟ (نگاه به گذشته)

۳ (۲)

۴ (۱)

۱ (۴)

۲ (۳)

۶۲- حاصل عبارت زیر کدام است؟

$$1\frac{2}{3} \times 1\frac{2}{5} \times 1\frac{2}{7} \times \dots \times 1\frac{2}{97} = ?$$

 $\frac{3}{97}$ (۲) $\frac{97}{3}$ (۱)

۳۳ (۴)

۳ (۳)

۶۳- لایلا در طبقه ۱- ساختمانی است، پنج طبقه بالا می‌رود. سپس سه طبقه پایین می‌آید. پس از آن دو

طبقه بالا می‌رود و در نهایت ۵ طبقه پایین می‌آید. او اکنون در طبقه چندم ساختمان است؟

-۱ (۲)

-۲ (۱)

+۱ (۴)

صفر (۳)

۶۴- اگر اعداد زیر را از کوچک به بزرگ مرتب کنیم، عدد ۳-، چندمین عدد از سمت چپ خواهد بود؟

-۳, ۱, -۱۰۰, ۰, -۳۵, -۷

۲ (۲)

۱ (۱)

۴ (۴)

۳ (۳)

۶۵- فردا دمای هوای شهر کرد ۱۲ درجه سردتر خواهد شد و به ۱۶ درجه زیر صفر خواهد رسید. امروز

دمای هوای ارومیه ۵ درجه سردتر از دمای هوای امروز شهر کرد است. امروز دمای هوای ارومیه چند

درجه است؟

+۹ (۲)

-۹ (۱)

-۱۰ (۴)

-۴ (۳)

(سؤال‌های منتخب از کتاب آبی)

۷۱- اگر ده نقطه را دو به دو به هم وصل کنیم؛ به طوری که از هر نقطه تنها دو خط بگذرد، چند پاره‌خط به وجود می‌آید؟ (هیچ سه نقطه‌ای روی یک خط قرار ندارند.)

- (۱) ۹
(۲) ۱
(۳) ۱۰
(۴) ۲۰

۷۲- مورچه‌ای در صفحه شطرنج روی نقطه $\begin{bmatrix} ۳ \\ ۱ \end{bmatrix}$ قرار دارد. او ابتدا ۴ واحد به سمت راست، سپس ۵ واحد به بالا، سپس ۲ واحد به چپ و ۱ واحد به پایین حرکت می‌کند. این مورچه هم‌اکنون در چه نقطه‌ای قرار دارد؟

- (۱) $\begin{bmatrix} ۵ \\ ۶ \end{bmatrix}$
(۲) $\begin{bmatrix} ۷ \\ ۶ \end{bmatrix}$
(۳) $\begin{bmatrix} ۶ \\ ۵ \end{bmatrix}$
(۴) $\begin{bmatrix} ۵ \\ ۵ \end{bmatrix}$

۷۳- اگر حاصل ضرب دو عدد طبیعی متمایز ۴۸ و حاصل جمع آن‌ها کم‌ترین مقدار ممکن باشد، نصف عدد بزرگ‌تر کدام است؟

- (۱) ۴
(۲) ۶
(۳) ۸
(۴) ۱۲

۷۴- با ارقام صفر، ۱ و ۲ چند عدد دو رقمی می‌توان ساخت؟ (تکرار ارقام مجاز است.)

- (۱) ۷
(۲) ۶
(۳) ۹
(۴) ۴

۷۵- تعدادی سکه ۲۰۰ و ۵۰ تومانی داریم. به چند حالت می‌توانیم ۸۰۰ تومان پول درست کنیم؟

- (۱) ۳
(۲) ۴
(۳) ۵
(۴) ۶

۷۶- سینا عددی دو رقمی انتخاب کرد و قرار شد سهیل عدد را حدس بزند. سهیل سؤالی پرسید که جواب آن «بله» بود. سهیل کدام یک از سؤالات زیر را پرسیده باشد تا تعداد حالات نامطلوب

بیش‌تری حذف و به جواب نزدیک‌تر شده باشد؟

(۱) عدد موردنظر فرد است؟

(۲) آیا عدد موردنظر بزرگ‌تر از ۵۰ است؟

(۳) ارقام عدد موردنظر ۲ و ۳ است؟

(۴) آیا عدد موردنظر بزرگ‌تر از ۹۰ است؟

محل انجام محاسبات

۶۶- پدر احمد هنگام تولد او ۳۲ سال داشت و اکنون مجموع سن احمد و پدرش ۶۶ سال است. سن

احمد چقدر است؟

۱۰ (۲)

۱۵ (۱)

۱۶ (۴)

۱۷ (۳)

۶۷- محمد ۴ جلد کتاب، جلدی ۴۵۰۰۰ تومان و ۸ عدد خودکار دانه‌ای ۲۵۰ تومان خرید. اگر ۲۰٪

تخفیف گرفته باشد، چند تومان باید به فروشنده بدهد؟

۲۰۰۰۰ (۲)

۱۸۲۰۰۰ (۱)

۱۸۰۰۰۰ (۴)

۱۴۵۶۰۰ (۳)

۶۸- پدر علی $\frac{1}{4}$ پولش را به همسرش داد و از آن چه برایش مانده بود، ۲۰٪ را به علی داد. نسبت به پول

اولیه، چند درصد برایش باقی مانده است؟

۲۰ (۲)

۱۰ (۱)

۴۰ (۴)

۳۰ (۳)

۶۹- ۴ برابر عددی را بر ۳ تقسیم کرده و حاصل ۱۲ شده است. آن عدد کدام است؟

۹ (۲)

۱۸ (۱)

۲۷ (۴)

۶ (۳)

۷۰- عددی صحیح را ۱۴۰۰ بار قرینه می‌کنیم، کدام عدد به دست می‌آید؟

-۱۴۰۰ (۲)

۱۴۰۰ (۱)

۴ قرینه عدد

۳ خود عدد

۷۷- حاصل عبارت زیر کدام است؟

$$\frac{1}{4} + \frac{1}{8} + \frac{1}{16} + \dots + \frac{1}{4096} = ?$$

(۲) $\frac{2047}{4096}$

(۱) $\frac{4095}{4096}$

(۴) $\frac{2047}{2048}$

(۳) ۱

۷۸- بزرگ‌ترین عدد صحیح یک رقمی منفی و کوچک‌ترین عدد صحیح دو رقمی منفی به ترتیب از

راست به چپ، کدام است؟

(۲) -۱ و -۱۰

(۱) -۹ و -۹۹

(۴) -۱ و -۹۹

(۳) -۹ و -۱۰

۷۹- روی محور اعداد صحیح، بین دو عدد (۵) و (-۵) چند عدد صحیح وجود دارد؟

(۲) ۱۰

(۱) ۱۱

(۴) ۸

(۳) ۹

۸۰- کدام یک از گزینه‌های زیر، نادرست است؟

(۲) $-13 > -18$

(۱) $-2 = -(+2)$

(۴) $-(-4) < -(-10)$

(۳) $-(-(-(+14))) > -5$

ریاضی هفتم - برنامه تمرینی آزمون بعد

کتاب سه‌سطحی (کد ۵۴۵۰)	کتاب آبی (کد ۶۹۷۴)	مبحث
سؤال‌های ۱ تا ۴۸	سؤال‌های ۱۳۱ تا ۱۸۰	راهبردهای حل مسئله، عددهای صحیح
کتاب سه‌سطحی ۴۸ سؤال جدید	کتاب آبی ۵۰ سؤال جدید	صفحه‌ی ۱ تا صفحه‌ی ۲۶

محل انجام محاسبات

۸۶- ظرفی به حجم دو لیتر کاملاً با مایع A به چگالی $3 \frac{g}{cm^3}$ پر شده است. اگر قطعه‌ای فلزی به چگالی $10 \frac{g}{cm^3}$ و جرم ۵۰۰

گرم را درون ظرف بیندازیم و سپس 100 cm^3 آب به آرامی از بالا وارد کنیم. در نهایت چند گرم از مایع A از ظرف خارج

می‌شود؟ (چگالی آب را $1 \frac{g}{cm^3}$ در نظر بگیرید. آب و مایع A در یکدیگر حل نمی‌شوند.)

(۱) ۴۵۰ گرم

(۲) ۵۰۰ گرم

(۳) ۱۵۰ گرم

(۴) ۲۵۰ گرم

۸۷- چه تعداد از جملات زیر درست است؟

الف) برای مشاهده خود اتم‌ها از روش مستقیم و برای مشاهده خواص آن‌ها از روش غیرمستقیم استفاده می‌کنند.

ب) سنگ مرمر سریع دچار تغییر می‌شود.

ج) میزان رسانایی عناصر مختلف متفاوت است.

(۱) ۲

(۲) ۱

(۳) ۳

(۴) صفر

۸۸- اگر واحد اندازه‌گیری برای تمامی گزینه‌ها یکسان باشد، دقت اندازه‌گیری در کدام گزینه بیش‌تر است؟

(۱) 0.0001

(۲) ۱

(۳) 0.01

(۴) $1/0.01$

۸۹- در کدام مورد، پاسخ درست تعداد بیش‌تری از پرسش‌های زیر دیده می‌شود؟

- فناوری چیست؟

- مهم‌ترین فعالیت در یادگیری علم چیست؟

- بهترین راه مطالعه درستی یا نادرستی پیش‌بینی چیست؟

- اولین گوساله شبیه‌سازی شده در خاورمیانه چه نام دارد؟

- چه تعداد از مواد (نفت - جوهرنمک - اتانول - گوگرد - نمک) در آب حل نمی‌شود؟

(۱) تبدیل علم به عمل - پرسشگری - رویانا - طراحی آزمایش

(۲) مشاهده کردن - تبدیل علم به عمل - دو - رویانا

(۳) سه - بنیانا - تبدیل علم به عمل - مشاهده کردن

(۴) بنیانا - دو - پرسشگری - طراحی آزمایش

۳۰ دقیقه

علوم

صفحه ۱ تا صفحه ۱۹

دانش آموزان عزیز، لطفاً از بین سؤالات علوم عادی و پیشرفته، فقط به یک سری از آن‌ها پاسخ دهید.

دانش آموز عزیز:

در آزمون قبل به چند سؤال از ۱۰ سؤال پاسخ داده‌اید؟
در این آزمون فکر می‌کنید به چند سؤال از ۱۰ سؤال پاسخ می‌دهید؟ در جدول زیر بنویسید.

چند از ۱۰ آزمون قبل	هدف‌گذاری چند از ۱۰ برای آزمون امروز

سؤال‌های علوم عادی

(سؤال‌های طرأمی)

۸۱- کدام گزینه یکای اندازه‌گیری جرم و وزن را به ترتیب از راست به چپ به درستی نشان می‌دهد؟ (نگاه به گذشته)

(۱) گرم - کیلوگرم

(۲) نیوتون - گرم بر سانتی‌متر مکعب

(۳) کیلوگرم - نیوتون

(۴) سانتی‌متر مکعب - نیوتون

۸۲- کدام گزینه جمله نادرستی را بیان می‌کند؟

(۱) وزن یک مداد می‌تواند ۴ گرم باشد.

(۲) جرم اجسام را به وسیله ترازو اندازه‌گیری می‌کنند.

(۳) وزن یک سیب کوچک ۱۰۰ گرمی تقریباً ۱ نیوتون است.

(۴) وزن اجسام را توسط نیروسنج اندازه‌گیری می‌کنند.

۸۳- یک خط‌کش مدرج بر حسب سانتی‌متر اجسام مختلف را اندازه گرفته است. کدام یک از گزینه‌های زیر نمی‌تواند اندازه گرفته

شده توسط این خط‌کش باشد؟

(۱) ۴۰ cm

(۲) ۴۲ m

(۳) ۵ cm

(۴) ۱ m / ۲۰

۸۴- اتم‌ها ...

(۱) تنها با استفاده از میکروسکوپ نوری قابل رویت هستند.

(۲) با استفاده از حواس پنج‌گانه قابل مطالعه مستقیم‌اند.

(۳) سازنده بسیاری از موادی هستند که ما در زندگی استفاده می‌کنیم.

(۴) در عنصر مانند هم و از یک نوع هستند.

۸۵- چه تعداد از جملات زیر درست هستند؟

(الف) از ظرف‌های مدرج برای اندازه‌گیری حجم مقدارهای کم مایعات استفاده می‌شود.

(ب) از استوانه مدرج فقط برای مشخص کردن حجم مایعات استفاده می‌شود.

(ج) یک لیتر برابر با حجم ظرف مکعبی شکل به طول، عرض و ارتفاع ۱۰ سانتی‌متر است.

(د) با خط‌کش طول جسم‌های نسبتاً کوچک را اندازه می‌گیریم.

(۱) ۴

(۲) ۳

(۳) ۲

(۴) ۱

۹۰- مطابق کتاب درسی کدام گزینه به ترتیب از راست به چپ یکای اندازه گیری زمان، از عوامل توسعه علوم و یک مرحله مهم

برای جمع آوری اطلاعات را بیان می کند؟

- (۱) ناینه - تفکر و تجربه - سؤال کردن
- (۲) دقیقه - تفکر و تجربه - اندازه گیری
- (۳) ناینه - به کار بستن انواع مهارت ها - اندازه گیری
- (۴) دقیقه - طراحی آزمایش - سؤال کردن

(سؤال های منتخب از کتاب آبی)

۹۱- کدام مورد عبارت زیر را به نادرستی کامل می کند؟

سه بشر مشابه داریم که درون هر کدام ۷۰ میلی لیتر آب می ریزیم و در بشر شماره (۱) مقداری گوگرد و در بشر شماره (۲) مقداری اتانول و در بشر شماره (۳) مقداری جوهر نمک اضافه می کنیم. مشاهده می شود که ... در آب درون بشر حل ...

- (A) اتانول برخلاف جوهر نمک - می شود.
- (B) اتانول همانند جوهر نمک - می شود.
- (C) گوگرد برخلاف اتانول - نمی شود.
- (D) گوگرد همانند جوهر نمک - نمی شود.

D - B (۲)

B - A (۱)

D - A (۴)

C - B (۳)

۹۲- اگر بخواهیم رسانایی الکتریکی چند ماده را با استفاده از یک مدار الکتریکی بررسی کنیم، در کدام گزینه به ترتیب لامپ،

روشن - روشن - خاموش - خاموش خواهد بود؟

- (۱) میخ آهنی - فویل آلومینیومی - گوگرد - خط کش پلاستیکی
- (۲) تایر اتومبیل - مس - زغال - گوگرد
- (۳) مس - گوگرد - چرم - پارچه نخی
- (۴) شیشه - چوب - دستگیره فلزی - تایر اتومبیل

۹۳- فرض کنید چگالی یک محلول شکر در آب $1/1g/mL$ و چگالی آب $1g/mL$ باشد، بنابراین ...

- (۱) جسمی به جرم ۱۰۰ گرم و حجم $150cc$ هم در محلول شکر در آب و هم در آب فرو می رود.
- (۲) با افزودن آب خالص به محلول شکر در آب، از چگالی این محلول کاسته نمی شود.
- (۳) برای تهیه محلول $1/1g/mL$ شکر در آب، ۱۱۰ گرم شکر را در ۱۰۰ میلی لیتر آب حل می کنند.
- (۴) جسمی به جرم ۵ گرم و حجم $5/2cc$ درون این محلول شکر در آب فرو نمی رود.

۹۹- از فرمول زیر برای محاسبه میزان حجم شربت آموکسی سیلین دریافتی روزانه یک کودک براساس جرم استفاده می‌شود:

$$\text{حجم} = \frac{۴۰ \times ۵ \times \text{جرم کودک بر حسب kg}}{۲۵۰} \text{cc}$$

آموکسی سیلین سه نوبت در روز مصرف می‌شود و روی پیمانه موجود در بسته‌بندی آموکسی سیلین حجم‌های ۲/۵cc و ۵cc مشخص است. باتوجه به این ...

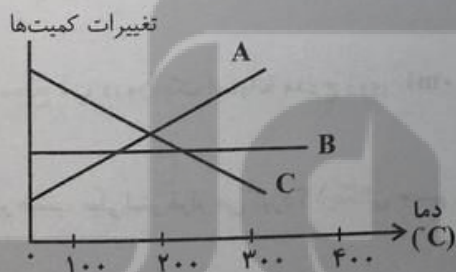
(۱) برای یک کودک که جرمی معادل ۱۰ کیلوگرم دارد استفاده از پیمانه‌های بسته‌بندی دقیق است.

(۲) برای این که یک کودک بتواند هر مرتبه به‌طور دقیق با استفاده از پیمانه ۲/۵cc، آموکسی سیلین دریافت کند باید دقت ترازویی که جرم کودک را اندازه‌گیری می‌کند در حد صدم کیلوگرم باشد.

(۳) حجم آموکسی سیلین دریافتی برای کودکی به جرم ۱۵ کیلوگرم در طول یک هفته ۸۰cc است.

(۴) برای کودکی با جرم ۲۰ کیلوگرم، استفاده از سرنگ ۱۰cc که دقت آن در حد دهم سی‌سی باشد بهتر از استفاده از پیمانه‌های ذکر شده است.

۱۰۰- یک کره فلزی را گرم می‌کنیم. تغییرات جرم، حجم و چگالی آن، به ترتیب از راست به چپ از روی نمودار کدام است؟ (نمودار به صورت فرضی ترسیم شده است).



B, C, A (۱)

C, A, B (۲)

B, A, C (۳)

A, C, B (۴)

علوم هفتم - برنامه تمرینی آزمون بعد

کتاب سه سطحی (کد ۵۴۵۱)	کتاب آبی (کد ۶۹۷۵)	مبحث
سؤال‌های ۱ تا ۱۴۸	سؤال‌های ۱۲۱ تا ۱۷۰ کتاب آبی	علوم و ابزارهای آن، تفکر و تجربه، ... انها الفبای مواد
کتاب سه سطحی ۱۴۸ سؤال جدید	۵۰ سؤال جدید	صفحه ۱ تا صفحه ۲۴

۹۴- از بین عناصر «نقره، آلومینیم، طلا، کربن، گاز نیتروژن، گاز اکسیژن، مس، آهن، گوگرد» چه تعداد فلز هستند؟

۷ (۱) ۶ (۲)

۴ (۳) ۵ (۴)

۹۵- چه تعداد از موارد زیر می‌تواند از نفت خام به دست آید؟

«پلاستیک، حشره کش، ترکیبات دارویی، لاستیک خودرو»

۲ (۱) ۳ (۲)

۴ (۳) ۱ (۴)

۹۶- دو گلوله A و B را درون بشری حاوی آب می‌اندازیم. در صورتی که جرم و چگالی گلوله A به ترتیب ۶۰ گرم و ۱۰ گرم بر

سانتی‌مترمکعب باشد و با انداختن هم‌زمان هر دو گلوله در آب، سطح آب درون بشر ۱۵ سانتی‌مترمکعب بالاتر بیاید، چگالی

گلوله B چند گرم بر سانتی‌مترمکعب است؟ (جرم گلوله B = ۳۶ گرم)

۵ (۱) ۴ (۲)

۳/۲ (۳) ۷/۵ (۴)

۹۷- سطح آب درون یک استوانه مدرج روی ۲۰۰ mL قرار دارد. با انداختن جسم A درون استوانه، سطح آب روی چه عددی

برحسب میلی‌لیتر قرار می‌گیرد؟ (چگالی جسم A، 8 g/cm^3 و جرم آن ۴۰۰g است. با انداختن جسم درون استوانه، هیچ آبی

از آن بیرون نمی‌ریزد و جسم به‌طور کامل زیر آب قرار می‌گیرد.)

۵۰ (۱) ۳۴۰ (۲)

۱۵۰ (۳) ۲۵۰ (۴)

۹۸- کدام گزینه مدت زمان کم‌تری را نشان می‌دهد؟

۰/۹ ثانیه (۱) ۰/۰۱ دقیقه (۲)

۰/۰۱ ساعت (۳) ۰/۰۰۴ ساعت (۴)



دانش آموز عزیز:

در آزمون قبل به چند سؤال از ۱۰ سؤال پاسخ داده‌اید؟
در این آزمون فکر می‌کنید به چند سؤال از ۱۰ سؤال پاسخ می‌دهید؟ در جدول زیر بنویسید.

چند از ۱۰ آزمون قبل	هدف‌گذاری چند از ۱۰ برای آزمون امروز

سؤال‌های علوم (پیشرفته)

(سؤال‌های شیمی)

۱۰۱- یکی از شروط اساسی ساخت سدها محاسبه نیرویی است که آب پشت سد به آن وارد می‌کند. کدام شاخه از علم این کار را انجام می‌دهد؟ (نگاه به گذشته)

- | | |
|-----------|----------------|
| (۱) شیمی | (۲) زیست |
| (۳) فیزیک | (۴) زمین‌شناسی |

۱۰۲- کدام گزینه جمله نادرستی را بیان می‌کند؟

- (۱) وزن یک مداد می‌تواند ۴ گرم باشد.
- (۲) جرم اجسام را به وسیله ترازو اندازه‌گیری می‌کنند.
- (۳) وزن یک سیب کوچک ۱۰۰ گرمی تقریباً ۱ نیوتون است.
- (۴) وزن اجسام را توسط نیروسنج اندازه‌گیری می‌کنند.

۱۰۳- چه تعداد از جملات زیر درست هستند؟

- الف) از ظرف‌های مدرج برای اندازه‌گیری حجم مقادیر کمی مایعات استفاده می‌شود.
- ب) از استوانه مدرج فقط برای مشخص کردن حجم مایعات استفاده می‌شود.
- ج) یک لیتر برابر با حجم ظرف مکعبی شکل به طول، عرض و ارتفاع ۱۰ سانتی‌متر است.
- د) با خط‌کش طول جسم‌های نسبتاً کوچک را اندازه می‌گیریم.

- | | | | |
|-------|-------|-------|-------|
| (۱) ۴ | (۲) ۳ | (۳) ۲ | (۴) ۱ |
|-------|-------|-------|-------|

۱۰۴- در کدام مورد، پاسخ درست تعداد بیش‌تری از پرسش‌های زیر دیده می‌شود؟

- فناوری چیست؟
- مهم‌ترین فعالیت در یادگیری علم چیست؟
- بهترین راه مطالعه درستی یا نادرستی پیش‌بینی چیست؟
- اولین گوساله شیشه‌سازی شده در خاورمیانه چه نام دارد؟
- چه تعداد از مواد (نفت - جوهرنمک - اتانول - گوگرد - نمک) در آب حل نمی‌شود؟

- (۱) تبدیل علم به عمل - پرسشگری - رویانا - طراحی آزمایش
- (۲) مشاهده کردن - تبدیل علم به عمل - دو - رویانا
- (۳) سه - بنیانا - تبدیل علم به عمل - مشاهده کردن
- (۴) بنیانا - دو - پرسشگری - طراحی آزمایش

۱۰۵- مطابق کتاب درسی کدام گزینه به ترتیب از راست به چپ یکای اندازه‌گیری زمان، از عوامل توسعه علوم و یک مرحله مهم

برای جمع‌آوری اطلاعات را بیان می‌کند؟

- (۱) نایه - تفکر و تجربه - سؤال کردن
- (۲) دقیقه - تفکر و تجربه - اندازه‌گیری
- (۳) نایه - به کار بستن انواع مهارت‌ها - اندازه‌گیری
- (۴) دقیقه - طراحی آزمایش - سؤال کردن

(شیمی)
صفحه ۱ تا صفحه ۱۰
(فیزیک)
صفحه ۶۲ تا صفحه ۷۰
(زیست‌شناسی و زمین‌شناسی)
صفحه ۳۵ تا صفحه ۴۵

تلاشی در مسیر معرفت



دانلود گام به گام تمام دروس ✓

دانلود آزمون های قلم چی و گاج + پاسخنامه ✓

دانلود جزوه های آموزشی و شب امتحانی ✓


دانلود نمونه سوالات امتحانی ✓

مشاوره کنکور ✓

فیلم های انگیزشی ✓

 www.ToranjBook.Net

 [ToranjBook_Net](https://t.me/ToranjBook_Net)

 [ToranjBook_Net](https://www.instagram.com/ToranjBook_Net)