

تلاشی در مسیر موفقیت



دانلود گام به گام تمام دروس ✓

دانلود آزمون های قلم چی و گاج + پاسخنامه ✓

دانلود جزوه های آموزشی و شب امتحانی ✓


دانلود نمونه سوالات امتحانی ✓

مشاوره کنکور ✓

فیلم های انگیزشی ✓

 www.ToranjBook.Net

 [ToranjBook_Net](https://t.me/ToranjBook_Net)

 [ToranjBook_Net](https://www.instagram.com/ToranjBook_Net)

دوم دبستان

۲ دی ۱۴۰۱

تعداد کل سؤالات: ۴۰ سؤال
مدت پاسخ‌گویی به آزمون: ۵۰ دقیقه

نام درس	تعداد سؤال	شماره سؤال	وقت پیشنهادی	برنامه‌ی آزمون
ریاضی	۱۰	۱-۱۰	۱۵ دقیقه	اشکال هندسی (یادآوری شکل‌های هندسی - روابط بین شکل‌ها) (تقارن) عددهای سه رقمی (معرفی پول) صفحه‌ی ۳۷ تا ۵۸
علوم	۱۰	۱۱-۲۰	۱۵ دقیقه	زندگی ما و گردش زمین - ۲ پیام رمز را پیدا کن - ۱ پیام رمز را پیدا کن - ۲ صفحه‌ی ۳۰ تا ۵۳
فارسی	۱۰	۲۱-۳۰	۱۰ دقیقه	چوپان درستکار کوشا و نوشا دوستان ما فارسی: صفحه‌ی ۳۲ تا ۴۸ نگارش فارسی: صفحه‌ی ۳۷ تا ۵۲
فارسی (سؤالات آشنا)	۱۰	۳۱-۴۰	۱۰ دقیقه	چوپان درستکار کوشا و نوشا دوستان ما فارسی: صفحه‌ی ۳۲ تا ۴۸ نگارش فارسی: صفحه‌ی ۳۷ تا ۵۲

بنیاد علمی آموزشی قلم‌پی (وقف عام)

دفتر مرکزی: خیابان انقلاب - بین صبا و فلسطین - پلاک ۹۲۳ - تلفن: ۶۴۶۳-۲۱

سؤال‌های عادی

دوست فوبم:

در درس‌های ریاضی، علوم و فارسی ۱۰ سوال ابتدای دفترچه طرح نو(طراحی شده) هستند و با توجه به برنامه‌ی راهبردی فود هر آزمون در یک درس ۱۰ سوال منتفب از کتاب‌های سه سرطمی (سوال‌های آشنا) داریم.

با پاسخ‌گویی به این دو نوع سوال‌ها، می‌توانید ارزیابی بهتری از یادگیری خودتان داشته باشید.

مجموعاً در این دفترچه ۱۴۰ سوال قرار دارد که پاسخ‌گویی به این سوالات اجباری است.

گروه آزمون

بنیاد علمی آموزشی قلم‌چی (وقف عام)

تلاشی در مسیر موفقیت



دانش آموز عزیز:

در آزمون قبل به چند سؤال از ۱۰ سؤال پاسخ درست دادی؟
فکر می‌کنی در این آزمون به چند سؤال از ۱۰ سؤال پاسخ خواهی داد؟ در جدول زیر بنویس

چند از ۱۰ آزمون قبل	هدف‌گذاری چند از ۱۰ برای آزمون امروز
---------------------	--------------------------------------

زمان پاسخ‌گویی: ۱۵ دقیقه

ریاضی - صفحه‌های ۳۷ تا ۵۸ کتاب درسی

۱- حاصل عبارت روبه‌رو با کدام عبارت زیر برابر است؟

$$۶۲ - ۵ = \square$$

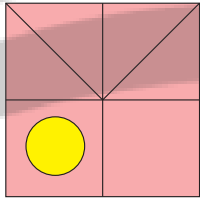
(۲) $۵۱ + ۵$

(۱) $۴۵ + ۷$

(۴) $۵۴ + ۳$

(۳) $۶۶ - ۷$

۲- شکل روبه‌رو چند مربع دارد؟



(۲) ۳ مربع

(۱) ۴ مربع

(۴) ۲ مربع

(۳) ۵ مربع

۳- عدد ۴۶، چندمین عدد الگوی زیر است؟

۶ ، ۱۴ ، ۲۲ ، ۳۰

(۲) ۷

(۱) ۸

(۴) ۶

(۳) ۵

۴- ساعت حالا ۶ است. ۲ ساعت و یک ربع دیگر ساعت چند است؟

(۱) ۳:۱۵

(۲) ۵:۲۵


(۳) ۸:۱۵

(۴) ۷:۴۵






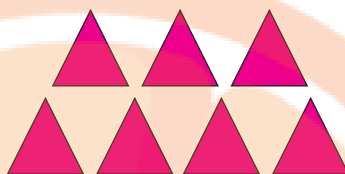
۵- شکل‌های زیر را ادامه دهید و بگویید شکل چهارم چند مثلث دارد؟



(۱)



(۲)



(۳)

؟

(۴)

۴ (۲)

۱۸ (۱)


۹ (۴)

۲۰ (۳)

۶- کدامیک از شکل‌های زیر اگر تا شود تقارن ندارد؟



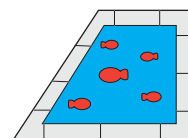
(۲)



(۱)

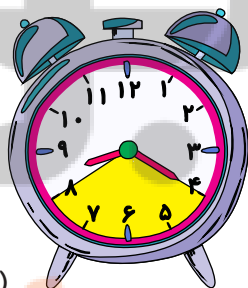


(۴)



(۳)


۷- اگر از ساعت اول به اندازه‌ی قسمت زرد در ساعت دوم حرکت کنیم اول چند می‌شود؟



(ساعت دوم)

۱۰:۰۰ (۲)

۹:۵۰ (۴)



(ساعت اول)


۸:۴۰ (۱)

۹:۲۰ (۳)






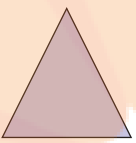
۸- کدام یک از شکل‌های زیر را نمی‌توان به ۴ قسمت مساوی تقسیم‌بندی کرد؟



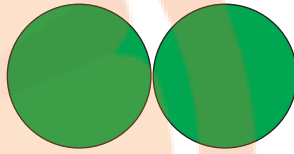
(۲)



(۱)



(۴)



(۳)

۹- ارزش سکه‌های کدام گزینه از بقیه کم‌تر است؟



(۱)



(۲)



(۳)



(۴)

۱۰- ۲۰ دقیقه بعد از ساعت ۳:۱۰ چه ساعتی است؟

(۲) یک ربع به چهار

(۱) ۳:۳۵'

(۴) سه و ربع

(۳) سه و نیم





دانش آموز عزیز:

در آزمون قبل به چند سؤال از ۱۰ سؤال پاسخ درست دادی؟
فکر می‌کنی در این آزمون به چند سؤال از ۱۰ سؤال پاسخ خواهی داد؟ در جدول زیر بنویس

چند از ۱۰ آزمون قبل	هدف‌گذاری چند از ۱۰ برای آزمون امروز
---------------------	--------------------------------------

زمان پاسخ‌گویی: ۱۵ دقیقه

علوم - صفحه‌های ۳۰ تا ۵۳ کتاب درسی


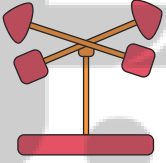


۱۱- کدام یک از گزینه‌های زیر از اثرات خورشید بر زندگی انسان و جانداران نیست؟

- (۱) روشن و گرم شدن زمین
(۲) رشد گیاهان
(۳) آلوده شدن هوا
(۴) قابل سکونت شدن زمین

۱۲- در کدام گزینه از باد استفاده‌ی مفید نشده است؟

- (۱) حرکت قایق با بادبان
(۲) خشک شدن پتو
(۳) جابه‌جا شدن ماسه‌ها و فرود آمدن در زمین کشاورزی
(۴) تولید برق با توربین‌های بادی

۱۳- جهت وزش باد را با کدام گزینه نمی‌توان اندازه‌گیری کرد؟

- (۱) (دماسنج) 
- (۲) (بادنما) 
- (۳) (حرکت برگ درختان) 
- (۴) (حرکت پرچم مدرسه) 



۱۴- کدام صدا نازک نمی‌باشد؟

- ۱) صدای جوجه
- ۲) حرف زدن دو مرد با هم
- ۳) درگوشی حرف زدن دو دوست
- ۴) صدای قناری

۱۵- صداهای مطرح شده در کدام گزینه همگی صداهای نازک به حساب می‌آیند؟

- ۱) صدای گاو - صدای بوق کامیون - صدای آبشار
- ۲) صدای پدر رضا - صدای بلبل - صدای سوت
- ۳) صدای طبل - رعد و برق - صدای گاو
- ۴) صدای خواهر سه ساله‌ی زهرا - صدای بلبل - صدای گنجشک


۱۶- وظیفه‌ی راننده‌ها هنگام نزدیک شدن آمبولانس چیست؟

- ۱) کنار رفتن از مسیر حرکت آمبولانس
- ۲) حرکت در مسیر آمبولانس
- ۳) بوق زدن برای بقیه‌ی راننده‌ها
- ۴) توقف در مسیر حرکت آمبولانس

۱۷- کدام گزینه صحیح می‌باشد؟

- ۱) در چهار راه‌های شلوغ، نیازی به چراغ راهنما برای عابرین نیست.
- ۲) چراغ سبز راهنما برای یک راننده به معنی توقف است.
- ۳) در خیابان‌های شلوغ برای راهنمایی راننده‌ها پلیس از سوت استفاده می‌کند.
- ۴) وقتی چراغ مخصوص عابر پیاده قرمز است، ما باید توقف کنیم.

۱۸- از کدام تصویر نور عبور می کند؟

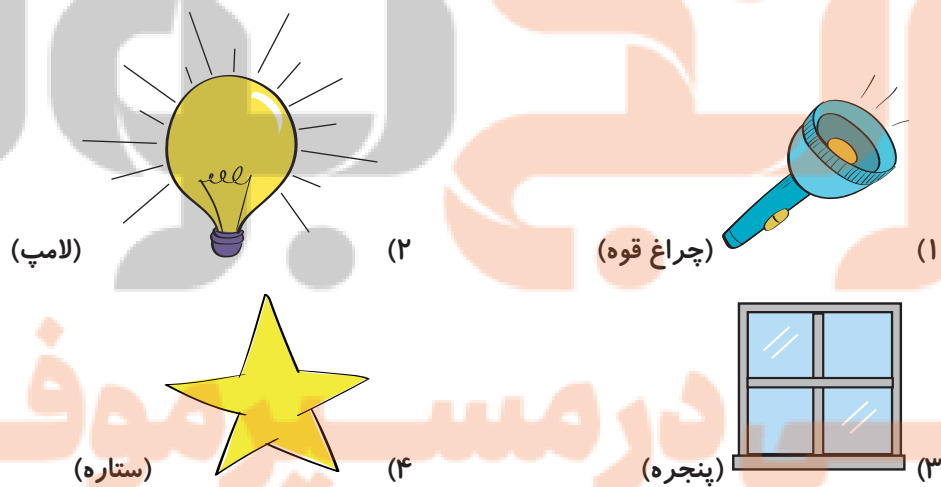


۱۹- چند مورد از موارد زیر در مورد اجسامی که چشمه‌ی نور نیستند، نادرست است؟

- (الف) بیش تر چیزهایی که می بینیم، چشمه‌ی نور نیستند.
(ب) برای دیدن آن‌ها نور لازم است.
(پ) شمع خاموش نمونه‌ای از آن است.
(ت) از خود نور دارند.

(۱) صفر (۲) ۱ (۳) ۲ (۴) ۳

۲۰- کدام گزینه چشمه‌ی نور نمی‌باشد؟





دانش آموز عزیز:

در آزمون قبل به چند سؤال از ۱۰ سؤال پاسخ درست دادی؟
فکر می‌کنی در این آزمون به چند سؤال از ۱۰ سؤال پاسخ خواهی داد؟ در جدول زیر بنویس.

چند از ۱۰ آزمون قبل	هدفگذاری چند از ۱۰ برای آزمون امروز
---------------------	-------------------------------------

زمان پاسخ‌گویی: ۱۰ دقیقه

فارسی: صفحه‌های ۳۲ تا ۴۸ - نگارش فارسی: صفحه‌های ۳۷ تا ۵۲

۲۱- علامت نگارشی پایان کدام جمله با سایر جملات متفاوت است؟

(۱) نوه‌های پیرمرد و پیرزن به آن‌ها کمک می‌کردند

(۲) تو باید استراحت کنی تا دوباره سالم شوی

(۳) دلیل این همه سر و صدا چیست

(۴) خرس کوچولو خسته و گرسنه زیر درخت نشسته بود

۲۲- جاهای خالی بیت زیر **به ترتیب** با کدام کلمات به درستی کامل می‌شود؟

«گل بازتر شد، / پروانه دورش، رقصید»

(۱) با ناز - زیبا

(۲) با ناز - آرام

(۳) آرام - زیبا

(۴) آرام - با ناز

۲۳- در کدام گزینه، کلمات مخالف هم **نیستند**؟

(۲) غمگین - شادمان

(۱) تر - خیس

(۴) ترسو - دلیر

(۳) ویران - آباد



۲۴- چه تعداد از کلمات زیر با «ها» جمع بسته می‌شوند؟

«رنج - جهان - دانایان - فرش - سخنان - خطر - پیامبران»

(۲) پنج

(۱) چهار

(۴) سه

(۳) دو

۲۵- کدام گزینه نادرست است؟

(۱) به جایی که در آن شیرینی می‌فروشند، شیرینی فروشی می‌گویند.

(۲) به کسی که پارچه می‌فروشد، پارچه‌فروش می‌گویند.

(۳) به کسی که سبزی می‌فروشد، سبزی‌فروش می‌گویند.

(۴) به کسی که کلید می‌سازد، کلیدفروش می‌گویند.

۲۶- در کدام گزینه، کلمه‌ای وجود دارد که جمع نیست؟

(۱) مدادها - درختها - کلیدها

(۲) جوابها - پیشنهادها - سفرها

(۳) گوسفندها - قطره‌ها - شیرها

(۴) اژدها - پسرها - کتابها





۲۷- در کدام گزینه، دو کلمه با یکدیگر کلمه‌ی مشترک ندارند؟

- (۱) کوشش - می‌کوشد
(۲) پرواز - پرنده
(۳) صبوری - تصاحب
(۴) کتاب‌خوان - کتاب‌خانه

۲۸- کلمه‌ی مشخص شده در کدام گزینه نادرست به کار رفته است؟

- (۱) مادر معمولاً جمعه‌ها کباب درست می‌کند.
(۲) من فردا حتماً به دیدار مادرم خواهم رفت.
(۳) علی و دوستانش اتفاقاً هفته‌ای یک‌بار به پارک می‌روند.
(۴) حسین حقیقتاً پسر بسیار خوب و مؤدبی است.

۲۹- با توجه به حرف طوطی‌سخن گو در درس «کوشا و نوشا»، برای خوب حرف زدن باید چه کاری کنیم؟

- (۱) اول خوب دیدن و خوب حرف زدن را یاد بگیریم.
(۲) اول خوب دیدن و خوب گوش کردن را یاد بگیریم.
(۳) بهتر است خوب ببینیم و خوب دقت کنیم.
(۴) بهتر است خوب گوش کنیم و خوب دقت کنیم.

۳۰- داستان «چوپان درست‌کار» با عبارت کدام گزینه ارتباط مفهومی دارد؟

- (۱) درخت هرچه بارش بیش‌تر می‌شود، سر فرودتر می‌آورد.
(۲) همی دانه و خوشه خروار شد / از آغاز هر خوشه خروار نیست (خروار: مقدار زیاد)
(۳) سری که درد نمی‌کند، دستمال نمی‌بندند.
(۴) دانا داند و پرسد. نادان نداند و نپرسد.





دانش آموز عزیز:

در آزمون قبل به چند سؤال از ۱۰ سؤال پاسخ درست دادی؟
فکر می‌کنی در این آزمون به چند سؤال از ۱۰ سؤال پاسخ خواهی داد؟ در جدول زیر بنویس

چند از ۱۰ آزمون قبل	موفق‌گذاری چند از ۱۰ برای آزمون امروز
---------------------	---------------------------------------

زمان پاسخ‌گویی: ۱۰ دقیقه

فارسی آشنا (گواه)

فارسی: صفحه‌های ۳۲ تا ۴۸ - نگارش فارسی: صفحه‌های ۳۷ تا ۵۲

۳۱- چه تعداد از کلمه‌های زیر، از نظر املايي نا درست نوشته شده‌اند؟

صاهب - کلاغ - قطره - طوطی - تصمیم - نصیحت - سحر خیز - صبر»

(۲) یک

(۱) صفر

(۴) سه

(۳) دو

۳۲- اگر کلمه‌های مخالف را کنار هم بگذاریم، کدام کلمه اضافی است؟

«آمد - خواب - رفت - بالا - بیدار - زمین - راست گو - پایین - دروغ گو»

(۲) خواب

(۱) راست گو

(۴) زمین

(۳) پایین

۳۳- اگر کلمه‌های زیر را مرتب کنیم و جمله‌ی معنی‌داری بسازیم، کدام کلمه اضافی است؟

«برای - رفت - بالای - چوپان - نجات - درختی - خود - شروع»

(۲) بالای

(۱) رفت

(۴) شروع

(۳) نجات





۳۴- در عبارت زیر، چند کلمه‌ی جمع وجود دارد؟

«دختر مهربانی در کنار باغی زیبا و پرگل زندگی می‌کرد. او هر روز صبح به گل‌ها سر می‌زد و آن‌ها را نوازش می‌کرد.»

یک (۱) دو (۲) سه (۳) چهار (۴)

۳۵- در کدام گروه از کلمات، کلمه‌ی مشترک درست انتخاب نشده است؟

(۱) دانش‌آموز - کارآموز - نوآموز (آموز)

(۲) سخن‌ران - سخن‌گو - سخن‌چین (سخن)

(۳) می‌خواست - خواستگاری - خواستن (خواست)

(۴) گیاه‌خوار - گوشت‌خوار - خار (خوار)

۳۶- صدای آخر کدام دسته از کلمات مانند صدای آخر کلمه‌ی «آهسته» نیست؟

(۱) کوه - گروه - شبیه

(۲) پرنده - مرتبه - دیده

(۳) سایه - دوباره - خنده

(۴) شنیده - خوانده - رفته

۳۷- اگر هم‌معنی کلمات زیر را در جدول قرار دهیم، هم‌معنی کدام واژه در ردیف شماره‌ی «۳» قرار می‌گیرد؟

«ظالم - سر به هوا - کنار دریا - کسی که صبح زود بیدار می‌شود.»

				س	(۱)
				س	(۲)
				س	(۳)
				س	(۴)

(۲) کسی که صبح زود بیدار می‌شود.

(۱) سر به هوا

(۴) کنار دریا

(۳) ظالم



۳۸- کدام گزینه نادرست است؟

- (۱) همان لیوان یعنی لیوانی که نزدیک است.
- (۲) این مدرسه یعنی مدرسه‌ای که نزدیک است.
- (۳) آن کتاب یعنی کتابی که دور است.
- (۴) همین درخت یعنی درختی که نزدیک است.

۳۹- موضوع اصلی بیت زیر چیست؟

«توانا بود هر که دانا بود / ز دانش دل پیر برنا بود»

- (۱) اهمیت توانا بودن
- (۲) اهمیت جوانی
- (۳) اهمیت احترام به بزرگ‌ترها
- (۴) اهمیت دانا بودن

۴۰- کدام گزینه نادرست است؟


- (۱) خدای مهربان چیزهای خوب و قشنگی را برای ما آفریده است.
- (۲) معلم دانا دانش آموزان سخت‌کوشی را پرورش داده است.
- (۳) نظم و ترتیب خیابان‌ها را بنای پرکار ایجاد کرده است.
- (۴) کوچه‌های پاکیزه را رفتگر زحمت‌کش پاکیزه کرده است.



- دانلود گام به گام تمام دروس ✓
- دانلود آزمون های قلم چی و گاج + پاسخنامه ✓
- دانلود جزوه های آموزشی و شب امتحانی ✓
- دانلود نمونه سوالات امتحانی ✓
- مشاوره کنکور ✓
- فیلم های انگیزشی ✓

 www.ToranjBook.Net

 [ToranjBook_Net](https://t.me/ToranjBook_Net)

 [ToranjBook_Net](https://www.instagram.com/ToranjBook_Net)