


تلاشی در مسیر موفقیت



- دانلود گام به گام تمام دروس ✓
- دانلود آزمون های قلم چی و گاج + پاسخنامه ✓
- دانلود جزوه های آموزشی و شب امتحانی ✓
- دانلود نمونه سوالات امتحانی ✓
- مشاوره کنکور ✓
- فیلم های انگیزشی ✓

 www.ToranjBook.Net

 [ToranjBook_Net](https://t.me/ToranjBook_Net)

 [ToranjBook_Net](https://www.instagram.com/ToranjBook_Net)

پنجم دبستان

۲ دی ۱۴۰۱

تعداد کل سؤال‌های دفترچه‌ی عادی: ۷۰ سؤال
مدت زمان پاسخ‌گویی به آزمون: ۸۰ دقیقه

نام درس	تعداد سؤال	شماره‌ی سؤال	وقت پیشنهادی	برنامه‌ی آزمون
ریاضی	۱۰	۱-۱۰	۱۵ دقیقه	کسر؛ ضرب عددهای مخلوط نسبت، تناسب و درصد؛ نسبت، نسبت‌های مساوی و تناسب صفحه‌های ۴۰ تا ۵۹
ریاضی (سؤال‌های آشنا)	۱۰	۱۱-۲۰	۱۵ دقیقه	
علوم	۱۰	۲۱-۳۰	۱۰ دقیقه	برگی از تاریخ زمین: (از سر مانند زمین‌شناسان تا آخر فصل) حرکت بدن و چه خبر؟ (۱): (تا سر شنیدن) صفحه‌های ۳۰ تا ۵۰
علوم (سؤال‌های آشنا)	۱۰	۳۱-۴۰	۱۰ دقیقه	
فارسی	۱۰	۴۱-۵۰	۱۰ دقیقه	ایران من فارسی: صفحه‌های ۴۷ تا ۶۸ نگارش فارسی: صفحه‌های ۳۳ تا ۴۶
فارسی (سؤال‌های آشنا)	۱۰	۵۱-۶۰	۱۰ دقیقه	
مطالعات اجتماعی	۵	۶۱-۶۵	۵ دقیقه	منابع آب ایران، نوحی صنعتی مهم ایران، راه‌ها و حمل و نقل «۱» و «۲» صفحه‌های ۲۷ تا ۴۸
هدیه‌های آسمان	۵	۶۶-۷۰	۵ دقیقه	مال مردم، رنگین کمان جمعه و دونه‌ها صفحه‌های ۴۲ تا ۶۲

بنیاد علمی آموزشی قلم‌چی (وقف عام)

دفتر مرکزی: خیابان انقلاب - بین صبا و فلسطین - پلاک ۹۲۳ - تلفن: ۶۴۶۳-۰۲۱

دانش آموز عزیز:

در آزمون قبل به چند سؤال از ۱۰ سؤال پاسخ درست دادی؟
فکر می‌کنی در این آزمون به چند سؤال از ۱۰ سؤال پاسخ خواهی داد؟ در جدول زیر بنویس.

چند از ۱۰ آزمون قبل	هدف‌گذاری چند از ۱۰ برای آزمون امروز
---------------------	--------------------------------------

زمان پاسخ‌گویی: ۱۵ دقیقه

ریاضی پنجم دبستان - صفحه های ۴۰ تا ۵۹

۱- با توجه به الگوی عددی زیر، سه عدد بعدی این الگو کدام‌اند؟

۸, ۹, ۱۲, ۱۷,

۲۴, ۳۳, ۴۴ (۴)

۲۴, ۳۳, ۴۵ (۳)

۲۳, ۳۳, ۴۴ (۲)

۲۳, ۳۲, ۴۴ (۱)

۲- حاصل عبارت زیر، کدام است؟

$$4\frac{1}{2} \times 3\frac{1}{3} \times \frac{30}{25}$$

$\frac{1}{18}$ (۴)

۱۸ (۳)

$\frac{1}{12}$ (۲)

۱۲ (۱)

۳- اختلاف عدد $3\frac{1}{8}$ با حاصل $4\frac{2}{5} \times 1\frac{1}{4}$ کدام است؟

$1\frac{19}{25}$ (۴)

$2\frac{3}{8}$ (۳)

$5\frac{1}{2}$ (۲)

$3\frac{14}{50}$ (۱)

۴- طول مستطیلی $4\frac{2}{9}$ و عرض آن نصف طول می‌باشد، مساحت این مستطیل کدام است؟

$1\frac{71}{81}$ (۴)

$\frac{19}{9}$ (۳)

$8\frac{2}{9}$ (۲)

$8\frac{74}{81}$ (۱)

۵- قیمت هر کیلو شیرینی تر ۵۴۰۰۰ تومان و قیمت هر کیلو شیرینی خشک، ۳۶۰۰۰ تومان است. فاطمه $2\frac{1}{3}$ کیلوگرم

شیرینی خشک و $3\frac{1}{4}$ کیلوگرم شیرینی تر خرید و موقع کارت کشیدن، فروشنده اشتباهی یک صفر بیشتر جلوی

قیمت شیرینی‌ها گذاشت. فاطمه با ناراحتی رسید را به فروشنده داد و گفت شما باید مبلغی را به من برگردانید.

فروشنده باید چقدر به فاطمه برگرداند؟

۲,۲۶۸,۰۰۰ (۴)

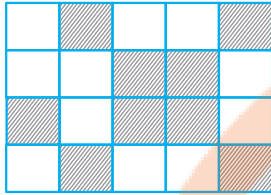
۱,۷۰۱,۰۰۰ (۳)

۲,۵۵۷,۰۰۰ (۲)

۲,۴۵۷,۰۰۰ (۱)



۶- شکل زیر به قسمت‌های مساوی تقسیم شده است. نسبت مساحت قسمت رنگ‌شده به مساحت قسمت رنگ‌نشده



برابر با کدام است؟

$$\frac{11}{20} \quad (۲)$$

$$\frac{11}{9} \quad (۱)$$

$$\frac{9}{11} \quad (۴)$$

$$\frac{9}{20} \quad (۳)$$

۷- نسبت ۵ به ۳ مانند نسبت ۷ است به.....

$$\frac{25}{19} \quad (۲)$$

$$3\frac{4}{7} \quad (۱)$$

$$4\frac{4}{5} \quad (۴)$$

$$4\frac{1}{5} \quad (۳)$$

۸- عرض مستطیلی ۷ و طول آن ۱۲ می‌باشد، نسبت محیط مستطیل به مساحت آن کدام است؟

$$\frac{38}{84} \quad (۲)$$

$$\frac{24}{84} \quad (۱)$$

$$\frac{19}{84} \quad (۴)$$

$$\frac{84}{38} \quad (۳)$$

۹- درون کیسه‌ای سه رنگ توپ وجود دارد و نسبت توپ‌ها ۳ و ۵ و ۱۹ می‌باشد. اگر تعداد توپ‌های رنگی که کمترین

تعداد را دارد ۱۵ باشد، تعداد توپ‌های رنگی که بیشترین تعداد را دارد، کدام است؟

$$95 \quad (۲)$$

$$25 \quad (۱)$$

$$84 \quad (۴)$$

$$40 \quad (۳)$$

۱۰- نسبت دو عدد ۳ به ۲ و اختلاف آن‌ها ۱۷ است. عدد بزرگ‌تر کدام است؟

$$38 \quad (۲)$$

$$54 \quad (۱)$$

$$34 \quad (۴)$$

$$51 \quad (۳)$$

تلاشی در مسیر موفقیت



دانش آموز عزیز:

در آزمون قبل به چند سؤال از ۱۰ سؤال پاسخ درست دادی؟
فکر می‌کنی در این آزمون به چند سؤال از ۱۰ سؤال پاسخ خواهی داد؟ در جدول زیر بنویس.

چند از ۱۰ آزمون قبل	هدف‌گذاری چند از ۱۰ برای آزمون امروز
---------------------	--------------------------------------

زمان پاسخ‌گویی: ۱۵ دقیقه

ریاضی (آشنا) پنجم دبستان - صفحه های ۴۰ تا ۵۹

۱۱- مجموع ارقام بزرگ‌ترین عدد ۱۱ رقمی، که فقط یک رقم مجاز است تکرار شود، کدام است؟

۴۵ (۲)

۴۰ (۱)

۵۴ (۴)

۵۰ (۳)

۱۲- حاصل عبارت زیر، چقدر است؟

$$1 \frac{1}{39} \times 1 \frac{1}{38} \times 1 \frac{1}{37} \times \dots \times 1 \frac{1}{2}$$

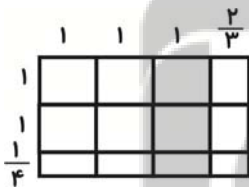
۴۰ (۲)

۱۰ (۱)

۳۰ (۴)

۲۰ (۳)

۱۳- مساحت شکل مقابل کدام است؟



$\frac{73}{12}$ (۲)

$\frac{71}{12}$ (۱)

$\frac{80}{12}$ (۴)

$\frac{99}{12}$ (۳)

۱۴- اگر $\frac{4}{3} = \frac{\square}{\bigcirc}$ باشد، بیشترین مقدار $\square + \bigcirc$ چقدر است؟ (همه‌ی اعداد طبیعی هستند.)

۷ (۲)

۸ (۱)

۱۳ (۴)

۱۶ (۳)

۱۵- مبلغ ۵۷۰۰۰ تومان را بین سه نفر به نسبت $\frac{1}{2}, \frac{1}{3}, \frac{1}{6}$ تقسیم کرده‌ایم. سهم نفر سوم چقدر است؟

۱۶۰۰۰ (۲)

۲۸۵۰۰ (۱)

۱۹۰۰۰ (۴)

۹۵۰۰ (۳)



۱۶- $3\frac{1}{2}$ از $1\frac{2}{5}$ پولی ۳۹۲۰۰ تومان است. خمس این پول چند تومان است؟

۳۸۴۱۶ (۲)

۸۰۰۰ (۱)

۱۶۰۰ (۴)

۱۴۰۰ (۳)

۱۷- حاصل عبارت $2\frac{1}{6} \times \frac{14}{25} + 2\frac{1}{6} \times \frac{18}{25} + 2\frac{1}{6} \times \frac{17}{25} + 2\frac{1}{6} \times \frac{26}{25}$ چقدر بیش تر از عدد ۵ است؟

$5\frac{1}{6}$ (۴)

$3\frac{2}{3}$ (۳)

$1\frac{1}{2}$ (۲)

$6\frac{1}{2}$ (۱)

۱۸- نسبت دو عدد ۲۳ به ۳۷ و اختلاف آن‌ها ۱۱۲ می‌باشد، عدد بزرگ‌تر چند است؟

۲۹۶ (۲)

۲۷۴ (۱)

۱۸۴ (۴)

۲۸۴ (۳)

۱۹- در یک مهمانی تعداد آقایان ۵ برابر تعداد خانم‌ها است. کدام عدد نمی‌تواند تعداد همهی آقایان و خانم‌های حاضر

در مهمانی را نشان دهد؟

۲۰ (۲)

۳۰ (۱)

۱۸ (۴)

۲۴ (۳)

۲۰- در جعبه‌ای ۲۳۴ مهره وجود دارد. تعداد مهره‌های قرمز ۳ برابر تعداد مهره‌های سفید و تعداد مهره‌های سفید



۳ برابر تعداد مهره‌های سبز است. تعداد مهره‌های قرمز چند تا است؟

۱۸ (۲)

۱۳ (۱)

۱۶۲ (۴)

۵۳ (۳)

تمرین تستی آزمون بعدی از کتاب آبی

سوال‌های ۲۶۱ تا ۳۰۰ کتاب مجموعه طبقه‌بندی شده ریاضی پنجم دبستان (کد کتاب ۶۸۹۱)

۴ پیمانه - ۴۰ سوال

تمرین تستی آزمون بعدی از کتاب سه سطحی

سوال‌های ۱۷۰ تا ۲۶۰ کتاب سه سطحی ریاضی پنجم دبستان (کد کتاب ۵۴۷۲)

۹۱ سوال



دانش آموز عزیز:
در آزمون قبل به چند سؤال از ۱۰ سؤال پاسخ درست دادی؟
فکر می‌کنی در این آزمون به چند سؤال از ۱۰ سؤال پاسخی خواهی داد؟ در جدول زیر بنویس.

چند از ۱۰ آزمون قبل	هدف‌گذاری چند از ۱۰ برای آزمون امروز
---------------------	--------------------------------------

زمان پاسخ‌گویی: ۱۰ دقیقه


علوم پنجم دبستان - صفحه های ۳۰ تا ۵۰

۲۱- در شکل زیر، زمین‌شناس با استفاده از ابتدا.....



- (۱) دست - خاک لایه‌های رسوبی را برمی‌دارد تا آثار جانداران را از میان لایه‌های رسوبی، سالم خارج کند.
- (۲) ابزار مناسب - لایه‌های رسوبی را برمی‌دارد تا آثار جانداران را از میان خاک، سالم خارج کند.
- (۳) دست - لایه‌های رسوبی را برمی‌دارد تا آثار جانداران را از میان خاک، سالم خارج کند.
- (۴) ابزار مناسب - لایه‌های رسوبی را می‌کند و خاک آن‌ها را با دقت برمی‌دارد تا آثار جانداران را از میان لایه‌های رسوبی، سالم خارج کند.

۲۲- با توجه به تصویر مقابل که لایه‌های رسوبی زمین را نشان می‌دهد، کدام گزینه **نا درست** است؟ (لایه‌ها جابه‌جا نشده‌اند).



- (۱) اگر لایه‌ی شماره‌ی (۶) مربوط به ۲۰ میلیون سال قبل باشد، عمر لایه‌ی شماره‌ی (۴)، می‌تواند ۱۰ میلیون سال باشد.
- (۲) با توجه به تصویر می‌توان گفت؛ فسیل برخی از جانداران در بیشتر لایه‌های مختلف دیده می‌شود.
- (۳) در زمان تشکیل لایه‌ی شماره‌ی (۳)، جانداران قدیمی از بین رفته و بعد از اتمام تشکیل آن، جانداران جدیدی ظاهر شده‌اند.
- (۴) با توجه به تصویر می‌توان گفت؛ با گذر زمان تنوع جانداران در این منطقه تغییر کرده است.

۲۳- از بین جانداران زیر، کدام دسته شرایط بهتری برای فسیل شدن دارد؟

- | | |
|-------------------|-------------------------|
| (۱) ماهی - گوسفند | (۲) فیل - مورچه |
| (۳) صدف - ماهی | (۴) کرم خاکی - دایناسور |



۲۴- از روی کدام قسمت جانور می توانیم به طور دقیق تر به گوشت خوار بودن آن پی ببریم؟

- (۱) رَد پا
(۲) دندانها
(۳) دستها
(۴) صدف

۲۵- کدام دسته از ماهیچه‌ها غیرارادی هستند؟

- (۱) معده - قلب - روده
(۲) صورت - معده - پا
(۳) دست - پا - صورت
(۴) پا - معده - قلب

۲۶- در کدام گزینه وظایف اسکلت بدن آورده نشده است؟

- (۱) باعث شکل و فرمدهی به بدن می‌شود.
(۲) تکیه‌گاه بدن است.
(۳) از بخش‌های داخلی محافظت می‌کند.
(۴) با کمک مجسمه موجب حرکت می‌شود.

۲۷- کدام گزینه در مورد مفصل نادرست آورده شده است؟

- (۱) مفصل حرکت استخوان را امکان‌پذیر می‌کند.
(۲) در مفصل بین استخوان‌ها ستون مهره وجود دارد.
(۳) محل متصل شدن ۲ استخوان را می‌گویند.
(۴) در محل مفصل، رشته‌های محکم وجود دارد.

۲۸- ویژگی‌های بیان شده در عبارتهای زیر به ترتیب مربوط به کدام گزینه است؟

- از روی هم قرار گرفتن آن‌ها لوله‌ای ایجاد می‌شود که نخاع در درون آن قرار گرفته است.
- پزشکان برای تشخیص میزان آسیب دیدگی استخوان در اثر ضربه، از این روش استفاده می‌کنند.
- اندامی است که فعالیت‌های بخش‌های مختلف بدن از جمله شش‌ها و قلب را کنترل می‌کند.
- سبب ایجاد قسمت‌های نرم زیر پوست دست می‌شود.

- (۱) مهره - عکس برداری - مغز - ماهیچه
(۲) مهره - شکسته‌بندی - مغز - استخوان
(۳) ستون مهره - عکس برداری - نخاع - استخوان
(۴) ستون مهره - شکسته‌بندی - مغز - ماهیچه

۲۹- بخش رنگی چشم بوده که در وسط آن قرار گرفته است.

- (۱) قرنیه - مردمک
(۲) شبکیه - قرنیه
(۳) مردمک - شبکیه
(۴) عنبیه - مردمک

۳۰- با توجه به عملکرد چشم، کدام گزینه نادرست است؟

- (۱) مردمک با تنگ و گشاد شدن، میزان نور ورودی به چشم را کنترل می‌کند.
(۲) بخشی که در عقب کره‌ی چشم قرار دارد، حاوی سلول‌هایی است که با دریافت نور و ارسال پیام‌های بینایی سبب دیدن اجسام می‌شود.

(۳) عدسی پشت مردمک قرار گرفته و باعث تشکیل تصویر اجسام روی پرده‌ی شبکیه می‌شود.

(۴) افراد نزدیک بین در دیدن اجسام نزدیک مشکل داشته و به همین دلیل از عدسی کمکی استفاده می‌کنند.



دانش آموز عزیز:

در آزمون قبل به چند سؤال از ۱۰ سؤال پاسخ درست دادی؟
فکر می‌کنی در این آزمون به چند سؤال از ۱۰ سؤال پاسخ خواهی داد؟ در جدول زیر بنویس.

چند از ۱۰ آزمون قبل	هدف‌گذاری چند از ۱۰ برای آزمون امروز
---------------------	--------------------------------------

علوم (آشنا) پنجم دبستان - صفحه های ۳۰ تا ۵۰ زمان پاسخ‌گویی: ۱۰ دقیقه

۳۱- زمین‌شناسان پس از بررسی یک فسیل در میان لایه‌های رسوبی، اعلام نمودند که این فسیل متعلق به یک پرنده

است. کدام گزینه می‌تواند دلیل درستی این ادعا باشد؟

- (۱) در اطراف فسیل مربوطه پره‌های نرم پرنده نیز بوده است.
- (۲) در اطراف فسیل، گوشت پرنده مشاهده شده است.
- (۳) فسیل مربوط به نوک یا ستون مهره‌های پرنده بوده است.
- (۴) فسیل مربوط به غذای پرنده بوده است.

۳۲- در شکل زیر، قسمتی از لایه‌های رسوبی یک منطقه و سن یک لایه نشان داده شده است. با توجه به آن احتمال

یافتن فسیل دایناسورها در کدام لایه یا لایه‌ها وجود دارد؟ (لایه شماره ۱) نزدیک‌ترین لایه به سطح زمین است و

(۱)
(۲)
(۳) ۶۴ میلیون سال قبل
(۴)
(۵)

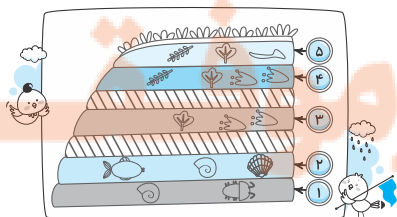
سن هر لایه با سن لایه‌ی بعدی ۵ میلیون سال اختلاف دارد.)

(۱) لایه‌های (۱) و (۲) لایه‌ی (۲)

(۳) لایه‌ی (۳) (۴) لایه‌های (۴) و (۵)

۳۳- با توجه به تصویر زیر و شماره‌های لایه‌های ذکر شده، به ترتیب از راست به چپ، فسیل کدام لایه قدیمی‌تر است؟ و

کدام لایه دیرتر از بقیه‌ی لایه‌ها تشکیل شده است؟ (لایه‌ها از زمان تشکیل تاکنون جابه‌جا نشده‌اند.)



(۱) (۵) - (۴) (۲) (۱) - (۳)

(۳) (۱) - (۵) (۴) (۱) - (۵)

۳۴- دانشمندان با مطالعه‌ی فسیل‌ها، درباره‌ی چند مورد از موارد زیر اطلاعات به دست می‌آورند؟

(الف) تغییرات آب و هوا در گذشته

(ب) نوع غذای جانوران قدیمی

(ج) شکل و وضع خشکی‌ها در گذشته

(د) شکل و وضع دریاهای زمین در گذشته

۴ (۴)

۳ (۳)

۲ (۲)

۱ (۱)

۳۵- استخوان‌های ساعد چگونه به حرکت درمی‌آید؟

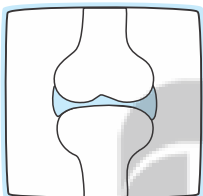
(۱) با کشیده شدن ماهیچه روی ساعد

(۲) با کشیده شدن ماهیچه‌ی روی بازو و روی ساعد

(۳) با تغییر حالت (کوتاه شدن و برگشتن به حالت استراحت) ماهیچه‌ی روی بازو

(۴) با تغییر حالت (کوتاه شدن) ماهیچه‌های ساعد و بازو

۳۶- تصویر زیر نمونه‌ای از ... را نشان می‌دهد که در آن استخوان‌ها با ... به هم وصل شده و بین استخوان‌ها ... وجود دارد.



(۱) غضروف - رشته‌هایی محکم - مفصل‌ها

(۲) مفصل - رشته‌هایی محکم - غضروف

(۳) مفصل - غضروف - رشته‌هایی محکم

(۴) رشته‌هایی محکم - غضروف - مفصل‌ها

۳۷- اختلاف تعداد جمله‌های صحیح و جمله‌های غلط در بین جملات زیر چند است؟

(الف) میلیون‌ها میلیون سلول عصبی در مغز و نخاع وجود دارد.

(ب) نخاع در کنترل فعالیت‌های بدن به مغز کمک می‌کند.

(ج) فقط غضروف‌ها شکل بدن ما را به وجود می‌آورند.

(د) ماهیچه‌ها به غضروف‌ها متصل‌اند و با کشیدن غضروف‌ها باعث حرکت آن‌ها می‌شوند.

(ه) استخوان‌های قسمت‌های مختلف در بدن انسان شکل یکسانی دارند.

(و) مغز و نخاع نرم و آسیب‌پذیرند.

۱ (۴)

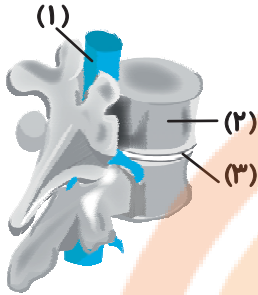
۳ (۳) صفر

۳ (۲)

۲ (۱)



۳۸- بخش‌های (۱)، (۲) و (۳) نشان داده شده در شکل زیر، به ترتیب از راست به چپ کدام‌اند؟



(۱) ستون مهره - غضروف - نخاع

(۲) نخاع - استخوان مهره - غضروف

(۳) ستون مهره - نخاع - غضروف

(۴) نخاع - غضروف - استخوان مهره

۳۹- دیافراگم دوربین عکاسی، دریچه‌ای است که میزان نور ورودی به دوربین را کنترل می‌کند. عملکرد دیافراگم

دوربین شبیه عملکرد کدام بخش چشم است؟

(۱) عدسی

(۲) قرنیه

(۳) مردمک

(۴) شبکیه

۴۰- با توجه به ساختار چشم انسان،.....

(۱) عدسی چشم جلوی مردمک قرار دارد.

(۲) تنها به کمک مردمک، تصویر اجسام روی پرده‌ی شبکیه تشکیل می‌شود.

(۳) قسمت موجود در وسط بخش رنگین چشم، میزان نور ورودی به چشم را تنظیم می‌کند.

(۴) نور برای رسیدن به سوراخ مردمک از هیچ بخش شفاف عبور نمی‌کند.

تمرین تستی آزمون بعدی از کتاب آبی

سوال‌های ۲۸۱ تا ۳۰۵ کتاب مجموعه طبقه‌بندی شده علوم پنجم دبستان (کتاب ۶۸۹۰)

۳ پیمانه - ۲۵ سوال

تمرین تستی آزمون بعدی از کتاب سه سطحی

سوال‌های ۲۸۲ تا ۳۲۴ کتاب سه سطحی علوم پنجم دبستان (کتاب ۵۴۷۳)

۴۳ سوال



دانش آموز عزیز:

در آزمون قبل به چند سؤال از ۱۰ سؤال پاسخ درست دادی؟
فکر می‌کنی در این آزمون به چند سؤال از ۱۰ سؤال پاسخ خواهی داد؟ در جدول زیر بنویس.

چند از ۱۰ آزمون قبل	هدف‌گذاری چند از ۱۰ برای آزمون امروز
---------------------	--------------------------------------

زمان پاسخ‌گویی: ۱۰ دقیقه

فارسی پنجم دبستان

فارسی: صفحه‌های ۴۷ تا ۶۸ / نگارش فارسی: صفحه‌های ۳۳ تا ۴۶

۴۱- در بیت کدام گزینه، واژه‌ای وجود دارد که از نظر ساختاری مانند «کدوبن» است؟

- ۱) بعد از این دست من و دامن آن سرو بلند / که به بالای چمان از بن و بیخم بر کند
- ۲) ای گلبن جوان بر دولت بخور که من / در سایه‌ی تو بلبل باغ جهان شدم
- ۳) به نام طره‌ی دلبند خویش خیری کن / که تا خداهش نگه دارد از پریشانی
- ۴) قوام دولت دنیا محمدبن علی / که می‌درخشده از چهره فرّ یزدانی

۴۲- معنی چند واژه در مقابل آن به درستی بیان شده است؟

«افق: کناره - فرّ: شکوه - باختر: مشرق - لنج: قایق بزرگ موتوری - خرّم: سرسبز - بوم: زیستگاه - استعمار: تسلط

پیدا کردن کشوری ضعیف بر کشوری قوی - چابک: تیزپا،

- | | |
|----------|---------|
| چهار (۱) | پنج (۲) |
| شش (۳) | هفت (۴) |

۴۳- در بیت کدام گزینه، واژه‌ای مشابه «هند دوست» دیده می‌شود؟

- ۱) به من سلام فرستاد دوستی امروز / که ای نتیجه‌ی کلکت سواد بینایی
- ۲) وطن، چار دیوار ملک است و باغ! / وطن دوست جز این، ندارم سراغ
- ۳) هزار دشمنم ار می‌کنند قصد هلاک / گرم تو دوستی از دشمنان ندارم باک
- ۴) دلی را که بر دوستی رهبر است / برون از زبان حجتی دیگر است

۴۴- در کدام گزینه، نادرستی املایی وجود دارد؟

- (۱) حاضران - ضامن - عظیم
- (۲) شهرت طلب - قطره - حرص
- (۳) می غلتید - حیرت آور - محاصره
- (۴) سهمگین - تأثیر گذار - بیرق

۴۵- در جاهای خالی عبارت زیر به ترتیب کدام حروف ربط قرار می گیرند؟

«نظامی‌های هندی از کشتی پیاده شدند..... به دستور فرمانده‌های انگلیسی در شهر نگهبانی می‌دادند..... خوب می‌دانستند..... رئیس‌علی می‌تواند خواب آرام آن‌ها را آشفته کند.»

- (۱) چون - تا - که
- (۲) و - زیرا - تا
- (۳) و - و - که
- (۴) چون - تا - و

۴۶- کدام بیت نادرست است؟

- (۱) ایران، ای کشور بهشت من / روشن از تو سرنوشت من
- (۲) گر آتش بارد به پیکرم / جز مهرت در دل نپرورم
- (۳) مهرت از دل، کی برون کنم؟ / برگو، بی‌مهر تو چون کنم؟
- (۴) مهر تو چون شد پیشه‌ام / دور از تو نیست اندیشه‌ام

۴۷- نویسنده‌ی کدام اثر در مقابل آن نادرست بیان شده است؟

- (۱) حکایت «وطن دوستی»: علی اکبر دهخدا
- (۲) داستان «رئیس‌علی»: نورا حق پرست
- (۳) شعر «ای ایران»: حسین گل گلاب
- (۴) کتاب «پیامبر (ص) قصه می‌گوید»: غلامرضا حیدری

۴۸- با توجه به داستان «رئیس‌علی»، کدام گزینه نادرست است؟

- (۱) زادگاه رئیس‌علی شهر بوشهر بود.
- (۲) رئیس‌علی در مکتب‌خانه قرآن آموخت.
- (۳) از نظر ژنرال انگلیسی، مردم ایران از کسی که قصد خیانت به سرزمینشان را داشته باشد، نمی‌گذرند.
- (۴) رئیس‌علی با اسیران دشمن با جوانمردی رفتار می‌کرد.

۴۹- مفهوم کدام عبارت نادرست بیان شده است؟

۱) خوشا مرز ایران عنبر نسیم / که خاکش گرمی تر از زرّ و سیم (ارزشمند بودن خاک ایران)

۲) هوایش موافق به هر آدمی / زمینش، سراسر پر از خرّمی (آب و هوای مطلوب ایران)

۳) شهیدان، پیچیده در گوش زمان فریادتان (جاودانگی نام شهدا)

۴) سر زد از افق، مهر خاوران (پیروزی ایران بر دشمنان)

۵۰- درباره‌ی داستان «دفاع از میهن»، کدام گزینه نادرست است؟

۱) سلسله‌ی هخامنشی دویست سال نیرومندترین کشور جهان بود.

۲) اسکندر از سرزمین مقدونی با لشکری انبوه به ایران حمله کرد.

۳) آریوبرزن سردار دلاور و میهن دوست ایرانی بود.

۴) آریوبرزن اسکندر را شکست داد و از سقوط حکومت جلوگیری کرد.

پنج بزرگ

تلاشی در مسیر موفقیت



دانش آموز عزیز:

در آزمون قبل به چند سؤال از ۱۰ سؤال پاسخ درست دادی؟
فکر می‌کنی در این آزمون به چند سؤال از ۱۰ سؤال پاسخ خواهی داد؟ در جدول زیر بنویس.

چند از ۱۰ آزمون قبل	هدف‌گذاری چند از ۱۰ برای آزمون امروز
---------------------	--------------------------------------

فارسی پنجم دبستان (سؤال‌های آشنا) **زمان پاسخ‌گویی: ۱۰ دقیقه**

فارسی: صفحه‌های ۴۷ تا ۶۸ / نگارش فارسی: صفحه‌های ۳۳ تا ۴۶

۵۱- در کدام گزینه، کلمه‌های متضاد یا مخالف وجود ندارد؟

- ۱) مه من، خود بگو، تاریک نبود چون مرا دیده/ که در چشم من آن رخساره (چهره) روشن نمی‌آید
- ۲) نه شاخش خشک گردد روز سرما/ نه برگش زرد گردد روز گرما
- ۳) ابر و باد و مه و خورشید و فلک در کارند/ تا تو نانی به کف آری و به غفلت نخوری
- ۴) تو را گم می‌کنم هر روز و پیدا می‌کنم هر شب/ بدین سان (به این صورت) خواب‌ها را با تو زیبا می‌کنم هر شب

۵۲- عبارت‌های کدام گزینه به ترتیب ابیات زیر را کامل می‌کنند؟

«دور از تو اندیشه‌ی بدان /

ای دشمن، ار تو سنگ خارهای، من آهنم /

- ۱) پاینده مانی تو جاودان - از آب و خاک و مهر تو سرشته شد گلم
- ۲) پاینده باد، خاک ایران ما - جان من فدای خاک پاک میهنم
- ۳) پاینده باد، خاک ایران ما - از آب و خاک و مهر تو سرشته شد گلم
- ۴) پاینده مانی تو جاودان - جان من فدای خاک پاک میهنم

۵۳- کدام گزینه نادرست است؟

- ۱) سرود ملی هر کشوری به زبان ملی و رسمی آن سرزمین، نوشته و خوانده می‌شود.
- ۲) زبان فارسی، مانند پرچم کشورمان، باعث ایجاد وحدت و یکپارچگی می‌شود.
- ۳) سرود ملی هر کشوری نشانه‌ی افتخار، استقلال و عظمت یک کشور است.
- ۴) استفاده از زبان‌های محلی، از وحدت زبان فارسی می‌کاهد.

۵۴- چه تعداد از کلمات زیر با کلمه‌ی «دوست» ترکیب می‌شوند و کلمات معنادار جدیدی می‌سازند؟

«امانت - انسان - هنر - پرورش - نزدیک - خوش حال - مال»

(۱) دو (۲) سه

(۳) چهار (۴) یک

۵۵- نشانه‌های «و، ولی، اما» در کدام گزینه نادرست به کار رفته است؟

(۱) زاغ بور گفت: «اگر اجازه بدهی روی شاخه‌هایت استراحت می‌کنم؛ زیرا زود می‌روم.»

(۲) زاغ بور پرواز کرد و رفت تا به جویباری رسید و کنار جویبار، روی تخته‌سنگی نشست.

(۳) زاغ بور از ترس چشمانش را بست؛ اما دیگر نتوانست آن‌ها را باز کند.

(۴) از باغ زیبایی پرندگان، ساحل امن دریا و کوهسار بلند حیوانات، خبری نبود؛ اما قلب زاغ بور از شدت شادی، تند تند می‌زد.

۵۶- از متن زیر کدام گزینه دریافت نمی‌شود؟

«ایران، میهن عزیز و دوست‌داشتنی، در دوران ما نیز هزاران سرباز و سردار شجاع، به خود دیده است؛ مردان و

زنانی که در طول هشت سال جنگ تحمیلی دولت عراق بر ایران، دلاورانه در برابر دشمنان، پایداری ورزیدند و از

اسلام و ایران دفاع کردند.»

(۱) در دوران جنگ ایران و عراق، زنان کشورمان هم در کنار مردان تلاش کردند.

(۲) جنگ ایران و عراق با حمله‌ی کشور عراق آغاز شد.

(۳) نام دلاوران جنگ ایران و عراق همیشه برای ما زنده است.

(۴) در دوران جنگ ایران و عراق، سربازان و سرداران ما از میهن و اسلام دفاع کردند.

۵۷- کدام گزینه، به مفهوم جمله‌ی «آفتاب، هنوز فروغ زرین خود را بر کوه و جلگه نتابانده بود» اشاره دارد؟

(۱) هنوز خورشید طلوع نکرده بود.

(۲) خورشید با پرتوهای نورانی خود، کوه و دشت را نورباران کرده بود.

(۳) گرمای نور خورشید کوه و دشت را در بر گرفته بود.

(۴) خورشید هنوز پرتوهای طلایی خود را از کوه و دشت بر نداشته بود.



۵۸- معنی و مفهوم کدام ضرب المثل نادرست نوشته شده است؟

- ۱) جوینده، یابنده است ← هر که تلاش کند، به آنچه که می‌خواهد، می‌رسد.
- ۲) دشمن، نتوان کوچک و بیچاره شمرد ← نباید دشمنان خود را ضعیف تصور کنیم.
- ۳) سالی که نکوست، از بهارش پیداست ← ابتدای هر کاری را باید با امیدواری شروع کرد تا به نتیجه رسید.
- ۴) با یک گل بهار نمی‌شود ← برای رسیدن به هدف اگر تنها یک نفر کار خود را درست انجام دهد، کافی نیست؛ بلکه همه باید به درستی کار کنند.

۵۹- سرود ملی کشور ما، با چه مفهومی پایان می‌یابد؟

- ۱) دعا برای آزادی و استقلال کشور
- ۲) دعا برای پایداری و جاودانگی ملت و کشور
- ۳) دعا برای پایداری و صلح همیشگی در کشور
- ۴) دعا برای سازندگی و سربلندی فرزندان کشور

۶۰- کدام بیت با سایر ابیات ارتباطی ندارد؟

- ۱) چو ایران نباشد، تن من مباد / بدین بوم و بر، زنده یک تن مباد
- ۲) چو رسد دشمنی برای وطن / جان و دل رایگان بیفشانیم
- ۳) همه سر به سر تن به کشتن دهیم / از آن به که کشور به دشمن دهیم
- ۴) پس از کردگار جهان آفرین / به تو دارد امید، ایران زمین

تمرین تستی آزمون بعدی از کتاب سه سطحی

سوال‌های ۱۸۶ تا ۲۵۵ کتاب سه سطحی فارسی پنجم دبستان (کد کتاب ۵۴۵۸)

۷۰ سوال

زمان پاسخ‌گویی: ۵ دقیقه

مطالعات اجتماعی - صفحه‌های ۲۷ تا ۴۸

۶۱- زعفران، از جمله گیاهانی است که در استان گیلان کشت و در آزادراه‌ها خطر تصادف خودروها از روبه‌رو است.

- (۱) می‌شود - بیش‌تر
(۲) نمی‌شود - کمتر
(۳) نمی‌شود - بیش‌تر
(۴) می‌شود - کمتر

۶۲- کدام گزینه نادرست است؟

- (۱) صنایع مادر کالاهایی تولید می‌کنند که مردم آن‌ها را نمی‌خرند و از آن‌ها به‌طور مستقیم استفاده نمی‌کنند.
(۲) در گذشته‌های دور، اغلب مردم چیزهایی را که به آن‌ها نیاز داشتند، خودشان در خانه یا کارگاه‌های کوچک تولید می‌کردند.
(۳) در کارخانه‌های ماشین‌سازی، ماشین‌آلات و ابزار، دیگ بخار و جرثقیل برای سایر کارخانه‌ها تولید می‌شود.
(۴) پس از استان تهران، استان خراسان رضوی است که بیش‌ترین صنایع مصرفی را در خود جای داده است.

۶۳- تعریف درست بازرگانی کدام است؟ (بهترین گزینه را انتخاب کنید.)

- (۱) به جابه‌جایی کالاها از طریق وسایل حمل‌ونقل، بازرگانی می‌گویند.
(۲) به فروش کالاهایی که در یک ناحیه تولید شده‌اند، در ناحیه‌ای دیگر، بازرگانی می‌گویند.
(۳) به خرید و فروش کالا از طریق دریا، بازرگانی می‌گویند.
(۴) به خرید و فروش کالا در داخل یک کشور یا با کشورهای دیگر، بازرگانی می‌گویند.

۶۴- چه تعداد از عبارتهای زیر نادرست است؟

- (الف) قطارها ممکن است مسافربری یا مخصوص حمل بار باشند.
(ب) پس از این‌که راهبر ترمز قطار را می‌کشد، قطار ۸۰۰ تا ۱۰۰۰ متر جلو می‌رود و بعد به‌طور کامل توقف می‌کند.
(ج) حمل‌ونقل با کشتی و از راه دریا بسیار گران است.
(د) بخش عمده‌ی صادرات و واردات کشور ما از طریق بندرها صورت می‌گیرد.
(ه) قالی، خشکبار و مس از جمله صادرات کشور ایران است.

- (۱) یک
(۲) دو
(۳) سه
(۴) چهار

۶۵- تعریف کدام کلمه نادرست بیان شده است؟

- (۱) آب‌های زیرزمینی: بخشی از آب حاصل از برف و باران به داخل زمین فرو می‌رود و آب‌های زیرزمینی را تشکیل می‌دهد.
(۲) قنات: یک تونل زیرزمینی است که آب در آن خود به خود از مناطق پرآب به نواحی کم‌آب جاری می‌شود.
(۳) چشمه: در بعضی نواحی آب حاصل از برف و باران در سطح زمین جاری می‌شود و چشمه را به‌وجود می‌آورند.
(۴) رودهای فصلی و موقت: رودهایی هستند که در هنگام تابستان و با شروع فصل گرما خشک می‌شوند.

تمرین تستی آزمون بعدی از کتاب سه سطحی

سوال‌های ۶۷ تا ۱۱۶ کتاب سه سطحی مطالعات و هدیه‌های آسمانی پنجم دبستان (کد کتاب ۵۴۴۰)

۵۰ سوال



هدیه‌های آسمان - صفحه‌های ۴۲ تا ۶۲

زمان پاسخ‌گویی: ۵ دقیقه

۶۶- با توجه به سخن امام علی (ع)، بهترین ماه سال، بهترین شب سال و بهترین روز هفته به ترتیب در کدام گزینه آمده است؟

(۱) محرم - جمعه - شنبه

(۲) رمضان - قدر - جمعه

(۳) محرم - قدر - جمعه

(۴) رمضان - جمعه - شنبه

۶۷- با توجه به درس «مال مردم»، کدام گزینه صحیح است؟

(۱) موقع خرید آجیل می‌توانیم مقداری از آن را بخوریم و پولش را ندهیم.

(۲) اگر بعد از خرید خود متوجه شویم که مغازه‌دار کمتر پول گرفته، نیاز به رسیدگی نیست.

(۳) از پولی که پیدا کرده‌ایم، می‌توانیم به افراد نیازمند کمک کنیم.

(۴) پدر علی کارمند است و می‌تواند در مأموریت‌هایش از خودروی اداره استفاده کند.

۶۸- مفهوم آیه‌ی زیر در کدام گزینه آمده است؟

«وَلَا تَعَاوَنُوا عَلَى الْإِثْمِ وَالْعُدْوَانِ»

(۱) مسخره نکردن

(۲) فرو بردن خشم

(۳) کمک نکردن به یکدیگر در کارهای بد

(۴) پرهیز از گمان

۶۹- آیه‌ی شریفه‌ی زیر، مردم را به چه کاری در روز جمعه تشویق می‌کند؟

«يَا أَيُّهَا الَّذِينَ آمَنُوا إِذَا نُودِيَ لِلصَّلَاةِ مِنْ يَوْمِ الْجُمُعَةِ فَاسْعَوْا إِلَىٰ ذِكْرِ اللَّهِ»

(۱) دیدار خویشاوندان

(۲) عیادت از بیماران

(۳) زیارت اهل قبور

(۴) خواندن نماز جمعه

۷۰- کدام گزینه از تفاوت‌های نماز صبح و نماز جمعه نیست؟

(۱) در رکعت اول نماز جمعه، ابتدا نیت می‌کنیم.

(۲) نماز صبح خطبه و سخنرانی ندارد.

(۳) نماز جمعه دو قنوت دارد.

(۴) در رکعت دوم نماز جمعه، پس از حمد و سوره ابتدا به رکوع می‌رویم و بعد قنوت خوانده می‌شود.

تمرین تستی آزمون بعدی از کتاب سه سطحی

سوال‌های ۲۸۱ تا ۳۰۶ کتاب سه سطحی مطالعات و هدیه‌های آسمانی پنجم دبستان (کتاب ۵۴۴۰)

سوال ۲۶

پنجم دبستان

۲ دی ۱۴۰۱

تعداد کل سؤال‌های دفترچه‌ی پیشرفته: ۳۰ سؤال
مدت زمان پاسخ‌گویی به آزمون: ۴۰ دقیقه

نام درس	تعداد سؤال	شماره‌ی سؤال	وقت پیشنهادی
هوش و استعداد	۳۰	۷۱ - ۱۰۰	۴۰ دقیقه

مطراحان	هوش و استعداد
کمال بروستان، مریم موسی‌زادگان، حبیب یزدی، رحمان آقایی، مهدی ملارمضانی، سالار حسن‌زاده، سجاد نجفی، سحر سلیمی، سهیلا چهره‌نگار، سمانه دهقان	

گزینشگران و ویراستاران	نام درس	مسئولین درس آزمون	ویراستاران آزمون	مسئولین درس مستندسازی	ویراستاران مستندسازی
هوش و استعداد	سالار حسن‌زاده	حمیدرضا رحیم‌خانلو	نگین رحیمی	علیرضا زارعی محسن دستجردی	

مدیر تولید آزمون	مسئول دفترچه‌ی آزمون	امور کامپیوتری و صفحه‌آرا	مدیر گروه مستندسازی	مسئول دفترچه‌ی مستندسازی	ناظر چاپ
علیرضا خورشیدی	فرزانه میرزاکاظم	مهناز ستاری	مازیار شیروانی مقدم	نگین رحیمی	حمید عباسی

گروه فنی تولید

بنیاد علمی آموزشی قلم‌چی (وقف عام)

دفتر مرکزی: خیابان انقلاب - بین صبا و فلسطین - پلاک ۹۲۳ - تلفن: ۶۴۶۳ - ۰۲۱

دانش آموز عزیز:

در آزمون قبل به چند سؤال از ۱۰ سؤال پاسخ درست دادی؟
فکر می‌کنی در این آزمون به چند سؤال از ۱۰ سؤال پاسخ خواهی داد؟ در جدول زیر بنویس.

چند از ۱۰ آزمون قبل	هدف‌گذاری چند از ۱۰ برای آزمون امروز
---------------------	--------------------------------------

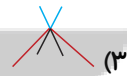
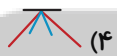
زمان پاسخ‌گویی: ۴۰ دقیقه

هوش و استعداد

۷۱- کاغذی را چند بار تا کرده و قسمتی از آن را برش داده‌ایم، بعد از باز کردن کاغذ از قسمت‌های تا شده کدام یک از گزینه‌های زیر دیده خواهد شد؟



۷۲- به جای علامت سؤال کدام گزینه قرار می‌گیرد؟



۷۳- رابطه‌ی مهر به آذر مانند رابطه‌ی ... است.

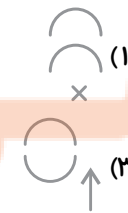
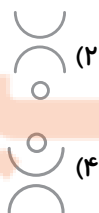
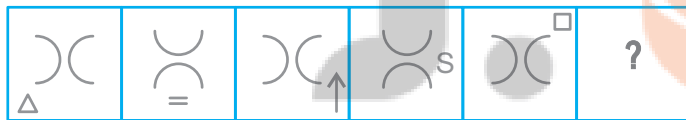
(۲) اسفند به خرداد

(۱) خرداد به تیر

(۴) دی به بهمن

(۳) تیر به شهریور

۷۴- با توجه به الگوی شکلی داده شده، به جای علامت سؤال کدام یک قرار می‌گیرد؟



۷۵- به جای علامت سؤال کدام گزینه قرار می گیرد؟

		?

(۱)

(۲)

(۳)

(۴)

۷۶- متن زیر به شکل نامرتب آمده است، اگر آن را مرتب کنیم، چهارمین عبارت کدام است؟

- الف) در رویکرد جدید ضمن حفظ این هدف تأکید اصلی بر پرورش قوه‌ی تفکر و تعقل و حل مسئله است
- ب) ولی مدنظر قرار دادن چنین هدفی می‌تواند جهت اصلی حرکت جامعه‌ی آموزش ریاضی را تعیین کند
- ج) اگرچه رسیدن به چنین هدفی با موانع و مشکلات فراوان روبه‌روست
- د) زمانی تأکید کتاب‌های درسی ریاضی بیشتر بر انجام محاسبات بوده است

- (۱) ج
- (۲) الف
- (۳) ب
- (۴) د

۷۷- کاغذی را چند بار تا کرده و قسمتی از آن را برش داده‌ایم، بعد از باز کردن کاغذ از قسمت‌های تا شده کدام

یک از گزینه‌های زیر دیده خواهد شد؟

(۱)

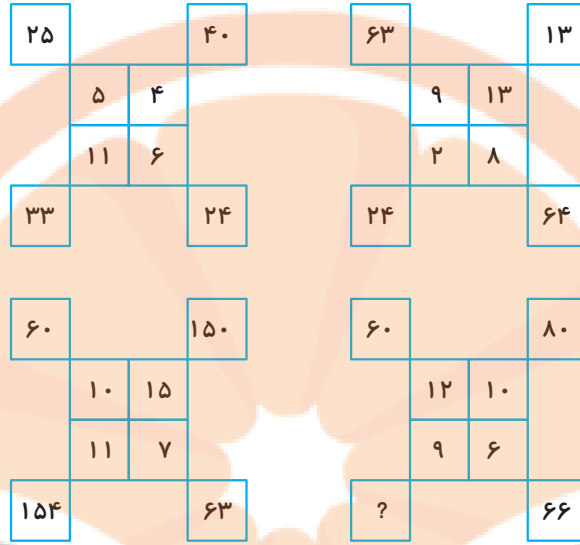
(۲)

(۳)

(۴)



۷۸- با توجه به نظم موجود در اعداد زیر به جای علامت سؤال کدام گزینه قرار می‌گیرد؟



۸۱ (۴)

۸۴ (۳)

۹۹ (۲)

۹۰ (۱)

۷۹- در سؤال زیر طبق الگوی داده‌شده گزینه‌ی مناسب را به جای علامت سؤال انتخاب کنید.

گلاب (لبریز) زیر گذر / کاشمر (امروز)؟

زرین (۴)

زورمند (۳)

زودپز (۲)

روزی (۱)

۸۰- در بین رقم‌های زیر، چند رقم زوج بین دو رقم فرد قرار دارد؟

۳ ۲ ۵ ۶ ۷ ۵ ۴ ۳ ۵ ۲ ۹ ۴ ۷ ۸ ۸ ۶ ۵ ۴ ۳ ۲ ۱ ۰ ۹ ۵ ۱ ۶

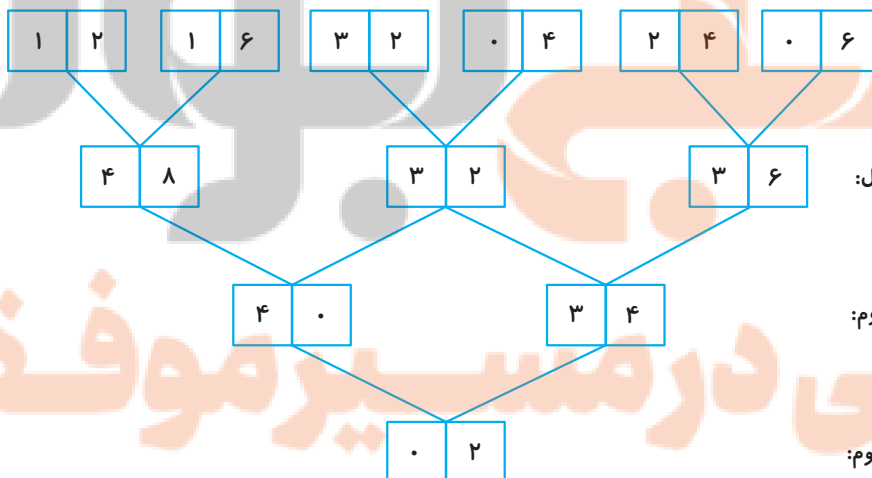
۹ (۴)

۷ (۳)

۸ (۲)

۱۰ (۱)

مطابق نمونه یک ماشین اعداد ورودی را دریافت و پس از محاسبه در چند گام خروجی را در اختیار قرار می‌دهد.



گام اول:

گام دوم:

گام سوم:



۹۰- با توجه به متن، چه تعداد از موارد زیر جزء فرهنگ محسوب می‌شوند؟

«آیین نماز جمعه / نگاره‌ی عصر عاشورا اثر استاد محمود فرشچیان / شاهنامه‌ی فردوسی / کشف الکل توسط زکریای رازی»

(۱) سه (۲) یک (۳) چهار (۴) دو

۹۱- رابطه‌ی بین «دست و چنگال» مانند رابطه‌ی «شاخه و.....» است.

(۱) ریشه (۲) دست (۳) گل (۴) درخت

۹۲- در سری اعداد داده شده در زیر اگر تا صدمین عدد ادامه دهیم، کدام عدد ۳ تا کمتر از عدد سمت چپ

پنجمین عدد سمت چپ عددی است که در سمت چپ یکی مانده به آخرین عدد قرار گرفته است؟

۱, ۴, ۷, ۱۰, ۱۳, ۱۶, ۱۹, ۲۲, ...

(۱) ۲۷۷ (۲) ۲۷۱ (۳) ۲۷۴ (۴) ۲۸۰

یک ماشین داریم که می‌تواند حروف الفبای فارسی را بگیرد و پس از انجام عملیاتی روی آن حروف، حروف خروجی هر مرحله را بسازد. این ماشین در گام بعدی، حروف خروجی یک مرحله را گرفته و با آن‌ها حروف خروجی مرحله‌ی بعد را می‌سازد.

با توجه به پردازش و کاری که این ماشین روی حروف ورودی‌اش انجام می‌دهد، به پرسش‌های ۹۳ و ۹۴ پاسخ دهید:

ص	گ	ی	ل	س	و	د	ع	ورودی
ص	گ	ل	س	و	د	ع	ی	مرحله‌ی ۱
ص	گ	ل	س	د	ع	و	ی	مرحله‌ی ۲
ص	گ	س	د	ع	ل	و	ی	مرحله‌ی ۳
ص	س	د	ع	گ	ل	و	ی	مرحله‌ی ۴
س	د	ص	ع	گ	ل	و	ی	مرحله‌ی ۵

۹۳- اگر مرحله‌ها تا پایان کار این ماشین پیش برود، در آخرین مرحله هفتمین حرف از سمت چپ کدام خواهد بود؟

(۱) د (۲) ص

(۳) س (۴) ع

۹۴- مرحله‌ی سوم برای زنجیره‌ی حروف زیر در کدام گزینه آمده است؟

ر	خ	ذ	ف	ش	و	ط	م	ورودی
---	---	---	---	---	---	---	---	-------

(۱) خ ذ ر ش ط ف م و (۲) ر خ ذ ش ط ف م و

(۳) خ ذ ر ش ط ف م و (۴) ر ذ خ ش ط ف م و



۹۵- رقم یکان حاصل کدام یک از گزینه‌های زیر با بقیه متفاوت است؟

(۱) حاصل ضرب اعداد یک رقمی فرد

(۲) حاصل ضرب اعداد دو رقمی فرد

(۳) حاصل جمع اعداد دو رقمی فرد

(۴) حاصل جمع اعداد فرد کمتر از ۲۰۰

در سری سؤالات زیر برای هر سؤال قوانینی مطرح شده است. گزینه‌ای را که از این قانون پیروی می‌کند، انتخاب نمایید.

۹۶- جمع رقم‌های زوج بیشتر از جمع رقم‌های فرد باشد.

(۱) ۱۲۳۴۵۶۷۹۸

(۲) ۲۵۸۲۵۸۲۵۸

(۳) ۱۳۲۱۳۲۱۳۲

(۴) ۱۹۶۱۷۴۱۵۲

۹۷- تعداد رقم‌های زوج آن با تعداد رقم‌های فرد آن برابر باشد.

(۱) ۲۵۸۱۴۷۳۶۹

(۲) ۷۸۹۴۵۶۱۲۳

(۳) ۲۴۸۶۱۵۹۷۳

(۴) ۵۲۷۴۹۶۵۶

۹۸- رقم‌های مشترک بین اعداد دو طرف گزینه همگی باشند.

(۱) ۲۵۸۹۶۵۴۷

(۲) ۵۶۸۹۶۳۲۱

(۳) ۲۴۸۶۱۵۹۳۷

(۴) ۲۰۶۸۳۲۸۶۰

(۵) ۱۲۳۱۲۴۳۲۵

(۶) ۲۶۰۱۳۵۸۶۰

(۷) ۱۳۲۶۰۴۸۲۱

(۸) ۲۸۹۵۰۴۸۶

۹۹- جمع رقم‌های آن عددی فرد باشد.

(۱) ۱۲۳۴۶۵۷۸۹

(۲) ۲۴۸۶۱۳۵۹

(۳) ۵۹۷۱۳۵۶

(۴) ۵۹۱۵۳۵۵۷

۱۰۰- حاصل از بقیه‌ی گزینه‌ها کوچک‌تر باشد.

(۱) اختلاف بزرگ‌ترین عدد سه رقمی غیر تکراری با کوچک‌ترین عدد ۴ رقمی غیر تکراری

(۲) اختلاف بزرگ‌ترین عدد سه رقمی زوج غیر تکراری با کوچک‌ترین عدد ۴ رقمی فرد غیر تکراری

(۳) اختلاف بزرگ‌ترین عدد سه رقمی زوج غیر تکراری با کوچک‌ترین عدد ۴ رقمی زوج غیر تکراری

(۴) اختلاف بزرگ‌ترین عدد سه رقمی مضرب ۵ غیر تکراری با کوچک‌ترین عدد ۴ رقمی مضرب ۵ غیر تکراری




تلاشی در مسیر موفقیت



- دانلود گام به گام تمام دروس ✓
- دانلود آزمون های قلم چی و گاج + پاسخنامه ✓
- دانلود جزوه های آموزشی و شب امتحانی ✓
- دانلود نمونه سوالات امتحانی ✓
- مشاوره کنکور ✓
- فیلم های انگیزشی ✓

 www.ToranjBook.Net

 [ToranjBook_Net](https://t.me/ToranjBook_Net)

 [ToranjBook_Net](https://www.instagram.com/ToranjBook_Net)