


تلاشی در مسیر موفقیت



- دانلود گام به گام تمام دروس ✓
- دانلود آزمون های قلم چی و گاج + پاسخنامه ✓
- دانلود جزوه های آموزشی و شب امتحانی ✓
- دانلود نمونه سوالات امتحانی ✓
- مشاوره کنکور ✓
- فیلم های انگیزشی ✓

 Www.ToranjBook.Net

 [ToranjBook_Net](https://t.me/ToranjBook_Net)

 [ToranjBook_Net](https://www.instagram.com/ToranjBook_Net)

نام و نام خانوادگی:.....
 مقطع و رشته: دوازدهم انسانی
 نام پدر:.....
 شماره داوطلب:.....
 تعداد صفحه سؤال: ۲ صفحه

جمهوری اسلامی ایران
 اداره ی کل آموزش و پرورش شهر تهران
 اداره ی آموزش و پرورش شهر تهران منطقه ۶ تهران
 دبیرستان غیردولتی دخترانه سرای دانش واحد فلسطین
 آزمون میان ترم اول سال تحصیلی ۱۴۰۱-۱۴۰۰

نام درس: جغرافیای (۳)
 نام دبیر: حبیبه محبی
 تاریخ امتحان: ۱۵ / ۸ / ۱۴۰۰
 ساعت امتحان: ۳۰ : ۰۹ صبح / عصر
 مدت امتحان: ۹۰ دقیقه

ردیف	سؤالات	نمره
۱	<p>درستی یا نادرستی عبارت های زیر را مشخص کنید.</p> <p>(الف) در انتخاب مکان برای استقرار و سکونت جمعیت، عوامل انسانی بیشترین نقش را دارند. (ب) امروزه تحقق شهر پایدار هدف اصلی مدیران و برنامه ریزان شهری است. (پ) ماهیت حمل و نقل اساساً اقتصادی است. (ت) قاره اروپا گسترده ترین شبکه خط آهن را در بین قاره های جهان دارد.</p>	۱
۱	<p>عبارت های زیر را با کلمات مناسب پر کنید.</p> <p>(الف) مهم ترین ملاک تفاوت شهر و روستا آنها است. (ب) درآمد کم، بیکاری و مسکن نامناسب و حاشیه نشینی به منجر می شود. (پ) بخش های پیرامونی یک شهر است. (ت) میزان مصرف سوخت و آلاینده های محیط زیست در شیوه حمل و نقل بسیار زیاد است.</p>	۱
۱	<p>کلمه مناسب را از داخل پرانتز انتخاب کنید.</p> <p>(الف) وضعیت یک سکونتگاه نسبت به پدیده های پیرامون خود در سطح ناحیه را (مقر / موقعیت) می گویند. (ب) مدیریت روستاها بر عهده (دهداری / دهیاری ها) و شوراهای اسلامی روستاهاست. (پ) در اوایل قرن نوزدهم، نخستین لوکوموتیوهای مجهز به بخار آب در (انگلستان / آلمان) ساخته شد. (ت) تنها خط برقی کشور، خط (تهران - مشهد / جلفا - تبریز) است.</p>	۱
۱	<p>به سوالات چهارگزینه ای زیر پاسخ دهید.</p> <p>(الف) در سال ۱۹۵۰ کدام شهر بیش از ۸ میلیون نفر جمعیت داشت؟ (۱) پاریس (۲) پکن (۳) لندن (۴) توکیو (ب) تهیه طرح های هادی از وظایف کدام نهاد است؟ (۱) جهاد سازندگی (۲) بنیاد مسکن انقلاب اسلامی (۳) کمیته امداد امام خمینی (۴) بنیاد مستضعفان (پ) مهم ترین پدیده های مربوط به تغییرات الگوی شهرنشینی در جهان کدام است؟ (۱) افزایش جمعیت شهرهای چندمیلیونی (۲) مگالاپلیس (۳) حومه نشینی (۴) دامنه نفوذ (ت) طولانی ترین خط تندرو متعلق به کدام کشور است؟ (۱) ژاپن (۲) آمریکا (۳) آلمان (۴) چین</p>	۱
۱	<p>عبارت های سمت راست را به عبارت مربوط به آن در سمت چپ متصل کنید.</p> <p>(الف) بزرگ ترین و مهم ترین شهر یک ناحیه (ب) شهرهایی با مشارکت زیاد در اقتصاد و تجارت جهانی (پ) استفاده از انواع حس گرها در این گونه شهرها (ت) مجموعه وسیعی از اشیاء، دستگاه ها و نمادها و عناصر نصب شده در شهرها</p> <p>(۱) شهر هوشمند (۲) مبلمان شهری (۳) مادرشهر (۴) جهان شهر</p>	۱
به سوالات زیر پاسخ کوتاه دهید:		
۰/۵	یک مورد از کارهایی که برای سروسامان بخشیدن به مشاغل غیررسمی صورت می گیرد، را ذکر کنید.	۶
۰/۵	حاشیه نشینی و زاغه نشینی جلوه هایی از کدام پدیده است که در نتیجه مشکل مسکن در اطراف شهرهای بزرگ رخ می دهد؟	۷
۰/۵	کدام دسته از تغییرات محیطی موجب از دست رفتن موقعیت و اعتبار یک شهر می گردد؟	۸
۰/۵	در ایران به چه شهرهایی کلان شهر می گویند؟	۹

۰/۵	منظور از اصطلاح شهرنشینی چیست؟	۱۰
۰/۵	داده ها و اطلاعات دو مولفه دارند. آنها را بنویسید.	۱۱
۰/۵	معماری و طراحی شهر بازتاب چیست؟	۱۲
۰/۵	به چه علت خدمات رسانی به برخی از روستاها دشوار است؟	۱۳
۰/۵	دو مورد از عوامل گسترش و تحول در صنعت حمل و نقل در نیم سال اخیر را ذکر کنید.	۱۴
۰/۵	منظور از قطارهای پرسرعت چیست؟	۱۵
به سوالات زیر پاسخ کامل دهید:		
۱	در زمینه بررسی حوزه نفوذ عملکرد یک سکونتگاه به چه جنبه هایی توجه می شود؟ توضیح دهید.	۱۶
۱	مهم ترین عوامل شکل گیری هسته اولیه روستاها و شهرها در ایران کدام اند؟	۱۷
۱	فرهنگ و مناسبات اجتماعی در شهرها و روستاها را با هم مقایسه کنید.	۱۸
۱	منظور از آمایش سرزمین چیست؟	۱۹
۱	شهر پایدار چگونه شهری است؟	۲۰
۱	در طرح های هادی روستایی چه مسائلی معین می شود؟	۲۱
۱	چهار مورد از قابلیت های GIS را بیان کنید.	۲۲
۱	چهار مورد از جنبه های مختلف اهمیت حمل و نقل در زندگی جوامع را نام ببرید.	۲۳
۱	محاسن حمل و نقل جاده ای را نام ببرید. (۴ مورد)	۲۴
۱	جغرافیای حمل و نقل چگونه علمی است؟	۲۵
صفحه ی ۲ از ۲		

اداره ی کل آموزش و پرورش شهر تهران
 اداره ی آموزش و پرورش شهر تهران منطقه ۶ تهران
دبیرستان غیر دولتی دخترانه سرای دانش واحد فلسطین
کلید سؤالات میان ترم اول سال تمصیلی ۱۴۰۱-۱۴۰۰



نام درس: جغرافیا (۳)
 نام دبیر: مبینه ممبئی
 تاریخ امتحان: ۱۵/۸/۱۴۰۰
 ساعت امتحان: صبح / عصر
 مدت امتحان: ۹۰ دقیقه

ردیف	راهنمای تصحیح	محل مهر یا امضاء مدیر
۱	الف) غ (۰/۲۵) ب) ص (۰/۲۵) پ) غ (۰/۲۵) ت) ص (۰/۲۵)	
۲	الف) فعالیت اقتصادی (۰/۲۵) ب) فقر شهری (۰/۲۵) پ) حومه (۰/۲۵) ت) جاده ای (۰/۲۵)	
۳	الف) موقعیت (۰/۲۵) ب) دهیاری ها (۰/۲۵) پ) انگلستان (۰/۲۵) ت) جلفا - تبریز (۰/۲۵)	
۴	الف) گزینه «۳» (۰/۲۵) ب) گزینه «۲» (۰/۲۵) پ) گزینه «۱» (۰/۲۵) ت) گزینه «۴» (۰/۲۵)	
۵	الف) ۳ (۰/۲۵) ب) ۴ (۰/۲۵) پ) ۱ (۰/۲۵) ت) ۲ (۰/۲۵)	
۶	حمایت از کارآفرینان	
۷	اسکان غیررسمی	
۸	رویدادهای سیاسی، تغییرات آب و هوایی	
۹	شهرهای بیش از ۱ میلیون نفر جمعیت	
۱۰	افزایش نسبت جمعیت شهرهای یک کشور یا ناحیه به روستاهای آن	
۱۱	داده های مکانی - داده های توصیفی	
۱۲	فرهنگ و هویت شهروندان	
۱۳	پراکندگی و دورافتادگی یا شرایط سخت طبیعی	
۱۴	افزایش جمعیت و تقاضا برای حمل و نقل - گسترش تجارت و اقتصاد جهانی	
۱۵	قطارهایی که بیش از ۲۰۰ کیلومتر در ساعت سرعت دارند.	
۱۶	آستانه جمعیتی نفوذ و دامنه نفوذ	
۱۷	دسترسی به آب، قلعه های دفاعی، بازارهای محلی، قرار گرفتن در تقاطع راه ها	
۱۸	در روستاها جمعیت کمتر و افراد بیشتر همدیگر را می شناسند . در شهرها نوگرایی و تغییرات بیشتر و سریع تر است.	
۱۹	تنظیم رابطه انسان، فضای جغرافیایی و فعالیت	
۲۰	شهری که در آن نیازهای اجتماعی، فرهنگی و اقتصادی ساکنان به طور مناسب و عادلانه برطرف می شود؛ بدون اینکه منافع نسل های آینده به خطر بیفتد و شهر و فعالیت های شهری کمترین تأثیر نامطلوب را بر محیط زیست دارد.	
۲۱	کاربری اراضی روستا شناسایی و نقشه های وضع موجود آن تهیه می شود.	
۲۲	قابلیت دسته بندی و برقراری ارتباط منطقی و ریاضی بین انواع اطلاعات - امکان به روز کردن اطلاعات در همه بخش ها - مکان یابی - توانایی محاسبات آماری و ریاضی	
۲۳	اقتصادی - اجتماعی - سیاسی و دفاعی - زیست محیطی	

۲۴	انعطاف پذیری بیشتر - احداث پایانه کم هزینه تر - مناسب برای مسافت های کوتاه - مناسب برای مکان های دورافتاده و روستاها
۲۵	شاخه ای از دانش جغرافیاست که جابجایی انسان، بار و اطلاعات را در سطح زمین مطالعه می کند و به بررسی الگوهای پراکندگی و شیوه های حمل و نقل و تأثیرات آنها بر محیط به منظور برنامه ریزی و مدیریت مطلوب منطقه ای می پردازد.



سازمان اسناد و کتابخانه ملی جمهوری اسلامی ایران


تلاشی در مسیر موفقیت

نام و نام خانوادگی:.....
 مقطع و رشته: دوازدهم انسانی
 نام پدر:.....
 شماره داوطلب:.....
 تعداد صفحه سؤال: ۲ صفحه

جمهوری اسلامی ایران
 اداره ی کل آموزش و پرورش شهر تهران
 اداره ی آموزش و پرورش شهر تهران منطقه ۶ تهران
 دبیرستان غیردولتی دخترانه سرای دانش واحد فلسطین
 آزمون پایان ترم نوبت اول سال تحصیلی ۱۴۰۱-۱۴۰۰

نام درس: جغرافیا ۳
 نام دبیر: خانم محبی
 تاریخ امتحان: ۱۴ / ۱۰ / ۱۴۰۰
 ساعت امتحان: ۰۸:۰۰ صبح / عصر
 مدت امتحان: ۹۰ دقیقه

نمره به عدد:		نمره به حروف:	
نمره به عدد:		نمره به حروف:	
نام دبیر:		نام دبیر:	
تاریخ و امضا:		تاریخ و امضا:	
محل مهر و امضا: مدیر			
ردیف	سؤالات	ردیف	سؤالات
۳	<p>درستی یا نادرستی گزاره‌ها (ص / غ):</p> <p>الف) امروز توسعه روستایی صرفاً به توسعه کشاورزی محدود می‌شود. ()</p> <p>ب) هر چه حجم محموله بیشتر باشد، هزینه حمل آن کمتر می‌شود. ()</p> <p>پ) در انتخاب مکان برای استقرار و سکونت جمعیت، عوامل سیاسی بیشترین نقش را داشته است. ()</p> <p>ت) در طراحی مبلمان شهری باید به نیازهای شهروندان توجه شود. ()</p> <p>ث) تنوع عملکرد سکونتگاه‌ها سبب تغییر جایگاه آنها، در رتبه‌بندی بر حسب اهمیت، می‌شود. ()</p> <p>ج) انتخاب مکان مناسب برای استقرار و سکونت جمعیت، به عوامل طبیعی، وابسته است. ()</p>	۳	<p>جملات کامل کردنی:</p> <p>الف) در روستاها فضاهای باز و چشم‌اندازهای طبیعی ... و ... است.</p> <p>ب) شیوه حمل و نقل ... برای حمل کالاهایی مانند تجهیزات الکترونیکی مناسب‌تر است.</p> <p>پ) در رتبه‌بندی سکونتگاه‌های ایران، بر حسب اهمیت، روستاها در ... هرم، قرار می‌گیرند.</p> <p>ت) میزان مصرف سوخت و آلاینده‌های محیط در شیوه حمل و نقل ... بسیار زیاد است.</p> <p>ث) در سامانه اطلاعات جغرافیایی، اطلاعات با توجه به ... و ... پردازش و تجزیه و تحلیل فضایی و مدل‌سازی می‌شود.</p> <p>ج) در کشور ایران به مادرشهرهایی که بیش از یک میلیون نفر جمعیت داشته باشد، ... گفته می‌شود.</p>
۲	<p>انتخاب گزینه صحیح:</p> <p>الف) مکان اصلی و هسته اولیه شهر یا روستا چه نام دارد؟ (۱) مقر (۲) موقعیت (۳) مکان (۴) موارد الف و ج</p> <p>ب) طولانی‌ترین خطوط لوله نفت و گاز در میان کشورهای عضو اوپک مربوط به کدام کشور است؟ (۱) عربستان (۲) عراق (۳) قطر (۴) ایران</p> <p>پ) چه عواملی به فقر شهری منجر می‌شود؟ (۱) درآمد کم (۲) بیکاری (۳) مسکن نامناسب (۴) همه موارد</p> <p>ت) نخستین لوکوموتیوهای مجهز به موتور بخار در چه زمانی و در چه کشوری ساخته شدند؟ (۱) اوایل قرن بیستم - آمریکا (۲) اوایل قرن نوزدهم - آلمان (۳) قرن بیستم - فرانسه (۴) اوایل قرن نوزدهم - انگلستان</p>		

۲		<p>الف) طرح و اجرای طرح‌های روستایی از وظایف مهم این نهاد است.</p> <p>ب) یکی از بخش‌های مهم برنامه‌ریزی شهری است.</p> <p>پ) برای جلب همکاری و مشارکت مردم در مدیریت شهری و روستایی به وجود آمدند.</p> <p>ت) به حداقل رساندن آلودگی و تخریب محیط‌زیست از ارکان مهم آن است.</p>	<p>جور کردنی:</p>
۲			<p>پاسخ کوتاه:</p> <p>الف) دو مورد از دلایل اهمیت استفاده از انواع حسگرها را در شهر هوشمند، نام ببرید. (۰/۵)</p> <p>ب) به چه علت در حمل و نقل از طریق خطوط لوله، بر سر لوله‌ها، ایستگاه‌های پمپاژ وجود دارد؟ (۰/۵)</p> <p>پ) منظور از شهرگرایی چیست؟ (۰/۵)</p> <p>ت) مهم‌ترین تفاوت‌های شهر و روستا از نظر فرهنگ و مناسبات اجتماعی را بنویسید. (دو مورد کافی است). (۰/۵)</p>
۱			<p>انتخاب کنید:</p> <p>الف) به شهرهایی که به سبب نقش مهم آنها در اقتصاد و تجارت جهانی حوزه نفوذ بسیار وسیعی دارند، (جهان‌شهر / کلان‌شهر) می‌گویند.</p> <p>ب) برای حمل و جابجایی مواد پتروشیمی از کشتی‌های باربری (کانتینری / فله‌بر) استفاده می‌شود.</p>
۴			<p>پاسخ بلند:</p> <p>الف) چرا مادرشهر «الف» نسبت به سایر سکونتگاه‌ها در استان ترسیم شده، برتری دارد؟</p> <p>ب) چگونه مردم می‌توانند بر فعالیت نهادهای مدیریتی نظارت کنند؟</p> <p>پ) مهم‌ترین ویژگی‌های مگالاپلیس‌ها را بنویسید.</p> <p>ت) دلایل رشد سریع شهرنشینی در آسیا و آفریقا را بنویسید.</p>
۳			<p>اصطلاحات:</p> <p>الف) مبلمان شهری:</p> <p>ب) زاغه‌نشینی:</p> <p>ج) آمایش سرزمین:</p>



اداره ی کل آموزش و پرورش شهر تهران
اداره ی آموزش و پرورش شهر تهران منطقه ۶ تهران
دبیرستان غیر دولتی دخترانه سرای دانش واحد فلسطین
کلید سؤالات پایان ترم نوبت اول سال تحصیلی ۱۴۰۱-۱۴۰۰

نام درس: جغرافیا ۳
نام دبیر: فانم ممبلی
تاریخ امتحان: ۱۴/۱۰/۱۴۰۰
ساعت امتحان: ۰۸:۰۰ صبح / عصر
مدت امتحان: ۹۰ دقیقه

ردیف	راهنمای تصحیح	محل مهر یا امضاء مدیر
۱	الف) تادرست ۰/۵ (ب) درست ۰/۵ (پ) نادرست ۰/۵ (ت) درست ۰/۵ (ث) درست ۰/۵ (ج) نادرست ۰/۵	
۲	الف) بیشتر و گسترده تر ۰/۵ (ب) هوایی ۰/۵ (پ) قاعده ۰/۵ (ت) جاده‌ای ۰/۵ (ث) اهداف، نیاز کاربر ۰/۵ (ج) کلان شهر ۰/۵	
۳	الف) گزینه «۴» ۰/۲۵ (ب) گزینه «۴» ۰/۲۵ (پ) گزینه «۴» ۰/۲۵ (ت) گزینه «۴» ۰/۲۵	
۴	الف) (۳) ۰/۲۵ (ب) (۴) ۰/۲۵ (پ) (۲) ۰/۲۵ (ت) (۵) ۰/۲۵	
۵	الف) صرفه جویی در مصرف انرژی - تأمین امنیت ۰/۵ ب) گاز طبیعی، نفت خام و فرآورده‌های نفتی با فشار به درون لوله‌ها رانده شوند. ۰/۵ پ) روند اقتصادی - اجتماعی است که طی آن شیوه‌های زندگی، رفتار و عملکردها، ارزش‌ها و مظاهر شهری رواج می‌یابد. ۰/۵ ت) روابط خویشاوندی در شهر بیشتر - آداب و رسوم و شیوه زندگی در شهر متفاوت از روستاها است. ۰/۵	
۶	الف) جهان شهر ۰/۵ ب) فله‌بر ۰/۵	
۷	الف) زیرا بزرگ‌ترین ۰/۲۵) و مهم‌ترین ۰/۲۵) شهر در استان مورد نظر است. این شهر ممکن است پایتخت ۰/۲۵) یا شهر ملی ۰/۲۵) در استان مورد نظر باشد. ب) اعضای شوراهای شهر یا روستاها با رأی مردم انتخاب ۰/۲۵) و مردم از طریق نمایندگان ۰/۲۵) خود باید در تصمیم‌گیری‌ها ۰/۲۵) و اجرای برنامه‌ها در شهرها و روستاها ۰/۲۵) دخالت داشته باشند. پ) تمرکز و انبوهی جمعیت شهری ۰/۲۵) - تمرکز مؤسسات مالی و پولی ۰/۲۵) - تمرکز صنایع دانش بنیان ۰/۲۵) - فراوانی آمد و شد بین مادرشهرهای همجوار ۰/۲۵) با انواع وسایل حمل و نقل زمینی و هوایی ت) مهاجرت فزاینده روستاییان به شهرها ۰/۲۵) صنعتی شدن ۰/۲۵) توسعه کارخانه‌ها، رشد بخش خدمات ۰/۲۵) و ورود این کشورها به تجارت جهانی ۰/۲۵)	
۸	الف) مجموعه وسیعی از وسایل و نمادها و عناصری که در خیابان‌ها یا فضاهای شهری برای استفاده عموم نصب شده است. (۱) ب) نوعی اسکان غیررسمی ۰/۵) در اطراف شهرهای بزرگ ۰/۵) ج) سامان دادن و نظم بخشیدن ۰/۲۵) به فضاهای جغرافیایی و توزیع متوازن، متعادل و منطقی جمعیت، ۰/۲۵) فعالیت‌ها و تجهیزات و امکانات در سطح زمین ۰/۲۵)	
جمع بارم : ۲۰ نمره		نام و نام خانوادگی مصحح :
		امضاء:

تلاشی در مسیر موفقیت


تلاشی در مسیر موفقیت



- دانلود گام به گام تمام دروس ✓
- دانلود آزمون های قلم چی و گاج + پاسخنامه ✓
- دانلود جزوه های آموزشی و شب امتحانی ✓
- دانلود نمونه سوالات امتحانی ✓
- مشاوره کنکور ✓
- فیلم های انگیزشی ✓

 Www.ToranjBook.Net

 [ToranjBook_Net](https://t.me/ToranjBook_Net)

 [ToranjBook_Net](https://www.instagram.com/ToranjBook_Net)