

تلاشی در مسیر موفقیت



- دانلود گام به گام تمام دروس ✓
- دانلود آزمون های قلم چی و گاج + پاسخنامه ✓
- دانلود جزوه های آموزشی و شب امتحانی ✓
- دانلود نمونه سوالات امتحانی ✓
- مشاوره کنکور ✓
- فیلم های انگیزشی ✓

 [www.ToranjBook.Net](http://www.ToranjBook.Net)

 [ToranjBook\\_Net](https://t.me/ToranjBook_Net)

 [ToranjBook\\_Net](https://www.instagram.com/ToranjBook_Net)

سؤالات امتحان نهایی درس : شیمی ۳	رشته : ریاضی و فیزیک - علوم تجربی	تعداد صفحه: ۶	ساعت شروع: ۸ صبح
پایه دوازدهم دوره دوم متوسطه	نام و نام خانوادگی :	تاریخ امتحان: ۱۳۹۹/۳/۱۹	مدت امتحان: ۱۲۰ دقیقه
دانش آموزان روزانه سراسر کشور در نوبت خرداد ماه سال ۱۳۹۹		مرکز سنجش و پایش کیفیت آموزشی http://aee.medu.ir	

ردیف	سؤالات (پاسخ نامه دارد)	نمره
------	-------------------------	------

توجه : استفاده از ماشین حساب ساده ( دارای چهار عمل اصلی ، جذر و درصد ) بلامانع است تا دو رقم اعشار دقت شود.

ردیف	سؤالات (پاسخ نامه دارد)	نمره
	<p>الف) بخش الزامی</p> <p>دانش آموز عزیز به سوالات ۱ تا ۱۲ جهت کسب ۱۶ نمره پاسخ دهید.</p>	
۱	<p>با استفاده از واژه های درون کادر ، عبارت های زیر را کامل کنید. ( چند واژه اضافی است .)</p> <p style="border: 1px solid black; padding: 5px; display: inline-block;">آب - نیتینول - آهک - فولاد - سلول سوختی - دما - کلر - سلول الکترولیتی</p> <p>آ) از آلیاژ .. که به آلیاژ هوشمند معروف است امروزه در ساخت فرآورده های صنعتی و پزشکی همانند قاب عینک استفاده می شود.</p> <p>ب) نوعی سلول گالوانی که شیمی دان ها برای گذر از تنگنای تأمین انرژی و کاهش آلودگی محیط زیست پیشنهاد داده اند، .. است.</p> <p>پ) قدرت پاک کنندگی صابون به عوامل گوناگونی مانند نوع پارچه ، مقدار صابون ، نوع .. و .. بستگی دارد.</p> <p>ت) برای کاهش میزان اسیدی بودن خاک به آن .. می افزایند.</p>	۱/۲۵
۲	<p>درستی یا نادرستی هر یک از عبارت های زیر را تعیین کرده و در صورت نادرست بودن شکل درست آن را در پاسخ نامه بنویسید.</p> <p>آ) در شرایط یکسان رسانایی الکتریکی محلول ۰/۱ مولار هیدروفلوئوریک اسید (HF) کمتر از محلول ۰/۱ مولار هیدروکلریک اسید (HCl) است.</p> <p>ب) با افزایش غلظت های تعادلی مواد شرکت کننده در یک واکنش ثابت تعادل افزایش می یابد.</p> <p>پ) از جمله ویژگی های لیتیم که سبب شده از آن در ساخت باتری دگمه ای استفاده شود، کم بودن چگالی و زیاد بودن <math>E^{\circ}</math> آن است.</p> <p>ت) خوردگی آهن در محیط اسیدی به میزان بیشتری رخ می دهد.</p> <p>ث) با توجه به آن که میانگین آنتالپی پیوند C-C بیشتر از میانگین آنتالپی پیوند Si-Si است، پس نقطه ذوب سیلیسیم بالاتر از الماس است.</p>	۲
۳	<p>تصاویر زیر الگوهای ساختاری صابون، اسید چرب و استر سنگین را نمایش می دهند. با توجه به آن ها به پرسش ها پاسخ دهید:</p> <p style="text-align: center;"> </p> <p>آ) چربی ها مخلوطی از کدام دو ترکیب هستند؟</p> <p>ب) کدام ساختار مربوط به اسید چرب است؟</p> <p>پ) نیروی بین مولکولی غالب در ترکیب (۲) از چه نوعی است؟ چرا؟</p> <p>ت) کدام ترکیب در آب حل می شود؟</p>	۱/۲۵
	«ادامه سوال ها در صفحه دوم»	

سؤالات امتحان نهایی درس : شیمی ۳	رشته : ریاضی و فیزیک - علوم تجربی	تعداد صفحه: ۶	ساعت شروع: ۸ صبح
پایه دوازدهم دوره دوم متوسطه	نام و نام خانوادگی :	تاریخ امتحان: ۱۳۹۹/۳/۱۹	مدت امتحان: ۱۲۰ دقیقه
<b>دانش آموزان روزانه سراسر کشور در نوبت خرداد ماه سال ۱۳۹۹</b>		مرکز سنجش و پایش کیفیت آموزشی <a href="http://aee.medu.ir">http://aee.medu.ir</a>	

ردیف	سؤالات (پاسخ نامه دارد)	نمره
------	-------------------------	------

۴	<p>با توجه به شکل زیر که مقایسه رفتار نور در یک محلول و کلویید را نشان می دهد به سوالات پاسخ دهید.</p> <p>(آ) کدام ظرف حاوی کلویید است؟</p> <p>(ب) علت پخش نور توسط ذرات ماده موجود در ظرف (۱) را توضیح دهید.</p> <p>(پ) ماده موجود در کدام ظرف یک مخلوط همگن است؟</p> <p>(ت) محتوای کدام ظرف می تواند ژله باشد؟</p>	۱										
۵	<p>اگر غلظت تعادلی یون هیدرونیوم در محلول اسید HA در دمای معین برابر ۰/۰۰۱ مول بر لیتر و ثابت یونش این اسید برابر <math>1/8 \times 10^{-5}</math> باشد.</p> <p>(آ) pH این محلول را بدست آورید.</p> <p>(ب) غلظت تعادلی اسید HA را در این دما محاسبه کنید.</p>	۱/۲۵										
$HA(aq) \rightleftharpoons H^+(aq) + A^-(aq)$												
۶	<p>با توجه به جدول زیر، به سوالات پاسخ دهید.</p> <p>(آ) کدام گونه قویترین اکسید کننده است؟</p> <p>(ب) نیروی الکتروموتوری (emf) سلول گالوانی روی - مس (Zn- Cu) را محاسبه نمایید.</p> <p>(پ) بدون محاسبه تعیین کنید سلول گالوانی ساخته شده از کدام دو فلز موجود در این جدول، بیشترین مقدار ولتاژ را تولید می کند؟ چرا؟</p>	۱/۵										
<table border="1" style="width: 100%; border-collapse: collapse;"> <thead> <tr> <th style="width: 50%;"><math>E^\circ (V)</math></th> <th style="width: 50%;">نیم واکنش کاهش</th> </tr> </thead> <tbody> <tr> <td style="text-align: center;">+۰/۸۰</td> <td style="text-align: center;"><math>Ag^+(aq) + e^- \rightarrow Ag (s)</math></td> </tr> <tr> <td style="text-align: center;">+۰/۳۴</td> <td style="text-align: center;"><math>Cu^{2+}(aq) + 2e^- \rightarrow Cu (s)</math></td> </tr> <tr> <td style="text-align: center;">-۰/۷۶</td> <td style="text-align: center;"><math>Zn^{2+}(aq) + 2e^- \rightarrow Zn (s)</math></td> </tr> <tr> <td style="text-align: center;">-۲/۳۷</td> <td style="text-align: center;"><math>Mg^{2+}(aq) + 2e^- \rightarrow Mg (s)</math></td> </tr> </tbody> </table>			$E^\circ (V)$	نیم واکنش کاهش	+۰/۸۰	$Ag^+(aq) + e^- \rightarrow Ag (s)$	+۰/۳۴	$Cu^{2+}(aq) + 2e^- \rightarrow Cu (s)$	-۰/۷۶	$Zn^{2+}(aq) + 2e^- \rightarrow Zn (s)$	-۲/۳۷	$Mg^{2+}(aq) + 2e^- \rightarrow Mg (s)$
$E^\circ (V)$	نیم واکنش کاهش											
+۰/۸۰	$Ag^+(aq) + e^- \rightarrow Ag (s)$											
+۰/۳۴	$Cu^{2+}(aq) + 2e^- \rightarrow Cu (s)$											
-۰/۷۶	$Zn^{2+}(aq) + 2e^- \rightarrow Zn (s)$											
-۲/۳۷	$Mg^{2+}(aq) + 2e^- \rightarrow Mg (s)$											
۷	<p>با توجه به نقشه پتانسیل الکتروستاتیکی گوگرد دی اکسید (<math>SO_2</math>) به پرسش ها پاسخ دهید.</p> <p>(آ) این مولکول قطبی است یا ناقطبی؟ چرا؟</p> <p>(ب) با بیان دلیل، اتم S را در نقشه با <math>(\delta+)</math> یا <math>(\delta-)</math> نشان دار کنید.</p>	۱/۲۵										
«ادامه سوال ها در صفحه سوم»												

سؤالات امتحان نهایی درس : شیمی ۳	رشته : ریاضی و فیزیک - علوم تجربی	تعداد صفحه: ۶	ساعت شروع: ۸ صبح
پایه دوازدهم دوره دوم متوسطه	نام و نام خانوادگی :	تاریخ امتحان: ۱۳۹۹/۳/۱۹	مدت امتحان: ۱۲۰ دقیقه
دانش آموزان روزانه سراسر کشور در نوبت خرداد ماه سال ۱۳۹۹		مرکز سنجش و پایش کیفیت آموزشی http://aee.medu.ir	

ردیف	سؤالات (پاسخ نامه دارد)	نمره
------	-------------------------	------

۸	<p>با توجه به شکل زیر که مربوط به برقکافت سدیم کلرید مذاب است به پرسش ها پاسخ دهید.</p> <p>آ نوع این سلول گالوانی است یا الکترولیتی؟ چرا؟</p> <p>ب) علت افزودن مقداری کلسیم کلرید به سدیم کلرید در این فرایند چیست؟</p> <p>پ) نیم واکنش کاتدی را بنویسید.</p>	۱/۲۵												
۹	<p>با توجه به ثابت یونش اسیدهای موجود در جدول زیر به پرسش ها پاسخ دهید.</p> <table border="1"> <thead> <tr> <th>ردیف</th> <th>نام اسید</th> <th>فرمول شیمیایی</th> <th><math>K_a</math></th> </tr> </thead> <tbody> <tr> <td>۱</td> <td>فورمیک اسید</td> <td><math>\text{HCOOH(aq)}</math></td> <td><math>1/8 \times 10^{-4}</math></td> </tr> <tr> <td>۲</td> <td>هیدروسیانیک اسید</td> <td><math>\text{HCN(aq)}</math></td> <td><math>4/9 \times 10^{-10}</math></td> </tr> </tbody> </table> <p>آ) کدام اسید قوی تر است؟</p> <p>ب) توضیح دهید در دمای ۲۵ درجه، pH محلول یک مولار کدام اسید (HCOOH یا HCN) بیشتر است؟ (محاسبه لازم نیست.)</p>	ردیف	نام اسید	فرمول شیمیایی	$K_a$	۱	فورمیک اسید	$\text{HCOOH(aq)}$	$1/8 \times 10^{-4}$	۲	هیدروسیانیک اسید	$\text{HCN(aq)}$	$4/9 \times 10^{-10}$	۱
ردیف	نام اسید	فرمول شیمیایی	$K_a$											
۱	فورمیک اسید	$\text{HCOOH(aq)}$	$1/8 \times 10^{-4}$											
۲	هیدروسیانیک اسید	$\text{HCN(aq)}$	$4/9 \times 10^{-10}$											
۱۰	<p>دلیل هر یک از عبارتهای زیر را بنویسید.</p> <p>آ) آلومینیوم فلزی فعال است که به سرعت در هوا اکسید شده ، اما خورده نمی شود و استحکام خود را حفظ می کند .</p> <p>ب) آنتالپی فروپاشی شبکه پتاسیم کلرید (s) KCl بیشتر از آنتالپی فروپاشی شبکه پتاسیم برمید (s) KBr است.</p> <p>پ) برای افزایش قدرت پاک کنندگی مواد شوینده به آن ها نمک های فسفات می افزایند.</p> <p>ت) می توان با محلول غلیظ هیدروکلریک اسید برخی لوله ها و مجاری جرم گرفته را باز کرد.</p>	۲												
۱۱	<p>در واکنش زیر با محاسبه تغییر عدد اکسایش ، گونه اکسنده و کاهنده را تعیین کنید.</p> $2\text{Al (s)} + 3\text{CuSO}_4\text{(aq)} \rightarrow \text{Al}_2\text{(SO}_4\text{)}_3\text{(aq)} + 3\text{Cu (s)}$ <p>«ادامه سوال ها در صفحه چهارم»</p>	۱/۲۵												



سؤالات امتحان نهایی درس : شیمی ۳	رشته : ریاضی و فیزیک - علوم تجربی	تعداد صفحه: ۶	ساعت شروع: ۸ صبح
پایه دوازدهم دوره دوم متوسطه	نام و نام خانوادگی :	تاریخ امتحان: ۱۳۹۹/۳/۱۹	مدت امتحان: ۱۲۰ دقیقه
دانش آموزان <b>روزانه</b> سراسر کشور در نوبت خرداد ماه سال ۱۳۹۹		مرکز سنجش و پایش کیفیت آموزشی http://aee.medu.ir	

ردیف	سؤالات (پاسخ نامه دارد)	نمره
------	-------------------------	------

۱۲	<p>با توجه به جدول زیر به پرسش ها پاسخ دهید.</p> <p>(آ) کدام ماده در گستره دمایی کمتری به حالت مایع است؟ چرا؟</p> <p>(ب) واژه ماده مولکولی و فرمول مولکولی را برای توصیف کدام ماده نمی توان به کار برد؟ چرا؟</p>	۱									
	<table border="1"> <thead> <tr> <th>ماده</th> <th>نقطه ذوب (°C)</th> <th>نقطه جوش (°C)</th> </tr> </thead> <tbody> <tr> <td>N<sub>2</sub></td> <td>-۲۰۷</td> <td>-۱۹۶</td> </tr> <tr> <td>SiO<sub>2</sub></td> <td>۱۷۱۰</td> <td>۲۲۳۰</td> </tr> </tbody> </table>	ماده	نقطه ذوب (°C)	نقطه جوش (°C)	N <sub>2</sub>	-۲۰۷	-۱۹۶	SiO <sub>2</sub>	۱۷۱۰	۲۲۳۰	
ماده	نقطه ذوب (°C)	نقطه جوش (°C)									
N <sub>2</sub>	-۲۰۷	-۱۹۶									
SiO <sub>2</sub>	۱۷۱۰	۲۲۳۰									

	<p>(ب) بخش انتخابی</p> <p>دانش آموزان عزیز جهت کسب ۴ نمره از سوالات ۱۳ تا ۲۰ فقط ۴ سوال را به دلخواه انتخاب و پاسخ دهید.</p>	
--	------------------------------------------------------------------------------------------------------------------------------	--

۱۳	<p>با توجه به نمودارهای زیر به پرسش ها پاسخ دهید.</p> <p>(آ) گرماده یا گرماگیر بودن هر یک از واکنش ها را مشخص کنید.</p> <p>(ب) کدام واکنش در شرایط یکسان، سریع تر انجام می شود؟ چرا؟</p>	۱
	<p>پیشرفت واکنش (۱) واکنش (۲)</p>	

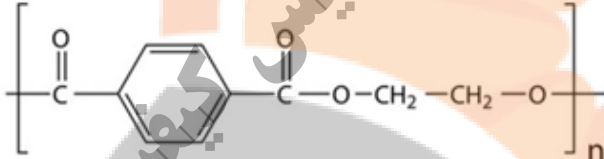

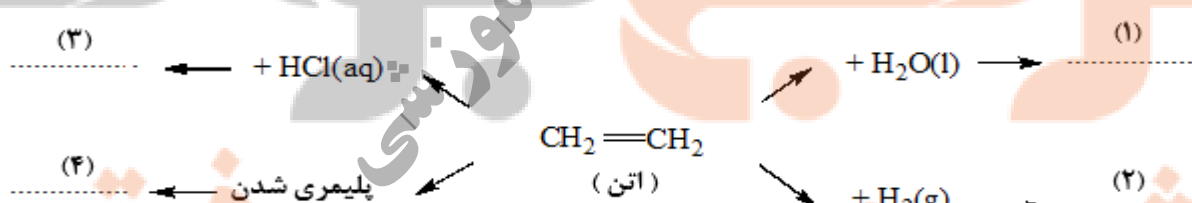
۱۴	<p>شکل زیر 500 میلی لیتر از محلول آبی یک حل شونده را نشان می دهد.</p> <p>(هر ذره را یک مول از آن گونه در نظر بگیرید.)</p> <p>(آ) این نوع حل شونده ها اسید آرنیوس هستند یا باز آرنیوس؟ چرا؟</p> <p>(ب) درصد یونش این محلول را محاسبه کنید.</p>	۱

۱۵	<p>با توجه به شکل که در آن، واکنش تعادلی زیر در سیلندری با پیستون روان در دمایی ثابت قرار دارد، به سوالات پاسخ دهید .</p> <p>(آ) اگر در سامانه پیستون به سمت بیرون کشیده شود واکنش تعادلی در کدام جهت جابه جا می شود؟ دلیل بنویسید.</p> <p>(ب) با این تغییر شمار مولکول های AB<sub>3</sub> چه تغییری می کند؟</p>	۱

	«ادامه سوالها در صفحه پنجم»	
--	-----------------------------	--

سؤالات امتحان نهایی درس : شیمی ۳	رشته : ریاضی و فیزیک - علوم تجربی	تعداد صفحه: ۶	ساعت شروع: ۸ صبح
پایه دوازدهم دوره دوم متوسطه	نام و نام خانوادگی :	تاریخ امتحان: ۱۳۹۹/۳/۱۹	مدت امتحان: ۱۲۰ دقیقه
دانش آموزان روزانه سراسر کشور در نوبت خرداد ماه سال ۱۳۹۹		مرکز سنجش و پایش کیفیت آموزشی http://aee.medu.ir	

ردیف	سؤالات (پاسخ نامه دارد)	نمره
------	-------------------------	------

۱۶	<p>ورقه های آهنی را در صنعت با پوششی از فلز روی تهیه می کنند.</p> <p><math>E^{\circ}(\text{Zn}^{2+}/\text{Zn}) = -0.76 \text{ V}</math>      <math>E^{\circ}(\text{Fe}^{2+}/\text{Fe}) = -0.44 \text{ V}</math></p> <p>(آ) این نوع آهن به چه نامی معروف است ؟</p> <p>(ب) به چه علت از این ورقه ها در ساخت ظروف بسته بندی مواد غذایی استفاده نمی شود؟</p> <p>(پ) اگر خراشی در سطح این نوع ورقه آهنی ایجاد شود ، نیم واکنش اکسایش را بنویسید.</p>	۱
۱۷	<p>فرمول ساختاری پلیمر سازنده بطری آب به شکل زیر است. با توجه به آن به پرسش ها پاسخ دهید.</p> <p>(آ) این پلیمر از کدام دسته پلیمرهاست؟ چرا؟</p> <p>(ب) ساختار مونومرهای سازنده این پلیمر را رسم کنید.</p> 	۱
۱۸	<p>با توجه به شکل های زیر به پرسش ها پاسخ دهید.</p>  <p>(آ) کدام شکل یک الگوی ساده از شبکه بلوری فلزها را نشان می دهد؟</p> <p>(ب) ساختار ذره ای <math>\text{MgO}(\text{s})</math> با کدام شکل همخوانی دارد؟</p> <p>(پ) بر اثر ضربه چکش، شبکه بلوری کدام شکل ، درهم فرو ریخته و می شکنند؟ چرا؟</p>	۱
۱۹	<p>در نمودار زیر جاهای خالی (۱) تا (۴) را با نام یا فرمول ماده شیمیایی مناسب پر کنید.</p> 	۱
۲۰	<p>از واکنش ۲۵۰ میلی لیتر از محلول هیدروکلریک اسید ۰/۰۱ مول بر لیتر با مقدار کافی از سدیم هیدروژن کربنات چند میلی لیتر گاز کربن دی اکسید در شرایط STP تولید می شود؟</p> <p><math>\text{NaHCO}_3(\text{aq}) + \text{HCl}(\text{aq}) \rightarrow \text{CO}_2(\text{g}) + \text{NaCl}(\text{aq}) + \text{H}_2\text{O}(\text{l})</math></p>	۱
۲۴	موفق و سر بلند باشید	

سؤالات امتحان نهایی درس : شیمی ۳	رشته : ریاضی و فیزیک - علوم تجربی	تعداد صفحه: ۶	ساعت شروع: ۸ صبح
پایه دوازدهم دوره دوم متوسطه	نام و نام خانوادگی :	تاریخ امتحان: ۱۳۹۹/۳/۱۹	مدت امتحان: ۱۲۰ دقیقه
دانش آموزان روزانه سراسر کشور در نوبت خرداد ماه سال ۱۳۹۹		مرکز سنجش و پایش کیفیت آموزشی http://aee.medu.ir	

ردیف	سؤالات (پاسخ نامه دارد)	نمره
------	-------------------------	------

۱ H ۱/۰۰۸	<p>راهنمای جدول تناوبی عنصرها ۶ عدد اتمی C جرم اتمی میانگین ۱۲/۰۱</p>																۲ He ۴/۰۰۳
۳ Li ۶/۹۴۱	۴ Be ۹/۰۱۲	۵ B ۱۰/۸۱	۶ C ۱۲/۰۱	۷ N ۱۴/۰۱	۸ O ۱۶/۰۰	۹ F ۱۹/۰۰	۱۰ Ne ۲۰/۱۸	۱۱ Na ۲۲/۹۹	۱۲ Mg ۲۴/۳۱	۱۳ Al ۲۶/۹۸	۱۴ Si ۲۸/۰۹	۱۵ P ۳۰/۹۷	۱۶ S ۳۲/۰۷	۱۷ Cl ۳۵/۴۵	۱۸ Ar ۳۹/۹۵		
۱۹ K ۳۹/۱۰	۲۰ Ca ۴۰/۰۸	۲۱ Sc ۴۴/۹۶	۲۲ Ti ۴۷/۰۷	۲۳ V ۵۰/۹۴	۲۴ Cr ۵۲/۰۰	۲۵ Mn ۵۴/۹۴	۲۶ Fe ۵۵/۸۵	۲۷ Co ۵۸/۹۳	۲۸ Ni ۵۸/۶۹	۲۹ Cu ۶۳/۵۵	۳۰ Zn ۶۵/۳۹	۳۱ Ga ۶۹/۷۲	۳۲ Ge ۷۲/۶۴	۳۳ As ۷۴/۹۲	۳۴ Se ۷۸/۹۶	۳۵ Br ۷۹/۹۰	۳۶ Kr ۸۳/۸۰



مدت امتحان: ۱۲۰ دقیقه	تعداد صفحه: ۴	رشته: ریاضی و فیزیک - علوم تجربی	راهنمای تصحیح امتحان نهایی درس: شیمی ۳
ساعت شروع: ۸ صبح	تاریخ امتحان: ۱۳۹۹/۳/۱۹		پایه دوازدهم دوره دوم متوسطه
مرکز سنجش و پایش کیفیت آموزشی <a href="http://aee.medu.ir">http://aee.medu.ir</a>		دانش آموزان روزانه سراسر کشور در نوبت خرداد ماه سال ۱۳۹۹	

نمره	راهنمای تصحیح	ردیف
------	---------------	------

الف) بخش الزامی		
۱/۲۵	آ) نیتینول «۰/۲۵» ص ۸۶ ب) سلول سوختی «۰/۲۵» ص ۵۰ پ) آب «۰/۲۵» - دما «۰/۲۵» ص ۸ ت) آهک «۰/۲۵» ص ۱۴	۱
۰/۲۵	آ) درست «۰/۲۵» ص ۱۸ ب) نادرست «۰/۲۵» - با افزایش غلظت های تعادلی مواد شرکت کننده در یک واکنش ثابت تعادل تغییر نمی کند.	۲
۰/۵	پ) نادرست «۰/۲۵» - از جمله ویژگی های لیتیم که سبب شده از آن در ساخت باتری دگمه ای استفاده شود، کم بودن چگالی و کم بودن $E^\circ$ آن است. «۰/۲۵» ص ۴۹	۰/۵
۰/۲۵	ت) درست «۰/۲۵» ص ۵۷	۰/۲۵
۰/۵	ث) نادرست. «۰/۲۵» - نقطه ذوب الماس بالاتر از سیلیسیم است. «۰/۲۵» ص ۷۰	۰/۵
۰/۵	آ) ترکیب (۱) و ترکیب (۲) «۰/۲۵» ب) ترکیب (۱) «۰/۲۵»	۳
۰/۵	پ) واندروالسی «۰/۲۵» - زیرا بخش بزرگی از مولکول رابخش ناقطبی (زنجر بلند کربنی) تشکیل داده است. «۰/۲۵»	۰/۵
۰/۲۵	ت) ترکیب ۳ «۰/۲۵» ص ۵ تا ۶	۰/۲۵
۰/۲۵	آ) ظرف (۱) «۰/۲۵»	۴
۰/۲۵	ب) ذرات کلویید درشت تر از محلول هستند به همین دلیل نور را پخش می کنند. «۰/۲۵»	۰/۲۵
۰/۵	پ) ظرف (۲) «۰/۲۵» ت) ظرف (۱) «۰/۲۵» ص ۷	۰/۵
۰/۵	$pH = -\log[H^+] = -\log(1 \times 10^{-3}) = 3$ ب «۰/۲۵»	۵
۰/۷۵	آ) ص ۲۲ تا ۲۴ ب) $[H^+] = [A^-] = 0.001 \text{ mol.L}^{-1}$ «۰/۲۵» $K = \frac{[H^+][A^-]}{[HA]} \rightarrow 1/8 \times 10^{-6} = \frac{(0.001)^2}{[HA]} \rightarrow [HA] = 0.000125$ «۰/۲۵»	۰/۷۵
۰/۲۵	آ) $Ag^+$ «۰/۲۵»	۶
۰/۷۵	ب) انتخاب درست آند و کاتد «۰/۲۵» $emf = E_{\text{کاتد}}^\circ - E_{\text{آند}}^\circ$ «۰/۲۵»	۰/۷۵
۰/۵	$emf = E_{Cu}^\circ - E_{Zn}^\circ = (+0.34) - (-0.76) = +1.1$ «۰/۲۵» پ) سلول منیزیم - نقره «۰/۲۵» چون بیشترین اختلاف پتانسیل را دارند. «۰/۲۵» ص ۴۴ تا ۴۸	۰/۵
ادامه راهنما در صفحه دوم		



راهنمای تصحیح امتحان نهایی درس: شیمی ۳	رشته: ریاضی و فیزیک - علوم تجربی	تعداد صفحه: ۴	مدت امتحان: ۱۲۰ دقیقه
پایه دوازدهم دوره دوم متوسطه	تاریخ امتحان: ۱۳۹۹/۳/۱۹	ساعت شروع: ۸ صبح	
دانش آموزان روزانه سراسر کشور در نوبت خرداد ماه سال ۱۳۹۹		مرکز سنجش و پایش کیفیت آموزشی <a href="http://aee.medu.ir">http://aee.medu.ir</a>	

ردیف	راهنمای تصحیح	نمره
------	---------------	------

۷	<p>آ) قطبی «۰/۲۵» - زیرا بار الکتریکی در پیرامون اتم مرکزی توزیع متقارن ندارد. «۰/۵»</p> <p>ب) در نقشه پتانسیل الکترواستاتیکی رنگ آبی تراکم کمتر بار الکتریکی را نشان می دهد «۰/۲۵» پس اتم S، با (+) δ نشان دار می شود. «۰/۲۵» ص ۷۴</p>	۰/۷۵ ۰/۵
۸	<p>آ) الکترولیتی «۰/۲۵» - زیرا برای انجام برقکافت نیاز به استفاده از باتری است. ( یا چون این واکنش به صورت طبیعی انجام نمی شود). «۰/۲۵»</p> <p>ب) پایین آوردن نقطه ذوب «۰/۲۵»</p> <p>پ) کاتد <math>Na^+(aq) + e^- \rightarrow Na(l)</math> نوشتن درست نیم واکنش «۰/۲۵» تشخیص تولید سدیم در کاتد «۰/۲۵» ص ۵۵</p>	۰/۵ ۰/۲۵ ۰/۵
۹	<p>آ) فورمیک اسید «۰/۲۵»</p> <p>ب) هیدروسیانیک اسید «۰/۲۵» زیرا ثابت یونش آن کوچک تر است پس اسید ضعیف تری است و میزان یونش آن در آب کمتر است «۰/۲۵». از این رو غلظت یون هیدرونیوم در محلول ۱ مولار آن کمتر می باشد. «۰/۲۵» ص ۲۳</p>	۰/۲۵ ۰/۷۵
۱۰	<p>آ) این فلز به سرعت اکسید می شود ولی با اکسید شدن و تشکیل لایه چسبنده و متراکم <math>Al_2O_3</math> از ادامه اکسایش جلوگیری می شود به طوری که لایه های زیرین برای مدت طولانی دست نخورده باقی می ماند و استحکام خود را حفظ می کند. «۰/۵»</p> <p>ص ۶۱</p> <p>ب) زیرا شعاع یون برمید بیشتر از یون کلرید است. «۰/۲۵» بنابراین چگالی بار یون کلرید بیشتر از یون برمید است «۰/۲۵» ص ۸۰</p> <p>پ) زیرا این نمک ها با یون های کلسیم و منیزیم موجود در آب های سخت واکنش می دهند، «۰/۲۵» و از تشکیل رسوب و ایجاد لکه جلوگیری می کنند. «۰/۲۵» ص ۱۲</p> <p>ت) زیرا موادی که سبب گرفتگی این لوله ها و مجاری می شوند، خاصیت بازی دارند. «۰/۲۵» پس هیدروکلریک اسید در واکنش با این مواد فرآورده های محلول در آب یا گاز تولید می کند و لوله ها و مجاری باز می شوند. «۰/۲۵» ص ۳۱</p>	۰/۵ ۰/۵ ۰/۵ ۰/۵
	ادامه راهنما در صفحه سوم	

مدت امتحان: ۱۲۰ دقیقه	تعداد صفحه: ۴	رشته: ریاضی و فیزیک – علوم تجربی	راهنمای تصحیح امتحان نهایی درس: شیمی ۳
ساعت شروع: ۸ صبح	تاریخ امتحان: ۱۳۹۹/۳/۱۹		پایه دوازدهم دوره دوم متوسطه
مرکز سنجش و پایش کیفیت آموزشی <a href="http://aee.medu.ir">http://aee.medu.ir</a>		دانش آموزان <b>روزانه</b> سراسر کشور در نوبت <b>خرداد ماه سال ۱۳۹۹</b>	

نمره	راهنمای تصحیح	ردیف
------	---------------	------

۱/۲۵	$2\text{Al}(s) + 3\text{CuSO}_4(aq) \rightarrow 2\text{Al}_2(\text{SO}_4)_3(aq) + 3\text{Cu}(s)$ <p>اعداد اکسایش Cu یا Al «۰/۲۵»      کاهنده: Al «۰/۲۵» اکسنده: <math>\text{Cu}^{2+}</math> «۰/۲۵»      ص ۵۲ تا ص ۵۳</p>	۱۱
۰/۵	آ) «۰/۲۵» $\text{N}_2$ - زیرا تفاوت نقطه ذوب و نقطه جوش آن کمتر است. ص ۷۶	۱۲
۰/۵	ب) «۰/۲۵» $\text{SiO}_2$ - زیرا این ترکیب جامد کووالانسی است. ص ۷۲	
(ب) بخش انتخابی		
۰/۵	آ) واکنش (۱): گرماده «۰/۲۵» واکنش (۲): گرماگیر «۰/۲۵»	۱۳
۰/۵	ب) واکنش (۱) «۰/۲۵» - زیرا هر چه انرژی فعالسازی واکنش کمتر باشد سرعت واکنش بیشتر است. «۰/۲۵» ص ۹۶	
۰/۵	آ) اسید آرنیوس «۰/۲۵» - زیرا با حل شدن در آب غلظت یون هیدرونیوم زیاد شده است. «۰/۲۵» ص ۳۵	۱۴
۰/۵	ب) $\frac{4}{6} \times 100 = \frac{66.67}{100} = 66.67\%$ «۰/۲۵» $\frac{\text{شمار مول های یونیده شده}}{\text{شمار کل مول های حل شده}} \times 100 = \text{درصد یونش}$	
۰/۷۵	آ) در جهت برگشت (سمت چپ) «۰/۲۵» - زیرا با افزایش حجم در دمای ثابت فشار کم می شود «۰/۲۵» پس تعادل در جهت افزایش فشار و تعداد مول های گازی بیشتر جا به جا می شود. «۰/۲۵» ص ۱۰۴ تا ص ۱۰۵	۱۵
۰/۲۵	ب) کم می شود. «۰/۲۵» ص ۱۰۵	
۰/۲۵	آ) آهن گالوانیزه یا آهن سفید «۰/۲۵» ص ۵۹	۱۶
۰/۲۵	ب) زیرا فلز روی با مواد غذایی واکنش می دهد و باعث فساد و مسمومیت غذاها می شود «۰/۲۵»	
۰/۲۵	پ) تشخیص فلز اکسایش یافته «۰/۲۵» نیم واکنش اکسایش: «۰/۲۵»	
۰/۵	$\text{Zn}(s) \rightarrow \text{Zn}^{2+}(aq) + 2e^-$	
۰/۵	آ) از دسته پلی استرها است. «۰/۲۵» زیرا واحدهای تکرار شونده آن گروه عاملی استری است. «۰/۲۵» ص ۱۱۳	۱۷
۰/۵	ب) $\text{HO}-\text{CH}_2-\text{CH}_2-\text{OH}$ «۰/۲۵»	
	«۰/۲۵»	
«ادامه راهنما در صفحه چهارم»		

مدت امتحان: ۱۲۰ دقیقه	تعداد صفحه: ۴	رشته: ریاضی و فیزیک - علوم تجربی	راهنمای تصحیح امتحان نهایی درس: شیمی ۳
ساعت شروع: ۸ صبح	تاریخ امتحان: ۱۳۹۹/۳/۱۹		پایه دوازدهم دوره دوم متوسطه
مرکز سنجش و پایش کیفیت آموزشی <a href="http://aee.medu.ir">http://aee.medu.ir</a>		دانش آموزان روزانه سراسر کشور در نوبت خرداد ماه سال ۱۳۹۹	

ردیف	راهنمای تصحیح	نمره
۱۸	آ - شکل (۱) «۰/۲۵» ص ۸۲ ب - شکل (۲) «۰/۲۵» ص ۶۷ پ - شکل (۲) «۰/۲۵» - زیرا با جابه جایی لایه ها، یون ها با بار هم نام کنار هم قرار میگیرند و دافعه ایجاد شده سبب در هم ریختن شبکه بلور می شود. «۰/۲۵» ص ۸۷	۰/۵ ۰/۵
۱۹	(۱) اتانول $C_2H_5OH$ «۰/۲۵» (۲) اتان $C_2H_6$ «۰/۲۵» (۳) کلرواتان $C_2H_5Cl$ «۰/۲۵» (۴) پلی اتن $(-CH_2-CH_2-)_n$ «۰/۲۵»	۱ ص ۱۱۲
۲۰	$۲۵۰\text{mLHCl(aq)} \times \frac{۰/۰۱\text{ mol HCl}}{۱\text{L HCl(aq)}} \times \frac{۱\text{ mol CO}_2}{۱\text{ mol HCl}} \times \frac{۲۲/۴\text{LCO}_2}{۱\text{ mol CO}_2} = ۵۶\text{ mLCO}_2$ «۰/۲۵» «۰/۲۵» «۰/۲۵» «۰/۲۵»	۱ ص ۳۶
	خسته نباشید.	جمع نمره ۲۴

همکار محترم ضمن عرض خدا قوت ؛ لطفاً برای پاسخ های درست بر پایه کتاب (به جز به کاربردن تناسب در حل مسائل عددی) نمره منظور فرمایید.

نگارنگار بوک  
تلاشی در مسیر موفقیت


تلاشی در مسیر موفقیت



- دانلود گام به گام تمام دروس ✓
- دانلود آزمون های قلم چی و گاج + پاسخنامه ✓
- دانلود جزوه های آموزشی و شب امتحانی ✓
- دانلود نمونه سوالات امتحانی ✓
- مشاوره کنکور ✓
- فیلم های انگیزشی ✓

 [www.ToranjBook.Net](http://www.ToranjBook.Net)

 [ToranjBook\\_Net](https://t.me/ToranjBook_Net)

 [ToranjBook\\_Net](https://www.instagram.com/ToranjBook_Net)