


تلاشی در مسیر معرفت



- دانلود گام به گام تمام دروس ✓
- دانلود آزمون های قلم چی و گاج + پاسخنامه ✓
- دانلود جزوه های آموزشی و شب امتحانی ✓
- دانلود نمونه سوالات امتحانی ✓
- مشاوره کنکور ✓
- فیلم های انگیزشی ✓

 www.ToranjBook.Net

 [ToranjBook_Net](https://t.me/ToranjBook_Net)

 [ToranjBook_Net](https://www.instagram.com/ToranjBook_Net)

سؤالات امتحان نهایی درس: فیزیک ۳	رشته: ریاضی فیزیک	ساعت شروع: ۸ صبح	مدت امتحان: ۱۲۰ دقیقه
پایه دوازدهم دوره دوم متوسطه	تعداد صفحه: ۳	نام و نام خانوادگی:	تاریخ امتحان: ۱۳۹۹ / ۳ / ۲۵
دانش آموزان روزانه سراسر کشور در نوبت خرداد ماه سال ۱۳۹۹		مرکز سنجش و پایش کیفیت آموزشی http://aee.medu.ir	


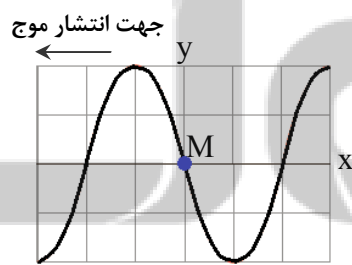
توجه: استفاده از ماشین حساب ساده (دارای چهار عمل اصلی ، جذر و درصد) بلامانع است .

دانش آموز عزیز ، به سؤالات ۱ تا ۱۵ (جهت کسب ۱۶ نمره) پاسخ دهید

ردیف	بخش (الف)	سؤالات الزامی (پاسخ نامه دارد)	نمره
۱	در جمله‌های زیر، جاهای خالی را با کلمه‌های مناسب تکمیل کنید:	<p>(الف) در حرکت بر روی خط راست و بدون تغییر جهت ، مسافت با برابر است .</p> <p>(ب) شتاب متوسط ، کمیتی برداری است و هم جهت با بردار می‌باشد .</p> <p>(پ) در حرکت ، سرعت متوسط متحرک در هر بازه زمانی دلخواه ، با سرعت لحظه‌ای آن برابر است .</p> <p>(ت) بردار سرعت در هر نقطه از مسیر، بر مسیر حرکت است .</p> <p>(ث) شیب خط مماس بر نمودار سرعت - زمان ، برابر متحرک است .</p>	۱/۲۵
۲	نمودار سرعت - زمان متحرکی که در امتداد محور X حرکت می کند ، مطابق شکل است:	 <p>(الف) جابه‌جایی متحرک در کل زمان حرکت چند متر است ؟</p> <p>(ب) شتاب متوسط متحرک در بازه ۵s تا ۱۵s چقدر است ؟</p>	۰/۷۵ ۰/۷۵
۳	سنگی از صخره‌ای به ارتفاع ۱۲۵ m نسبت به زمین و در شرایط خلأ رها می‌شود .	<p>(الف) چند ثانیه طول می‌کشد تا سنگ به زمین برسد ؟</p> <p>(ب) نمودار مکان - زمان آن را رسم کنید . (جهت بالا را مثبت و محل رها شدن سنگ را مبدأ مکان فرض کنید .)</p>	۰/۷۵ ۰/۵
۴	درستی یا نادرستی جمله‌های زیر را با علامت‌های (د) یا (ن) مشخص کنید .	<p>(الف) در حرکت دایره‌ای یکنواخت ، ذره در بازه‌های زمانی برابر ، مسافت‌های یکسانی را طی می‌کند .</p> <p>(ب) در حرکت دایره‌ای یکنواخت ، بردار شتاب در هر لحظه ، به طرف مرکز دایره است .</p> <p>(پ) نیروی گرانشی میان دو ذره ، با فاصله آن‌ها از یکدیگر نسبت وارون دارد .</p> <p>(ت) در حرکت ماهواره‌ها ، تندی مداری یک ماهواره ، به جرم آن بستگی ندارد .</p> <p>(ث) الکترون‌ها در اتم ، تحت تأثیر نیروی گرانشی هسته ، در مدارهای خود می‌چرخند .</p>	۱/۲۵
۵	مطابق شکل ، کتابی را با نیروی افقی F به دیوار قائمی فشرده و ثابت نگه داشته ایم . با افزایش نیروی F نیروهای زیر چه تغییری می‌کنند ؟	 <p>(الف) نیروی اصطکاک ایستایی</p> <p>(ب) نیروی عمودی تکیه‌گاه</p> <p>(پ) نیرویی که دیوار به کتاب وارد می‌کند</p>	۰/۷۵
ادامه سؤالات در صفحه دوم			

سؤالات امتحان نهایی درس: فیزیک ۳	رشته: ریاضی فیزیک	ساعت شروع: ۸ صبح	مدت امتحان: ۱۲۰ دقیقه
پایه دوازدهم دوره دوم متوسطه	تعداد صفحه: ۳	نام و نام خانوادگی:	تاریخ امتحان: ۱۳۹۹ / ۳ / ۲۵
دانش آموزان روزانه سراسر کشور در نوبت خرداد ماه سال ۱۳۹۹		مرکز سنجش و پایش کیفیت آموزشی http://aee.medu.ir	

ردیف	سؤالات (پاسخ نامه دارد)	نمره
۶	وزنه‌ای به جرم ۲ kg را به فنری به طول ۱۵ cm که ثابت آن 10 N/cm است، می‌بندیم و فنر را از سقف یک آسانسور می‌آویزیم. اگر آسانسور در حالی که به طرف پایین حرکت می‌کند، با شتاب ثابت 2 m/s^2 متوقف شود، طول فنر چند سانتی متر می‌شود؟ ($g = 10 \text{ m/s}^2$)	۱/۲۵
۷	شخصی به جرم ۶۰ کیلوگرم از یک بلندی روی یک تشک سقوط می‌کند. اگر تندی او هنگام رسیدن به تشک 5 m/s باشد و پس از 0.2 ثانیه متوقف شود، اندازه نیروی متوسطی که تشک بر او وارد می‌کند، چقدر است؟	۱
۸	در جمله‌های زیر، عبارت درست را از داخل پرانتز انتخاب کرده و در پاسخ برگ بنویسید: الف) با توجه به نحوه انتشار امواج الکترومغناطیسی، می‌توان گفت این امواج (طولی - عرضی) هستند. ب) برای امواج مکانیکی، تندی انتشار موج طولی در یک محیط جامد (بیشتر - کمتر) از تندی انتشار موج عرضی در همان محیط است. پ) اگر چشمه صوتی به یک ناظر ساکن نزدیک شود، بسامد صوتی که ناظر می‌شنود، (افزایش - کاهش) می‌یابد. ت) وقتی چشمه نور از یک ناظر (آشکارساز) دور می‌شود، طول موج تغییر می‌کند که به آن انتقال به (آبی - سرخ) می‌گویند.	۱
۹	معادله حرکت هماهنگ ساده یک نوسانگر به جرم ۱۰۰ گرم در SI به صورت $x = 0.02 \cos 50\pi t$ است. الف) بیشینه تندی نوسانگر چند متر بر ثانیه است؟ ب) انرژی مکانیکی نوسانگر چند ژول است؟	۰/۷۵ ۰/۷۵
۱۰	شکل مقابل، تصویر یک موج عرضی در یک ریسمان کشیده شده را در یک لحظه نشان می‌دهد. نقش موج را در زمان $t/4$ بعد رسم کنید و نشان دهید جزء M در چه جهتی حرکت کرده است.	۰/۷۵
۱۱	با زیاد کردن صدای تلویزیونی، شدت صوتی که به گوش می‌رسد، ۱۰۰ برابر می‌شود. تراز شدت صوت چند دسی بل افزایش می‌یابد؟ (از جذب انرژی صوتی توسط محیط صرف نظر شود)	۰/۷۵
۱۲	در شکل مقابل، پرتوهای بازتابیده از آینه‌های تخت ۱ و M_2 را رسم کنید و زاویه بازتاب آینه M_2 را تعیین کنید.	۱

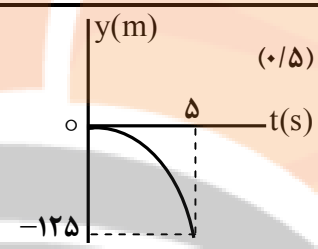
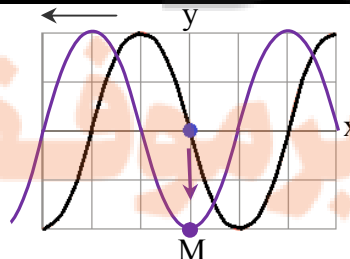


ادامه سؤالات در صفحه سوم

سؤالات امتحان نهایی درس: فیزیک ۳	رشته: ریاضی فیزیک	ساعت شروع: ۸ صبح	مدت امتحان: ۱۲۰ دقیقه
پایه دوازدهم دوره دوم متوسطه	تعداد صفحه: ۳	نام و نام خانوادگی:	تاریخ امتحان: ۱۳۹۹ / ۳ / ۲۵
دانش آموزان روزانه سراسر کشور در نوبت خرداد ماه سال ۱۳۹۹		مرکز سنجش و پایش کیفیت آموزشی http://aee.medu.ir	

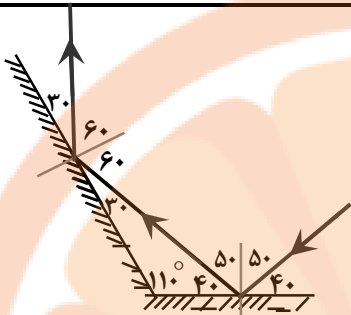
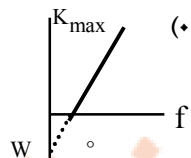
ردیف	سؤالات (پاسخ نامه دارد)	نمره
۱۳	در شکل مقابل ، موج فرودی از هوا وارد شیشه می شود . بخشی از موج در سطح جدایی دو محیط باز می تابد و بخشی دیگر شکست یافته و وارد شیشه می شود . مشخصه های موج شکست شامل طول موج ، بسامد و تندی انتشار را با موج فرودی مقایسه کنید .	۰/۷۵
۱۴	در آزمایش ینگ ، پهنای هر نوار روشن یا تاریک چه تغییری می کند اگر : الف) به جای نور تکفام آبی از نور تکفام قرمز استفاده کنیم ؟ ب) آزمایش را به جای هوا ، در آب انجام دهیم ؟	۰/۵
۱۵	در یک تار دو سر بسته ، بسامد هماهنگ های سوم و چهارم به ترتیب 270 Hz و 360 Hz است . الف) بسامد اصلی و بسامد تشدید پس از 450 Hz هر کدام چند هرتز هستند ؟ ب) اگر تندی انتشار موج عرضی در تار 180 m/s باشد ، طول تار چند متر است ؟	۱ ۰/۵
دانش آموز عزیز جهت کسب ۴ نمره از بین سؤالات ۱۶ تا ۲۳ ، فقط ۴ سؤال را به دلخواه انتخاب کنید و پاسخ دهید.		
ردیف	بخش (ب) سؤالات انتخابی (پاسخ نامه دارد)	نمره
۱۶	متحرکی در امتداد محور x با سرعت ثابت در حرکت است . اگر این متحرک در $t_1 = 0 \text{ s}$ در مکان $x_1 = -20 \text{ m}$ و در $t_2 = 16 \text{ s}$ در مکان $x_2 = 60 \text{ m}$ باشد ، معادله مکان - زمان متحرک را در SI بنویسید .	۱
۱۷	شخصی یک جعبه 40 کیلوگرمی را بر روی یک سطح افقی به ضریب اصطکاک جنبشی 0.25 توسط یک طناب افقی می کشد . اگر نیروی کشش طناب 400 N باشد ، شتاب حرکت جعبه چقدر است ؟ ($g = 10 \text{ m/s}^2$)	۱
۱۸	طول آونگ ساده ای 160 سانتی متر است . تعداد 50 نوسان این آونگ ، چند دقیقه طول می کشد ؟ ($g = 10 \text{ m/s}^2$ ، $\pi = 3$)	۱
۱۹	پاشندگی نور را تعریف کنید و علت آن را توضیح دهید .	۱
۲۰	در پدیده فوتوالکتریک ، تابع کار را تعریف کرده و نمودار بیشینه انرژی جنبشی فوتوالکترون ها بر حسب بسامد نور فرودی را رسم کنید .	۱
۲۱	با استفاده از رابطه بور برای انرژی الکترون در اتم هیدروژن ، اختلاف انرژی $(4 \rightarrow 2)$ ΔE را محاسبه کنید . ($E_R = 13/6 \text{ eV}$)	۱
۲۲	قسمت های اصلی یک راکتور هسته ای را نام ببرید . (۴ مورد)	۱
۲۳	نیمه عمر Y برابر 8 روز است . پس از گذشت 40 روز چه کسری از هسته های اولیه در محیط باقی می ماند ؟	۱
۲۴	موفق و سربلند باشید	جمع بارم

راهنمای تصحیح امتحان نهایی درس فیزیک ۳	رشته: ریاضی فیزیک
پایه دوازدهم دوره دوم متوسطه	تاریخ امتحان: ۱۳۹۹ / ۳ / ۲۵
دانش آموزان روزانه سراسر کشور در نوبت خرداد ماه سال ۱۳۹۹	مرکز سنجش و پایش کیفیت آموزشی http://aee.medu.ir

ردیف	پاسخ ها	نمره
۱	الف) جابجایی ت) مماس ب) تغییر سرعت ث) شتاب لحظه ای پ) با سرعت ثابت (یکنواخت)	۱/۲۵ هر مورد (۰/۲۵) ص ۲ و ۷ و ۱۰ و ۱۱
۲	الف) (۰/۵) ب) (۰/۵) $\Delta x = S$ (۰/۲۵) $\Delta x = \left(\frac{10 \times 15}{2}\right) = 75 \text{ m}$ $a_{av} = \frac{v - v_0}{t}$ (۰/۲۵) $a_{av} = \frac{0 - 10}{10} = -1 \text{ m/s}^2$	۱/۵ ص ۱۱ و ۱۷
۳	الف) (۰/۲۵) ب) (۰/۲۵) ت) (۰/۲۵) رسم نمودار (ب) (۰/۵) $\Delta y = -\frac{1}{2} g t^2$ $-125 = -5 t^2$ $t = 5 \text{ s}$	۱/۲۵ ص ۲۴ 
۴	الف) (د) ب) (د) پ) (ن) ت) (د) ث) (ن)	۱/۲۵ هر مورد (۰/۲۵) ص ۴۹ و ۵۱ و ۵۲ و ۵۴ و ۵۵
۵	الف) ثابت می ماند ب) افزایش می یابد پ) افزایش می یابد	۰/۷۵ هر مورد (۰/۲۵) ص ۵۹
۶	الف) (۰/۲۵) ب) (۰/۲۵) پ) (۰/۲۵) ت) (۰/۲۵) ث) (۰/۲۵) $mg - F_c = ma$ $x = 2 / 4 \text{ cm}$ $20 - 10x = 2(-2)$ $x = L_2 - L_1$ $10x = 24$ $L_2 = 17 / 4 \text{ cm}$	۱/۲۵ ص ۵۸
۷	الف) (۰/۲۵) ب) (۰/۲۵) پ) (۰/۲۵) ت) (۰/۲۵) ث) (۰/۲۵) $F_{av} = 1500 \text{ N}$ $ F_{av} = \left \frac{60 \times (-5)}{0.2} \right $ $F_{av} = \frac{\Delta p}{\Delta t} = \frac{m(\Delta v)}{\Delta t}$	۱ ص ۵۹
۸	الف) عرضی ب) بیشتر پ) افزایش ت) سرخ	۱ هر مورد (۰/۲۵) ص ۷۵ و ۷۷ و ۸۲ و ۸۳
۹	الف) (۰/۲۵) ب) (۰/۲۵) پ) (۰/۲۵) ت) (۰/۲۵) ث) (۰/۲۵) $v_{max} = \pi \text{ m/s}$ $E = 0.05 \pi^2 \text{ J}$ $v_{max} = A\omega$ (۰/۲۵) $v_{max} = 0.02 \times 50\pi$ (۰/۲۵) $E = \frac{1}{2} m \omega^2 A^2$ (۰/۲۵) $E = \frac{1}{2} \times 0.1 \times 2500 \times \pi^2 \times 4 \times 10^{-4}$ (۰/۲۵)	۱/۵ ص ۶۷
۱۰	پایین (۰/۲۵)، رسم درست شکل (۰/۵) 	۰/۷۵ ص ۸۶
۱۱	الف) (۰/۲۵) ب) (۰/۲۵) پ) (۰/۲۵) ت) (۰/۲۵) ث) (۰/۲۵) $\Delta\beta = 20 \text{ dB}$ $\Delta\beta = 10 \log \frac{I_2}{I_1}$ (۰/۲۵) $\Delta\beta = 10 \log \frac{100 I_1}{I_1}$ (۰/۲۵)	۰/۷۵ ص ۸۱

ادامه پاسخ ها در صفحه دوم

راهنمای تصحیح امتحان نهایی درس فیزیک ۳	رشته: ریاضی فیزیک
پایه دوازدهم دوره دوم متوسطه	تاریخ امتحان: ۱۳۹۹ / ۳ / ۲۵
دانش آموزان روزانه سراسر کشور در نوبت خرداد ماه سال ۱۳۹۹	مرکز سنجش و پایش کیفیت آموزشی http://aee.medu.ir

ردیف	پاسخ ها	نمره
۱۲	رسم درست پرتوها (۰/۵) تعیین زاویه بازتاب در هر دو آینه (۰/۵)	۱
		ص ۱۱۱
۱۳	طول موج کاهش می یابد، بسامد ثابت می ماند و تندی انتشار کاهش می یابد	هر مورد (۰/۲۵) ص ۱۱۲
۱۴	الف) بیشتر می شود ب) کمتر می شود	هر مورد (۰/۲۵) ص ۱۱۳
۱۵	الف) $f_6 = 6f_1 = 540 \text{ Hz}$ (۰/۵) ب) 1 m (۰/۲۵)	$f_{n+1} - f_n = f_1$ (۰/۲۵) $f_1 = 360 - 270 = 90 \text{ Hz}$ (۰/۲۵) $f = \frac{nv}{2L}$ (۰/۲۵) $90 = \frac{1 \times 180}{2L}$
ص ۱۱۴		
۱۶	$x = vt$ (۰/۲۵) $x = 5t - 20$ (۰/۲۵)	$v = \frac{\Delta x}{\Delta t} = \frac{60 - (-20)}{16} = 5 \text{ m/s}$ (۰/۵)
ص ۲۷		
۱۷	$a = 7/5 \text{ m/s}^2$ (۰/۲۵)	$f_k = \mu_k F_N = 0/25 \times 400 = 100 \text{ N}$ (۰/۵) $T - f_k = ma$ (۰/۲۵)
ص ۴۴		
۱۸	$t = \frac{50 \times 2/4}{60} = 2 \text{ min}$ (۰/۵)	$T = 2\pi \sqrt{\frac{L}{g}} = 2 \times 3 \sqrt{\frac{1/6}{10}} = 2/4 \text{ s}$ (۰/۵)
ص ۶۷		
۱۹	تجزیه نور سفید در منشور به نورهای رنگی مختلف (۰/۵)، ضریب شکست هر محیط (به جز خلأ) به طول موج نور بستگی دارد، بنابراین پرتوها هنگام عبور از مرز دو محیط در زاویه های مختلفی، شکسته می شوند. (۰/۵)	ص ۱۰۰
۲۰	کمترین انرژی لازم برای خارج کردن الکترون ها از سطح فلز (۰/۵)، رسم نمودار (۰/۵)	ص ۱۱۸
		
۲۱	$\Delta E = 2/55 \text{ eV}$ (۰/۲۵)	$\Delta E = E_R \left(\frac{1}{n^2} - \frac{1}{n'^2} \right)$ (۰/۲۵) $\Delta E = 13/6 \times \left(\frac{1}{4} - \frac{1}{16} \right)$ (۰/۵)
ص ۱۳۵		
۲۲	سوخت هسته ای، ماده کُندساز، میله های کنترل، شاره ای برای خنک کردن	هر مورد (۰/۲۵) ص ۱۵۱
۲۳	$N = \frac{N_0}{2^n} = \frac{N_0}{2^5} = \frac{1}{32} N_0$ (۰/۵)	$n = \frac{t}{T} = \frac{40}{8} = 5$ (۰/۵)
ص ۱۴۷		
۲۴	همکاران محترم، ضمن عرض خسته نباشید لطفاً برای پاسخ های درست دیگر، نمره لازم را در نظر بگیرید.	


تلاشی در مسیر معرفت



- دانلود گام به گام تمام دروس ✓
- دانلود آزمون های قلم چی و گاج + پاسخنامه ✓
- دانلود جزوه های آموزشی و شب امتحانی ✓
- دانلود نمونه سوالات امتحانی ✓
- مشاوره کنکور ✓
- فیلم های انگیزشی ✓

 www.ToranjBook.Net

 [ToranjBook_Net](https://t.me/ToranjBook_Net)

 [ToranjBook_Net](https://www.instagram.com/ToranjBook_Net)