

تلاشی در مسیر موفقیت




- دانلود گام به گام تمام دروس ✓
- دانلود آزمون های قلم چی و گاج + پاسخنامه ✓
- دانلود جزوه های آموزشی و شب امتحانی ✓
- دانلود نمونه سوالات امتحانی ✓
- مشاوره کنکور ✓
- فیلم های انگیزشی ✓

 Www.ToranjBook.Net

 [ToranjBook_Net](https://t.me/ToranjBook_Net)

 [ToranjBook_Net](https://www.instagram.com/ToranjBook_Net)

عجبت راجع الیارات بزرگ



(۱)

باسمه تعالی

پایه: دهم
رشته: علوم انسانی
تاریخ امتحان: ۱۴۰۰/۱۰/۱۶
ساعت شروع امتحان: ۹:۳۰
مدت امتحان: ۷۵ دقیقه

اداره کل آموزش و پرورش استان مازندران
مدیریت آموزش و پرورش شهرستان بهشهر
دبیرستان دخترانه نمونه دولتی شهید بهشتی
لیسه سال اول ۱۴۰۰
(مهر آموزشگاه)

نام و نام خانوادگی:
نام دبیر:
مراج سوال: منصوره لادی
نام درس: اقتصاد
تعداد صفحات: ۴

تصحیح	نام و نام خانوادگی دبیر:	نمره به عدد:	تجدید نظر	نام و نام خانوادگی دبیر:	نمره به عدد:
	تاریخ و امضاء:	نمره به حروف:		تاریخ و امضاء:	نمره به حروف:

ردیف سوالات

بارم	سوال	ردیف
	الف) صحیح و غلط بودن عبارات زیر را مشخص کنید و در صورت غلط بودن عبارتی، صحیح آن را بنویسید.	
۰/۱۵	۱. آدام اسمیت یکی از شاخص ترین چهره ها در نظام فکری اقتصاد بازار آزاد است. ص غ	۱
۰/۱۵	۲. مالیات بر ارث، مهم ترین نوع مالیات است. ص غ	۲
۰/۱۵	۳. امروزه بسیاری از کسب و کارها در ایران به شکل شخصی اند. ص غ	۳
۰/۱۵	۴. موسسات غیر انتفاعی و خیریه، کسب و کاری است که با هدف تامین نیازمندی های اعضا تشکیل می شود. ص غ	۴
۰/۲۵	۵. ب) پاسخ های درست را انتخاب نمایید. تولیدکننده چه هنگام ضرر می کند؟ الف: وقتی درآمد از هزینه بیشتر باشد <input type="checkbox"/> ج: وقتی درآمد با هزینه برابر باشد <input type="checkbox"/> د: وقتی درآمد از هزینه کمتر باشد <input type="checkbox"/> ب: با فروش محصول خود <input type="checkbox"/>	۵
۰/۲۵	۶. کدامیک از موارد زیر از ویژگیهای کارآفرینان موفق نمی باشد؟ الف: حسابگر <input type="checkbox"/> ب: نوآور <input type="checkbox"/> ج: ریسک پذیر <input type="checkbox"/> د: تیزبین <input type="checkbox"/>	۶
۰/۲۵	۷. در جریان چرخش ساده تولید، در بازار عوامل تولید به ترتیب چه کسانی خریدار و فروشنده هستند؟ الف: بنگاهها خریدار و دولت فروشنده <input type="checkbox"/> ج: خانوار خریدار و بنگاهها فروشنده <input type="checkbox"/> د: دولت فروشنده و خانوار خریدار <input type="checkbox"/> ب: بنگاه ها خریدار و خانوار فروشنده <input type="checkbox"/>	۷
۰/۲۵	۸. کدام عبارت زیر نادرست میباشد؟ الف: فروشندگان همان بنگاه های ارائه کننده کالا یا خدمات و نیز عوامل فروش آنها هستند <input type="checkbox"/> ب: وقتی مقدار عرضه و تقاضا با هم برابر باشد در بازار تعادل ایجاد می شود. <input type="checkbox"/> ج: طبق قانون عرضه، با افزایش قیمت، مقدار عرضه از هر کالا کاهش می یابد. <input type="checkbox"/> د: به مجموعه خریداران و فروشندگان چیزی در هر جای ممکن، بازار اطلاق می شود. <input type="checkbox"/>	۸
۱	۹. ب) مفاهیم زیر را تعریف کنید. کارآفرین:	۹
۱	بازار:	۱۰
۱	الگو:	۱۱

جمع نمرات صحیح "ادامه سوالات در صفحه دوم" ۶



باسمه تعالی

نام و نام خانوادگی:
 نام دبیر:
 مدرک سوال: مضمونه نادی
 نام درس: اقتصاد
 تعداد صفحه: ۴

اداره کل آموزش و پرورش استان مازندران
 مدیریت آموزش و پرورش شهرستان بهشهر
 دبیرستان دخترانه نمونه دولتی شهید بهشتی
 نیمسال اول ۱۴۰۰
 (مهر آموزشگاه)

پایه: دهم
 رشته: علوم انسانی
 تاریخ امتحان: ۱۴۰۰/۱۱/۳۱
 ساعت شروع امتحان: ۹:۳۰
 مدت امتحان: ۷۵ دقیقه

ردیف	سوالات	بارم										
۱۲	<p>هر یک از مزایا و ویژگی های مشخص شده در جدول، مربوط به کدام نوع کسب و کار می باشد؟ (با رسم خط به هم متصل کنید) (یک مورد از انواع کسب و کارها اضافی است).</p> <p>مزایا و ویژگی های کسب و کارها انواع کسب و کارها</p> <p>۱- امکان رقابت بالاتر ○ ○ الف: شخصی</p> <p>۲- مالکیت کامل سود ○ ○ ب: شرکت</p> <p>۳- با هدفی غیر تجاری شکل گرفته است ○ ○ ج: تجاری</p> <p>۴- هر یک از اعضا یک رای خواهد داشت ○ ○ د: تعاونی</p> <p>○ ر: موسسات غیر انتفاعی</p>	۱										
۱۳	ت) جاهای خالی را با عبارات مناسب کامل نمایید. اگر درآمد بودجه از هزینه ها بیشتر باشد با روبرو هستیم.	۰/۱۵										
۱۴ یک سند مالکیت است و نشان می دهد که دارنده آن بخشی از مالکیت شرکت را در اختیار دارد و در سود و زیان آن شریک است.	۰/۱۵										
۱۵	وظایف دولت، بهبود عملکرد بازار و می باشد.	۰/۱۵										
۱۶	یک نمونه از پیمان شکنی های آمریکا در قراردادهایش می باشد.	۰/۱۵										
۱۷	ث) هر یک از موارد زیر مربوط به کدام اشتباه رایج در تصمیم گیری است؟ وقتی فقط به دلیل اینکه حراج یا فروش ویژه اعلام شده، خرید می کنیم؟	۰/۱۵										
۱۸	وقتی در زمینه های پرخطر بدون آمادگی لازم خرید می کنیم؟	۰/۱۵										
۱۹	<p>هر یک از گزاره های زیر را در یکی از منابع کمیاب (منابع طبیعی، نیروی کار، سرمایه فیزیکی، سرمایه انسانی) طبقه بندی کنید.</p> <table border="1"> <thead> <tr> <th>منابع کمیاب</th> <th>گزاره</th> </tr> </thead> <tbody> <tr> <td>.....</td> <td>باغچه خایه که در آن سبزی کاشته اند</td> </tr> <tr> <td>.....</td> <td>زحمتی که برای نگهداری باغچه تان می کشید</td> </tr> <tr> <td>.....</td> <td>بولی که تان خبثتان است</td> </tr> <tr> <td>.....</td> <td>تراکتوری که برای کشاورزی استفاده می کنید</td> </tr> </tbody> </table>	منابع کمیاب	گزاره	باغچه خایه که در آن سبزی کاشته اند	زحمتی که برای نگهداری باغچه تان می کشید	بولی که تان خبثتان است	تراکتوری که برای کشاورزی استفاده می کنید	۱
منابع کمیاب	گزاره											
.....	باغچه خایه که در آن سبزی کاشته اند											
.....	زحمتی که برای نگهداری باغچه تان می کشید											
.....	بولی که تان خبثتان است											
.....	تراکتوری که برای کشاورزی استفاده می کنید											
۲۰	ج) نوع مالیات را در هر یک از موارد زیر تعیین کنید. دولت تصمیم می گیرد که فقط از کالاهای خاصی در مقادیر مشخصی پس از خرید مالیات بگیرد؟	۰/۱۵										
۲۱ شرکت ها باید درصدی از سود خود را به عنوان مالیات به دولت بپردازند؟	۰/۱۵										
۶	جمع نمرات صفحه											
"ادامه سوالات در صفحه سوم"												



باسمه تعالی

اداره کل آموزش و پرورش استان مازندران

مدیریت آموزش و پرورش شهرستان بهشهر

دبیرستان دخترانه نمونه دولتی شهید بهشتی

نیمسال اول ۱۴۰۰

(مهر آموزشگاه)

نام و نام خانوادگی:

نام دبیر:

مراج سوال: مسموره نادئ

نام درس: اقتصاد

تعداد صفحه: ۴

پایه: دهم

رشته: علوم انسانی

تاریخ امتحان: ۱۴۰۰/۱۰/۲۹

ساعت شروع امتحان: ۹:۳۰

مدت امتحان: ۷۵ دقیقه

ردیف	سوالات	بارم
۲۲	چ) به سوالات تشریحی زیر پاسخ دهید. این تصمیم را تحلیل کنید: "من واقعا آن تئاتر را دوست نداشتم ولی ترجیح دادم بمانم، زیرا پول زیادی برای آن داده بودم."	۱
۲۳	اصولی که قبل از هر تصمیم گیری باید رعایت کرد، چیست؟ (ذکر ۲ مورد)	۱
۲۴	منظور از جمله "چیزی به نام ناهار مجانی وجود ندارد" چیست؟	۱
۲۵	مفهوم مزیت مطلق را با مثال توضیح دهید.	۱
۲۶	با توجه به اطلاعات داده شده درباره کارگاه تولیدی زیر، حساب کنید که این کارگاه در طول یکسال سودده است یا زیان ده؟ - خرید مواد اولیه برای تولید ماهانه: ۱۰ میلیون تومان - پول آب و برق و گاز و مالیات سالیانه: ۲۰ میلیون تومان - دستمزد ماهیانه هر کارگر: ۱ میلیون تومان (مجموعا ۵ کارگر) - درآمد سالانه کارگاه: ۲۵۰ میلیون تومان	۱
	"ادامه سوالات در صفحه چهارم"	۵
	جمع نمرات صفحه	



باسمه تعالی

نام و نام خانوادگی:
 نام دبیر:
 ملحق سوال: منصوره نادری
 نام درس: اقتصاد
 تعداد صفحات: ۴

اداره کل آموزش و پرورش استان مازندران
 مدیریت آموزش و پرورش شهرستان بهشهر
 دبیرستان دخترانه نمونه دولتی شهید بهشتی
 نیمسال اول ۱۴۰۰
 (مهر آموزشگاه)

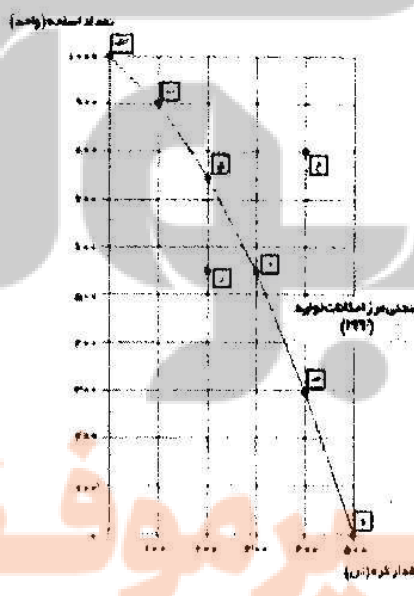
پایه: دهم
 رشته: علوم انسانی
 تاریخ امتحان: ۱۴۰۰/۱۱/۲۱
 ساعت شروع امتحان: ۹:۳۰
 مدت امتحان: ۷۵ دقیقه

بارم	سوالات	رحیفه
------	--------	-------

جدول زیر را کامل کنید و سپس منحنی تقاضا را در نمودار مختصات رسم نمایید و نمودار را تفسیر کنید.

تقاضا به کیلو	قیمت گوشت به تومان
۲۰۰	۱۰۰۰
.....	۲۰۰۰
.....	۳۰۰۰
.....	۴۰۰۰

- ح) با توجه به نمودار زیر، به سوالات زیر پاسخ دهید.
- ۲۸ چند واحد کره در نقطه د تولید شده است؟.....
 - ۲۹ چه تعداد اسلحه در نقطه الف تولید شده است؟.....
 - ۳۰ با جابجا شدن از نقطه د به نقطه ب چه تعداد اسلحه بیشتر تولید میشود؟.....
 - ۳۱ چرا نقطه ز ناکاراست؟.....
 - ۳۲ چرا دسترسی به نقطه ج غیر ممکن است؟.....
 - ۳۳ در کدام نقاط در نمودار قرار بگیریم تا در حالت کارایی باشیم؟.....



جمع نمرات ۲۰ عزیزم، به خاطر بسیار، زمان برای هیچ کس منتظر نمی ماند. به وز باشید



بسمه تعالی

جمهوری اسلامی ایران

اداره کل آموزش و پرورش استان مازندران

مديریت آموزش و پرورش شهرستان بهشهر

دبيرستان دخترانه نمونه دولتی شهید بهشتی

نیمسال اول ۱۴۰۰

نام درس: اقتصاد		پایه و رشته: دهم انسانی	نام دبیر و طراح سوال: منصوره نادی
تاریخ امتحان: ۱۴۰۰/۱۰/۲۹		مدت زمان: ۷۵ دقیقه	ساعت شروع: ۹:۳۰
ردیف	راهنمای تصحیح	بارم	
۱	صحیح	۰/۱۵	
۲	غلط (مالیات بر درآمد)	۰/۱۵	
۳	صحیح	۰/۱۵	
۴	غلط (شرکت تعاونی)	۰/۱۵	
۵	د: وقتی درآمد از هزینه کمتر باشد	۰/۲۵	
۶	الف: حسابگر	۰/۲۵	
۷	ب: بنگاه ها خریدار و خانوار فروشنده	۰/۲۵	
۸	ج: طبق قانون عرضه، با افزایش قیمت، مقدار عرضه از هر کالا کاهش می یابد	۰/۲۵	
۹	کارآفرین کسی است که با نوآوری و خطرپذیری، محصولات جدیدی تولید و عرضه میکند یا راههای جدیدی برای تولید کشف میکند.	۱	
۱۰	به مجموعه خریداران (تقاضاکنندگان) و فروشندگان (عرضه کنندگان) هر چیزی در هر جایی بازار گفته می شود.	۱	
۱۱	الگو نمایشی ساده از واقعیتی پیچیده است.	۱	
۱۲	<p>مزایا و ویژگی های کسب و کارها</p> <p>۱- امکان رقابت بالاتر ۲- مالکیت کامل سود ۳- با هدفی غیر تجاری شکل گرفته است ۴- هر یک از اعضا یک رای خواهد داشت</p> <p>انواع کسب و کارها</p> <p>الف: شخصی ب: شرکت ج: تجاری د: تعاونی ز: موسسات غیر انتفاعی</p>	۱	
۱۳	مازاد بودجه	۰/۱۵	
۱۴	سهام	۰/۱۵	
۱۵	ارائه کالای عمومی	۰/۱۵	
۱۶	توافق آب و هوایی پاریس، توافق نامه آسیا-پاسفیک، برجام، پیمان جهانی سازمان ملل برای بهبود وضعیت مهاجران و پناهندگان. (ذکر یک مورد کافیست)	۰/۱۵	
۱۷	اثرگذاری حقه های فروش بر تصمیم گیری	۰/۱۵	
۱۸	اعتماد به نفس بیش از حد یا خودرایی بودن	۰/۱۵	

۱	منابع کمیاب	گزاره	۱۹										
	سرمایه انسانی	زحمتی که برای نگهداری باغچه تان می کشید											
	سرمایه فیزیکی	تراکتوری که برای کشاورزی استفاده می کنید											
۰/۵		مالیات بر مصرف	۲۰										
۰/۵		مالیات بر درآمد	۲۱										
۱	این تصمیم یکی از اشتباهات رایج در تصمیم گیری است که توجه به هزینه های دررفته است. در حالی که گفتیم نباید در تصمیم گیریها به هزینه هایی که گذشته توجه کنیم.		۲۲										
۱	۱- هزینه فرصت هر انتخاب را محاسبه کنید ۲- منابع کمیاب خود را شناسایی کنید ۳- قید بودجه خود را ترسیم کنید ۴- بین هزینه ها و منافع خود مقایسه کنید ۵- هزینه های دررفته را فراموش کنید (ذکر دو مورد)		۲۳										
۱	در اقتصاد از این جمله برای اشاره به بعضی از مدارس که در گذشته ناهار رایگان به دانش آموزان میدادند، استفاده میشود. ناهاری که حتی اگر برای دانش آموزان رایگان باشد، برای جامعه رایگان نیست. تولید غذا به منابع نیاز دارد. از این منابع میتوان برای تولید چیزهای دیگر استفاده کرد. بنابراین برای داشتن ناهار رایگان باید بپذیریم که از بعضی کالاها یا خدمات دیگر کمتر داشته باشیم.		۲۴										
۱	دو کشور ایران و برزیل را در نظر بگیرید. برای سادگی، فرض کنید: هر دو کشور به یک اندازه از نیروی کار، سرمایه و دانش فنی برخوردارند. فقط غذا و پوشاک با قیمت های یکسان تولید می شوند. هر دو کشور اگر همه عوامل تولیدشان را با اشتغال کامل برای تولید غذا به کار بگیرند، ایران ۶۰ واحد و برزیل ۴۰ واحد تولید می کند. هر دو کشور اگر همه عوامل تولیدشان را با اشتغال کامل برای تولید پوشاک به کار بگیرند، ایران ۳۰ واحد و برزیل ۷۰ واحد تولید می کند. در این صورت می گوئیم برزیل در تولید پوشاک و ایران در تولید غذا «مزیت مطلق» دارند. در نتیجه بهتر است در محصولی که مزیت دارند، تخصص و تمرکز یابند و محصولات خود را با یکدیگر مبادله کنند. با این تقسیم کار، رفاه مردم دو کشور و نیز مجموع تولید جهان افزایش می یابد.		۲۵										
۱	<p>مواد اولیه $12 \times 1000000 = 12000000$</p> <p>پول آب و برق و گاز و مالیات 2000000</p> <p>دستمزد کارگران $12 \times 1000000 = 12000000 \times 5 = 60000000$</p> <p>مجموع هزینه های سالانه $12000000 + 2000000 + 60000000 = 74000000$</p> <p>سود ده بوده $5000000 + 20000000 = 25000000$ هزینه - درآمد = سود</p>		۲۶										
۱/۵		<table border="1"> <thead> <tr> <th>تقاضا به کیلو</th> <th>قیمت به ریال</th> </tr> </thead> <tbody> <tr> <td>۲۰۰</td> <td>۱۰۰۰</td> </tr> <tr> <td>۱۵۰</td> <td>۲۰۰۰</td> </tr> <tr> <td>۱۰۰</td> <td>۳۰۰۰</td> </tr> <tr> <td>۵۰</td> <td>۴۰۰۰</td> </tr> </tbody> </table>	تقاضا به کیلو	قیمت به ریال	۲۰۰	۱۰۰۰	۱۵۰	۲۰۰۰	۱۰۰	۳۰۰۰	۵۰	۴۰۰۰	۲۷
تقاضا به کیلو	قیمت به ریال												
۲۰۰	۱۰۰۰												
۱۵۰	۲۰۰۰												
۱۰۰	۳۰۰۰												
۵۰	۴۰۰۰												
<p>منحنی نزولی است یعنی با افزایش قیمت تقاضا کاهش و با کاهش قیمت تقاضا افزایش می یابد.</p> <p>(اعداد میتواند متفاوت باشد)</p>													
۱/۵	<p>ح ۲۸ - ۳۰ واحد ۲۹ - ۱۰۰۰ اسلحه ۳۰ - ۳۵۰ اسلحه بیشتر</p> <p>۲۱- زیر نمودار مرز امکانات تولید قرار دارد و در این نقطه از امکانات به صورت بهینه استفاده نشده است.</p> <p>۳۲- زیرا امکانات کافی برای دسترسی به این نقطه وجود ندارد. ۳۳- نقاطی که روی مرز امکانات تولید قرار دارند</p>												
۲۰	جمع نمرات	منصوره نادى	دى ماه ۱۴۰۰										


تلاشی در مسیر موفقیت



- دانلود گام به گام تمام دروس ✓
- دانلود آزمون های قلم چی و گاج + پاسخنامه ✓
- دانلود جزوه های آموزشی و شب امتحانی ✓
- دانلود نمونه سوالات امتحانی ✓
- مشاوره کنکور ✓
- فیلم های انگیزشی ✓

 Www.ToranjBook.Net

 [ToranjBook_Net](https://t.me/ToranjBook_Net)

 [ToranjBook_Net](https://www.instagram.com/ToranjBook_Net)