


تلاشی در مسیر موفقیت




- دانلود گام به گام تمام دروس ✓
- دانلود آزمون های قلم چی و گاج + پاسخنامه ✓
- دانلود جزوه های آموزشی و شب امتحانی ✓
- دانلود نمونه سوالات امتحانی ✓
- مشاوره کنکور ✓
- فیلم های انگیزشی ✓

 [Www.ToranjBook.Net](http://Www.ToranjBook.Net)

 [ToranjBook\\_Net](https://t.me/ToranjBook_Net)

 [ToranjBook\\_Net](https://www.instagram.com/ToranjBook_Net)



**باسمه تعالی**

نام و نام خانوادگی: .....  
 نام دبیر: .....  
 مراح سوال: منصوره نادى  
 نام درس: اقتصاد  
 تعداد صفحه: ۴

اداره کل آموزش و پرورش استان مازندران  
 کارشناس سنجش و ارزش تحصیلی  
 اداره آموزش و پرورش شهرستان بهشهر  
 دبیرستان دخترانه نمونه دولتی شهید بهشتی  
 ( مهر آموزشگاه )

تصحیح	نام و نام خانوادگی دبیر:	نمره به عدد:	تجدید نظر
	نام و نام خانوادگی دبیر:	نمره به حروف:	تاریخ و امضاء:
	تاریخ و امضاء:	نمره به حروف:	تاریخ و امضاء:

**سوالات**

ردیف	سوالات	بارم
	<b>الف) صحیح و غلط بودن عبارات زیر را مشخص کنید و در صورت غلط بودن عبارتی، صحیح آن را بنویسید.</b>	
۱	اگر میزان درآمد از هزینه بیشتر باشد، تولید کننده از فعالیت خود سود برده است. ص غ	۰/۱۵
۲	مرز امکانات تولید، نمایشی ساده از واقعیتی پیچیده است. ص غ	۰/۱۵
۳	اولین مرحله از خرید مقایسه ای، فهرست گزینه ها است. ص غ	۰/۱۵
۴	به قیمت اولیه سهام که شرکت برای بار اول می فروشد، قیمت رتبه ای می گویند. ص غ	۰/۱۵
۵	ب) پاسخ های درست را انتخاب نمایید. نخستین اسکناس چه بود و پشتوانه آنها چه بود؟ الف: پول کاغذی، پشتوانه آنها رسیده های نزد بازرگانان بود <input type="checkbox"/> ب: رسیده های صادره بازرگانان، پشتوانه آنها طلا و نقره نزد بازرگانان بود <input type="checkbox"/> ج: کالاهای خاص، پشتوانه آنها طلا و نقره نزد بازرگانان بود <input type="checkbox"/> د: چک و سفته، پشتوانه آنها رسیده های نزد بازرگانان بود <input type="checkbox"/>	۰/۲۵
۶	"خرید اقساطی و رد و بدل کردن حواله های بانکی" به کدام وظیفه پول اشاره دارد؟ الف: وسیله پرداخت در مبادلات <input type="checkbox"/> ب: وسیله سنجش ارزش <input type="checkbox"/> ج: وسیله پرداخت های آینده <input type="checkbox"/> د: وسیله پس انداز و حفظ ارزش <input type="checkbox"/>	۰/۲۵
۷	کدام مورد در تولید ناخالص داخلی محاسبه نمی شود؟ الف: کار بدون دستمزد <input type="checkbox"/> ب: خرید و فروش کالاهای دست اول <input type="checkbox"/> ج: خدمات <input type="checkbox"/> د: فعالیت های کشاورزی <input type="checkbox"/>	۰/۲۵
۸	کدام گزینه در مورد "رشد" صحیح نمی باشد؟ الف: به معنای افزایش تولید است <input type="checkbox"/> ب: یک منشا رشد اقتصادی افزایش در منابع است <input type="checkbox"/> ج: با به کارگیری روش های بهتر و فناوری مناسب تر حاصل می شود <input type="checkbox"/> د: مفهوم کیفی است <input type="checkbox"/>	۰/۲۵
۹	پ) جاهای خالی را با عبارات مناسب کامل نمایید. یکی از مشکلات پول فلزی ..... می باشد.	۰/۱۵
۱۰	هر درآمدی که به دست می آوریم، اگر بعد از یکسال از مجموع مخارج ما زیاد بیاید، به همان	۰/۱۵
	میزانی که زیاد آمده مشمول ..... می شود.	۰/۱۵
۱۱	یکی از معیارهای شناسایی اسراف ..... می باشد.	۰/۱۵
۱۲	هنگامی که اقتصاد کشور گرفتار تورم می شود، بانک مرکزی سیاست ..... را به کار می گیرد.	۰/۱۵

**"ادامه سوالات در صفحه دوم"**

جمع نمرات مشتمل ۵

**باسمه تعالی**


نام و نام خانوادگی: ..... اداره کل آموزش و پرورش استان مازندران  
 نام دبیر: ..... کارشناس سنجش و ارزش تحصیلی  
 مدرج سوال: منصوره نادری ..... اداره آموزش و پرورش شهرستان بهشهر  
 نام درس: اقتصاد دبیرستان دخترانه نمونه دولتی شهید بهشتی  
 تعداد صفحه: ۴ (مهر آموزشگاه)

نوبت امتحانی: دوم  
 پایه: دهم انسانی  
 تاریخ امتحان: ۱۴۰۳/۳/۲۸  
 ساعت شروع امتحان: ۱۰:۳۰  
 مدت امتحان: ۷۵ دقیقه

ردیف	سوالات	بارم
۱۳	کدام یک از مفاهیم ستون ب، جواب سوالات ستون الف می باشد؟ (یک مورد اضافی است). ستون الف ۱- بیکاری که در هنگام رکود اقتصادی رخ می دهد ۲- این نوع بیکاری کوتاه مدت است و در همه کشورها وجود دارد ۳- کارگران ساختمانی و کشاورزان را شامل می شود ۴- وقتی نیروی کار ساده در اقتصاد وجود داشته باشد ولی نیروی کار متخصص مورد نیاز باشد، جامعه دچار این نوع بیکاری است الف: بیکاری ساختاری ب: بیکاری آشکار ج: بیکاری دوره ای د: بیکاری فصلی ر: بیکاری اصطلاحی	۱
۱۴	ت) مفاهیم زیر را تعریف کنید. اقتصاد مقاومتی:	۱
۱۵	تولید ناخالص داخلی:	۱
۱۶	ث) در هر یک از موارد زیر مشخص کنید که فرد توصیف شده، از تورم زیان می بیند یا سود می برد؟ بازنشسته ای با یک حقوق ثابت بازنشستگی در طول دوره تورم؟ .....	۰/۵
۱۷	مغازه داری که مجبور است قیمت محصولاتش را بعد از افزایش قیمت، به روز رسانی کند؟ .....	۰/۵
۱۸	ج) تصمیمات زیر به کدام اشتباه رایج در تصمیم گیری اشاره دارد؟ کلاس بی کیفیتی را چون پول داده اید تا آخر می روید؟	۰/۵
۱۹	برای تامین هزینه های مصرف فعلی، زیر بار سنگین انواع بدهی می روید؟	۰/۵
۲۰	ج) نوع مالیات را در هر یک از موارد زیر تعیین کنید. مهم ترین نوع مالیات؟ .....	۰/۵
۲۱	یکی از مهم ترین انواع مالیات های غیر مستقیم؟ .....	۰/۵
۲۲	ح) در هر یک از موقعیت های زیر بهترین راه سرمایه گذاری پس انداز را پیشنهاد دهید. صابر ۵۰۰ هزار تومان پول دارد و می خواهد هر موقع که خواست بتواند بدون جریمه پولش را دریافت کند. ....	۰/۵
۲۳	ناصر دو میلیون تومان پس انداز دارد، او تا پنج سال دیگر به پولش نیاز دارد. اما می خواهد بیشترین سود ممکن را ببرد. ....	۰/۵
۷	"ادامه سوالات در صفحه سوم"	جمع نمرات صفحه

نوبت امتحان: دوم  
 تاریخ: ۱۳۹۷/۰۳/۰۸  
 ساعت شروع امتحان: ۸:۳۰  
 مدت امتحان: ۷۵ دقیقه

باسمه تعالی  
 اداره کل آموزش و پرورش استان مازندران  
 کارشناس سنجش و ارزش تحصیلی  
 اداره آموزش و پرورش شهرستان بهشهر  
 دبیرستان دخترانه نمونه دولتی شهید بهشتی  
 ( مهر آموزشگاه )  
 نام و نام خانوادگی: .....  
 نام دبیر: .....  
 مطرح سوال: منصوره نادج  
 نام درس: اقتصاد  
 تعداد صفحه: ۴

ردیف	سوالات	بارم
۲۴	خ) به سوالات تشریحی زیر پاسخ دهید. دو مورد از مزایای خرید مقایسه ای را بنویسید.	۱
۲۵	دلایل جایگاه ویژه ایران در اقتصاد جهان در دوره ایران باستان چه بود؟	۱
۲۶	دو نمونه از اقدامات مذهبی و ملی در دوره قاجار را نام ببرید.	۱
۲۷	مفهوم مزیت مطلق را با مثال توضیح دهید.	۱
۲۸	نرخ بیکاری را با توجه به اطلاعات داده شده در جدول زیر مشخص کنید. 	۱
۵	جمع نمرات صفحه	"ادامه سوالات در صفحه چهارم"

تلاشی در مسیر موفقیت

باسمه تعالی

نام و نام خانوادگی: .....  
 نام دبیر: .....  
 مدرج سوال: منصوره نادری  
 نام درس: اقتصاد  
 تعداد صفحه: ۴

اداره کل آموزش و پرورش استان مازندران  
 کارشناس سنجش و ارزش تحصیلی  
 اداره آموزش و پرورش شهرستان بهشهر  
 دبیرستان دخترانه نمونه دولتی شهید بهشتی  
 (مهر آموزشگاه)

نوبت امتحان: دوم  
 پایه: دهم انسانی  
 تاریخ امتحان: ۱۴۰۱/۳/۲۸  
 ساعت شروع امتحان: ۱۰:۳۰  
 مدت امتحان: ۷۵ دقیقه

ردیف	سوالات	پارم																																																																																						
۲۹	<p>محمد حسن دانشجویست و به صورت پاره وقت کار می کند. درآمد سالیانه او ۱۷ میلیون تومان است. مخارج او نیز در جدول زیر آمده است. آیا او بیشتر از درآمد خود خرج می کند؟ به چه میزان؟</p> <table border="1"> <thead> <tr> <th>نوع خرج</th> <th>مقدار به میلیون تومان</th> </tr> </thead> <tbody> <tr> <td>اجاره خانه</td> <td>۵/۷۵</td> </tr> <tr> <td>خدمات رفاهی</td> <td>۲/۸۵</td> </tr> <tr> <td>قبوض</td> <td>۲/۲۵</td> </tr> <tr> <td>غذا</td> <td>۳/۷۵</td> </tr> <tr> <td>پوشاک</td> <td>۱/۸۵</td> </tr> <tr> <td>سفرها</td> <td>۱/۵۵</td> </tr> </tbody> </table>	نوع خرج	مقدار به میلیون تومان	اجاره خانه	۵/۷۵	خدمات رفاهی	۲/۸۵	قبوض	۲/۲۵	غذا	۳/۷۵	پوشاک	۱/۸۵	سفرها	۱/۵۵	۱																																																																								
نوع خرج	مقدار به میلیون تومان																																																																																							
اجاره خانه	۵/۷۵																																																																																							
خدمات رفاهی	۲/۸۵																																																																																							
قبوض	۲/۲۵																																																																																							
غذا	۳/۷۵																																																																																							
پوشاک	۱/۸۵																																																																																							
سفرها	۱/۵۵																																																																																							
۳۰	<p>جدول زیر را کامل کنید و سپس منحنی عرضه را در نمودار مختصات رسم نمایید.</p> <table border="1"> <thead> <tr> <th>عرضه به کیلو</th> <th>قیمت برنج به تومان</th> </tr> </thead> <tbody> <tr> <td>۴۰۰</td> <td>۲۰۰۰۰</td> </tr> <tr> <td>.....</td> <td>۳۰۰۰۰</td> </tr> <tr> <td>.....</td> <td>۴۰۰۰۰</td> </tr> <tr> <td>.....</td> <td>۵۰۰۰۰</td> </tr> </tbody> </table>	عرضه به کیلو	قیمت برنج به تومان	۴۰۰	۲۰۰۰۰	.....	۳۰۰۰۰	.....	۴۰۰۰۰	.....	۵۰۰۰۰	۱																																																																												
عرضه به کیلو	قیمت برنج به تومان																																																																																							
۴۰۰	۲۰۰۰۰																																																																																							
.....	۳۰۰۰۰																																																																																							
.....	۴۰۰۰۰																																																																																							
.....	۵۰۰۰۰																																																																																							
۳۱	<p>در کشوری با ده میلیون جمعیت، درآمد ملی معادل ۵۰۰۰۰ میلیارد ریال است. اگر فرض کنیم که توزیع درآمد در این کشور مطابق با درصدهای مشخص شده در جدول زیر است، سهم دهک اول و دهک ششم را تعیین کنید.</p> <table border="1"> <thead> <tr> <th>درصد</th> <th>سهم دهک</th> </tr> </thead> <tbody> <tr> <td>۳ درصد</td> <td>سهم دهک اول</td> </tr> <tr> <td>۱۲ درصد</td> <td>سهم دهک دوم</td> </tr> <tr> <td>۱۵ درصد</td> <td>سهم دهک سوم</td> </tr> <tr> <td>۱۸ درصد</td> <td>سهم دهک چهارم</td> </tr> <tr> <td>۲۲ درصد</td> <td>سهم دهک پنجم</td> </tr> <tr> <td>۲۸ درصد</td> <td>سهم دهک ششم</td> </tr> <tr> <td>۳۰ درصد</td> <td>سهم دهک هفتم</td> </tr> <tr> <td>۳۲ درصد</td> <td>سهم دهک هشتم</td> </tr> <tr> <td>۳۴ درصد</td> <td>سهم دهک نهم</td> </tr> <tr> <td>۳۶ درصد</td> <td>سهم دهک دهم</td> </tr> <tr> <td>۳۸ درصد</td> <td>سهم دهک یازدهم</td> </tr> <tr> <td>۴۰ درصد</td> <td>سهم دهک چهاردهم</td> </tr> <tr> <td>۴۲ درصد</td> <td>سهم دهک پانزدهم</td> </tr> <tr> <td>۴۴ درصد</td> <td>سهم دهک شانزدهم</td> </tr> <tr> <td>۴۶ درصد</td> <td>سهم دهک هفدهم</td> </tr> <tr> <td>۴۸ درصد</td> <td>سهم دهک هجدهم</td> </tr> <tr> <td>۵۰ درصد</td> <td>سهم دهک نوزدهم</td> </tr> <tr> <td>۵۲ درصد</td> <td>سهم دهک بیستم</td> </tr> <tr> <td>۵۴ درصد</td> <td>سهم دهک بیست و یکم</td> </tr> <tr> <td>۵۶ درصد</td> <td>سهم دهک بیست و دوم</td> </tr> <tr> <td>۵۸ درصد</td> <td>سهم دهک بیست و سوم</td> </tr> <tr> <td>۶۰ درصد</td> <td>سهم دهک بیست و چهارم</td> </tr> <tr> <td>۶۲ درصد</td> <td>سهم دهک بیست و پنجم</td> </tr> <tr> <td>۶۴ درصد</td> <td>سهم دهک بیست و ششم</td> </tr> <tr> <td>۶۶ درصد</td> <td>سهم دهک بیست و هفتم</td> </tr> <tr> <td>۶۸ درصد</td> <td>سهم دهک بیست و هشتم</td> </tr> <tr> <td>۷۰ درصد</td> <td>سهم دهک بیست و نهم</td> </tr> <tr> <td>۷۲ درصد</td> <td>سهم دهک بیست و دهم</td> </tr> <tr> <td>۷۴ درصد</td> <td>سهم دهک بیست و یازدهم</td> </tr> <tr> <td>۷۶ درصد</td> <td>سهم دهک بیست و دوازدهم</td> </tr> <tr> <td>۷۸ درصد</td> <td>سهم دهک بیست و سیزدهم</td> </tr> <tr> <td>۸۰ درصد</td> <td>سهم دهک بیست و چهارم</td> </tr> <tr> <td>۸۲ درصد</td> <td>سهم دهک بیست و پنجم</td> </tr> <tr> <td>۸۴ درصد</td> <td>سهم دهک بیست و ششم</td> </tr> <tr> <td>۸۶ درصد</td> <td>سهم دهک بیست و هفتم</td> </tr> <tr> <td>۸۸ درصد</td> <td>سهم دهک بیست و هشتم</td> </tr> <tr> <td>۹۰ درصد</td> <td>سهم دهک بیست و نهم</td> </tr> <tr> <td>۹۲ درصد</td> <td>سهم دهک بیست و دهم</td> </tr> <tr> <td>۹۴ درصد</td> <td>سهم دهک بیست و یازدهم</td> </tr> <tr> <td>۹۶ درصد</td> <td>سهم دهک بیست و دوازدهم</td> </tr> <tr> <td>۹۸ درصد</td> <td>سهم دهک بیست و سیزدهم</td> </tr> <tr> <td>۱۰۰ درصد</td> <td>سهم دهک بیست و چهارم</td> </tr> </tbody> </table>	درصد	سهم دهک	۳ درصد	سهم دهک اول	۱۲ درصد	سهم دهک دوم	۱۵ درصد	سهم دهک سوم	۱۸ درصد	سهم دهک چهارم	۲۲ درصد	سهم دهک پنجم	۲۸ درصد	سهم دهک ششم	۳۰ درصد	سهم دهک هفتم	۳۲ درصد	سهم دهک هشتم	۳۴ درصد	سهم دهک نهم	۳۶ درصد	سهم دهک دهم	۳۸ درصد	سهم دهک یازدهم	۴۰ درصد	سهم دهک چهاردهم	۴۲ درصد	سهم دهک پانزدهم	۴۴ درصد	سهم دهک شانزدهم	۴۶ درصد	سهم دهک هفدهم	۴۸ درصد	سهم دهک هجدهم	۵۰ درصد	سهم دهک نوزدهم	۵۲ درصد	سهم دهک بیستم	۵۴ درصد	سهم دهک بیست و یکم	۵۶ درصد	سهم دهک بیست و دوم	۵۸ درصد	سهم دهک بیست و سوم	۶۰ درصد	سهم دهک بیست و چهارم	۶۲ درصد	سهم دهک بیست و پنجم	۶۴ درصد	سهم دهک بیست و ششم	۶۶ درصد	سهم دهک بیست و هفتم	۶۸ درصد	سهم دهک بیست و هشتم	۷۰ درصد	سهم دهک بیست و نهم	۷۲ درصد	سهم دهک بیست و دهم	۷۴ درصد	سهم دهک بیست و یازدهم	۷۶ درصد	سهم دهک بیست و دوازدهم	۷۸ درصد	سهم دهک بیست و سیزدهم	۸۰ درصد	سهم دهک بیست و چهارم	۸۲ درصد	سهم دهک بیست و پنجم	۸۴ درصد	سهم دهک بیست و ششم	۸۶ درصد	سهم دهک بیست و هفتم	۸۸ درصد	سهم دهک بیست و هشتم	۹۰ درصد	سهم دهک بیست و نهم	۹۲ درصد	سهم دهک بیست و دهم	۹۴ درصد	سهم دهک بیست و یازدهم	۹۶ درصد	سهم دهک بیست و دوازدهم	۹۸ درصد	سهم دهک بیست و سیزدهم	۱۰۰ درصد	سهم دهک بیست و چهارم	۱
درصد	سهم دهک																																																																																							
۳ درصد	سهم دهک اول																																																																																							
۱۲ درصد	سهم دهک دوم																																																																																							
۱۵ درصد	سهم دهک سوم																																																																																							
۱۸ درصد	سهم دهک چهارم																																																																																							
۲۲ درصد	سهم دهک پنجم																																																																																							
۲۸ درصد	سهم دهک ششم																																																																																							
۳۰ درصد	سهم دهک هفتم																																																																																							
۳۲ درصد	سهم دهک هشتم																																																																																							
۳۴ درصد	سهم دهک نهم																																																																																							
۳۶ درصد	سهم دهک دهم																																																																																							
۳۸ درصد	سهم دهک یازدهم																																																																																							
۴۰ درصد	سهم دهک چهاردهم																																																																																							
۴۲ درصد	سهم دهک پانزدهم																																																																																							
۴۴ درصد	سهم دهک شانزدهم																																																																																							
۴۶ درصد	سهم دهک هفدهم																																																																																							
۴۸ درصد	سهم دهک هجدهم																																																																																							
۵۰ درصد	سهم دهک نوزدهم																																																																																							
۵۲ درصد	سهم دهک بیستم																																																																																							
۵۴ درصد	سهم دهک بیست و یکم																																																																																							
۵۶ درصد	سهم دهک بیست و دوم																																																																																							
۵۸ درصد	سهم دهک بیست و سوم																																																																																							
۶۰ درصد	سهم دهک بیست و چهارم																																																																																							
۶۲ درصد	سهم دهک بیست و پنجم																																																																																							
۶۴ درصد	سهم دهک بیست و ششم																																																																																							
۶۶ درصد	سهم دهک بیست و هفتم																																																																																							
۶۸ درصد	سهم دهک بیست و هشتم																																																																																							
۷۰ درصد	سهم دهک بیست و نهم																																																																																							
۷۲ درصد	سهم دهک بیست و دهم																																																																																							
۷۴ درصد	سهم دهک بیست و یازدهم																																																																																							
۷۶ درصد	سهم دهک بیست و دوازدهم																																																																																							
۷۸ درصد	سهم دهک بیست و سیزدهم																																																																																							
۸۰ درصد	سهم دهک بیست و چهارم																																																																																							
۸۲ درصد	سهم دهک بیست و پنجم																																																																																							
۸۴ درصد	سهم دهک بیست و ششم																																																																																							
۸۶ درصد	سهم دهک بیست و هفتم																																																																																							
۸۸ درصد	سهم دهک بیست و هشتم																																																																																							
۹۰ درصد	سهم دهک بیست و نهم																																																																																							
۹۲ درصد	سهم دهک بیست و دهم																																																																																							
۹۴ درصد	سهم دهک بیست و یازدهم																																																																																							
۹۶ درصد	سهم دهک بیست و دوازدهم																																																																																							
۹۸ درصد	سهم دهک بیست و سیزدهم																																																																																							
۱۰۰ درصد	سهم دهک بیست و چهارم																																																																																							
۲۰	<p>عزیزم، به خاطر بسپار، زمان برای هیچ کس منتظر نمی ماند.</p> <p>پرویز باشید</p>	جمع نمرات																																																																																						



جمهوری اسلامی ایران

وزارت آموزش و پرورش

اداره کل آموزش و پرورش استان مازندران

اداره آموزش و پرورش شهرستان بهشهر

دبیرستان دخترانه نمونه دولتی شهید بهشتی

نوبت: دوم		پایه و رشته: دهم انسانی	راهنمای تصحیح امتحان درس: اقتصاد
مدت آزمون: ۷۵ دقیقه		تاریخ امتحان: ۱۴۰۱/۳/۲۸	نام دبیر و طراح سوال: منصوره نادی
بارم	پاسخ نامه	ردیف	
۰/۵		۱	صحیح
۰/۵		۲	غلط (الگو)
۰/۵		۳	غلط (تعریف مسئله)
۰/۵		۴	غلط (قیمت اسمی)
۰/۲۵		۵	ب: رسیدهای صادره بازرگانان، پشتوانه آنها طلا و نقره نزد بازرگانان بود
۰/۲۵		۶	ج: وسیله پرداخت های آینده
۰/۲۵		۷	الف: کار بدون دستمزد
۰/۲۵		۸	د: مفهوم کیفی است
۰/۵		۹	محدود بودن میزان طلا و نقره- با افزایش تجارت و مبادله به پول بیشتری نیاز بود. (ذکر یک مورد)
۰/۵		۱۰	خسب
۰/۵		۱۱	هرگونه اتلافی که قابل پیشگیری باشد- بلا استفاده گذاشتن اموال- مصرف بیجا- مصرف در معصیت- مصرف فراتر از سطح زندگی عمومی- مصرف فراتر از توان مالی یا شان و عدم رعایت اولویت در به کارگیری سرمایه های شخصی و ملی (ذکر یک مورد)
۰/۵		۱۲	کاهش نقدینگی (انقباضی)
۱	<p>۱- بیکاری که در هنگام رکود اقتصادی رخ می دهد</p> <p>۲- این نوع بیکاری کوتاه مدت است و در همه کشورها وجود دارد</p> <p>۳- کارگران ساختمانی و کشاورزان را شامل می شود</p> <p>۴- وقتی نیروی کار ساده در اقتصاد وجود داشته باشد ولی نیروی کار متخصص مورد نیاز باشد، جامعه دچار این نوع بیکاری است</p> <p>الف: بیکاری ساختاری</p> <p>ب: بیکاری آشکار</p> <p>ج: بیکاری دوره ای</p> <p>د: بیکاری فصلی</p> <p>ر: بیکاری اصطلاحی</p>	۱۳	
۱		۱۴	اقتصادی است پیشرفته، مردمی و دانش بنیان که در برابر تهدیدها و تکانه های داخلی و خارجی آسیب ناپذیر است و با اتکالی به قابلیت ها و ظرفیت های داخلی و با استفاده از فرصت های بیرونی نیاز و مشکلات اقتصادی را رفع می کند و با تحریم ها و تهدیدات دشمنان به زانو در نمی آید.
۱		۱۵	تولید ناخالص داخلی، ارزش پولی همه کالاها و خدمات نهایی تولید شده در داخل مرزهای یک کشور در طول یک سال است
۰/۵		۱۶	زیان می بیند
۰/۵		۱۷	سود می بیند
۰/۵		۱۸	توجه به هزینه های در رفته
۰/۵		۱۹	بی صبری زیاد
۰/۵		۲۰	مالیات بر درآمد

۲۱	عوارض گمرکی و خدماتی - مالیات بر مصرف - مالیات بر ارزش افزوده (ذکر یک مورد)	-۱۵										
۲۲	سپرده سرمایه گذاری کوتاه مدت	-۱۵										
۲۳	سپرده سرمایه گذاری بلند مدت											
۲۴	شما میتوانید بخشی از پول خود را پس انداز کنید. زیرا در صورت مقایسه درست معمولاً هزینه کمتری پرداخت میشود. با خرید مقایسه ای ویژگیها یا ارزش بیشتری را با همان مقدار پول خود در اختیار دارید. با خرید مقایسه ای محصولی با کیفیت و با عملکرد بهتر می خرید. با خرید مقایسه ای درباره گزینه هایی از آن کالا که قبلاً از آنها مطلع نبودید، آگاه می شوید. با خرید مقایسه ای نسبت به خرج کردن پول خود احساس آرامش بیشتری می کنید. (ذکر ۲ مورد)	۱										
۲۵	ایران به دلیل وسعت و پهناوری جغرافیایی، برخوردار از منابع طبیعی و قرار گرفتن در چهار راه بین المللی، از دوران باستان جایگاه ویژه ای در اقتصاد جهان داشته است. وجود حکومت ها و سلسله های بزرگ، لشکرکشی ها و جنگ ها، پهناوری مرزهای ایران باستان، جاده ابریشم و تجارت با چین و امپراتوری روم، از اهمیت و بزرگ اقتصاد ایران در آن دوران حکایت می کند.	۱										
۲۶	مثل تأسیس دارالفنون و برقراری نظم مالی و اداری توسط امیرکبیر، تأسیس شرکت اسلامی و تحریم کالاهای خارجی توسط علمای اصفهان، تحریم تنباکو و لغو قرارداد رژی و بیانیه هایی در حمایت از تولید ملی (ذکر ۲ مورد)	۱										
۲۷	و کشور ایران و برزیل را در نظر بگیرید. برای سادگی فرض کنید: الف) هر دو کشور به یک اندازه از نیروی کار، سرمایه و دانش فنی برخوردارند. در هر دو کشور فقط غذا و پوشاک با قیمتهای یکسان تولید می شود. ب) هر دو کشور اگر همه عوامل تولیدشان را با اشتغال کامل، برای تولید غذا به کار گیرند، ایران ۶۰ واحد و برزیل ۴۰ واحد تولید می کند. ج) هر دو کشور اگر همه عوامل تولیدشان را با اشتغال کامل، برای تولید پوشاک به کار گیرند، ایران ۳۰ واحد و برزیل ۷۰ واحد تولید می کند. گوییم برزیل در تولید پوشاک و ایران در تولید غذا «مزیت مطلق» دارند. در نتیجه بهتر است در محصولی که مزیت دارند، تخصص و تمرکز یابند و محصولات خود را با یکدیگر مبادله کنند.	۱										
۲۸	$۱۸۶۰۰۰۰ - ۳۶۰۰۰۰ = ۱۵۰۰۰۰۰$ $۱۵۰۰۰۰۰ - ۲۵۰۰۰۰۰ = ۱۲۵۰۰۰۰$ جمعیت فعال $۱۲۵۰۰۰۰ - ۱۰۰۰۰۰۰ = ۲۵۰۰۰۰۰$ جمعیت بیکار $۲۵۰۰۰۰۰ \div ۱۲۵۰۰۰۰ \times ۱۰۰ = ۲۰\%$ نرخ بیکاری	۱										
۲۹	میلیون تومان $۵/۷۵ + ۲/۸۵ + ۲/۲۵ + ۳/۷۵ + ۱/۸۵ + ۱/۵۵ = ۱۸$ بله یک میلیون تومان بیشتر از درآمدش هزینه دارد.	۱										
۳۰	<table border="1"> <thead> <tr> <th>عرضه به کیلو</th> <th>قیمت برنج به تومان</th> </tr> </thead> <tbody> <tr> <td>۴۰۰</td> <td>۲۰۰۰۰</td> </tr> <tr> <td>۵۰۰</td> <td>۳۰۰۰۰</td> </tr> <tr> <td>۶۰۰</td> <td>۴۰۰۰۰</td> </tr> <tr> <td>۷۰۰</td> <td>۵۰۰۰۰</td> </tr> </tbody> </table>	عرضه به کیلو	قیمت برنج به تومان	۴۰۰	۲۰۰۰۰	۵۰۰	۳۰۰۰۰	۶۰۰	۴۰۰۰۰	۷۰۰	۵۰۰۰۰	۱
عرضه به کیلو	قیمت برنج به تومان											
۴۰۰	۲۰۰۰۰											
۵۰۰	۳۰۰۰۰											
۶۰۰	۴۰۰۰۰											
۷۰۰	۵۰۰۰۰											
۳۱	سهم دهک اول $۳ \times ۵۰۰۰۰۰ = ۱۵۰۰$ درصد سهم دهک ششم $۸ \times ۵۰۰۰۰۰ = ۴۰۰۰$ درصد	۱										
۲۰	جمع نمرات	منصوره نادی										
		خرداد ماه ۱۴۰۱										


تلاشی در مسیر موفقیت



- دانلود گام به گام تمام دروس ✓
- دانلود آزمون های قلم چی و گاج + پاسخنامه ✓
- دانلود جزوه های آموزشی و شب امتحانی ✓
- دانلود نمونه سوالات امتحانی ✓
- مشاوره کنکور ✓
- فیلم های انگیزشی ✓

 [Www.ToranjBook.Net](http://www.ToranjBook.Net)

 [ToranjBook\\_Net](https://t.me/ToranjBook_Net)

 [ToranjBook\\_Net](https://www.instagram.com/ToranjBook_Net)