

تلاشی در مسیر موفقیت



- دانلود گام به گام تمام دروس ✓
- دانلود آزمون های قلم چی و گاج + پاسخنامه ✓
- دانلود جزوه های آموزشی و شب امتحانی ✓
- دانلود نمونه سوالات امتحانی ✓
- مشاوره کنکور ✓
- فیلم های انگیزشی ✓

 Www.ToranjBook.Net

 [ToranjBook_Net](https://t.me/ToranjBook_Net)

 [ToranjBook_Net](https://www.instagram.com/ToranjBook_Net)

بسمه تعالی

نام خانوادگی: _____ نام پدر: _____

اداره کل آموزش و پرورش استان مازندران
اداره آموزش و پرورش شهرستان بهشهر
مدرسه غیردولتی خوارزمی - متوسطه دوم

تاریخ امتحان: _____ ساعت شروع: _____ مدت امتحان: ۷۰ دقیقه

سؤالات امتحان داخلی درس: جغرافیا ۱

نام دبیر: خانم افضلی مقطع و نام کلاس: دهم کلیه رشته‌ها نوبت: خرداد ۱۴۰۱ تعداد کل سؤالات: _____ صفحه ۱

ردیف	سؤال	بارم نمره
۱	<p>جمله‌های صحیح و غلط را مشخص کنید:</p> <p>الف) ایران از نظر جاذبه‌های طبیعی در رتبه دهم جهانی قرار دارد. ()</p> <p>ب) رودهایی که از کوهستان‌های بلند و برف گیر تغذیه می‌شوند، دائمی هستند. ()</p> <p>ج) جلوگیری از فرسایش خاک از عملکرد مثبت در ناحیه کوهستانی است. ()</p> <p>د) روستاهایی که در اطراف رود گسترش می‌یابند به شکل متمرکز دیده می‌شوند. ()</p>	۱
۲	<p>عبارتهای زیر را با کلمات مناسب کامل کنید:</p> <p>الف) محل قرار گرفتن هر پدیده در سطح کره‌ی زمین آن پدیده است.</p> <p>ب) خروج گاز یا بخار آب از اعماق زمین را گویند.</p> <p>ج) از جمله صنایع مهم کشور صنعت است.</p> <p>د) در نخستین مرحله زندگی اجتماعی یک آبادی کوچک را می‌نامیدند.</p>	۲
۳	<p>گزینه درست را انتخاب کنید.</p> <p>الف) واحدی از تقسیمات کشوری با محدوده جغرافیایی معین که از بهم پیوستن چند دهستان تشکیل شده است؟</p> <p>۱- استان ۲- شهرستان ۳- بخش ۴- روستا</p> <p>ب) علامت اختصاری سازمان جهانی گردشگری است.</p> <p>۱- WTO ۲- TWO ۳- OTW ۴- TWE</p> <p>ج) از بین عوامل مؤثر در شکل‌گیری سکونت‌گاه‌های ایران کدام عامل بیشترین اهمیت را دارد؟</p> <p>۱- ارتفاع ۲- عرض جغرافیایی ۳- راه‌های ارتباطی ۴- آب</p> <p>د) با توجه به مشکل کاهش منابع آبی کشور، توصیه می‌شود محور توسعه‌ی کشاورزی از زراعت به کدام فعالیت جایگزین با روش‌های مدرن تغییر می‌یابد؟</p> <p>۱- باغداری ۲- دامداری ۳- زراعت دیم ۴- پرورش زنبور عسل</p>	۱

	با عدد		با عدد	
		نمره تجدید نظر		نمره ورقه
	با حروف		با حروف	
نام و نام خانوادگی دبیر:	تاریخ و امضاء	نام و نام خانوادگی دبیر:	تاریخ و امضاء	

ردیف	نام و نام خانوادگی :	سؤال	صفحه ۲	بارم نمره								
۴		اصطلاحات زیر را تعریف کنید. الف) سکونتگاه ب) مهاجرت		۲								
۵		هریک از شهرهای سمت راست به کدام نقش ستون چپ اشاره دارد؟ (یک مورد اضافی است)	<table border="1"> <tr> <td>الف) اراک</td> <td>۱- بندری</td> </tr> <tr> <td>ب) انزلی</td> <td>۲- زیارتگاه</td> </tr> <tr> <td>ج) مشهد</td> <td>۳- گردشگری</td> </tr> <tr> <td></td> <td>۴- صنعتی</td> </tr> </table>	الف) اراک	۱- بندری	ب) انزلی	۲- زیارتگاه	ج) مشهد	۳- گردشگری		۴- صنعتی	۰/۷۵
الف) اراک	۱- بندری											
ب) انزلی	۲- زیارتگاه											
ج) مشهد	۳- گردشگری											
	۴- صنعتی											
۶		<p>به سؤالات زیر پاسخ کوتاه دهید:</p> <p>الف) چرا فرش ایرانی از شهرت بین‌المللی برخوردار است؟</p> <p>ب) ایلات مهم کشور را نام ببرید. (۲ مورد)</p> <p>ج) چرا جمعیت کشور نباید رو به پیری گرایش پیدا کند؟</p> <p>د) ۲ مورد از کانون‌های آبگیر را نام ببرید.</p> <p>ز) ۲ مورد از ابزارهای گردآوری اطلاعات میدانی را نام ببرید.</p> <p>س) زیباترین و فعال‌ترین پدیده رشته کوه زاگرس چه نام دارد؟</p> <p>ش) فرضیه‌های پژوهشگر به چه عواملی بستگی دارد؟ (۲ مورد)</p>		۳/۵								
۷		<p>به سؤالات زیر پاسخ کامل دهید:</p> <p>الف) منظور از فعالیت‌های صنایع دستی چیست؟</p> <p>ب) ۲ مورد از مزایای کشت گلخانه‌ای را بنویسید.</p>		۳/۵								

تاریخ امتحان :
ساعت شروع :
مدت امتحان : ۷۰ دقیقه

بسمه تعالی
اداره کل آموزش و پرورش استان مازندران
اداره آموزش و پرورش شهرستان بهشهر
مدرسه غیردولتی خوارزمی - متوسطه دوم

نام :
نام خانوادگی :
نام پدر :

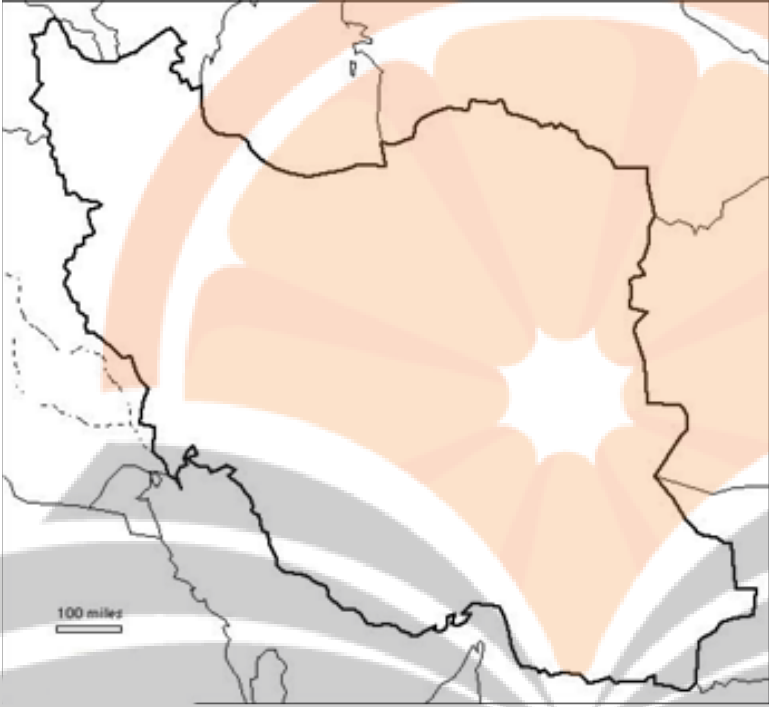

سؤالات امتحان داخلی درس : جغرافیا ۱

نام دبیر: خانم افضلی مقطع و نام کلاس: دهم کلیه رشته‌ها نوبت: خرداد ۱۴۰۱ تعداد کل سؤالات: صفحه ۳

ردیف	سؤال	بارم نمره
	<p>(ج) ویژگی زندگی روستایی را ذکر کنید. (۲مورد)</p> <p>(د) ۲ مورد از کاربردهای هرم سنی جمعیت را بنویسید.</p> <p>(ذ) اهمیت دریای خزر را بنویسید. (ذکر ۲ مورد)</p> <p>(س) چرا ایران از نظر موقعیت نسبی ممتازی برخوردار است؟</p> <p>(ش) چه عواملی باعث ایجاد ریزگردها در برخی از کشورها شده است؟ (۲مورد)</p>	

استان مازندران

۱	راهکارهای توسعه‌ی گردشگری در استان مازندران را نام ببرید. (۲مورد)	۱
۱	جنگل‌های استان مازندران از چند نظر مورد توجه جهانگردان قرار گرفته است؟ نام ببرید.	۲
۰/۵	اهمیت علویان طبرستان در تاریخ ایران را نام ببرید. (۲ مورد)	۳
۰/۵	آب‌بندان در فصل سرد برای چه مواردی استفاده می‌شود؟	۴
۰/۵	خانه‌باغ را تعریف کنید.	۵

ردیف	نام و نام خانوادگی :	سؤال	صفحه ۴	بارم نمره
۶		۲ نمونه از صنایع دستی مازندران را نام ببرید.		۰/۵
۷		قله‌های معروف البرز در مازندران را نام ببرید.		۰/۵
	نقشه ایران :			۱/۲۵
	<p>(۱) نام قله</p> <p>(۲) نام رشته کوه</p> <p>(۳) نام کشور همسایه</p> <p>(۴) نام جلگه</p> <p>(۵) نام حوضه‌ی آبریز</p>			
	نقشه مازندران:			۰/۵
	<p>(۱) نام استان همسایه</p> <p>(۲) نام شهرستان</p>			
جمع : ۲۰ نمره				

موفق باشید - افولی

تلاشی در مسیر موفقیت

بارم

پاسخ

۱- الف) غلظت آب اصویح (ج) اصویح (ح) غلظت (د) ۲۵

۲- الف) موقعیت جغرافیایی آب (ب) گنجان (ج) نیروی (د) وس (ه) ۲۵

۳- الف) کسب (ب) آب (ج) آب (د) باغذاری (ه) ۲۵

۴- الف) نیکوینگاه: محلی است که مجموع مسائل که عوامل طبیعی و انسانی در شکل گیری آن نقش دارند. (ب) جابجایی بین دو واحد جغرافیایی یا ترک سرزمین و اسکان در سرزمین دیگر ۲۵

۵- الف) صنعتی (ب) بندری (ج) زیارتگاهی (د) ۲۵

۶- الف) بافت و نقش و نگار آن (ب) اقلیمی - ترسیمی (ج) ۲۵

۷- الف) این پدیده مانع اصلی بر سر راه توسعه اقتصادی جامعه می شود. (ب) دانش - فصلی (ج) مسأله - مصاحبه (د) س (ه) کسب (ه) ۲۵

۷- الف) عمدتاً با استفاده از مواد اولیه بومی و به کارگیری وسایل ساده دستی همراه با ذوق هنری و حلاقت فلکی صنعتگر (ب) کاهش مصرف آب - تولید در طول سال و هم جا ۲۵

۸- الف) آداب و رسوم محل زندگی خود یا سبزند. فضای باز اطراف روستا، جسم اندازمان طبیعی زیبایی را برای روستائیان فراهم می کند. (ب) ۲۵

۹- الف) ارتقای سطح سلاقت جامعه - بهبود وضعیت سالمندان - ایجاد فرصت های محلی (ب) ۲۵

۱۰- الف) تجارت دریایی - بهره برداری از منابع نفت و گاز - گردشگری (ب) ۲۵

۱۱- الف) دلیل قرار گرفتن در مجاورت خلیج فارس، دریای عمان تنگه هرمز و دریای خزر (ب) کاهش ریزش جوی - مدیریت منابع آب - خشک شدن آبان (ج) ۲۵

(۱) استان شناسی :
۱- توحه مسير به بردسري ل و بيا ۵/۵ - ۲- توحه باغي به راههاي ارتباطي و وسايل حمل و نقل ۵/۵

(۲) ۱- مشاهده زيبايي ها و مناظر گوناگون ۵/۵ - ۲- مشاهده نوع مستقيم خاص مردم و اخلاقي حلقه ۵/۵

(۳) ۱- انتشار دين اسلام در طبرستان ۲۵/۵ - ۲- تاسي حکومت ساساني و عوامي ۲۵/۵

(۴) شمار پرندگان مهاجره :-

(۵) در برخي مغان ها، خانه هاي روستاين در مزارع و باغات شلبي ليورده به آنها خانه باغ ۲۵/۵

(۶) حاجيم - لييم باغي - نم ۲۵/۵ - ۷ خرسف لوه - لوه سعيد - دعاوند ۲۵/۵

۱- دعاوند ۲۵/۵ - ۲- زاگرس ۲۵/۵ - ۳- افغانسا ۲۵/۵ - ۴- حله لسا ۲۵/۵ - ۵- ملامت حورني ۲۵/۵
۶- حفته آبريز :-

نفسه مازندران ۵/۵
۱- استان گيلان ۲۵/۵ - ۲- ساري ۲۵/۵

نشرنگه بوک

باستند
افندي
خرداد ۱۴۰۱

تلاشي در مسير موفقيت


تلاشی در مسیر موفقیت



- دانلود گام به گام تمام دروس ✓
- دانلود آزمون های قلم چی و گاج + پاسخنامه ✓
- دانلود جزوه های آموزشی و شب امتحانی ✓
- دانلود نمونه سوالات امتحانی ✓
- مشاوره کنکور ✓
- فیلم های انگیزشی ✓

 Www.ToranjBook.Net

 [ToranjBook_Net](https://t.me/ToranjBook_Net)

 [ToranjBook_Net](https://www.instagram.com/ToranjBook_Net)