


تلاشی در مسیر موفقیت



- دانلود گام به گام تمام دروس ✓
- دانلود آزمون های قلم چی و گاج + پاسخنامه ✓
- دانلود جزوه های آموزشی و شب امتحانی ✓
- دانلود نمونه سوالات امتحانی ✓
- مشاوره کنکور ✓
- فیلم های انگیزشی ✓

 Www.ToranjBook.Net


 [ToranjBook_Net](https://t.me/ToranjBook_Net)

 [ToranjBook_Net](https://www.instagram.com/ToranjBook_Net)

<p>تاریخ : 1401/3/21</p> <p>مدت امتحان : 70 دقیقه</p> <p>طراح : خانم طالبی</p>		<p>بسمه تعالی</p> <p>سازمان آموزش و پرورش خراسان شمالی</p> <p>مدیریت آموزش و پرورش شهرستان بجنورد</p> <p>دبیرستان هیئت امنایی سمیه</p>	<p>امتحان جغرافیای 2</p> <p>پایه یازدهم انسانی</p> <p>نام و نام خانوادگی :</p>
بارم	سوالات		ردیف
1	<p>درستی یا نادرستی جلات زیر را مشخص کنید.</p> <p>الف) امروزه همه کشورها از نظر مواد خام و کالاهای صنعتی خود کفا و بی نیاز از مبادله با سایر کشورها هستند.</p> <p>ب) برای تعیین خط موزی در امتداد رشته کوهها خط الراس آنها در نظر گرفته می شود.</p> <p>ج) ملت عنصر بنیادی یک کشور است و بدون آن کشور معنا و مفهوم ندارد.</p> <p>د) نظام مدیریت کشور حاکمیت نام دارد.</p>		1
1	<p>جاهای خالی را با عبارت های مناسب کامل کنید.</p> <p>الف) جوهره ژئوپلیتیک را..... تشکیل می دهد.</p> <p>ب) پایین ترین حد جزر دریا..... نام دارد.</p> <p>ج) بهترین شکل برای یک کشور شکل..... است.</p> <p>د) اگر واردات یک کشور بیشتر از صادرات آن باشد موازنه تجاری..... است.</p>		2
1	<p>گزینه صحیح را انتخاب کنید.</p> <p>الف) مرزبین کانادا و آلاسکا چه نوع مرزی است؟ 1 : تجمیلی 2 : تطبیقی 3 : قبل از سکونت 4 : هیچکدام</p> <p>ب) پدر علم جغرافیای سیاسی می باشد. 1 : راتزل 2 : مارکس 3 : ابن خلدون 4 : آلفرد ماهان</p> <p>ج) کدام گزینه از وظایف عمده مدیریت کشور نمی باشد؟ 1 : اداره امور سرزمین 2 : روابط خارجی 3 : حفظ فرهنگ و آداب و رسوم 4 : اداره سازه یا ساختار انسانی</p> <p>د) پلانیتیشن در کدام قاره دیده نمی شود؟ 1 : اروپا 2 : آسیا 3 : افریقا 4 : آمریکای جنوبی</p>		3
0.5	<p>هر یک از موارد زیر به کدام معیار ناحیه بندی ارتباط دارد؟</p> <p>ناحیه صنعتی رور در آلمان..... ناحیه بارشی خزر شرقی.....</p>		4
0.5	<p>آیا مرزهای نواحی قابل تغییرند؟ یک مثال بزنید.</p>		5

۱	الف) نادرست	ب) درست	ج) درست	د) نادرست
۲	الف) قدرت	ب) خط مبدا	ج) منشورده	د) منفی
۳	الف) ۳	ب) ۱	ج) ۳	د) ۱ (ب)
۴	الف) انسانی	ب) طبیعی		
۵	بله، همانطور که مرز کشور ایران در طول تاریخ بارها کم و زیاد شده است.			
۶	عرض جغرافیایی / ارتفاع / دوری و نزدیکی به دریاها / جهت و شیب ناهمواریها			
۷	عمدتاً در نواحی مجاور مدار رأس السرطان و رأس الجدی واقع شده اند.			
۸	در رسوبات نرم به جامانده از دریاچه های قدیم پدید می آید. باد شیارهای موازی و با شکل در این رسوبات ایجاد می کند. به تدریج بخش نرم را یا خود می برد و بخش های سخت تر باقی می ماند.			
۹	بارش و دما			
۱۰	آلودگی ناشی از عبور کشتی های نفت کش / تخلیه پساب های صنعتی / تجمع گردشکران / تولید زباله			
۱۱	فزرندترین: هند و اروپایی		پرسفیلو ترین: هند و اروپایی	
۱۲	پدیروان یک دین با توحید به اعتقادات خود چشم اندازهای خاصی را در قالب معماری، هنر، نقاشی و در میان های تزیینی ایجاد می کنند معمولاً در اطراف چشم اندازهای مذهبی خدمات رفاهی برای بازدیدکنندگان وجود دارد.			
۱۳	الف) آمریکا	ب) پلانیتینیشن	ج) کشاورزی تجاری	د) گرم و مرطوب
۱۴	فیروزی کار ارزان قیمت / استفاده از منابع طبیعی آن ها / قرار از گبرودارهای مالیاتی و قوانین سخت			
۱۵	الف) پیرامون	ب) مرکز	ج) نیمه پیرامون	
۱۶	در مجاورت بنادر مهم / چشم و کیش و انزلی			
۱۷	الف) مکترو جغرافیایی / سازه انسانی / نظام مدیریت		ب) سیاست خارجی و دفاع	
۱۸	الف) تطبیقی	ب) مصنوعی	ج) طبیعی (خط الرأس کوه)	د) تحلیلی
۱۹	الف) شکل ۱: خط منصف		شکل ۲: تالوک	
ب) شکل ۲ (تالوک) زیرا با متصل کردن عمیق ترین نقاط بستر رود قابلیت کشتیرانی را برای هر دو طرف ممکن می سازد.				
۲۰	الف) فیلیپین: چندنگه	لهستان: منشورده		
ب) لهستان، زیرا در حالت منشورده پایتخت در مرکز است و دسترسی آن برای دفاع و سیاست بهتر				
۲۱	الف) منطقه خشکی اوراسیا			
۲۲	انگلستان: ترکیبی		فرانسه: تک ساخت	
استرالیا: فدرال				

بارم	ادامه سوالات	ردیف
0.5	عوامل موثر بر دمای هوا در یک منطقه را نام ببرید. (2مورد)	6
0.5	بیابان های گرم در کجا واقع شده اند؟	7
1	کلوت ها چگونه بوجود می آیند؟ توضیح دهید.	8
0.5	وایتکر در طبقه بندی زیست بوم ها کدام عوامل را مورد توجه قرار داد؟	9
0.5	مهمترین عواملی که سواحل را تهدید می کنند نام ببرید.	10
0.5	بزرگترین و پر سخنگو ترین خانواده های زبانی کداماند؟ بزرگترین..... پرسخنگوترین.....	11
1	نقش دین در خلق چشم انداز های فرهنگی را توضیح دهید.	12
2	به سوالات زیر پاسخ کوتاه دهید. الف) بیشتر ذرت جهان در کدام کشور تولید میشود؟ ب) زمینهای وسیع کشاورزی که به تولید یک محصول خاص اختصاص دارند چه نامیده میشوند؟ ج) کشاورزی تجاری به سرمایه گذاری زیاد نیاز دارد با کشاورزی معیشتی؟ د) برنج در چه نوع آب و هوایی کشت میشود؟	13
1	شرکت های چند ملیتی برای سرمایه گذاری در کشور های دیگر به چه امتیازاتی دست پیدا میکنند. (دو مورد بنویسید)	14
0.75	هر یک از ویژگیهای زیر مربوط به کدام کشور های (پیرامون_نیمه پیرامون_مرکز) است؟ الف) کمبود نیروی ماهر ب) صدور سرمایه به دیگر نواحی جهان ج) کشور چین از جمله این کشور هاست.	15
1	مناطق آزاد تجاری اغلب در کجا شکل میگیرند؟ مناطق آزاد تجاری ایران را نام ببرید.	16
1.5	الف) سه رکن اصلی نواحی سیاسی را نام ببرید. ب) نواحی خود مختار در کدام امور تابع حکومت مرکزی هستند.	17

2	<p>هر یک از موارد زیر مربوط به کدام نوع مرز می باشد؟</p> <p>الف) با در نظر گرفتن شرایط فرهنگی تعیین می شوند. ب) با استفاده از مختصات جغرافیایی تعیین می شوند. ج) مرز بین فرانسه و اسپانیا. د) افراد یک قوم یا ملت که دارای دین و زبان مشترک هستند از هم جدا هستند.</p>	18
1	<p>با توجه به شکل به سوالات پاسخ دهید.</p> <p>الف) در شکل 1 و 2 برای تعیین خط مرزی از چه روشهایی استفاده میشود؟ ب) کدام ناحیه بهترین خط مرزی است؟ چرا؟</p> 	19
1	<p>الف) کشورهای فیلیپین و لهستان دارای چه نوع شکل سرزمینی هستند؟ ب) شکل کدام کشور بهتر است؟ چرا؟</p>	20
0.5	<p>درباره نظریه ژئوپلیتیکی به سوالات پاسخ دهید.</p> <p>الف) مکنیدر در نظریه خود کدام منطقه را قلعه یا دژ جهان می دانست؟ ب) نظریه قدرت دریایی را چه کسی مطرح کرد؟</p>	21
0.75	<p>هر یک از کشور های زیر دارای چه نوع نظام سیاسی می باشند؟</p> <p>الف) انگلستان..... ب) فرانسه..... ج) استرالیا.....</p>	22
<p>(بهترین فن زندگی استفاده از فرصت های بی نظیر است که بر ما می گذرند) (موفق و پیروز باشید) (طالبی)</p>		


تلاشی در مسیر موفقیت



- دانلود گام به گام تمام دروس ✓
- دانلود آزمون های قلم چی و گاج + پاسخنامه ✓
- دانلود جزوه های آموزشی و شب امتحانی ✓
- دانلود نمونه سوالات امتحانی ✓
- مشاوره کنکور ✓
- فیلم های انگیزشی ✓

 Www.ToranjBook.Net

 [ToranjBook_Net](https://t.me/ToranjBook_Net)

 [ToranjBook_Net](https://www.instagram.com/ToranjBook_Net)