

تلاشی در مسیر موفقیت





- دانلود گام به گام تمام دروس ✓
- دانلود آزمون های قلم چی و گاج + پاسخنامه ✓
- دانلود جزوه های آموزشی و شب امتحانی ✓
- دانلود نمونه سوالات امتحانی ✓
- مشاوره کنکور ✓
- فیلم های انگیزشی ✓

 [www.ToranjBook.Net](http://www.ToranjBook.Net)

 [ToranjBook\\_Net](https://t.me/ToranjBook_Net)

 [ToranjBook\\_Net](https://www.instagram.com/ToranjBook_Net)

	به عدد: ..... شماره: ..... به حروف: ..... نام و نام خانوادگی وامضای دبیر: ..... تاریخ امتحان: ۱۴۰۰ / ۱۱ / ۰۲ مدت امتحان: ۷۵ دقیقه	به عدد: ..... شماره تجدید نظر: ..... به حروف: ..... نام و نام خانوادگی وامضاء تجدید نظر کننده: ..... آزمون درس: زمین‌شناسی یازدهم تجربی و ریاضی طراح سوال: توکلی مهر	
اداره کل آموزش و پرورش استان قم اداره آموزش و پرورش ناحیه چهارم دبیرستان غیر دولتی رایحه دانش سال تحصیلی ۱۴۰۱ - ۱۴۰۰		نام و نام خانوادگی: ..... نام پدر: ..... کلاس: ..... شماره صندلی: ..... نام دبیر: .....	

بارم	سوالات	ردیف
۰/۷۵	<p>به سوالات تستی پاسخ دهید.</p> <p>(۱) بیضوی بودن مدار سیارات - نظریه زمین مرکزی توسط چه کسانی ارائه گردید؟</p> <p>(الف) گالیله - کوپرنیک <input type="checkbox"/> (ب) کپلو - بطلمیوس <input type="checkbox"/> (ج) بطلمیوس - کپلو <input type="checkbox"/> (د) کوپرنیک - کپلو <input type="checkbox"/></p> <p>(۲) گیاهان گل‌دار در کدام دوره ظاهر شده‌اند؟</p> <p>(الف) کربونیفر <input type="checkbox"/> (ب) کرتاسه <input type="checkbox"/> (ج) تریاس <input type="checkbox"/> (د) ترشیاری <input type="checkbox"/></p> <p>(۳) اگر در کشور ما فصل بهار باشد در استرالیا کدام فصل مشاهده می‌شود؟</p> <p>(الف) بهار <input type="checkbox"/> (ب) پاییز <input type="checkbox"/> (ج) تابستان <input type="checkbox"/> (د) زمستان <input type="checkbox"/></p>	الف
۰/۵	<p>عبارت‌های درست و نادرست را مشخص کنید.</p> <p>(۱) یخ یک کانی است ولی نفت کانی نیست ( )</p> <p>(۲) تورب یک نوع زغال‌سنگ مرغوب است ( )</p>	ب
۰/۷۵	<p>جاهای خالی را با عبارتهای مناسب پر کنید.</p> <p>(۱) حداکثر سرعت آب در ..... است.</p> <p>(۲) مواد آلوده کننده از یک نقطه مانند ..... به طور ..... وارد آب زیرزمینی می‌شود.</p>	ج
۳	<p>اصطلاحات زیر را تعریف کنید.</p> <p>(۱) خاک لوم</p> <p>(۲) کنسانتره</p> <p>(۳) انحراف محور زمین</p>	ه
۶	<p>به سوالات زیر پاسخ کوتاه دهید.</p> <p>(۱) عامل باز و بسته شدن اقیانوس‌ها چیست؟</p> <p>(۲) در چرخه ویلسون برای مرحله دوم و چهارم یک مثال بزنید.</p> <p>(۳) یک واحد نجومی چند دقیقه نوری و چند کیلومتر است؟</p> <p>(۴) در کدام مدار زمین روز ۲۴ ساعته دیده میشود؟</p> <p>(۵) نفت و گاز چگونه استخراج می‌شوند؟</p>	د

	<p>۶) دو روش ژئوفیزیکی در اکتشاف معادن را نام ببرید.</p> <p>۷) کانسنگ‌هایی که در رسوبات رودخانه‌ای تشکیل می‌شوند کدامند؟</p> <p>۸) غلظت نمک‌های محلول در آب‌های زیرزمینی به چه عواملی بستگی دارد؟ ۲ مورد.</p> <p>۹) در نیمرخ خاک افق A معمولاً از چه موادی تشکیل شده است.</p> <p>۱۰) چرا رس قادر به تشکیل آبخوان نیست؟</p> <p>۱۱) دریاچه مازندران چگونه به وجود آمده است؟</p>
ح	<p>به سؤالات تشریحی پاسخ دهید.</p> <p>۱) نحوه شکل‌گیری برکه و شوره‌زار را با توجه به عمل آب‌های زیرزمینی توضیح دهید. (۱/۵)</p> <p>۲) رودخانه‌ها در مناطق گرم و خشک و مناطق مرطوب چه تفاوت‌هایی با یکدیگر دارند؟ (۲/۵)</p> <p>۳) کانسنگ‌های رسوبی مهم را نام ببرید. (۱/۵)</p> <p>۴) انواع روش استخراج ذخایر معدنی را نام برده و بنویسید بر چه اساسی مشخص می‌شود؟ (۱/۵)</p> <p>۵) تفاوت سن نسبی و سن مطلق چیست؟ (۱/۵)</p> <p>۶) طول سایه اجسام قائم را بر روی زمین در مدار راس السرطان و راس الجدی در روز ۲۰ دی‌ماه با هم مقایسه کنید؟ (۱/۵)</p>
<p>❖ رقابت وقتی زیباست که با رفاقت همراه باشد موفق باشید</p>	


تلاشی در مسیر موفقیت



- دانلود گام به گام تمام دروس ✓
- دانلود آزمون های قلم چی و گاج + پاسخنامه ✓
- دانلود جزوه های آموزشی و شب امتحانی ✓
- دانلود نمونه سوالات امتحانی ✓
- مشاوره کنکور ✓
- فیلم های انگیزشی ✓

 [www.ToranjBook.Net](http://www.ToranjBook.Net)

 [ToranjBook\\_Net](https://t.me/ToranjBook_Net)

 [ToranjBook\\_Net](https://www.instagram.com/ToranjBook_Net)