


تلاشی در مسیر موفقیت




- ✓ دانلود گام به گام تمام دروس
- ✓ دانلود آزمون های قلم چی و گاج + پاسخنامه
- ✓ دانلود جزوه های آموزشی و شب امتحانی
- ✓ دانلود نمونه سوالات امتحانی
- ✓ مشاوره کنکور
- ✓ فیلم های انگیزشی

 Www.ToranjBook.Net

 [ToranjBook_Net](https://t.me/ToranjBook_Net)

 [ToranjBook_Net](https://www.instagram.com/ToranjBook_Net)



بسمه تعالی

اداره کل آموزش و پرورش استان مازندران
اداره آموزش و پرورش شهرستان بابل
دبیرستان غیردولتی دخترانه بشارت (متوسطه اول)
سال تحصیلی: ۱۴۰۱-۱۴۰۰ نوبت: اول
شماره دانش آموزی: پایه: نهم نام کلاس:
نام دبیر: غلام پور
نام و نام خانوادگی
تاریخ آزمون: ۱۴۰۰/۱۰/۲۰
مدت آزمون: ۶۰ دقیقه
تعداد سؤال:
بارم: ۲۰
تعداد صفحه: ۴
مطالعات اجتماعی

شماره فصل	علم مایه ی زندگی و حیات است و ایمان باعث رستگاری و نجات. امام علی (ع)	بارم									
فصل اول	۱. سالروز تولد مریم مصادف است با طولانی ترین روز سال در نیمکره شمالی که به آن انقلاب تابستانی هم می گویند. مشخص کنید روز تولد مریم کدام یک از موارد زیر است؟ الف) اول دی <input type="checkbox"/> ب) اول فروردین <input type="checkbox"/> ج) اول تیر <input type="checkbox"/> د) اول مهر <input type="checkbox"/>	۰/۵									
	۲. جدول زیر را کامل کنید. <table><tr><td>انواع سیارات</td><td>مدار گردشی به دور خورشید</td><td>جنس</td></tr><tr><td>درونی</td><td></td><td>سطوح سنگی و جامد دارند.</td></tr><tr><td>بیرونی</td><td>بزرگتر</td><td></td></tr></table>	انواع سیارات	مدار گردشی به دور خورشید	جنس	درونی		سطوح سنگی و جامد دارند.	بیرونی	بزرگتر		۱
	انواع سیارات	مدار گردشی به دور خورشید	جنس								
	درونی		سطوح سنگی و جامد دارند.								
بیرونی	بزرگتر										
۳-بر روی کره مقابل دو نصف النهار و یک مدار رسم کنید؟ <div></div>	۱										
۳. نتایج حرکت وضع زمین را بنویسید. الف: ب:	۱										
فصل دوم	۱. لایه ای از گاز، که از سطح زمین تا ارتفاع حدود ۳۰۰۰ کیلومتری اطراف سیاره زمین را در بر گرفته است؟ الف) هیدروسفر <input type="checkbox"/> ب) بیوسفر <input type="checkbox"/> ج) اتمسفر <input type="checkbox"/> د) لیتوسفر <input type="checkbox"/>	۰/۵									
	۲. تا به حال افراد زیادی به قله اورست صعود کرده اند، اما تعداد افرادی که به عمق گودال ماریانا رفته اند (عمیق ترین بخش اقیانوس ها) بسیار کم است. چرا؟ ۲ دلیل بیاورید الف) ب)	۱									
	۳. در عبارت زیر یک غلط علمی وجود دارد. آن را مشخص کنید و عبارت صحیح را به جای آن بنویسید. « در جاهایی که اقیانوس ها با خشکی تماس دارند، اغلب ناحیه ای کم عمق با ژرفایی کمتر از ۲۰۰ متر دیده می شود که به آن شیب قاره می گویند. »	۰/۵									
	۴. می دانید که افزایش فعالیت های صنعتی انسان ها موجب گرم شدن کره زمین شده است. دو مورد از پیامدهای ناخوشایند گرم شدن کره زمین را بنویسید.	۱									

۵/۰	<p>۵. در هر کدام از تصاویر زیر کدام فعالیت انسان بر تغییر شکل ناهمواری تأثیر گذاشته است؟</p> <div style="display: flex; justify-content: space-around;">   </div> <div style="display: flex; justify-content: space-around; margin-top: 5px;"> الف ب </div>	
۱	<p>۱. رومینا و ریحانه عید در مسابقهٔ پژوهش راجع به حفظ محیط زیست برنده شده اند و جایزهٔ آنها سفر به یکی از زیست بوم های جهان است. با توجه به خصوصیات گفته شده مشخص کنید جایزهٔ هر کدام از آنها کدام زیست بوم است؟ رومینا: (هوای همیشه گرم، درختان چند طبقه، بامبو، شاه پسند، انواع حشره ها و پرندگان) ریحانه: (دارای دو فصل خشک و مرطوب، درختان بانوباب، علفخواران و گوشتخواران تنومند مانند فیل و شیر)</p>	
۱	<p>۲. دو مورد از مهمترین عواملی که موجب تخریب زیستگاه ها می شوند را بنویسید.</p>	
۵/۰	<p>۳. اصطلاحات زیست بوم را تعریف کنید؟</p>	
۱	<p>۴. به نظر شما در کشورهایی مانند برزیل و اندونزی که مردم با مشکل بیکاری و درآمد کم مواجه هستند، چگونه می توان استفادهٔ خردمندانه ای از جنگل های بارانی استوایی داشت؟ (۲ مورد ذکر کنید)</p>	
۱	<p>۱. نمودار زیر را کامل کنید.</p> <div style="display: flex; align-items: center;"> <div style="border: 1px solid black; padding: 5px; margin-right: 10px;">امید به زندگی یا متوسط طول عمر</div> <div style="border: 1px solid black; padding: 5px; margin-right: 10px;"></div> <div style="border: 1px solid black; padding: 5px; margin-right: 10px;"></div> </div> <p style="margin-left: 100px;">ملاک های شاخص های توسعهٔ انسانی</p>	
۱	<p>۲. مشخص کنید مهاجرت افراد زیر چه نوع مهاجرتی است؟ (اجباری، اختیاری، داخلی، خارجی)</p> <p>الف) من سینا هستم . سال گذشته پدرم یک زمین کشاورزی در مازندران خریداری کرد. و خانوادهٔ ما چند ماه است که از تهران به مازندران نقل مکان کرده ایم. (..... و) ب) من محمد هستم. در کشور سوریه زندگی می کردم. اما با شروع جنگ های گروه های تکفیری در سوریه و بمباران شهرها، ما خانهٔ خود را از دست دادیم و به کشور روسیه مهاجرت کردیم. (.....)</p>	
۵/۰	<p>۳. کدام یک از موارد زیر از علل داخلی نابرابری در جهان نیست؟</p> <div style="display: flex; justify-content: space-between;"> <div>الف) فرهنگ و باورهای غلط <input type="checkbox"/></div> <div>ب) مستعمره کردن کشورها <input type="checkbox"/></div> </div> <div style="display: flex; justify-content: space-between;"> <div>ج) بی سوادی و ناآگاهی مردم <input type="checkbox"/></div> <div>د) تنبلی، نداشتن ایمان و پشتکار برای تغییر وضع <input type="checkbox"/></div> </div>	

۴.	در بعضی از کشورهای اروپایی مانند آلمان و لهستان که با رشد منفی جمعیت مواجه اند، دولت ها برنامه های تشویقی را برای فرزندآوری در نظر گرفته اند. دو مورد از این برنامه ها را بنویسید.	۱
۰/۵	۱. پنجمین شاه صفوی که حکومت صفوی را به اوج قدرت رساند؟ الف) شاه اسماعیل <input type="checkbox"/> ب) شاه عباس <input type="checkbox"/> ج) شاه تهماسب <input type="checkbox"/> د) شاه سلطان حسین <input type="checkbox"/>	۰/۵
۲.	دو مورد از علل رونق تجارت داخلی و خارجی در عصر صفوی را بنویسید. الف) ب)	۱
۰/۵	۳. در عبارت زیر یک غلط علمی وجود دارد. آن را مشخص کنید و عبارت صحیح را به جای آن بنویسید. « پُر سودترین کالای صادراتی دوره صفوی خشکبار بود »	۰/۵
۰/۵	۴. علت شکست ایران در جنگ چالدران را بنویسید.	۰/۵
۰/۵	۵. یکی از دانشمندان یا فلاسفه مشهور عصر صفویه در ایران را نام ببرید؟	۰/۵
۱	۱. در ارتباط با سلسله زندیه به سوالات زیر پاسخ دهید. الف) کریم خان مؤسس این سلسله به جای عنوان شاهی چه لقبی را انتخاب کرد؟ ب) نام یکی از بناهای مهمی که در شیراز پایتخت زندیه در زمان کریم خان ساخته شد، چه بود؟	۱
۰/۵	۲. بر اساس این قرارداد، سرزمین های ایرانی شمال رود ارس به تصرف روسیه درآمد، ایران از داشتن کشتی جنگی در دریای مازندران محروم گردید و مجبور به پرداخت غرامت شد. الف) عهدنامه پاریس <input type="checkbox"/> ب) عهدنامه ترکمانچای <input type="checkbox"/> ج) عهدنامه مفصل <input type="checkbox"/> د) عهدنامه گلستان <input type="checkbox"/>	۰/۵
۰/۵	۳- علت توجه روسیه به ایران در دوران حکومت فتحعلی شاه چه بود ؟ الف) زیرا روسیه در اثر برنامه ها و فعالیت های پتر کبیر به یک کشور قدرتمند و استعماری تبدیل شده بود <input type="checkbox"/> ب) ایران دشمن قدیمی و اصلی روسیه بود و برای مقابله با آن دشمن قدیمی توجه روسها را به ایران جلب کرد <input type="checkbox"/> ج) یکی از اهداف استعماری روسیه رسیدن به آب های آزاد و گرم خلیج فارس و اقیانوس هند از طریق ایران بود <input type="checkbox"/> د) ایران کشور قدرتمندی بوده و روسیه پس از پتر کبیر درصدد رقابت با ایران بود <input type="checkbox"/>	۰/۵
۱	۴- درمورد آقا محمد خان قاجار به سوالات زیر پاسخ دهید: الف) چه شهری را به عنوان پایتخت خود برگزید؟ ب- چگونه کشته شد و پس از او چه کسی به قدرت رسید؟	۱
۲۰	تا آنگاه که نیازمند یادگیری هستی، جوینده دانش باش؛ این معنای همه زندگی ات است هنری داهرتی موفق و سر بلند باشید	۲۰

همکار ارجمند ضمن عرض سلام وخسته نباشید نظر شما دوست عزیز در تصحیح سوالات محترم است باتشکر

فصل اول (۱) گزینه ج ۲) الف - بیرونی - کوچکتر - از گاز ساخته شده ۳) گزینه ب ۴) اختلاف ساعت - پیدایش شب و روز
فصل دوم (۱) گزینه ج ۲) فشار زیاد آب، تاریکی و دمای کم در اعماق آب ۳) فلات قاره (ایوان خشکی) ۴) پیامدهای ناخوشایندی داشته باشد؛ مانند ذوب شدن یخ های قطبی، بالا آمدن آب دریا، به زیر آب رفتن نواحی ساحلی و جزیره ها یا افزایش و طولانی شدن دوره های خشکسالی در نواحی گرم و خشک، افزایش سیلاب ۵) الف - حفر تونل در ساختن جاده ب - شالیزارهای پلکانی
فصل سوم ۱) جنگل های بارانی استوایی - ساوان ۲) ۱- ایجاد و گسترش شهرها و روستاها، ساختن پل، جاده، ساختمان ها و سدها بدون برنامه ریزی و توجه به جنبه های زیست محیطی - فعالیت های صنعتی و تولید انبوه کالاها در کارخانه ها ۳- مصرف گرای و تولید انبوه زباله ۵) شکار و تجارت اعضای بدن حیوانات ۳) یک ناحیه وسیع جغرافیایی است که در آن، انواع خاصی از گیاهان و جانوران زندگی می کنند و ناحیه مشخصی را به وجود می آورند. هر زیست بوم از چند بوم سازگان (اکوسیستم) تشکیل شده است ۴) ۱- باید بین استفاده اقتصادی از جنگل ها و فرصت بازسازی آنها تعادل به وجود بیاید. میزان قطع درختان باید قاعده و قانونی داشته باشد و وقتی درختان قطع می شوند، با برنامه ریزی مناسب درختانی را جایگزین آنها کنند و فرصت رویش دوباره به درختان بدهند. ۲- کشاورزی و دامپروری با روش های علمی و جدید را که کمترین آسیب را به محیط زیست می رسانند، به کشاورزان این منطقه آموزش بدهند. ۳- با ایجاد پارک های وحش از گونه های جانوری و گیاهی در معرض خطر مراقبت کنند تا نسل آنها منقرض نشود.
فصل چهارم ۱) ۱- درآمد و رفاه ۲- سواد و آموزش ۲) الف- اختیاری، داخلی ب- خارجی اجباری ۳) گزینه ب ۴) اعطای جایزه و کمک های مالی به خانواده هایی که صاحب فرزند می شوند، واگذاری مسکن، معافیت از پرداخت مالیات و افزایش مرخصی تحصیلی و کاری مادران است.
فصل پنجم ۱) گزینه ب ۲) یکپارچه بودن سرزمین ایران و وجود نظم و امنیت در سراسر کشور - وجود شبکه وسیعی از راه ها و کاروان سراها در سراسر ایران ۳) کلمه خشکبار اشتباه - ابریشم درسته ۴) شاه اسماعیل و سربازانش شجاعت زیادی نشان دادند اما سپاه عثمانی به کمک سلاح های آتشین مانند توپ و تفنگ که سپاه ایران از آنها بی بهره بود، پیروز شد ۵) شیخ بهایی و علامه محمدباقر مجلسی ملاصدرا میر داماد
فصل ششم ۱) الف- وکیل الرعایا ب- بازار وکیل، مسجد وکیل، حمام وکیل و ارگ کری مخان در شیراز ۲) گزینه ب ۳) ۱- گزینه ج ۲- الف- تهران ب- آقامحمدخان مردی تندخو و بی رحم بود و سرانجام به دست خدمتکارانش کشته شد. ج- پس از او برادرزاده اش فتحعل یشاه، به قدرت رسید


تلاشی در مسیر موفقیت



- ✓ دانلود گام به گام تمام دروس
- ✓ دانلود آزمون های قلم چی و گاج + پاسخنامه
- ✓ دانلود جزوه های آموزشی و شب امتحانی
- ✓ دانلود نمونه سوالات امتحانی
- ✓ مشاوره کنکور
- ✓ فیلم های انگیزشی

 Www.ToranjBook.Net

 [ToranjBook_Net](https://t.me/ToranjBook_Net)

 [ToranjBook_Net](https://www.instagram.com/ToranjBook_Net)