


تلاشی در مسیر موفقیت



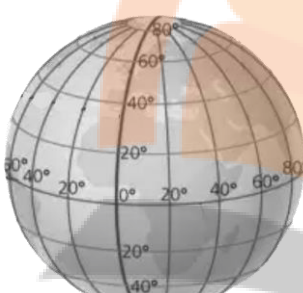
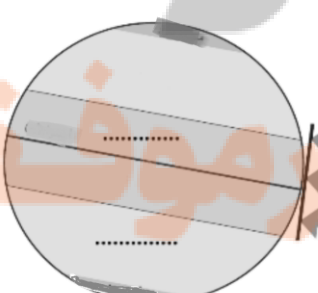
- دانلود گام به گام تمام دروس ✓
- دانلود آزمون های قلم چی و گاج + پاسخنامه ✓
- دانلود جزوه های آموزشی و شب امتحانی ✓
- دانلود نمونه سوالات امتحانی ✓
- مشاوره کنکور ✓
- فیلم های انگیزشی ✓

 [www.ToranjBook.Net](http://www.ToranjBook.Net)

 [ToranjBook\\_Net](https://t.me/ToranjBook_Net)

 [ToranjBook\\_Net](https://www.instagram.com/ToranjBook_Net)

نام درس: مطالعات اجتماعی		بسمه تعالی دبیرستان اندیشه برتران شهرستان بهبهان	نام:
مدت امتحان: ۶۰ دقیقه	تاریخ امتحان: ۱۴۰۰/۱۰/۱۸		نام خانوادگی:
پایه نهم	ساعت امتحان: ۱۰ صبح		نام آموزشگاه:
طراح: طیبه مرتضوی نژاد		نمره با حروف:	نمره با عدد:

بارم	امتحان درس مطالعات اجتماعی پایه نهم نوبت اول	ردیف
۰/۵	۱- مدارها از ۰ تا ۹۰ درجه شمالی و جنوبی درجه بندی شده اند ۲- تفاوت سیارات درونی و بیرونی را بنویسید.	فصل اول
۰/۵	۳- از میان عبارات داخل پرانتز پاسخ صحیح را انتخاب کنید. الف- طولانی ترین روز سال در اول تیرماه در نیمکره شمالی (اعتدالین. انقلاب زمستانی. انقلاب تابستانی) ب- مدت زمان ۳۶۶ روز (سال رسمی. سال کبیسه. سال واقعی) ۴. اختلاف شب و روز در نتیجه حرکت..... زمین است.	
۰/۵	۵. روی شکل مقابل موارد زیر را مشخص کنید الف: خط استوا ب: قطب شمال	
۰/۵	۶- یکی از نتایج حرکت انتقالی زمین را بنویسید.	
۰/۵		
۰/۵	۱. بخش خارجی زمین یا پوسته آن که حالت جامد دارد کدام یک از موارد زیر است؟ الف) زیست کره <input type="checkbox"/> ب) هواکره <input type="checkbox"/> ج) سنگ کره <input type="checkbox"/> د) آب کره <input type="checkbox"/>	
۰/۵	۲. انسان همواره برای رفع نیازهای خود بهره برداری ..... چهره ناهمواری ها را تغییر می دهد.	
۰/۵	۳. بعد از فلات قاره ناگهان شیب زیاد می شود به این بخ..... می گویند.	
۰/۵	۴. در کوه های کم ارتفاع شیب دامنه ها ملایم است و دره های بین آنها V شکل است. <input type="checkbox"/> ص <input type="checkbox"/> غ	
۰/۵	۵. یک مورد از عواملی که کاوشهای علمی در اقیانوس ها را دشوار می کند بنویسید	
۰/۵	۶. از یکسان نتابیدن خورشید به سطح زمین سه منطقه آب و هوایی به وجود می آید دو مورد خواسته شده را روی شکل مقابل بنویسید.	
		

<p>۰/۵ <input type="checkbox"/> غ <input type="checkbox"/> ص</p> <p>۰/۵</p> <p>۱/۵</p> <p>۰/۵</p> <p>۰/۵</p>	<p>۱. هرزیست بوم از چندبوم سازگان اکوسیستم تشکیل شده است.</p> <p>۲- به ازبین بردن کامل جنگلها دریک ناحیه.....می گویند.</p> <p>۳. مهم ترین عوامل تخریب زیستگاه ها را بنویسید. ۳ مورد</p> <p>۴. هر کدام از زیست بوم های زیر با کدام توضیح مرتبط است. (یک مورد اضافی است)</p> <p><b>(جنگلهای بارانی استوایی. تایگا. ساوان )</b></p> <p>الف: بارندگی دراین ناحیه بین ۲۵۰ تا ۵۰۰ میلیمتر است.....</p> <p>ب. این ناحیه از نظرتنوع جانوری بسیارغنی است. ....</p> <p>۵. جنگلهای بارانی استوایی خاستگاه اولیه کدام میوه ها بوده است؟ دو مورد</p>	<p>فصل سوم</p>
<p>۰/۵</p> <p>۱</p> <p>۰/۵</p> <p>۱/۵</p>	<p>۱. تفاوت میان میزان مولید و میزان مرگ ومید.....را نشان می دهد.</p> <p>۲. شهرهای بزرگ جهان با چه مشکلاتی روبه رو هستند؟ چهارمورد</p> <p>۳. کدام مورد از ملاک های توسعه انسانی محسوب نمی شود؟</p> <p>الف) امنیت و آزادی <input type="checkbox"/> (ب) سواد و آموزش <input type="checkbox"/> (ج) درآمد و رفاه <input type="checkbox"/> (د) امید به زندگی <input type="checkbox"/></p> <p>۴. عوامل داخلی نابرابری در جهان کدامند؟ (۳ مورد بنویسید)</p> <p>۱ ۲ ۳</p>	<p>فصل چهارم</p>
<p>۰/۵</p> <p>۰/۵</p> <p>۱</p> <p>۱</p>	<p>۱. جنگ چالدران بین ایران و کدام کشورزیر اتفاق افتاد؟</p> <p>الف) عثمانی <input type="checkbox"/> (ب) روسیه <input type="checkbox"/> (ج) فرانسه <input type="checkbox"/> (د) انگلستان <input type="checkbox"/></p> <p>۲. صادرات ابریشم درانحصارشاه عباس قرارداشت. <input type="checkbox"/> غ <input type="checkbox"/> ص</p> <p>۳. چرا شاه عباس حکومت ولایات را به افراد غیرقزلباش سپرد؟</p> <p>۴. عوامل گسترش و رونق تجارت در عصر صفوی را بنویسید دو مورد</p>	<p>فصل پنجم</p>
<p>۰/۵</p> <p>۰/۵</p> <p>۱</p> <p>۰/۵</p> <p>۰/۵</p>	<p>۱. کدام پادشاه زیر حکومت قاجار را بنیان گذاشت؟</p> <p>الف) ناصرالدین شاه <input type="checkbox"/> (ب) فتحعلی شاه <input type="checkbox"/> (ج) آقامحمدخان <input type="checkbox"/> (د) نادر <input type="checkbox"/></p> <p>۲. به موجب عهدنامه..... سرزمینهای شمالی رود ارس به تصرف روسیه درآمد</p> <p>۳. دو مورد از اقدامات عباس میرزا را بنویسید.</p> <p>۴. هدف اصلی انگلستان از برقراری رابطه با حکومت قاجار چه بود؟</p> <p>۵- یکی از گسترده ترین جنبشهای اجتماعی که دراعتراض به واگذاری امتیازات اقتصادی به بیگانگان شکل گرفت..... بود</p>	<p>فصل ششم</p>



کلید امتحان مطالعات	به نام خدا	دبیرستان اندیشه برتران
مرتضوی	پایه نهم	نوبت اول 1400/10/18

پرسشهای فصل یک 3/5

- 1- صحیح 0/5 2- سیارات درونی به خورشید نزدیکتر و از جنس سنگ هستند سیاران بیرونی از خورشید دورتر و از جنس گازند. 1نمره 3- انقلاب تابستانی 0/25 کیبسه 0/25 4- وضعی 0/5 5- نشان دادن خط استوا و قطب شمال روی شکل 0/5 6- پدید آمدن فصلها 0/5

پرسش های فصل دوم 3/5 نمره

- 1- سنگ کره 0/5 2- محیط طبیعی 0/5 3- شیب قاره 0/5 4- غلط 0/5 5- فشار زیاد آب - تاریکی - دمای کم - گرانی تجهیزات - 0/5 یک مورد کافیت 6- نشان دادن دو منطقه آب و هوایی خواسته شده روی شکل منطقه گرم 0/5 منطقه معتدل جنوبی 0/5

پرسش های فصل سوم 3/5 نمره

- 1- صحیح 0/5 2- جنگل زدایی 0/5 3- فعالیتهای صنعتی و تولید انبوه کالا 0/5 مصرف گرایی و تولید زباله 0/5 5- شکار و تجارت اعضای بدن حیوانات 0/5 موارد دیگر

- 4- الف: تایگا 0/25 ب: ساوان 0/25 5- موز - نارگیل - انبه 0/5 دو مورد کافیت

پرسش های فصل چهارم 3/5 نمره

- 1- رشد طبیعی 0/5 2- ترافیک سنگین - آلودگی هوا 0/25 افزایش اختلاف طبقاتی 0/25 زاغه نشینی 0/25 3- گزینه (الف) امنیت و آزادی 0/5

- 4- وابستگی حکومتها به بیگانگان 0/5 استبداد 0/5 فرهنگها و عاداتهای غلط 0/5

پرسش های فصل پنجم 3 نمره

- 1- عثمانی 0/5 2- صحیح 0/5 3- برای تقویت حکومت مرکزی 0/5 جلوگیری از نافرمانی و بی نظمی سران قزلباش 0/5 4- یکپارچه بودن سرزمین ایران نظم و امنیت و وجود شبکه وسیع راهها و کاروانسراها 1نمره

پرسشهای فصل ششم 3 نمره

- 1- آقامحمدخان 0/5

- 2- ترکمانچای 0/5

- 3- فرستادن افرادی به انگلستان برای فراگیری علوم و فنون 0/5 ترجمه کتابهایی در موضوع تاریخ 0/5

- 4- نگذارد کشورهای رقیب از طریق ایران به هندوستان دسترسی پیدا کنند. 0/5

- 5- نهضت تنباکو 0/5




تلاشی در مسیر موفقیت



- دانلود گام به گام تمام دروس ✓
- دانلود آزمون های قلم چی و گاج + پاسخنامه ✓
- دانلود جزوه های آموزشی و شب امتحانی ✓
- دانلود نمونه سوالات امتحانی ✓
- مشاوره کنکور ✓
- فیلم های انگیزشی ✓

 [www.ToranjBook.Net](http://www.ToranjBook.Net)

 [ToranjBook\\_Net](https://t.me/ToranjBook_Net)

 [ToranjBook\\_Net](https://www.instagram.com/ToranjBook_Net)