

تلاشی در مسیر موفقیت



- دانلود گام به گام تمام دروس ✓
- دانلود آزمون های قلم چی و گاج + پاسخنامه ✓
- دانلود جزوه های آموزشی و شب امتحانی ✓
- دانلود نمونه سوالات امتحانی ✓
- مشاوره کنکور ✓
- فیلم های انگیزشی ✓

 www.ToranjBook.Net

 [ToranjBook_Net](https://t.me/ToranjBook_Net)

 [ToranjBook_Net](https://www.instagram.com/ToranjBook_Net)

بسم الله الرحمن الرحيم

بانک جامع سؤالات درس اقتصاد پایه دهم انسانی

سال تحصیلی ۹۶-۹۵

با تشکر و سپاس از سرگروه های محترم آموزشی شهرستان های تحت پوشش ذیل که

در تهیه این مجموعه همکاری نمودند. آقایان و خانم ها:

فرشته غلامی، الهام رضوانی، جعفر داداشی، شهلا ایلکا، نبی .. ذبیح پور، سارا دیوسالار،

خدیجه محدثی، اصغراقبالی، محمد قلیچ، حبیب .. عباس تبار.

گروه آموزشی اقتصاد استان مازندران

محمد باقری

مجموع تعداد سؤالات = ۱۱۸۵

فهرست

ردیف	بخش	فصل	عنوان فصل	تعداد سؤالات	صفحه
۱	اول	اول	اقتصاد چیست؟	۱۲۰	۱۰ تا ۳
۲	اول	دوم	تولید	۷۶	۱۵ تا ۱۱
۳	اول	سوم	بازار	۶۷	۲۱ تا ۱۶
۴	اول	چهارم	آشنایی با شاخص های اقتصادی	۹۲	۲۹ تا ۲۲
۵	دوم	اول	پول	۸۵	۳۴ تا ۳۰
۶	دوم	دوم	بانک	۶۶	۳۸ تا ۳۵
۷	دوم	سوم	بازار سرمایه	۳۲	۴۰ تا ۳۹
۸	سوم	اول	رشد و توسعه و پیشرفت	۵۰	۴۴ تا ۴۱
۹	سوم	دوم	فقر و توزیع درآمد	۳۳	۴۷ تا ۴۵
۱۰	چهارم	اول	دولت و اقتصاد	۱۱۳	۵۴ تا ۴۸
۱۱	چهارم	دوم	بودجه و مالیه دولت	۱۷۵	۶۴ تا ۵۵
۱۲	پنجم	اول	اقتصاد بین الملل	۱۷۸	۷۷ تا ۶۵
۱۳	پنجم	دوم	اقتصاد ایران	۶۶	۸۱ تا ۷۸
۱۴	پنجم	سوم	اقتصاد ایران در مسیر پیشرفت	۷۷	۸۶ تا ۸۲

باسمه تعالی

بخش اول: آشنایی با اقتصاد

فصل اول از بخش اول اقتصاد چیست؟

اقتصاد چیست؟

- ۱) رفع نیازها از طریق که خداوند در اختیار انسان گذاشته است، صورت می‌گیرد. (دانش)
- ۲) در تصویر بسیار ساده از حیات انسان با دو مفهوم یعنی و رو به رو می‌شویم. (درک و فهم)
- ۳) انسان به عنوان خدا در روی زمین معرفی شده است. (فهم)
- ۴) انسان به عنوان جانشین خدا در روی زمین از بُعد اقتصادی چه مأموریتی دارد؟ (فهم)
- ۵) دانش اقتصاد چه کمکی به انسان برای رفع نیازها می‌نماید؟ (فهم)

نیازهای انسان:

- ۶) انسان موجودی کمال جو است؛ به همین دلیل با برآورده شدن پاره‌ای از نیازهایش، احساس بی‌نیازی به او دست می‌دهد. (دانش)
 صحیح غلط
- ۷) با گذشت زمان تمام نیازهای انسان برطرف می‌شود؟
 صحیح غلط
- ۸) محرک انسان برای فعالیت اقتصادی است. (دانش)
- ۹) اگر انسان فقط در نیازهای مادی و حیوانی خود متوقف شود، کمال جویی به نوعی تبدیل می‌شود. (فهم)
- ۱۰) در جدول زیر موارد نقطه چین مربوط به نیازها را مشخص کنید.

ردیف	نیازهای مادی (اولیه)	نیازهای غیر مادی
۱
۲

۱۱) سه مورد از نیازهای اولیه انسان را بنویسید. (دانش)

۱۲) عامل محرک فعالیت و تلاش در انسان چیست؟ چرا؟ (درک و فهم)

۱۳) مراتب نیازها در انسان را بررسی نمایید.

۱۴) آیا نیازهای انسان به نیازهای مادی محدود می شود؟ چرا؟

۱۵) کمال جوئی انسان چه ویژگی را برای او به همراه دارد؟ (درک و فهم)

۱۶) به نظر شما چرا انسان به عنوان موجودی کمال جو مطرح است؟

۱۷) چرا علی رغم رفع پاره ای از نیازها انسان، احساس بی نیازی به او دست نمی دهد؟ (درک و فهم)

۱۸) چه زمانی کمال جوئی در انسان به نوعی سیری ناپذیری تبدیل می شود؟ (درک و فهم)

۱۹) پیامد پیگیری نیازهای کاذب یا زیاده روی در رفع نیازهای مادی چیست؟ (درک و فهم)

منابع و امکانات:

۲۰) با وجود منابع طبیعی فراوان در کره زمین چرا گفته می شود منابع محدود هستند؟ (درک و فهم)

الف. به دلیل ناشناخته بودن بسیاری از منابع

ب. به دلیل محدود بودن دانش فنی بشر

ج. به دلیل آسان نبودن بهره برداری کامل از آنها

د. هر سه مورد

۲۱) خداوند؛ منابع، امکانات و ثروت های طبیعی و انسانی را به در اختیار خود قرار داده است. (فهم)

۲۲) به چه دلیلی خداوند منابع، امکانات و ثروت های طبیعی و انسانی را به امانت در اختیار جانشین خود قرار داده

است؟ (درک و فهم)

۲۳) دو ویژگی مهم منابع و امکانات در دسترس بشر را ذکر نمایید.

۲۴) دو دلیل محدودیت استفاده از منابع را بیان نمایید. (درک و فهم)

۲۵) چرا ذخایر معدنی با وجود فراوان بودن محدود است؟ (درک و فهم)

۲۶) استفاده از منابع باید با رعایت و توجه به چه نکاتی همراه باشد؟ (دانش)

۲۷) چرا حتی اگر مشکل کمبود منابع نداشتیم و داشته های بشر نامحدود باشد، انسان در بهره برداری از این منابع،

محدودیت دارد؟ (درک و فهم)

۲۸) محدودیت ها در استفاده از منابع و امکانات، چه تاثیری بر انتخاب انسان دارد؟ (درک و فهم)

۲۹) به چه دلیل در استفاده از منابع با کمیابی مواجه می شویم؟ (درک و فهم)

۳۰) توجه به چه شرایطی اقتصاددانان بحث کمیابی را مطرح می کنند؟ (درک و فهم)

۳۱) چرا افراد باید در میان خواسته های خود به انتخاب دست بزنند؟

مسئله اقتصادی:

۳۲) بهترین روش استفاده از منابع وامکانات کدام است؟ (تجزیه و تحلیل)

- الف. بیشترین میزان مصرف را در جامعه باید داشت. ب. بیشترین میزان تولید را بدست آورد.
ج. سطح بالاتری از رفاه را برای انسان فراهم نمود. د. موارد ب و ج

۳۳) یکی از مهم ترین مسائل زندگی و موضوع اصلی علم اقتصاد، چیست؟..... محسوب می شود. (دانش)

۳۴) یکی از مهم ترین مسائل زندگی و موضوع اصلی علم اقتصاد، چیست؟ نقش دانش اقتصاد را در آن بیان نمائید. (دانش)

۳۵) بهترین ملاک و روش استفاده از منابع و امکانات کدام است؟ (تجزیه و تحلیل)

مسئله انتخاب:

۳۶) انسان هایی که عقلانیت محدود دارند منافع را صرفاً در منافع مادی و حیوانی خلاصه می کنند. (دانش) ص غ

۳۷) انسان ها به حکم فطرت و سرشت خود در هر انتخابی به دنبال چه نتیجه ای می باشند؟ (دانش)

۳۸) انسان ها با توجه به منافع و هزینه ها در هر امری چگونه دست به انتخاب می زنند؟

۳۹) دو نمونه از مواردی که بشر به اصطلاح عقلانی رفتار نمی کنند را بیان نمائید. (فهم)

۴۰) با توجه به مسئله انتخاب، رفتار انسان در تخریب و برداشت بی رویه از جنگل و آب های زیرزمینی را مورد تحلیل قرار دهید. (ارزشیابی)

هزینه فرصت:

۴۱) قانون حیات انسانی این است؛ که هر انتخابی مستلزم از دست دادن انتخاب یا انتخاب های دیگری است.

(دانش) صحیح غلط

۴۲) یک تولیدکننده ی درب و پنجره با میزان چوبی که در اختیار دارد، تعدادی درب می سازد. در این صورت هزینه

فرصت این تولیدکننده برابر است با: (کاربرد)

الف. درآمد حاصل از پنجره ای که نساخته است.

ج. هزینه ی خرید چوب برای ساخت درب است.

د. هزینه ی خرید چوب برای ساخت پنجره است.

۴۳) انسان ها و جوامع، همیشه بهترین و برترین گزینه خود را از نظر منافع، انتخاب می کنند؛ و با این انتخاب،

بهترین خود را از دست می دهند. (دانش)

۴۴) مفهوم هزینه ی فرصت را با مثال بیان نموده و بگوئید این اصل چگونه می تواند در تصمیم گیری ها مؤثر واقع شود؟

۴۵) در یک زمین کشاورزی با امکان کاشت دو محصول گندم و پنبه، هزینه فرصت کاشت گندم چگونه به دست

می آید. (کاربرد)

۴۶) با ذکر یک مثال بیان نمائید چگونه می توان از مفهوم هزینه فرصت در زندگی استفاده کرد؟ (ترکیب)

۴۷) ضمن بیان یک مثال، بگوئید هزینه فرصت بیانگر چیست؟

تعریف علم اقتصاد:

۴۸) کدام مورد ذیل در تعریف علم اقتصاد صحیح می باشد؟ (فهم)

- الف. علمی است که رفتار بشر را در رابطه با نیازهای مادی و معنوی نامحدود بررسی می کند.
- ب. علمی است که رفتار بشر را به صورت رابطه بین منابع تولید محدود و خواسته های نامحدود بررسی می کند.
- ج. علمی است که رفتار بشر را به صورت رابطه بین منابع تولید نامحدود و خواسته های محدود بررسی می کند.
- د. علمی است که رفتار بشر را در رابطه با مصارف متعدد و نامحدود بررسی می کند.

۴۹) چرا اقتصاد به عنوان علم انتخاب مطرح است؟ (تجزیه و تحلیل)

۵۰) علم اقتصاد را تعریف نمائید. (فهم)

۵۱) سه نکته ی مهمی که تعریف علم اقتصاد در برگیرنده ی آن هاست را بیان کنید.

۵۲) تصمیماتی که انسان در مورد مسائل اقتصادی می گیرد، عمدتاً ریشه در چه عاملی دارد؟

۵۳) هدف علم اقتصاد چیست؟ (درک)

۵۴) تعریف علم اقتصاد در برگیرنده چه نکات مهمی است؟ (3مورد) (درک و فهم)

۵۵) چه عواملی در انتخاب های انسان تاثیر دارد؟ (دانش)

۵۶) علم اقتصاد خود را به مطالعه چه مواردی موظف می داند؟ (درک و فهم)

علم اقتصاد درباره چه موضوعاتی بحث می کند؟

۵۷) کدام یک از موضوعات زیر صرفاً جزء موضوعات مورد مطالعه در علم اقتصاد نمی باشد؟ (درک و فهم)

الف. فقر و مالیات ب. توزیع برابر یا نابرابر فرصت ها ج. رشد و پیشرفت د. انتخابات

۵۸) چهار نمونه از موضوعات مورد بررسی در علم اقتصاد را نام ببرید.

۵۹) دانش اقتصاد چه کمکی در استفاده از منابع و امکانات به بشر می کند؟ (درک و فهم)

۶۰) تکامل اندیشه ی اقتصادی بشر امروزه با چه عنوانی شناخته می شود؟ (دانش)

۶۱) دو نمونه از پرسش هایی که در محدوده ی مطالعات اقتصادی قرار می گیرد را مشخص کنید.

اهمیت علم اقتصاد:

۶۲) توضیح دهید که چرا امروزه علم اقتصاد دارای اهمیت است؟ (درک و فهم)

۶۳) به نظر شما چرا در جهان امروز اهمیت علم اقتصاد و متخصصان این رشته روز به روز بیش تر مورد توجه قرار می

گیرد؟ (ارزشیابی)

اقتصاد و آموزه های اسلامی:

- ۶۴) اسلام در دسترس نبودن معاش را خطری می داند که اعتقادات انسان را تهدید می کند. صحیح غلط
- ۶۵) از نظر اسلام رسیدن به رفاه و توانگری مادی و رفع فقر ناپسند است. صحیح غلط
- ۶۶) حل همه ی مشکلات بشر حتی نیازهای مادی وی در گرو عمل به آموزه های الهی است. صحیح غلط
- ۶۷) دیدگاه اسلام نسبت به اقتصاد چگونه است؟ (درک و فهم)
- ۶۸) چرا از نظر اسلام، اقتصاد در زندگی فرد اهمیت ویژه ای دارد؟ (درک و فهم)
- ۶۹) اهمیت اقتصاد از دیدگاه اسلام را بیان کنید؟ (درک و فهم)
- ۷۰) به نظر شما چرا تلاش برای رفع فقر و توانگری پسندیده است. با توجه به آیات قران تجزیه و تحلیل کنید. (ارزشیابی)
- ۷۱) کشوری که نتواند در مسیر پیشرفتی همه جانبه حرکت کند؛ چه آینده ای خواهد داشت؟ (درک و فهم)
- الف. می تواند با اتکا به منابع داخلی به حیات خود ادامه دهد.
- ب. استقلال سیاسی و فرهنگی خود را حفظ خواهد نمود.
- ج. با اتکا به فرهنگ ملی خود می تواند مسیر آینده خویش را تعیین کند.
- د. از نظر اجتماعی، اقتصادی و سیاسی با بحران روبرو می شود.
- ۷۲) تأکید قرآن به آموزه های اسلامی در اقتصاد از چه جنبه ای است؟ (درک و فهم)
- ۷۳) با توجه به نگاه اسلام به اقتصاد؛ فرایندی که عقلانیت اقتصادی برای رسیدن به اهداف خود بدان ها نیازمند است را بنویسید؟ (دانش)
- ۷۴) چه کشوری هایی از جنبه ی اقتصادی بسیار آسیب پذیرند؟ پیامد آن را بنویسید؟
- ۷۵) چرا جامعه اسلامی به رشد و پیشرفت اقتصادی باید به مثابه یکی از مهم ترین ابزارها در جهت حفظ هویت و استقلال خود توجه کند؟
- ۷۶) جوامعی که تحت تأثیر اقتصاد های مهاجم قرار می گیرند، دارای چه مشخصه هایی می باشند؟

چند مفهوم اولیه:

کالا:

- ۷۷) مفهوم کالا یک مفهوم اقتصادی است. صحیح غلط
- ۷۸) آن دسته از اشیائی که در بازار خرید و فروش نمی شوند، هم کالا به شمار می رود. صحیح غلط

۷۹) کالا شیئی است که صرفاً ارزش مصرفی دارد. صحیح غلط

۸۰) کدام مورد ذیل کالا محسوب نمی شود؟

- الف. سبزی که خودمان کاشته و مصرف می کنیم.
ب. میوه ای که می خریم.
ج. لوازم التحریری که از فروشگاه تهیه می کنیم.
د. داروئی که از داروخانه تهیه می کنیم.
- ۸۱) مفهوم کالا را با ذکر مثال تعریف نمائید.

خدمات:

۸۲) خدمات اشیای فیزیکی و قابل لمس هستند که نیازهای انسان را برطرف می کنند. (درک) صحیح غلط

۸۳) خدمات را تعریف نموده و دو مثال از آن ذکر نمائید.

۸۴) نیاز به دانستن و مراجعه به مؤسسات آموزشی، کالا محسوب می شود یا خدمات؟ چرا؟ (کاربرد)

۸۵) چند نمونه از کالا و خدماتی را که در جریان آموزش و تحصیل مورد استفاده قرار می دهید را ذکر کنید. (کاربرد)

۸۶) شباهت و تفاوت کالا و خدمات را با ذکر مثال برای هر کدام مشخص نمائید. (تجزیه و تحلیل)

کالا های مصرفی و واسطه ای:

۸۷) کالاهایی که توسط کارخانه ها خریداری و در تولید کالای دیگر به کار می رود کالای مصرفی نامیده می شوند. ص غ

۸۸) کدام یک از کالا های زیر واسطه ای نیست؟

الف) شماره گیر تلفن ب) پارچه ی خریداری شده توسط خیاط ج) لاستیک اتومبیل د) اتومبیل

۸۹) به کالاهایی که توسط مصرف کنندگان نهایی خریداری و به مصرف می رسند..... می گوئیم.

۹۰) کالای واسطه ای را تعریف نمائید.

۹۱) چهار مورد از کالاهای واسطه ای را نام ببرید.

۹۲) پنیر خریداری شده توسط مصرف کننده جزء کدام یک از انواع کالاها می باشد؟ (کاربرد)

۹۳) کالاهای مصرفی و واسطه ای را با یکدیگر مقایسه نمائید. (ارزشیابی)

کالا های بادوام و بی دوام:

۹۴) کدام یک از کالا های زیر در صورتی که در فرآیند تولید به وسیله ی بنگاهها به کار گرفته شوند سرمایه ای نامیده می

شوند؟ الف. کالاهای واسطه ای ب. کالاهای مصرفی ج. کالاهای بادوام د. کالاهای ضروری

۹۵) کالا های بادوام چه نوع کالاهایی هستند؟

۹۶) تفاوت کالاهای بادوام و بی دوام را مشخص کنید و برای هر یک نمونه ای نیز بنویسید؟

۹۷) کالاهای بادوامی که در فرآیند تولید و به وسیله ی بنگاهها به کار گرفته شوند، چه نامیده می شوند؟ (دانش)

کالای سرمایه ای :

۹۸) به چه نوع کالائی، کالای سرمایه ای گفته می شود؟

۹۹) دو نمونه کالای سرمایه ای نام ببرید.

کالای ضروری و تجملی:

۱۰۰) کالائی که به رغم تغییر زیاد قیمت آن، میزان مصرف آن چندان تغییری نکند؛ چه نامیده می شوند؟

الف) بی دوام ب) ضروری ج) تجملی د) نهایی

۱۰۱) مصرف کننده میزان اهمیت کالاها را با حساسیت خود نسبت به قیمت نشان می دهد. صحیح غلط

۱۰۲) ضروری یا تجملی بودن کالا در همه زمان ها و مکان ها یکسان است. صحیح غلط

۱۰۳) کدام گروه از کالاها به ترتیب ضروری، واسطه ای، تجملی و بادوام است؟

الف) خوراک، مسکن، نورافشان، اتومبیل ب) فرش گران قیمت، گلگیر ماشین، مسکن، نمک

ج) نمک، خوراک، گوشی تلفن، تراکتور د) مسکن، لاستیک اتومبیل، تابلو فرش، تراکتور

۱۰۴) در جدول زیر موارد مربوطه را به هم وصل نمایید. (دانش)

الف	ب
۱- کالاهایی که برای ادامه فرایند تولید و تبدیل آنها به کالا های مختلف دیگر، مورد استفاده قرار می گیرند.	الف) کالاهای واسطه ای
۲- کالاهایی که خودشان مصرف نمی شوند بلکه در طول زمان، خدمات آنها مورد مصرف قرار می گیرد.	ب) کالاهای لوکس پ) کالاهای سرمایه ای
۳- کالاهایی که در فرایند تولید از سوی نیروی انسانی به کار گرفته می شود.	ج) کالاهای بادوام
۴- به کالاهایی که با کوچک ترین تغییر در قیمت، مصرف آن تغییر یابد.	د) کالاهای ضروری ه) کالاهای مصرفی

۱۰۵) هر یک از کالاهای ضروری و تجملی را تعریف نمائید.

۱۰۶) یک کالای تجملی و یک کالای ضروری نام ببرید. (کاربرد)

۱۰۷) کالای ضروری و تجملی را مقایسه کنید. (ارزشیابی)

۱۰۸) کالای ضروری با کالای تجملی چه تفاوتی دارد؟

۱۰۹) چرا ضروری یا تجملی بودن کالا مفهومی اقتصادی است؟

۱۱۰) اگر جامعه ای به جای تولید کالاهای اساسی به تولید کالاهای لوکس و تجملی روی بیاورد، به نظر شما این اقدام صحیح است؟ چرا؟ (تجزیه و تحلیل)

۱۱۱) تحلیل نمائید که چرا نور افشان را جزو کالاهای ضروری نمی دانید.

۱۱۲) مشخص نمائید که هر یک از موارد ذیل از کدام نوع از انواع کالاها محسوب می شوند؟

الف) مسکن برای خود (ب) مشاوره دانیزشکی (ج) موتور اتومبیل

د) تابلو فرش (ه) اره برقی (و) یخچال در فروشگاه مواد پروتئینی

۱۱۳) جایگاه کالاهای تجملی و ضروری را در زندگی بیان کنید.

بازیگران و فعالان عرصه اقتصاد:

۱۱۴) شرکت هائی که در داخل یک کشور فعالیت می کنند جزو بازیگران کلان اقتصادی محسوب می شوند. ص غ

۱۱۵) بازیگران و فعالان عرصه ی اقتصاد جهان عبارتند از: (دانش)

الف. مصرف کنندگان و تولید کنندگان ب. دولت ها و سازمان های بین المللی

ج. الف و ب د. هیچ کدام

۱۱۶) فعالان اقتصادی معمولاً در چند سطح مطرح می شوند؟ نام ببرید.

۱۱۷) فعالان و بازیگران خرد اقتصادی به چه گروه هائی اطلاق می شود؟

۱۱۸) وجود سازمان های اقتصادی بین المللی و جهانی چه ضرورتی دارد؟ (درک و فهم)

۱۱۹) نقش سازمان های اقتصادی بین المللی در عرصه اقتصادی چیست؟

۱۲۰) به ابتکار خود یکی از فعالان عرصه اقتصاد در هر یک از دو سطح خرد و کلان را انتخاب کنید و با یک مثال نحوه

رفتار عقلانی آنان را در انتخاب موفق تبیین کنید. (ترکیب)

باسمه تعالی

بخش اول: آشنایی با اقتصاد

فصل دوم از بخش اول: تولید

آیا منابع و امکانات طبیعت به طور مستقیم مورد استفاده قرار می گیرند؟

- ۱) محصولات همه مؤسسات تولیدی به طور مستقیم به مصرف مردم می رسد. صحیح غلط
- ۲) سلسله اقداماتی که منابع و عوامل تولید را به کالاها و خدمات مورد نیاز تبدیل می کند..... می گویند.
- ۳) فرآیند تولید را با ذکر مثال تعریف نمائید.
- ۴) چه تفاوتی بین ارزش مصرفی و ارزش اقتصادی وجود دارد؟

تولیدکنندگان:

- ۵) همه ی فعالان اقتصادی به نوعی تولید کننده ی محصول هستند. صحیح غلط
- ۶) تولید و رسیدن به محصول چندگونه است؟ آنها را فقط نام ببرید.
- ۷) حیات را با ذکر مثال تعریف کنید.
- ۸) احیا را با ذکر مثال تعریف کنید.
- ۹) به چه نوع از تولید احیا گویند؟ یک نمونه از این نوع تولیدات را نام ببرید.
- ۱۰) تولید صنعتی چگونه حاصل می شود؟
- ۱۱) به کدام نوع از تولیدات محصولات نرم هم اطلاق می شود؟

انگیزه ی تولیدکنندگان:

- ۱۲) انگیزه تولیدکنندگان از تولید کالا، رفع نیاز است. صحیح غلط
- ۱۳) تولیدکنندگان و مؤسسات اقتصادی براساس انگیزه شان به چند گروه عمده تقسیم می شوند؟ نام ببرید.
- ۱۴) چهار مورد از انگیزه های تولیدکنندگان در تولید را نام ببرید.

عوامل تولید:

۱۵) از کدام یک از عوامل تولید با عنوان زمین یاد می شود؟

الف) تکنولوژی (ب) سرمایه (ج) نیروی انسانی (د) منابع طبیعی

۱۶) از کدام مورد زیر با عنوان عوامل تولید یاد می شود؟

الف) منابع طبیعی (ب) سرمایه (ج) نیروی انسانی (د) همه موارد

۱۷) وظیفه ترکیب عوامل تولید با کدام عامل تولیدی است؟

الف) منابع طبیعی (ب) نیروی انسانی (ج) سرمایه (د) فناوری

۱۸) کدام ویژگی مربوط به کالاهای سرمایه ای است؟

الف) گران بودن (ب) ارزان بودن (ج) بادوام بودن (د) با ارزش بودن

۱۹) عوامل اصلی تولید کدام اند؟

الف) زمین ، نیروی کار، تقاضا کننده (ب) زمین ، نیروی کار، سرمایه

ج) زمین، تقاضا کننده، نیروی کار (د) تقاضا کننده ، عرضه کننده ، سرمایه

۲۰) به کالاهای بادوامی که در جریان تولید به کار گرفته می شود می گویند.

۲۱) عامل تولیدی که وظیفه ترکیب سایر عوامل تولید را بر عهده دارد..... نام دارد.

۲۲) عوامل تولید را نام ببرید ؟

۲۳) منظور از عوامل یا نهاده های تولید چیست؟

۲۴) منظور از عامل منابع طبیعی در امر تولید چیست؟

۲۵) سرمایه فیزیکی را تعریف کنید.

۲۶) کدام عامل تولیدی از بقیه مهم تر است؟ چرا؟

۲۷) نیروی انسانی از نظر درجه مهارت به سه دسته تقسیم می شود. آنها را نام ببرید.

۲۸) نقش عامل نیروی انسانی در تولید را توضیح دهید.

۲۹) چرا از نیروی انسانی به عنوان مهم ترین عامل تولید می شود؟

۳۰) عوامل مولد انسانی را نام ببرید.

۳۱) منظور از سرمایه ی مالی چیست؟ و چگونه در تولید نقش ایفا می کند؟

۳۲) عامل سرمایه در امر تولید به چند دسته تقسیم می شود؟ نام ببرید.

۳۳) صاحب سرمایه ی مالی به چند صورت می تواند در تولید مشارکت نماید؟

سازمان تولید:

- ۴) جایگاه و نقش هر یک از عوامل تولید را تعیین می کند.
- ۳۵) مشارکتی بودن سازمان تولیدی به چه معناست؟
- ۳۶) منظور از خصوصی بودن سازمان تولیدی چیست؟
- ۳۷) انواع سازمان های تولیدی را نام ببرید.
- ۳۸) توزیع درآمد بین عوامل تولید چگونه و بر چه اساسی باید باشد؟
- ۳۹) کسب و کار و سازمان تولید از لحاظ مالکیت به چند صورت می تواند سازماندهی شوند؟ نام ببرید.

هزینه تولید:

- ۴۰) در جریان تولید، ممکن است تولید کنندگان به صاحبان سرمایه اجاره پردازند. صحیح غلط
- ۴۱) مبالغی را که تولید کنندگان برای تولید صرف می کنند چه نام دارد؟
- الف) هزینه های مستقیم تولید (ب) سود (ج) درآمد (د) اجاره
- ۴۲) دستمزد به کدام یک از عوامل تولید زیر تعلق می گیرد؟
- الف) منابع طبیعی (ب) نیروی انسانی (ج) سرمایه (د) فناوری
- ۴۳) سود به کدام یک از عوامل تولید تعلق می گیرد؟
- الف) منابع طبیعی (ب) نیروی انسانی (ج) سرمایه (د) زمین
- ۴۴) سهمی که به صاحب زمین در جریان تولید تعلق می گیرد چه نام دارد؟
- الف) اجاره (ب) بهره (ج) سود (د) دستمزد
- ۴۵) مبالغی که تولید کنندگان برای تولید صرف می کنند چه نامیده می شود؟
- الف) درآمد (ب) هزینه های غیر مستقیم تولید (ج) هزینه های مستقیم تولید (د) سرمایه
- ۴۶) در جریان تولید، تولید کنندگان بابت استفاده از زمین پرداخت می کنند.
- ۴۷) مبالغی را که تولید کنندگان برای تولید صرف می کنند، می گویند.
- ۴۸) پولی که تولید کنندگان برای عوامل تولید می پردازند با چه عناوینی به خانواده ها بر می گردد؟
- ۴۹) هزینه های تولید را تعریف کنید.
- ۵۰) مبالغی را که تولید کنندگان برای تولید صرف می کنند، چه نام دارد؟
- ۵۱) «دستمزد، سود، اجاره» به ترتیب به کدام یک از عوامل تولیدی تعلق می گیرد؟
- ۵۲) دو مورد از هزینه هایی که واحد تولیدی کفش را بیان نماید.
- ۵۳) چرا افراد نمی توانند از سرمایه مالی مانند سرمایه فیزیکی اجاره بگیرند؟

- ۵۴) میزان سود یا زیان برابر با تفاوت درآمد و هزینه است. صحیح غلط
- ۵۵) اگر میزان درآمد از هزینه بیشتر باشد می گوئیم تولید کننده از فعالیت خود زیان برده است. صحیح غلط
- ۵۶) اگر میزان درآمد از هزینه کمتر باشد می گوئیم تولید کننده از فعالیت خود سود برده است. ص غ
- ۵۷) تولید کنندگان برای جلوگیری از ضرر و زیان در کوتاه مدت
- الف) هزینه های تولید را کاهش می دهند. (ب) هزینه تولید را کاهش و بهره وری را افزایش می دهند.
- ج) درآمد را از راه فراهم کردن بازار خوب افزایش می دهد. (د) موارد الف ، ج
- ۵۸) کدام عبارت زیر صحیح می باشد؟
- الف) سود = هزینه + درآمد (ب) سود - هزینه = درآمد (ج) سود = هزینه - درآمد (د) سود + درآمد = هزینه
- ۵۹) اگر میزان درآمد از هزینه تولید بیشتر باشد می گوئیم تولید کننده از تولید خود برده است.
- ۶۰) میزان سود حسابداری برابر است با تفاوت و هزینه های مستقیم است.
- ۶۱) به هزینه های غیر مستقیم در محاسبه سود اقتصادی، می گویند.
- ۶۲) تفاوت سود حسابداری و سود اقتصادی در می باشد.
- ۶۳) سود حسابداری چگونه محاسبه می شود؟
- ۶۴) طریقه ی محاسبه ی سود اقتصادی یا سود ویژه چگونه است؟
- ۶۵) هر یک از موارد زیر را تعریف کنید.
- الف) سود :
- ب) هزینه تولید:
- ۶۶) یک واحد تولیدی را در نظر بگیرید.
- الف) این واحد تولیدی چه هزینه هایی دارد؟ (۲ مورد)
- ب) چگونه می توان هزینه این واحد تولیدی را کاهش داد؟ (۲ مورد)
- ۶۷) یک کارگاه تولیدی پوشاک در سال ۹۲ با صرف هزینه ۶ میلیون تومان، ۱۴ میلیون تومان درآمد کسب کرده است. میزان سود دریافتی این کارگاه را محاسبه کنید.
- ۶۸) تولید کنندگان برای کاهش هزینه های خود چه اقداماتی انجام می دهند؟
- ۶۹) انواع سازمان های تولیدی را نام ببرید.
- ۷۰) توزیع درآمد بین عوامل تولید چگونه و بر چه اساسی باید باشد؟
- ۷۱) کسب و کار و سازمان تولید از لحاظ مالکیت به چند صورت می تواند سازماندهی شوند؟ نام ببرید.
- ۷۲) دو روش جهت کاهش هزینه های تولید بیان نمائید.

۷۳) دو روش برای افزایش سطح درآمد حاصل از تولید پیشنهاد کنید.

۷۴) سود کارخانه ای $\frac{2}{5}$ درآمد آن است. اگر هزینه های این کارخانه ۶۰۰۰۰۰۰ میلیون تومان می باشد. کارخانه چند میلیون تومان درآمد دارد؟

۷۵) کشاورزی در پایان یک سال کاری خود با فروش تمامی محصولات تولید شده، ۵۰ میلیون تومان درآمد به دست آورده است. او کارگرانی با حقوق ۵۰۰ هزار تومان در ماه استخدام کرد. وی از زمین و تراکتوری که خود صاحب آن بود، استفاده کرد. با توجه به اطلاعات جدول زیر، به ترتیب سود حسابداری و سود ویژه ی این کشاورز چند هزار تومان است؟

هزینه ی خرید مواد اولیه ی مورد نیاز سالانه	300 هزار تومان
تعداد کارگران استخدام شده	3 نفر
هزینه ی استهلاک سالانه	10٪ حقوق سالانه ی کارگران
ارزشمندی زمین در صورت اجاره دادن	ماهان 200 هزار تومان
ارزشمندی تراکتور در صورت اجاره دادن	ماهان 50 هزار تومان

۷۶) باغداری در یک سال ۳۰ تن از مرکبات خود را که از زمینی که خود صاحب آن می باشد، برداشت کرده و با قیمت هر کیلو ۱۰۰۰ تومان به فروش رسانده است، همچنین وی از تراکتوری کوچک اش نیز در امر باغداری استفاده نموده است. با توجه به اطلاعات جدول زیر، به ترتیب سود حسابداری و سود ویژه ی او را محاسبه نمایید.

هزینه های کود و سمپاشی	900 هزار تومان
متوسط هزینه ی ماهیانه ی آبیاری	60 هزار تومان
دستمزد کارگران	4 میلیون تومان
هزینه ی استهلاک سالانه تراکتور	500 هزار تومان
ارزشمندی زمین در صورت اجاره دادن	ماهان 300 هزار تومان
ارزشمندی تراکتور در صورت اجاره دادن	ماهان 50 هزار تومان

باسمه تعالی

بخش اول: آشنایی با اقتصاد

فصل سوم از بخش اول: بازار

آیا می دانید بازار چگونه شکل می گیرد؟

۱) منظور از رفتار اقتصادی چیست؟

بررسی رفتار اقتصادی مصرف کنندگان:

۲) رفتار اقتصادی مصرف کنندگان در تصمیم برای مصرف یک کالا، مستقیماً تحت تأثیر کدام مورد زیر قرار نمی گیرد؟

الف) سلیقه شان ب) تبلیغات ج) درآمد د) قیمت عوامل تولید

۳) تصمیم مصرف کنندگان در مورد خرید کالا از کدام عامل تأثیر نمی پذیرد؟

الف) سود آور بودن کالا ب) قیمت کالا ج) قیمت سایر کالاها د) سلیقه ی فرد

۴) با افزایش قیمت گوشت قرمز، مصرف گوشت مرغ و ماهی به ترتیب و می یابد.

الف) افزایش، کاهش ب) افزایش، افزایش ج) کاهش، کاهش د) کاهش، افزایش

۵) منحنی تقاضا؛ نشان دهنده ی چگونگی رفتار اقتصادی است و حالت دارد.

الف) مصرف کنندگان - صعودی ب) مصرف کنندگان - نزولی ج) تولید کنندگان - نزولی د) تولید کنندگان - صعودی

۶) نزولی بودن منحنی تقاضا به دلیل آن است که

الف) با کاهش قیمت هر کالا، مصرف کنندگان میزان خریدشان از آن را ثابت نگه می دارند.

ب) با افزایش قیمت هر کالا، مصرف کنندگان سعی می کنند نیازهای شان را با کالاهای مشابه برطرف کنند.

ج) با کاهش قیمت هر کالا، تولید کنندگان بیش تر آن را تولید می کنند.

د) با افزایش قیمت هر کالا، نیاز مصرف کنندگان به مصرف آن کالا کاهش می یابد.

۷) منحنی تقاضا نشان دهنده ی چگونگی است.

۸) تصمیم مصرف کنندگان در مورد خرید یک کالا تحت تأثیر چه عواملی است؟

۹) منحنی تقاضا از چپ به راست چه حالتی دارد؟ تفسیر آن چیست؟

۱۰) به نظر شما چرا منحنی تقاضا حالت نزولی دارد؟ (ذکر دو دلیل)

بررسی رفتار اقتصادی تولیدکنندگان:

۱۱) منحنی تقاضا برای یک کالای عادی به سمت چپ تغییر مکان داده است بنابراین.....

- الف) درآمد مصرف کنندگان کاهش یافته است.
- ب) سلیقه مصرف کنندگان به نفع کالا تغییر یافته است.
- ج) قیمت کالا افزایش یافته است.
- د) درآمد مصرف کنندگان افزایش یافته است.

۱۲) تأثیر افزایش قیمت کالا بر رفتار اقتصادی تولید کننده کدام است؟

- الف) از ورود به بازار وانجام فعالیت جلوگیری می کند.
- ب) برای تولید کالا به مقدار زیادتر انگیزه کافی ندارد.
- ج) برای کسب سود بیشتر مقدار تولید خود را افزایش می دهد.
- د) برای جلوگیری از ضرر مقدار کم تری تولید می کند.

۱۳) تولید کنندگان و مصرف کنندگان به ترتیب اغلب با چه اهدافی وارد بازار می شوند؟

الف) رفع نیاز، کسب سود ب) رفع نیاز، رفع نیاز ج) کسب سود، کسب سود د) کسب سود، رفع نیاز

۱۴) منحنی عرضه و منحنی تقاضا به ترتیب هر کدام نشان دهنده چه چیزی می باشند؟

۱۵) دو دلیل صعودی بودن منحنی عرضه را بیان کنید.

۱۶) تصمیم تولید کنندگان در مورد میزان تولید کالا تحت تاثیر چه عواملی است؟

۱۷) منحنی عرضه از چپ به راست چه حالتی دارد؟ تفسیر آن چیست؟

۱۸) دلیل صعودی بودن منحنی عرضه چیست؟

۱۹) دلیل هر یک از پدیده های زیر را بیان نمائید.

الف) منحنی تقاضا نزولی است:

ب) منحنی عرضه صعودی است:

تعداد و قیمت تعادلی:

۲۰) عامل اصلی هماهنگی و ایجاد تعادل در "رفتار اقتصادی تولید کنندگان و مصرف کنندگان" کدام است؟

الف) قیمت کالا ب) ارزان بودن کالا ج) فزونی عرضه بر تقاضا د) فزونی تقاضا بر عرضه

۲۱) تولید کنندگان و مصرف کنندگان در هنگام کاهش قیمت یک کالای معین به ترتیب چه رفتاری از خود نشان می دهند؟

الف) کاهش تولید - کاهش مصرف ب) افزایش تولید - افزایش مصرف

ج) افزایش تولید - کاهش مصرف د) کاهش تولید - افزایش مصرف

۲۲) در قیمت های بالاتر از قیمت تعادلی، بازار کالا دچار مازاد..... و کمبود..... می گردد.

الف) عرضه - تقاضا ب) تقاضا - عرضه ج) عرضه - عرضه د) تقاضا - تقاضا

۲۳) هرگاه قیمت به دلیل کمبود (فزونی تقاضا بر عرضه) به سمت قیمت تعادلی پیش برود، قیمت در بازار، چه وضعیتی دارد؟

الف) در حال افزایش است. ب) در حال کاهش است. ج) در وضع ثابت است. د) وضع بازار در حالت تورم رکودی است.

۲۴) در جدول عرضه و تقاضای نوعی کالا قیمت تعادلی برابر ۹۰ واحد پولی و مقدار تقاضا با این قیمت ۱۰۰ واحد بوده است. از فروشنده در صورت عرضه کالا، چه مقدار می توان انتظار کاهش قیمت را داشت؟

الف) ۸۰ ب) ۹۰ ج) ۱۰۰ د) ۱۱۰

۲۵) هرگاه در بازار کالایی، کمبود یا مازاد مشاهده نگردد. در آن صورت.....

الف) قیمت کالا ارزان است. ب) قیمت کالا ثابت است. ج) قیمت کالا تعادلی است. د) قیمت کالا گران است.

۲۶) چه زمانی در بازار یک کالا کمبود عرضه اتفاق می افتد؟

الف) زمانی که عرضه بر تقاضا فزونی یابد. ب) زمانی که قیمت از سطح قیمت تعادلی پایین تر بیاید.

ج) زمانی که قیمت از سطح قیمت تعادلی بالاتر بیاید. د) زمانی که تولید کنندگان رغبت بیشتری برای عرضه دارند.

۲۷) برای رسیدن به تعادل، قیمت کالا باید به ترتیب در حالت کمبود تقاضا..... و در حالت کمبود عرضه..... یابد.

الف) افزایش، افزایش ب) افزایش، کاهش ج) کاهش، افزایش د) کاهش، کاهش

۲۸) برای رسیدن به تعادل، قیمت کالا باید به ترتیب در حالت مازاد تقاضا..... و در حالت مازاد عرضه..... یابد.

الف) افزایش، افزایش ب) افزایش، کاهش ج) کاهش، افزایش د) کاهش، کاهش

۲۹) هرگاه قیمت یک کالا به پایین تر از قیمت تعادلی برسد و کمبود عرضه پیش بیاید شاهد کدام یک از حالات زیر خواهیم بود؟

الف) قیمت ها کاهش می یابد. ب) تولید کننده میلی به تولید نخواهد داشت.

ج) مصرف کنندگان میل بیشتری به مصرف پیدا می کنند. د) رغبت تولید کنندگان به تولید بیش تر می شود.

۳۰) اگر قیمت یک کالا افزایش یابد، عرضه و تقاضا برای آن به ترتیب..... و..... می یابد.

۳۱) محل برخورد منحنی های عرضه و تقاضا..... نامیده می شود.

۳۲) در بازار یک کالا، در مناطق بالاتر از نقطه ی تعادل حالت..... و در مناطق پایین تر از آن حالت..... اتفاق می افتد.

۳۳) مواجهه تقاضا کننده و عرضه کننده،..... را شکل می دهد.

۳۴) عامل ایجاد کننده ی هماهنگی و تساوی عرضه و تقاضا..... می باشد.

۳۵) عرضه و تقاضا هر کدام به ترتیب با قیمت چه رابطه ای دارند؟

۳۶) منظور از قیمت تعادلی چیست؟

۳۷) منظور از مقدار تعادلی چیست؟

۳۸) در نقطه ی تعادل چه رابطه ای بین عرضه و تقاضا برقرار است؟

۳۹) یک جدول فرضی عرضه و تقاضا در بازار برای محصول برنج نوشته، سپس نمودار آن ها را رسم نمائید.

۴۰) یک جدول فرضی عرضه و تقاضا برای محصول برنج در بازار ارائه نمائید و سپس آن را رسم نمائید.

۴۱) با ارائه ی یک جدول فرضی عرضه و رسم منحنی آن، رابطه قیمت و عرضه را نشان دهید.

۴۲) جاهای خالی در جدول را با اعدادی مناسب پر کنید و منحنی آن را رسم کنید سپس نواحی کمبود و مازاد عرضه را

روی منحنی نشان دهید.

مقدار تقاضا	مقدار عرضه	قیمت
.....	4	300
.....	6	500
9	9	800
.....	1000

۴۳) با توجه به نمودار مقابل به سوالات زیر پاسخ دهید.

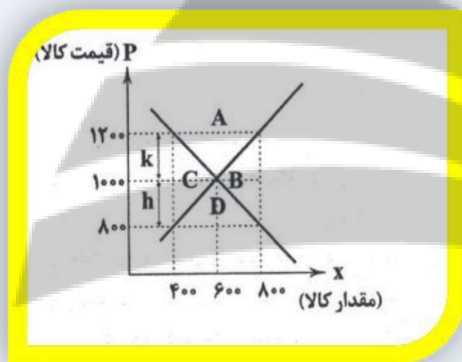
الف) کدام ناحیه کمبود عرضه را نشان می دهد؟

ب) تفاوت قیمت در مازاد عرضه بانقطه تعادلی با کدام

حرف مشخص شده است؟

ج) گرایش قیمت در مازاد عرضه چگونه است؟

د) در قیمت ۸۰۰ با چه مقدار مازاد تقاضا مواجه هستیم؟



۴۴) با توجه به نمودار مقابل به سوالات زیر پاسخ دهید.

الف) در قیمت ۳۰۰ ریال مقدار مازاد عرضه چقدر است؟

ب) مازاد عرضه و کمبود عرضه در چه موقعیتی نسبت به

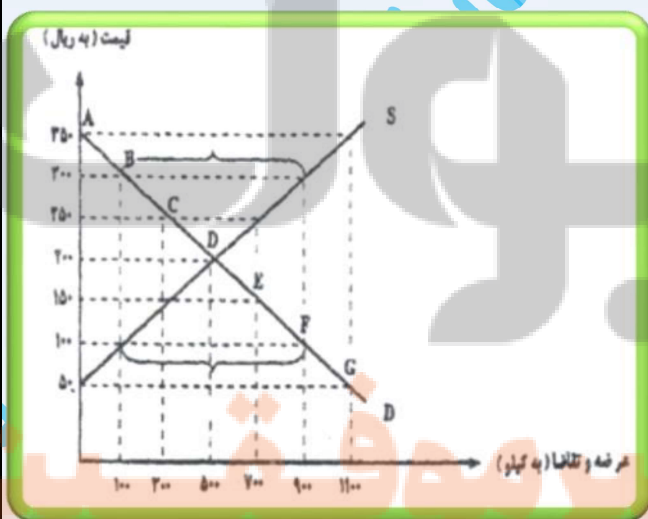
نقطه ی تعادلی قرار دارند؟

ج) منحنی تقاضا با حرف مشخص شده و شکل آن

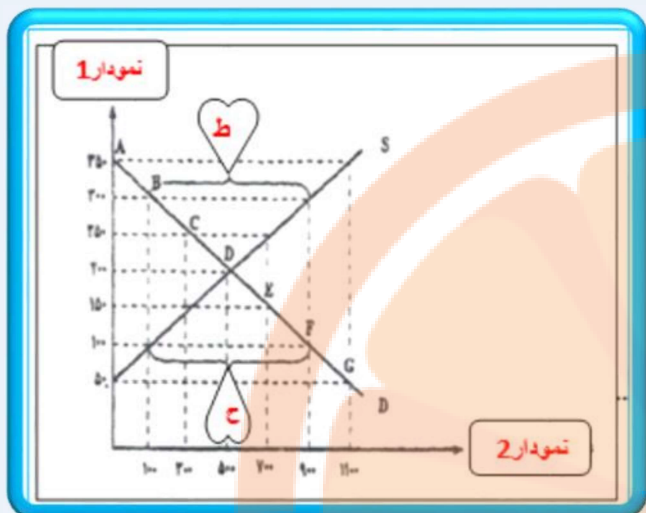
از چپ به راست است.

د) نام نقطه ی تعادلی و قیمت تعادلی و

مقدار تعادلی است.



۴۵) با توجه به نمودار مقابل نام موارد خواسته شده را مشخص نمائید:



الف) نام منحنی S:

ب) نام منحنی D:

ج) نام نمودار 1:

د) نام نمودار 2:

ه) محل برخورد دو نمودار S و D:

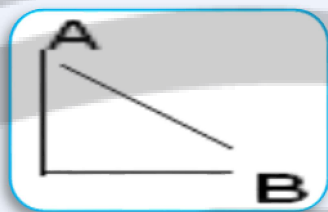
و) قیمت تعادلی:

ز) مقدار تعادلی:

ح) شکاف بین دو منحنی (فاصله "ح"):

ط) شکاف بین دو منحنی (فاصله "ط"):

۴۶) با توجه به منحنی مقابل به سوالات زیر پاسخ دهید.



الف) نام منحنی مربوطه چیست؟

ب) رابطه ی آن با قیمت چگونه است؟

۴۷) با توجه به جدول مقابل موارد خواسته شده را مشخص نمائید:

قیمت	مقدار عرضه	مقدار تقاضا
1250	450	1200
1500	600	950
1680	670	670
2000	770	500

الف) قیمت تعادلی: ()

ب) مقدار تعادلی: ()

ج) نقطه ی تعادل: (و)

۴۸) اگر در بازار یک کالا مازاد یا کمبود وجود داشته باشد چه عاملی بازار را به تعادل می کشاند؟

۴۹) توضیح دهید در حالت کمبود عرضه، بازار کالا چگونه به تعادل می رسد؟

۵۰) چگونه به تعادل رسیدن بازار یک کالا در حالت مازاد عرضه را مورد تجزیه و تحلیل قرار دهید.

۵۱) انحصارگر در بازار، قیمت پذیر است.

○ صحیح ○ غلط

۵۲) خریداران در بازار انحصاری، قیمت پذیرند.

○ صحیح ○ غلط

۵۳) در کدام بازار و تحت کدام شرایط منافع بیش تری نصیب مصرف کنندگان می شود؟

الف) رقابتی - تعداد تولید کنندگان زیادتر و رقابت فشرده تر باشد. ○

ب) انحصاری - تعداد تولید کنندگان کمتر و کالای تولید شده منحصر به فرد باشد. ○

ج) رقابتی - تعداد تولید کنندگان رقیب کمتر و اتحاد و همکاری بین آنان بیش تر باشد. ○

د) انحصاری - فقط یک تولید کننده منحصر به فرد باشد و رقیبی در مقابل او فعالیت نکند. ○

۵۴) بازار انحصار در خرید بازاری است که در آن

الف) تنها یک تولید کننده کالا را تولید می کند. (ب) تنها یک مصرف کننده در آن بازار وجود دارد.

ج) یک تولید کننده کالا را تولید می کند و یک مصرف کننده آن را مصرف می کند. (د) چند تولید کننده و چند مصرف کننده وجود دارد.

۵۵) در چه صورت منافع بیشتری نصیب مصرف کنندگان می شود؟

الف - تعداد تولید کنندگان زیاد باشد. ب - تعداد مصرف کنندگان زیاد باشد.

ج - تعداد تولید کنندگان کم باشد. د - تولید کنندگان اتحاد و همکاری داشته باشند.

۵۶) به بازاری که فقط یک خریدار در آن است می گویند.

۵۷) به تولید کننده یا فروشنده ی منحصر به فرد و به خریدار یا تقاضا کننده ی منحصر به فرد گویند.

۵۸) فروشندگان آثار هنری در نمایشگاه ها و حراجی ها جزء از انواع بازارها می باشند.

۵۹) در مباحث اقتصادی بازار چگونه تعریف می شود؟

۶۰) دو نوع کلی از انواع بازار را نام ببرید.

۶۱) بازار رقابتی را تعریف کرده، برای آن مثالی ذکر کنید.

۶۲) منظور از انحصار چیست؟ و انواع انحصار را نام ببرید.

۶۳) منظور از انحصار در خرید و انحصار در فروش چیست؟ برای هر یک مثالی ذکر کنید.

۶۴) بازار رقابتی و انحصاری را از دید مشتریان با یکدیگر مقایسه کنید.

۶۵) بازارهای حراجی به چه صورت هایی می باشد؟ برای هر یک مثال بزنید.

۶۶) رفتار دولت ها در مواجهه با هر یک از دو نوع انحصار قانونی و غیر قانونی چگونه باید باشد؟ چرا؟

۶۷) در کشور ما یک انحصارگر در فروش به دلیل طبیعی و یک انحصارگر در فروش به دلایل قانونی را ذکر کنید.

باسمه تعالی

بخش اول: آشنایی با اقتصاد

فصل چهارم از بخش اول: آشنایی با شاخص های اقتصادی

چگونه می توانیم میزان فعالیت های اقتصادی را در سطح جامعه اندازه گیری کنیم؟

- ۱) چرا اقتصاد دانان نیازمند به استفاده از آمارها و شاخص های اقتصادی هستند؟
- ۲) چرا سنجه ها و شاخص های اقتصادی بسیار مهم هستند؟
- ۳) آمارهای اقتصادی در چه سطوحی ارائه می شود؟
- ۴) حسابداری ملی را تعریف کنید.
- ۵) چهار مورد از موارد مورد اندازه گیری حسابداری ملی را نام ببرید.
- ۶) دلیل اهمیت آمارهای اقتصادی و حسابداری ملی چیست؟

تولید ملی و اندازه گیری آن:

- ۷) منظور از تولید کل چیست؟
- ۸) رای این که فعالیت های تولیدی در حسابداری ملی مورد محاسبه قرار گیرند، چه شرایطی را باید داشته باشند؟
- ۹) منظور از اینکه یک کالا باید از بازار عبور کند تا در حسابداری ملی لحاظ شود، چیست؟
- ۱۰) چرا محاسبه ی تولید کل در جامعه، دارای اهمیت است؟
- ۱۱) فعالیت تولیدی زنان در مزرعه در تولید کل کشور محاسبه اما فعالیت تولیدی آنان در منزل در تولید کل کشور محاسبه
- ۱۲) به نظر شما به چه دلیل فعالیت تولیدی زنان در مزرعه، در تولید کل محاسبه می شود اما فعالیت تولیدی آنان برای منزل، محاسبه نمی شود؟
- ۱۳) بیان کنید از نظر حسابداری ملی؛ چه تفاوتی بین زمانی که شما تلویزیون معیوب منزلتان را خودتان تعمیر می کنید با زمانی که آن را پیش یک تعمیرکار می برید، وجود دارد؟
- ۱۴) کالاهایی که تولید کنندگان، تولید می کنند و به بازار عرضه می کنند، به چند شکل مورد استفاده قرار می گیرند؟

۱۵) منظور از کالاهای نهائی چیست؟

۱۶) منظور از کالاهای واسطه ای چیست؟

۱۷) چرا در حسابداری ملی برای اندازه گیری تولید کل جامعه، از محاسبه ارزش کالاهای واسطه ای صرف نظر می گردد؟

۱۸) آیا فعالیت های غیر قانونی نظیر قاچاق در حسابداری ملی محاسبه شوند؟ چرا؟

تولید ناخالص ملی و داخلی:

۱۹) به ارزش پولی کلیه کالاها و خدمات نهائی که توسط اعضای یک ملت تولید می شود..... می گویند.

الف) تولید ناخالص داخلی (ب) تولید خالص ملی (ج) تولید ناخالص ملی (د) تولید خالص داخلی

۲۰) تولید ناخالص داخلی را تعریف کنید.

۲۱) تولید ناخالص ملی را تعریف کنید.

۲۲) تولید ناخالص ملی و تولید ناخالص داخلی را با هم مقایسه نمائید.

۲۳) با توجه به تعریف تولید ناخالص ملی و تولید ناخالص داخلی، هر یک از موارد زیر جزء کدام یک محاسبه می شود؟

الف) تولید خارجیان مقیم یک کشور: (ب) تولید ایرانیان مقیم خارج:

ج) تولید خارجیان مقیم خارج: (د) تولید ایرانیان داخل کشور:

۲۴) هر یک از تولید ناخالص ملی و تولید ناخالص داخلی، به ترتیب با چه علائم اختصاری معرفی می شوند؟

۲۵) بالا بودن شاخص های تولید ناخالص ملی و تولید ناخالص داخلی در اقتصاد بیانگر چیست؟

۲۶) علامت اختصاری تولید ناخالص ملی..... و علامت اختصاری تولید ناخالص داخلی..... می باشد.

۲۷) "G.D.P" نشان دهنده کدامیک از شاخص های اقتصادی جامعه است؟

الف) تولید ناخالص داخلی (ب) تولید ناخالص ملی (ج) تولید خالص داخلی (د) تولید خالص ملی

۲۸) توضیح دهید؛ میزان محاسبه شده ی دو شاخص تولید ناخالص ملی و داخلی در یک کشور، معمولاً چه رابطه ای با هم

دارند؟

۲۹) دو دلیل تفاوت فاحش بین شاخص های تولید ناخالص ملی و تولید ناخالص داخلی در برخی کشورها را بیان نمائید.

استهلاک:

۳۰) = هزینه ی استهلاک - تولید ناخالص ملی

۳۱) استهلاک به چه معناست؟

۳۲) منظور از هزینه ی استهلاک چیست؟

۳۳) تولید خالص ملی یا داخلی را چگونه محاسبه می کنند؟ (ذکر فرمول)

۳۴) تفاوت تولید خالص با تولید ناخالص در چیست؟

۳۵) چرا هر ساله باید بخشی از تولیدات جامعه را بابت هزینه ی استهلاک کالاهای سرمایه ای کنار گذاشت؟

۳۶) نرخ استهلاک سالیانه یک ماشین ۵ درصد می باشد. عمر مفید تقریبی آن چند سال برآورد می شود؟

۳۷) عمر مفید تقریبی یک دستگاه سرمایه ای ۲۰ سال برآورد می شود، نرخ استهلاک سالیانه آن چند درصد می باشد؟

درآمد ملی:

۳۸) مجموع درآمدهایی که در طول یک سال نصیب اعضای جامعه می شود کدام است؟

الف) درآمد سرانه ب) درآمد ملی ج) تولید ناخالص داخلی د) تولید ناخالص ملی

۳۹) آیا می توان درآمد ملی را معادل تولید آن جامعه دانست؟ چرا؟

۴۰) درآمد ملی را تعریف کنید.

۴۱) درآمد ملی شامل چه مواردی است؟

محاسبه تولید کل جامعه:

۴۲) سه روش برای محاسبه تولید کل جامعه را نام ببرید.

۴۳) روش هزینه ای محاسبه ی ارزش کل تولیدات جامعه را شرح دهید.

۴۴) روش درآمدی محاسبه ی ارزش کل تولیدات جامعه را شرح دهید.

۴۵) روش ارزش افزوده محاسبه ی ارزش کل تولیدات جامعه را شرح دهید.

۴۶) روش هزینه ای و روش درآمدی در محاسبه ی ارزش کل تولیدات جامعه را با یکدیگر مقایسه کنید.

۴۷) برای جلوگیری از اشتباه، متولیان حسابداری در محاسبه ی ارزش کل تولیدات جامعه چه روشی باید اتخاذ کرد؟

شاخص های نسبی:

۴۸) تولید ملی می تواند حجم و بزرگی اقتصاد را نشان دهد. ص غ

۴۹) در اقتصاد اغلب در مطالعات آماری، برای دست یابی به تصویر دقیق تر و واقعی تر از شاخص های..... استفاده می کنند.

۵۰) درآمد سرانه را تعریف کنید.

۵۱) با ذکر یک مثال بیان کنید؛ استفاده از شاخص های مطلق در اقتصاد، گاهاً چه مشکلی به بار می آورند؟ برای رفع آن

چه اقدامی را باید صورت داد؟

۵۲) چرا درآمد سرانه می تواند معیار بهتری برای مقایسه ی سطح زندگی و رفاه افراد کشور تلقی شود؟

۵۳) درآمد سرانه جامعه چگونه محاسبه می شود؟ این شاخص بیانگر چیست؟

۵۴) دو روش محاسبه ی شاخص های نسبی در اقتصاد را بیان کنید.

- ۵۵) اگر تولید کل جامعه ای فرضی از ۲۷۰ میلیارد ریال در سال ۱۳۹۲ به ۴۵۰ میلیارد ریال در سال ۱۳۹۳ رسیده باشد آیا می توان نتیجه گرفت که اقتصاد جامعه رشد واقعی داشته است؟
- الف) خیر چون ممکن است این افزایش ناشی از رشد قیمت باشد.
- ب) بله، چون به هر حال ارزش پولی تولید کل از ۲۷۰ به ۴۵۰ میلیارد ریال رسیده است.
- ج) نمی توان مشخص کرد چون برای بررسی به ارقام تولید و قیمت در هر دو سال نیاز داریم.
- د) خیر چون این افزایش ممکن است هم ناشی از رشد قیمت باشد هم به خاطر افزایش تولید باشد.
- ۵) برای جلوگیری از اشتباه ناشی از افزایش قیمت در محاسبه ی متغیرهای اقتصادی چه روشی را باید اتخاذ کرد؟
- ۵۷) شاخص های نشان دهنده ی تولید کل جامعه، بر اساس چه واحدی سنجیده می شوند؟
- ۵۸) چرا اقتصاددانان به سیاست گذاران و مردم توصیه می کنند در مقایسه ی متغیرهای اقتصادی، همه ی متغیرها را به قیمت ثابت محاسبه و تحلیل نمایند؟
- ۵۹) اگر تورم جهانی ۲۵٪ بوده و صادرات اسمی ۱۵٪ افزایش یابد، تغییر در صادرات واقعی چند درصد و به چه نحو می باشد؟
- ۶۰) اگر دولت اعلام کند؛ صادرات ۲۰٪ افزایش داشته است، سه وجه معنای این گزارش را بیان نمائید.
- ۶۱) منظور از محاسبه به قیمت ثابت چیست؟
- ۶۲) محاسبه ی متغیر به قیمت جاری، به چه معناست؟
- ۶۳) منظور از شاخص اسمی و شاخص واقعی در اقتصاد چیست؟
- ۶۴) در هر یک از حالات زیر بیان نمائید؛ قدرت خرید واقعی افراد مشمول آن شرایط چه تغییری می کند؟
- الف) دستمزد ۱۲٪ افزایش با تورم ۱۷٪:
- ب) دستمزد ۱۲٪ افزایش با تورم ۱۲٪:
- ج) دستمزد ۱۲٪ افزایش با تورم ۸٪:
- ۶۵) اگر در یک جامعه، اعلام شود که «میزان تولید کل در جامعه ۲۰٪ درصد افزایش یافته است» این مطلب را تحلیل کنید.
- ۶۶) در صورتی که حقوق کارمندان دولت ۱۲٪ افزایش یابد و نرخ تورم در این جامعه ۱۴٪ باشد تحلیل کنید این وضعیت چه تأثیری بر قدرت خرید مردم خواهد داشت؟
- ۶۷) در ابتدای سال ۱۳۸۷ متوسط قیمت سبد کالا ده هزار ریال و در پایان همین سال دوازده هزار ریال بوده است. طی این سال نرخ تورم چقدر بوده است؟

۶۸) میزان تولید ناخالص داخلی کشور در یک سال ۱۲۰۰، هزینه استهلاک ۴۰۰، تولید خارجی های مقیم کشور ۳۰۰ و تولید ایرانیان مقیم خارج ۲۰۰ هزار میلیارد ریال بوده است، تولید خالص ملی چند میلیارد ریال است؟
 الف) ۶۰۰ (ب) ۷۰۰ (ج) ۸۰۰ (د) ۹۰۰

۶۹) کشاورزی هر کیلو پنبه تولیدی خود را به ارزش ۷۰۰۰ ریال به کارگاه ریسندگی می فروشد این کارگاه پنبه را به نخ تبدیل و سپس به قیمت ۸۰۰۰ ریال به پارچه بافی می فروشد و سپس این کارگاه نیز آن را به قیمت ۹۰۰۰ ریال به کارخانه تولید پوشاک می فروشد و در آخر آن کارخانه نیز پوشاک را به قیمت ۱۷۰۰۰ ریال می فروشد.
 الف) ارزش افزوده ی مرحله ی اول (ب) ارزش افزوده ی مرحله آخر، کدام است؟

۷۰) میزان تولید کل جامعه ای در طی سه سال متوالی به ترتیب، ۵۰۰۰، ۸۰۰۰، ۹۰۰ هزار میلیارد ریال است چنانچه سال اول رادبه عنوان سال پایه در نظر بگیریم ارزش تولیدات به ترتیب ۵۰۰۰؛ ۷۰۰۰؛ ۸۰۰۰ هزار میلیارد ریال خواهد شد، به ترتیب میزان افزایش تولید و افزایش قیمت در سال سوم نسبت به سال اول چقدر خواهد بود؟

۷۱) در یک جامعه فرضی ۳۰ میلیون نفری در آمد سرانه افراد ۲۰۰۰ دلار می باشد، در آمد ملی آن چقدر بوده است؟
 ۷۲) در یک جامعه فرضی که دارای ۶۰ میلیون نفر جمعیت و تولید ناخالص داخلی ۳۰۰۰۰۰۰۰۰ ریال می باشد، هزینه استهلاک آن معادل ۱۰٪ تولید ناخالص داخلی است. میزان تولید خالص سرانه ی این جامعه را محاسبه کنید.

۷۳) ارزش یک دستگاه ماشین آلات سرمایه ای در ابتدای خرید ۱۲۰/۰۰۰/۰۰۰ ریال و پس از ۴ سال ارزش آن به ۸۰/۰۰۰/۰۰۰ ریال کاهش یافته است. هزینه استهلاک سالیانه و عمر مفید این دستگاه را محاسبه کنید.
 ۷۴) کالاها و خدمات نهایی زیر در طول یک سال توسط اعضای یک ملت تولید شده است، با توجه به رقم تولیدات، به ترتیب تولید ناخالص ملی و تولید خالص ملی این کشور کدام است؟

پوشاک 1000 عدد	مواد غذایی 50 تن	ماشین آلات 500 دستگاه	خدمات 40000000 ریال	هزینه استهلاک
هر عدد 50000 ریال	هر تن 300000 ریال	هر دستگاه 4000000 ریال		50000000 ریال

۷۵) با توجه به مراحل تولید و تبدیل گندم به آرد و نان، در محاسبات درآمد ملی قیمت کدام مورد بابت نان منظور می گردد؟ الف) گندم ب) آرد ج) نان د) هر سه مورد

۷۶) با توجه به اطلاعات داده شده در جدول زیر نتیجه عملکرد سالیانه یک "بنگاه اقتصادی" با ۴ کارمند و تولید سالیانه ۷۵۰ دستگاه هر یک به ارزش ۳۰۰,۰۰۰ ریال کدام است؟ چه مقدار سود برده یا ضرر کرده است؟

اجاره ماهیانه معادل	حقوق ماهیانه هر فرد	خرید مواد اولیه سالیانه	هزینه استهلاک سالیانه
4,000,000	200,000	4,450,000	12٪ حقوق سالیانه کارمندان

۷۷) با توجه به جدول زیر و این که مجموع اقلام "پوشاک، مواد غذایی و ماشین آلات" در یک جامعه فرضی ۱۴۵ میلیارد ریال باشد، در این صورت؛

جمعیت کل کشور	45 میلیون نفر
تولید خارجیان مقیم کشور	18 میلیارد ریال
هزینه استهلاک	$\frac{3}{5}$ ارزش تولید مردم کشور که در خارج اقامت دارند
خدمات ارائه شده	$\frac{2}{3}$ ارزش تولید خارجیان مقیم کشور
تولید مردم کشور که در خارج اقامت دارند	45 میلیارد ریال

الف) تولید ناخالص داخلی

ب) تولید خالص ملی

ج) تولید خالص داخلی سرانه،

را محاسبه نمایید.

۷۸) در یک جامعه فرضی، چنانچه کشاورزان یک کیلو پنبه تولیدی خود را به ارزش: ۶۵۰۰ ریال به کارگاه «ریسندگی» بفروشند. کارگاه ریسندگی نیز این مقدار را به مقداری نخ تبدیل کرده و به ارزش ۷۵۰۰ ریال به کارگاه پارچه بافی بفروشد و در کارگاه پارچه بافی، نخ به پارچه تبدیل شده و به مبلغ ۱۱۰۰ ریال به کارگاه تولید پوشاک فروخته شود، در این کارگاه پارچه به پوشاک تبدیل شده و به مبلغ ۱۹۰۰۰ ریال به دست مصرف کننده می رسد. با توجه به این داده ها، ارزش افزوده ی مرحله دوم و چهارم را محاسبه کنید.

۷۹) میزان تولید کل در یک جامعه فرضی در طی سه سال پیاپی به ترتیب: ۲۰۰۰، ۲۴۰۰، ۲۷۰۰ هزار میلیارد ریال برآورد شده است. با انتخاب سال اول به عنوان «سال پایه» میزان تولید کل کشور مذکور در سه سال مورد نظر بر حسب قیمت های سال اول یعنی سال پایه به ترتیب: ۲۰۰۰، ۲۳۰۰، ۲۵۰۰ هزار میلیارد ریال می باشد محاسبه کنید: الف) میزان افزایش قیمت ها در سال دوم ب) افزایش مقدار تولید در سال سوم در این جامعه چه مقدار است؟

۸۰) یک دستگاه وسیله سرمایه ای «تولیدی» را به بهای ۱۳ میلیارد ریال خریداری کرده ایم، چنانچه عمر مفید این وسیله ۶/۵ سال باشد در این صورت الف) مقدار «هزینه استهلاک سالیانه» کدام است؟ ب) چنانچه در دو سال آخر عمر مفید این وسیله سرمایه ای ارزش آن ۱۰ درصد افزایش یابد مجموع «هزینه استهلاک» دو سال آخر چه میزان خواهد بود؟ ج) قیمت جدید این کالای سرمایه ای چیست؟

۲) الف) ۲ ب) ۴/۴۰۰ ج) ۱۴/۳۰۰

۱) الف) ۲، ب) ۴/۰۴۰ ج) ۱۳/۴۰۰

۴) الف) ۲/۵ ب) ۴،۰۴۰ ج) ۱۴،۳۰۰

۳) الف) ۲/۵ ب) ۴،۴۰۰ ج) ۱۳،۴۰۰

۸۱) فرض کنید یک دستگاه کالای سرمایه ای را به بهای ۴۴۰ میلیارد ریال خریداری نموده ایم و عمر این دستگاه ۲۲ سال است. در این صورت : الف) مقدار هزینه استهلاک سالیانه کدام است؟ ب) چنانچه در سه سال آخر عمر مفید این کالای سرمایه ای ۱۵٪ بهای آن افزایش یافته باشد مجموع «هزینه استهلاک» سه سال آخر چه میزان خواهد بود؟ ج) قیمت جدید این کالا کدام است؟ (اقلال به میلیارد است).

۸۲) با توجه به جدول، میزان تولید واقعی و اسمی را نسبت به سال ۱۳۹۳ پیدا کنید؟

کالا	سال ۱۳۹۳		سال ۱۳۹۴	
	مقدار	قیمت	مقدار	قیمت
الف	50	30	60	75
ب	40	60	80	50

۸۳) درآمد ملی کشوری با جمعیت ۳۰ میلیون نفر؛ ۱۸۰ هزار میلیارد دلار است، درآمد سرانه در این کشور چقدر است؟

۸۴) با توجه به اطلاعات مندرج در جدول زیر کدام گزینه صحیح است؟

کشور	تولید ناخالص ملی (میلیارد ریال)	جمعیت (میلیون نفر)
الف	80	80
ب	240	100

۱) تولید سرانه کشور الف بیش تر از کشور ب است.

۲) تولید سرانه کشور ب بیش تر از الف است.

۳) سطح رفاه کشور ب بهتر از الف است.

۴) برای مقایسه توان تولیدی کشور، بهتر است هزینه

استهلاک هم در نظر گرفته شود.

۸۵) یک واحد تولیدی بابت خرید عوامل تولید مورد نیاز خود ۸۲۰۰ واحد هزینه کرده است. اگر مبلغ اجاره محل، ۴۲۰۰

واحد و هزینه ی اقساط سالیانه وام بانکی؛ ۲۰۰۰ واحد باشد، دستمزد نیروی کار چقدر است؟

د) ۵۱۰۰

ج) ۴۰۰۰

ب) ۶۲۰۰

الف) ۲۰۰۰

۸۶) اگر میزان تولید کل در جامعه ای در طی سه سال متوالی به ترتیب ۲۰۰۰، ۲۱۰۰، ۲۵۰۰ هزار میلیارد باشد، چه نتیجه ای می توان گرفت؟

- الف) به طور قطع افزایش تولید میزان کل، به دلیل افزایش قیمت ها بوده است.
 ب) معمولاً در شرایط تورم، بالا بودن رقم تولید کل به معنای افزایش تولید است.
 ج) در شرایط عادی هرگونه افزایش تولید کل، صرفاً ناشی از تغییر قیمت کالاها و خدمات است.
 د) ممکن است افزایش تولید کل ناشی از افزایش مقدار تولید یا افزایش قیمت یا هر دوی آنها باشد.

۸۷) در صورتی که قیمت کالایی ۴۵۰۰ تومان باشد فردی از آن، ۵ واحد خریداری می کند، اگر قیمت آن کالا به ۶۰۰۰ تومان برسد، به طور معمول چقدر کالا می خرد؟

- الف) ۶ واحد ب) ۸ واحد ج) ۱۰ واحد د) ۳ واحد

۸۸) برای محاسبه ی کدام یک از شاخص های زیر، نیازمند به دانستن جمعیت کشور هستیم؟

- الف) تولید ناخالص داخلی ب) درآمد سرانه ج) تولید خالص ملی د) تولید ناخالص داخلی

۸۹) به مجموع ارزش پولی کلیه کالاها و خدمات نهایی که در داخل یک کشور تولید می شود..... می گویند.

- الف) تولید ناخالص داخلی ب) تولید خالص ملی ج) تولید ناخالص ملی د) تولید خالص داخلی

۹۰) با توجه به اطلاعات مندرج در جدول زیر، به ترتیب از راست به چپ: الف) تولید کل به قیمت جاری در سال ۱۳۹۲

ب) تولید کل به قیمت ثابت در سال ۱۳۹۲ کدام است؟

کالا	سال ۱۳۹۰		سال ۱۳۹۲	
	مقدار	قیمت	مقدار	قیمت
م	150	300	75	400
ن	400	60	700	120

۱) الف) (۱۱۴،۰۰۰ ، ب) ۶۵،۴۰۰

۲) الف) (۱۱۴،۰۰۰ ، ب) ۶۴،۵۰۰

۳) الف) (۱۴۱،۰۰۰ ، ب) ۶۴،۵۰۰

۴) الف) (۱۴۱،۰۰۰ ، ب) ۶۵،۴۰۰

۹۱) قیمت یک دستگاه تولیدی $24/000/000$ و ضریب استهلاک آن ۳۰٪ می باشد، هزینه استهلاک سالانه آن چقدر است؟

۹۲) اگر عمر مفید کالایی ۳۰ سال و هزینه استهلاک آن $500/000$ ریال باشد، ارزش کالا چقدر است؟

باسمه تعالی

بخش دوم: نهادهای پولی و مالی

فصل اول از بخش دوم: پول

تاریخچه پول:

- ۱) در ایران کالای غلات به عنوان اولین کالاهای واسطه ای مورد استفاده قرار گرفت. صحیح غلط
- ۲) در ایران ابتدا کدام یک از کالاهای زیر به عنوان اولین پول ها مورد استفاده قرار گرفت؟
الف) صدف ب) غلات ج) چای د) پوست سمور
- ۳) به نوعی از مبادله که به صورت کالا به کالا صورت می گرفت می گویند.
- ۴) قبل از به وجود آمدن فناوری پول، مبادلات چگونه صورت می گرفت؟
- ۵) منظور از مبادلات تهاتری چیست؟
- ۶) سه نمونه از کالاهائی که به عنوان واسطه در مبادلات مورد استفاده قرار می گرفتند را نام ببرید.
- ۷) سه مورد از مشکلات مبادلات تهاتری را بنویسید.
- ۸) کالاهائی که به عنوان اولین پول ها مورد استفاده قرار گرفتند، دارای چه ویژگی هائی بودند؟
- ۹) مردم برای حل مشکلات کالا به کالا در اولین وهله، چه اقدامی را صورت دادند؟

پول فلزی :

- ۱۰) در مبادلات با حجم زیاد، پول فلزی وسیله پرداخت مناسبی بود. صحیح غلط
- ۱۱) دو مورد از معایب کالاهای واسطه ای در مبادلات را بیان نمائید.
- ۱۲) سه مورد از مزایای استفاده از پول فلزی به جای کالاهای واسطه ای در مبادلات را بیان نمائید، این امر چه پیامدی مثبتی به همراه داشت؟
- ۱۳) دو مورد از معایب استفاده از طلا و نقره در مبادلات که آن را به عنوان عامل محدود کننده ی پیشرفت اقتصادی و تجاری مطرح کرد را بنویسید.
- ۱۴) مزایا و معایب پول فلزی در مبادلات را بیان کنید. (هر کدام دو مورد)
- ۱۵) انتخاب پول فلزی توسط انسان در انجام مبادلات چه نتایج خوبی به دنبال داشت؟

۱۶) چه مشکلات و محدودیت‌هایی در استفاده از کالاها به عنوان پول در انجام مبادلات وجود داشت؟

پول کاغذی :

۱۷) رونق روزافزون کار صراف‌ها در اقتصاد اروپا، در گذشته آنها را به نمادی به نام تبدیل کرد.

۱۸) چگونگی رواج پول کاغذی را به صورت خلاصه شرح دهید.

۱۹) چه عواملی سبب شد تا دولت‌ها خودشان چاپ و انتشار اسکناس را بر عهده گرفتند؟

۲۰) ایده‌ی سپردن نشر پول به بانک مرکزی و دخالت دولت‌ها در این امر از کجا شکل گرفت؟ توضیح دهید.

پول ثبتي يا تحريري:

۲۱) در همه‌ی جوامع، حجم نقدینگی شامل پول و شبه‌پول است. صحیح غلط

۲۲) ایجاد چک و استقبال مردم از آن باعث شد که در اقتصاد شکل بگیرد.

۲۳) دو مورد از مزایای استفاده از چک نسبت به پول نقد در اقتصاد کشور را بیان نمایید.

۲۴) منشأ ایجاد پول ثبتي يا تحريري چه بود؟

۲۵) استفاده از چک در معاملات چگونه می‌تواند از حجم پول در گردش بکاهد؟

۲۶) چرا به چک پول ثبتي يا تحريري گفته می‌شود؟

۲۷) چه عواملی موجب شد که در اقتصاد شبه‌پول شکل بگیرد؟

۲۸) منظور از پول ثبتي يا پول تحريري چیست؟

۲۹) بانک‌ها با ایجاد چک و سازماندهی فعالیت‌های اقتصادی از طریق آن، به چه موفقیتی دست یافتند؟

پول الكترونيكي يا مجازي:

۳۰) یکی از پول‌های نوظهور است.

۳۱) چه عواملی موجب شدند که بشر به دنبال روش‌های سریع‌تر و راحت‌تری در مبادلات باشد؟

۳۲) امروزه استفاده از پول الكترونيكي چه مزایایی در اقتصاد و امر بانکداری دارد؟

۳۳) سه مورد از مزایای استفاده از پول الكترونيكي به جای چک و پول نقد را بنویسید.

پشتوانه پول:

۳۴) امروزه پول‌های فلزی و کاغذی و تحریری و الكترونيكي که در دست افراد است، پشتوانه‌ای ندارند. ص غ

۳۵) امروزه چه چیزی به عنوان پشتوانه‌ی پول در کشور محسوب می‌شود؟

الف) طلا و نقره ب) پول تحريري ج) قدرت اقتصادي د) پول الكترونيكي

۳۶) اطمینانی که مردم به ارزش پول در مبادلات دارند، به شمار می‌رود.

۳۷) پشتوانه پول را در مورد هر یک از انواع پول‌های زیر بنویسید.

الف) پول فلزی

ب) پول کاغذی

ج) پول‌های امروزی

۳۸) منظور از پشتوانه ی پول چیست؟

۳۹) چه مواردی از گذشته تا به حال به عنوان پشتوانه ی پول یک کشور تلقی می شدند؟

۴۰) زمانی که پول فلزی (طلا و نقره) رایج بود، پشتوانه پول چه بود؟

۴۱) فرق پشتوانه پول در گذشته با پشتوانه پول در دنیای امروز چیست؟

۴۲) به نظر شما چگونه می توان پشتوانه ی پول ملی را تقویت نمود؟

۴۳) تحلیل نمایید اگر دولت پول بدون پشتوانه چاپ نماید این امر به چه معناست و چه پیامدهای منفی ای برای جامعه می تواند داشته باشد؟

وظایف پول :

۴۴) خرید اقساطی در رد و بدل کردن حواله‌های بانکی، جزء کدام یک از وظایف پول است؟

الف) وسیله پرداخت در مبادلات

ب) وسیله سنجش ارزش

ج) وسیله پس‌انداز حفظ ارزش

د) وسیله پرداخت‌های آینده

۴۵) کدام وظیفه پول، کار خرید و فروش کالاهای مختلف و تبدیل قیمت‌ها را به یکدیگر آسان تر می‌کند؟

الف) وسیله پرداخت در مبادلات

ب) وسیله سنجش ارزش

ج) وسیله پس‌انداز و حفظ ارزش

د) وسیله پرداخت‌های آینده

۴۶) پرداخت هزینه‌های غیرقابل پیش‌بینی به ایفای کدام وظیفه پول بستگی دارد؟

الف) سنجش ارزش

ب) وسیله پرداخت در مبادلات

ج) وسیله پرداخت‌های آتی

د) حفظ ارزش

۴۷) نقش اصلی پول در مبادلات، است.

۴۸) وظایف چهارگانه ی پول را نام ببرید.

۴۹) توضیح دهید پول چگونه می تواند به عنوان وسیله ی پرداخت در مبادلات نقش ایفا کند؟

۵۰) توضیح دهید پول چگونه می تواند به عنوان وسیله ی سنجش ارزش در مبادلات مورد استفاده قرار گیرد؟

۵۱) توضیح دهید پول چگونه می تواند به عنوان وسیله ی پس‌انداز و حفظ ارزش در مبادلات مورد استفاده قرار گیرد؟

۵۲) چرا افراد پول را در نزد خود را پس انداز می کنند؟

۵۳) توضیح دهید پول چگونه می تواند به عنوان وسیله ی پرداخت های آینده، عمل نماید؟

۵۴) به چه دلیلی افراد در مبادلات خود، پول را از دیگران می پذیرند؟

قدرت خرید پول :

۵۵) قدرت خرید پول به سطح عمومی قیمت ها در جامعه ربطی ندارد. صحیح غلط

۵۶) هر چه سطح عمومی قیمت ها افزایش یابد، قدرت خرید پول کاهش می یابد. صحیح غلط

۵۷) قدرت خرید پول به در جامعه بستگی دارد.

۵۸) وقتی که یک واحد پول نتواند در طول زمان ارزش خود را حفظ کند، می گوئیم که آن دستخوش تغییر است.

۵۹) چه رابطه ای بین سطح عمومی قیمت ها و قدرت خرید پول وجود دارد؟

۶۰) چرا تورّم به عنوان یکی از مشکلات اقتصادی تلقی می شود؟

۶۱) چه زمانی می گوئیم قدرت خرید پول دستخوش تغییر شده است؟

۶۲) چه زمانی می گوئیم پول، قدرت خریدش را از دست داده است؟

۶۳) قدرت خرید پول به چه عاملی بستگی دارد؟ رابطه ی بین آن ها را بیان نمایید.

تورّم:

۶۴) کاهش تورّم، به معنای کاهش شتاب افزایش قیمت هاست. صحیح غلط

۶۵) تورّم از نظر علم اقتصاد، شتاب یا است.

۶۶) تورّم را از نظر علم اقتصاد تعریف نمایید.

۶۷) چه زمانی تورّم آسیب های زیان بار خود را نمایان خواهد کرد؟

۶۸) اگر افزایش پول در جامعه با افزایش تولید هماهنگ نباشد، این امر چه پیامدی به همراه خواهد داشت؟

۶۹) با ذکر یک مثال توضیح دهید که چگونه افزایش حجم پول در جامعه می تواند عامل ایجاد تورّم شود؟

۷۰) میزان تورّم در یک جامعه را چگونه محاسبه می کنند؟

۷۱) اگر متوسط قیمت سبدي از کالاها در ابتدای سال ۲۰۰۰ تومان باشد و در انتهای سال به ۲۵۰۰ تومان افزایش یابد،

نرخ تورّم را محاسبه کنید.

۷۲) مهم ترین علت به وجود آمدن تورّم در جامعه چیست؟

۷۳) توضیح دهید، کاهش نرخ تورّم به چه معناست؟

۷۴) تحلیل نمائید که آیا کاهش نرخ تورّم به معنای ارزان تر شدن قیمت کالاها می باشد؟

۷۵) به نظر شما، چه عوامل دیگری به غیر از افزایش حجم پول در به وجود آمدن تورم موثرند؟ (ذکر دو مورد)

۷۶) با توجه به جدول ذیل، نرخ تورم در این جامعه ی فرضی را در طول این سال حساب نمایید.

کالا	زمان قیمت	قیمت در ابتدای سال	قیمت در انتهای سال
بنزین	۱۰۰۰	۱۲۰۰	
برنج طارم	۴۵۰۰	۶۱۰۰	
یک قرص نان تافتون	۵۰۰	۸۰۰	

۷۷) نقش مردم را در کاهش یا کنترل تورم را مورد تجزیه و تحلیل قرار دهید؟ دو مورد از اقداماتی که آن ها می توانند در این زمینه انجام دهند را بیان نمایند.

نقدینگی:

۷۸) زمانی می توان از افزایش نقدینگی صحبت کرد که نرخ رشد آن از نرخ رشد تورم بیش تر شده باشد. ص غ

۷۹) حجم کل پول موجود در کشور، آن جامعه به شمار می رود.

۸۰) چه زمانی می توان گفت نقدینگی در جامعه افزایش پیدا کرده است؟

۸۱) نقدینگی در یک جامعه شامل چه مواردی می شود؟

۸۲) حجم نقدینگی، در هر یک از موارد زیر شامل چیست؟

الف) قبل از شکل گیری خدمات نوین بانکی

ب) پس از پیدایش پول های تحریری و شبه پول

۸۳) حجم نقدینگی قبل از شکل گیری خدمات نوین بانکی و بعد از پیدایش پول های تحریری چه فرقی کرده است؟

۸۴) اگر افزایش حجم پول در گردش موجب تورم شود، این افزایش حجم پول، واقعی است یا اسمی؟

۸۵) نقش افزایش حجم نقدینگی جامعه، در افزایش تورم را مورد تجزیه و تحلیل قرار دهید.

باسمه تعالی

بخش دوم: نهادهای پولی و مالی

فصل دوم از بخش دوم: بانک

پیدایش بانک:

- ۱) مؤسسات اعتباری ابتدا «.....» و سپس «.....» نامیده شدند.
- ۲) چگونگی پیدایش بانک را به صورت خلاصه توضیح دهید.
- ۳) دو کار اصلی مؤسسات مالی اولیه را بیان نمایید.
- ۴) مؤسسات اعتباری اولیه و صرافی ها به چه دلیل در نزد مردم دارای اعتبار بودند؟
- ۵) دو نکته‌ی مهم که توجه مدیران مؤسسات اعتباری و بانک های اولیه را به خود جلب کرد چه بود؟ نتیجه و پیامد این امر را بیان کنید.
- ۶) عملکرد دو دسته از صاحبان پول های راکد را توضیح دهید.
- ۷) مؤسسه‌ی مالی و کالتی چگونه شکل گرفت؟
- ۸) بانک های ربوی چگونه شکل گرفت؟
- ۹) چگونگی تأثیر بانک بر فعالیت های اقتصادی را بنویسید.
- ۱۰) سه مورد از فعالیت های اصلی بانک های اولیه را بیان کنید.
- ۱۱) فکر می کنید؛ به چه دلیل ربا در اسلام حرام شده است؟
- ۱۲) سه مورد از آثار زیان بار ربا در جامعه را بیان نمایید.

اعتبار:

- ۱۳) بانک ها فقط با مجوز تأسیس می شوند.
- ۱۴) در گذشته حق چاپ و نشر اسکناس در اختیار چه کسانی بود؟ امروزه این امر برعهده ی چه نهادی است؟
- ۱۵) چرا دولت ها حق انحصاری نشر اسکناس را به دست گرفتند؟
- ۱۶) چگونگی خلق اعتبار یا شبه پول توسط بانک ها را توضیح دهید.

- ۱۷) چرا دولت ها باید حتماً بانک ها را با ابزارهایی مورد نظارت و کنترل شدید قرار دهند؟
- ۱۸) بانک ها ماهیتاً باید چگونه نهادی بوده و چه هدفی باید داشته باشند؟ چرا؟
- ۱۹) بانک ها ماهیتاً بر چه مبنا و هدفی باید تأسیس شوند؟ چرا؟
- ۲۰) چرا بانک ها باید ماهیتاً نهادی غیرانتفاعی و صرفاً با هدف ارائه ی خدمات به فعالان اقتصادی باشند؟
- ۲۱) فعالیت های بانکی چگونه تحت کنترل و نظارت قرار گرفت؟
- ۲۲) از لحاظ غیر انتفاعی بودن، فعالیت های بانک های فعال موجود در جامعه را مورد ارزیابی قرار دهید.
- ۲۳) آیا فعالیت های بانک های فعال موجود در جامعه ی ما را، غیر انتفاعی تلقی می کنید؟ چرا؟

انواع بانک ها:

- ۲۴) بانک های تخصصی به همه ی مردم جامعه خدمات ارائه می کنند. صحیح غلط
- ۲۵) انواع بانک ها را با ذکر نمونه نام ببرید.
- ۲۶) وظیفه بانک تجاری چیست؟
- ۲۷) وظیفه بانک تخصصی چیست؟
- ۲۸) کدام بانک ها در ایران بیشتر نقش تجاری ایفا می کنند؟
- ۲۹) وظیفه بانک سرمایه گذاری چیست؟
- ۳۰) بانک توسعه ای چگونه بانکی است؟
- ۳۱) کدام بانک حاکم پولی و اعتباری کشور است؟
- ۳۲) بانک مرکزی چه وظیفه ای بر عهده دارد؟
- ۳۳) تشابه و تمایز انواع بانک ها در واقع در چیست؟

سپرده:

- ۳۴) منظور از سپرده چیست؟
- ۳۵) انواع سپرده ها را نام ببرید.
- ۳۶) دو صورت سپرده ی غیر دیداری را بنویسید.
- ۳۷) تفاوت سپرده ی دیداری با سپرده غیر دیداری در چیست؟
- ۳۸) سپرده ی پس انداز چه نوع حسابی است؟
- ۳۹) سپرده ی دیداری چه نوع حسابی است؟
- ۴۰) سپرده ی مدت دار چه نوع حسابی است؟

۴۱) سپرده‌ی پس انداز با سپرده‌مدت دار چه تفاوتی دارد؟

۴۲) سپرده‌ی دیداری و سپرده‌ی پس انداز را با یکدیگر مقایسه نمایید.

۴۳) به نظر شما صرف پس انداز کردن پول در بانک‌ها یا مؤسسات اعتباری دولتی یا خصوصی به قصد استفاده از سود آن برای گذران زندگی و یا برنده شدن در قرعه‌کشی‌ها صحیح می‌باشد؟ چه آثار زیان‌باری از این کار بر جامعه وارد خواهد شد؟

۴۴) سه راهکار برای دولت جهت تشویق مردم به وارد شدن در کار تولیدی به طور مستقیم ارائه کنید؟

۴۵) تحلیل نمایید که آیا با عادت دادن مردم به پس انداز در بانک صرفاً جهت استفاده از سود، می‌توان همانند کشورهای پیشرفته‌ی در اقتصاد شد؟ آیا این عمل مردم یک کشور را خمود و تن‌پرور و گریزان از کار مفید تولیدی بار نمی‌آورد؟

وام دهی بانک‌ها:

۴۶) چگونگی وام دهی بانک‌ها به افراد و مؤسسات را بررسی کنید.

اسناد اعتباری:

۴۷) نوع هر یک از اسناد اعتباری زیر را مشخص نمایید:

(الف) به محض رؤیت باید پرداخت شوند. ()

(ب) زمان بازپرداخت آن‌ها اغلب بیش از یک سال است. ()

(ج) زمان بازپرداخت آن‌ها یک سال یا کم‌تر است. ()

۴۸) اسناد اعتباری چه نوع اسنادی بوده و به چه منظوری استفاده می‌شوند؟

۴۹) چهار مورد از اسناد اعتباری را نام ببرید؟

۵۰) اسناد اعتباری به لحاظ زمان، به چند دسته تقسیم می‌شوند؟ از هر کدام یک نمونه بیان کنید.

۵۱) منظور از اسناد دیداری چیست؟

۵۲) چرا اسناد اعتباری دیداری را به این نام می‌خوانند؟

۵۳) سفته را تعریف کنید.

۵۴) منظور از ظهرنویسی سفته چیست؟

۵۵) اگر طلبکار قبل از سر رسید سفته به پول نیاز پیدا کند، چگونه سفته را به پول تبدیل می‌کند؟

۵۶) در چه صورتی دولت یا مؤسسات اقدام به انتشار اسناد اعتباری بلندمدت می‌کنند؟

فعالیت مختلف بانک ها:

۵۷) چهار مورد از فعالیت مختلف بانک ها را نام ببرید.

نظام بانکی بدون ربا:

۵۸) منظور از ربا چیست؟ و دریافت آن چه حکمی دارد؟

۵۹) قانون عملیات بانکی بدون ربا در کشور ما در چه سالی به تصویب رسید؟

۶۰) بانک اسلامی چگونه از حالت واسطه گری خارج می شوند؟

۶۱) چهار مورد از عقود مجاز اسلامی را نام ببرید.

۶۲) بر طبق نظام بانکی بدون ربا بانک ها درآمد خود را از چه راه هایی باید کسب کنند؟

۶۳) با توجه به این که بانک ها باید ماهیتاً نهاد غیرانتفاعی باشند، تحلیل نمائید آیا کسب درآمد و یا سود توسط آن ها قابل توجیه است؟

۶۴) منظور از نظام بانکی بدون ربا چیست؟

۶۵) در راستای بانک داری بدون ربا، بر کار فعلی بانک ها چه اشکالی را وارد می دانید؟

۶۶) اگر بانک ها به جای سرمایه گذاری حقیقی در طرح های عمرانی و تولیدی فقط به کسب درآمد و سودگیری از مردم از طریق وام و اعتبار بسنده کنند، چه آسیب هایی بر آن جامعه وارد خواهد شد؟

باسمه تعالی

بخش دوم: نهادهای پولی و مالی

فصل سوم از بخش دوم: بازار سرمایه

بین پیشرفت اقتصادی کشورها و گسترش بورس آن ها چه رابطه ای هست؟

محل ارتباط عرضه کنندگان و تقاضاکنندگان سرمایه:

- ۱) سیر تکاملی و چگونگی شکل گیری بازار سرمایه و نهاد بورس را به صورت مختصر بیان نمایید.
- ۲) نقش و کار اصلی بورس در اقتصاد را بیان نمایید.
- ۳) تأمین منابع مالی واحدهای تولیدی و تجاری در گذشته و حال را با یکدیگر مقایسه نمایید.
- ۴) تأمین منابع مالی واحدهای تولیدی و تجاری از طریق بورس و انتشار اوراق بهادار چه مزایائی نسبت به بانک دارد؟
- ۵) یکی از پیامدهای مطلوب تأمین مالی از طریق بورس و انتشار اوراق بهادار را بیان نموده و دلیل اهمیت آن را ذکر کنید.

بازار سرمایه

- ۶) کدام یک از گزینه های زیر درباره ی بازار بورس صحیح نمی باشد؟
 - الف) مکانی است که در آن کار تولید انجام می شود.
 - ب) مکانی است که در آن کار خرید کالا و اوراق بهادار انجام می شود.
 - ج) مکانی است که در آن کار فروش کالا و اوراق بهادار انجام می شود.
 - د) مکانی است که در آن کار قیمت گذاری کالا و اوراق بهادار انجام می شود.
- ۷) بورس را تعریف نمایید و انواع آن را نام ببرید.
- ۸) منظور از بورس کالا چیست؟
- ۹) بیش تر چه نوع کالاهائی در بورس کالا مورد معامله قرار می گیرند؟ سه نمونه از مهم ترین این کالاها را نام ببرید.
- ۱۰) منظور از بورس اوراق بهادار چیست؟

۱) اوراق مشارکت توسط کدام یک از گروه های زیر صادر نمی شود؟

الف) مردم ب) شرکت های خصوصی ج) شهرداری ها د) دولت ها

۱۲) صاحبان سهام به که خریده اند، مالک بوده و در و شرکت سهامی شوند.

۱۳) اوراق بهادار چگونه اسنادی هستند؟

۱۴) منظور از اوراق بهادار چیست و انواع آن کدام اند؟

۱۵) دو دسته ی کلی اوراق بهادار را بنویسید.

۱۶) توضیح دهید اوراق سهام چه نوع اوراقی هستند؟

۱۷) اوراق سهام حاوی چه اطلاعاتی می باشد؟

۱۸) صادر کننده ی سهام، کیست؟

۱۹) انواع شرکت سهامی را نام برده و بگوئید کدام نوع آن سهام خود را در بورس عرضه می کند؟

۲۰) روند پذیرش و ورود یک شرکت در بورس چگونه است؟

۲۱) اوراق مشارکت توسط چه کسانی و به چه منظوری منتشر می شود؟

۲۲) تهیه ی دستورالعمل اجرایی مقررات ناظر بر انتشار اوراق مشارکت در ایران بر عهده ی چه نهادی است؟

۲۳) با ذکر دلیل بگوئید؛ اگر قصد سرمایه گذاری داشته باشید، در هریک از موارد زیر کدام یک را انتخاب می کنید؟

الف) بین بانک و بازار بورس کدام یک را ؟

ب) بین اوراق بهادار کدام یک را ؟

تأثیر بورس بر اقتصاد جامعه

۲۴) سه مورد از آثار و نتایج بورس بر اقتصاد یک جامعه را بنویسید.

۲۵) تحلیل نمائید که آیا بورس همیشه تأثیرات مثبت برای یک جامعه به دنبال خواهد داشت؟

۲۶) به نظر شما؛ در چه صورتی بورس می تواند برای یک جامعه پیامدهای منفی به دنبال داشته باشد؟

۲۷) به نظر شما، بورس چه تأثیرات منفی می تواند برای یک جامعه ی مخصوصاً اسلامی داشته باشد؟ (ذکر حداقل ۲ مورد)

چگونه می توان در بورس سرمایه گذاری کرد؟

۲۸) بازار سرمایه هم محل و هم است.

۲۹) مراحل سرمایه گذاری در بورس را به صورت خلاصه توضیح دهید.

۳۰) اگر فردی تمام سرمایه خود را فقط تبدیل به یک نوع سهام خاص کند، چه خطری او را تهدید می کند؟

۳۱) چرا پیشنهاد می شود که افراد باید به بورس نگاه کوتاه مدت نداشته باشند؟

۳۲) دو راه کار برای جلوگیری از زیان دیدگی کلان در بازار بورس پیشنهاد نمائید.

باسمه تعالی

بخش سوم: توسعه اقتصادی

فصل اول از بخش سوم: رشد، توسعه و پیشرفت

چگونه می توان نرخ رشد یا توسعه یافتگی هر کشور را اندازه گرفت؟

مقدمه:

- ۱) امروزه یکی از معیارهای بسیار رایج برای طبقه بندی کشورهای مختلف دنیا، طبقه بندی بر اساس سطح است.
- ۲) چه عواملی در تقسیم بندی کشورها به دو گروه پیشرفته و عقب مانده در دو قرن اخیر مؤثر بوده است؟
- ۳) امروزه بر اساس تقسیم بندی کشورهای غربی و تعریف آنها از توسعه کشورها را به چند دسته می توان تقسیم کرد؟ نام ببرید.
- ۴) سه واژه ی اساسی که در بررسی تحول و پیشرفت یک جامعه با آن ها روبرو می شویم، کدام اند؟
- ۵) تقسیم کشورها به 4 گروه توسعه یافته، توسعه نیافته و... چه تأثیر روانی برای برخی کشورها به همراه داشت؟

رشد:

- ۶) در جامعه فرضی میدان تولید آهن از ۱,۰۰۰,۰۰۰ تن به ۱,۱۰۰,۰۰۰ تن رسید. در این جامعه مشاهده می شود.
الف. رشد ب. توسعه ج. هم رشد و هم توسعه د. پیشرفت
- ۷) کدام یک از گزینه های زیر نشانه ی رشد است؟
الف. افزایش تولید شکر ب. افزایش بهداشت ج. کاهش بی سوادی د. کاهش نرخ مرگ و میر نوزادان
- ۸) درآمد سرانه یک کشور را بر حسب محاسبه و بر حسب اعلام می نمایند.
الف. پول داخلی - واحد یکسان ب. دلار - پول داخلی ج. پول داخلی - دلار د. دلار - دلار
- ۹) رشد اقتصادی، صرفاً به معنای است.
رشد اقتصادی یک مفهوم است.
- ۱۰) درآمد سرانه تمامی کشورهای جهان بر حسب واحد پولی اعلام می شود.
- ۱۱) مهم ترین ویژگی های « رشد » را بنویسید.
- ۱۲) بهترین معیار برای سنجش رشد کدام است؟

- ۱۳) چرا باید در بررسی نرخ رشد، حتماً از تولید یا درآمد داخلی یا ملی واقعی استفاده کنیم؟
- ۱۴) چرا در محاسبه نرخ رشد، بهتر است از درآمد سرانه به جای درآمد ملی استفاده می شود؟
- ۱۵) چرا درآمد سرانه ی کشورها را برحسب پول واحدی مثل دلار محاسبه می کنند؟

توسعه:

- ۱۶) اگر در جامعه میزان تولید در دوره ای معین نسبت به دوره قبل افزایش یابد، می گوییم، توسعه صورت گرفته است. صحیح غلط
- ۱۷) رشد، دلالت بر توسعه دارد. صحیح غلط
- ۱۸) توسعه اقتصادی فرآیندی است که در کوتاه مدت می تواند اتفاق بیفتد. صحیح غلط
- ۱۹) استفاده از شاخص های نرخ باسواد بزرگسالان، امید به زندگی، تولید ناخالص ملی، معیاری برای اندازه گیری «توسعه» می باشد. صحیح غلط
- ۲۰) کدام گزینه در مورد رشد و توسعه صحیح می باشد؟
- الف. رشد مفهومی کیفی و توسعه مفهومی کمی است. ب. رشد مفهومی کمی و توسعه مفهومی کمی - کیفی است.
- ج. رشد فرایندی بلندمدت است اما توسعه کوتاه مدت. د. رشد، توسعه را دنبال دارد اما توسعه، رشد را دنبال ندارد.
- ۲۱) امروزه با قدری مسامحه می توان از به عنوان معیاری برای سنجش توسعه استفاده کرد.
- الف. تولید سرانه ب. تولید ناخالص داخلی سرانه ج. درآمد سرانه د. رشد
- ۲۲) (HDI) همان است.
- الف. شاخص سطح رشد یافتگی ب. شاخص توسعه انسانی ج. شاخص توزیع عادلانه درآمد د. شاخص پیشرفت
- ۲۳) توسعه مفهومی است.
- ۲۴) برای اندازه گیری توسعه، در کنار درآمد سرانه از معیار دیگری به نام شاخص استفاده می شود.
- ۲۵) ویژگی های « توسعه » را بنویسید.
- ۲۶) مفاهیم « رشد و توسعه » را با یکدیگر مقایسه کنید.
- ۲۷) سه تفاوت رشد با توسعه را بنویسید.
- ۲۸) برای اندازه گیری توسعه از چه معیارهایی استفاده می شود؟
- ۲۹) «شاخص توسعه انسانی» شامل چه مواردی می باشد؟
- ۳۰) چرا درآمد سرانه به تنهایی معیار خوبی برای سنجش توسعه محسوب نمی شود؟
- ۳۱) «تولید ناخالص داخلی سرانه کشورهای قطر و چین به ترتیب ۱۲۷۵۶ دلار و ۱۱۵۲۵ دلار می باشد.» آیا به صراحت می توان گفت که قطر توسعه یافته تر از چین است؟ چرا؟

۳۲) با ذکر دو دلیل بیان نمائید: استفاده از شاخص درآمد سرانه به تنهایی در سنجش توسعه یافتگی کشورها کافی نمی باشد.

۳۳) چرا چین با توجه به درآمد سرانه نسبتاً پایین، کشوری نسبتاً توسعه یافته محسوب می شود؟

فاصله توسعه نیافتگی:

۳۴) حدود یک پنجم جمعیت دنیا در کشورهای توسعه یافته زندگی می کنند. صحیح غلط

۳۵) تفاوت و شکاف عمیق بین کشورهای در حال توسعه و توسعه یافته، به سطح درآمد سرانه محدود می شود.

ص غ

۳۶) امروزه یکی از معیارهای بسیار رایج برای طبقه بندی کشورها است.

الف. میزان رشد تولید ب. میزان درآمد سرانه ج. سطح توسعه یافتگی د. میزان درآمد

۳۷) کدام دسته از کشورها، بیشترین جمعیت جهان را تشکیل می دهند؟ کشورهای....

الف. توسعه یافته ب. عقب مانده ج. در حال توسعه د. در حال توسعه فقیر

۳۸) بر اساس توسعه یافتگی، کشورها به چند گروه تقسیم می شوند و هر کدام چه کسری از جمعیت را شامل می شوند؟

۳۹) با توجه به جدول زیر به سوالات پاسخ دهید.

کشور	شاخص	نرخ مرگ و میر (۹در هر ۱۰۰۰ نفر)	امید به زندگی	نرخ بیسوادی	درآمد سرانه (دلار)
الف		۱۰۵	۴۰	۶۲/۳	۳۰۰
ب		۳/۵	۸۳	کمتر از ۷	۳۸۹۰

الف) سطح توسعه در کدام کشور پایین تر است؟

ب) سطح رشد در کدام کشور بالاتر است؟

پیشرفت:

۴۰) در مفهوم پیشرفت، الگوی واحدی برای همه ی کشورها توصیه نمی شود. صحیح غلط

۴۱) شاخص های رشد و توسعه همیشه می توانند به اندازه کافی وضعیت هر کشور را معرفی کنند. صحیح غلط

۴۲) دهه ی چهارم انقلاب در کشور ما، با چه نامی موسوم شد؟

الف. دهه ی توسعه ب. دهه ی عدالت و پیشرفت ج. دهه رشد و توسعه د. دهه توسعه و پیشرفت

۴۳) چرا اقتصاددانان معتقدند که شاخص های رشد و توسعه به اندازه کافی وضعیت هر کشور را معرفی نمی کنند؟

۴۴) شاخص های رشد و توسعه، در معرفی وضعیت پیشرفت یک جامعه چه مواردی را نادیده می گیرند؟ (چهار مورد)

۴۵) چه مواردی در شاخص های توسعه انسانی مورد توجه قرار نمی گیرد؟

۴۶) چرا گاهی توسعه یافتگی معادل غربی شدن یک کشور تلقی می شود؟

۴۷) الگوهای معمول توسعه، به چه مسایلی در جوامع توجه لازم را ندارند؟

۴۸) چه مسائلی موجب شد تا برخی اندیشمندان از واژه ی توسعه کمتر استفاده کرده و به دنبال جایگزینی برای آن باشند؟

۴۹) چه اصطلاحی در کشور ما جایگزین واژه ی توسعه شده است؟

۵۰) به چه دلیل در مفهوم پیشرفت، الگوی واحدی برای همه ی کشورها توصیه نمی شود؟

فکرانجی بوک

تلاشی در مسیر موفقیت

باسمه تعالی

بخش سوم : توسعه اقتصادی

فصل دوم از بخش سوم : فقر و توزیع درآمد

آیا راه حلی برای از بین بردن فقر وجود دارد؟

مقدمه:

۱) رفاه اجتماعی با از بین رفتن فقر و تحقق می یابد.

۲) چهار مورد از اهداف اصلی برنامه ریزی های اقتصادی در هر کشور را نام ببرید.

۳) اصطلاح «رفاه اجتماعی» به چه معناست؟

۴) «رفاه اجتماعی» چگونه تحقق می یابد؟

فقر مطلق و فقر نسبی:

۵) فقر یا تهیدستی مطلق به معنای نداشتن حداقل معیشت است. صحیح غلط

۶) برای کسی که به نیازهای ابتدایی زندگی دسترسی نداشته باشد، اصطلاح «فقر نسبی» را بکار می بریم. ص غ

۷) سطح حداقل معیشت از یک جامعه تا جامعه دیگر متفاوت است. صحیح غلط

۸) هرچه درآمد سرانه کشوری پایین تر باشد فقر عمومی نسبت به کشور دیگر با درآمد سرانه بالاتر بیشتر است.

صحیح غلط

۹) هرچه سطح درآمد سرانه ی کشوری پایین تر باشد، میزان فقر آن است.

۱۰) منظور از درآمد معیشتی در تعریف خط فقر کدام است؟

الف. درآمد معیشتی در حدی است که فرد قادر به تأمین نیازهای اولیه ی و حفظ سلامت روحی خود نیست.

ب. درآمد معیشتی در حدی است که فرد قادر به تأمین نیازهای اولیه ی خود نیست.

ج. درآمد معیشتی در حدی است که فرد به تأمین بهداشت و حداقل تفریح نیست.

د. درآمد معیشتی در حدی است که در مقایسه به درآمد افراد دیگر پایین تر باشد.

۱۱) «فقر یا تهیدستی مطلق» به چه معناست؟

۱۲) فقیر مطلق به چه کسی اطلاق می شود؟

۱۳) چه افرادی «زیر خط فقر» قرار دارند؟

۱۴) چرا سطح حداقل معیشت از یک جامعه تا جامعه دیگر و از یک زمان به زمان دیگر متفاوت است؟

۱۵) منظور از «فقر نسبی» چیست؟

۱۶) فقر مطلق و فقر نسبی را با یکدیگر مقایسه کنید.

۱۷) وسعت و اندازه ی فقر در هر کشور، معمولاً تابع دو شاخص مهم است، آن دو شاخص کدام اند؟

۱۸) دو معیار مهم اندازه گیری فقر در هر کشور را بنویسید.

۱۹) وسعت و اندازه ی فقر در هر کشور، چه رابطه ای با هر یک از شاخص های زیر دارد؟

الف) با درآمد سرانه:

ب) با وضعیت توزیع درآمد:

توزیع درآمد و معیار سنجش آن:

۲۰) در استفاده از شاخص «دهک ها» گروه اول دارای کدام یک از ویژگی های زیر می باشد؟

الف. بیش ترین درصد درآمد ملی، ۱۰٪ اولیه جمعیت

ب. ۱۰٪ درآمد ملی، بیش ترین درصد اولیه جمعیت

ج. ۱۰٪ اولیه جمعیت، کمترین درصد درآمد ملی

د. ۱۰٪ اولیه جمعیت، کمترین درصد درآمد سرانه

۲۱) با توجه به داده ها، به ترتیب از راست به چپ، کدام گزینه صحیح است. در حالیکه تفاوت سهم دهک اول و دوم ۲٪،

تفاوت سهم دهک چهارم و پنجم صفر و تفاوت دهک هشتم الی دهم ۳٪ است.

الف. (۶-۹-۱۰-۲۳)

ب. (۵-۹-۱۵-۲۳)

ج. (۶-۹/۵-۱۵-۱۵/۵)

د. (۶-۹-۱۵-۱۸)

درآمد ملی	سهم دهک
۴	دهک اول
؟	دهک دوم
۷	دهک سوم
۹	دهک چهارم
؟	دهک پنجم
۹	دهک ششم
۱۱	دهک هفتم
۱۲	دهک هشتم
؟	دهک نهم
؟	دهک دهم

۲۲) یکی از معیارهای سنجش وضعیت توزیع درآمد شاخص است.

۲۳) در شاخص دهک ها، دهک اول، درصد جمعیت را و دهک آخر درصد جمعیت را شامل می شوند.

۲۴) در شاخص دهک ها، دهک اول، درآمد ملی را دارند و دهک آخر درآمد ملی را دارا هستند.

۲۵) توضیح دهید، چگونه با استفاده از معیار دهک ها، وضعیت توزیع درآمد در یک جامعه را بررسی می کنند؟

۲۶) چگونگی سنجش توزیع درآمد در جوامع، براساس شاخص دهک ها را توضیح دهید.

۲۷) چگونه از طریق معیار دهک ها، وضعیت توزیع درآمد جوامع مختلف را با یکدیگر مقایسه می نمایند؟

۲۸) چگونه با استفاده از دهک ها، شاخص نابرابری در هر کشور را محاسبه می کنند؟

۲۹) در چهار جامعه فرضی الف، ب، ج، د؛ نسبت دهک دهم به اول به ترتیب ۷، ۱۲، ۱۸ و ۲۶ می باشد. در کدام جامعه توزیع درآمد مناسب تر است؟

۳۰) با توجه به اطلاعات داده شده، در کدام یک از کشورهای زیر توزیع درآمد عادلانه تر و در کدام یک نامناسب تر است؟

شاخص نابرابری در هر کشور را نیز محاسبه کنید.

کشور	سهم دهک اول	سهم دهک دهم
الف	۳٪	۲۱٪
ب	۵٪	۲۵٪
ج	۲٪	۳۰٪
د	۷٪	۱۴٪

سیاست کاهش فقر و نابرابری:

۳۱) مهم ترین ابزار و سیاست مبارزه با نابرابری توزیع درآمد، کدام است؟

۳۲) با استدلال بیان نمائید که آیا می توان فقر را کاملاً از بین برد و نابرابری در توزیع درآمد در یک جامعه را به صفر رساند؟ نتیجه آن چه خواهد بود؟

۳۳) به نظر شما، نابرابری در توزیع درآمد در یک جامعه، تا چه اندازه ای مذموم بوده و تا چه اندازه ای ضرورت دارد؟

باسمه تعالی

بخش چهارم: مدیریت کلان اقتصادی

فصل اول از بخش چهارم: دولت و اقتصاد

آیا دولت باید در اقتصاد دخالت کند؟

مقدمه:

- ۱) وظایف دولت ها در زمان گذشته شامل چه مواردی بوده است؟ (درک و فهم)
 - الف- اخذ مالیات و خراج از مردم
 - ب- هدایت جامعه در مسیر رشد اقتصادی
 - ج- ایجاد اشتغال کامل
 - د- حفظ نظم و امنیت و مقابله با تجاوز دشمنان
 - ۲) نهاد دولت از لحاظ تاریخ از چه زمانی و به چه دلیل شکل گرفت؟ (درک و فهم)
 - ۳) روابط مالی دولت ها با شهروندان در زمان گذشته به چند شکل اعمال می شد؟ آن ها درآمدهای دریافتی را به چه صورت هائی هزینه می کردند؟
 - ۴) نقش اقتصادی دولت ها در جوامع گذشته و حال را مقایسه کنید؟
 - ۵) وظایف اقتصادی دولت ها در گذشته محدود به چه اموری بود؟
 - ۶) امروزه چه تغییراتی در وظایف اقتصادی دولت ها نسبت به پیش آمده است؟
- نقش اقتصادی دولت :
- ۷) اهداف اقتصادی دولت را نام ببرید؟ (ذکر ۴ مورد) (دانش)

اشتغال کامل :

- ۸) در شرایط رکود اقتصادی، امکان استخدام نیروی کار جدید بیش تر می شود. ص غ
- ۹) در شرایط رونق اقتصادی، امکان استخدام نیروی کار جدید بیش تر می شود. ص غ
- ۱۰) به چه دلیل دولت ها برای مقابله با مشکل بیکاری و مهار آن تلاش می کنند. (کاربرد)

الف- به دلیل آثار اقتصادی، اجتماعی و فرهنگی آن ب- فقط به دلیل آثار اقتصادی آن

ج- به دلیل آثار سیاسی، اجتماعی و فرهنگی آن د- به دلیل آثار اجتماعی اشتغال کامل

۱۱) کدام یک از گزینه های زیر، جزء راهکارهای اصلی پیش گیری از افزایش بیکاری نمی باشد. (درک و فهم)

الف- یارانه های تولید ب- آموزش ضمن خدمت

ج- ایجاد مستقیم شغل در بدنه دولت د- مهارت افزایی حین کار

۱۲) بیکاری در یک جامعه، از چه جنبه هائی آثار سوء به دنبال دارد؟ (ترکیب)

الف- فردی - اجتماعی ب- اقتصادی - اجتماعی - فرهنگی

ج- آموزشی - فرهنگی د- سیاسی - اقتصادی

۱۳) اشتغال کامل نیروی کار به معنای صفر بودن نیست.

۱۴) وظیفه دولت در رفع مشکل بیکاری به معنای این نیست که به بیکاران دهد و مستقیماً در بدنه دولت ایجاد کند.

۱۵) وظایف دولت ها در رفع مشکل بیکاری را مورد بررسی قرار دهید؟ (فراگیری یا درک و فهم)

۱۶) اشتغال کامل به چه وضعیتی اطلاق می شود؟ (دانش)

۱۷) آیا اشتغال کامل نیروی کار، به معنای صفر بودن نرخ بیکاریست؟ برای پاسخ خود، دو دلیل ذکر کنید.

۱۸) منظور از هر یک از دو اصطلاح بیکاری داوطلبانه و بیکاری اصطکاکی چیست؟

۱۹) به چه علت ایجاد اشتغال کامل از اهداف اقتصادی دولت به شمار می رود؟ (درک و فهم)

۲۰) رفع مشکل بیکاری از سوی دولت به چه معناست؟

۲۱) دولت ها با انجام چه اقداماتی با مشکل بیکاری مقابله می کنند؟

۲۲) دولت ها برای تحقق اشتغال کامل باید چه شرایطی را فراهم آورند؟ (درک و فهم)

۲۳) رونق اقتصادی به چه وضعیتی اطلاق می شود؟

۲۴) علل بیکاری در منطقه ی خود را بر شمارید؟ (ارزشیابی - ترکیب)

۲۵) برای مقابله با مشکل بیکاری در جامعه، سه راه حل پیشنهاد کنید.

ثبات قیمت ها:

۲۶) در شرایط تورمی سطح رفاه عمومی می یابد.

۲۷) در وضعیت تورم زیاد، قیمت کالاها و خدمات به سرعت می یابد و اقتصاد کشور دچار می شود.

۲۸) چرا دولت ها برای تثبیت قیمت ها در جامعه تلاش می کنند؟ (درک و فهم)

۲۹) افزایش بی رویه و نوسانات قیمت ها، چه تأثیری برای اقتصاد یک جامعه خواهد داشت؟ (کاربرد)

۳۰) رابطه‌ی بین تورم و سطح رفاه عمومی را توضیح دهید؟ (تجزیه و تحلیل)

۳۱) با تهیه گزارشی از افزایش یا کاهش رفاه خانوار خود در طی شش ماه گذشته، دلایل آن را بیان کنید. (کاربرد)

۳۲) دولت معمولاً برای مقابله با تورم و جلوگیری از کاهش سطح رفاه عمومی باید به چه اقدامی دست بزند؟

۳۳) سه راه حل برای مقابله با مشکل تورم در جامعه پیشنهاد کنید.

رشد و پیشرفت اقتصادی:

۳۴) دولت‌ها سعی می‌کنند با افزایش ظرفیت تولیدی و امکانات کشور، خود رانسبت به گذشته بیش تر کنند.

۳۵) نقش دولت‌ها را در رشد و پیشرفت اقتصادی به اختصار توضیح دهید؟ (درک و فهم)

۳۶) دولت‌ها با چه نوع اقداماتی می‌توانند در رقابت جهانی از دیگر اقتصادها عقب نمانند؟ (تجزیه و تحلیل)

۳۷) تحلیل نمایید؛ سیاست‌های اقتصادی دولت چه تأثیری بر رشد و پیشرفت اقتصادی خواهد داشت؟

بهبود توزیع ثروت و درآمد:

۳۸) از دیدگاه اقتصاددانان رفع فقر و حمایت از اقشار کم درآمد، راهی برای گسترش و افزایش سرعت

روند جامعه است. (دانش)

۳۹) در زمینه‌ی بهبود توزیع درآمد، توجه به چه مواردی همواره یکی از اهداف مهم و مورد توجه دولت‌ها به شمار می‌رود؟

(۴ مورد) (درک و فهم)

۴۰) از دید اقتصاددانان، بهبود توزیع درآمد چه نقشی در توسعه‌ی اقتصادی جامعه دارد؟ (درک و فهم)

۴۱) مبارزه با فقر و بهبود توزیع درآمد، چه تأثیری بر توسعه‌ی اقتصادی جامعه می‌تواند داشته باشد؟

۴۲) دلیل اهمیت یافتن مقابله با فقر و حمایت از اقشار کم درآمد در جوامع مختلف را بنویسید.

۴۳) چرا مقابله با فقر، یکی از هدف‌های مهم اقتصادی دولت به شمار می‌رود؟

منظور از دخالت دولت در اقتصاد:

۴۴) دو محور عمده‌ی فعالیت‌های دولت در عرصه‌ی اقتصاد را بیان کنید. (دانش)

عرضه کالاها و خدمات:

۴۵) در برخی زمینه‌ها "بخش خصوصی" ممکن است حاضر به سرمایه‌گذاری نشود دلیل این امر کدام است؟ (درک)

الف- زیان بخش بودن این سرمایه‌گذاری ب- سود آور بودن این سرمایه‌گذاری

ج- عدم کارآئی بخش خصوصی د- عدم اطمینان از سودآوری و نیاز به سرمایه اولیه بسیار زیاد

۴۶) دلیل عمده سرمایه گذاری دولت در برخی از شاخه های صنعت نظیر فولاد، چیست؟

الف- جنبه ی استراتژیک تولید این کالا ب- زیان بخش بودن مراحل تولید آن

ج- عدم اطمینان از سودآوری تولید این کالا د- نیاز به سرمایه اولیه ی بسیار زیاد

۴۷) سرمایه گذاری در کشف، استخراج، تصفیه و توزیع فرآورده های نفتی عمدتاً بر عهده.....است.

۴۸) دولت ها چگونه در زمینه عرضه بعضی از کالاها و خدمات اقدام به فعالیت می کنند؟

۴۹) سه مورد از دلایلی که به خاطر آن ها ممکن است دولت وارد عرضه برخی از کالاها و خدمات شود را ذکر کنید.

۵۰) با ذکر یک نمونه بگوئید؛ به چه علت دولت بهره برداری از برخی منابع و معادن را خود عهده دار می شود؟ (درک و فهم)

۵۱) با ذکر نمونه، دو مورد از دلایلی که به خاطر آن ها بخش خصوصی در برخی زمینه ها حاضر به سرمایه گذاری نمی شود

را بیان کنید. (درک و فهم)

۵۲) دو نوع از کالاها و خدماتی را که بخش خصوصی نمی تواند و یا حاضر به تولید و عرضه آن نیست را نام ببرید

و دلایل آن را بررسی کنید. (کاربرد)

وضع مقررات، سیاست گذاری و حکمرانی در اقتصاد :

۵۳) دولت چگونه می تواند فعالیت های اقتصادی را در جهت مطلوب هدایت کرده و بر آن حکمرانی کند؟

۵۴) دولت با چه اهدافی به وضع قوانین و سیاست گذاری در عرصه ی اقتصاد می پردازند؟

۵۵) سه نمونه از اهدافی را که دولت می تواند از طریق طراحی و اجرای سیاست های مناسب دنبال کند را نام ببرید؟ (کاربرد)

۵۶) چهار مورد از قوانینی که دولت برای ریل گذاری فعالیت های اقتصادی، به آن ها نیاز دارد را بیان نمائید.

۵۷) دولت در نظر دارد در عرصه فعالیت های اقتصادی و ریل گذاری آن، مقررات اجرائی را وضع، و سیاست هایی

را طراحی کند، شما چه قوانین یا سیاست هایی را برای تحقق این اهداف به دولت پیشنهاد می کنید؟ (ترکیب)

سیاست های اقتصادی :

۵۸) سیاست های اقتصادی دولت می تواند حرکت جامعه را به سمت توسعه کند سازد یا بر سرعت آن بیفزاید. ص غ

۵۹) دولت در کوتاه مدت به کنترل و کاهش توجه زیادی دارد.

الف- نوسانات تجاری ب- نوسانات جمعیتی ج- نوسانات مالی د- نوسانات اقتصادی

۶۰) دولت با چه سیاست هایی، افزایش فعالیت های تولیدی بخش تولید و عرضه را بهبود می بخشد؟

الف- امنیت اقتصادی، به کارگیری فناوری های نوین، بهبود محیط کسب و کار.

ب- امنیت اقتصادی، سیاست های پولی، بهبود روابط خارجی و صادرات کالا.

ج- به کارگیری فناوری های نوین، سیاست های پولی، بهبود روابط خارجی و اشتغال.

د- به کارگیری فناوری های نوین، سیاست های پولی، بهبود صادرات و اشتغال.

۶۱) کدام یک از موارد زیر در دایره ی "سیاست های تثبیت اقتصادی" قرار نمی گیرد؟

الف- اشتغال ب- تورم ج- رشد د- جمعیت

۶۲) چه سیاست هایی تقاضای کل اقتصاد را در کوتاه مدت، کنترل و تنظیم می کند؟

الف- سیاست های مالی ب- سیاست های تثبیت اقتصادی

ج- سیاست های پولی د- سیاست های کلان

۶۳) سیاست افزایش مالیات ها از جمله سیاست های دولت می باشد.

۶۴) سه مورد از سیاست هایی که دولت با اعمال آن ها، فعالیت های تولیدی بخش تولید و عرضه را بهبود می بخشد

را عنوان کنید؟

۶۵) هدف دولت از اجرای سیاست های مناسب تجاری و ارزی چیست؟

۶۶) منظور از سیاست های تثبیت اقتصادی چیست؟

۶۷) سیاست های تثبیت اقتصادی به چند دسته تقسیم می شود؟ نام ببرید؟

سیاست های پولی و مالی :

۶۸) بانک مرکزی با سیاست پولی انبساطی، می تواند در کوتاه مدت کدام مشکل را حل کند؟

الف- تحریم اقتصادی ب- رونق اقتصادی ج- رکود اقتصادی د- حالت الف و ب

۶۹) به سیاست هایی که دولت از طریق بانک مرکزی، برای کنترل پول و حفظ ارزش آن اعمال می کند،..... می گویند.

الف) سیاست مالی ب) سیاست انقباضی ج) سیاست انبساطی د) سیاست پولی

۷۰) اگر شما رئیس دولت باشید در هر یک از حالت های تورمی و رکودی به ترتیب چه سیاستی را در پیش می گیرید؟

الف) انبساطی پولی، انقباضی مالی ب) انبساطی مالی، انقباضی پولی

ج) انقباضی مالی، انبساطی پولی د) انقباضی پولی، انبساطی مالی

۷۱) به کدام یک از سیاست های اقتصادی زیر، سیاست بازار باز گفته می شود؟

الف) افزایش نرخ تنزیل مجدد ب) فروش اوراق مشارکت ج) افزایش نرخ سپرده قانونی د) کاهش مخارج عمومی

۷۲) کاهش مالیات ها چه نوع سیاستی محسوب شده و در چه زمانی به کار گرفته می شود؟

الف) انقباضی مالی - تورمی ب) انبساطی پولی - رکودی ج) انبساطی مالی - رکودی د) انقباضی پولی - تورمی

۷۳) اعمال سیاست مالی انبساطی دولت از چه راهی می تواند انجام پذیرد؟

الف) افزایش مخارج (ب) کاهش حجم پول در گردش (ج) کاهش مخارج (د) افزایش حجم پول در گردش

۷۴) از عمده ترین سیاست های بانک مرکزی جهت کاستن حجم پول در دست مردم، کدام است؟

الف) کاهش مالیات ها (ب) کاهش مخارج عمومی (ج) خرید اوراق مشارکت (د) فروش اوراق مشارکت

۷۵) کاهش مخارج دولت چه نوع سیاستی تلقی شده و در چه زمانی به کار گرفته می شود؟

الف) انقباضی مالی - تورمی (ب) انبساطی پولی - رکودی (ج) انبساطی مالی - رکودی (د) انقباضی پولی - تورمی

۷۶) به نظر شما؛ اگر نرخ مالیات ها کاهش یابد، انجام کدام گزینه زیر امکان پذیر خواهد بود؟

الف) کاهش اشتغال (ب) افزایش اشتغال (ج) افزایش رکود (د) کاهش تورم

۷۷) دولت ها برای مدیریت کلان اقتصاد کشور و اجرای وظایف خود بسته ی را اجرا می کنند.

۷۸) بسته ی " سیاست های مالی " از دو ابزار و تشکیل شده است.

۷۹) به سیاست هائی که دولت از طریق بانک مرکزی اعمال می کند، گویند.

۸۰) در حالت رکود اقتصادی، بانک مرکزی سیاست را در پیش می گیرد.

۸۱) سیاست مالی انقباضی در موقع تورم با کاهش تقاضای کل در اقتصاد، موجب می شود.

۸۲) سیاست مالی انبساطی در موقع رکود با افزایش تقاضای کل در اقتصاد، موجب می شود.

۸۳) سیاست های پولی را تعریف نمائید.

۸۴) آشکال مختلف سیاست های پولی را نام ببرید. (دانش)

۸۵) دولت از طریق چه نهادی سیاست های پولی را اعمال می کند؟

۸۶) توضیح دهید؛ چه زمانی دولت سیاست کاهش حجم پول را در پیش می گیرد؟

۸۷) توضیح دهید؛ چه زمانی دولت سیاست پولی انبساطی را در پیش می گیرد؟

۸۸) یکی از روش های اعمال سیاست های پولی را بیان نمائید.

۸۹) چه زمانی دولت حجم پول در گردش را افزایش و در چه زمانی آن را کاهش می دهد؟

۹۰) کدام یک از سیاست های اقتصادی بهترین راه تحریک تقاضای عمومی است؟ پیامد آن چیست؟

۹۱) سیاست مالی به چند طریق اعمال می گردد؟

۹۲) سیاست مالی انبساطی در چه زمانی در پیش گرفته می شود؟ دو طریق انجام آن را بیان نمائید.

۹۳) سیاست مالی انقباضی در چه زمانی در پیش گرفته می شود؟ دو طریق انجام آن را بیان نمائید.

اختلاف نظر اقتصاددانان در مورد نقش دولت :

۹۴) دولت یک نقش آفرین جدی در کنار نقش آفرینان مهم اقتصادی محسوب می شود. ص غ

- ۹۵) در سال های اخیر، توجه جدی سیاست گذاران کشور ما به ضرورت افزایش توان کدام بخش اقتصادی جلب شده است؟
 الف- دولتی ب- نیمه دولتی ج- غیر دولتی د- بین المللی
- ۹۶) کدام اصل در قانون اساسی مربوط به واگذاری بخش مهمی از فعالیت های اقتصادی به بخش غیر دولتی می باشد؟ (کاربرد)
 الف- اصل ۴۳ ب- اصل ۴۴ ج- اصل ۴۵ د- اصل ۴۶
- ۹۷) بنا بر تجربه کشورهای موفق، عامل اصلی و محرک پیشرفت کشور کدام است؟
- ۹۸) تقریباً همه اقتصاددانان، در مورد حضور چه عاملی در اقتصاد اتفاق نظر دارند؟
- ۹۹) اختلاف نظر اقتصاددانان در رابطه با حضور دولت در اقتصاد مربوط به چه مواردی است، با ذکر مثال توضیح دهید. (ارزشیابی)
- ۱۰۰) دولت ها معمولاً در چه زمانی نقش پررنگ تری را در اقتصاد ایفا می کنند؟
- ۱۰۱) دو دیدگاه رایج در خصوص نقش دولت در اقتصاد را فقط نام ببرید.
- ۱۰۲) دیدگاه دو مکتب "اقتصاد آزاد" و یا "اقتصاد دولتی" در خصوص نقش دولت در اقتصاد را مقایسه نمائید.
- ۱۰۳) به نظر شما بهترین انتخاب در زمینه دخالت یا عدم دخالت دولت در اقتصاد چیست؟
- ۱۰۴) مسئله اصلی اقتصاد دانان، در زمینه حضور یا عدم حضور دولت در اقتصاد، بر سر چیست؟
- ۱۰۵) در حال حاضر توجه جدی سیاست گذاران اقتصادی ما، در مورد وضع قوانین و سیاست گذاری در اقتصاد، منعطف به چه جهتی است؟
- ۱۰۶) در سال های اخیر در کشور ما توجه جدی سیاست گذاران به ضرورت افزایش توان کدام بخش های اقتصادی چه عاملی جلب شده است؟ (دانش)
- ۱۰۷) دولت ما طبق کدام اصل قانون اساسی ملزم شده که دخالت خود را در اقتصاد کاهش دهد؟
- ۱۰۸) طبق اصل ۴۴ قانون اساسی، واگذاری چند درصد از اقتصاد، به بخش تعاونی در نظر گرفته شده است؟
- ۱۰۹) در راستای دست یابی به ترکیب بهینه از حضور دولت و مشارکت بخش غیردولتی در اقتصاد چه اقداماتی در کشور ما صورت گرفته است؟
- ۱۱۰) به نظر شما؛ آیا روند غیر دولتی کردن اقتصاد با این شتاب منطقی می باشد؟ این روند ممکن است چه آسیب هایی به دنبال داشته باشد و چه افشاری از این قضیه سود برده و چه افشاری ضرر می کنند؟
- ۱۱۱) روند غیر دولتی کردن اقتصاد در کشورمان را مورد نقد و ارزیابی قرار دهید. اگر شما جزو تصمیم گیرندگان در این زمینه باشید، چه ملاک ها و مواردی را در این امر لحاظ می کنید؟
- ۱۱۲) دیدگاه مخالفان و موافقان دخالت دولت در اقتصاد را با یک دیگر مقایسه کنید. (تجزیه و تحلیل)
- ۱۱۳) جهت واگذاری صنعت پتروشیمی کشور، یا یک کارخانه خاص به بخش غیردولتی چه پیشنهاداتی دارید؟ (ترکیب)

باسمه تعالی

بخش چهارم: مدیریت کلان اقتصادی

فصل دوم از بخش چهارم: بودجه و مالیه دولت

چرا دولت ها به تنظیم بودجه اقدام می کنند؟

- ۱) دولت ها برای مدیریت کلان کشور، فقط از سیاست های پولی استفاده می کنند. (دانش) ص غ
- ۲) دولت ها با درآمد ها و مخارج خود، امور مالی کل کشور را مدیریت می کنند. (دانش) ص غ
- ۳) از عوامل اصلی تعیین کننده مخارج دولت، است. (دانش)
- ۴) چرا دولت ها اقدام به تنظیم بودجه می کنند؟ (درک و فهم)

تعریف بودجه :

- ۵) بودجه برنامه بلند مدت است که در آن منابع درآمدی و مخارج برنامه ای پیش بینی شده است. (دانش) ص غ
- ۶) بودجه یکی از ابزارهای کنترلی دولت بر مجلس است. (دانش) ص غ
- ۷) مهم ترین و اساسی ترین سند در دستگاه مالی و اداری کشور چه نام دارد؟ (دانش)
الف- خزانه ب- اوراق سهام ج- ذخایر ارزی د- بودجه
- ۸) هرگاه مخارج بودجه از درآمد های آن بیشتر باشد به اصطلاح با روبه رو هستیم. (دانش)
- ۹) از نظر زمانی، دولت ها جهت تحقق اهداف و مأموریت های خود سه نوع برنامه دارند، آن سه نوع کدام اند؟ (دانش)
- ۱۰) چرا بودجه به عنوان مهم ترین و اساسی ترین سند در دستگاه مالی و اداری کشور شناخته می شود؟ (درک و فهم)
بودجه را تعریف نمائید.

۱۱) چه موقع می گوئیم دولت با کسری بودجه روبروست؟

۱۲) بودجه خانواده خود را به صورت فرضی برای یک ماه در جدولی تنظیم نمائید؟

بودجه از آغاز تا انجام :

- ۱۳) در تمام کشورها قوه مجریه مسئول تهیه و پیشنهاد لایحه است. (دانش) ص غ

- ۱۴) وظیفه تصویب بودجه در کشور ما بر عهده دولت است. (دانش) ص غ
- ۱۵) نظارت بر اجرای بودجه بر عهده ی قوه قضاییه می باشد. (دانش) ص غ
- ۱۶) ارقام بودجه به صورت قطعی می باشند. ص غ
- ۱۷) مجلس طبق قانون باید لایحه بودجه سال بعد را تصویب کند. (دانش)
- الف - قبل از پایان خرداد ماه سال مربوطه ب- قبل از پایان سال
- ج- در فروردین ماه سال مربوطه د- شش ماه قبل از پایان سال
- ۱۸) متن پیشنهادی بودجه را که توسط سازمان امور بودجه تدوین و پس از تصویب هیئت دولت به مجلس تقدیم می شود می نامند. (دانش)
- ۱۹) دستیابی به اهداف و پایبندی و یا عدم پایبندی دستگاه ها به تکالیف بودجه را سندی به نام مشخص می کند.
- ۲۰) در جمهوری اسلامی ایران به موجب قانون اساسی ، دیوان محاسبات مستقیماً زیر نظر است. (دانش)
- ۲۱) لایحه بودجه شامل چه مواردیست؟ (دانش)
- ۲۲) منظور از قانون بودجه چیست؟
- ۲۳) بودجه از آغاز تا اجرا چه مراحل را طی می کند ؟ به ترتیب نام ببرید. (دانش)
- ۲۴) دولت موظف است لایحه بودجه را تا چه زمانی به مجلس تقدیم کند؟ (دانش)
- ۲۵) لایحه بودجه قبل از طرح در جلسه علنی مجلس در کجا مورد بررسی قرار می گیرد؟ (دانش)
- ۲۶) عملکرد مالی یک سال بخش دولتی در چه محدوده ای انجام می پذیرد؟ (دانش)
- ۲۷) چه موقع لایحه بودجه به قانون بودجه تبدیل می شود؟ (دانش)
- ۲۸) چه موقع لایحه بودجه لازم الاجرا می شود؟
- ۲۹) قانون بودجه علاوه بر ماده واحده و تبصره ها، شامل چه مورد دیگری نیز می باشد؟
- ۳۰) وظیفه ی ارائه سند تفریغ به عهده کدام نهاد است؟ (دانش)
- ۳۱) منظور از لایحه بودجه چیست؟ (دانش)
- ۳۲) هر یک از ماده واحده و تبصره ها در بودجه، به ترتیب بیانگر چیست؟ (دانش)
- ۳۳) در چه صورت تصویب بودجه اهمیت خود را از دست می دهد؟ (درک وفهم)
- ۳۴) از سند تفریغ بودجه، به چه منظوری استفاده می شود؟ (درک وفهم)
- ۳۵) توضیح دهید وظیفه ی دیوان محاسبات چیست؟ (دانش)
- ۳۶) دیوان محاسبات زیر نظر چه نهادی قرار دارد؟ این دیوان چه وظیفه ای بر عهده دارد؟

خزانه داری :

- ۳۷) اداره کل خزانه داری در وزارت اقتصاد و امور دارایی می باشد . (دانش) ص غ
- ۳۸) یکی از ارکان اساسی و بسیار مهم مالی کشور که جایگاه ویژه ای در مدیریت نظام بودجه و ساختار مالی جامعه و حاکمیت دارد کدام است؟ (دانش)
- الف- دیوان محاسبات ب- سازمان بازرسی کل کشور ج- خزانه داری د- کمیسیون اقتصادی جمعی
- ۳۹) خزانه داری کل در قالب قوانین و مقررات ،..... را تأمین و پرداخت می کند. (دانش)
- ۴۰) مدیر کل اداره خزانه داری را چه کسی تعیین می کند؟ (دانش)
- ۴۱) اصل ۵۳ قانون اساسی جمهوری اسلامی به چه موضوعی اختصاص یافته است؟ (دانش)
- ۴۲) اصل ۵۳ قانون اساسی در باره اهمیت و جایگاه خزانه به چه نکاتی اشاره نموده است؟ (دانش)
- ۴۳) خزانه داری کل چه وظایفی دارد؟ (دانش)

در آمد های دولت :

- ۴۴) بهای کالا و خدمات یکی از منابع درآمدی دولت است. (دانش) ص غ
- ۴۵) استقراض برای تأمین هزینه های جاری کار معقولی قلمداد می شود. (دانش) ص غ
- ۴۶) دریافت وام از کشور های دیگر و یا سازمان های بین المللی می تواند موجبات وابستگی کشور را فراهم آورد. (دانش) ص غ
- ۴۷) سرمایه گذاری های دولتی دارای سودآوری و درآمدزائی مستقیم می باشند. ص غ
- ۴۸) کالاها مانند آب مصرفی و سوخت های فسیلی و خدمات مانند خدمات پستی و انشعابات آب و برق و گاز و تلفن جزء کدام یک از درآمد های دولت می باشد؟ (دانش)
- الف- مالیات ب- درآمد شرکت های دولتی و سرمایه گذاری ج- بهای خدمات د- اسقراض
- ۴۹) برخی از سرمایه گذاری های تولیدی داخلی یا خارجی دولت با هدف است که در این صورت یکی از منابع تأمین درآمد دولت به شمار می رود. (دانش)
- ۵۰) سرمایه گذاری های دولتی و مستقیم ندارند. (دانش)
- ۵۱) سرمایه گذاری های دولتی اغلب اهداف و دارند. (دانش)
- ۵۲) بهترین راه استقراض ، قرض گرفتن از، از طریق است. (دانش)
- ۵۳) در بیشتر کشور ها قانون مالیات به وسیله وضع می شود. (دانش)
- ۵۴) تمامی درآمدهای حاصل از فروش کالا و خدمات شرکت های دولتی، با استثنای چه مواردی از سوی خزانه داری

کل کشور واریزمی شود؟

(۵۵) سرمایه گذاری های دولتی شامل چه مواردی است؟ (دانش)

(۵۶) سرمایه گذاری های دولتی اغلب چه اهدافی را دنبال می کنند؟

(۵۷) چهار مورد از منابع درآمدی دولت را نام ببرید. (دانش)

(۵۸) در چه صورت دولت مجبور به استقراض می شود؟ (درک و فهم)

(۵۹) در چه صورت استقراض می تواند راهگشا باشد؟ (درک و فهم)

(۶۰) بدترین راه استقراض کدام است؟ چرا؟ (درک و فهم)

(۶۱) بهترین راه استقراض کدام است؟

(۶۲) با دلیل بگوئید که بهترین و بدترین راه استقراض دولت کدام اند؟

(۶۳) یکی از مهم ترین ابزارهای مؤثر در رفع نابرابری های اقتصادی - اجتماعی را بیان نمائید؟ (دانش)

(۶۴) در چه صورت مالیات، به عنوان یکی از ابزارهای مؤثر در رفع نابرابری های اقتصادی - اجتماعی تلقی می شود؟ (درک)

(۶۵) دو دلیل اخذ مالیات توسط دولت از مردم را بیان کنید؟ (درک و فهم)

(۶۶) مالیات را تعریف کنید. (دانش)

(۶۷) در بحث از مالیات باید به چه موضوعاتی توجه کرد؟ (ذکر همه موارد) (دانش)

(۶۸) مهم ترین منبع درآمدی دولت، کدام طریق است؟

(۶۹) قانون مالیات توسط چه نهادی وضع می شود؟ در چه صورتی این قانون می تواند در رفع نابرابری ها، مؤثر باشد؟

پرداخت کننده و بار مالیات :

(۷۰) گاهی اوقات مؤدی مالیات (تولید کننده یا فروشنده)، بار مالیاتی را به دوش مصرف کننده یا فرد دیگری منتقل می کند. (دانش) ص غ

(۷۱) آنچه را که مالیات بر آن وضع می شود، می نامند. (دانش)

(۷۲) پرداخت کننده ی اصلی و نهائی مالیات چه کسانی می توانند باشند؟ (دانش)

(۷۳) امیرالمؤمنین حضرت علی (ع) در دوران زمامداری خود، افزون بر موارد نه گانه بر چه مورد دیگری زکات بست؟ به این اقدام آقا، اصطلاحاً چه می گویند؟ (درک و فهم)

(۷۴) مؤدی مالیاتی چه کسانی می باشند؟

(۷۵) مؤدیان مالیاتی به چه دلایلی موظف به پرداخت مالیات هستند؟ (۴ مورد)

(۷۶) با ذکر یک مثال توضیح دهید که آیا همیشه تولیدکننده یا فروشنده، پرداخت کننده ی اصلی و نهائی مالیات هستند؟

انواع مالیات :

۷۷) در کدام نوع از مالیات دولت می تواند افراد پر درآمد و کم درآمد را از هم جدا کند و از گروه خاصی مالیات بگیرد.

(دانش) مالیات مستقیم مالیات مستقیم

۷۸) در مالیات مستقیم پرداخت کننده نهایی آن مشخص نیست و امکان انتقال بار مالیاتی بسیار زیاد است. ص غ

۷۹) مالیات بر حقوق؛ از نوع " مالیات بر درآمد " محسوب می شود. (دانش) ص غ

۸۰) به کالاهایی که در مرحله خرده فروشی به دست مصرف کننده می رسد، مالیات بر فروش تعلق می گیرد. ص غ

۸۱) دریافت چه نوع مالیاتی علاوه بر ایجاد درآمد برای دولت، می تواند یکی از ابزارهای سیاست گذاری تجاری دولت

نیز باشد؟ (دانش)

الف- حقوق و عوارض گمرکی ب- مالیات بر نقل و انتقالات دارایی ج- مالیات بر عوارض شهرداری د- بهای

خدمات

۸۲) کدام نوع مالیات در واقع بخشی از بهای خدمات است؟ (دانش)

الف- مالیات بر درآمد اصناف ب- مالیات بر ثروت ج- مالیات بر تجارت د- عوارض

۸۳) مالیات بر مصرف دخانیات یا مصرف کالای خارجی از چه مالیاتی است؟ (دانش)

الف- مالیات بر درآمد ب- مالیات بر فروش ج- مالیات بر دارایی د- عوارض گمرکی

۸۴) کدام یک از مالیات های زیر، مالیات غیر مستقیم تلقی می شود؟

الف) مالیات بر حقوق (ب) مالیات بر ثروت (ج) مالیات بر مصرف دخانیات (د) مالیات بر درآمد کشاورزی

۸۵) مالیات هایی که تحقق آن به رفتار یا فعالیت اقتصادی بستگی دارد،..... نامیده می شود. (دانش)

۸۶) به مالیات بر دارایی افراد پس از مرگ..... نامیده می شود. (دانش)

۸۷) مالیات بر زمین و اتومبیل مالیات بر..... و از نوع..... است. (دانش)

۸۸) مالیات بر ارزش افزوده نوعی مالیات..... بر مصرف کالاها و خدمات است. (دانش)

۸۹) در هر یک از موارد ذیل، نوع مالیات دریافتی را مشخص کنید. (کاربرد)

الف - آسفالت خیابان ها (.....) ب- مالیات بر اتومبیل (.....) ج- مالیات بر املاک (.....)

۹۰) مالیات بر حقوق از چه نوع مالیات و از کدام دسته ی آن می باشد؟

۹۱) مالیات بر اساس پایه مالیاتی به چند نوع دسته بندی می شود؟ (دانش)

۹۲) دو دسته ی عمده ی مالیات مستقیم را نام ببرید. (دانش)

۹۳) در کدام نوع از انواع مالیات انتقال بار مالیاتی کم است؟ (دانش)

۹۴) انواع مالیات غیر مستقیم را نام ببرید. (دانش)

- ۹۵) مالیاتی که بر تجارت خارجی یا کالاهای صادر شده و وارد شده تعلق می گیرد، چه نام دارد؟ (دانش)
- ۹۶) مالیاتی که شهرداری در مقابل خدماتی مانند حفظ زیبایی شهر و ایجاد پارک ها دریافت می کند چه نامیده می شود؟ (دانش)
- ۹۷) نوعی مالیات بر فروش چند مرحله ای که کالاها و خدمات واسطه ای را از پرداخت مالیات معاف می کند چه نام دارد؟ (دانش)
- ۹۸) ضمن تعریف مالیات بر ارزش افزوده، مزایای آن را برشمارید.
- ۹۹) مالیات مستقیم را با ذکر یک نمونه توضیح دهید. (درک و فهم)
- ۱۰۰) مالیات غیرمستقیم را با ذکر یک مثال توضیح دهید. (درک و فهم)
- ۱۰۱) مالیات بر درآمد چه نوع مالیاتی است؟ و شامل چه مواردی می شود؟ (4 مورد) (درک و فهم)
- ۱۰۲) مالیات بر دارایی و ثروت بر چه مواردی تعلق می گیرد؟ سه نمونه ذکر کنید. (دانش و کاربرد)
- ۱۰۳) دو ویژگی مالیات غیر مستقیم را بنویسید. (درک و فهم)
- ۱۰۴) مالیات مستقیم و غیرمستقیم را با یکدیگر مقایسه نمائید. (ارزشیابی)
- ۱۰۵) مالیات بر نقل و انتقالات دارایی چه هنگامی موضوعیت پیدا می کند؟ (درک و فهم)
- ۱۰۶) منظور از مالیات بر ارث چیست؟
- ۱۰۷) دو نوع مالیات مستقیم و غیرمستقیم را از لحاظ عدالت مورد بررسی قرار دهید.
- ۱۰۸) عوارض شهرداری چه نوع مالیاتی هستند؟ دو نمونه از آن را نام ببرید. (دانش - کاربرد)
- ۱۰۹) مالیات بر فروش چه نوع مالیاتی است و چگونه دریافت می شود؟ (درک و فهم)
- ۱۱۰) چرا دولت برای مصرف دخیانیات یا مصرف کالای خارجی مالیات وضع می کند؟ (درک و فهم)
- ۱۱۱) مالیات بر ارزش افزوده چه نوع مالیاتی است؟ (درک و فهم)
- ۱۱۲) مالیات بر ارزش افزوده چه نتایجی به همراه خواهد داشت؟ (درک و فهم)
- ۱۱۳) مالیات بر دارایی چه تفاوتی با مالیات بر نقل و انتقالات دارایی دارد؟ (تجزیه و تحلیل)
- ۱۱۴) مالیات بر حقوق و عوارض گمرکی چه تفاوتی با عوارض شهرداری دارد؟ (تجزیه و تحلیل)

انواع نرخ های مالیاتی :

- ۱۱۵) در نرخ ثابت مالیات، میزان مالیات پرداختی افراد، با تغییر در نرخ درآمد یا دارایی آنها ثابت می ماند. ص O غ O
- ۱۱۶) در نظام مالیاتی با نرخ، نرخ مالیات با افزایش درآمد، زیاد و با کاهش درآمد، کم می شود. (دانش)
- ۱۱۷) در کدام نوع از نرخ مالیاتی، مالیات در تعدیل درآمد و ثروت افراد مؤثر است؟ (دانش)
- ۱۱۸) به نظر شما نرخ ثابت مالیاتی، چه ایرادی دارد؟

۱۱۹) دو نوع نرخ مالیاتی را نام ببرید. (دانش)

۱۲۰) عملکرد نرخ ثابت مالیات، چگونه است؟ (درک و فهم)

۱۲۱) نرخ تصاعدی مالیات چه ویژگی هایی دارد؟ (درک و فهم)

۱۲۲) نرخ ثابت مالیاتی چه تفاوتی با نرخ تصاعدی مالیات دارد؟ (تجزیه و تحلیل)

۱۲۳) اگر دولت از تمام درآمدها با نرخ ثابت ۱۰ درصد مالیات دریافت کند، مالیات بر درآمد دو فرد که یکی ۵۰۰/۰۰۰ تومان و دیگری ۲/۰۰۰/۰۰۰ تومان درآمد دارند را محاسبه کنید. (کاربرد)

۱۲۴) جدول مالیاتی زیر مفروض

است. مالیات فردی را که ماهانه

۴۸۰۰۰۰ تومان درآمد دارد را

محاسبه کنید. (کاربرد)

درآمد به تومان	تا 100000	تا 200000	تا 350000	تا 400000 و بیش تر
نرخ مالیات	5%	8%	10%	12%

۱۲۵) مالیات پرداختی توسط دو فرد که اولی ماهیانه ۱۲۰۰۰۰۰ تومان و دومی ۹۰۰۰۰۰ تومان درآمد دارند را با نرخ ۱۲ درصد محاسبه کنید. (کاربرد)

۱۲۶) جدول مالیاتی زیر مفروض است. مالیات پرداختی اشخاصی را که به ترتیب ۳/۵۰۰/۰۰۰ ریال و ۳/۵۰۵/۰۰۰ ریال در آمد دارند را براساس نرخ تصاعدی محاسبه نموده و بر اساس آن عادلانه بودن، این نوع مالیات را بررسی کنید. (کاربرد)

درآمد به ریال	تا 2,000,000	تا 3,500,000	تا 5,500,000	تا 7,500,000
نرخ	5%	7%	9%	11%

هزینه های دولت :

- ۱۲۷) به هزینه هائی که دولت برای انجام وظایف متعدد خود باید صرف کند، «مخارج عمومی» گفته می شود. ص غ
- ۱۲۸) هزینه هایی که برای چرخش کار جاری ادارات و نهادها صرف می شود، « هزینه های کارکنان» نام دارد. ص غ
- ۱۲۹) سرمایه گذاری زیربنایی باعث تقویت اقتصادی کشور می شود. (دانش) ص غ
- ۱۳۰) هزینه ی پرداخت حقوق به «هزینه های کارکنان» معروف است. (دانش) ص غ
- ۱۳۱) سیاست گذاری برای ساخت شبکه های بزرگ آب رسانی از سرمایه گذاری های مولد محسوب می شود. ص غ
- ۱۳۲) به نظر اقتصاددانان هزینه های آموزش و پرورش نوعی سرمایه گذاری تلقی می شود. (دانش) ص غ
- ۱۳۳) به آن دسته از هزینه هایی که صرف احداث بنا یا خرید کالاهایی می شوند که با بقای آن ها، مورد استفاده قرار می گیرند دولت نامیده می شود. (دانش)
- الف - پرداخت های انتقالی ب- هزینه های اداری ج- هزینه های سرمایه ای د- هزینه های اجتماعی
- ۱۳۴) هزینه های حمل و نقل، اجاره، آب و برق و کاغذ جزء کدام یک از هزینه های دولت می باشد؟ (دانش)
- الف- هزینه های کارکنان ب- هزینه های اداری ج- هزینه های عمرانی د- هزینه های انتقالی
- ۱۳۵) هزینه هایی که دولت برای ایجاد توازن اجتماعی و رفع نابرابری ها به صورت بلاعوض صرف می کند چه نام دارد؟
- الف- هزینه های اداری ب- هزینه های سرمایه ای ج- هزینه های انتقالی د- هزینه های زیربنایی
- ۱۳۶) کدام یک از موارد زیر از اهداف دولت برای هزینه کردن پرداخت های انتقالی نمی باشد؟ (دانش)
- الف- تأمین اجتماعی ب- رفع نابرابری ج- ایجاد توازن اجتماعی د- کارهای جاری سازمان ها
- ۱۳۷) یارانه تولید جزء کدام یک از هزینه های دولت محسوب می شود؟ (دانش)
- الف هزینه های کارکنان ب- هزینه های مولد ج- هزینه های انتقالی د- هزینه های زیر بنایی
- ۱۳۸) به هزینه های سرمایه های، هزینه های هم گویند. (دانش)
- الف- هزینه های مولد ب- سرمایه گذاری زیر بنایی
- ج- سرمایه گذاری عمرانی د- سرمایه گذاری اجتماعی
- ۱۳۹) محور تولید و است.
- ۱۴۰) هزینه های دولت به دو دسته هزینه های و تقسیم می شود. (دانش)
- ۱۴۱) هزینه هایی که همیشه هست و متناسب با سیاست های دولت تغییر می کند نام دارد. (دانش)
- ۱۴۲) مهم ترین سرمایه گذاری دولت است. (دانش)
- ۱۴۳) کدام یک از هزینه ها، شامل حقوق و مزایای تمام کارکنان دولت است؟ (دانش)

- ۱۴۴) منظور از مخارج عمومی دولت چیست؟
- ۱۴۵) سه نمونه از مخارج عمومی دولت را نام ببرید. (دانش)
- ۱۴۶) دو دسته ی کلی مخارج عمومی دولت کدام اند؟
- ۱۴۷) دو دسته ی عمده ی هزینه ها و مخارج دولت کدام اند؟
- ۱۴۸) هزینه های جاری دولت چه هزینه هائی هستند؟
- ۱۴۹) هزینه های جاری یا عادی دولت به چند دسته تقسیم می شوند؟ نام ببرید. (دانش)
- ۱۵۰) به چه دلیل، کم تر مورد ی پیش می آید که هزینه های جاری سیر نزولی داشته باشد؟ (درک و فهم)
- ۱۵۱) ضمن بیان چند نمونه، بگوئید هزینه های کارکنان دولت شامل چه مواردی می باشد؟ (درک و فهم)
- ۱۵۲) دولت برای این که آموزش و پرورش را به قیمت مناسب یا رایگان به دست مردم برساند، چه اقدامی را باید انجام دهد؟
- ۱۵۳) توضیح دهید؛ هزینه های اداری چه نوع هزینه هائی هستند، چهار نمونه از آن ها را بیان نمائید. (دانش)
- ۱۵۴) پرداخت های انتقالی چه نوع هزینه هائی هستند و با چه هدفی پرداخت می شوند؟
- ۱۵۵) چهار مورد از دلایل پرداخت های انتقالی را بیان نمائید. (دانش)
- ۱۵۶) دو نمونه از پرداخت های انتقالی دولت را نام ببرید.
- ۱۵۷) چرا دولت به برخی اقشار جامعه، یارانه می پردازد؟
- ۱۵۸) پرداخت های انتقالی را با سایر هزینه های جاری دولت مقایسه نمائید.
- ۱۵۹) به نظر شما، پرداخت های انتقالی چه تفاوتی با سایر هزینه های جاری دولت دارد؟
- ۱۶۰) هزینه های سرمایه ای یا عمرانی چه نوع هزینه ائی می باشند؟ (درک و فهم)
- ۱۶۱) هزینه های سرمایه ای دولت به چند دسته طبقه بندی می شوند؟ نام ببرید.
- ۱۶۲) عمر هزینه های سرمایه ای دولت معمولاً چقدر است؟
- ۱۶۳) چه نوع سرمایه گذاری برای به ثمر رساندن سایر فعالیت های اقتصادی بسیار ضروری است؟ (دانش)
- ۱۶۴) سرمایه گذاری که باعث ایجاد و استقرار کارخانه ها و صنایع دولتی می گردد چه نامیده می شود؟ (دانش)
- ۱۶۵) با ذکر مثال بگوئید؛ سرمایه گذاری مولد چه نوع سرمایه گذاری است؟ (درک و فهم)
- ۱۶۶) سرمایه گذاری زیربنایی چه نوع سرمایه گذاری است؟ با ذکر مثال توضیح دهید.
- ۱۶۷) کدام یک از سرمایه گذاری های دولت؛ لازمه ی تحقق و بهره برداری مطلوب از فعالیت های اقتصادی است؟
- ۱۶۸) سرمایه گذاری اجتماعی چه نوع سرمایه گذاری است؟ با ذکر نمونه توضیح دهید. (درک و فهم)

۱۶۹) هزینه های سرمایه ای و هزینه های جاری دولت چه تفاوتی با یکدیگر دارند؟

۱۷۰) اهمیت سرمایه گذاری های اجتماعی در چیست؟ (درک و فهم)

۱۷۱) به نظر شما چرا مهم ترین سرمایه گذاری دولت سرمایه گذاری اجتماعی است؟ (تجزیه و تحلیل)

۱۷۲) چرا سرمایه گذاری اجتماعی، مهم ترین سرمایه گذاری دولت محسوب می شود؟

۱۷۳) چرا به نظر اقتصاددانان هزینه های آموزش و پرورش و هزینه های علم، نوعی سرمایه گذاری تلقی می شود؟

۱۷۴) عمده تفاوت کشور های پیشرفته با کشور های عقب مانده از نظر پیشرفت اقتصادی ناشی از چه عواملی است؟

(تجزیه و تحلیل)

۱۷۵) سرمایه گذاری های اجتماعی را با سرمایه گذاری مولد مقایسه نمائید. (ارزشیابی)

باسمه تعالی

بخش پنجم: اقتصاد جهان و ایران

فصل اول از بخش پنجم: اقتصاد بین الملل

آیا کشوری را می شناسید که به روابط اقتصادی بین المللی نیاز نداشته باشد؟

- ۱) امروزه تولیدات و درآمد های برخی شرکت های چند ملیتی و فراملیتی بیش تر از مبادلات بین کشور ها است. ص غ
- ۲) کدام گزینه از موارد مطرح شده در اقتصاد بین الملل نیست؟
 - الف) تشکیل اتحادیه های اقتصادی
 - ب) ایجاد اتحادیه های صنفی و حمایت از حقوق کارگران
 - ج) سرمایه گذاری خارجی
 - د) صادرات و واردات کالا و خدمات
- ۳) امروزه علاوه بر مبادلات بین کشور ها شرکت های و در دنیا شکل گرفته اند که گاهی تولیدات و درآمد های آنها از بسیاری از کشور ها بیش تر است.
- ۴) روابط اقتصادی بین افراد بر اساس شکل می گیرد.
- ۵) سازمان های اقتصادی بین المللی و جهانی با هدف و بین کشورها آنها فعالیت می کنند.
- ۶) دو هدف فعالیت سازمان های اقتصادی جهانی و بین المللی را بیان نمائید.
- ۷) دو صورت از سطوح روابط اقتصادی را بیان کنید.
- ۸) چهار مورد از موضوعات و موارد مطرح در اقتصاد بین الملل را نام ببرید.
- ۹) چرا انسان ها نیازمند به برقراری ارتباط در زمینه اقتصادی با یکدیگرند؟

موانع گسترش تجارت بین المللی در گذشته :

- ۱۰) تولید کنندگان در گذشته به ناچار همیشه اندازه نامحدودی کالا تولید و به بازار داخلی عرضه می کردند. ص غ
- ۱۱) حاکمان محلی با هدف حمایت از صنایع داخلی هر گونه مرادده خارجی را باعث گسترش روابط اقتصادی می دانستند. ص غ

۱۲) حمل و نقل ریلی و هوانوردی، پیدایش صنعت بخار و وجود امنیت نسبی موجب کاهش هزینه ها در داخل و خارج کشور شده است. ص غ

۱۳) کدام گزینه در مورد موانع قانونی، نا امنی و ضعف دولت ها صحیح می باشد؟

الف) تاجران با خطر حمله و هجوم دزدان و حاکمان محلی روبرو بودند.

ب) تولید کنندگان همیشه اندازه نامحدودی کالا تولید می کردند.

ج) نا امنی، هجوم دزدان و راهزنان، ضعف دولت ها مانع تجارت با خاطری آسوده بود.

د) نبود وسائل حمل و نقل و راه مناسب هزینه های تجارت را کاهش داد.

۱۴) کدام یک از عوامل زیر باعث کاهش هزینه های تجارت خارجی نشده است؟

الف) راه های مناسب و مقررات مورد قبول بین المللی ب) پیشرفت دانش فنی

ج) حمایت حاکمان محلی از صنایع داخلی د) انقلاب دریانوردی ایرانیان و مسلمانان

۱۵) در گذشته و ضعف دولت ها در حاکمیت بر سرزمین خود مانع تجارت می شد.

۱۶) حاکمان محلی با هدف به هر قیمتی و هر چند غیر عقلانی هر گونه مرادده خارجی را تهدید تلقی می کردند.

۱۷) از مهم ترین عواملی که در گذشته هزینه های تجارت را به شدت افزایش می داد، نبود و بود.

۱۸) دو مورد از مهم ترین موانع گسترش تجارت بین الملل در گذشته را نام ببرید.

۱۹) چه عواملی امروزه باعث کاهش هزینه های تجارت در داخل و خارج از مرزها شده است؟ (ذکر چهار مورد)

تاجر و تجارت بین المللی :

۲۰) به افرادی که یک محصول را در مرکز تولید خریده و سپس در مناطق مصرف بین المللی به فروش می رسانند یا می گویند.

۲۱) امروزه به تاجر یا بازرگان و افرادی که به صادرات و واردات می پردازند، می گویند.

۲۲) ۳ مورد از محدودیت های تولید کنندگان برای فروش تولیدات خود به مصرف کنندگان کشورهای دیگر را بیان کنید.

۲۳) بازاریاب بین المللی با توجه و اطلاع از چه مواردی، می تواند فعالیت موفقیتی داشته باشند؟

۲۴) تاجر یا بازرگان به چه کسی گفته می شود؟

۲۵) چه کشورها و سازمان هائی در زمینه تجارت جهانی موفق تر خواهند بود؟

۲۶) یک بازاریاب بین المللی چگونه می تواند برای اقتصاد کشور مفید واقع شود؟

۲۷) چرا معمولاً تولید کنندگان خود اقدام به فروش محصولات شان در سطح بین المللی نمی کنند؟

چرا ملت ها به تجارت رو می آورند؟

۲۸) کشورهای مختلف باید از طریقنیازهای اقتصادی متقابل یکدیگر را برطرف کنند.

۲۹) توضیح دهید؛ چرا ملت ها به تجارت روی می آورند؟

۳۰) سه مورد از علل روی آوردن کشورها به تجارت بین الملل را برشمارید.

۳۱) چه عواملی باعث شده که هر کشور به تولید محصولات خاصی پردازد؟

۳۲) چرا کشورها پیشرفته تر حاضر نیستند، فناوری های خود را به رایگان در اختیار سایر کشورها قرار دهند؟

۳۳) توضیح دهید؛ یکسان نبودن منابع و عوامل تولید، چگونه می تواند باعث روی آوردن کشورها به تجارت بین الملل شود؟

۳۴) توضیح دهید؛ سطح فناوری متفاوت کشورها، چگونه می تواند باعث روی آوردن آن ها به تجارت بین الملل شود؟

۳۵) توضیح دهید؛ وضعیت اقلیمی متفاوت، چگونه می تواند باعث روی آوردن کشورها به تجارت بین الملل شود؟

۳۶) دسترسی به علوم و فناوری های جدید چه مزیتی را برای کشورها در زمینه ی تجارت فراهم می کند؟

مزیت مطلق و مزیت نسبی :

۳۷) در تجارت با تقسیم کار بر اساس مزیت مطلق، رفاه مردم دو کشور و نیز مجموع تولید جهان افزایش می یابد. ص غ

۳۸) در کدام یک از زندگی های اجتماعی زیر، اغلب خانوارها تک محصول هستند؟

الف) ایلاتی (ب) روستائی (ج) شهری (د) مختلط

۳۹) هزینه ی تولید نوعی برنج که مورد نیاز کشور می باشد، کیلویی ۱۵۰۰ تومان در داخل و در خارج ۱۳۰۰ تومان

است و هزینه ی حمل و نقل از خارج ، کیلویی ۴۰۰ تومان می باشد. شما چه سیاستی را ضروری دانسته و پیشنهاد می کنید؟

الف) صادرات برنج (ب) واردات برنج (ج) پرداخت یارانه در تولید آن (د) تولید و مصرف آن در داخل

۴۰) کشوری دارای وضعیت مندرج در جدول مقابل می باشد. چه سیاست تجاری برای این کشور پیشنهاد می کنید؟

محصول	تولید داخلی	واردات
گندم	۸۰۰	۹۰۰
برنج	۱۴۰۰	۱۰۰۰

(ارقام قیمت هر کیلو محصول، به تومان و کیفیت مشابه می باشد.)

الف) صادرات هر دو محصول (ب) واردات گندم و صادرات برنج

ج) واردات هر دو محصول (د) صادرات گندم و واردات برنج

۴۱) توضیح دهید که: الف) چرا ایران فرش صادر می کند؟

ب) چرا ایران برنج وارد می کند؟

۴۲) چرا کشورهای اروپائی با این که توان تولید فرش مورد نیازشان را دارند اما باز به واردات آن می پردازند؟

۴۳) با توجه به اینکه کشور ایران و برزیل از نیروی کار و سرمایه و دانش فنی برخوردارند و در تولید غذا در ایران ۶۰ واحد و در برزیل ۴۰ واحد و تولید پوشاک در ایران ۳۰ و در برزیل ۷۰ واحد هزینه برمی دارد، کدام گزینه را پیشنهاد می کنید؟

الف) ایران به تولید پوشاک و برزیل به تولید غذا پردازد. (ب) برزیل به تولید غذا و پوشاک پردازد.

ج) برزیل به تولید پوشاک و ایران به تولید غذا پردازد. (د) ایران به تولید غذا و پوشاک پردازد.

۴۴) مزیت مطلق و نسبی خانوارها و کشور را به سمت سوق می دهد.

۴۵) در دنیای بدون و بدون مبادله زندگی اجتماعی معنا ندارد.

۴۶) به چه دلیل در زندگی های اجتماعی شهری، اغلب خانوارها تک محصول هستند؟

۴۷) دو پیامد منفی عدم رعایت اصل مزیت نسبی و مطلق در اقتصاد را بیان نماید.

۴۸) منظور از مزیت نسبی چیست؟

۴۹) ضمن بیان یک مثال، توضیح دهید داشتن مزیت نسبی چه تأثیری بر تجارت بین الملل می تواند داشته باشد.

۵۰) منظور از مزیت مطلق چیست؟ مثالی در این زمینه ذکر کنید؟

۵۱) به نظر شما چرا برخی از کشورهای پیشرفته با وجود توانایی در تولید برخی از کالاها، با این حال، به تولید این کالاها اقدام نمی کنند؟

۵۲) در چند سال قبل، کشور عربستان با وجود اینکه اکثر مناطق آن کویر و بیابانی می باشد، اقدام به صادرات گندم نمود! در حالی که در حالت عادی تولید مورد نیاز داخلی گندم برای این کشور به صرفه نمی باشد. این اقدام عربستان را چگونه ارزیابی می کنید؟

۵۳) چگونگی استفاده ی ابزارهای کشورهای استعمارگر از مزیت مطلق و نسبی از طریق سازمان های تجاری جهانی برای تحمیل خواسته های خود بر کشورهای دیگر و تحت سلطه درآوردن آن ها را مورد تجزیه و تحلیل قرار دهید.

آیا تجارت بین المللی دارای منافع است؟

۵۴) تجارت بین الملل برای تمامی کشورها و مؤسسات و افراد می تواند سود آور باشد. ص غ

۵۵) با تقسیم کار و مبادله بین المللی، سطح رفاه و زندگی مردم جهان بهبود می یابد. ص غ

۵۶) «صادرات کالا به خارج باعث ورود ارز می شود.» و «واردات کالا های خارجی باعث گوناگونی و ارزانی آن می شود.» به ترتیب هر یک از موارد بالا منافع کدام گروه اقتصادی را در مبادلات بین المللی تأمین می کند.

الف) تولیدکنندگان - مصرف کنندگان (ب) تولیدکنندگان - تولیدکنندگان

ج) مصرف کنندگان - مصرف کنندگان

د) مصرف کنندگان - تولید کنندگان

۵۷) اصل مزیت نسبی موجبات و بین المللی را فراهم می آورد.

۵۸) با تقسیم کار و مبادله ، و کالا های تولید شده در جهان افزایش می باید.

۵۹) چرا تجارت بین الملل برای تمامی کشور ها و مؤسسات و افراد می تواند سود آور باشد؟

۶۰) توضیح دهید؛ تجارت بین الملل چگونه می تواند سطح رفاه و زندگی مردم جهان را بهبود بخشد؟

۶۱) سه مورد از فواید تجارت بین الملل برای تولید کنندگان را ذکر کنید.

۶۲) تجارت بین المللی چه فوایدی برای مصرف کنندگان دارد؟ (دو مورد)

۶۳) کدام گزینه در مورد منافع تجارت بین المللی برای تولید کنندگان صحیح نیست.

الف) ادامه کار تولید کنندگان به وارد کردن ماشین آلات و مواد اولیه دیگر کشور ها بستگی دارد.

ب) تولید کنندگان با واردات به بازار های وسیع تری دسترسی پیدا می کنند و کالاهای خود را بهتر می فروشند.

ج) با واردات کالا های خارجی، تولید کنندگان به رقابت با تولید کنندگان خارجی برای تولید بهتر تلاش کنند.

د) بازار های داخلی محدود است به همین دلیل تولید کنندگان با صادرات ، بازار وسیع به دست می آورند.

مبادلات بین المللی در بازارهای نیروی کار و سرمایه :

۶۴) چرا هر کشوری در پی جذب سرمایه گذاری خارجی برای کشور خود می باشد؟

الف) رشد و افزایش کارخانه ها و بخش های تولیدی داخل ب) استفاده از پس انداز کشورهای دیگر

ج) استفاده از پس انداز داخلی خود د) همه موارد

۶۵) کدام گزینه در بازار های نیروی کار و سرمایه صحیح می باشد؟

الف) مبادلات اقتصادی بین المللی فقط به تجارت کالا و خدمات محدود می شود.

ب) مبادلات اقتصادی بین المللی فقط به نیروی کار و سرمایه محدود می شود.

ج) مبادلات اقتصادی بین المللی به تجارت کالا و خدمات و به دست آوردن حداکثر سود منتهی می شود.

د) مبادلات اقتصادی بین المللی شامل تجارت کالا، خدمات ، نیروی کار و سرمایه می شود.

۶۶) رئیس مبادلات در بازارهای بین المللی بر سر چه مواردی می باشد؟ (چهار مورد)

۶۷) چرا هر کشوری در پی جذب سرمایه گذاری های خارجی برای کشور خود می باشند؟

۶۸) مهاجرت نیروی کار و حرکت سرمایه در فضای بین المللی بر چه اساسی از یک نقطه به نقطه ای دیگر انجام می گیرد؟

۶۹) کشورها بر چه اساسی سیاست های تجاری خاص خود را انتخاب می کنند؟

۷۰) کدام گزینه در مورد سیاست های خارجی صحیح نیست؟

الف) کشورها برای حمایت از تولید کنندگان داخلی موانع تجاری مانند تعرفه های گمرکی وضع می کنند.

ب) کشورها برای حمایت از واردکنندگان، عوارض وارداتی یا سهمیه وارداتی وضع می کنند.

ج) کشورها برای تشویق صادرکنندگان، یارانه های مختلف و انواع تسهیلات اقتصادی و حقوقی ارائه می کنند.

د) کشورها برای حمایت از تولیدکنندگان، عوارض وارداتی و سهمیه وارداتی وضع می کنند.

۷۱) به ترتیب صنایع راهبردی و صنایع نوزاد در کدام گزینه آمده است؟

الف) صنایع دفاعی - انرژی (ب) فناوری نوین - گندم (ج) انرژی - فناوری نوین (د) صنایع نوین - صنایع دفاعی

۷۲) چه گروه ها و صنایعی در همه ی کشورها مورد حمایت سیاست های تجاری دولت ها می باشد؟

الف) تولیدکنندگان و صنایع راهبردی (ب) مصرف کنندگان و صنایع نوزاد

ج) مصرف کنندگان و تولیدکنندگان (د) صنایع راهبردی و صنایع نوزاد

۷۳) به نظر شما منظور از صنایع راهبردی چیست؟ سه مورد از صنایع راهبردی را بیان کنید.

۷۴) به نظر شما، صنایع نوزاد به چه صنایعی گفته می شود؟ دو مورد از این گونه صنایع را مثال بزنید.

۷۵) دو مورد از سیاست های کلی تجاری دولت ها را نام ببرید؟ در چه مواقعی دولت ها از آن ها بهره می گیرند؟

۷۶) سه مورد از انواع موانع تجاری که دولت ها وضع می کنند را نام ببرید.

۷۷) معمولاً در چه موقعی دولت ها موانع تجاری بر سر راه واردات برقرار می کنند؟

۷۸) معمولاً در چه موقعی و به چه منظوری دولت ها سیاست های تشویقی تجاری را در پیش می گیرند؟

۷۹) دو مورد از سیاست های تشویقی تجاری دولت ها را نام ببرید.

۸۰) دو مورد از مواردی که در همه ی کشورها مشمول حمایت سیاست های تجاری دولت ها قرار می گیرند، کدام اند؟

دلیل هریک را بیان کنید.

۸۱) به نظر شما با توجه به شرایط دنیای امروز و تأثیر گذاری سیاست بر اقتصاد، آیا بکار گیری اصول مزیت مطلق و

نسبی در تجارت بین المللی می تواند به عنوان طریقی مطمئن و راهگشا تلقی شود؟

۸۳) چرا در پیش گرفتن سیاست تک محصولی در دنیای امروز، مطلوب نمی باشد؟

۸۴) آیا اهمیت دادن به تولید ملی و مصرف کالاهای داخلی، مغایر با اصول مزیت مطلق و نسبی در تجارت بین المللی

نمی باشد؟

۸۵) به نظر شما جهت تشویق مردم به مصرف تولیدات ملی و کالاهای داخلی، توجه به چه نکاتی ضروری می باشد؟
۸۶) چرا در دنیای امروز منافع تجارت بین الملل به کشورهای قدرتمند و زیان آن به کشورهای ضعیف می رسد؟

محصولات راهبردی (استراتژیک) :

- ۸۷) منازعات و جنگ های اقتصادی قرن های اخیر توجه اقتصاددانان را به چه امری رهنمون شده است؟
الف) تولید محصولات راهبردی ب) مزیت نسبی راهبردی ج) منافع سیاسی و غیر اقتصادی د) همه موارد
- ۸۸) چه عواملی موجب بهانه جویی و سلطه دشمن یا رقیب و ضعف و وابستگی یک کشور می شود؟
الف) تولیدات در حوزه کشاورزی صنایع نظامی و دفاعی و انرژی ب) خودکفایی در تولیدات داخلی
ج) عدم وابستگی به کالاهای ضروری مثل دارو د) اهمیت خودکفایی و کالاهای ضروری مثل دارو
- ۸۹) منازعات و جنگ های اقتصادی قرون اخیر و رفتار استکباری قدرت های جهان موجب شده که اقتصاددانان به اهمیت در بعضی از تولیدات داخلی تاکید کنند .
۹۰) به کالاهای ضروری که بدون توجه به میزان سود، هزینه و بازار و ... تولید می شوند گفته می شود.
۹۱) چه مواردی از تولیدات می تواند موجب بهانه جویی و سلطه دشمن یا رقیب و ضعف و وابستگی یک کشور شود؟
۹۲) به چه دلیل اقتصاددانان به اهمیت خودکفائی در بعضی از تولیدات داخلی و عدم وابستگی در تولید آن ها به خارج تاکید دارند؟
۹۳) محصولات راهبردی به چه محصولاتی اطلاق می شود؟
۹۴) چرا اقتصاددانان در تولید برخی کالاها به مزیت نسبی راهبردی و منافع سیاسی و غیراقتصادی هم توجه می کنند؟

خلق ارزش بهتر از بیکاری :

- ۹۵) در کوتاه مدت اگر برای عوامل تولید اشتغالی ممکن نباشد، تولید و خلق ارزش افزوده در محصول غیرمزیتی از بیکاری بهتر است. ص غ
۹۶) تولید و خلق ارزش افزوده در محصول غیرمزیتی همواره از بیکاری بهتر است. ص غ
۹۷) در تجارت اصل بر رعایت و عدم تخصیص امکانات اولیه به حوزه های غیر مزیتی می باشد.

احیا و خلق مزیت اقتصادی :

۹۸) کشورهای موفق پیوسته در حال انتقال از مزیت هایی با ارزش افزوده بیش تر به مزیت هایی با ارزش افزوده کم تر هستند. ص غ

۹۹) کشورهایی که زمانی به دلیل صنعتی بودن پیشرفته به شمار می رفتند، امروزه صنایع خود را به کشورهای دیگر منتقل می کنند. ص غ

۱۰۰) مزیت های بالفعل در کدام گزینه نهفته است ؟

الف) صنایع جدید دریایی ب) محیط جغرافیایی و طبیعت ج) علم و فناوری د) محصولات نرم

۱۰۱) دو مورد از مواردی که مزیت های اقتصادی در اختیار هر کشور می گذارند را نام ببرید.

۱۰۲) چرا اقتصاددانان به سرمایه انسانی، نوآوری و اقتصاد دانش بنیان تأکید دارند؟

۱۰۳) چهار مورد از مواردی که می توانند کشورها را از مسیر عقب مانده ی قبلی برهاند را بیان کنید.

۱۰۴) به چه دلیل کشورهایی که زمانی به دلیل صنعتی بودن پیشرفته به شمار می رفتند، امروزه صنایع خود را به کشورهای دیگر منتقل می کنند؟

حمایت از صنایع نوزاد و گلخانه ای :

۱۰۵) مزیت داشتن یا نداشتن مفهومی ایستا و دائمی است. ص غ

۱۰۶) اگر کشوری به دلیل محدودیت های طبیعی، مزیت اقتصادی نداشته باشد، نمی تواند به مزیت دست یابد. ص غ

۱۰۷) اگر محصولی با هزینه های تمام شده زیاد و کیفی کم تولید شود با حمایت دولت یا مصرف کنندگان از آن نیز می توان مزیت به دست آورد. ص غ

۱۰۸) به صناعی که با حمایت دولت و مردم در مسیر کسب مزیت اقتصادی است، می گویند.

الف) صنایع نوزاد و گلخانه ای ب) صنایع مادر ج) صنایع سنگین د) صنایع اصلی

۱۰۹) در حمایت دولت از صنایع نوزاد، چه شرایطی باید مراعات شود؟

۱۱۰) امروزه چه عاملی موجب شده است که دیگر محدودیت های طبیعی مانع کسب مزیت اقتصادی نباشد؟

۱۱۱) صنایع نوزاد و صنایع گلخانه ای به چه صناعی گفته می شود؟

تولید فراملیتی و چند ملیتی :

- ۱۱۲) تولید پوشاک مارک دار انگلیسی در بنگلادش چه نوع تولیدی می باشد؟
- الف) تولید هوشمند ب) تولید فراملیتی و چند ملیتی ج) صنایع نوزاد د) صنایع گلخانه ای
- ۱۱۳) امروزه تولید اغلب کالاها به ویژه تولید کالاهای الکترونیکی، شده است.
- ۱۱۴) اقتصادهای هوشمند از چه طریق مزیت های اقتصادی کشور های دیگر را به خود اختصاص می دهند؟
- ۱۱۵) چرا اکثر شرکت های تجاری معروف دنیا اغلب، کارخانه های خود را به کشور های دیگر منتقل می کنند؟
- ۱۱۶) دلیل تأسیس مؤسسات چند ملیتی و فراملیتی چیست؟

قیمت گذاری ناعادلانه :

- ۱۱۷) در قیمت گذاری ناعادلانه از سوی قدرت ها، به ترتیب چه محصولاتی ارزان و چه محصولاتی گران می باشد؟
- الف) انرژی و غذا، ارزان - محصولات خام و دانش بنیان، گران
- ب) محصولات فناوری و دانش بنیان، ارزان - محصولات خام و کشاورزی، گران
- ج) محصولات کشاورزی و غذا، ارزان - محصولات با فناوری بالا و دانش بنیان، گران
- د) انرژی و فناوری بالا، گران - محصولات کشاورزی و خام، ارزان
- ۱۱۸) چه عاملی ارزش های نابرابری بین محصولات کشور های قوی و ضعیف برقرار می کند؟
- ۱۱۹) تجارت جهانی به چه شرطی منافع کشورها را افزایش می دهد؟
- ۱۲۰) چرا اکثر محصولات خام و فاقد فناوری قوی در دنیا ارزان و محصولات با فناوری بالا و دانش بنیان گران ارزش گذاری می شود؟
- ۱۲۱) چرا در دنیای امروز منافع تجارت بین الملل به کشورهای قدرتمند و زیان آن به کشورهای ضعیف می رسد؟
- ۱۲۲) به نظر شما با توجه به شرایط دنیای امروز و تأثیر گذاری سیاست بر اقتصاد، آیا بکار گیری اصول مزیت مطلق و نسبی در تجارت بین المللی می تواند به عنوان طریقی مطمئن و راهگشا تلقی شود؟ چرا؟

ضرورت تعاملات بین المللی و حضور جهانی :

- ۱۲۳) تأکید بر استقلال اقتصادی و خود کفایی به معنای قطع روابط تجاری و گوشه گیری از اقتصاد بین الملل است. ص غ
- ۱۲۴) تأکید بر تولید ملی و جایگزینی واردات، به معنای قطع روابط تجاری با دنیا نیست. ص غ
- ۱۲۵) در فضای رقابتی تجارت بین الملل چه کسانی می توانند برنده باشند؟

۱۲۶) به نظر شما حضور در عرصه ی تجارت جهانی و تعاملات بین المللی برای یک کشور چه ضرورتی دارد؟ چگونه یک کشور می تواند در این عرصه موفق باشد؟

شکندگی و آسیب پذیری اقتصادی :

۱۲۷) اقتصاد تک محصولی در مواقع بحرانی، امکان تاب آوری و انعطاف پذیری مقابل تکانه ها را ندارد. ص غ

۱۲۸) کشورهای تک محصولی همیشه در رقابت و جنگ اقتصادی انعطاف پذیرترند. ص غ

۱۲۹) در فضای جهانی اقتصاد تک محصولی شکننده و آسیب پذیر است. ص غ

۱۳۰) کشورهای تک محصول، فاقد زنجیره کامل خلق ارزش است. ص غ

۱۳۰) چه عاملی باعث شده که کشور ما ایران از وضعیت تک محصولی فاصله بگیرد؟

الف) وابستگی به درآمد نفتی
ب) پیروزی انقلاب اسلامی

ج) تلاش های دولت برای کاهش وابستگی به درآمد نفتی
د) گوناگونی واردات کالا

۱۳۱) از کدام طریق یک کشور به وضعیت استقلال و استحکام اقتصادی نزدیک تر می شود؟

الف) گوناگون کردن راه های تأمین کالا های وارداتی و بازار های فروش

ب) فاصله گرفتن از وضعیت تک محصولی و خلق مزیت های اقتصادی جدید

ج) توجه به علم و فناوری و اقتصاد دانش بنیان
د) همه موارد صحیح است.

۱۳۲) کشور ما در گذشته به شدت به درآمدهای وابسته بود و کشوری به شمار می رفت.

۱۳۳) در فضای جهانی، اقتصاد تک محصولی، اقتصادی و است.

۱۳۴) چه عاملی باعث شد تا کشور ما بعد از جنگ از وضعیت تک محصولی فاصله بگیرد؟

۱۳۵) سه مورد از راه هایی که بوسیله ی آن ها سعی شده است تا توان فنی کشور افزایش یابد و نیازهای صنایع کشور

در داخل تأمین گردد را بیان کنید؟

۱۳۶) کشور ما با انجام چه اقداماتی توانسته در مسیر قطع وابستگی به قدرت های بزرگ و استقلال اقتصادی گام بردارد؟

۱۳۷) چهار مورد از زمینه هایی که کشور ما در آن ها در ردیف چند کشور اول دنیا قرار می گیرد، را نام ببرید.

۱۳۸) یک کشور از چه روش هایی می تواند به وضعیت استقلال و استحکام اقتصادی نزدیک تر شود؟ (ذکر 4 مورد)

۱۳۹) برای در امان ماندن از آسیب های اقتصاد تک محصولی چه طرقي را برمی شمارید؟

۱۴۰) چرا داشتن اقتصاد تک محصولی، آسیب محسوب می شود؟

۱۴۱) چرا کشور تک محصولی همیشه در رقابت و جنگ اقتصادی محکوم به شکست است؟

۱۴۲) تحریم ها همیشه به نفع کشورهای وضع کننده و به زیان کشورهای مورد تحریم می باشد. ص غ
۱۴۳) تحریم ها می توانند منفعی هم برای کشورهای مورد تحریم، در بر داشته باشند. ص غ
۱۴۴) هر یک از موارد ؛ کسب منافع بیشتر- اعمال فشار و براندازی، به ترتیب کدام یک از اهداف تحریم ها را نشان می دهد؟

الف) اقتصادی - سیاسی - اقتصادی (ب) سیاسی - اقتصادی - اقتصادی

ج) اقتصادی - سیاسی - سیاسی (د) اقتصادی - اقتصادی - سیاسی

۱۴۵) همه گزینه ها در مورد ویژگی های تحریم اقتصادی صحیح است بجز

الف) موجب کاهش هزینه مبادله (ب) موجب سختی صادرات و واردات

ج) موجب افزایش افزایش مبادله (د) موجب افزایش قیمت کالاها و بازار سیاه

۱۴۶) کدام گزینه بیانگر تحریم تجاری می باشد؟

الف) مانع تراشی در مقابل صادرات و واردات کالا، خدمات و عوامل تولید مثل سرمایه

ب) مانع تراشی در مقابل مبادلات مالی بانک ها و بیمه ها

ج) مانع تراشی جهت افزایش مبادلات و آسانی صادرات و واردات

د) مانع تراشی در مقابل دریافت وام ها و سرمایه گذاری های خارجی

۱۴۷) بعد از جنگ جهانی دوم از چه عواملی برای تحریم اقتصادی علیه کشورها استفاده شد؟

الف) استفاده از فناوری جدید ارتباطی و اطلاعاتی (ب) استفاده از نهادهای مالی و پول های بین المللی

ج) تحریم های بانکی و بیمه ای (د) همه موارد صحیح است

۱۴۸) کدام گزینه در مورد تحریم اقتصادی نادرست است ؟

الف) تحمیل هزینه بر کشورهای تحریم شونده (ب) زیان کشورهای تحریم کننده از تحریم

ج) کشورهای تحریم کننده با اتکا به نیروی داخلی مزیت اقتصادی و رقابتی کسب می کنند.

د) کشورهای تحریم شونده با اتکا به نیروی داخلی مزیت اقتصادی و رقابتی کسب می کنند.

۱۴۹) یکی از ابزارهای رقابت و یا جنگ اقتصادی، است.

۱۵۰) امروزه چه عاملی موجب کاسته شدن تأثیر تحریم های تجاری شده است؟

۱۵۱) توضیح دهید؛ بعد از جنگ جهانی دوم چه عاملی قدرت وضع تحریم های بانکی و بیمه ای را در اختیار کشورهای

تحریم کننده قرار داده است؟

- ۱۵۲) توضیح دهید؛ در چه صورتی تحریم ها می توانند به نفع کشورهای مورد تحریم، تمام شوند؟
- ۱۵۳) توضیح دهید؛ چگونه تحریم ها می توانند به شکل گیری اقتصاد درون زا برای کشورهای مورد تحریم منجر شود؟
- ۱۵۴) به نظر شما تحریم ها چه ضرری برای کشورهای وضع کننده و چه نفعی برای کشورهای مورد تحریم می تواند داشته باشد؟
- ۱۵۵) چند نمونه از زمینه های مورد تحریم که بر علیه کشور ما اعمال شده است را نام ببرید؟
- ۱۵۶) تحریم اقتصادی چگونه می تواند بر اقتصاد یک کشور تأثیر منفی بگذارد؟
- ۱۵۷) سه مورد از اهداف وضع تحریم ها بر علیه یک کشور (توسط کشورهای زورگو) را بیان نمایید.
- ۱۵۸) انواع تحریم های اقتصادی را نام ببرید؟
- ۱۶۹) بیان نمایید که هر یک از تحریم های اقتصادی و مالی به ترتیب به چه نحوی اعمال می شوند؟
- ۱۶۰) شیوه ی اعمال تحریم ها در زمان گذشته و حال را با یکدیگر مقایسه نمایید.
- ۱۶۱) سه راهکار مفید جهت مقابله با تحریم های اقتصادی پیشنهاد دهید.
- ۱۶۲) به نظر شما چگونه می توان از تحریم ها به عنوان یک فرصت برای پیشرفت و جهش اقتصادی استفاده کرد؟
- ۱۶۳) شما بهترین روش جهت مقابله با تحریم ها را در چه می دانید؟ با دلیل از پاسخ خود دفاع نمایید.
- ۱۶۴) جهت مقابله با تحریم ها، شما به عنوان یک دانش آموز در حیطه ی عملکردی خود چه اقداماتی را می توانید انجام دهید؟ (بیان ۳ مورد)

اتحادیه های اقتصادی و بین المللی :

- ۱۶۵) کشورهای در اعمال سیاست های تجاری خود بین دوست و شریکان تجاری با سایر کشورها یکسان عمل می کنند. ص غ
- ۱۶۶) تشکیل اتحادیه های اقتصادی یا بلوک های تجاری بین کشورها، باعث افزایش مبادلات و کاهش موانع تجاری می شود. ص غ
- ۱۶۷) سازمان کنفرانس اسلامی، نهادی صرفاً اقتصادی است. ص غ
- ۱۶۸) کشورهای اروپایی چگونه کل اروپا را تقریباً به صورت بازرگانی داخلی در آورده اند؟
- الف) با تشکیل اتحادیه اقتصادی و انتخاب پول واحد
- ب) با عضویت آمریکا در اتحادیه اروپا
- ج) با افزایش مبادلات تجاری بین کشورهای اروپایی و آسیایی
- د) با کاهش مبادلات تجاری بین خود

۱۶۹) چهارمین منطقه قدرتمند تجاری در جهان کدام منطقه است؟

الف) اتحادیه ملل جنوب شرق آسیا (آ.سه.آن) ب) امریکا ج) ژاپن د) اتحادیه اروپا

۱۷۰) چه عاملی ضرورت تأسیس سازمان های اقتصادی جهت وضع مقررات و قوانین جهانی را مطرح کرده است؟

الف) تنظیم و نظارت بر امور اقتصادی و مالی و اعمال حکمرانی قدرت های برتر ب) توسعه تجارت اسلامی

ج) سازمانهای بین المللی منطقه ای د) گسترش مبادلات و تعاملات جهانی در قرن گذشته

۱۷۱) کدام یک از جزء چهار منطقه ی قدرتمند اول اقتصادی در جهان به شمار نمی آید؟

الف) ژاپن ب) صندوق بین المللی پول ج) اتحادیه اروپا د) اتحادیه آ سه آن

۱۷۲) به چه دلیل برخی از کشورها به تشکیل اتحادیه های اقتصادی مبادرت می ورزند؟

۱۷۳) سه مورد از اتحادیه های اقتصادی موجود در سطح جهانی را نام ببرید.

۱۷۴) سازمان کنفرانس اسلامی با چه هدفی تشکیل شده است؟

۱۷۵) سه مورد از نهادهای فرعی اقتصادی سازمان کنفرانس اسلامی را نام ببرید.

۱۷۶) دو دلیل وضع قوانین و مقررات جهانی ناظر بر امور اقتصادی و مالی و سازمان های بین المللی را بیان کنید.

۱۷۷) دو مورد از مهمترین سازمان های موجود تأثیر گذار بر اقتصاد کشورها و اقتصاد جهانی را نام ببرید.

۱۷۸) تحلیل نمائید؛ با توجه به تجربه ی حاصل از عملکرد سازمان ها و مؤسسات اقتصادی و حتی سیاسی بین المللی، آیا

واقعاً می توان گفت که این سازمان ها اهرمی در دست کشورهای قدرتمند نبوده و در راستای منافع و پیشرفت همه ی

ملت ها بدون تبعیض عمل می نمایند؟

باسمه تعالی

بخش پنجم: اقتصاد جهان و ایران

فصل دوم از بخش پنجم: اقتصاد ایران

اقتصاد ایران چه مسیری را طی کرده است؟

دولت در مسیر تاریخی اقتصاد ایران:

- ۱) در دوران پهلوی اجرای برنامه موسوم به انقلاب سفید، آخرین لطمه را بر بدنه ی و ایران زد.
- ۲) هم زمان با مراحل اولیه انقلاب صنعتی در اروپا، ایران چه وضعیتی داشت؟
- ۳) تاریخ معاصر ایران به چند دوره ی متمایز تقسیم می شود؟ نام ببرید.
- ۴) توضیح دهید؛ اقتصاد ایران در گذشته دور، در جهان چه وضعیت و جایگاهی داشته است؟
- ۵) دلایل اهمیت و جایگاه ویژه ی اقتصاد ایران در جهان، در گذشته دور را بیان نمایید.
- ۶) توضیح دهید؛ اقتصاد ایران در دوره ی اسلامی از چه ویژگی هائی برخوردار بوده است؟
- ۷) دوران شکوفائی تمدن اسلامی چند قرن طول کشید؟
- ۸) وضعیت اقتصاد ایران در دوره ی صفویه را توضیح دهید.
- ۹) چه عواملی موجب تسریع جریان پیشرفت اقتصادی کشورهای اروپائی، هم زمان با حکومت قاجار در ایران، شد؟
- ۱۰) علل عقب ماندگی و ضعف اقتصاد ایران در دوران قاجار را بیان نمایید.
- ۱۱) چرا در دوران قاجار اقتصاد ایران فرصت طلائی جبران عقب ماندگی خود نسبت به اروپا را از دست داد؟
- ۱۲) چه عواملی صدمات جدی بر ساختار اقتصاد ایران در دوران قاجار وارد نمود؟
- ۱۳) ۴ نمونه از معدود حرکت های مذهبی و ملی جهت جبران عقب ماندگی اقتصاد ایران در دوران قاجار را بیان نمایید.
- ۱۴) ویژگی عمده ی اقتصاد ایران در دوره ی پهلوی، توجه نداشتن و جدا شدن آن از چه ابعاد خود بود؟
- ۱۵) اقتصاد ایران در دوره ی پهلوی چه آسیب هائی را متحمل شد؟
- ۱۶) چهار مورد از اقدامات در دوره ی پهلوی جهت پیشرفت اقتصاد ایران را ذکر نمایید. آیا این اقدامات توانست ضعف ساختاری آن را برطرف کند؟
- ۱۷) حضور دولت در دوران پهلوی در اقتصاد چگونه بود؟ چه عاملی قدرت اقتصادی دولت در این زمان را افزایش داد؟

۱۸) توضیح دهید؛ نوسازی و توسعه ی اقتصادی ایران در زمان پهلوی به چه صورتی انجام گرفت؟

اقتصاد در قانون اساسی جمهوری اسلامی ایران:

۱۹) در هر کشوری چارچوب کلی نظام اقتصادی، اجتماعی و سیاسی آن را معلوم می کند.

۲۰) اصول ۴۳ تا ۵۵ قانون اساسی از فصل، به عنوان اقتصاد و امور مالی به مسائل اقتصادی پرداخته است.

۲۱) در هر کشوری قانون اساسی مبین چیست؟

۲۲) قوانین و ضوابط در هر جامعه بر چه اساسی تدوین می شوند؟

۲۳) قانون اساسی جمهوری اسلامی در چه سالی و در چه موقعیتی تدوین شده است؟

۲۴) قانون اساسی جمهوری اسلامی ایران در بخش اقتصادی با رعایت کدام خواسته های مردم تدوین شد؟

۲۵) کدام اصول قانون اساسی بیش تر چارچوب کلی نظام اقتصادی مطلوب کشورمان را ترسیم کرده است؟

مقدمه : اقتصاد وسیله است نه هدف

۲۶) در اسلام اقتصاد وسیله است نه هدف. ص غ

۲۷) در اسلام اقتصاد است، اما در مکاتب مادی اقتصاد خود، تلقی می شود.

الف) هدف - وسیله ب) هدف - هدف ج) وسیله - وسیله د) وسیله - هدف

۲۸) در تحکیم بنیان های اقتصادی، اصل، در جریان رشد و تکامل فرد است.

۲۹) عبارت "اقتصاد وسیله است نه هدف" در مقدمه قانون اساسی چگونه تفسیر شده است؟

۳۰) تفاوت نگاه مکاتب مادی بامکتب اسلامی به اقتصاد را بیان کنید. کدام یک اقتصاد را وسیله می داند و کدام یک هدف؟

۳۱) در مقدمه ی قانون اساسی کشورمان برای تحکیم بنیان های اقتصادی چه مطالب اساسی بیان شده است؟

اصل ۴۳ : اقتصاد مردمی و رد سلطه بیگانگان

۳۲) آزادی در انتخاب شغل از مسائل مطروحه در اصل ۴۳ قانون اساسی می باشد. ص غ

۳۳) موضوع اصل ۴۳ قانون اساسی بر چه مسائل اقتصادی بنیان نهاده شده است؟

۳۴) چهار مورد از ضوابط اصل ۴۳ قانون اساسی برای تأمین استقلال اقتصادی و مبارزه با فقر و محرومیت را بیان نمایید.

۳۵) در اصل ۴۳ قانون اساسی برای رسیدن به خودکفائی و رهائی از وابستگی بیش تر بر چه مسائلی تأکید شده است؟

۳۶) سه مورد از معاملات باطل و حرام که در اصل ۴۳ قانون اساسی آمده است را بیان کنید.

۳۷) اصل ۴۳ قانون اساسی برای تأمین شرایط کار برای همگان، چه موارد محوری را مطرح می نماید؟

۳۸) اصل ۴۳ قانون اساسی برای ساعات کار کردن افراد چه شرایطی را مدنظر قرار می دهد؟

اصل ۴۴ : محدوده فعالیت های بخش اقتصادی

۳۹) کدام گزینه مبین تقسیم بندی نظام اقتصادی جمهوری اسلامی ایران بر اساس اصل ۴۴ قانون اساسی می باشد؟

الف) دو بخش تعاونی و عمومی (ب) سه بخش دولتی، تعاونی و تجارت بین الملل

ج) سه بخش دولتی، تعاونی و خصوصی (د) چهار بخش دولتی، تعاونی، بانک ها و تجارت بین الملل

۴۰) نظام اقتصادی ایران بر پایه سه بخش ، و با برنامه ریزی منظم و صحیح استوار است.

۴۱) سه بخش مهمی که نظام اقتصادی ایران طبق اصل ۴۴ قانون اساسی بر پایه ی آن ها استوار است، را نام ببرید.

۴۲) هر یک از سه بخش دولتی، تعاونی و خصوصی اقتصاد، طبق اصل ۴۴ قانون اساسی شامل چه مواردی می شوند؟

۴۳) قانون اساسی طبق اصل ۴۴، مالکیت در سه بخش دولتی، تعاونی و خصوصی در اقتصاد را با چه ضوابطی مورد حمایت قرار می دهد؟

اصل ۴۵ : منابع مالی حکومت برای ایفای وظایف

۴۴) طبق اصل ۴۵ قانون اساسی انفال و ثروت های عمومی در اختیار است.

۴۵) طبق اصل ۴۵ قانون اساسی، حکومت اسلامی برای ایفای وظایف خود از چه منابع مالی برخوردار است؟

۴۶) چهار مورد از انفال و ثروت های عمومی در اختیار حکومت اسلامی را برشمارید.

اصل ۴۶، ۴۷ و ۴۹ : حقوق اقتصادی شهروندان

۴۷) دو اصل قانون اساسی که بیش تر مبین بنیان های حقوق اقتصادی شهروندان و فعالان اقتصادی هستند، کدام اند؟

الف) اصول ۴۳ و ۴۴ (ب) اصول ۴۴ و ۴۵ (ج) اصول ۴۶ و ۴۷ (د) اصول ۴۸ و ۴۹

۴۸) طبق قانون اساسی اگر دولت مالی که از راه غیر قانونی و نامشروع به دست آمده و صاحب آن معلوم نیست را ضبط

کند، آن را باید به چه مصرفی برساند؟

الف) بعد از کسر خمس، به فردی که از او گرفته بدهد. (ب) آن را صدقه بدهد. (ج) به بیت المال بدهد. (د) نگه داشته باشد، شاید صاحب آن پیدا شود.

۴۹) طبق اصل ۴۷ قانون اساسی؛ مالکیت شخصی که از راه باشد، محترم است.

۵۰) در اصول ۴۶ و ۴۷ قانون اساسی، بنیان های حقوق اقتصادی شهروندان و فعالان اقتصادی چگونه مشخص شده است؟

۵۱) در زمینه مبارزه با ثروت اندوزی از روش های غیر قانونی و نامشروع و بازگرداندن این ثروت ها، در اصل ۴۹ چه مطالبی مطرح شده است؟

۵۲) ۴ مورد از راه های ثروت اندوزی از روش های غیر قانونی و نامشروع که اصل ۴۹ بدان ها اشاره دارد را بیان کنید.

اصل : ۴۸ عدالت منطقه ای و استانی

۵۳) اصل ۴۸ قانون اساسی عدالت منطقه ای و استانی را چگونه تشریح کرده است؟

اصل ۵۰: توسعه پایدار و عدالت بین نسلی

۵۴) اصل ۵۰ قانون اساسی به کدام یک از موارد زیر می پردازد؟

الف) مالیه دولت ب) توسعه پایدار و عدالت بین نسلی ج) عدالت منطقه ای و استانی د) حقوق اقتصادی شهروندان

۵۵) در اغلب کشورهای توسعه یافته، پیشرفت اقتصادی به بهای بوده است.

۵۶) در اغلب کشورهای توسعه یافته، پیشرفت اقتصادی به چه بهائی تمام شده است؟

۵۷) چرا جریان توسعه و رشد اقتصادی باید طوری سازماندهی شود که محیط زیست آسیبی نبیند؟

۵۸) پیامد رشد اقتصادی همراه با تخریب محیط زیست چیست؟

۵۹) در اصل پنجاهم قانون اساسی جهت برقراری عدالت بین نسلی و حفظ محیط زیست در جریان توسعه، چه تدبیری اندیشیده شده است؟

اصول ۵۱ تا ۵۵: مالیه دولت

۶۰) اصول ۵۱ تا ۵۵ قانون اساسی به چه مباحثی نمی پردازد؟

الف) دریافت ها و درآمدهای دولت ب) پیشرفت اقتصادی ج) نظارت بر حسن اجرای بودجه د) بودجه

۶۱) اصول ۵۱ تا ۵۵ قانون اساسی به چه مباحث اقتصادی اشاره دارد؟ این مباحث حاوی چه مواردی است؟

دولتی شدن اقتصاد ایران:

۶۲) دلایل ملی شدن و واگذاری تعداد زیادی از کارخانه ها و مؤسسات تولیدی-تجاری در اوائل انقلاب به دولت چه بود؟

الف) شرایط جنگی و ملی شدن برخی کارخانه ها ب) تحریم و علاقه دولت به تصدی کارها

ج) ملی شدن برخی کارخانه ها و خصوصی بودن آن ها د) شرایط جنگی و نبود قانونی روشن

۶۳) دولتی شدن بیش از حد اقتصاد ایران، در پایان حکومت پهلوی و با افزایش شکل گرفت.

۶۴) حضور زیاد و ناخواسته دولت در عرصه اقتصاد در اوایل انقلاب با هدف جلوگیری از و بود.

۶۵) در سال های اول بعد از پیروزی انقلاب به چه دلایلی نقش دولت و حضور آن در اقتصاد افزایش یافت؟

۶۶) دو دلیل افزایش حضور دولت در اقتصاد در سال های بعد از پیروزی انقلاب را بنویسید.

باسمه تعالی

بخش پنجم: اقتصاد جهان و ایران

فصل سوم از بخش: اقتصاد ایران در مسیر پیشرفت

چه تصویری از اقتصاد پیشرفته ایران دارید؟

۱) قوای مقننه و قضائیه نیز در تحقق اهداف اقتصادی نقش ایفا کرده و دارای اهمیت هستند. ص غ
۲) در حال حاضر، تحقق کدام مفاهیم برای تمامی جوامع، هدفی مهم به شمار می رود.
الف) تحقق عدالت و توسعه اقتصادی (ب) تحقق رشد و پیشرفت اقتصادی
ج) تحقق رشد و توسعه اقتصادی (د) تحقق عدالت و پیشرفت اقتصادی
۳) دولت ها به عنوان قوه مجریه کشور با داشتن بودجه و سیاست گذاری و نقش اساسی در برنامه ریزی اقتصادی دارند.

۴) هر یک از قوای مقننه، قضائیه و مجریه چه وظایفی را در تحقق عدالت و پیشرفت اقتصادی برعهده دارند؟

۵) هر یک از قوای سه گانه ی کشور چگونه می توانند در تحقق عدالت و پیشرفت کشور نقش ایفا کنند؟

۶) توضیح دهید؛ آیا نقش دولت ها به عنوان قوه مجریه کشور، به معنای نادیده گرفتن اهمیت دیگر قوای جامعه در تحقق اهداف اقتصادی است؟

حرکت به سوی پیشرفت اقتصادی:

۷) در کدام برهه از عمر انقلاب اسلامی، عزم کشور بر حل مشکلات اقتصادی برجای مانده از زمان پهلوی و بازسازی خرابی های ناشی از جنگ بود؟

الف) دهه ی اول عمر انقلاب

ب) دهه ی دوم عمر انقلاب

ج) دهه ی سوم عمر انقلاب

د) دهه ی چهارم عمر انقلاب

۸) به طور کلی دهه ی سوم انقلاب، سیاست دولت تشویق مردم به فعالیت هر چه بیش تر در عرصه ی اقتصاد و واگذاری کارخانه ها و شرکت های

الف) خصوصی به بخش دولتی بود. ب) دولتی به بخش تعاونی بود.

ج) خصوصی به بخش تعاونی بود. د) دولتی به بخش خصوصی بود.

۹) در دهه ی چهارم انقلاب، شعارهای سال اغلب مضامینی..... داشت.

الف) سیاسی ب) اقتصادی ج) با الگوی اسلامی - ایرانی د) فرهنگی

۱۰) دهه ی انقلاب با عنوان دهه ی عدالت و پیشرفت نام گذاری شد.

۱۱) با تأکید مقام معظم رهبری از ابتدای دهه 80 ، در اولویت مسائل کشور قرار گرفت.

۱۲) برای آغاز جهش اقتصادی و پر کردن عقب ماندگی های بعد از انقلاب، کشور نیازمند چه زیرساخت هائی بود؟

۱۳) سیاست های اقتصادی دولت در دهه ی سوم انقلاب بر چه مبنائی استوار شد و چه نتایجی به همراه داشت؟

۱۴) دشمن بعد از ناکامی در جنگ های نظامی، انتظامی، امنیتی و فرهنگی، به چه سیاستی بر علیه کشور ما روی آورد؟

۱۵) کدام دهه ی انقلاب، به عنوان دهه «عدالت و پیشرفت» معروف شد؟

۱۶) به نظر شما تعیین سیاست های کلی در زمینه اقتصاد توسط مقام معظم رهبری چه تأثیری بر اقتصاد کشور دارد؟

۱۷) در دهه ی دوم عمر انقلاب اسلامی، عزم کشور بر چه پایه هایی استوار بود؟

۱۸) درسند چشم انداز بیست ساله کشور، طرح شعارهای سال، بیش تر چه مضامینی را دنبال می کرد؟

۱۹) دوره سازندگی اقتصادی انقلاب در بعد از جنگ چه ویژگی هائی داشت؟

۲۰) زمینه ی لازم برای افزایش مشارکت و سرمایه گذاری اقتصادی بخش خصوصی در دهه ی سوم انقلاب چگونه

تحقق یافت؟

۲۱) روند خصوصی سازی اقتصاد و پیامد های آن را چگونه ارزیابی می کنید؟

۲۲) به نظر شما آیا خصوصی سازی اقتصاد در هر شرایطی می تواند کشور را به رشد و توسعه ی اقتصادی برساند؟

۲۳) مراعات چه شرایطی را در خصوصی سازی ضروری دانسته و پیشنهاد می کنید؟

۲۴) در دهه ی چهارم انقلاب در طراحی و معماری اقتصادی نوین و پیشرفته، چه اقداماتی صورت گرفت؟

۲۵) از دهه چهارم انقلاب با چه عنوانی یاد شد؟ چند نمونه از خط مشی های راهبردی در این برهه را بنویسید.

۲۶) چند نمونه از مشکلات و موانع اقتصادی در بعد از انقلاب، که از دوران قاجار و پهلوی برجای مانده بود را بنویسید.

اولویت های اقتصادی سال:

۲۷) شعار سال، در واقع نشان دهنده است که در آن سال از بیشترین اولویت برخوردار است.

الف) سند تحولی (ب) تحول بنیادینی (ج) نقشه جامع علمی (د) گفتمان و راهبردی

۲۸) این عبارت «تلاش خالصانه بیشتر و بهتر» بیانگر مفهوم کدام شعار سال را در طی سال های ۸۲-۷۰ را می رساند؟

الف) صرفه جویی (ب) جهاد اقتصادی

ج) انضباط اقتصادی و مالی (د) مجاهدت عمومی برای سازندگی کشور

۲۹) از جمله آثار مطلوب توجه به « تولید ملی » بر اقتصاد کشور می باشد.

الف) افزایش درآمد دولت (ب) افزایش اشتغال و کاهش تورم

ج) شکوفایی اقتصاد کشور (د) همه موارد صحیح است.

۳۰) در ابتدای هر سال با توجه به مهم ترین و اصلی ترین مسائل کشور، یک به پیشنهاد نخبگان کشور و توسط مقام معظم رهبری تعیین می شود.

۳۱) استفاده از محصولات ایرانی نشان دهنده ی و ما نسبت به آنها است.

۳۲) منظور از جهاد اقتصادی چیست؟

۳۳) طرح شعار سال توسط مقام معظم رهبری در واقع نشان دهنده چیست؟

۳۴) در سال های ۱۳۹۰ و ۱۳۹۱ به ترتیب بر چه شعارهایی تأکید شده است؟

۳۵) استفاده از محصولات ایرانی نشان دهنده ی چیست؟

۳۶) توجه به « تولید ملی » چه آثار مطلوبی بر اقتصاد کشور دارد؟

۳۷) سه مورد از شعارهای اقتصادی سال های قبل تاکنون را نام ببرید.

ریل گذاری اقتصاد:

۳۸) مفهوم «ریل گذاری اقتصادی» را بیان نمائید.

۳۹) چهار نمونه از سیاست های کلی اقتصادی کشور که توسط مقام معظم رهبری ابلاغ شده است را بنویسید.

چشم انداز اقتصاد:

۴۰) بیش تر کشورها هماهنگی بین نخبگان، مردم و فعالان اقتصادی را با به دست می آورند.

۴۱) وضعیت اقتصادی کشور در افق سال ۱۴۰۴، طبق سند چشم انداز ۲۰ ساله کشور، چگونه توصیف شده است؟

۴۲) در سند چشم انداز ۱۴۰۴، چه تصویری از اقتصاد ایران ارائه شده است؟

۴۳) در بیش تر کشورها، هماهنگی بین نخبگان، مردم و فعالان اقتصادی چگونه حاصل می شود؟

اقتصاد مقاومتی ضامن پیشرفت:

- (۴۴) برای تداوم پیشرفت اقتصادی، علاوه بر به عنوان عنصر اساسی پیشرفت، مقاوم سازی اقتصاد و آسیب ناپذیری آن از فشارها و تکانه های مختلف الزامی است.
- الف (ریاضت اقتصادی ب) تولید ملی ج) ارتقای توان تولید د) صرفه جویی
- (۴۵) برای تداوم پیشرفت اقتصادی، علاوه بر ارتقای توان تولید به عنوان عنصر اساسی پیشرفت، و آسیب ناپذیری آن از فشارها و تکانه های مختلف الزامی است.
- (۴۶) اقتصاد ایران در یک صدسال اخیر به ویژه بعد از انقلاب اسلامی، همواره از سوی دشمنان دچار آسیب و بوده است.
- (۴۷) تضمین کننده عزت و پیشرفت کشور در بلندمدت و رفع کننده مشکلات جاری در کوتاه مدت است.
- (۴۸) اقتصادی است؛ پیشرفته، مردمی و دانش بنیان که در برابر تهدیدات و تکانه های داخلی و بیرونی آسیب ناپذیر است.
- (۴۹) در نگاه اقتصاد مقاومتی،، منبعی درونی و پایان ناپذیر است.
- (۵۰) در نگاه اقتصاد مقاومتی به برون گرایی؛ صادرات محصولات با ارزش افزوده ی بالا به کشورهای جهان با اولویت و مدنظر است.
- (۵۱) فراگیر شدن دانش در تمام سطوح تولیدی و به کارگیری آن توسط تمامی تولید کنندگان، و را به ارمغان می آورد.
- (۵۲) در اقتصاد مردمی، زمینه ساز افزایش مشارکت مردم در اقتصاد است.
- (۵۳) برنامه ریزی مناسب برای مقاوم سازی اقتصاد، مستلزم در همه ابعاد است.
- (۵۴) همان طور که لازم است انسان در مقابل بیماری ها واکسینه شود، اقتصاد کشور نیز باید در برابر تمهیدات لازم را بیندیشد.
- (۵۵) اقتصادهای همانند گیاهان و درختان تک ریشه، مقاومت و ماندگاری کمتری دارد و به راحتی از جای کنده می شود.
- (۵۶) اقتصاددانان معمولاً با چه اصطلاحاتی «مسئله مقاوم سازی» اقتصاد را پیگیری و اجرا می نمایند؟ (۴ مورد)
- (۵۷) به طور کلی، سند ارائه شده ی اقتصاد مقاومتی برای کشور ما، حاوی چیست؟
- (۵۸) مفهوم اقتصاد مقاومتی را توضیح دهید.
- (۵۹) چهار مورد از مؤلفه های اقتصاد مقاومتی را نام ببرید.
- (۶۰) توضیح دهید؛ منظور از اصطلاح درون زائی در اقتصاد مقاومتی چیست؟

- ۶۱) توضیح دهید؛ چرا عوامل اصلی تولید کشور جهت پیشرفت، باید از درون خود کشور نشأت بگیرد؟
- ۶۲) سرمایه گذاری خارجی در چه صورتی می تواند به پیشرفت کشور کمک کند؟ چرا؟
- ۶۳) اگر رشد اقتصادی منبع درونی نداشته باشد، چه سرانجامی در انتظارش خواهد بود؟
- ۶۴) نگاه اقتصاد مقاومتی به برون گرایی و ارتباط با کشورهای خارجی در تجارت چگونه و بر چه اساسی است؟
- ۶۵) توضیح دهید؛ چگونه مدیریت مصرف و بهره وری حداکثری می تواند موجب مقاوم سازی اقتصاد شوند؟
- ۶۶) اهمیت مولد بودن و فرصت سازی در پیشرفت اقتصادی را بیان نمایید.
- ۶۷) توضیح دهید که اقتصاد دانش بنیان چه مزایا و محاسنی به همراه دارد؟
- ۶۸) توضیح دهید؛ به چه اقتصادی، اقتصاد مردمی اطلاق می شود؟
- ۶۹) «اقتصاد مردمی» در حوزه مؤلفه های اقتصاد مقاومتی چگونه توصیف شده است؟
- ۷۰) توزیع عادلانه ثروت و درآمد در اقتصاد مقاومتی، چه نتایجی می تواند به همراه داشته باشد؟
- ۷۱) چگونگی «مقاوم سازی در برابر فشارها و تهدیدات» به عنوان یکی از مؤلفه های اقتصاد مقاومتی را توضیح دهید.
- ۷۲) نقش توان تحریم شکنی را به عنوان یکی از «مؤلفه های اقتصاد مقاومتی» توضیح دهید.
- ۷۳) چه عاملی در اقتصاد مقاومتی می تواند باعث شود که دشمنان از تحریم اقتصادی علیه کشور ما دست بردارند؟
- ۷۴) سه مورد از عواملی که به تنوع منابع درآمدی کشور کمک می کنند را نام ببرید.
- ۷۵) در اقتصاد مقاومتی چگونه و از چه راه هایی می توان از اتکای بودجه به درآمدهای نفتی کاست؟
- ۷۶) به نظر شما در اجرائی کردن اقتصاد مقاومتی توجه به چه مؤلفه ای، ضروری تر از بقیه می باشد؟ با برهان از پاسخ خود دفاع کنید.
- ۷۷) جهت نیل به اقتصاد مقاومتی، شما چه راهکارهایی را پیشنهاد می نمایید؟ (ذکر چهار مورد)



- دانلود گام به گام تمام دروس ✓
- دانلود آزمون های قلم چی و گاج + پاسخنامه ✓
- دانلود جزوه های آموزشی و شب امتحانی ✓
- دانلود نمونه سوالات امتحانی ✓
- مشاوره کنکور ✓
- فیلم های انگیزشی ✓

 www.ToranjBook.Net

 [ToranjBook_Net](https://t.me/ToranjBook_Net)

 [ToranjBook_Net](https://www.instagram.com/ToranjBook_Net)