

تلاشی در مسیر معرفت



- دانلود گام به گام تمام دروس ✓
- دانلود آزمون های قلم چی و گاج + پاسخنامه ✓
- دانلود جزوه های آموزشی و شب امتحانی ✓
- دانلود نمونه سوالات امتحانی ✓
- مشاوره کنکور ✓
- فیلم های انگیزشی ✓

 www.ToranjBook.Net

 [ToranjBook_Net](https://t.me/ToranjBook_Net)

 [ToranjBook_Net](https://www.instagram.com/ToranjBook_Net)



افراد یک محله باید باهم همدلی و همکاری داشته باشند.

همکاری در دین اسلام به محبت و توجه تاکید شده است.

در محله علاوه بر ایجاد صمیمیت باعث بهتر پیش رفتن کار می شود.

تعاون در محله

کارهایی مثل : کمک به همسایه جدید ، عیادت از همسایه بیمار ، همکاری در نظافت محله، همکاری در جشن، تعاون در محله را نشان می دهند.

سوالات درس

کدام یک از موارد زیر مصداق تعاون نیست؟

۴- امر به معروف و نهی از منکر

۳- رانندگی کردن

۲- عیادت از بیمار

۱- هدیه دادن

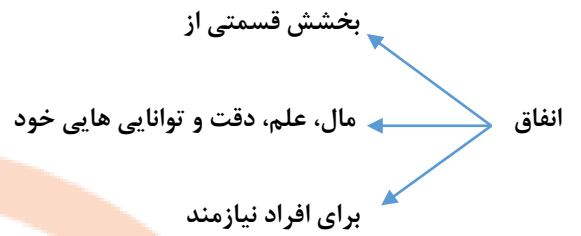
تعاون در چه سطوحی از زندگی ما صورت می گیرد؟

آیا ما می توانیم اعمال و رفتار و زندگی خود را از دیگران جدا کنیم؟

جدول را کامل کنید:

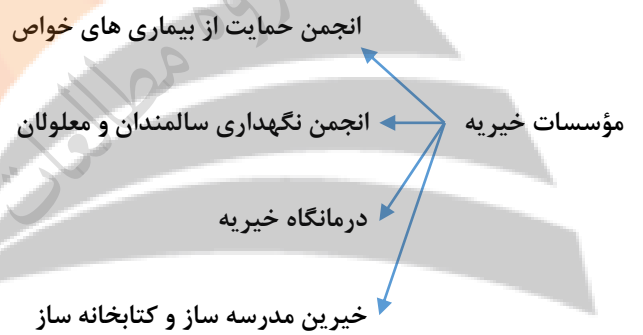
جلوه های تعاون	اثرات تعاون
	در خانواده:..... در محله:.....

تلاشی در مسیر موفقیت

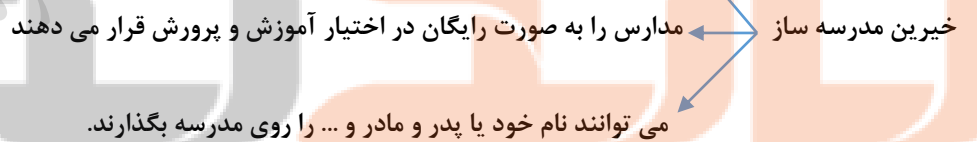


نکته: افراد نیکوکار، در قالب مؤسسات خیریه مردم نهاد، به دیگران کمک می کنند.

نکته: مجوز از وزارت کشور گرفته می شود

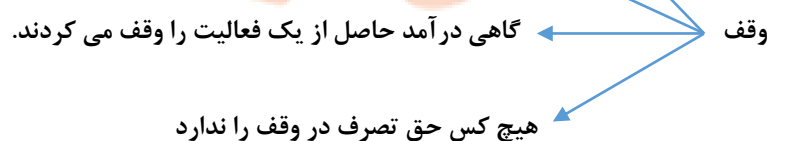


با توجه به توانایی خود، اقدام به تعمیر بازسازی یا تأسیس مدرسه می کند



یکی از اقدامات خوب برای انفاق و تعاون وقف است

وقف از روزگاری قدیم در ایران وجود داشت. مثل: مدارس علمیه، پل، کاروانسراها، حمام های عمومی



نکته: به اموال و دارایی هایی که وقف می شود می گویند موقوفات

۱. گروهی از مردم برای رفع نیازهای شغلی و شخصی دور هم جمع می شوند.
۲. یک شرکت تعاونی حداقل ۷ عضو دارد را تشکیل می شود .
۳. همه در سود و زیان هم شریک هستند.
۴. هر کس حق دادن رأی را دارد برعکس شرکت های خصوصی
۵. همه افراد به صورت داوطلبانه هدف مشترکی دارند.
۶. اعضاء از بین خود یک هیأت مدیر انتخاب می کنند.
۷. برای حل مشکلات اقتصادی و زندگی بهتر جمع شده اند.

سوالات درس

گاهی افراد..... در قلب سازمان های مردم نهاد و خیریه به یاری نیازمندان یا حل برخی از مشکلات جامعه می پردازند.

مادر زهرا می خواهد تعدادی از کتاب های کتابخانه شخصی خود را وقف کند. او کتاب ها را به مسجد محله برده و وقف کتابخانه مسجد می کند:

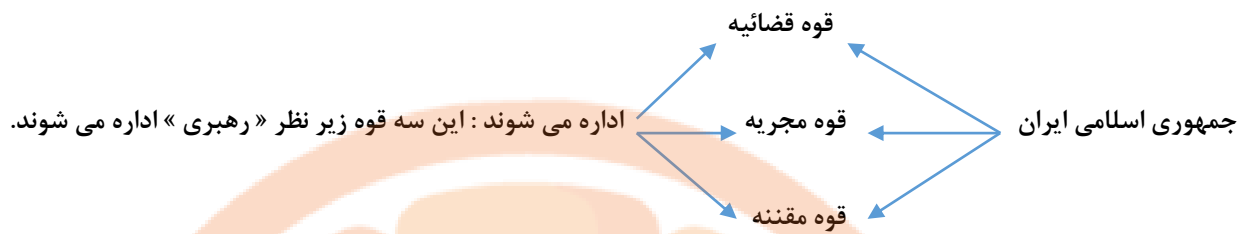
الف) به کتاب هایی که مادر زهرا وقف کرده است چه می گویند؟

ب) به مادر زهرا چه می گویند؟

ج) چه شرایطی بر آن کتاب ها واقع است؟

گاهی افراد نیکوکار جهت یاری نیازمندان در قالب سازمان ها اقدام به حل برخی از مشکلات جامعه می کنند. به این سازمان ها چه می گویند؟

تفاوت اعضای شرکت های تعاونی و غیرتعاونی در حق رای و تصمیم گیری چیست؟



دولت و سازمان های وابسته به دولت است

قوه مجریه

- رئیس قوه مجریه: همان رئیس جمهور است بعد از رهبری مهمترین مقام است.
- کار قوه مجریه: اجرای قانون اساسی و قوانین مصوب مجلس است

چگونگی انتخاب رئیس جمهور:

۱- رئیس جمهور برای مدت ۴ سال با رأی مردم انتخاب می شود.

۲- بعد از ۴ سال می تواند به صورت متوالی، ۴ سال دیگر نیز انتخاب شود، با رأی مردم

۳- کسانی که شرایط ریاست جمهوری دارند باید شورای نگهبان آنها را تأیید یا رد کنند.

۴- بعد از صلاحیت، تبلیغات شروع می شود، صدا و سیما، روزنامه، مجلات و ...

۵- همه کسانی که تبعه‌ی ایران هستند حتی خارج از کشور و بالای ۱۸ سال دارند می توانند رأی دهند.

بعد از اینکه رئیس جمهور، حداکثر رأی را آورد

تنفیذ

- حکم او توسط رهبری امضاء می شود، تأیید می شود.
- به این مرحله تنفیذ می گویند

رئیس جمهور در مجلس شورای اسلامی

در مقابل شورای نگهبان و قضایه

تحلیف

- در پیش گاه قرآن، سوگند می خورند، وظایف را به درستی انجام دهند.
- رئیس جمهور در مقابل دولت، مردم و رهبر و مجلس شورا مسئول است.

رئیس جمهور افرادی را به عنوان معاون و وزیر به مجلس معرفی می کند.

هیئت دولت عبارتند از رئیس جمهور وزیران و معاونان

تشکیل کابینه نمایندگان مجلس درباره صلاحیت افراد صحبت کرده و رأی گیری می کنند.

این افراد در برابر نماینده ها برنامه های خود را ارائه می دهند.

اگر نمایندگان مجلس رأی موافق (اعتماد) بدهند، به عنوان معاون یا وزیر انتخاب می شوند.

نکته: به محل کار وزیران، وزارتخانه می گویند

نکته: مقر هیئات دولت و وزارتخانه در تهران است

سوالات درس

هر وزیر مسئول یک..... است.

در جمله زیر یک عبارت نادرست به کار رفته آن را اصلاح کنید:

رئیس قوه قضائیه بر فعالیت های دولت نظارت می کنند و حق سوال کردن از رئیس جمهور را دارند.

رئیس جمهور ایران در مقابل چه کسانی مسئول است؟

سه مورد از روش های تبلیغاتی داوطلبان ریاست جمهوری را بنویسید.

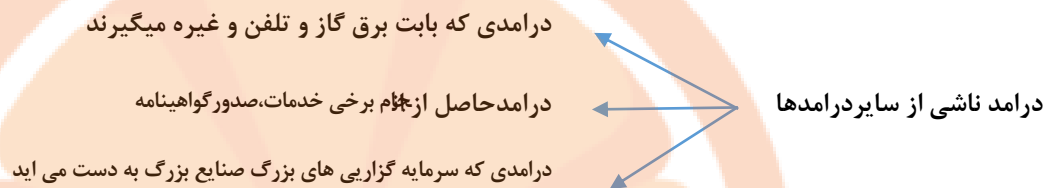
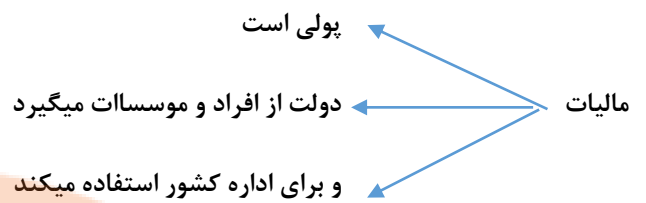
کشور جمهوری اسلامی ایران چگونه اداره می شود؟

نمودار زیر را کامل کنید:

ساختار حکومت جمهوری اسلامی ایران

--	--





سوالات درس

من به عنوان یک شهروند ایرانی از خدمات دولت ایران که در زمینه‌های مختلف ارائه میشود بهره‌مند هستم و با آزادی بیان در انتخابات به اظهار نظر می‌پردازم و در هنگام جنگ از کشور دفاع می‌کنم. با توجه به متن:

الف) دو مورد از حقوق شهروندی را بنویسید.

ب) دو مورد از مسئولیت‌های شهروندی را بنویسید.

سه مورد از وظایف رئیس‌جمهور را بنویسید.

دولت در زمین‌های مختلف فعالیت می‌کند، سه مورد را بنویسید.

تعریف بودجه به زبان ساده را روی شکل مقابل نشان دهید.

بودجه

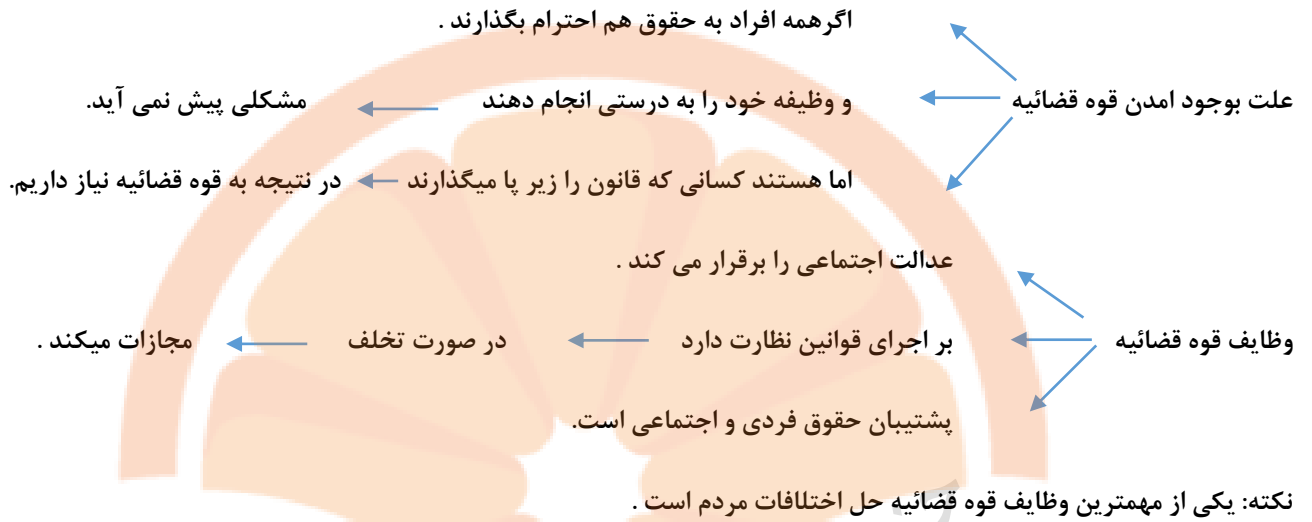




رفتار پرخاشگرانه ممکن است به چه شکل هایی بروز دهد؟ (سه مورد)

پرخاشگری، نزاع و اعتیاد جزو..... اجتماعی است.

نکته: قانون از همه مردم حمایت میکند و همه در برابر قانون مساوی هستند.



به مدت ۵ سال از سوی رهبری انتخاب میشود.

مشخصات رئیس قوه قضائیه ← باید فردی آگاه، عادل، مدیر، مجتهد باشد.

ابتدا باید به صورت مسالمت آمیز موضوع را حل کنند.

مراحل حل اختلافات مردم ← در صورتی که موضوع حل نشد به بزرگترها و ریش سفیدها مراجعه کنند.

در صورت حل نشدن به شورای حل اختلاف محله مراجعه کنند.

وقتی از هیچ کدام نتیجه نگرفتند به قوه قضائیه مراجعه کنند.

کیفری: اعمالی که دادگاه مجازات تعیین میکند.

انواع دعاوی (اختلافات)

حقوقی: اعمالی که مجازات ندارند اما فرد را موظف میکنند که به تکالیف خود عمل

کند و خسارت بپردازد

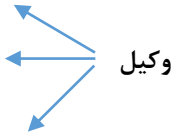
خواهان (شاکی) ← کسی که شکایت می کند.

خوانده (متهم) ← کسی که از او شکایت شده باشد

در رشته حقوق در خواند باشد .

به قانون مسلط باشد .

پروانه وکالت یا وکالت نامه داشته باشد



نکته: در دادگاه ها همه حق دارند وکیل داشته باشند

سوالات درس

کدام نهاد مسئول برقراری عدالت اجتماعی در جامعه است؟

یکی از مهم ترین وظایق قوه قضائیه..... است

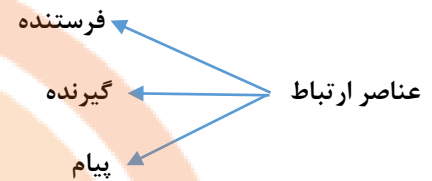
در جمله زیر یک عبارت نادرست به کار رفته آن را اصلاح کنید:

دعاوی کیفری مربوط به اعمالی است که دادگاه مجازاتی تعیین نمی کند بلکه افراد را ملزم می کند که تکالیفشان را انجام دهند.

نشانچه بوک

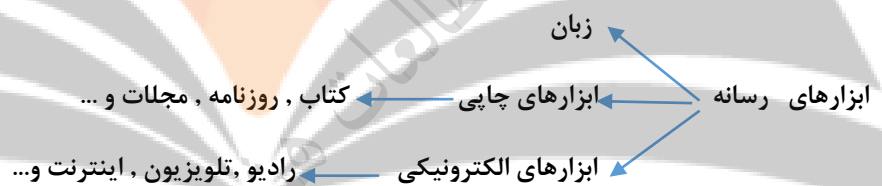
تلاشی در مسیر موفقیت

نکته: ارتباط یکی از نیازهای مهم انسان است

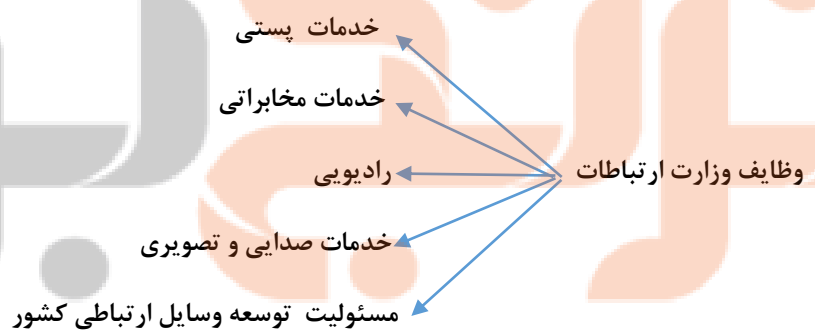


بازخورد: اگر گیرنده پیامی به فرستنده بدهد و فرستنده را متوجه کند پیام او را دریافت کرده است به این عمل بازخورد می گویند

رسانه: وسیله ای است که پیام را از فرستنده به گیرنده انتقال می دهد رسانه نام دارد



نکته: در ایران مسئولیت رسانه مربوط به وزارت ارتباطات و فناوری است



سوالات درس

لیلا نیز مانند بسیاری از مردم ایران از طریق شبکه اجتماعی Instagram به ملاقات صفحه رهبری رفته و با نوشتن دعای خیر، سلامتی ایشان را از درگاه خداوند خواستار شده و میزان عشق و علاقه خود به ایشان ابراز کرد. مقام رهبری از طریق صدا و سیما از مردم تشکر کردند.

ج) پیام چه می باشد؟

الف) گیرنده پیام کیست؟

د) بازخورد این پیام چیست؟

ب) فرستنده پیام کیست؟



سوالات درس

جدول زیر را کامل کنید:

اثرات مثبت ارتباط جمعی	اثرات منفی ارتباط جمعی
۱-	۱-
۲-	۲-
۳-	۳-



نکته: وقتی آزار و اذیت مشرکان زیاد شد ← پیامبر از مسلمانان خواست به حبشه هجرت کنند.

وقتی مشرکان از آزار مسلمانان نتیجه ندیدند.
تحریم اقتصادی و اجتماعی ← مسلمانان را تحریم کردند ← اقتصادی ، خرید و فروش اجتماعی و ازدواج
مسلمانان به پیشنهاد ابوطالب به در شعب ابوطالب رفتند ← ۳ سال

نکته: گروهی از مردم که مال و احوال خود را در مکه رها کردند و با پیامبر به مدینه آمدند. (مهاجرین)

نکته: گروهی از مردم یثرب که با پیامبر پیمان بستند و او را یاری کردند. (انصار: یاری کنندگان)

تاسیس مسجد
اقدامات پیامبر پس از ورود به مدینه ← پیمان برادری به جای تعصب قومی
پیمان سیاسی
جنگ های پیامبر

نخستین اقدام پیامبر بود. اهمیت عبادی به جای عبادت
تاسیس مسجد ← اهمیت سیاسی: مشورت ها و تصمیم های مهم در مسجد گرفته می شود
پناهگاه افراد تهیدست بود
علمی: محلی که در آنجا خواندن و نوشتن یاد می دادند

مسلمانان پیامبر (انصار و مهاجرین) از قبیله های مختلف بودند.
پیمان برادری به جای تعصب قومی ← پیامبر به جای پیمان قبیله ای آنها را دو به دو برادر کردند. امام علی برادر پیامبر شد
این کار پیامبر گامی در جهت تشکیل امت اسلامی بود.

علاوه بر مسلمانان، قبایل یهودی در مدینه بودند.
پیمان سیاسی ← پیامبر بین مسلمانان و یهودیان اتحاد سیاسی برقرار کرد.
ندوین و امضای پیمان نامه گامی برای تشکیل حکومت اسلامی بود.

جنگ های پیامبر ← جنگ هایی که پیامبر در آنها حضور داشتند ← غزوه
جنگ هایی که پیامبر در آنها حضور نداشتند ← سریه
پیامبر برای کشورگشایی و غنیمت نمی جنگید بلکه برای هدایت مردم جهان می جنگیدند

سوالات درس

در مورد عصر جاهلیت در عربستان به سوالات زیر پاسخ دهید:

الف) به چه دوره زمانی اطلاق می شود؟

ب) علت درگیری های قبیله ای و رواج غارتگری در بین قبایل چه بود؟

پیامبر در آغاز ورود به مدینه مسلمانان را دو به دو با یکدیگر برادر اعلام کرد:

الف) این اقدام پیامبر به چه منظوری صورت گرفت؟

ب) چه نتیجه ای برای مسلمانان داشت؟

پیامبر اکرم همواره مسلمانان را به آموختن علم توصیه می کردند، ایشان در آغاز ورود به مدینه برای گسترش علم و دانش در بین مسلمانان چه کردند؟

پیمان نامه سیاسی بین مسلمانان و قبایل..... اطراف مدینه بسته شد.

دو ایستگاه مهم تجاری عربستان چه شهر هایی بودند؟

در رابطه با شبه جزیره عربستان نمودار زیر را کامل کنید:

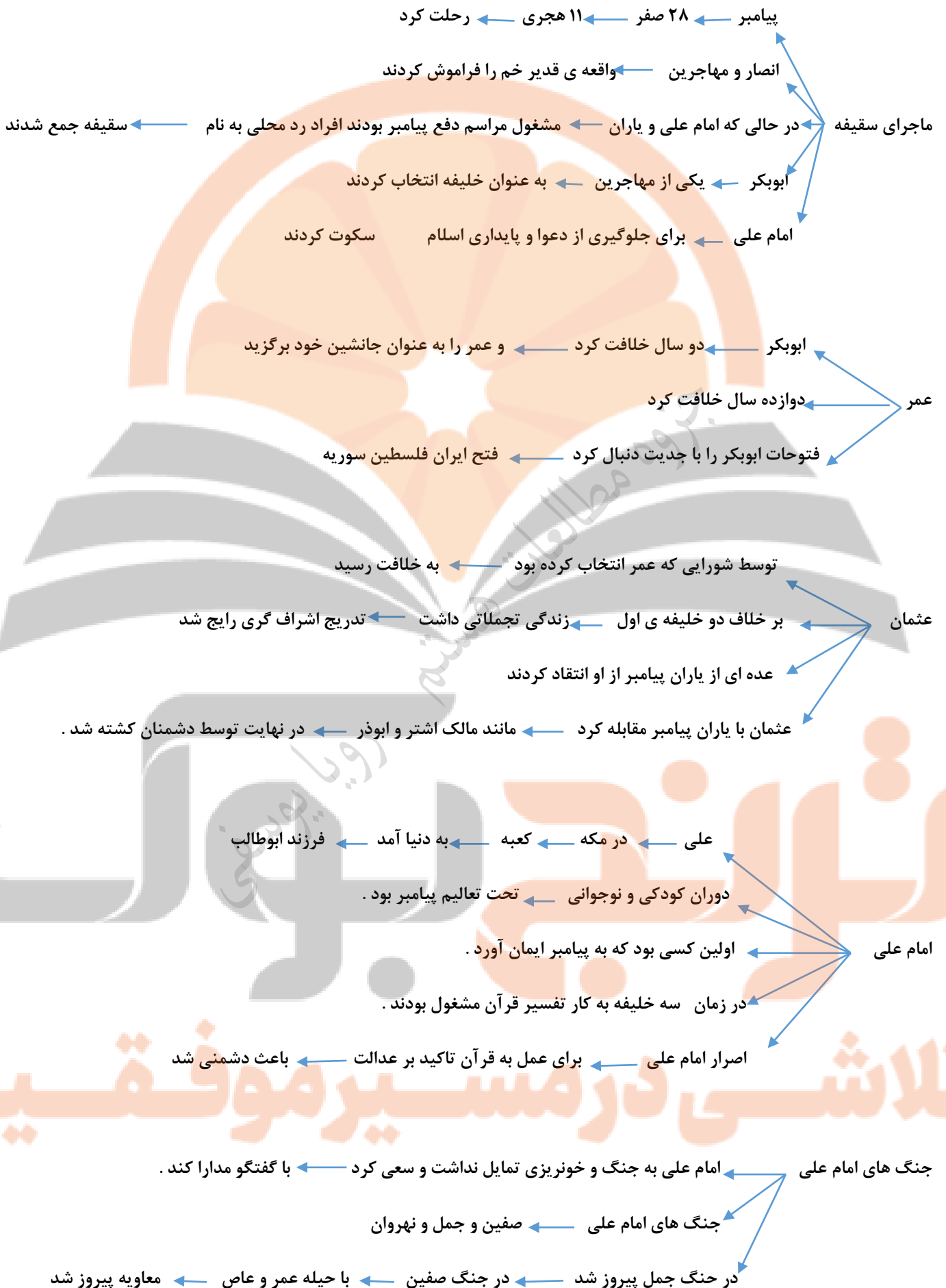
نام دیگر شبه جزیره عربستان

در کدام قسمت آسیا واقع شده است

دو شهر مهم شبه جزیره

شبه جزیره عربستان

تلاشی در مسیر موفقیت



نکته: امام علی ۵ سال خلافت کرد ← مرکز خلافت را از مدینه به کوفه انتقال داد

ساده زیستی و مقابله با اشراف

تاکید بر عدالت

برگزیدن افراد صالح به حکومت

مدارا با مخالفان

ویژگی های و دستاوردهای

حکومت امام علی

همراه با فتوحات ثروت ها زیاد شد

در نتیجه ثروت اندوزی رواج پیدا کرد

امام علی با صحبت های خود مردم را ← با ارزش های دینی و ساده زیستی آشنا کرد

ساده زیستی

همه ی مسلمانان از حقوق یکسان برخوردار بودند

امام علی بین عرب و غیر عرب در تقسیم بیت المال فرقی نمی گذاشت

تاکید بر عدالت

افراد بر اساس لیاقت برای حکومت ولایات انتخاب می شوند.

ولایات معاویه شرط بیعت با علی را حکومت مصر و شام گذاشت ولی امام علی نپذیرفت

انتخاب افراد صالح برای حکومت

امام علی از انتقاد مخالفان ناراحت نمی شد

تنها زمانی با آن ها برخورد می کرد که دست به شمشیر می بردند

امام علی ← ۲۱ رمضان ← ۴۰ هجری ← به شهادت رسید

مردم همه با امام حسن بیعت کردند ← معاویه بیعت نکرد

معاویه برای جنگ با امام حسن لشکر کشی کرد ← امام حسن خواستار جنگ شد

معاویه با وعده ثروت و مقام ← یاران امام حسن را فریب داد

امام حسن وقتی دید یارانش قصد چنگ ندارند ← مجبور شد حکومت را به معاویه دهد

امام حسن

نکته: معاویه در شام به خلافت رسید

انسان سیاستمدار و فریبکاری بود

اشخاص با نفوذ را با پول و مقام می خرید ← عمرو عاص

فرزندش یزید را جانشین خود اعلام کرد

معاویه حکومت را موروثی کرد

معاویه

با شهادت امام حسن، امام حسین با نامه ها و سخنرانی های افشاگرانه، به مبارزه با معاویه پرداخت

زمینه های قیام کربلا ← امام حسین با یزید بیعت نکرد با خانواده بستگان و یاران به طرف مکه رفت

امام حسین تصمیم داشت در خانه ی خدا و مراسم حج مردم را برای مبارزه با یزید آماده کند

نیم قرن از رحلت پیامبر جامعه اسلامی دچار انحراف شده بود

دستاوردهای قیام کربلا ← قیام بزرگی مثل کربلا و قیام امام حسین و یارانش می توانست اسلام را انحراف نجات دهد

هدف قیام کربلا از زبان امام حسین ← هدف من اصلاح امت جدم

← امر به معروف و نهی از منکر

← پیاده کردن سیره امام علی است

نکته: حضرت زینب با سخنرانی های خود بعد از کربلا، یاد کربلا را زنده نگه داشت

سوالات درس

معاویه در جنگ هایی که با امام علی و امام حسن داشت توانست با به کار بردن نیرنگ سپاه خود را از شکست نجات دهد، او در هر یک از این جنگ ها از چه روشی استفاده کرد؟

الف) جنگ با امام علی:

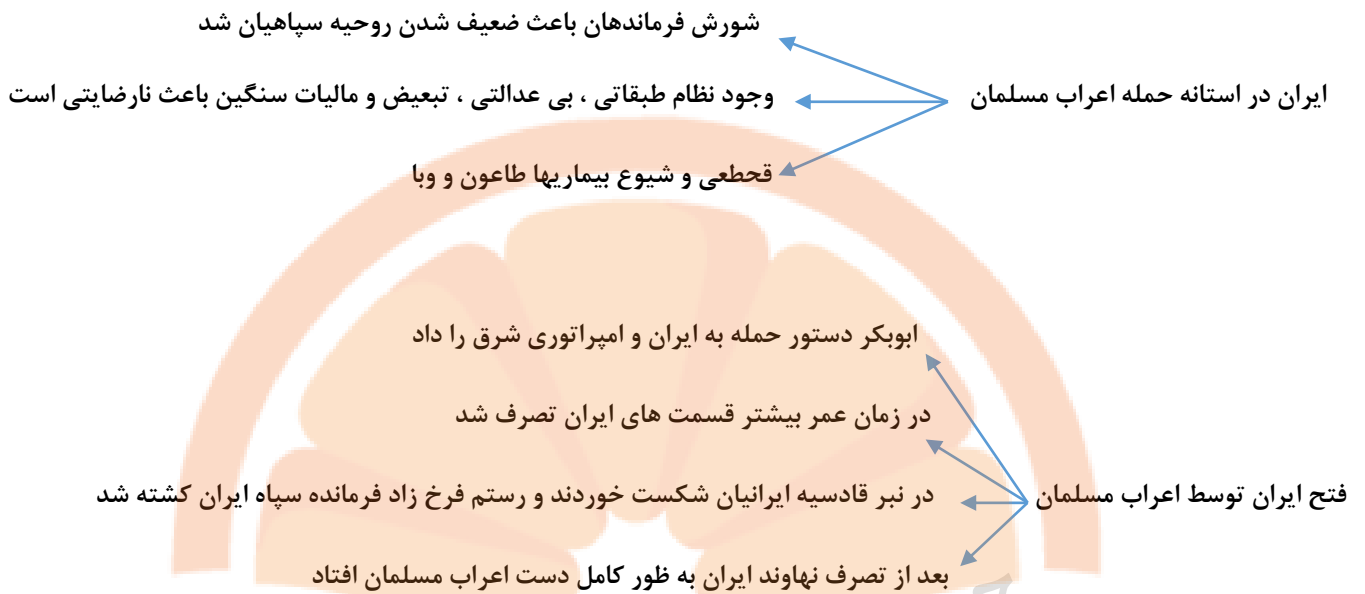
جنگ با امام حسن:

نقش حضرت زینب بعد از شهادت برادرش چه بود؟

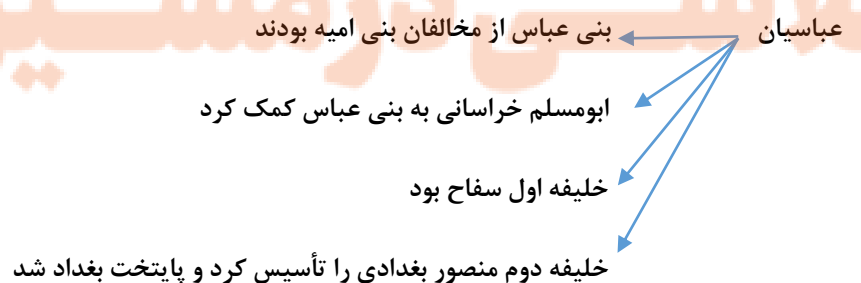
با توجه به ویژگی های حکومت امام علی گزین های سمت راست را به عبارت های مناسب سمت چپ وصل کنید:

الف) در حکومت امام علی همه از حقوق برابر برخوردار بودند	۱- ساده زیستی و مقابله با اشرف گری
ب) امام از انتقاد مخالفان ناراحت نمی شد	۲- تاکید بر عدالت
ج) امام به افراد ناصالح و ستمگر مقامی نمی دادند	۳- برگزیدن افراد صالح به حکومت ولایات
د) امام علی با زندگی بدون تجملات الگوی خوبی برای دیگران بود	۴- مدارا با مخالفان
و) امام علی هیچ گونه تمایلی به جنگ میان مسلمانان نداشت	

چه عاملی باعث کشته شدن خلیفه سوم شد؟



آخرین پادشاه ایران: یزدگرد سوم بود در جنگ نهاوند فرار کرد و به دست آسیابان مروی کشته شد.



ظلم و ستم آنها مثل امویان بود
 منصور ابوالمسلم را به قتل رساند
 در این دوره ایرانیان به مقام های حکومتی و بزرگ منصوب می شدند
 بر خورد عباسیان با ایرانیان
 برمکیان خاندان ایرانی بود
 آنها عهده دار وزارت و حکومت ولایات بودند
 به دستور هارون به قتل رسیدند

نخستین ایرانی مسلمان ← سلمان فارسی

مردم ایران باستان یکتا پرست بودند
 مسلمان شدن ایرانیان
 پیام اسلام برابری و برادری عبور برای ایرانیان جذابیت داشت
 امام علی هیچ امتیازی بین اعراب و غیر اعراب در نظر نمی گرفت
 بخاطر همین ایرانیان به او فرزندان ارادت داشتند

سوالات درس

ابومسلم خراسانی با شکست امویان..... را از خاندان عباسیان به خلافت رساند.

کدام خلیفه فرمان حمله به مرزهای حکومت ساسانیان و امپراتوری روم شرقی را صادر کرد؟

در جمله زیر یک عبارت نادرست به کار رفته است آن را اصلاح کنید:

خلیفه دوم عباسی، سفاح شهر بغداد را بنا کرد و آن را مرکز خلافت عباسیان قرار داد.

در جمله زیر یک عبارت نادرست به کار رفته آن را پیدا کنید:

ابومسلم خراسانی در کوفه به خونخواهی اما حسین و یارانش قیام کرد.

در زمان کدام خلیفه بیشتر سرزمین ایران به تصرف اعراب درآمد؟

فرمانده ایران در جنگ نهاوند چه کسی بود؟

فرمانده ایران در جنگ قادسیه چه کسی بود؟

نکته: خلافت عباسی یک قرن دوام داشت.





سوالات درس

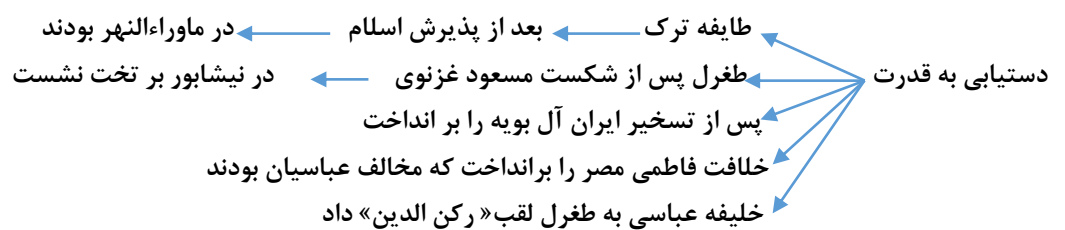
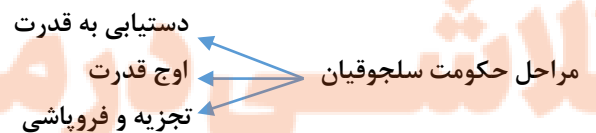
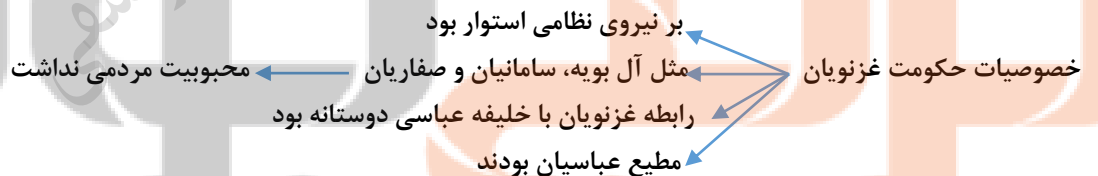
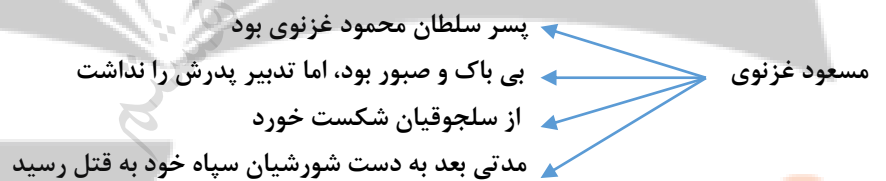
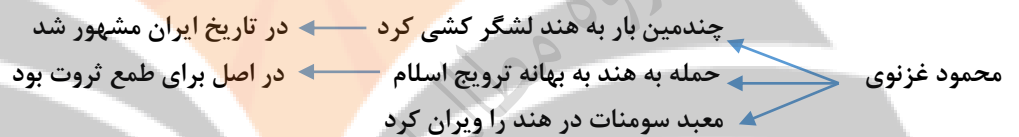
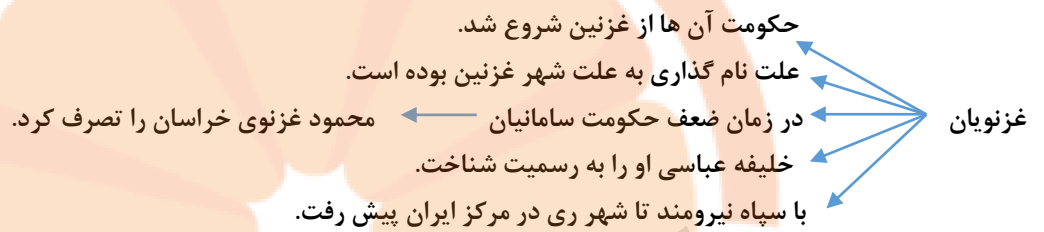
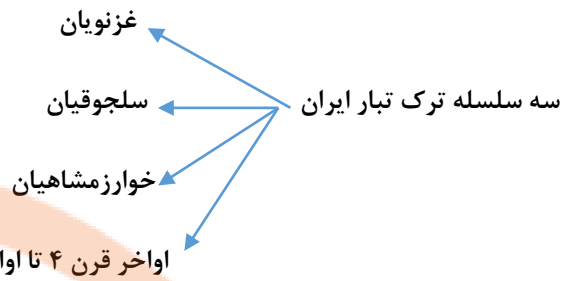
گزینه های مناسب را به هم وصل کنید:

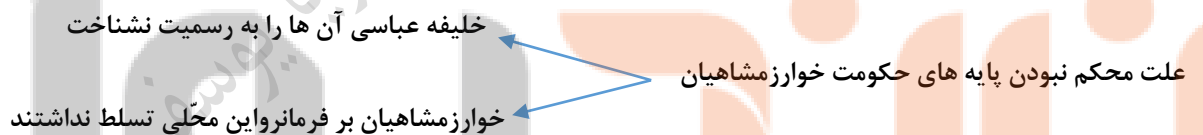
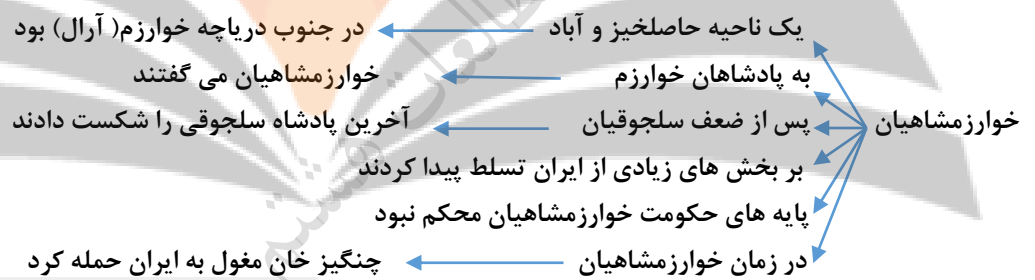
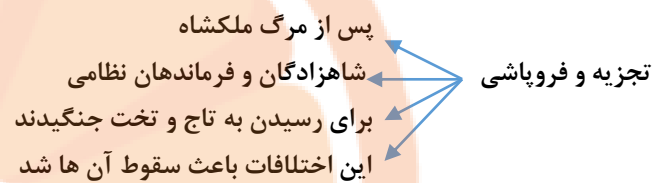
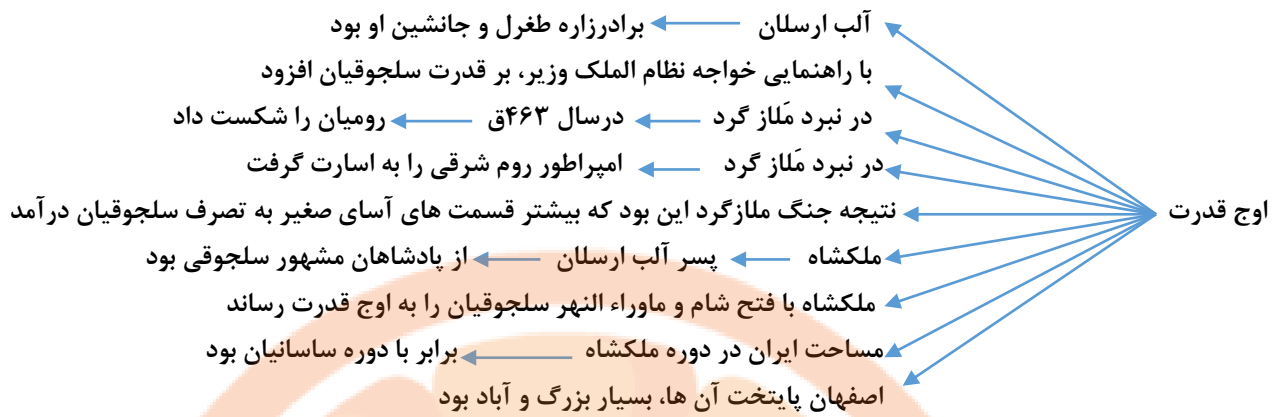
نام سلسله	نام موسس
۱- علویان	الف) امیر اسماعیل
۲- سامانیان	ب) یعقوب لیث
۳- صفاریان	ج) طاهر ذوالیمینین
۴- طاهریان	

در جمله زیر یک عبارت نادرست قرار داده شده آن را اصلاح کنید:

امیر اسماعیل ساسانی موسس سلسله سامانیان با پشتیبانی مردم سیستان به حکومت رسید.

تلاشی در مسیر موفقیت

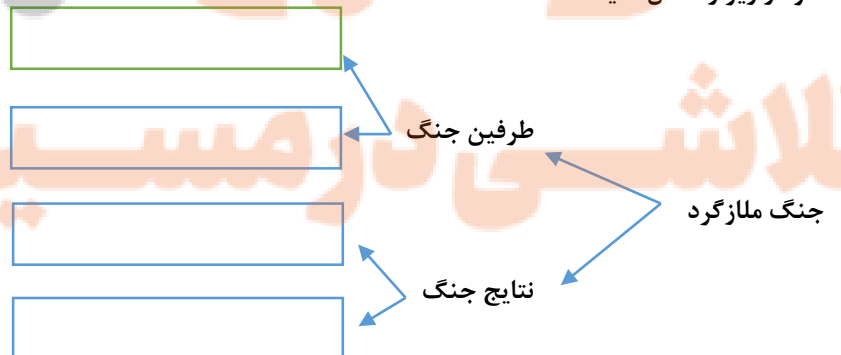




نکته: در دوره محمد خوارزمشاه، چنگیز مغول به ایران حمله کرد

سوالات درس

نمودار زیر را کامل کنید:



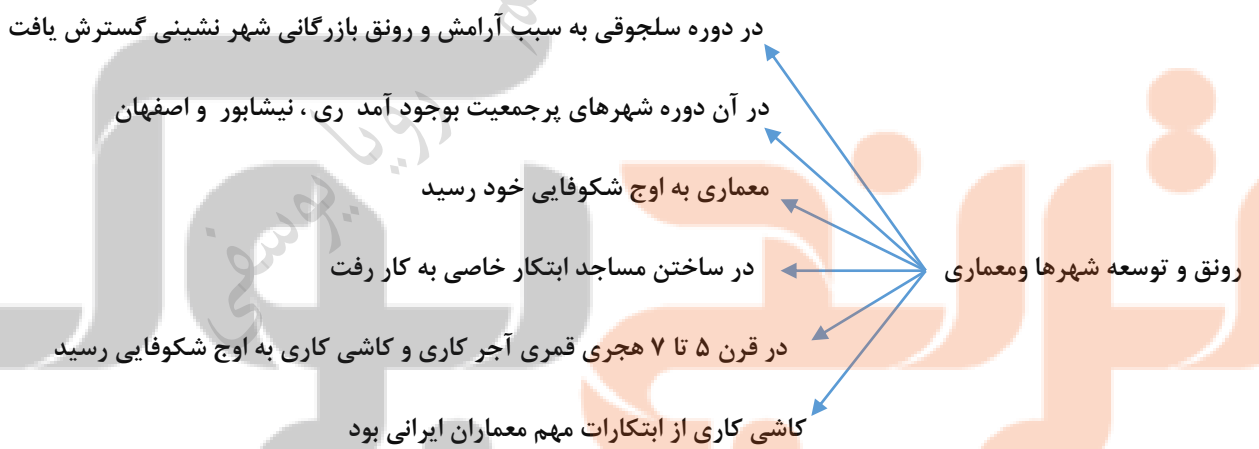
علت اهمیت سلجوقیان ← تأثیر در تحولات ایران و سرزمین های اسلامی
 ← وسعت قلمرو آنها

تشکیلات حکومتی سلسله های ترک ← تشکیلات سامانیان و غزنویان از نظام باستان
 ← تشکیلات اداری سلجوقیان از سامانیان و غزنویان

سلطین ← در رأس حکومت قرار داشت
 ← قدرت معنوی و دینی در اختیار خلیفه عباسی بود
 ← قدرت سیاسی و نظامی در اختیار سلطان
 ← سلاطین با ظلم و خود کامگی حکومت می کردند
 ← زندگی پر تجملی داشتند
 ← مخالفان را به سختی مجازات می کردند

وزیران ← از مهم ترین مقام ها در عهد سلجوقیان وزارت بود
 ← حکومت سلجوقی قدرت خود را با سیاست و کفایت وزیران ایرانی به دست آورد
 ← سلجوقیان مردم بیابانگرد و گله دار بودند ناگزیر به استفاده از وزیران ایرانی شدند
 ← عبدالملک کندی وزیر طغرل
 ← خواجه نظام الملک وزیر آلب ارسلان و ملکشاه

نقش وزیران در حکومت سلجوقی ← نقش مهمی در اداره حکومت سلجوقی داشتند
 ← با تدبیر و مدیریت وزیران اوضاع اقتصادی و فرهنگی بهتر شد
 ← توسط وزیران کشاورزی، هنر و صنعت و معماری رشد کرد
 ← یکی از وظایف مهم وزیران تنظیم رابطه سلطان با خلیفه و دیگر فرمانروایان بود



سوالات درس

لشکرکشی های سلاطین غزنوی و سلجوقی سبب رواج زبان فارسی به خارج از مرزهای ایران شد، در زمان هر یک از سلاطین زبان فارسی تا کدام ناحیه رواج پیدا کرد؟

الف) سلطان محمود و غزنویان

ب) سلجوقیان

من کیستم؟

شاعر معروف ایرانی که در مدارس نظامیه به کسب تحصیل پرداختم

الف) سلطان سنجر	۱- عمیدالملک کندی
ب) سلطان طغرل	۲- خواجه نظام الملک
ج) سلطان ملکشاه	

در رابطه با مدارس نظامیه به سوالات زیر پاسخ دهید:

الف) بنیانگذار این مدارای چه کسی بود؟

ب) مهم ترین مدارس در کدام شهرها بودند؟

ج) نام یکی از اساتید بزرگ این مدارس را بنویسید.

ندوستان به سوالات زیر پاسخ دهید:

الف) بهانه سلطان محمود برای لشکرکشی چه بود؟

ب) هدف اصلی سلطان محمود از این حمله چه بود؟

ج) کدام معبد هند را خراب کرد؟

در جمله زیر یک عبارت نادرست به کار رفته آن را اصلاح کنید:

سلطان محمود غزنوی به پشتوانه سپاه نیرومند خود قلمرو غزنویان را تار و مار در مرکز ایران گسترش داد.



هجوم مغولان و
سلطان محمود

جلال الدین پسر و جانشین محمد خوارزمشاه بود

در یک جنگ بر مغولان پیروز شد

به دلیل اختلافات و درگیری های داخلی کاری از پیش نبرد

سرداران حاکمان محلی و خلیفه ی عباسی را یاری نکردند

نتایج حمله مغول به ایران

هجوم چنگیز خان یکی از نتایج تاریخ ایران بود

بسیاری جان باختند و به اسارت گرفته شدند

ترس و وحشت سراسر ایران را گرفت

شهرهایی و آبادی هایی در ایران ویران شدند

مساجد مدارس و کتاب خانه ها خراب و کتاب های زیادی سوزانده شدند

چگونگی تشکیل ایلخانان

پس از مرگ چنگیز خان حملات پراکنده در ایران ادامه داشت

هلاکوخان نوه ی چنگیز فتوحات را در ایران کامل کرد

اسماعیلیان را از بین برد تسخیر بغداد و کشتن خلیفه عباسی

هلاکوخان پس از نابودی خلافت عباسی ایلخانان را تاسیس کرد

ایران در دوره ایلخانان

ایرانیان از نظر سیاسی یک پارچه و متحد شد

حاکمان و سرداران محلی تحت حاکمیت مغولان در آمدند

ایلخانان با آسیا و اروپا ارتباط برقرار کردند

در این دوره اروپا با آسیا رابطه ی سیاسی و بازرگانی داشت

ایران پس از ایلخانان

با مرگ ابو سعید حکومت ایلخانان فرو پاشید

ایرانیان گرفتار هرج و مرج و آشوب و جنگ شد

یکپارچگی سیاسی از بین رفت

حاکمان محلی به رقابت برخاستند

قیام سرداران

با فرو پاشی ایلخانان بی عدالتی و ستمگری شروع شد

مردم ناراضی شدند. قیام های مردمی در گوشه و کنار به وجود آمد

یکی از مهم ترین قیام ها سر به داران بود

این قیام از روستای باشتین در سبزوار شروع شد

تحت تعالیم شیخ خلیفه و شیخ حسن جودی بودند

حکومت سرداران پشتیبان مذهب شیعه بود

هجوم تیمور به ایران

در اواخر قرن هشت ایران بار دیگر با یورش مواجه شد

اقوام بیابان گرد از سمت شمال شرقی حمله میکردند ، تیمور

تیمور پس از تصرف ماورالنهر چند بار به ایران حمله کرد

هجوم تیمور مثل چنگیز باعث آسیب و صدمه و کشته شدن شد

پسر تیمور شاهرخ بعد از تیمور در بیشتر ایران تسلط پیدا کرد

حکومت تیموریان با روی کار آمدن صفویان از بین رفت

سوالات درس

در دوران فرمانروایی ایلخانان، ایران از نظر..... یکپارچه و متحد شد.

در رابطه با قیام سرداران به سوالات زیر پاسخ دهید:

الف) پس از تصرف کدام شهر حکومت خود را تاسیس کردند؟

ب) شعار آنها چه بود؟

تعلیمات چه کسانی مردم سبزوار را آماده مقابله با ظلم حکومت ایلخانان کرده بود؟

او کیست؟

رئیس یکی از قبایل مغول که قبیله های مغول را زیر فرمان خود آورد و حکومتی نیرومند تشکیل داد.

جدول را کامل کنید:

نام سلسله	موسس	دومین سلطان	پایتخت	علت نابودی
	تیمور		سمرقند-هرات	

دانشمندان کوشیدند خوی خشن مغولان را مهار کنند

مغولان را با فرهنگ و تمدن ایرانی-اسلامی آشنا کردند

دانشمندان راه و رسم کشورداری را به مغولان آموختند

پیروزی فرهنگ بر شمشیر

مشاور هلاکوخان بود

تلاش زیادی برای حفظ جان مردم و کاهش قتل و غارت کرد

یکی از کارهای ارزشمند او تشویق هلاکو برای ساختن رصدخانه مراغه است

خواجه نصیرالدین توسی

به عنوان پزشک به دربار ایلخانان راه یافت

علاقه بسیاری به عمران و آبادی داشت

تاسیس ربع رشیدی: مدرسه و بیمارستان و...

کتاب های زیادی نوشت و معروف ترین کتاب او جامع التواریخ است

خواجه رشیدالدین فضل الله همدانی

مغولان در حمله به ایران دین واحدی نداشتند

عده ایی از آنها به آیین گذشتگان اعتقاد داشتند

گروهی پیرو آیین بودایی و برخی مسیحی بودند

با تلاش عالمان و وزیران مسلمان شدند

مسلمان شدن ایلخانان

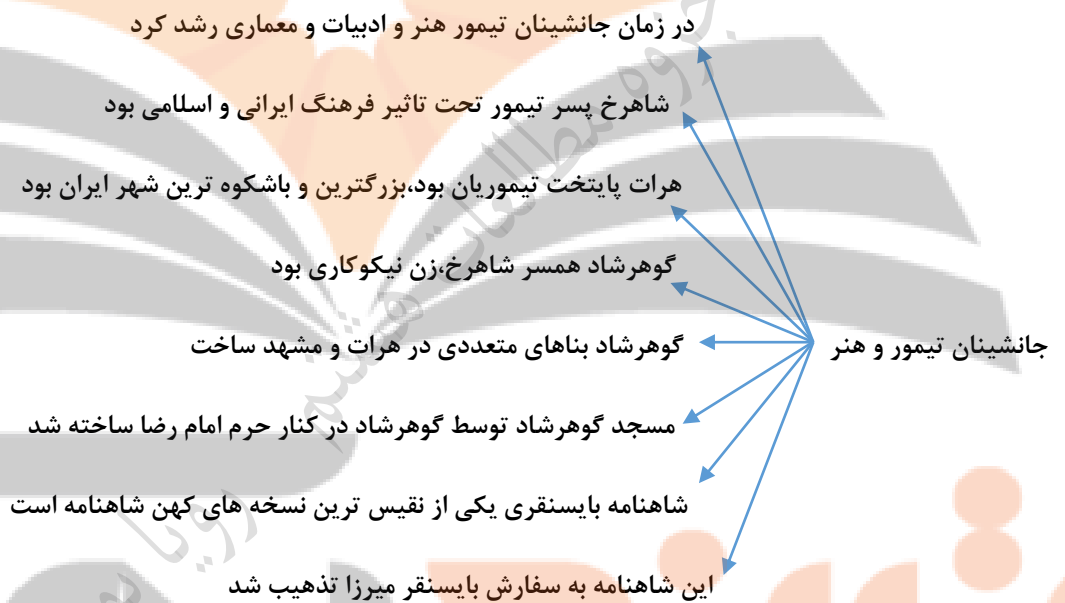
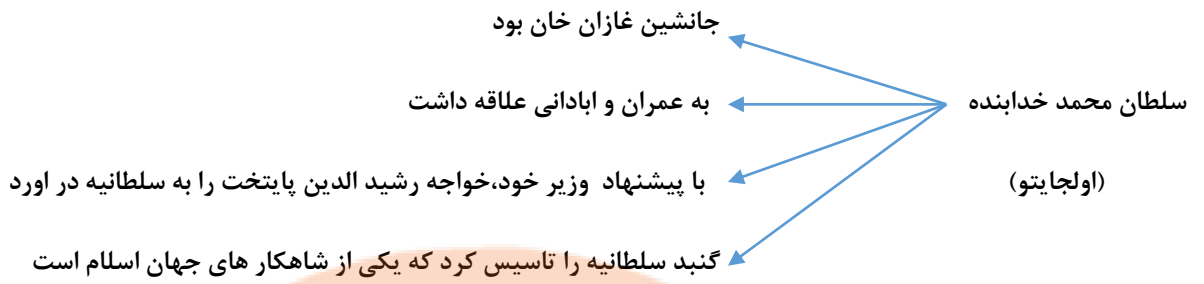
با تشویق وزیر خود اقدام به اصلاح امور اداری و مالی و قضایی کرد

تلاش بسیاری برای عمران و آبادانی کرد

شنب(گنبد)غازانیه در تبریز را تاسیس کرد

گنبد غازانیه دوازده بنای مهم داشت: بیمارستان، مسجد، مدرسه و...

غازان خان



سوالات درس

هر یک از بناهای زیر در کدام وزیر دانشمند ایرانی ساخته شد؟

الف) رصدخانه مراغه

ب) ربع رسیدی

در رابطه با اولجایتو یکی از ایلخانان مغول نمودار زیر را کامل کنید:





سرزمین های پست ← جلگه بزرگ سیبری ← از رود ینی سشی پدید آمده است
 ← جلگه گنگ و سند ← از آبرفت رود گنگ و سند
 ← جلگه چین ← از آبرفت رود یانگ تسه کیانگ پدید آمده است

نکته: رود گنگ و سند از رشته کوه هیمالیا سرچشمه میگیرند ← بخش وسیعی از پاکستان و بنگلادش را در برمیگیرد

از انباشته شدن آبرفت ها

در مصب رود

دلته

سرزمین های مثلث شکل بوجود می آیند ← که دلته نامیده می شود

دلتهها با انباشته شدن آبرفت ها ← توسعه می یابند

زمین های مناسب برای کشاورزی هستند

فواید

جمعیت انبوهی را در خود جای می دهند

فواید

فواید و خطرات دلته

خطرات ← طوفان های دریایی - طغیان رود - سیلاب

در شرق و جنوب شرقی آسیا

در کنار اقیانوس آرام

مجمع الجزایر آتشفشانی وجود دارد

مجمع الجزایر: ژاپن - فیلیپین - اندونزی

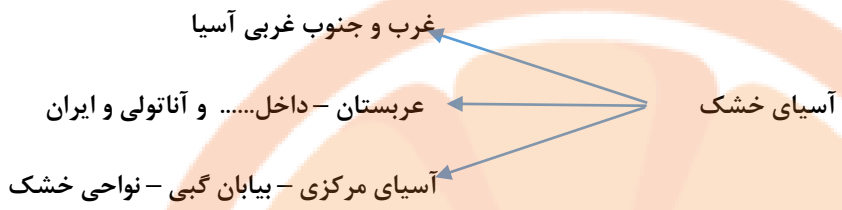
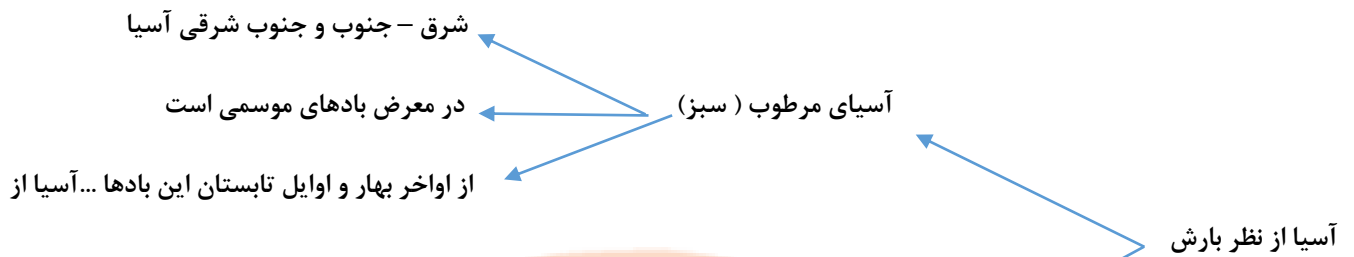
مجمع الجزایر آتشفشانی

خطرات آتشفشان ها ← زمین لرزه - سونامی - فعال شدن کوه های آتشفشانی

در مجاورت قطب شمال ← در سیبری ← سرد و یخبندان

بخش های داخلی و مرکزی ← بری یا قاره ای ← زمستان سرد تابستان ...

در مجاورت دریاها ← از دریای سرخ تا جزایر تایوان در شرق چین.....



سوالات درس

در ارتباط با قاره آسیا به سوالات زیر پاسخ دهید:

الف) آسیا از سمت شرق و جنوب به کدام اقیانوس ها محدود می شود؟

ب) آسیا از چه طریقی از آمریکای شمالی جدا می شود؟

ج) آسیا به کدام قاره چسبیده است و جغرافیدانان به این دو قاره چه می گویند؟

در سال ۱۳۹۰ سونامی بزرگی در زلین روی داد که باعث بروز خسارات فراوانی شد. هر ساله زلزله های فراوانی نیز در ژاپن رخ می دهد، علت این بلایای طبیعی در ژاپن چیست؟

دو رود گمگ و سند از رشته کوه سرچشمه می گیرند.

می شود. مجمع الجزایر آسیا در کدام سمت آن قرار گرفته است؟

ببرید. فلات سرزمینی بلند است که از اطراف به نواحی پست منتهی

قله جهان چه نام الف) فلات های بلند آسیا از غرب به شرق را نام

ب) بلندترین دارد و در کدام فلات قرار دارد؟



؟ به سوالات زیر در ارتباط با آسیای مرطوب (سبز) پاسخ دهید.

باشد؟ الف) به کدام سمت آسیا، آسیای مرطوب می گویند؟ چرا

ب) بیشترین ریزش باران در ایت ناحیه در کدام فصل می

قاره آسیا از طریق از قاره آفریقا جدا می شود.

آسیا پهناورترین و پرجمعیت ترین قاره است
 آسیا از نظر جمعیت شصت در صد جمعیت جهان در آسیا زندگی می کنند

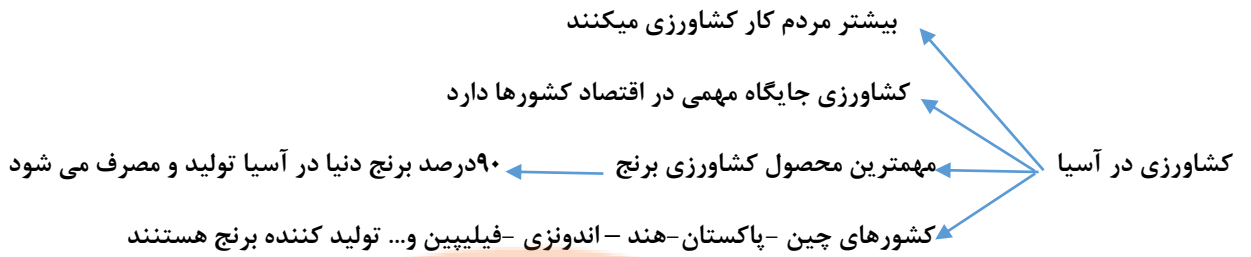
نواحی مرتفع ← فلات تبت و هیمالیا و بیابانها ← کم جمعیت
 نواحی پر تراکم و کم تراکم آسیا ← جنوب و جنوب شرقی آسیا ← پرجمعیت

پرجمعیت ترین کشورهای جهان ← چین ← یک میلیون و سیصد میلیون نفر
 هند ← یک میلیارد و سیصد میلیون نفر
 پرجمعیت ترین کشورها ← جزیره جاوه در اندونزی ← متراکم ترین منطقه جهان است
 جزیره جاوه ← ۱۴۱ میلیون نفر جمعیت دارد

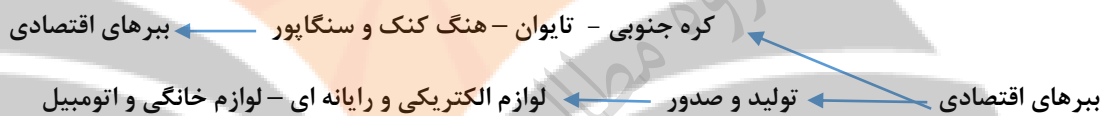
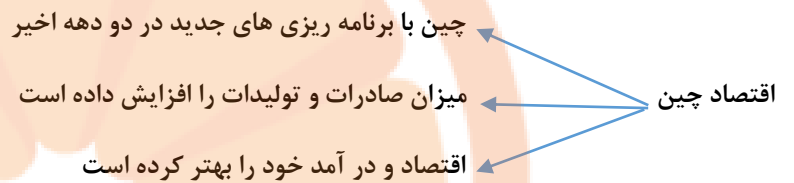
بیشتر جمعیت آسیا ← زرد پوست هستند
 ونیمه جمعیت ← سفید پوست هستند
 نژاد و زبان مردم آسیا ← در جنوب آسیا ← تیره های سیاه پوست و دو رگه زندگی میکنند
 مردم آسیا به صد ها زبان و لهجه صحبت میکنند

آسیا مهد ادیان بزرگ جهان است
 دین مردم آسیا ← مهد دین یهود ، مسیحیت و اسلام ← در آسیا به وجود آمدند
 ۶۰ درصد مسلمانان جهان در آسیا زندگی می کنند
 خاستگاه دین اسلام ← عربستان است
 اسلام به تدریج به کشور های آسیای غربی - مرکزی - شرق و جنوب شرقی راه یافت

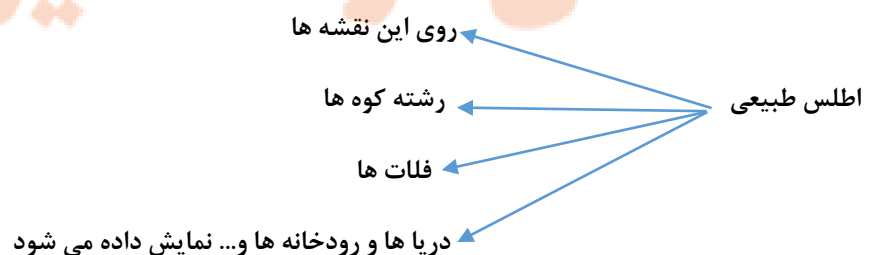
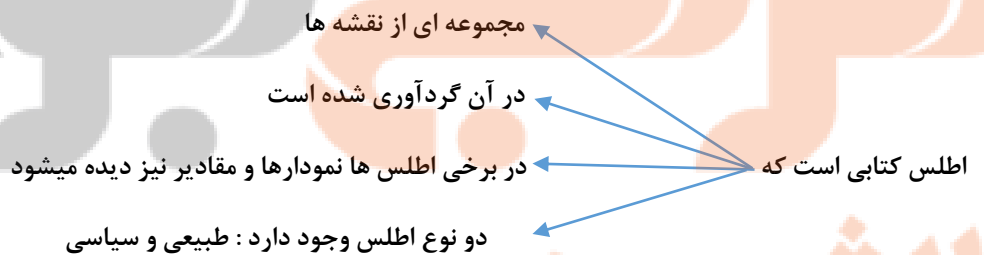
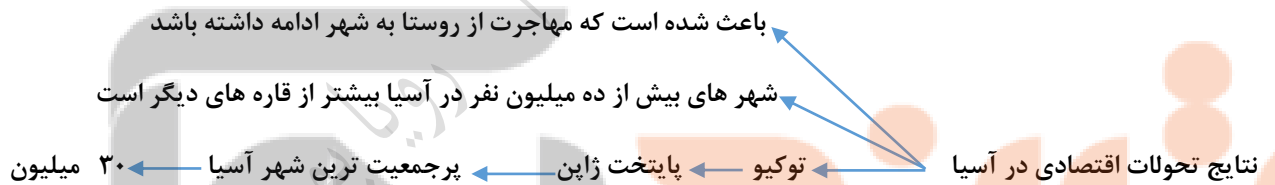
آیین برهمنی در شبه جزیره هند
 آیین بودا ← که خاستگاه اصلی آن هند است
 ادیان دیگر آسیا ← بودا در کشورهای شرق آسیا مثل چین - ژاپن و کره و تایلند انتشار یافت



نکته: مهمترین کشور صنعتی آسیا ژاپن است که از بزرگترین قدرت های اقتصادی جهان است و با روسیه عضو گروه هشت است



نکته: مالزی در دو دهه اخیر پیشرفت زیادی در صنعت داشته است



اطلس سیاسی ← روی این نقشه ها
مرز کشور ها - ایالت ها - استان ها - پایتخت ها و شهر های مهم دیده می شود

سوالات درس

پر جمعیت ترین شهر آسیا کدام است؟

؟ در کدام اطلس نقشه قاره ها و کشورها آمده است؟ متراکم ترین منطقه جهان کجا است؟

نام دارد. ادیانی که در آسیا پیروان زیادی دارد ما در قاره های دیگر چندان نفوذی دارد

کتابی که مجموعه ای از نقشه ها در آن جمع آوری شده است.....

در رابطه با بهره های اقتصادی به سوالات زیر پاسخ دهید:

الف) هدف اقتصادی این کشورها را بنویسید.

ب) نام سه کشور از چهار کشوری که به این نام معروفند را ذکر کنید.

ج) نام دو محصول که در تولید آن پیشرفت کرده اند را بنویسید.

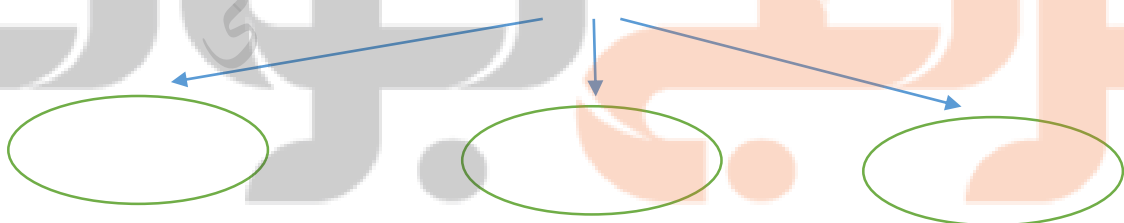
در رابطه با کشاورزی آسیا به سوالات زیر پاسخ دهید:

الف) بیشترین مردم آسیا به چه کاری مشغول هستند؟

ب) غذای اصلی مردم آسیا چیست؟

ج) دو کشور تولید کننده این محصول در آسیا را بنویسید.

نام سه دین بزرگ در آسیا



تلاشی در مسیر موفقیت



فعالیت های اقتصادی منطقه جنوب غربی آسیا

- اغلب کشور های منطقه دارای ذخایر نفت و گاز هستند
- این کشور ها از نظر اقتصادی به نفت وابسته هستند
- عربستان علاوه بر نفت از طریق مراسم حج درآمد دارد
- کشور هایی مثل ترکیه و امارات رونق گردشگری و تجاری و بازرگان دارند
- برخی کشور ها نتوانسته اند از نظر اقتصادی پیشرفت کنند مثل عراق و افغانستان

علت عدم پیشرفت عراق و افغانستان

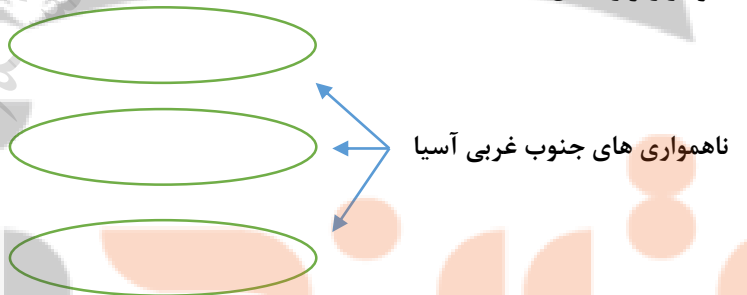
- جنگ
- اشغال نظامی توسط امریکا
- نبودن امنیت

سوالات درس

سه ناحیه پست و خشک منطقه جنوب غربی آسیا را نام ببرید.

را حله یک نوجوان عراقی است که متاسفانه کشور او از نظر اقتصادی پیشرفت زیادی نکرده و وضعیت چندان مناسبی ندارد، علت این امر چیست؟

نمودار زیر را کامل کنید:



کشور هایی چون ترکیه و امارات متحده عربی در جنوب غربی آسیا چگونه توانسته اند اقتصاد خود را متحول کنند؟

تلاشی در مسیر موفقیت



سواحل ایران در خلیج فارس

از اروندرود در جنوب غربی تا تنگه هرمز

از تنگه هرمز تا بندر گواتر در جنوب شرقی

جزایر ایران در خلیج فارس

خارک - کیش - قشم - لاوان - لارک

و اهمیت آنها

این جزایر از نظر استخراج نفت - بازرگانی - تجارت و نظامی اهمیت دارند

اورشلیم

در کشور فلسطین شهری کهن وجود دارد

مسلمانان به این شهر بیت المقدس می گویند

یهودیان و مسیحیان به این شهر اورشلیم می گویند

مساجد مهم مسلمانان

اول

مسجد الحرام در مکه

دوم

مسجد النبی در مدینه

سوم

مسجد الاقصی در بیت المقدس

سوالات درس

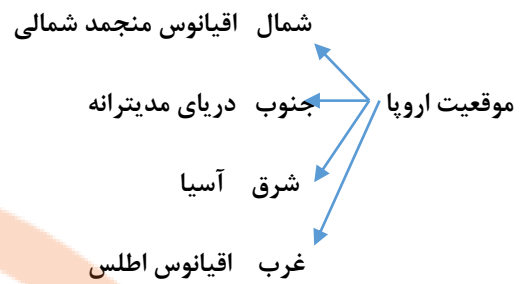
قلب تمدن اسلامی در منطقه..... آسیا قرار دارد.

اهمیت تنگه هرمز را بنویسید.

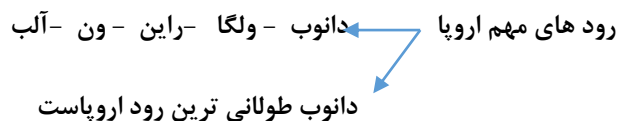
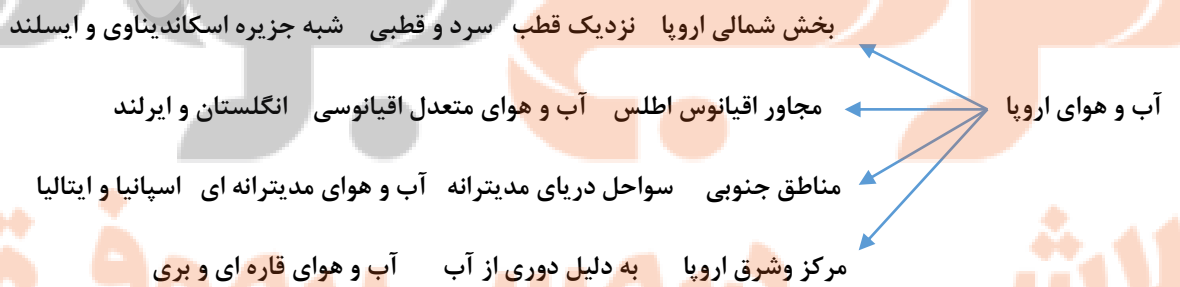
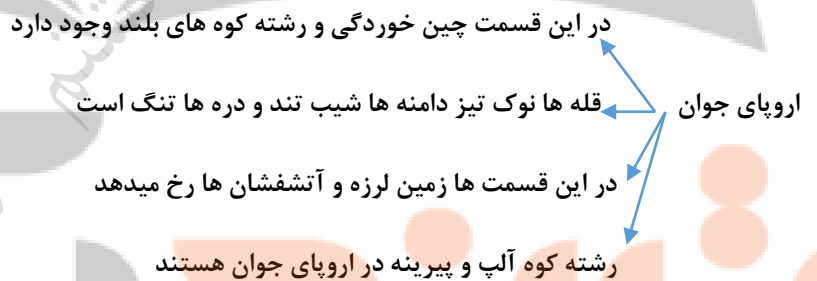
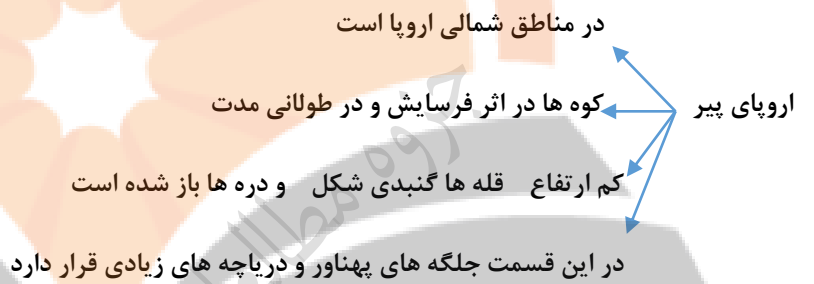
نقش آبراهه ها در منطقه جنوب غربی آسیا چیست؟

چهار مورد از کشورهای عمده صادرات نفت را بنویسید.

دو مورد از علت های راهبردی بودن منطقه جنوب غربی آسیا را بنویسید.



نکته: اروپا از نظر ناهمواری به اروپای پیر و اروپای جوان تقسیم می شود



کاربرد رود های اروپا

- آبیاری زمین های کشاورزی
- تولید انرژی الکتریکی
- حمل و نقل و کشتیرانی

جمعیت اروپا

- قاره ی اروپا کم وسعت است اما جمعیت آن متراکم است
- شرایط مساعد طبیعی چون آب و هوای معتدل
- ریزش باران کافی
- رود های پر آب و جلگه های پهناور
- پیشرفت در علم و فناوری باعث تراکم جمعیت اروپا شده است

نژاد و دین اروپا

- اروپا بیشتر سفید پوست هستند
- بیشتر مردم اروپا دین مسیح دارند
- مسلمانان در قاره ی اروپا پراکنده اند بیشترشان در شبه جزیره بالکان

دین مسیح

- کاتولیک ← رهبر آنها پاپ است ← محل اقامت پاپ در واتیکان است
- ارتودوکس
- پروتستان

اروپا از نظر اقتصادی پیشرفته است

تلاش های دار مسیبر موفقیت

اقتصاد اروپا

- میزان درآمد - سطح سواد و بهداشت و طول عمر در این قاره بالاست
- کشاورزی در همه جای اروپا با استفاده از ماشین آلات مدرن و شیوه ی علمی رایج است
- محصولات مدیترانه ای مثل : زیتون و مرکبات و انگور دارد
- هلند و دانمارک از تولیدکنندگان و صادرکنندگان بزرگ فرآورده های گوشتی و لبنیاتی هستند

صنعت اروپا

- اروپا یکی از مناطق مهم صنعتی جهان است
- آلمان فرانسه انگلستان و ایتالیا کشور های مهم صنعتی هستند
- اروپا به علت نداشتن منابع زیر زمینی و معادن کافی به کشور های دیگر نیاز دارد

جاذبه های گردشگری

- سواحل طولانی و آفتابی
- ورزش های زمستانی در آلپ
- های جاذبه های فرهنگی و تاریخی مثل بناهای تاریخی کلیساها و موزه ها
- فرانسه اینتللواوی بدینا نگر هبم گزیرین هکشود

سوالات درس

جدول زیر را کامل کنید:

کاربرد رودهای اروپا

بیشتر مسلمانان اروپا در..... زندگی می کنند.

فرسایش طولانی در منطقه..... اروپا موجب پیدایش کوه های کم ارتفاع و قله های گنبدی شکل و باز شده است.

ویژگی های اروپای جوان را بنویسید.

جاهای خالی را پر کنید:

جلگه های پهناور

رودهای پر آب

عوامل طبیعی

دلایل تراکم جمعیت اروپا

عوامل انسانی

وسعت آفریقا

- قاره آفریقا بعد از آسیا دومین قاره وسیع دنیا است
- از سواحل دریای مدیترانه در شمال خط استوا
- تا دماغه امید نیک از جنوب خط استوا کشیده شده است

موقعیت آفریقا

- شمال - دریای مدیترانه
- جنوب و شرق - اقیانوس هند
- غرب - اقیانوس اطلس

ناهمواریهای آفریقا

- آفریقا فلات وسیع و کم ارتفاع است
- در شمال غربی آفریقا رشته کوه اطلس است
- در شرق آفریقا قله کنیا و کلیمانجارو قرار دارد
- دریاچه های زیادی در آفریقا وجود دارد

علت وجود آبشار های زیاد در آفریقا

- فرو نشستن زمین
- شکستگی های پوسته زمین

نکته: کناره های صاف و بدون بریدگی آفریقا باعث شده است که این قاره برای پهلو گرفتن کشتی مناسب نباشد

آب و هوای آفریقا

- آب و هوای گرم
- مدار استوا از وسط آفریقا عبور کرده است
- خورشید همیشه به مدار استوا و اطراف آن تا مدار رأس سرطان و رأس الجدی عمود می تابد

آفریقای مرطوب (سبز)

- از خط استوا تا دریاچه چاد در شمال
- و از خط استوا تا رود زامبیز در جنوب
- آب و هوای این قسمت مرطوب و گرم است

هرچه به شمال و جنوب آفریقا پیش برویم خشک می شود

آب و هوای گرم و خشک است

در شمال آفریقا

در جنوب آفریقا

صحرای بزرگ

بیابان کالاهاری

فریقای خشک

نیل - کنگو - نیجر - اورانژ - زامبزی

نیل طولانی ترین رود جهان است

رود های آفریقا در مصب خود جلگه و دلتا ایجاد کردند

رود های آفریقا

آفریقا دومین قاره وسیع

اما جمعیت کمی دارد

جمعیت

علت تراکم کم جمعیت

عدم رعایت بهداشت - شیوع بیماری - خشکسالی - جنگ ها

بیشتر سیاه پوست

مردم شمال آفریقا

مجاور دریای مدیترانه سفید پوست هستند

بخش کوچکی از جنوب آفریقا

سفید پوست هستند

نژاد آفریقا

ساکنان شمال صحرای آفریقا

مصر الجزایر و لیبی

عربی

زبان مردم آفریقا

سایر کشورهای آفریقا

زبان محلی

برخی کشور ها که قبلا تحت نفوذ استعمار بودند

فرانسه و انگلیس

بیشتر مردم شمال آفریقا

مسلمان

دین

سایر مناطق پیرو دین مسیح یا مذاهب ابتدایی هستند

نکته: قاره آفریقا از نظر منابع طبیعی و ثروتمند است: معادن نفت - طلا - الماس و مس



سوالات درس

در جمله زیر یک عبارت نادرست به کار رفته است، آن را اصلاح کنید:

نواحی اطراف خط استوا در قاره آفریقا از شمال تا دریاچه چاد و از جنوب تا رود زامبزی آفریقای خشک نامیده می شود.

شرایط سخت محیطی از جمله عوامل داخلی هستند که مانع پیشرفت و توسعه آفریقا شده اند، این شرایط کدامند؟

نلسون در کشور کنیا در قاره آفریقا زندگی می کند. قاره آفریقا قاره ای گرم و بی زمستان است. مدار استوا از وسط آن عبور می کند و خورشید در ازراف مناطق استوایی و اطراف مدار راس السرطان و راس الجدی تقریباً عمود می تابد. آفریقا نسبت به وسعت خود جمعیت کمی دارد. بیشتر مردم از نژاد سیاه پوست هستند. مردم شمال آفریقا به زبان عربی صحبت می کنند و مسلمان هستند.

با توجه به متن بالا جدول را کامل کنید:

ویژگی طبیعی	ویژگی انسانی
۱-	۱-
۲-	۲-

وسعت آمریکا ← قاره وسیع از قطب شمال تا نزدیک قطب جنوب
 ← شامل آمریکای شمالی و جنوبی است
 ← این دو خشکی توسط آمریکای مرکزی به هم وصل می شوند

کانال پاناما ← تا قبل از حفر کانال پاناما
 ← کشتی ها برای رسیدن از اقیانوس اطلس به آرام
 ← مجبور بودند آمریکای جنوبی را دور بزنند
 ← اما با حفر این کانال، اقیانوس اطلس و آرام بهم وصل شد

ناهمواریه‌های آمریکا ← چین خوردگی های جوان و مرتفع
 ← کوه های کم ارتفاع قدیمی
 ← سرزمین های پست جلگه ای

چین خوردگی های جوان ← رشته کوه های راکی ← آمریکای شمالی
 ← رشته کوه های آند ← آمریکای جنوبی
 ← در این رشته کوه ها در غرب آمریکا در کنار اقیانوس آرام کشیده شدند.
 ← در این مناطق ← در این به دلیل ناآرام بودن پوسته زمین، آتش فشان و زمین لرزه وجود دارد.

نکته: آمریکای مرکزی و جزایر آنتیل ← سرزمین آتشفشانها و زمین لرزه هاست.
 ← در شرق آمریکای شمال ← توده کوهستان آپالاش

کوه های کم ارتفاع ← در شرق آمریکای جنوبی ← توده برزیل
 ← این توده ها ناهمواریهای پیر و فرسایش یافته اند

سرزمین های پست ← جلگه می سی سی پی ← در آمریکای شمالی
 ← جلگه آمازون و پارانا ← در آمریکای جنوبی

نواحی نزدیک به قطب در آمریکای شمالی و جنوبی ← سرد و قطبی ← بیشتر کانادا
 سواحل آمریکا به دلیل نزدیکی به اقیانوس اطلس و آرام ← آب و هوای معتدل اقیانوسی
 آب و هوای آمریکا ← نواحی نزدیک به استوا در آمریکای مرکزی و جنوبی ← آب و هوای گرم و مرطوب
 بیابان نوادا در آمریکای شمالی و آناکاما در آمریکای جنوبی ← گرم و خشک

رود های مهم آمریکا ← رود آمازون در آمریکای جنوبی
 رود می سی سی پی در آمریکای شمالی

این رود از رود های مهم جهان است
 از چند ایالت آمریکا عبور می کند
 این رود به خلیج مکزیک می ریزد
 رود می سی سی پی

این رود نقش مهمی در حمل و نقل کالا، منابع و تجارت دارد
 رود آمازون از میان جنگل آمازون عبور می کند
 پر آب ترین رود دنیاست
 ماهی های آب شیرین، مارهای آبی و گربه ماهی ها در آن زندگی می کنند
 رود آمازون

نواحی پرتراکم جمعیت
 حدود پانزده درصد مردم جهان در قاره آمریکا هستند
 بیشتر جمعیت در جلگه های حاصلخیز هستند، مثل می سی سی پی
 بنادر و شهرهای ساحلی نزدیک اقیانوس متراکم هستند
 علت تراکم: زمین های حاصلخیز و آب و هوای مساعد

نژاد مردم آمریکا: ۱- بومیان ۲- سیاه پوستان ۳- سفید پوستان ۴- دورگه ها
 بومیان ← به بومیان آمریکا سرخپوست می گویند

وقتی کریستوف کلمب به آمریکا رسید، آنها را هندی نامید

سیاه پوستان ← سیاه پوستان آمریکا، نوادگان بزرگان آفریقایی هستند

آنها در دوران استعمار برای کار در مزارع و کشاورزی و معادن نوسط ← اروپاییان به آمریکا آمدند

سفیدپوستان

سفیدپوستان اروپایی که آمریکا را کشف کردند

در طی سالهای مختلف از اروپا به آمریکا مهاجرت کردند

دورگه

عده زیادی از مردم آمریکا، دورگه اند

از اختلاط نژادها و ملیت های گوناگون بوجود آمده اند

زبان مردم آمریکا

زبان غالب در آمریکای شمالی، انگلیسی هست

در آمریکای مرکزی و جنوبی به دلیل مهاجرت اسپانیایی ها و پرتغالی ها، زبان پرتغالی و اسپانیایی است

نکته : در کشور کانادا و ایالات متحده آمریکا به دلیل مهاجرت انگلیسی ها فرهنگ آنگوساکسون دارند

نکته : چون ریشه زبان اسپانیایی و پرتغالی، زبان لاتین است به آمریکای مرکزی و جنوبی، آمریکای لاتین می گویند

اکثر مردم پیرو دین مسیح هستند

دین آمریکا

در آمریکای شمالی - مذهب پروتستان

در آمریکای لاتین - مذهب کاتولیک

تعداد مسلمانان نیز قابل توجه است

ایالات متحده آمریکا و کانادا در آمریکای شمالی جزو کشور های پیشرفته هستند

اقتصاد در آمریکای شمالی

کشاورزی ایالات متحده - صنعتی و تجاری است

ایالات متحده آمریکا و کانادا بزرگ ترین تولید کننده و صادر کننده گندم و ذرت جهان است

این دو کشور تولید و صادر کننده: تجهیزات صنعتی، ماشین آلات، خودرو و

اروپاییان مهاجر با خود دانش، مهارت و سرمایه به آمریکای شمالی آوردند

وجود معادن زیر زمینی، منابع طبیعی فراوان، زمین های وسیع قابل کشت و رود های پر آب

عوامل پیشرفت آمریکای شمالی

در جنگ جهانی دوم آمریکا از جنگ دور بود

پس از جنگ جهانی دوم از کشور های اروپایی پیشی گرفت

در سال های اخیر متخصصان و دانشمندان سایر کشور ها را جذب کردند

آمریکا و کانادا بدلیل رونق تجارت داخلی و جهانی، شهر ها رشد کردند

نیویورک پر جمعیت ترین شهر ایالات متحده امریکاست

نیویورک - ۵۰ آسمان خراش دارد - مقام اول

مرکز اصلی سازمان ملل متحد و مجسمه آزادی در نیویورک است

رشد شهر های آمریکای شمالی

اقتصاد آمریکای لاتین ← آمریکای لاتین منابع طبیعی و معادن زیادی دارد
 ← بدلیل استثمار و حکومت های وابسته به بیگانه نتوانست پیشرفت کند
 ← کشورهای آمریکای لاتین تولید کننده و صادر کننده مواد اولیه کشاورزی هستند

گروه های صنعتی آمریکای لاتین ← برزیل و آرژانتین، ونزوئلا و کلمبیا = وضعیت اقتصادی بهتری دارند
 ← آرژانتین، برزیل و کوبا - بزرگ ترین تولید کننده و صادر کننده، قهوه و نیشکر

گردشگری در آمریکا ← تنوع زیاد محیطی : غارها و آبشار ها، سواحل، جنگل ها و...
 ← مراکز تفریحی، پارک ها، موزه های حیات وحش
 ← موزه ها و کاخ ها، ماراکز خرید و نمایشگاه ها
 ← باعث جذب گردشگران زیاد از سراسر دنیا شده است

سوالات درس

جدول زیر را کامل کنید:

آمریکای جنوبی رو مرکزی	آمریکای شمالی	
.....	زبان
.....	فرهنگ

در ارتباط با اقتصاد آمریکای شمالی به سوالات زیر پاسخ دهید:

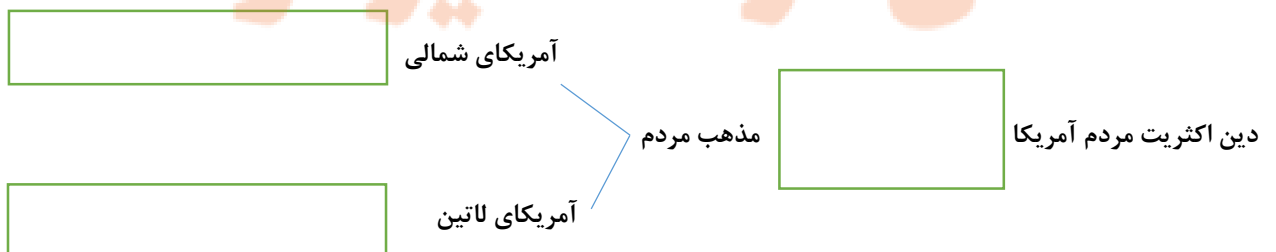
الف) نوع کشاورزی در آمریکای شمالی چگونه است؟

ب) تولید کننده و صادر کننده چه نوع محصولات صنعتی هستند؟ (دو مورد)

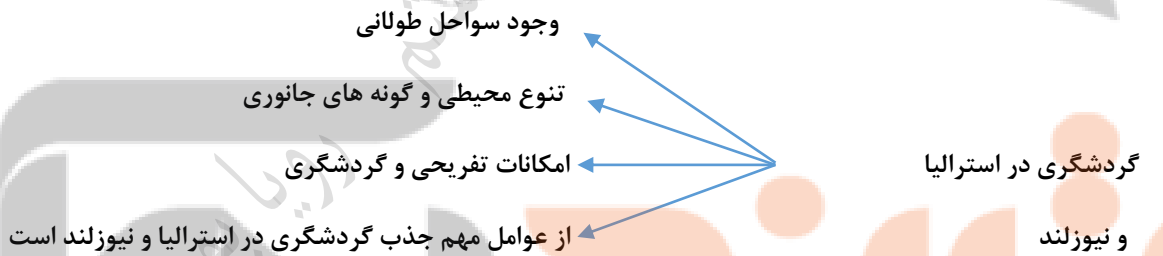
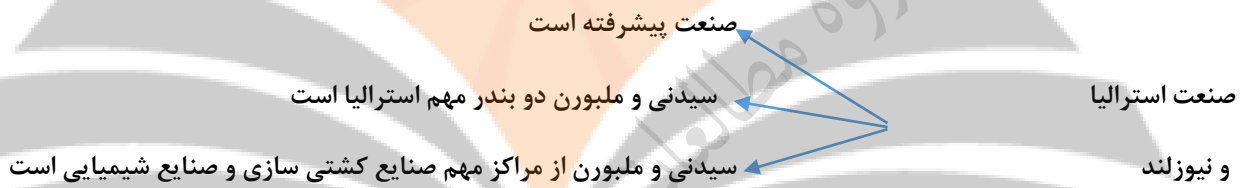
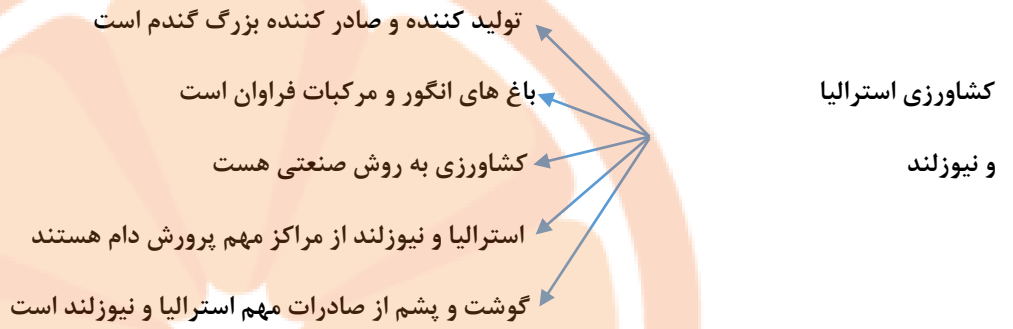
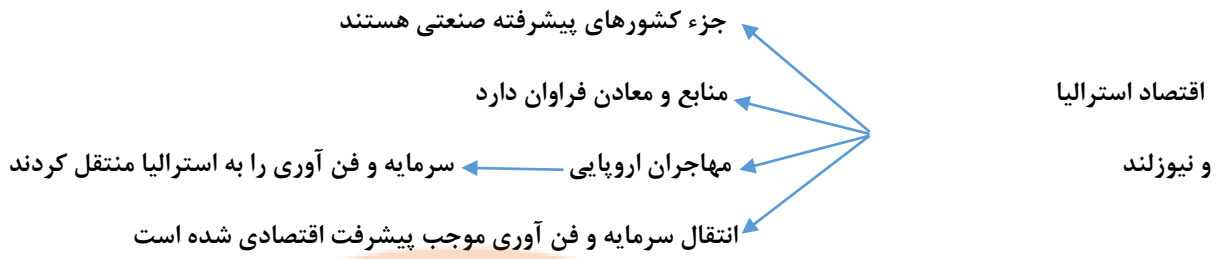
مرکز اصلی سازمان ملل متحد در واقع شده است.

وجود چه جاذبه هایی گردشگران را از سراسر دنیا به سمت آمریکا جذب می کند؟ (دو مورد)

نمودار زیر را در ارتباط با دین اکثریت مردم قاره آمریکا کامل کنید:







سوالات درس

در منتهی الیه جنوب شرقی قاره آسیا، قاره قرار دارد.

علت پیشرفت اقتصادی استرالیا چیست؟

					ک
					س
					ز

جدول زیر را کامل کنید:

الف) بلندترین قله نیوزلند

ب) بندری مهم در استرالیا

ج) کشوری که رشته کوه آلپ جنوبی در آن واقع شده است



تلاشی در مسیر معرفت



- دانلود گام به گام تمام دروس ✓
- دانلود آزمون های قلم چی و گاج + پاسخنامه ✓
- دانلود جزوه های آموزشی و شب امتحانی ✓
- دانلود نمونه سوالات امتحانی ✓
- مشاوره کنکور ✓
- فیلم های انگیزشی ✓

 www.ToranjBook.Net

 [ToranjBook_Net](https://t.me/ToranjBook_Net)

 [ToranjBook_Net](https://www.instagram.com/ToranjBook_Net)