





<p>ردم</p>	<p>به نام خدا  نام خانوادگی: نام خانوادگی:  امتحان نوبت اول مطالعات پایه هفتم  نام دبیر: نام دبیر:  تاریخ امتحان: ۱۴۰۱/۱۰/۲۵  مدت زمان امتحان: ۶۰ دقیقه  مدرسه سما</p>
<p>۳</p>	<p>جملات صحیح را با (ص) و جملات غلط را با (غ) مشخص کنید.  ۱. همدلی یعنی پس از درک احساس فرد حادثه دیده به کمک او بشتابیم. (غ...)  ۲. بیمه فقط برای جبران زیان های جانی به وجود آمد. (غ...)  ۳: منابع انسانی مهم ترین عامل در تولید هستند. (ص...)  ۴. نظارت بر حمل و نقل عمومی (اتوبوس ، تاکسی) برای رفت و آمد مردم وظیفه استانداری است. (غ...)  ۵. برچسب کالا یکی از قوانین و حقوق مصرف کننده محسوب می شود. (ص...)  ۶. عکس هایی که با دوربین از فعالیتهای انسانی گرفته می شود، عکس های معمولی گفته می شود. (ص...)</p>
<p>۳/۵</p>	<p>۱. مهم ترین حق طبیعی یک انسان چیست؟  الف: حق آزادی <input type="checkbox"/>    ب: حق داشتن خانواده <input type="checkbox"/>    ج: حق حیات یا زندگی <input checked="" type="checkbox"/>    د: حق امنیت <input type="checkbox"/></p> <p>۲. به وظایفی که هر یک از ما به عهده داریم و انتظار می رود آن ها را انجام دهیم چه می گویند؟  الف: حق <input type="checkbox"/>    ب: حقوق متقابل <input type="checkbox"/>    ج: مسئولیت <input checked="" type="checkbox"/>    د: حقوق طبیعی <input type="checkbox"/></p> <p>۳. عبور نکردن از چراغ قرمز - ایستادن در صف نانوایی به ترتیب چه نوع مقرراتی هستند؟  الف: قانون - اجتماعی <input checked="" type="checkbox"/>    ب: مذهبی - قانون <input type="checkbox"/>    ج: اجتماعی - اجتماعی <input type="checkbox"/>    د: مذهبی - اجتماعی <input type="checkbox"/></p> <p>۴. تهیه و تصویب قوانین عادی کشور را در چارچوب قانون اساسی بر عهده دارد.  الف: قوه مجریه <input type="checkbox"/>    ب: قوه مقننه <input checked="" type="checkbox"/>    ج: شورای نگهبان <input type="checkbox"/>    د: مجلس خبرگان <input type="checkbox"/></p> <p>۵. ایران در کدام قسمت قاره آسیا واقع شده است ؟  الف : شمال غربی <input type="checkbox"/>    ب: جنوب غربی <input checked="" type="checkbox"/>    ج : شمال شرقی <input type="checkbox"/>    د: جنوب شرقی <input type="checkbox"/></p> <p>۶. کدام یک از موارد زیر جز سه طبقه ی مشاغل و فعالیت های اقتصادی به حساب نمی آید؟  الف: صنعت <input type="checkbox"/>    ب: خدمات <input type="checkbox"/>    ج: تولید <input checked="" type="checkbox"/>    د: کشاورزی <input type="checkbox"/></p> <p>۷. مهم ترین عاملی که موجب از بین رفتن برخی گونه های گیاهی و جانوری می شود کدام است؟  الف: شکار و صید بی رویه <input type="checkbox"/>    ب: فعالیتهای کارخانه ها <input type="checkbox"/>    ج: فعالیت های نادرست انسانها <input checked="" type="checkbox"/>    د: گازهای سمی ماشینها <input type="checkbox"/></p>

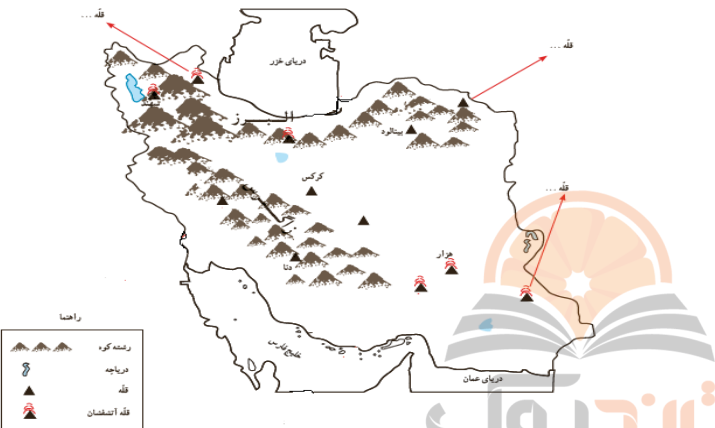
۳	<p>۱. .... <b>قانون اساسی</b>..... مادر همه قانون هاست.</p> <p>۲. کلیه موسسات بیمه زیر نظر ... <b>بیمه مرکزی جمهوری اسلامی ایران</b> .... فعالیت دارند.</p> <p>۳. مسئولیت مصرف کننده .... <b>مصرف درست</b>..... است.</p> <p>۴. شهرنشینان باید هر سال مبلغی را به عنوان .. <b>عوارض نوسازی</b> ... به شهرداری بپردازند.</p> <p>۵. مهم ترین عناصر آب و هوا، <b>دما</b> .... و <b>بارش</b>.... است.</p> <p>۶. گزارش شکار غیرقانونی و سیل یا طغیان رودخانه ها در یک منطقه حفاظت شده بر عهده <b>محیط بان</b>... است.</p>
۱	<p>دو مورد از حقوق خود را به عنوان دانش آموز بنویسید. <b>هیچ کس حق ندارد دیگری را مسخره کند یا به او صدمه بزند - هیچ کس نباید در مدرسه مورد تنبیه بدنی قرار گیرد.</b></p>
۱	<p>۲. حق چیست؟ <b>منظور از حق چیز هایی است که یک انسان به دلیل مقام انسانی اش شایستگی داشتن آنها را دارد.</b></p>
۱	<p>۳. هر کدام از علامت های زیر نشانه چیست؟</p> <div style="display: flex; justify-content: space-around; align-items: center;">   </div> <p style="text-align: center;"><b>علامت بازیافت</b></p>
۰/۵	<p>۴. یک مورد از وظایف شورای نگهبان را بنویسید. <b>تایید نامزدهای انتخاباتی و نظارت بر انتخابات ریاست جمهوری و مجلس شورای اسلامی</b></p>
.۵	<p>۵. مریم عضو بیمه پاسارگاد شده است. بیمه شونده و بیمه گر را مشخص کنید.</p> <p style="text-align: center;"><b>بیمه شونده: مریم      بیمه گر: بیمه پاسارگاد</b></p>
.۵	<p>۶. کدام یک از ویژگی های شهر بهبهان طبیعی و کدام انسانی است.</p> <p><b>دارای کارخانه های سیمان، خرما است ..ویژگی انسانی...      با کمبود بارندگی روبرو است..ویژگی طبیعی...</b></p>
۱	<p>۷. زیستگاه را تعریف کنید. <b>به منطقه ی بزرگی که دران مجموعه ای از گیاهان و جانوران خاص زندگی می کنند زیستگاه می گویند.</b></p>
۱	<p>۸. عدم رعایت مقررات و قوانین در جامعه چه مشکلی را به دنبال دارد؟ <b>علاوه بر به هم زدن نظم و امنیت اجتماعی موجب پایداری شدن حقوق افراد می شود.</b></p>

۱/۲۵	<p>۹. الف: چهار ناحیه آب و هوایی ایران را نام ببرید. ب: نواحی مرکزی ایران دارای کدام نوع آب و هواست؟  الف: معتدل و مرطوب خزری-معتدل و نمیه خشک کوهستانی-گرم و خشک- گرم و شرجی سواحل جنوب  ب: گرم و خشک</p>
۱	<p>۱۰. وظایف جمعیت هلال احمر ← در شرایط عادی ۱- صلح و دوستی  ← در شرایط حادثه ۱- برپایی چادرهای اسکان برای آسیب دیدگان</p>
۱	<p>۱۱. دامنه های شمالی و جنوبی البرز چه تفاوتی باهم دارند؟ در دامنه شمالی که رو به دریا است برف و باران فراوان می بارد و این دامنه پوشیده از جنگل های انبوه است، برعکس دامنه جنوبی کم رطوبت مانده و فقط در فصل زمستان برف و باران دریافت می کند و در نتیجه پوشش گیاهی کمتری دارد.</p>
.۱۷۵	<p>۱۲. نام هر قله را در انتهای فلش بنویسید.</p> 

موفق باشید

ردم	<p>به نام خدا</p> <p>نام خانوادگی: امتحان نوبت اول مطالعات پایه هفتم</p> <p>نام دبیر: دبیرستان سما</p> <p>تاریخ امتحان: ۱۴۰۱/۱۰/۲۵</p> <p>زمان امتحان: ۶۰ دقیقه</p>
۳	<p>جملات صحیح را با (ص) و جملات غلط را با (غ) مشخص کنید.</p> <p>۱. همدلی یعنی پس از درک احساس فرد حادثه دیده به کمک او بشتابیم. (...)</p> <p>۲. بیمه فقط برای جبران زیان های جانی به وجود آمد. (...)</p> <p>۳: منابع انسانی مهم ترین عامل در تولید هستند. (...)</p> <p>۴. نظارت بر حمل و نقل عمومی (اتوبوس ، تاکسی) برای رفت و آمد مردم وظیفه استانداری است. (...)</p> <p>۵. برچسب کالا یکی از قوانین و حقوق مصرف کننده محسوب می شود. (...)</p> <p>۶. عکس هایی که با دوربین از فعالیتهای انسانی گرفته می شود، عکس های معمولی گفته می شود. (...)</p>
۳/۵	<p>۱. مهم ترین حق طبیعی یک انسان چیست؟</p> <p>الف: حق آزادی <input type="checkbox"/> ب: حق داشتن خانواده <input type="checkbox"/> ج: حق حیات یا زندگی <input type="checkbox"/> د: حق امنیت <input type="checkbox"/></p> <p>۲. به وظایفی که هر یک از ما به عهده داریم و انتظار می رود آن ها را انجام دهیم چه می گویند؟</p> <p>الف: حق <input type="checkbox"/> ب: حقوق متقابل <input type="checkbox"/> ج: مسئولیت <input type="checkbox"/> د: حقوق طبیعی <input type="checkbox"/></p> <p>۳. عبور نکردن از چراغ قرمز - ایستادن در صف نانوایی به ترتیب چه نوع مقرراتی هستند؟</p> <p>الف: قانون - اجتماعی <input type="checkbox"/> ب: مذهبی - قانون <input type="checkbox"/> ج: اجتماعی - اجتماعی <input type="checkbox"/> د: مذهبی - اجتماعی <input type="checkbox"/></p> <p>۴. تهیه و تصویب قوانین عادی کشور را در چارچوب قانون اساسی بر عهده دارد.</p> <p>الف: قوه مجریه <input type="checkbox"/> ب: قوه مقننه <input type="checkbox"/> ج: شورای نگهبان <input type="checkbox"/> د: مجلس خبرگان <input type="checkbox"/></p> <p>۵. ایران در کدام قسمت قاره آسیا واقع شده است ؟</p> <p>الف : شمال غربی <input type="checkbox"/> ب: جنوب غربی <input type="checkbox"/> ج : شمال شرقی <input type="checkbox"/> د: جنوب شرقی <input type="checkbox"/></p> <p>۶. کدام یک از موارد زیر جز سه طبقه ی مشاغل و فعالیت های اقتصادی به حساب نمی آید؟</p> <p>الف: صنعت <input type="checkbox"/> ب: خدمات <input type="checkbox"/> ج: تولید <input type="checkbox"/> د: کشاورزی <input type="checkbox"/></p> <p>۷. مهم ترین عاملی که موجب از بین رفتن برخی گونه های گیاهی و جانوری می شود کدام است؟</p> <p>الف: شکار و صید بی رویه <input type="checkbox"/> ب: فعالیتهای کارخانه ها <input type="checkbox"/> ج: فعالیت های نادرست انسانها <input type="checkbox"/> د: گازهای سمی ماشینها <input type="checkbox"/></p>

۳	<p>۱. .... مادر همه قانون هاست.</p> <p>۲. کلیه موسسات بیمه زیر نظر ..... فعالیت دارند.</p> <p>۳. مسئولیت مصرف کننده ..... است.</p> <p>۴. شهرنشینان باید هر سال مبلغی را به عنوان ..... به شهرداری بپردازند.</p> <p>۵. مهم ترین عناصر آب و هوا، ..... و ..... است.</p> <p>۶. گزارش شکار غیرقانونی و سیل یا طغیان رودخانه ها در یک منطقه حفاظت شده بر عهده ..... است.</p>
۱	<p>دو مورد از حقوق خود را به عنوان دانش آموز بنویسید.</p>
۱	<p>۲. حق چیست؟</p>
۱	<p>۳. هر کدام از علامت های زیر نشانه چیست؟</p> <div style="display: flex; justify-content: space-around; align-items: center;">   </div>
۰/۵	<p>۴. یک مورد از وظایف شورای نگهبان را بنویسید.</p> <p style="text-align: center;"><b>تلاشی در مسیر موفقیت</b></p>
.۵	<p>۵. مریم عضو بیمه پاسارگاد شده است. بیمه شونده و بیمه گر را مشخص کنید.</p>
.۵	<p>۶. کدام یک از ویژگی های شهر بهبهان طبیعی و کدام انسانی است.</p> <p>دارای کارخانه های سیمان، خرما است ..... با کمبود بارندگی روبرو است.....</p>
۱	<p>۷. زیستگاه را تعریف کنید.</p>
۱	<p>۸. عدم رعایت مقررات و قوانین در جامعه چه مشکلی را به دنبال دارد؟</p>

۱/۲۵	۹. الف: چهار ناحیه آب و هوایی ایران را نام ببرید. ب: نواحی مرکزی ایران دارای کدام نوع آب و هواست؟
۱	۱۰. وظایف جمعیت هلال احمر ← در شرایط عادی -۱ ..... ← در شرایط حادثه -۱ .....
۱	۱۱. دامنه های شمالی و جنوبی البرز چه تفاوتی باهم دارند؟
.۱۷۵	۱۲. نام هر قله را در انتهای فلش بنویسید. 

موفق باشید