


تلاشی در مسیر موفقیت



- دانلود گام به گام تمام دروس ✓
- دانلود آزمون های قلم چی و گاج + پاسخنامه ✓
- دانلود جزوه های آموزشی و شب امتحانی ✓
- دانلود نمونه سوالات امتحانی ✓
- مشاوره کنکور ✓
- فیلم های انگیزشی ✓

 www.ToranjBook.Net

 [ToranjBook_Net](https://t.me/ToranjBook_Net)

 [ToranjBook_Net](https://www.instagram.com/ToranjBook_Net)

نام مبحث : نمونه سوالات علوم اول ابتدایی نوبت دوم (خرداد ماه)


نام استاد : بهزادی

به نام خدا



آزمون علوم اردیبهشت ۹۶ - طراح : بهزادی

نام زیبایت را بنویس:

به سایه ی تصویر نگاه کن و خورشید را بکش!



کدام تصویر گرمای بیشتری دارد؟



نام قسمت های گیاه را رنگ کن.



بدنه



ریشه



ساقه



گل



برگ

کدام جسم در آب فرو می رود؟



مداد



گیره فلزی


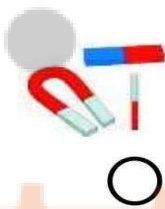


کشتی



بادکنک

کدام یک از اجسام زیر جذب آهن ربا نمی شود؟






تلاشی داریمسیرموفقیت



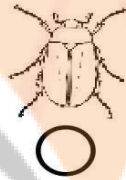

نام مبحث : نمونه سوالات علوم اول ابتدایی نوبت دوم (خرداد ماه)

نام استاد : بهزادی


کدام حیوان گوشت خوار است؟



کدام جانوران برای انسان مشکل ساز هستند؟



کدام وسایل زیر هوا را آلوده می کنند؟



کدام تصویر به هوا احتیاج دارد؟



باز خورد:


تلاشی در مسیر موفقیت



- دانلود گام به گام تمام دروس ✓
- دانلود آزمون های قلم چی و گاج + پاسخنامه ✓
- دانلود جزوه های آموزشی و شب امتحانی ✓
- دانلود نمونه سوالات امتحانی ✓
- مشاوره کنکور ✓
- فیلم های انگیزشی ✓

 www.ToranjBook.Net

 [ToranjBook_Net](https://t.me/ToranjBook_Net)

 [ToranjBook_Net](https://www.instagram.com/ToranjBook_Net)