

دوم دبستان

۱۸ آذر ۱۴۰۱

تعداد کل سؤالات: ۴۰ سؤال
مدت پاسخ‌گویی به آزمون: ۵۵ دقیقه

نام درس	تعداد سؤال	شماره سؤال	وقت پیشنهادی	برنامه‌ی آزمون
ریاضی	۱۰	۱-۱۰	۱۵ دقیقه	عدد و رقم جمع و تفریق اعداد دو رقمی اشکال هندسی (یادآوری شکل‌های هندسی - روابط بین شکل‌ها) صفحه‌ی ۱ تا ۴۵
علوم	۱۰	۱۱-۲۰	۱۵ دقیقه	زنگ علوم، هوای سالم، آب سالم زندگی ما و گردش زمین-۱ زندگی ما و گردش زمین-۲ صفحه‌ی ۱۲ تا ۳۷
علوم (سؤالات آشنا)	۱۰	۲۱-۳۰	۱۵ دقیقه	زنگ علوم، هوای سالم، آب سالم زندگی ما و گردش زمین-۱ زندگی ما و گردش زمین-۲ صفحه‌ی ۱۲ تا ۳۷
فارسی	۱۰	۳۱-۴۰	۱۰ دقیقه	ستایش و کتابخانه‌ی کلاس ما مسجد محله‌ی ما، خرس کوچولو مدرسه‌ی خرگوش‌ها چوپان درستکار فارسی: صفحه‌ی ۲ تا ۳۵ نگارش فارسی: صفحه‌ی ۹ تا ۴۱

بنیاد علمی آموزشی قلم‌پی (وقف عام)

دفتر مرکزی: خیابان انقلاب - بین صبا و فلسطین - پلاک ۹۲۳ - تلفن: ۶۴۶۳ - ۰۲۱

سؤال‌های عادی

دوست فوبم:

در درس های ریاضی، علوم و فارسی ۱۰ سوال ابتدای دفترچه طرح نو(طراحی شده) هستند و با توجه به برنامه‌ی راهبردی فود هر آزمون در یک درس ۱۰ سوال منتفب از کتاب های سه سطحی (سوال های آشنا) داریم. با پاسخ گویی به این دو نوع سوال ها، می توانید ارزیابی بهتری از یادگیری فودتان داشته باشید.

مجموعاً در این دفترچه ۴۰ سوال قرار دارد که پاسخ گویی به این سوالات اجباری است.

گروه آزمون

بنیاد علمی آموزشی قلم چی (وقف عام)



دانش آموز عزیز:

در آزمون قبل به چند سؤال از ۱۰ سؤال پاسخ درست دادی؟
فکر می کنی در این آزمون به چند سؤال از ۱۰ سؤال پاسخ خواهی داد؟ در جدول زیر بنویس.

چند از ۱۰ آزمون قبل	هنگامی چند از ۱۰ برای آزمون امروز
---------------------	-----------------------------------

زمان پاسخ گویی: ۱۵ دقیقه

ریاضی - صفحه های ۱ تا ۴۵ کتاب درسی

۱- اگر عددی که رقم یکانش ۸ و رقم دهگان ۴ باشد را با عددی که رقم یکانش ۱ و رقم دهگان ۲ باشد را

جمع کنیم، پاسخ کدام است؟

۹۶ (۲)

۶۹ (۱)

۶۴ (۴)

۷۰ (۳)

۲- کدام گزینه زمانی که ساعت زیر نشان می دهد را به درستی بیان می کند و کدام ساعت زمان ۷:۰۰ را به درستی


نشان می دهد؟



۱:۰۰ (۴)



۲:۰۰ (۳)




۱:۰۰ (۲)



۲:۰۰ (۱)





۳- حاصل جمع زیر چه عددی است؟

$$10 + 5 + 20 + 5 + 3 =$$

۳۳ (۲)

۳۵ (۱)

۴۳ (۴)

۴۰ (۳)

۴- دارا و یارا از تلویزیون ۲ کارتون دیدند که ۶۳ دقیقه طول کشید. اگر کارتون اول ۳۸ دقیقه باشد، کارتون دوم

چقدر طول کشیده است؟

۳۸ (۲)

۳۷ (۱)

۲۷ (۴)

۲۵ (۳)

$$62 - 5 = \square$$

۵- حاصل عبارت روبه‌رو با کدام عبارت زیر برابر است؟

۵۱ + ۵ (۲)

۴۵ + ۷ (۱)

۵۴ + ۳ (۴)

۶۶ - ۷ (۳)

۶- علی در دو روز آخر این هفته ۳۳ صفحه از کتابش را مطالعه کرده است. اگر روز پنجشنبه ۱۵ صفحه را مطالعه

کرده باشد، روز جمعه چند صفحه را خوانده است؟

۱۶ (۲)

۱۹ (۱)

۱۷ (۴)


۱۸ (۳)



۷- آنا ساعت چهار و نیم به کلاس زبان رفت و بعد از ۲ ساعت برگشت. آنا چه ساعتی به خانه برگشته است؟

- (۱) شش
(۲) هفت
(۳) هفت و نیم
(۴) شش و نیم

۸- با توجه به شکل زیر کدام گزینه نادرست است؟



- (۱) ۱۴ مثلث داریم.
(۲) ۹ عدد دایره داریم.
(۳) ۲ عدد مستطیل داریم.
(۴) تعداد مثلث‌ها ۵ عدد از دایره‌ها بیشتر است.

۹- کدام گزینه مربوط به الگوی عددی زیر است؟ (از چپ به راست)

۶ , ۹ , ۱۲ , ۱۵ , ... , ... , ...

(۲) ۱۸ , ۲۵ , ۲۸

(۱) ۱۸ , ۲۰ , ۲۴

(۴) ۱۸ , ۲۱ , ۲۴

(۳) ۱۶ , ۲۱ , ۲۵

۱۰- ششمین عدد در الگوی زیر کدام است؟

۳ , ۶ , ۱۱ , ۱۸

(۲) ۳۸

(۱) ۲۷

(۴) ۵۰

(۳) ۱۱



دانش آموز عزیز:

در آزمون قبل به چند سؤال از ۱۰ سؤال پاسخ درست دادی؟
فکر می‌کنی در این آزمون به چند سؤال از ۱۰ سؤال پاسخ خواهی داد؟ در جدول زیر بنویس.

چند از ۱۰ آزمون قبل	هدفگذاری چند از ۱۰ برای آزمون امروز
---------------------	-------------------------------------

زمان پاسخ‌گویی: ۱۵ دقیقه

علوم - صفحه‌های ۱۲ تا ۳۷ کتاب درسی

۱۱- شکل‌های زیر نشان می‌دهد که و یکی از شغل‌هایی که فرد در شب هم فعالیت می‌کند است.



(۱) جانداران در شب و روز کارهای متفاوتی انجام می‌دهند - کارمند اداره

(۲) جانداران نیاز به نور خورشید دارند - پرستار

(۳) جانداران در شب و روز کارهای متفاوتی انجام می‌دهند - پرستار

(۴) جانداران نیاز به نور خورشید دارند - کارمند اداره

۱۲- مریم برای خریدن خوشبوترین عطر به عطرفروشی می‌رود. کدام گزینه به او کمک می‌کند؟

(۱) دیدن عطرها

(۲) بوییدن عطرها

(۳) یادداشت برداشتن از مارک عطرها

(۴) لمس کردن شیشه‌ی عطرها





۱۳- کدام یک از آب‌های زیر قابل آشامیدن است؟

- | | |
|------------------|-------------|
| (۱) آب رودخانه | (۲) آب دریا |
| (۳) آب تصفیه شده | (۴) هیچکدام |

۱۴- یک دماسنج را در حیاط، دیگری را در اتاق تاریک و سرد، یکی را در دمای معمولی اتاق و دماسنج بعدی را در

آب جوش قرار دادیم. کدام دماسنج دمای بیش‌تری را نشان می‌دهد؟

- | | |
|----------------------|--------------------------------|
| (۱) دماسنج در حیاط | (۲) دماسنج در اتاق تاریک و سرد |
| (۳) دماسنج در آب جوش | (۴) دماسنج در دمای معمولی |

۱۵- در تابستان جهت خورشید به اتاق نیما است، پس آن مکان است.

- | | |
|----------------------|----------------------|
| (۱) مایل‌تر - سردتر | (۲) راست‌تر - سردتر |
| (۳) مایل‌تر - گرم‌تر | (۴) راست‌تر - گرم‌تر |

۱۶- کدام یک از عوامل زیر باعث غرق شدن کشتی‌ها می‌شود؟

- | | |
|--------------------|------------------|
| (۱) خالی بودن کشتی | (۲) امواج کوچک |
| (۳) طوفان | (۴) بادهای ملایم |

۱۷- کدام یک از گزینه‌های زیر از اثرات خورشید بر زندگی انسان و جانداران نیست؟

- | | |
|-------------------------|-------------------------|
| (۱) روشن و گرم شدن زمین | (۲) رشد گیاهان |
| (۳) آلوده شدن هوا | (۴) قابل سکونت شدن زمین |





۱۸- دلیل سرد بودن زمستان می باشد.

۱) حرکت خورشید به دور ماه

۲) حرکت زمین به دور خودش

۳) مستقیم تابیدن نور خورشید

۴) مایل تابیدن نور خورشید

۱۹- کدام یک از موارد زیر برای تشخیص جهت حرکت باد نمی تواند به ما کمک کند؟

۱) بادنما

۲) جهت حرکت برگ درختان

۳) حرکت ماشین ها

۴) حرکت پرچم مدرسه

۲۰- چرا هوا در روز نسبت به شب گرم تر است؟

۱) چون شبها کوتاه است.

۲) چون در روز مردم فعالیت دارند.

۳) چون در روز خورشید می تابد.

۴) چون هنگام شب، زمین به طور ناگهانی سرد می شود.




هدف آموزش عزیز:

در آزمون قبل به چند سؤال از ۱۰ سؤال پاسخ درست دادی؟
فکر می‌کنی در این آزمون به چند سؤال از ۱۰ سؤال پاسخ خواهی داد؟ در جدول زیر بنویس.

چند از ۱۰ آزمون قبل	هدف‌گذاری چند از ۱۰ برای آزمون امروز
---------------------	--------------------------------------

علوم آشنا (گواه) - صفحه‌های ۱۲ تا ۳۷ کتاب درسی زمان پاسخ‌گویی: ۱۵ دقیقه

۲۱- کدام یک از افراد زیر می‌تواند آنچه را مشاهده کرده است به‌طور دقیق‌تر بیان کند؟



۲۲- اگر دانش‌آموزان برای یک گردش علمی به بوستان رفته باشند، کدام کار را نباید انجام دهند؟

(۲) شنیدن صدای پرندگان

(۱) مشاهده کردن

(۴) چشیدن هر چه که می‌بینند.

(۳) یادداشت‌برداری

۲۳- کدام گزینه درست است؟

(۱) همه‌ی جانداران، برای زندگی و رشد به آب سالم نیاز دارند.

(۲) آب دریا، قابل آشامیدن است.

(۳) گیاهان در کاهش آلودگی هوا، نقشی ندارند.

(۴) آب رودخانه‌ها برای هیچ جانوری قابل آشامیدن نیست.

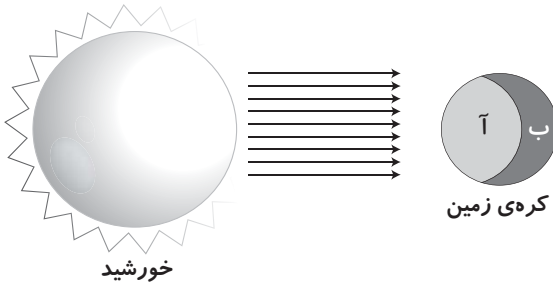


۲۴- کاشتن درخت نریختن زباله در رودخانه‌ها

- ۱) همانند- باعث تخریب محیط زیست می‌شود.
- ۲) برخلاف- باعث تخریب محیط زیست می‌شود.
- ۳) همانند- به حفظ محیط زیست کمک می‌کند.
- ۴) برخلاف- به حفظ محیط زیست کمک می‌کند.

۲۵- با توجه به شکل زیر، کدام گزینه نا درست است؟

- ۱) بیش تر جاندارانی که در قسمت «ب» هستند، در حال استراحت هستند.
- ۲) بیش تر گیاهان قسمت «آ» شرایط لازم برای غذاسازی را دارند.
- ۳) در قسمت «ب» هوا تاریک است.



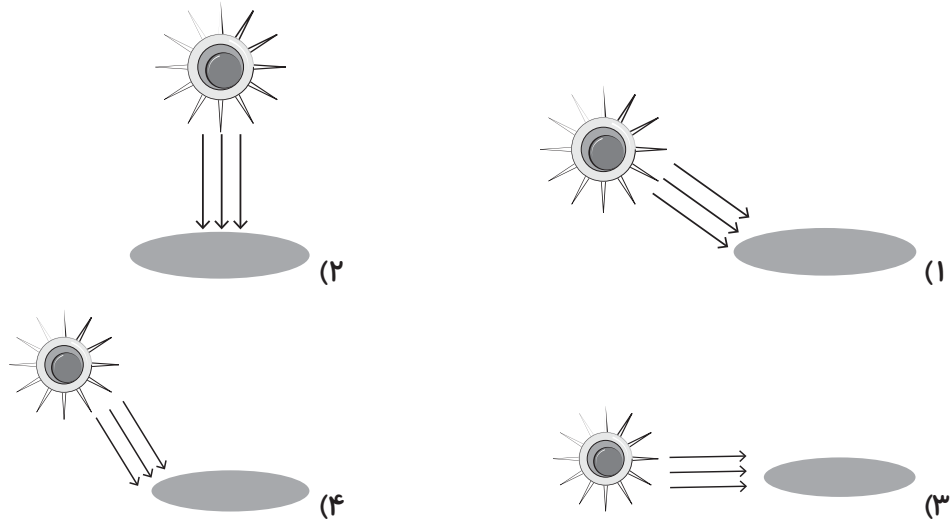
۴) هیچ حیوانی در بخش «ب» در حال فعالیت نیست.

۲۶- کدام یک از گزینه‌های زیر نا درست است؟

- ۱) گیاهان با استفاده از نور خورشید برای جانداران دیگر غذا تهیه می‌کنند.
- ۲) بیش تر گیاهان شب‌ها فعالیت می‌کنند و روزها استراحت می‌کنند.
- ۳) زمین در هر ۲۴ ساعت، یک بار به دور خود می‌چرخد.
- ۴) مقدار کمی از گرما و نور خورشید به کره‌ی زمین می‌رسد.



۲۷- نور خورشید در کدام حالت، یک صفحه‌ی مشکی رنگ را بیش‌تر از بقیه‌ی حالت‌ها گرم می‌کند؟



۲۸- بادنما چیست؟

- (۱) وسیله‌ای است که سرعت باد را نشان می‌دهد.
- (۲) وسیله‌ای است که با استفاده از آن، سردی و گرمی باد مشخص می‌شود.
- (۳) وسیله‌ای است که باد را جابه‌جا می‌کند.
- (۴) وسیله‌ای است که جهت وزش باد را نشان می‌دهد.

۲۹- کدام یک از جمله‌های زیر درباره‌ی باد نادرست است؟

- (۱) باد می‌تواند چیزهای سبک مانند دانه‌های ماسه را جابه‌جا کند.
- (۲) با فرفره نمی‌توان کم یا زیاد بودن سرعت باد را فهمید.
- (۳) باد شدید یکی از عوامل ایجاد موج است.
- (۴) وزیدن باد به خشک کردن لباس‌های خیس کمک می‌کند.

۳۰- گرم‌ترین جای کره‌ی زمین در بین گزینه‌های زیر کدام است؟

- | | |
|--------------|-------------------------|
| (۱) قطب شمال | (۲) قطب جنوب |
| (۳) استوا | (۴) تمام نیمکره‌ی جنوبی |



دانش آموز عزیز:

در آزمون قبل به چند سؤال از ۱۰ سؤال پاسخ درست دادی؟
فکر می‌کنی در این آزمون به چند سؤال از ۱۰ سؤال پاسخ خواهی داد؟ در جدول زیر بنویس.

چند از ۱۰ آزمون قبل	هدفگذاری چند از ۱۰ برای آزمون امروز
---------------------	-------------------------------------

زمان پاسخ‌گویی: ۱۰ دقیقه

فارسی: صفحه‌های ۲ تا ۳۵ کتاب درسی

نگارش فارسی: صفحه‌های ۹ تا ۴۱ کتاب درسی

۳۱- در کدام گزینه، صدای نشانه‌ی «و» در همه‌ی کلمات یکسان است؟

(۱) دوچرخه - استخوان - خورشید

(۲) واردات - توانا - کشور

(۳) خواهش - موز - خواهر

(۴) توپ - روشن - آموزش

۳۲- کدام کلمه درست معنی نشده است؟

(۱) با فرهنگ: کسی که فرهنگ دارد.

(۲) بی‌سواد: کسی که سواد دارد.

(۳) با نظم: کسی که نظم دارد.

(۴) بی‌نیاز: کسی که نیازی ندارد.

۳۳- در کدام گزینه، با حروف به هم ریخته، یک کلمه‌ی نادرست ساخته شده است؟

(۱) ر - ط - ه - ق : قطره

(۲) ا - چ - پ - ن - و : چوپان

(۳) م - ی - ت - ص - م : تصمیم

(۴) س - د - ت - ر : راست



۳۴- در کدام گزینه، دو کلمه مخالف هم نیستند؟

- | | |
|------------------|-----------------|
| (۱) بالا - پایین | (۲) روز - شب |
| (۳) کوتاه - بلند | (۴) قشنگ - زیبا |

۳۵- اگر در بین کلمات زیر، کلمات هم‌معنی را جدا کنیم، کدام واژه اضافی است؟

«آغاز - آموزگار - مواظبت - شروع - مراقب - نگهداری - معلّم»

- | | |
|-------------|-----------|
| (۱) مراقب | (۲) معلّم |
| (۳) نگهداری | (۴) شروع |

۳۶- کدام کلمه از نظر تعداد با سایر کلمات متفاوت است؟

- | | |
|------------|-----------|
| (۱) رها | (۲) شب‌ها |
| (۳) دفترها | (۴) شیرها |

۳۷- علامت نگارشی پایان کدام جمله با سایر جملات متفاوت است؟

(۱) نوه‌های پیرمرد و پیرزن به آن‌ها کمک می‌کردند

(۲) تو باید استراحت کنی تا دوباره سالم شوی

(۳) دلیل این همه سر و صدا چیست

(۴) خرس کوچولو خسته و گرسنه زیر درخت نشسته بود





۳۸- بیت کدام گزینه نادرست است؟

- (۱) پندت دهم فراوان / با آن که بی‌زبانم
- (۲) آن دیگری را، دادم به مادر / دیدم که مانده، یک دانه دیگر
- (۳) گل بازتر شد، با ناز خوابید / پروانه دورش، آرام رقصید
- (۴) پروانه از گل، احوال پرسید / گل گفت: خوبم، پروانه خندید

۳۹- چه تعداد از کلمات زیر از نظر املایی نادرست هستند؟

«سپاس‌گزار - صاحب‌گوسفندان - پرهای‌هنایی - روباه و شغال‌ها - غافل - هوض مسجد - چغندر - بی‌حوصله -

پیغمبر - نصیحت»

- | | |
|--------|----------|
| (۱) دو | (۲) چهار |
| (۳) یک | (۴) سه |

۴۰- با توجه به درس «خرس کوچولو»، بچه فیل برای جنگیدن با میکروب‌ها چه راهی را به خرس کوچولو پیشنهاد

کرد؟

- (۱) استفاده کردن از یک چوب بزرگ
- (۲) خوردن غذاهای مقوی مثل عسل
- (۳) شستن دست‌ها
- (۴) استراحت کردن

