


تلاشی در مسیر موفقیت



- دانلود گام به گام تمام دروس ✓
- دانلود آزمون های قلم چی و گاج + پاسخنامه ✓
- دانلود جزوه های آموزشی و شب امتحانی ✓
- دانلود نمونه سوالات امتحانی ✓
- مشاوره کنکور ✓
- فیلم های انگیزشی ✓

 www.ToranjBook.Net

 [ToranjBook_Net](https://t.me/ToranjBook_Net)

 [ToranjBook_Net](https://www.instagram.com/ToranjBook_Net)

دوم دبستان

۲۱ بهمن ۱۴۰۱

تعداد کل سؤالات: ۴۰ سؤال

مدت پاسخ‌گویی به آزمون: ۵۰ دقیقه

برنامه‌ی آزمون	وقت پیشنهادی	شماره‌ی سؤال	تعداد سؤال	نام درس
<p>عددهای سه رقمی (معرفی پول، ... آمادگی برای جمع و تفریق) اندازه‌گیری (اندازه‌گیری طول، ... اندازه‌گیری دقیق‌تر) صفحه‌های ۵۶ تا ۸۱</p>	۱۵ دقیقه	۱-۱۰	۱۰	ریاضی
<p>پیام رمز را پیدا کن ۲، اگر تمام شود... بسازیم و لذت ببریم و سرگذشت دانه صفحه‌های ۴۶ تا ۶۶</p>	۱۵ دقیقه	۱۱-۲۰	۱۰	علوم
<p>دوستان ما از همه مهربان‌تر و زیارت هنرمند و درس آزاد فارسی: صفحه‌های ۴۲ تا ۷۱ نگارش فارسی: صفحه‌های ۴۷ تا ۷۰</p>	۱۰ دقیقه	۲۱-۳۰	۱۰	فارسی
<p>دوستان ما از همه مهربان‌تر و زیارت هنرمند و درس آزاد فارسی: صفحه‌های ۴۲ تا ۷۱ نگارش فارسی: صفحه‌های ۴۷ تا ۷۰</p>	۱۰ دقیقه	۳۱-۴۰	۱۰	فارسی (سؤالات آشنا)

بنیاد علمی آموزشی قلم‌چی (وقف عام)

دفتر مرکزی: خیابان انقلاب - بین صبا و فلسطین - بلاک ۹۲۳ - تلفن: ۶۴۶۳ - ۰۲۱

سؤال‌های عادی

دوست فوبم:

در درس های ریاضی، علوم و فارسی ۱۰ سوال ابتدای دفترچه طرح نو(طراحی شده) هستند و با توجه به برنامه‌ی راهبردی خود هر آزمون در یک درس ۱۰ سوال منتخب از کتاب های سه سطحی (سوال های آشنا) داریم.
با پاسخ گویی به این دو نوع سوال ها، می توانید ارزیابی بهتری از یادگیری خودتان داشته باشید.

مجموعاً در این دفترچه ۴۰ سوال قرار دارد که پاسخ گویی به این سوالات اجباری است.

گروه آزمون

بنیاد علمی آموزشی قلمچی (وقف عام)

تلاشی در مسیر موفقیت



دانش آموز عزیز:

در آزمون قبل به چند سؤال از ۱۰ سؤال پاسخ درست دادی؟
فکر می‌کنی در این آزمون به چند سؤال از ۱۰ سؤال پاسخ خواهی داد؟ در جدول زیر بنویس.

چند از ۱۰ آزمون قبل	هدف‌گذاری چند از ۱۰ برای آزمون امروز
---------------------	--------------------------------------

زمان پاسخ‌گویی: ۱۵ دقیقه

ریاضی - صفحه‌های ۵۶ تا ۸۱ کتاب درسی

۱- حاصل عبارت کدام گزینه برابر ۹۳ می‌باشد؟


$$\begin{array}{r} 102 \\ -9 \\ \hline \end{array} \quad (4)$$

$$\begin{array}{r} 104 \\ -9 \\ \hline \end{array} \quad (3)$$

$$\begin{array}{r} 101 \\ -9 \\ \hline \end{array} \quad (2)$$

$$\begin{array}{r} 87 \\ +7 \\ \hline \end{array} \quad (1)$$

۲- شکل ششم الگوی زیر چند گوسفند دارد؟



(۱)

(۲)

(۳)

(۴)

(۶)

۲۵ (۲)

۳۶ (۱)

۱۴ (۴)

۱۶ (۳)

۳- باز شده‌ی کدام عدد صحیح است؟

$$542 \rightarrow 500 + 400 + 20 \quad (2)$$

$$609 \rightarrow 600 + 10 + 9 \quad (1)$$

$$721 \rightarrow 70 + 20 + 1 \quad (4)$$

$$691 \rightarrow 600 + 90 + 1 \quad (3)$$

۴- اگر عقربه‌ی بزرگ ساعت روی ۲۰ دقیقه باشد، یک ربع بعد کجا قرار می‌گیرد؟

۳۰ دقیقه (۲)

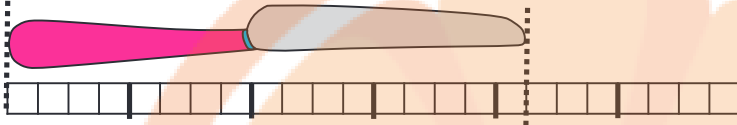
۴۵ دقیقه (۱)

۳۵ دقیقه (۴)

۵۰ دقیقه (۳)

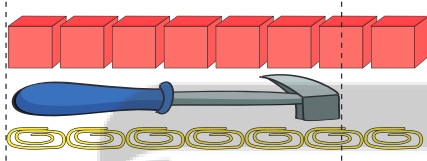


۵- با توجه به شکل زیر، کدام عبارت صحیح است؟




- (۱) اندازه‌ی طول چاقو ۳ و دو است.
 (۲) اندازه‌ی طول چاقو ۵ و یک است.
 (۳) اندازه‌ی طول چاقو ۴ و یک است.
 (۴) اندازه‌ی طول چاقو ۵ و چهار است.

۶- طول چکش زیر با وسایل مختلف اندازه‌گیری شده است. کدام یک از موارد زیر صحیح است؟



- (۱) طول چکش کم‌تر از ۷ چینه و بیش‌تر از ۵ گیره است.
 (۲) طول چکش بیش‌تر از ۷ چینه و کم‌تر از ۸ گیره است.
 (۳) طول چکش کم‌تر از ۶ چینه و بیش‌تر از ۵ گیره است.
 (۴) طول چکش کم‌تر از ۷ چینه و بیش‌تر از ۶ گیره است.

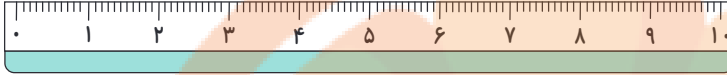
۷- اندازه‌ی شاخه‌ی گل برابر است با:



- (۱) ۲ قسمت بزرگ و ۵ قسمت کوچک‌تر
 (۲) ۴ قسمت بزرگ و ۲ قسمت کوچک‌تر
 (۳) ۳ قسمت بزرگ و ۴ قسمت کوچک‌تر
 (۴) ۲ قسمت بزرگ و ۴ قسمت کوچک‌تر



۸- لیلا و مرتضی دو نوار کاغذی برای اندازه‌گیری درست کرده‌اند. کدام نوار اندازه‌ی دقیق‌تر را نشان می‌دهد؟ چرا؟



لیلا



مرتضی

(۱) هر دو نوار اندازه‌ی دقیق را نشان می‌دهند.

(۲) نوار مرتضی - چون استفاده از آن راحت‌تر است.

(۳) نوار لیلا - چون به قسمت‌های کوچک تقسیم شده است.

(۴) هیچ‌کدام چون خودشان درست کرده‌اند.

۹- در یک پارکینگ روی هم ۶ ماشین و موتور پارک شده است. اگر تعداد چرخ‌های این وسایل نقلیه با هم ۲۰ چرخ

باشند، چند ماشین و چند موتور در پارکینگ است؟ (هر ماشین ۴ چرخ و هر موتور ۲ چرخ دارد).

(۱) ۵ ماشین و ۱ موتور

(۲) ۴ ماشین و ۲ موتور

(۳) ۳ ماشین و ۳ موتور

(۴) ۴ ماشین و ۳ موتور

۱۰- در یک گلدان ۴ گل ۵ پر و ۳ پر وجود دارد. کل پره‌های گل‌های این گلدان ۱۴ پر است. در این گلدان چند گل

۵ پر و چند گل ۳ پر وجود دارد؟

(۱) گل ۵ پر = ۲ و گل ۳ پر = ۲

(۲) گل ۵ پر = ۳ و گل ۳ پر = ۱

(۳) گل ۵ پر = ۱ و گل ۳ پر = ۴

(۴) گل ۵ پر = ۱ و گل ۳ پر = ۳





هدفش آموز عزیز:

در آزمون قبل به چند سؤال از ۱۰ سؤال پاسخ درست دادی؟
فکر می‌کنی در این آزمون به چند سؤال از ۱۰ سؤال پاسخ خواهی داد؟ در جدول زیر بنویس.

چند از ۱۰ آزمون قبل	هدف‌گذاری چند از ۱۰ برای آزمون امروز
---------------------	--------------------------------------

زمان پاسخ‌گویی: ۱۵ دقیقه

علوم - صفحه‌های ۴۶ تا ۶۶ کتاب درسی

۱۱- کدام دسته از صداها کلفت‌تر هستند؟

- | | |
|----------------|--------------------------|
| (۱) سوت - ساعت | (۲) هواپیما - موتورسیکلت |
| (۳) تلفن - طبل | (۴) جوجه - کلاغ |

۱۲- در چه شرایطی سایه کوتاه‌تر است؟

- | | |
|----------------------------|------------------------|
| (۱) نور از سمت چپ بتابد. | (۲) نور از بالا بتابد. |
| (۳) نور از سمت راست بتابد. | (۴) اصلاً نور نتابد. |

۱۳- چرا استفاده از چوب درختان برای پخت غذا توصیه نمی‌شود؟

- | | |
|----------------------------|-------------------------------|
| (۱) جنگل‌ها نابود می‌شوند. | (۲) به محیط زیست آسیب می‌رسد. |
| (۳) هوا آلوده می‌شود. | (۴) همه‌ی موارد |

۱۴- از اژه برای بریدن کدام یک از گزینه‌های زیر استفاده می‌کنیم؟


- | | |
|----------|----------|
| (۱) مداد | (۲) کاغذ |
|----------|----------|

- | | |
|--------|---------------|
| (۳) نخ | (۴) قطعات چوب |
|--------|---------------|





۱۵- کدام میوه از نظر تعداد دانه‌ها به سیب شباهت دارد؟



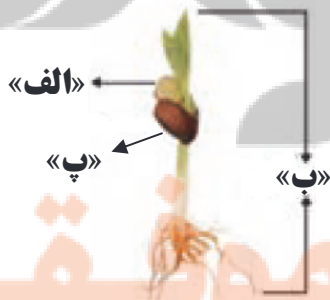
۱۶- چند جمله از جمله‌های زیر، درست است؟

- الف) در ساختن وسایل گاهی لازم است شکل مواد را تغییر دهیم.
 ب) همیشه وقتی چیزی را برای ساختن انتخاب می‌کنیم، باید بتوانیم دقیقاً مثل آن را بسازیم.
 ج) ممکن است وقتی با دست خود چیزی می‌سازیم، احساس شادی داشته باشیم.
 د) بعضی از چیزهایی که به نظر بی‌ارزش می‌آیند، می‌توانند در ساختن وسایل به ما کمک کنند.

(۱) ۴ (۲) ۳
(۳) ۲ (۴) ۱

۱۷- یزدان دانش‌آموز کلاس دوم است. کدام یک از گزینه‌های زیر، نام‌گذاری او را برای نقاط مشخص شده به

درستی نشان می‌دهد؟



- (۱) الف: اندوخته، ب: ساقه، پ: ریشه
 (۲) الف: پوسته، ب: گیاهک، پ: ریشه
 (۳) الف: پوسته، ب: ساقه، پ: اندوخته
 (۴) الف: اندوخته، ب: گیاهک، پ: پوسته





۱۸- کدام گزینه درست است؟

- ۱) استفاده از وسایل نقلیه‌ی عمومی به جای خودروهای شخصی تک‌سرنشین، هوا را آلوده می‌کند.
- ۲) وقتی ماشین متوقف است باید آن را خاموش نکنید تا در مصرف بنزین صرفه‌جویی شود.
- ۳) سوخت قایق پارویی و قطار یکسان است.
- ۴) در ایران از گرما و نور خورشید در بعضی از آب‌گرمکن‌ها استفاده می‌شود.

۱۹- موارد کدام گزینه صحیح است؟

- الف: در زمان‌های گذشته با استفاده از سایه، ساعت شنی درست می‌کردند و زمان را از روی آن تعیین می‌کردند.
- ب: نگاه کردن به خورشید به‌طور غیرمستقیم باعث آسیب دیدن چشم‌های شما می‌شود.
- ج: حشره‌ی شب‌تاب در تاریکی شب، مقداری نور سبز از خود تولید می‌کند.

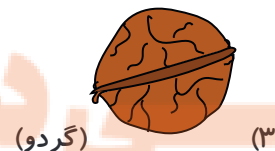

ب (۲)

الف (۱)

ج (۴)

هیچ کدام (۳)

۲۰- مادر زهرا از کدام دانه نمی‌تواند برای تهیه‌ی ناهار استفاده کند؟





دانش آموز عزیز:

در آزمون قبل به چند سؤال از ۱۰ سؤال پاسخ درست دادی؟
فکر می‌کنی در این آزمون به چند سؤال از ۱۰ سؤال پاسخ خواهی داد؟ در جدول زیر بنویس.

چند از ۱۰ آزمون قبل	هدف‌گذاری چند از ۱۰ برای آزمون امروز
---------------------	--------------------------------------

زمان پاسخ‌گویی: ۱۰ دقیقه

فارسی

فارسی: صفحه‌های ۴۲ تا ۷۱ کتاب درسی - نگارش فارسی: صفحه‌های ۴۷ تا ۷۰ کتاب درسی

۲۱- در عبارت کدام گزینه، کلمات مخالف وجود ندارد؟

(۱) در آسمان، ستاره‌های بزرگ و کوچک را می‌دیدم.

(۲) پرنده‌ی زیبا بالای درخت لانه ساخته بود.

(۳) علی شب‌ها زود می‌خوابید تا روزها سر حال باشد.

(۴) چوپان همیشه راست می‌گفت و هیچ‌کس از او دروغ نشنیده بود.

۲۲- در کدام گزینه، معنی هر دو کلمه به درستی بیان شده است؟

(۱) کوشا: پرتلاش / غصّه: داستان

(۲) سرگرم: مشغول / سعی می‌کنم: می‌خواهم

(۳) زیرک: باهوش / تماشا کردن: نگاه کردن

(۴) منظم: مرتب / تمیز: زیبا

۲۳- نشانه‌ی «ی» در پایان چه تعداد از واژه‌های زیر، صدای «آ» می‌دهد؟

«نشانی / مهدی / علمی / کاغذی / کبری / هدی»

(۲) یک

(۱) دو

(۴) سه

(۳) چهار





۲۴- اگر کلمات هم معنی را دو به دو به هم وصل کنیم، کدام کلمه اضافی می ماند؟

«حرف / یاری / صحبت / خیلی / شجاع / مهربانی / محبت / نترس / زیاد»

- | | |
|----------|----------|
| (۱) خیلی | (۲) یاری |
| (۳) محبت | (۴) شجاع |

۲۵- صورت مرتب شده‌ی کلمه‌های زیر در کدام گزینه به درستی آمده است؟

«انسان‌های - که - می دانم - تو - داری - من - مهربان - دوست - را»

- (۱) تو دوست داری انسان‌های مهربان را که می دانم من.
- (۲) من انسان‌های مهربان را دوست داری تو می دانم.
- (۳) می دانم که من و تو انسان‌های مهربان را دوست داری.
- (۴) من می دانم که تو انسان‌های مهربان را دوست داری.

۲۶- کدام گزینه نادرست است؟

- (۱) بت‌خانه یعنی جایی که در آن بت نگهداری می کنند.
- (۲) داروخانه یعنی جایی که در آن دارو می فروشند.
- (۳) وضوخانه یعنی جایی که در آن وضو می گیرند.
- (۴) چاپ‌خانه یعنی جایی که در آن کتاب می فروشند.

۲۷- تغییر جمله در کدام گزینه، مانند نمونه‌ی زیر صورت نگرفته است؟

«حسین به مسافرت می رود. ← حسین به مسافرت خواهد رفت.»

- (۱) مریم کتاب می نویسد. ← مریم کتاب خواهد نوشت.
- (۲) به کتاب‌خانه می رویم. ← به کتاب‌خانه خواهیم رفت.
- (۳) هوا ابری است. ← هوا ابری می شود.
- (۴) او قصه می خواند. ← او قصه خواهد خواند.





۲۸- در کدام گزینه، هر دو کلمه از نظر املايي صحيح هستند؟

- (۱) حرم امام رضا (ع) - اذان
- (۲) زحمت کش - هاضر
- (۳) طاغچه - حوصله
- (۴) احترام - معذرت خواهی

۲۹- کدام گزینه نا درست است؟

- (۱) دعا یعنی حرف زدن با خدا.
- (۲) در موقع دعا، از خدا یاری می خواهیم.
- (۳) ما برای پدرها و مادرها و پدربزرگها و مادربزرگها دعا می کنیم.
- (۴) خدا فقط کسانی را که با بچه های کوچک تر مهربان باشند، دوست دارد.

۳۰- در عبارت زیر، منظور از «گل های شاداب» کدام است؟

«چه کلاس شاد و بانشاطی! چه دانش آموزان دوست داشتنی و سخت کوشی! این گل های شاداب را چه کسی پرورش داده است؟ معلم؛ همان معلم مهربان و دانایی که دوست ماست.»

- (۱) دانش آموزان
- (۲) گل های باغچه
- (۳) معلمان
- (۴) کتاب ها





دانش آموز عزیز:

در آزمون قبل به چند سؤال از ۱۰ سؤال پاسخ درست دادی؟
فکر می‌کنی در این آزمون به چند سؤال از ۱۰ سؤال پاسخ خواهی داد؟ در جدول زیر بنویس.

چند از ۱۰ آزمون قبل	هدف‌گذاری چند از ۱۰ برای آزمون امروز
---------------------	--------------------------------------

زمان پاسخ‌گویی: ۱۰ دقیقه

فارسی آشنا (گواه)

فارسی: صفحه‌های ۴۲ تا ۷۱ کتاب درسی - نگارش فارسی: صفحه‌های ۴۷ تا ۷۰ کتاب درسی

۳۱- برای اشاره به دو تصویر زیر به ترتیب از راست به چپ کدام عبارت‌ها مناسب هستند؟



تصویر (ب)



تصویر (الف)

- (۱) آن درخت - همین درخت
- (۲) همین درخت - آن درخت
- (۳) همان درخت - آن درخت
- (۴) این درخت - همین درخت

۳۲- به انتهای کدام واژه نمی‌توانیم «فروش» اضافه کنیم و کلمه‌ی جدید و معناداری بسازیم؟

(۲) سبزی

(۱) پارچه

(۴) میوه

(۳) آهنگ

۳۳- کدام بیت نادرست است؟

- (۱) دست بردم تا بگیرم، او پرید / برگی انگار از درختی چیده شد
- (۲) دیده می‌شد بال‌های شاپرک / روی شیشه مثل یک رنگین کمان
- (۳) شاپرک آمد کنار پنجره / روی شیشه، مثل برگی دیده شد
- (۴) آفتاب مهربان چون کودکی / بال‌های نازکش را ناز کرد





۳۴- کدام گزینه صحیح است؟

- (۱) پسر عمو از بستگان مادری است.
- (۲) پسر عمه از بستگان پدری است.
- (۳) دختر خاله از بستگان پدری است.
- (۴) پسر دایی از بستگان پدری است.

۳۵- جمله‌ی کدام گزینه نادرست است؟

- (۱) محسن دیروز با برادرش به بوستان می‌رود.
- (۲) گربه تمام غذای داخل ظرف را خورد.
- (۳) سارا کتاب آموزنده‌ای از کتاب‌خانه امانت گرفته بود.
- (۴) خانواده‌ی هاشمی دسته جمعی به اهواز رفتند.

۳۶- به کدام گروه از کلمات زیر، می‌توان به ترتیب «بی - هم - نا» را اضافه کرد و واژه‌های جدید و معناداری ساخت؟

- | | |
|-------------------------|--------------------------|
| (۱) پایان - میهن - امید | (۲) نهایت - سلیقه - گریه |
| (۳) مانند - کتاب - راحت | (۴) صدا - سایه - هنر |

۳۷- کدام گزینه متفاوت است؟

- (۱) من دانش آموز هستم. ← من دانش آموز خواهم شد.
- (۲) علی عکاس است. ← علی عکاس خواهد شد.
- (۳) از پدرم می‌خواهم. ← از پدرم می‌خواستم.
- (۴) پدر با مهربانی می‌گوید. ← پدر با مهربانی خواهد گفت.





۳۸- در کدام گزینه، کلمه‌ای وجود دارد که از نظر ساختاری مشابه «داروخانه» (دارو + خانه) است؟

- (۱) من سال گذشته به زیارت خانه‌ی خدا رفتم.
- (۲) محدثه برای مهمانی به خانه‌ی عمویش رفت.
- (۳) خانه‌ی دوستم بسیار بزرگ بود.
- (۴) علی برای ورزش کردن به زورخانه رفت.

۳۹- با توجه به حکایت «کودک زیرک»، بچه‌ی همسایه چگونه آتش را از دانشمند گرفت و برد؟

- (۱) درون آتشدان گذاشت.
- (۲) درون یک کاسه گذاشت.
- (۳) آتش را روی خاکستر گذاشت.
- (۴) با سر چوب آتش را بُرد.

۴۰- با توجه به عبارت زیر، چه کسی هنرمندتر است؟

«هر کاری با دقت و فکر انجام شود، هنر است.»

- (۱) سارا نقاشی‌های زیبایی می‌کشد، اما در نقاشی‌هایش خطای زیادی وجود دارد.
- (۲) سوسن هنگام آشپزی بسیار دقیق است و هیچ کاری را بدون فکر و مشورت انجام نمی‌دهد.
- (۳) محمد استعداد فوق‌العاده‌ای در سفالگری دارد، اما کارش را با بی‌دقتی و بی‌حوصلگی انجام می‌دهد.
- (۴) کیوان هنگام نوشتن داستان، از پدرش مشورت می‌گیرد.




تلاشی در مسیر موفقیت



- دانلود گام به گام تمام دروس ✓
- دانلود آزمون های قلم چی و گاج + پاسخنامه ✓
- دانلود جزوه های آموزشی و شب امتحانی ✓
- دانلود نمونه سوالات امتحانی ✓
- مشاوره کنکور ✓
- فیلم های انگیزشی ✓

 www.ToranjBook.Net

 ToranjBook_Net

 ToranjBook_Net