

نام:		باسمه تعالی																
نام خانوادگی:		سازمان آموزش و پرورش استان فارس																
نام پدر:		مدیریت آموزش و پرورش شهرستان فسا																
شماره دانش آموزی :		کارشناسی سنجش و ارزشیابی تحصیلی																
نام درس: جغرافیای (۲)		(مهر آموزشگاه)																
نام دبیر: مریم امیله		رشته: انسانی																
نام و نام خانوادگی دبیر:		پایه و شعبه: یازدهم																
نمره به عدد:		نام آموزشگاه: حافظ																
تاریخ وامضاء:		تاریخ امتحان: ۱۴۰۱/۱۰/۲۱																
نمره به حروف:		ساعت شروع: ۸ صبح																
تاریخ وامضاء:		مدت امتحان: ۷۰ دقیقه																
نمره به عدد:		نمره به حروف:																
تاریخ وامضاء:		تاریخ وامضاء:																
ردیف	سوالات	بارم																
۱	درستی و نادرستی جملات زیر را مشخص کنید؟ الف- ویژگی اصلی هر ناحیه، وحدت و همگونی نسبی عناصر طبیعی و انسانی در آن است. ب- مایل بودن محور زمین موجب می شود که اشعه خورشید به مناطق استوایی مایل بتابد. ج- با حرکت از کانون یک ناحیه به اطراف، تغییر در ویژگی های آن صورت نمی گیرد. د- کمربند های فشار در دو نیمکره شمالی و جنوبی قرینه هستند. ه- ناحیه صنعتی رور در کشور فرانسه قرار دارد. ی- نواحی انسانی در بستر نواحی طبیعی به وجود می آیند.	۱/۵																
۲	با انتخاب کردن کلمات مناسب جملات را کامل کنید. (۳ مورد اضافی است) (بادی-سرد-یاردانگ-دره مرگ - یخچالی- دما-آب های زیر زمینی-رگ -بیابان لوت) الف- بیابان های عمدتادر عرض جغرافیایی بالا یا در ارتفاعات زیاد قرار دارند. ب-دره های U شکل معمولا بر اثر فرسایش..... طی هزاران سال پدید آمده اند. ج- در چاله های بادی نقش مهمی در عمق آن ها دارد. د- اسم دیگر کلوت می باشد. ه-دمای ۷۰ درجه سانتی گراد را برای به عنوان داغ ترین نقطه زمین ثبت کردند ی- وایتکر در طبقه بندی زیست بوم به دو عامل بارش و توجه کرد.	۱/۵																
۳	باتوجه به معیار های کوپن در طبقه بندی آب و هوایی جدول زیر را کامل کنید؟	۱																
	<table border="1"> <thead> <tr> <th>علامت آب و هوا</th> <th>نام آب و هوا</th> <th>پوشش گیاهی</th> </tr> </thead> <tbody> <tr> <td>A</td> <td>.....</td> <td>جنگل های بارانی</td> </tr> <tr> <td>.....</td> <td>خشک</td> <td>نامناسب برای رویش گیاه</td> </tr> <tr> <td>C</td> <td>معتدل</td> <td>.....</td> </tr> <tr> <td>E</td> <td>.....</td> <td>نامناسب برای رویش گیاه</td> </tr> </tbody> </table>	علامت آب و هوا	نام آب و هوا	پوشش گیاهی	A	جنگل های بارانی	خشک	نامناسب برای رویش گیاه	C	معتدل	E	نامناسب برای رویش گیاه		
علامت آب و هوا	نام آب و هوا	پوشش گیاهی																
A	جنگل های بارانی																
.....	خشک	نامناسب برای رویش گیاه																
C	معتدل																
E	نامناسب برای رویش گیاه																

سوالات صفحه ۲														
۰/۷۵	به سوالات زیر پاسخ کوتاه دهید. الف- انواع هوازدگی را نام ببرید؟	۴												
۰/۵	ب- انواع سواحل را نام ببرید؟													
۱	ج- انواع یخرفت را بنویسید؟													
۰/۷۵	د- سه مورد از راهکار های حفاظت از نواحی ساحلی را بنویسید؟													
۰/۵	ه- جبهه را تعریف کنید؟													
۰/۵	ی- منحنی میزان را تعریف کنید؟													
۱	شماره های ستون چپ را جلوی موارد منطبق با آن در ستون راست بنویسید. (دو مورد اضافی) <u>چپ</u> ۱- اشکال کارستی ۲- تپه های ماسه ای ۳- پهن برگ ۴- سوزنی برگ ۵- حرکت ورقه ها ۶- فرسایش کاوشی <u>راست</u> تایگا پیدایش کوههای آتشفشانی غار علی صدر دود کش جن	۵												
۱	کانون های فشار را روی نیمکره شمالی مشخص کنید؟ 	۶												
۱/۵	جدول زیر را کامل کنید؟ <table border="1" data-bbox="438 1724 1141 1937"> <tr> <td>یک محدودیت</td> <td>یک قابلیت</td> <td>نواحی</td> </tr> <tr> <td></td> <td></td> <td>بیابانی</td> </tr> <tr> <td></td> <td></td> <td>ساحلی</td> </tr> <tr> <td></td> <td></td> <td>کوهستانی</td> </tr> </table>	یک محدودیت	یک قابلیت	نواحی			بیابانی			ساحلی			کوهستانی	۷
یک محدودیت	یک قابلیت	نواحی												
		بیابانی												
		ساحلی												
		کوهستانی												

سوالات صفحه ۳		
از بین ۸ سوال زیر فقط به ۵ سوال پاسخ دهید		
۵	<p>الف- منظور از تولید ناخالص و تولید خالص اولیه (NPP) چیست؟</p> <p>ب- چه رابطه ای بین ارتفاع و پوشش گیاهی وجود دارد؟</p> <p>ج- تفاوت فلات ها و کوه ها را بنویسید؟</p> <p>د- بوم سازگان (اکوسیستم) را تعریف کنید؟</p> <p>م- یخچال ها چگونه پدید می آیند؟</p> <p>و- ناحیه را تعریف کنید؟</p> <p>ه- بارندگی همرفتی را توضیح دهید؟ اشی در مسیر موفقیت</p> <p>ی- چه عواملی باعث شدت فرسایش در بیابان ها می شوند؟</p>	۸
۱	<p>در شکل زیر:</p> <p>الف- ارتفاع نقطه A چقدر است؟</p> <p>ب- ارتفاع نقطه B چقدر است؟</p> <p>ج- میزان شیب در امتداد AB بیشتر است یا CD ؟ چرا؟</p> 	۹

سوالات صفحه ۴		
۰/۵	<p>با توجه به تصاویر زیر نوع عارضه طبیعی را بنویسید؟</p> <p>.....</p>	۱۰
۲	<p>گزینه صحیح را انتخاب کنید؟</p> <p>۱- کدام ناحیه طبیعی مرز بین سه استان سیستان و بلوچستان، خراسان جنوبی، کرمان می باشد. الف- بیابان لوت ب- دشت کویر ج- کوه سیستان د- علم کوه</p> <p>۲- کدام مورد از زبان های اصلی سوئیس نمی باشد؟ الف- رمانش ب- انگلیسی ج- آلمانی د- فرانسه</p> <p>۳- کدام دین کمترین پیروان را در کشور هندوستان دارد. الف- مسیحیت ب- هندو ج- بودا د- سیک</p> <p>۴- اسم دیگر خطوط منحنی های هم فشار می باشد. الف- هکتو پاسکال ج- ایزو بار ب- آنتی سیکلون د- سیکلون</p> <p>۵- کدام یک از گزینه های زیر از ویژگیهای اصلی بیابان می باشند؟ الف- بارش کم- تبخیر زیاد ج- فشار- پوشش گیاهی ب- بارش کم - پوشش گیاهی د- تبخیر - فشار</p> <p>۶- کدامیک از گزینه های زیر از ویژگیهای تلماسه نمی باشند؟ الف- بر اثر وزش باد و جابه جا شدن ماسه و شن پدید می آیند. ب- بر اثر برخورد باد به یک مانع و بر جای گذاشتن ذرات شن و ماسه بوجود می آید. ج- یکی از ویژگیهای ماسه ای حرکت در جهت وزش باد است. د- در انگلیسی به هودو (hadoo) مشهور است.</p> <p>۷- برجسته ترین کلوت ها در بیابان لوت در منطقه در استان وجود دارد. الف- شرق-شهداد- کرمان ب- غرب-شهداد- کرمان ج- غرب-شهداد- یزد د- شرق-شهداد- یزد</p> <p>۸- باد در کدام نواحی زیر نقش بیشتری در فرسایش دارد؟ الف- قطبی ب- معتدل ج- بیابان د- کوهستان</p>	۱۱
۲۰	<p>موفق و پیروز باشید</p>	

جغرافیای یازدهم / دبیرستان حافظ مسما / زهراسن زاده مقدم

۲۱۳۰۸۱۷۵۵۶

۱ الف ص

با غ

جا غ

10

۶ ص

ها غ

یا ص

۲ الف سرد

با یغوالی

جا آب های زیر زمینی

12

۶ یار داند

ص بیان نوت

ی دما


۳

14

استوایی

B

مناسب برای چندل های خزان دار



16

۴

18

الف فیزیکی - شیمیایی - باطل است و ماهی - و اول صغری

حج گناری - صای - زبرین - یایی

۶ زهکشی اراضی - املی - پاک سازی از کودگی - حفاظت از تپه های ماهی

20

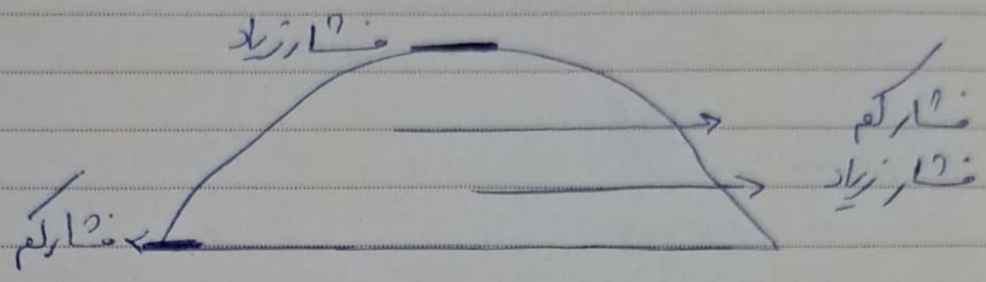
ه) جیبها مندر بین دو توده هوای صغیر و بزرگ آنها را از هم جدا می کنند

ی) خطی است که نقاطی را که آنرا یک یک دارند به یکدیگر وصل می کنند

22

- ۵۱) تائید (۴)
- بیاض کوهی (۵)
- غار علی سرد (۱)
- دولت حسن (۶)

۷۶



۷۷

- بیابانی
- کوه دشتی
- کوه سرد آب و غلظت آبی
- ساحلی
- ما صبری
- بالا آکسن سطح آب
- کوهستانی
- مکان
- مکان زمین محل و نقل

۷۸

الف) بیجان در نتیجه فتوسنتز موادی تولید می کنند به این تولید ناخالص می گویند. بینه مقدار کار این

مواد را برای افع نیز فرد مصرف می کنند آنچه باقی می ماند تولید ناخالص اولیه است

ب) بیجان و جانوران در ارتفاع معنی کار به زمین اند. هر چه ارتفاع افزایش می یابد تعداد تولید ناخالص

کاهش می یابد.

ج) حرارتی مدفعی اند اما کوه های قله است و هر چه به قله می رود بارش کم می شود اما غلظت

مدفع و تبنا سطح است

د) مجموعه ای از موجودات زنده را با یکدیگر و با محیطی که در آن زندگی می کنند در ارتباط و تعامل اند


۲) در برف کوهستان ها برف و یخ دائمی وجود دارد. وقتی بارش برف پس از صدمه آن برف آن در حال بارش

برف اضافی انباشته و متراکم می شوند و نفوذ آن از لایه های یخبندان و یخچال ها به وجود می آید.

و بعضی از سطح زمین که در آن گیاهان مفایده‌ای حملون و خاصی دارد به طوری که با فضیله‌های
مجاور خود متفاوت است.

همچنین در این بارندگی‌ها از سوی مجاور خود که در آنجا با بالابردن‌های آن پهنی می‌آید و
ابتدای گل می‌شود و بارندگی قدرت می‌گیرد

و در این آب و هوای خشک - وزش باد سرد - و بعد خاک نرم - فقر پوک گیاهی



تلاشی در مسیر موفقیت

۹ الف ۱۶۰

۱۴ ج ۷۵

۱۵ بختان

۱۱ الف ۱۵

۱۲ ب ۱۵

۱۳ ج ۱۵

۱۸ ج ۱۵

۱۹ الف ۱۵

۲۰ ج ۱۵

۲۱ ب ۱۵

۲۲ ج ۱۵