
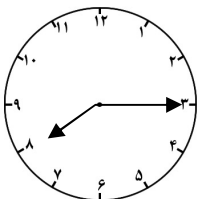
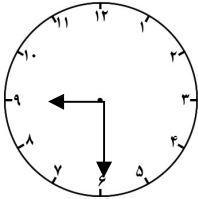
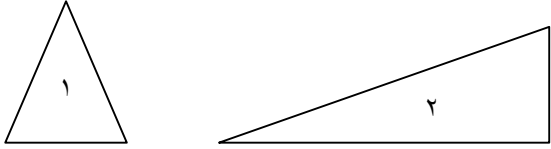

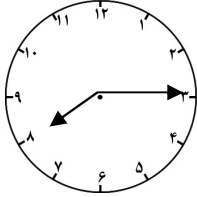
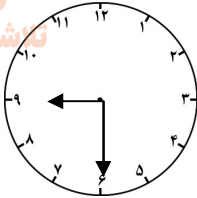
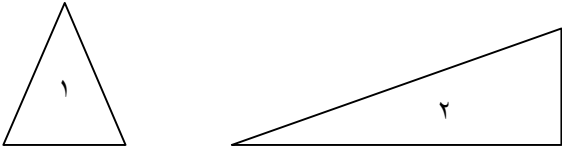


نام و نام خانوادگی		به نام خدا		کلاس دوم ج	
استان کرمان شهرستان رفسنجان		آزمون ریاضی ترم اول سال تحصیلی		طراح سوال : عبدالهی	
		دبستان دخترانه شهید پور جندقی			
۱	پاسخ صحیح را با علامت X مشخص کنید.	درست <input type="checkbox"/>	نادرست <input type="checkbox"/>	درست <input type="checkbox"/>	نادرست <input type="checkbox"/>
	نیم ساعت همان ۳۰ دقیقه است .	درست <input type="checkbox"/>	نادرست <input type="checkbox"/>	درست <input type="checkbox"/>	نادرست <input type="checkbox"/>
	عدد ۴۸ به ۴۰ نزدیک است.	درست <input type="checkbox"/>	نادرست <input type="checkbox"/>	درست <input type="checkbox"/>	نادرست <input type="checkbox"/>
۲	گزینه ی صحیح را با علامت X مشخص کنید.				
	- کدام یک از عددهای زیر ۱ صدتایی ، ۴ ده تایی و ۳ یکی دارد؟				
	الف ( <input type="checkbox"/> ۱۳۴ )	ب ( <input type="checkbox"/> ۳۴۱ )	ج ( <input type="checkbox"/> ۱۴۳ )	د ( <input type="checkbox"/> ۴۱۳ )	
	- ساعت کلاس ساعت ۸:۱۵ را نشان می دهد . عقربه ی دقیقه شمار روی چه عددی قرار دارد؟				
	الف ( <input type="checkbox"/> ۱ )	ب ( <input type="checkbox"/> ۶ )	ج ( <input type="checkbox"/> ۳ )	د ( <input type="checkbox"/> ۹ )	
۳	در جای خالی عدد یا عبارت مناسب بنویسید.				
	با کارت ۲ و ۵ ..... عدد دو رقمی می توانیم بنویسیم .				
	با رقم هی ۲ و ۵ ..... عدد دو رقمی می توانیم بنویسیم .				
	۷ دسته ی ده تایی منهای ۳ دسته ی ده تایی می شود .....				
۴	مقایسه کنید و علامت مناسب بگذارید ( < = > )				
	۵۶۷ <input type="checkbox"/> ۲۲۶	۱۰۳ <input type="checkbox"/> ۳۰۱	۹۸۰ <input type="checkbox"/> ۸۹۰	۸۰ <input type="checkbox"/> ۱۰۰	
۵	به رقم بنویسید .				
	چهارصد و نه	هشتصد و هفتاد و پنج			
۶	به حروف بنویسید.				
	۳۴۹.....	۵۰۸ .....			
۷	سکه ی روبرو را می توان با چند سکه ی ۱۰۰ ریالی و چند سکه ی ۱۰ ریالی عوض کرد .				
					
۸	زمانی که هر ساعت نشان می دهد را به دو صورت بنویسید .				
	.....				
					
	.....				
					
	.....				

۹	<p>دو شکل زیر هر دو مثلث هستند چه تفاوت و شباهت هایی با هم دارند .</p> <p>تفاوت : شباهت :</p> 
۱۰	<p>جواب جمع و تفریق ها را به صورت تقریبی به دست آورید.</p> <p>۵۳ → .....      ۶۸ → ..... +۲۹ → .....      -۴۱ → ..... _____      _____</p>
۱۱	<p>حاصل جمع و تفریق زیرا از راه فرایندی ( چکمه ای ، چکشی ) بدست آورید . ( با رسم شکل )</p> <p>۲۲                      ۶۰ +۵۶                      -۱۴ _____                      _____</p>
۱۲	<p>همه ی عدد های دو رقمی که رقم یکان آن ۳ و ۴ و رقم دهگان آن ۵ و ۷ باشد را بنویسید.</p>
۱۳	<p>با رقم های ۷ و ۸ چند عدد دو رقمی می توان نوشت ؟ آن ها را بنویسید .</p> <p>.....</p>
۱۴	<p>الف ) زهرا ۲۴ صدف از ساحل دریا جمع کرد و به برادرش علی که ۴۹ صدف جمع کرده بود داد حالا برادر زهرا چند صدف دارد؟</p> <p>ب) علی از صدف هایش ۴۵ تا را انتخاب کرد و با آن ها یک کاردستی درست کرد . حالا چند صدف برایش باقی مانده است؟</p>
۱۵	<p>الگوها رو ادامه بده .</p> <p>۵۳۱ - ۵۳۲ - - - - - ۱۰۰ - ۲۰۰ - - - - -</p>

پاسخنامه		به نام خدا		کلاس دوم ج	
استان کرمان شهرستان رفسنجان		آزمون ریاضی ترم اول سال تحصیلی		طراح سوال : عبدالهیی	
دبستان دخترانه شهید پور جندقی					
۱	الف ( درست ب) نادرست				
۲	الف ( ج ب) ج				
۳	با کارت ۲ و ۵ دو عدد دو رقمی می توان بنویسیم . با رقم های ۲ و ۵ چهار عدد دو رقمی می توانیم بنویسیم . ۷ دسته ی ده تایی منهای ۳ دسته ی ده تایی می شود ۴ دسته ی ده تایی				
۴	۵۶۷ < ۲۲۶    ۱۰۳ > ۳۰۱    ۹۸۰ < ۸۹۰    ۸۰ > ۱۰۰				
۵	۴۰۹ چهارصد و نه    ۸۷۵ هشتصد و هفتاد و پنج				
۶	سیصد و چهل و نه ۳۴۹    پانصد و هشت ۵۰۸				
۷	دو سکه ۱۰۰ ریالی و ۵ سکه ۱۰ ریالی				
۸	نه و نیم    ۹ : ۳۰	<p>هشت و ربع</p>  <p>۸ : ۱۵</p> 			
۹	تفاوت : در شکل شماره ۱ ضلع ها مساوی هستند اما در شکل شماره ۲ ضلع ها مساوی نیستند	 <p>شباهت : هر دو شکل ۳ گوشه و ۳ ضلع دارند</p>			
۱۰	$\begin{array}{r} 53 \rightarrow 50 \\ +29 \rightarrow 30 \\ \hline 80 \end{array}$	$\begin{array}{r} 68 \rightarrow 70 \\ -41 \rightarrow 40 \\ \hline 30 \end{array}$			

$\begin{array}{r} 22 \\ +56 \\ \hline +72 \\ 6 \end{array}$	$\begin{array}{r} 60 \\ -14 \\ \hline +50 \\ 4 \end{array}$	۱۱
---	---	----

<table border="1" style="width: 100%; border-collapse: collapse;"> <tr> <th style="width: 50%;">یکان</th> <th style="width: 50%;">دهگان</th> </tr> <tr> <td style="text-align: center;">۳</td> <td style="text-align: center;">۵</td> </tr> <tr> <td style="text-align: center;">۴</td> <td style="text-align: center;">۵</td> </tr> <tr> <td style="text-align: center;">۳</td> <td style="text-align: center;">۷</td> </tr> <tr> <td style="text-align: center;">۴</td> <td style="text-align: center;">۷</td> </tr> </table>	یکان	دهگان	۳	۵	۴	۵	۳	۷	۴	۷	$\begin{array}{c} 3 \rightarrow 53 \\ 5 \swarrow \searrow \\ 3 \rightarrow 53 \\ 4 \rightarrow 54 \end{array}$	$\begin{array}{c} 3 \rightarrow 73 \\ 7 \swarrow \searrow \\ 3 \rightarrow 73 \\ 4 \rightarrow 74 \end{array}$	۱۲
یکان	دهگان												
۳	۵												
۴	۵												
۳	۷												
۴	۷												

۸۷ - ۷۸ - ۸۸ - ۷۷

$\begin{array}{r} 14 \\ +49 \\ \hline +54 \\ 9 \end{array}$	<p>الف) حالا برادر زهرا ۶۳ صدف دارد.</p>	۱۴
$\begin{array}{r} 63 \\ +45 \\ \hline -23 \\ 5 \\ \hline 18 \end{array}$	<p>ب) علی ۱۸ صدف برایش باقی مانده است.</p>	

۵۳۱-۵۳۲-۵۳۳-۵۳۴-۵۳۵-۵۳۶-۵۳۷-۵۳۸-۵۳۹-۵۴۰  
 ۱۰۰-۲۰۰-۳۰۰-۴۰۰-۵۰۰-۶۰۰-۷۰۰-۸۰۰-۹۰۰