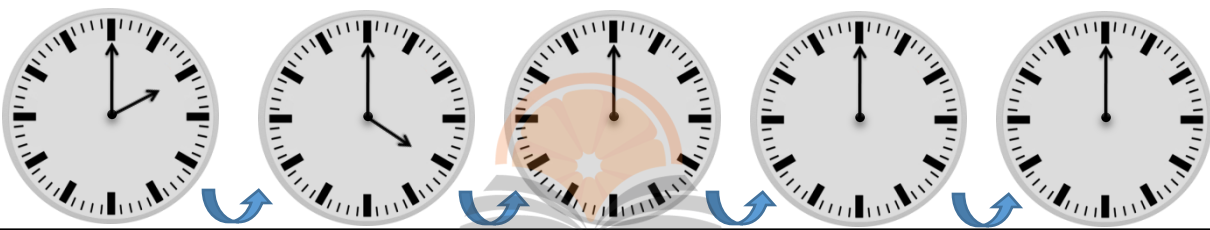
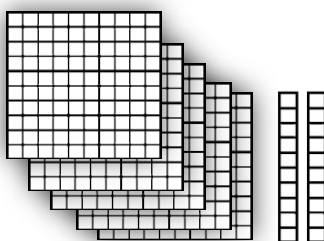



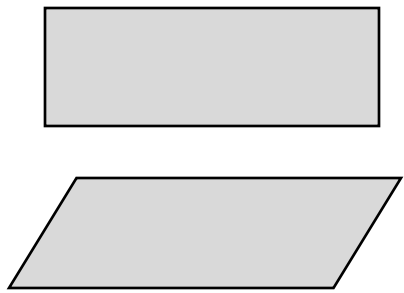


	<p>۱ عددهای دو رقمی بنویسید که یکان آن ها ۴۰۲ و دهگان آن ها ۸۰۵ باشد.</p> <p style="text-align: center;"> <input type="text"/> <input type="text"/> <input type="text"/> <input type="text"/> </p>	۱																		
	<p>۲ جاهای خالی را با توجه به الگوی آن ها پر کنید.</p> <p>۱۷ - ۱۸ - ۱۹ - <input type="text"/> - <input type="text"/> - <input type="text"/> - <input type="text"/> - <input type="text"/></p> <p><input type="text"/> - <input type="text"/> - <input type="text"/> - <input type="text"/> سی و شش - سی و هفت - سی و هشت - سی و نهم</p> <p>۵۵ - ۵۸ - ۶۰ - <input type="text"/> - <input type="text"/> - <input type="text"/> - <input type="text"/></p>	۲																		
	<p>۳ الگوی زیر با کشیدن عقربه نشان بدهید.</p> 	۳																		
	<p>۴ جمع و تفریق های زیر با استفاده از روش گسترده نویسی حساب کنید.</p> <table style="width: 100%; text-align: center;"> <tr> <td style="width: 33%;"> $\begin{array}{r} 46 \\ - 16 \\ \hline \\ \hline \\ \hline \end{array}$ </td> <td style="width: 33%;"> $\begin{array}{r} 67 \\ + 24 \\ \hline \\ \hline \\ \hline \end{array}$ </td> <td style="width: 33%;"> $\begin{array}{r} 20 \\ + 29 \\ \hline \\ \hline \\ \hline \end{array}$ </td> </tr> </table>	$\begin{array}{r} 46 \\ - 16 \\ \hline \\ \hline \\ \hline \end{array}$	$\begin{array}{r} 67 \\ + 24 \\ \hline \\ \hline \\ \hline \end{array}$	$\begin{array}{r} 20 \\ + 29 \\ \hline \\ \hline \\ \hline \end{array}$	۴															
$\begin{array}{r} 46 \\ - 16 \\ \hline \\ \hline \\ \hline \end{array}$	$\begin{array}{r} 67 \\ + 24 \\ \hline \\ \hline \\ \hline \end{array}$	$\begin{array}{r} 20 \\ + 29 \\ \hline \\ \hline \\ \hline \end{array}$																		
	<p>۵ عدد مربوط به هر شکل را به عدد و حروف بنویسید</p> <div style="display: flex; justify-content: space-between;"> <div style="width: 30%;">  </div> <div style="width: 30%;"> <table border="1" style="width: 100%; text-align: center;"> <thead> <tr> <th>یکان</th> <th>دهگان</th> <th>صدگان</th> </tr> </thead> <tbody> <tr> <td style="height: 40px;"> </td> <td> </td> <td> </td> </tr> </tbody> </table> </div> <div style="width: 30%; text-align: right;"> <input style="width: 100%; height: 30px;" type="text"/> </div> </div> <div style="display: flex; justify-content: space-between; margin-top: 20px;"> <div style="width: 30%;">  </div> <div style="width: 30%;"> <table border="1" style="width: 100%; text-align: center;"> <thead> <tr> <th>یکان</th> <th>دهگان</th> <th>صدگان</th> </tr> </thead> <tbody> <tr> <td style="height: 40px;"> </td> <td> </td> <td> </td> </tr> </tbody> </table> </div> <div style="width: 30%; text-align: right;"> <input style="width: 100%; height: 30px;" type="text"/> </div> </div> <div style="display: flex; justify-content: space-between; margin-top: 20px;"> <div style="width: 30%;">  </div> <div style="width: 30%;"> <table border="1" style="width: 100%; text-align: center;"> <thead> <tr> <th>یکان</th> <th>دهگان</th> <th>صدگان</th> </tr> </thead> <tbody> <tr> <td style="height: 40px;"> </td> <td> </td> <td> </td> </tr> </tbody> </table> </div> <div style="width: 30%; text-align: right;"> <input style="width: 100%; height: 30px;" type="text"/> </div> </div>	یکان	دهگان	صدگان				یکان	دهگان	صدگان				یکان	دهگان	صدگان				۵
یکان	دهگان	صدگان																		
یکان	دهگان	صدگان																		
یکان	دهگان	صدگان																		

	<p>۶ به عدد یا حروف بنویسید</p> <p>دویست و دوازده ۵۴۶</p> <p>۱۰۵ چهارصد بیست و دو</p>
	<p>۷ هر کدام از اعداد داده شده به کدامیک نزدیک تر است؟ داخل آن را رنگ بزنید</p> <p>۲۰ ← ۲۴ → ۳۰</p> <p>۲۵۰ ← ۲۵۷ → ۲۶۰</p> <p>۱۰۰ ← ۱۲۸ → ۲۰۰</p>
	<p>۸ شکل های زیر را طبق راهنما رنگ بزنید.</p> <p>مربع → قرمز</p> <p>مستطیل → آبی</p> <p>مثلث → زرد</p> <p>دایره → سبز</p> 
	<p>۹ تفاوت و شباهت های شکل های زیر را بنویسید.</p> <p>تفاوت:</p> <p>شباهت:</p> 

ارزشیابی آموزگار

خیلی خوب
 خوب
 قابل قبول
 نیاز به تلاش بیشتر

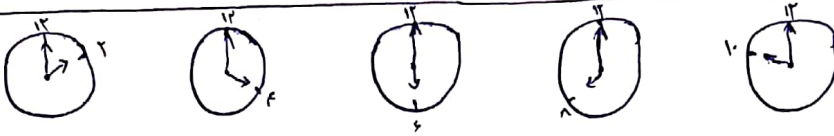
۸۴-۸۲-۵۴-۵۲

۱-

۱۷-۱۸-۱۹-۲۰-۲۱-۲۲-۲۳-۲۴

۲-

سی و شش - سی و هفت - سی و هشت - سی و نه - چهل - چهل و یک - چهل و دو



۳-


$\begin{array}{r} ۴۹ \\ ۵۶ \\ \hline -۳۶ \\ ۶ \\ \hline ۲۰ \end{array}$	$\begin{array}{r} ۲۴ \\ ۱۷۴ \\ \hline +۴۴ \\ ۴ \\ \hline ۴۸ \end{array}$	$\begin{array}{r} ۴۷ \\ ۳۰ \\ \hline -۲۷ \\ ۰ \\ \hline ۲۰ \end{array}$	$\begin{array}{r} ۲۰ \\ ۱۲۹ \\ \hline +۴۰ \\ ۹ \\ \hline ۴۹ \end{array}$
---	--	---	--

۴-

۵۴۶	۶- پانصد و چهل و شش	بکان دهگان صدگان ۵ ۲ ۷	۵- پانصد و سیست و هفت
۲۱۴	دویست و دوازده	بکان دهگان صدگان ۳ ۱ ۲	سیصد و هفتاد و پنج
۴۲۲	چهارصد و سیست و اردو	بکان دهگان صدگان ۳ ۰ ۳	چهارصد و سه
۱۰۵	صد و پنج		

۷- ۲۴ تا ۲ نزدیک تدریس است ۲۵۷ تا ۲۶۰ نزدیک تدریس است ۱۲۸ تا ۱۰۰ نزدیک تدریس است

۸-



۹- تفاوت: یکی مستطیل دیگری متوازی الاضلاع است بابت: همدرد چهارضلعی و از اشکال هندسی هستند