



نام و نام خانوادگی دانش آموز:

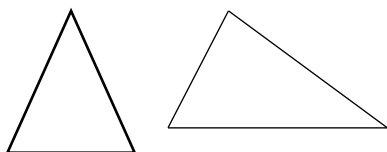
پایه دوم

موضوع: ارزشیابی ریاضی (دی ماه)

۱- عدد ۳۰۹ را در جدول ارزش مکانی قرار دهید و برای آن شکل بکشید و به حروف بنویسید.

۲- چند عدد دورقمی می توان نوشت که رقم یکانش ۵ و ۴ و رقم دهگانش ۷ و ۸ باشد؟

۳- دختر گلم تفاوت و شباهت شکل های زیر را بنویسید.



۴- نازنینم الگو های عددی زیر را ادامه بده.

..... - ..... - ..... - ۳-۶-۹

..... - ..... - ..... - ۲-۴-۸-۱۴

..... - ..... - ..... - ۳۸-۴۱-۴۴

..... - ..... - ..... - ۲۵-۳۰

۵- حاصل جمع و تفریق های زیر را به روش های خواسته شده بنویسید.

$$\begin{array}{r} 76 \\ + \\ 19 \\ \hline \end{array}$$

(فرایندی)

$$\begin{array}{r} 51 \\ - \\ 30 \\ \hline \end{array}$$

(فرایندی)

(تقریبی)

۷۱ →

(تقریبی)

۵۲ →

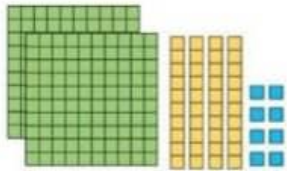
(تقریبی)

+

۲۴ →

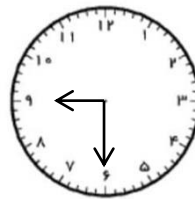
۲۵ →

۶- عزیز دلم جدول را با توجه به شکل کامل کن و عدد را به صورت گسترده بنویس.



صدتایی	ده تایی	یکی

۷- عزیزم ساعت ها را با توجه به موارد خواسته شده کامل کن.



..... : .....

..... : .....

..... و .....

..... و ..... دقیقه



یا ..... و .....

یا یک ربع مانده به ۷

۸- دلبندم به رقم و حروف بنویس.

سیصد و چهل و هشت .....

..... ۲۰۹


چهارصد و دو .....

..... ۳۷۵

پانصد و شصت و دو .....

..... ۴۵۷

۹- مقدار سکه های سارا را حساب کنید.



۱۰- اگر فاطمه ۲۰۰ سکه ۱ ریالی به بانک تحویل دهد بانک چند سکه ۱۰ ریالی به او می دهد؟

۱۱- سارا ساعت ۳ بعدازظهر خوابید او یک ساعت و نیم خواب بود سارا ساعت چند از خواب بیدار شد؟





آمادگی و دبستان دخترانه غیردولتی روش نوین

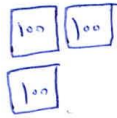
پایه دوم

نام و نام خانوادگی دانش آموز:

موضوع: ارزشیابی ریاضی (دی ماه)

۱- عدد ۳۰۹ را در جدول ارزش مکانی قرار دهید و برای آن شکل بکشید و به حروف بنویسید.

صدگان	دهگان	یکان
۳	۰	۹

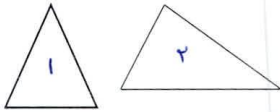


سهصد و نُه

۲- چند عدد دورقمی می توان نوشت که رقم یکانش ۴ و ۵ و رقم دهگان ۶ و ۷ و ۸ باشد؟

دهگان	یکان
۸ ۸ ۷ ۷ ۶ ۶	۴ ۵ ۴ ۵ ۴ ۵

۳- دختر گلم تفاوت و شباهت شکل های زیر را بنویسید.



تلاشی در مسیر موفقیت

شباهت: هر دو مثلث همنسب هستند و دو ضلع برابر دارند.  
تفاوت: مثلث شماره ۱ مربع است اما مثلث شماره ۲ اندازه ضلع هایش مربعی دارد پس اندازه

۴- خانزینم الگو های عددی زیر را ادامه بده.

۱۸ - ۱۵ - ۱۲ - ۹ - ۶ - ۳

۴۴ - ۳۲ - ۲۲ - ۱۴ - ۸ - ۴ - ۲

۴۴ - ۴۱ - ۳۸ - ۳۵ - ۳۲ - ۲۹

۳۰ - ۲۵ - ۲۰ - ۱۵ - ۱۰

۵- حاصل جمع و تفریق های زیر را به روش های خواسته شده بنویسید.

$$\begin{array}{r} 76 \\ + 19 \\ \hline 95 \end{array}$$

(فرایندی)


$$\begin{array}{r} 51 \\ - 30 \\ \hline 21 \end{array}$$

(فرایندی)

۵۲ → ۵۰ (تقریبی)  
 ۲۵ → ۲۰

۷۱ → ۷۰ (تقریبی)  
 ۲۴ → ۲۰  
 +

۶- عزیز دلم جدول را با توجه به شکل کامل کن و عدد را به صورت گسترده بنویس.



صدتایی	ده تایی	یکی
۲	۴	۸

$$۲۴۸ = ۲۰۰ + ۴۰ + ۸$$

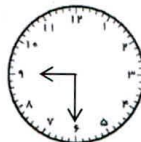
۷- عزیزم ساعت ها را با توجه به موارد خواسته شده کامل کن.



۴ : ۴۵

چهارصد و پنجاه و پنج دقیقه

یا یک ربع مانده به ۵



۹ : ۳۰

نُه و سی دقیقه

یا ۹ : ۳۰



۸- دلبندم به رقم و حروف بنویس.

۲۴۸ ..... سیصد و چهل و هشت

۴۰۲ ..... چهارصد و دو

۵۶۲ ..... پانصد و شصت و دو

۲۰۹ ..... دویست و نُه

۳۷۵ ..... سیصد و هفتاد و پنج

۴۵۷ ..... چهارصد و پنجاه و هفت

۹- مقدار سکه های سارا را حساب کنید.



$$400 + 100 + 4 = 454 \text{ ریال}$$

۱۰- اگر فاطمه ۲۰۰ سکه ۱ ریالی به بانک تحویل دهد بانک چند سکه ۱۰ ریالی به او می دهد؟  $20 \text{ سکه } 10 \text{ ریالی می شود}$

$200 \text{ ریال}$

۱۱- سارا ساعت ۳ بعد از ظهر خوابید او یک ساعت و نیم خواب بود سارا ساعت چند از خواب بیدار شد؟  $4:45 \text{ بیدار شد}$

