



ردیف	سؤالات		
۱	<p>پسر گلم، به رقم و حروف بنویس .</p> <p>۵۳۸ : -----</p> <p>۹۷۱ : -----</p> <p>دویست و چهل : -----</p> <p>ششصد و شش : -----</p>		
۲	<p>پسر بادقتم، الگوهای زیر را ادامه بده .</p> <p>۶۵۷-۶۵۵-۶۵۳---</p> <p>۳۲۰-۳۲۳-۳۲۶---</p> <p>۱-۲-۴-۷-۱۱---</p> <p>دویست وهفتاد - دویست و هشتاد - دویست و نود -</p>		
۳	<p>پسر پرتلاشم، با کارت های زیر چند عدد سه رقمی می توانی بسازی ؟</p> <p>الف (آن ها را بنویس .</p> <p></p> <p>-----</p> <p>ب) بزرگ ترین عدد کدام است ؟</p> <p>پ) کوچک ترین عدد کدام است ؟</p> <p>ت) در کدام عدد ها رقم یکان از صدگان بزرگ تر است ؟</p>		
۴	<p>پسر خوبم، عدد های زیر را با سکه نمایش بده سپس در جدول ارزش مکانی قرار بده .</p> <table border="1" style="width: 100%; height: 150px;"> <tr> <td style="width: 50%; text-align: center; vertical-align: middle;">۴۲۵</td> <td style="width: 50%; text-align: center; vertical-align: middle;">۳۵۴</td> </tr> </table>	۴۲۵	۳۵۴
۴۲۵	۳۵۴		
۵	<p>پسر پرتوانم، شباهت و تفاوت های شکل های زیر را بنویس .</p> <p></p> <p>----- : شباهت</p> <p>----- : تفاوت</p>		

پسر خوبم، ساعت های زیر را کامل کن .



یک ربع بعد از ۲ و نیم را نشان بده .



ساعت چنده ؟ -----



۳:۴۰ را نشان بده .

۶

پسر عزیزم، شکل های خواسته شده را رسم کن ، سپس برای هر کدام یک خط تقارن بکش .

مربع	پنج ضلعی	مثلث	دایره
------	----------	------	-------

۷

اگر از ۷۵ سیب زرد و قرمز جعبه ای ، ۵۲ سیب زرد باشد ، چند سیب قرمز است ؟ (با کمک شکل)

۸

مدرسه برای شب یلدا ، به دانش آموزان سرمردادی هدیه داد ، اگر ۳۲ تا از آن ها زرد و ۴۹ تا از آن ها بنفش باشد :

الف) کلاً چند سرمردادی خریده شده ؟ (با روش فرایندی)

ب) اگر ۷۳ تا از آن ها را به بچه ها هدیه داده باشند ،

چند تا سرمردادی باقی مانده ؟ (با روش فرایندی)

۹

نام و نام خانوادگی:

.....

پایه : دوم دبستان

جمهوری اسلامی ایران

اداره ی کل آموزش و پرورش شهر تهران

اداره ی آموزش و پرورش شهر تهران منطقه ۷ تهران

دبستان غیردولتی پسرانه سرای دانش واحد شریعتی

آزمون نه اول سال تمصیل، ۱۴۰۲-۱۴۰۱

نام درس: ریاضی

نام دبیر: زینب سراج

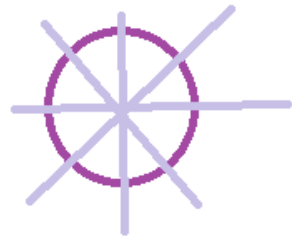
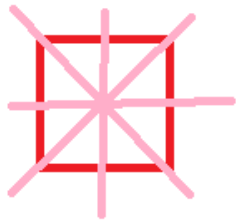
تاریخ امتحان: ۱۸ / ۱۰ / ۱۴۰۱

ساعت امتحان: ۰۸:۰۰

مدت امتحان: ۴۵ دقیقه

ردیف	سؤالات	نمره									
۱	پانصد و سی و هشت نهصد و هفتاد و یک ۲۴۰ ۶۰۶										
۲	پسر بادقتم، الگوهای زیر را ادامه بده . ۶۴۷-۶۴۹-۶۵۱ ۳۳۴-۳۳۲-۳۲۹ ۲۹-۲۲-۱۶ سیصد-سیصد و ده - سیصد و بیست										
۳	الف) ۹۵۰-۵۹۰-۵۰۹-۹۰۵ ب) ۹۵۰ پ) ۵۰۹ ت) ۵۰۹										
۴	نمایش سکه ها به هر طریقی که دانش آموز انجام دهد و از سکه های ۵۰۰-۲۵۰-۱۰۰-۵۰-۲۵-۱۰-۵-۲-۱ ریالی استفاده کند درست است <table style="margin-left: auto; margin-right: auto;"> <tr> <td style="border-right: 1px solid black; border-bottom: 1px solid black; padding: 5px;">۳</td> <td style="border-bottom: 1px solid black; padding: 5px;">۷</td> <td style="border-bottom: 1px solid black; padding: 5px;">۱</td> </tr> <tr> <td style="border-right: 1px solid black; padding: 5px;">۴</td> <td style="padding: 5px;">۲</td> <td style="padding: 5px;">۵</td> </tr> <tr> <td style="border-right: 1px solid black; padding: 5px;">۳</td> <td style="padding: 5px;">۵</td> <td style="padding: 5px;">۴</td> </tr> </table>	۳	۷	۱	۴	۲	۵	۳	۵	۴	
۳	۷	۱									
۴	۲	۵									
۳	۵	۴									
۵	شبهت : هر دو ۴ ضلع و گوشه دارند . تفاوت : در مربع هر ۴ ضلع هم اندازه است اما در مستطیل ضلع های رو به رو هم اندازه اند (همه ی ضلع ها هم اندازه نیستند) .										
۶	عقربه ی بزرگ روی ۳ عقربه ی کوچک روی ۸ . ۱:۲۰ عقربه ی بزرگ روی ۲ عقربه ی کوچک روی ۹ .										

برای هر شکل کشیدن یک خط تقارن کافی است .



۷



۲۳

۸

(الف)

$$\begin{array}{r}
 ۳۲ \\
 + ۴۹ \\
 \hline
 ۸۱ \\
 + ۷۲ \\
 + ۹ \\
 \hline
 ۱۶۲
 \end{array}
 \rightarrow ۹۰ و ۹$$

(ب)

$$\begin{array}{r}
 ۸۱ \\
 - ۷۳ \\
 \hline
 ۸ \\
 - ۱۱ \\
 - ۳ \\
 \hline
 ۸
 \end{array}
 \rightarrow ۳۰ و ۳$$

۹

۸ سرمرادی باقی ماند / کلا ۸۱ سرمرادی خریدند .



تأسیس در مسیر موفقیت