

نام و نام خانوادگی:

.....

نام آموزگار: اکرم هوشمند مقدم

کلاس: پنجم

بسمه تعالی

اداره‌ی آموزش و پرورش شهرستان خواف

دبستان غیردولتی نوآوران اندیشه

تاریخ آزمون: ۱۱/۳ / ۱۴۰۱

عنوان درس: مطالعات اجتماعی

تعداد صفحات: ۳ صفحه

موفقیت تصادفی نیست! موفقیت یعنی: تلاش، استقامت، یادگیری، مطالعه، فداکاری و بیشتر از همه، عشق به آن چیزی که انجام می‌دهید.

■ صحیح یا غلط بودن عبارات زیر را مشخص کنید؟

1. جمعیت ایران در همه جای آن به طور یکسان پراکنده شده است. ص غ
2. صنایع مادر کالاهایی تولید می‌کند که به طور مستقیم مصرف می‌شوند. ص غ
3. مداد_ فرش_ شکر از صنایع مصرفی به حساب می‌آیند. ص غ

■ جاهای خالی را با عبارت مناسب پر کنید؟

1. یک کارخانه برای تولید کالا علاوه بر مواد اولیه به و نیاز دارد.
2. و دو نمونه از مؤسساتی هستند که به کسانی دچار حادثه شده اند و نیازمند کمک هستند، کمک می‌کنند.
3. مردم برای استفاده از آب های زیر زمینی .. و حفر می‌کنند.

■ گزینه ی صحیح را انتخاب کنید؟

1. امیر محمد می‌خواست در مورد آزمون علوم دو روز پیش را برای پدرش تعریف کند ، اما پدرش در حال صحبت کردن با مادرش بود . به نظر شما امیر محمد کدام اصل گفت و گو را رعایت نکرد؟
- (الف) حریم شخصی . (ب) قطع نکردن حرف گوینده .
- (ج) انتخاب زمان مناسب گفت گو . (د) دقت و توجه به سخنان .
2. پراکندگی صنایع مصرفی در کدام شهر ایران بیشتر است؟
- (الف) تهران . (ب) اصفهان . (ج) یزد . (د) تبریز .
3. کدام نواحی جزء نواحی کم جمعیت است؟
- (الف) نواحی کناره دریای خزر (ب) ناحیه ی تهران (ج) ناحیه ی داخلی (د) کوهپایه آذربایجان .
4. آب رودها چگونه آلوده می‌شود؟
- (الف) تخلیه فاضلاب کارخانه ها و فاضلاب های خانگی . (ب) تخلیه زباله در رود ها .
- (ج) آلودگی ناشی از استفاده کود های شیمیایی در کشاورزی . (د) همه موارد .

نام و نام خانوادگی:

.....

نام آموزگار: اکرم هوشمند مقدم

کلاس: پنجم

بسمه تعالی

اداره‌ی آموزش و پرورش شهرستان خواف

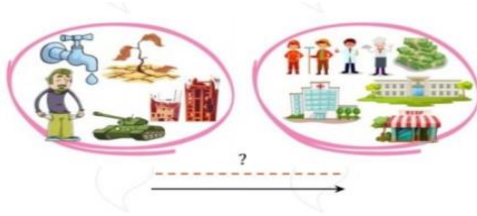
دبستان غیردولتی نوآوران اندیشه

تاریخ آزمون: ۱۱/۳ / ۱۴۰۱

عنوان درس: مطالعات اجتماعی

تعداد صفحات: ۳ صفحه

۵_ با توجه به تصویر زیر در جای خالی چه چیزی باید نوشت؟ آن را توضیح دهید؟



■ مفاهیم زیر را تعریف کنید.

گروه:

همدلی:

قنات:

صنایع مصرفی:

■ به سوالات زیر پاسخ کامل بدهید؟

۱_ چگونه و از چه راه هوایی می‌توانیم بر ترس خود غلبه کنیم؟
تلاشی در مسیر موفقیت

۲_ هدف از تشکیل شورای دانش‌آموزی چیست؟

۳_ وظیفه سازمان انتقال خون چیست؟

دبستان غیر دولتی نوآوران اندیشه

■ زیر را کامل کنید.

| نام استان | صنایع ذوب آهن | صنایع ماشین‌سازی | صنایع پتروشیمی |
|-----------|---------------|------------------|----------------|
| ۱_ | | | |
| ۲_ | | | |

نام و نام خانوادگی:

.....

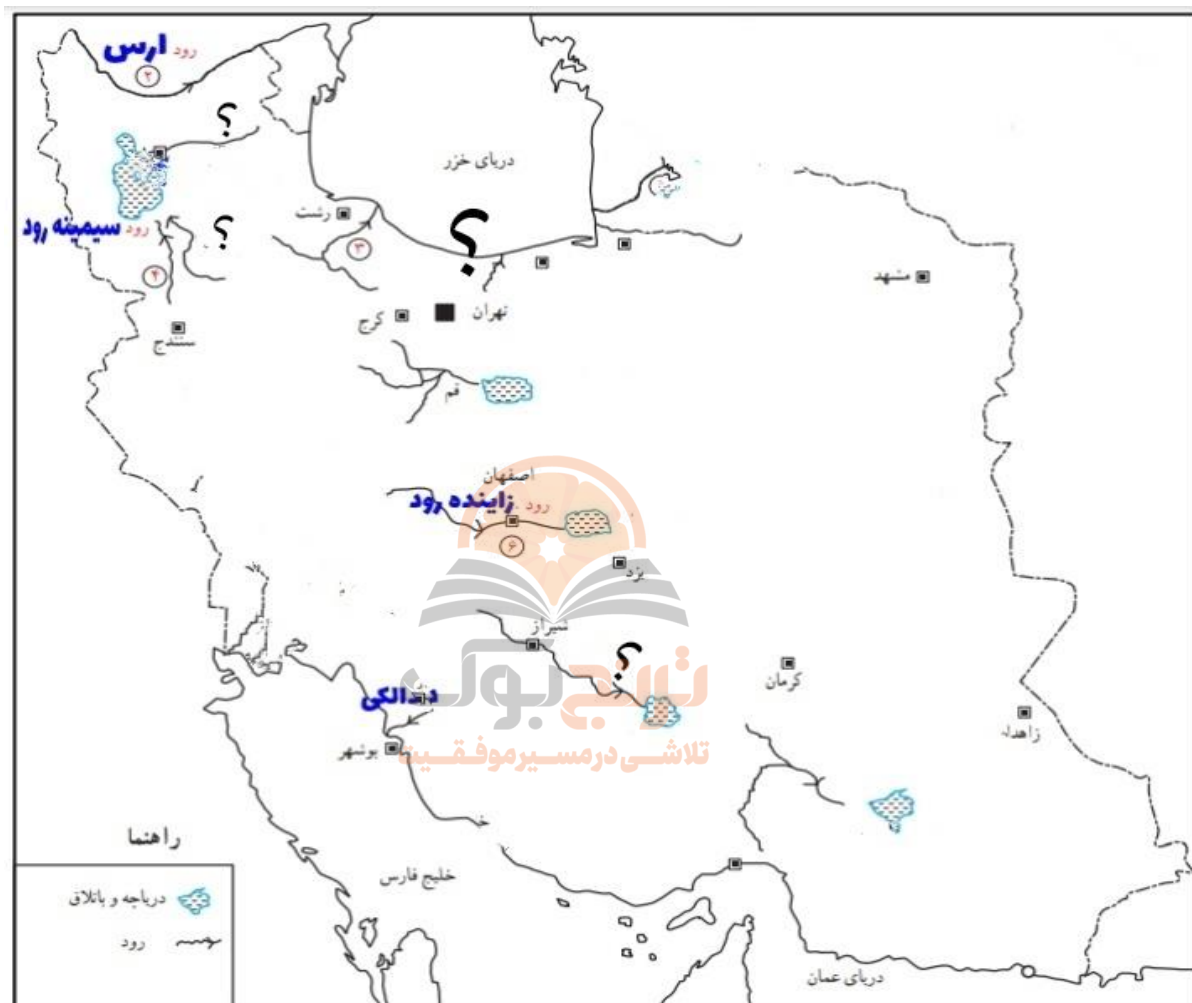
نام آموزگار: اکرم هوشمند مقدم

کلاس: پنجم

بسمه تعالی
اداره‌ی آموزش و پرورش شهرستان خواف
دبستان غیردولتی نوآوران اندیشه

تاریخ آزمون: ۱۴۰۱ / ۱۱ / ۳
عنوان درس: مطالعات اجتماعی
تعداد صفحات: ۳ صفحه

بر روی نقشه نام دریاچه‌های داخلی ایران و رودهایی که به آن‌ها می‌ریزند را یادداشت کنید؟



بازخورد توصیفی والدین

بازخورد توصیفی آموزگار

نام و نام خانوادگی:

.....

نام آموزگار: اکرم هوشمند مقدم

کلاس : پنجم

بسمه تعالی

اداره‌ی آموزش و پرورش شهرستان خواف

دبستان غیردولتی نوآوران اندیشه

تاریخ آزمون. ۱۴۰۱ / ۱۱ / ۳

عنوان درس: مطالعات اجتماعی

تعداد صفحات: ۳ صفحه

| | |
|--|--|
| | |
| | |
| | |
| | |
| | |
| | |
| | |
| | |
| | |
| | |

نرنج بولک
تلاشی در مسیر موفقیت

دبستان غیر دولتی نوآوران اندیشه

موفقیت تصادفی نیست! موفقیت یعنی: تلاش، استقامت، یادگیری، مطالعه، فداکاری و بیشتر از همه، عشق به آن چیزی که انجام می‌دهید.

■ صحیح یا غلط بودن عبارات زیر را مشخص کنید؟

1. جمعیت ایران در همه جای آن به طور یکسان پراکنده شده است. ص غ
2. صنایع مادر کالاهایی تولید می‌کند که به طور مستقیم مصرف می‌شوند. ص غ
3. مداد_ فرش_ شکر از صنایع مصرفی به حساب می‌آیند. ص غ

■ جاهای خالی را با عبارت مناسب پر کنید ؟

1. یک کارخانه برای تولید کالا علاوه بر مواد اولیه به نیروی کار..... و..... سرمایه.....
و..... ماشین آلات و ابزار..... نیاز دارد.
2. ... هلال احمر..... و..... سازمان انتقال خون..... دو نمونه از مؤسساتی هستند که به کسانی دچار حادثه شده اند و نیازمند کمک هستند، کمک می‌کنند.
3. مردم برای استفاده از آب های زیر زمینی قنات..... و چاه..... حفر می‌کنند.

■ گزینه ی صحیح را انتخاب کنید؟

1. امیر محمد می خواست در مورد علوم دو روز پیش را برای پدرش تعریف کند ، اما پدرش در حال صحبت کردن با مادرش بود . به نظر شما امیر محمد کدام اصل گفت و گو را رعایت نکرد؟
(الف) حریم شخصی . (ب) قطع نکردن حرف گوینده .
(ج) انتخاب زمان مناسب گفت گو . (د) دقت و توجه به سخنان .
2. پراکندگی صنایع مصرفی در کدام شهر ایران بیشتر است؟
(الف) تهران . (ب) اصفهان . (ج) یزد . (د) تبریز .
3. کدام نواحی جزء نواحی کم جمعیت است؟
(الف) نواحی کناره دریای خزر (ب) ناحیه ی تهران (ج) ناحیه ی داخلی (د) کوهپایه آذربایجان .
4. آب رودها چگونه آلوده می شود؟
(الف) تخلیه فاضلاب کارخانه ها و فاضلاب های خانگی . (ب) تخلیه زباله در رود ها .

نام و نام خانوادگی:

.....

نام آموزگار: اکرم هوشمند مقدم

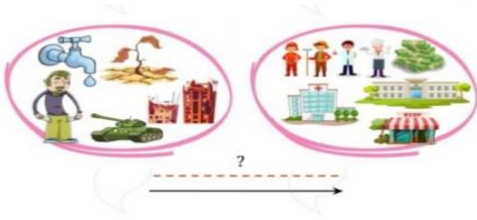
کلاس: پنجم

بسمه تعالی
اداره‌ی آموزش و پرورش شهرستان خواف
دبستان غیردولتی نوآوران اندیشه

تاریخ آزمون: ۱۱/۳ / ۱۴۰۱
عنوان درس: پاسخنامه مطالعات
تعداد صفحات: ۳ صفحه

ج) آلودگی ناشی از استفاده کود های شیمیایی در کشاورزی □. (د) همه موارد □

۵_ با توجه به تصویر زیر در جای خالی چه چیزی باید نوشت؟ آن را توضیح دهید؟ **مهاجرت**



■ مفاهیم زیر را تعریف کنید.

گروه: گروه از تعدادی افراد تشکیل شده است که برای انجام دادن فعالیت های مشترک و برای رسیدن به هدفی مشترک با یکدیگر ارتباط دارند

همدلی: یعنی اینکه فرد بتواند احساسات، رفتار و شرایط دیگران را درک کند و خودش را جای او بگذارد

قنات: قنات یک تونل زیرزمینی است که آب در آن خودبه خود از مناطق پر آب به نواحی کم آب، جاری می شود.

صنایع مصرفی: کالاهایی تولید می کنند که مردم آن ها را به طور مستقیم مصرف می کنند یا می خردند.

نرنج بوک
تلاشی در مسیر موفقیت

■ به سوالات زیر پاسخ کامل بدهید؟

۱_ چگونه و از چه راه هوایی می توانیم بر ترس خود غلبه کنیم؟ ۱_ توکل به خدا ۲_ مشورت کردن با بزرگ تر ها ۳_ نقاشی

کشیدن ۴_ فیلم وحشتناک تماشا نکنیم. ۵_ به مرور زمان با پدیده ای که مارا می ترساند روبه رو شویم تا نریمان از بین برود

۲_ هدف از تشکیل شورای دانش آموزی چیست؟ هدف این است که مسئولان مدرسه از نظرات دانش آموزان درباره مسائل درسی و

امور مربوط به مدرسه آگاه شوند و با آن ها مشارکت کنند.

۳_ وظیفه سازمان انتقال خون چیست؟ گرفتن خون از داوطلبان و انتقال آن به درمانگاه ها و بیمارستان ها را برعهده دارد

■ زیر را کامل کنید.

| نام استان | صنایع ذوب آهن | صنایع ماشین سازی | صنایع پتروشیمی |
|-----------|---------------|------------------|----------------|
| ۱_ | اصفهان | مرکزی | کردستان |
| ۲_ | خوزستان | آذربایجان شرقی | اصفهان |

نام و نام خانوادگی:

.....

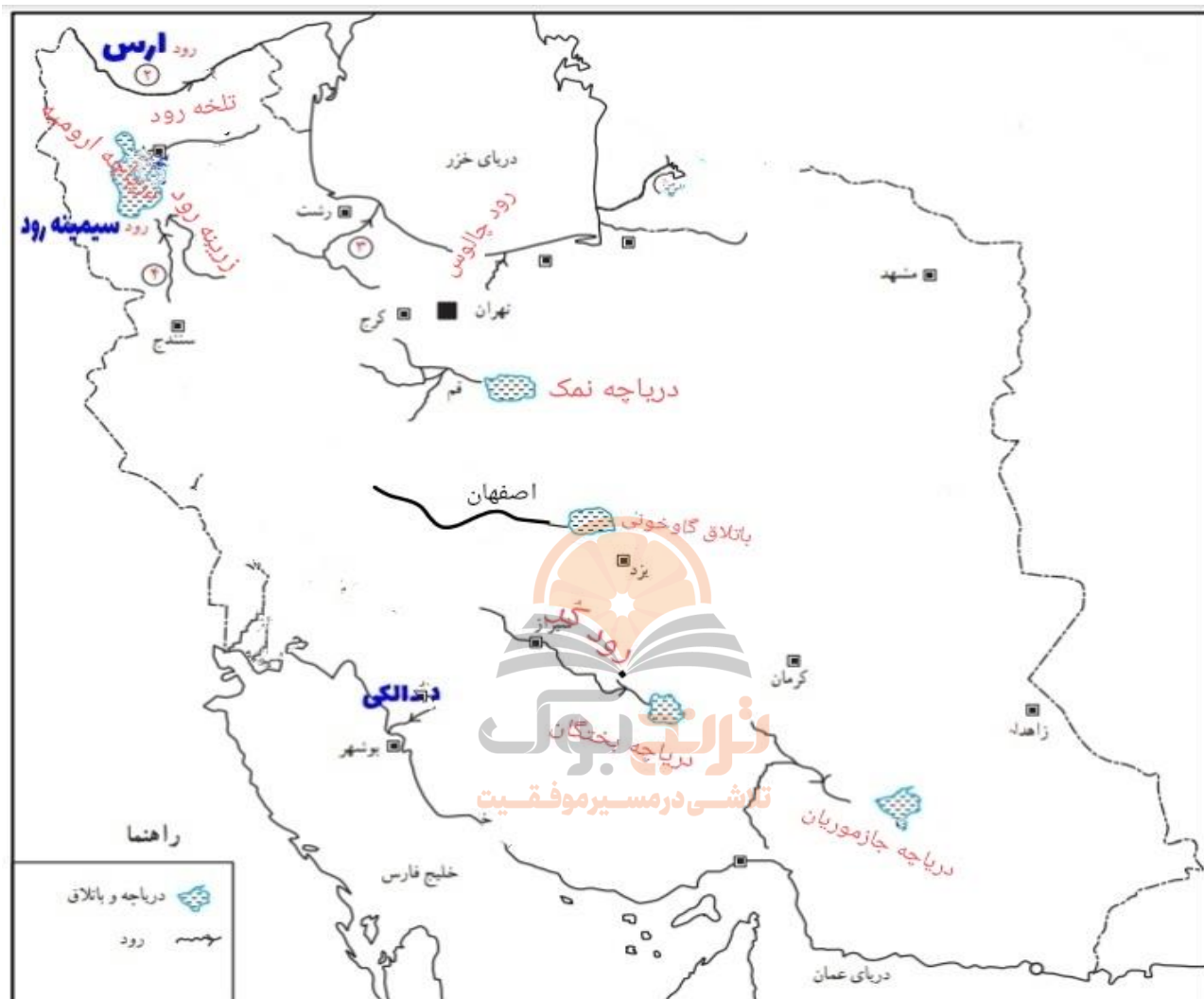
نام آموزگار: اکرم هوشمند مقدم

کلاس: پنجم

بسمه تعالی
اداره‌ی آموزش و پرورش شهرستان خواف
دبستان غیردولتی نوآوران اندیشه

تاریخ آزمون: ۱۴۰۱ / ۱۱ / ۳
عنوان درس: پاسخننامه مطالعات
تعداد صفحات: ۳ صفحه

بر روی نقشه نام دریاچه های داخلی ایران و رودهایی که به آن ها می ریزند را یادداشت کنید؟



| | |
|-----------------------|------------------------|
| بازخورد توصیفی والدین | بازخورد توصیفی آموزگار |
|-----------------------|------------------------|