


تلاشی در مسیر موفقیت



- دانلود گام به گام تمام دروس ✓
- دانلود آزمون های قلم چی و گاج + پاسخنامه ✓
- دانلود جزوه های آموزشی و شب امتحانی ✓
- دانلود نمونه سوالات امتحانی ✓
- مشاوره کنکور ✓
- فیلم های انگیزشی ✓

 [www.ToranjBook.Net](http://www.ToranjBook.Net)

 [ToranjBook\\_Net](https://t.me/ToranjBook_Net)

 [ToranjBook\\_Net](https://www.instagram.com/ToranjBook_Net)

تعداد سوالات و زمان پاسخ‌گویی آزمون:

نام درس	تعداد سؤال	شماره سؤال	وقت پیشنهادی
عربی (بان قرآن (۱)	۱۰	۱-۱۰	۱۵
ریاضی و آمار (۱)	۱۰	۱۱-۲۰	۱۵
اقتصاد	۱۰	۲۱-۳۰	۱۵
علوم و فنون ادبی (۱)	۱۰	۳۱-۴۰	۱۵
تاریخ (۱) ایران و جهان باستان	۱۰	۴۱-۵۰	۱۵
تاریخ (۱) ایران و جهان باستان	۱۰	۵۱-۶۰	
مضامین ایران	۱۰	۶۱-۷۰	۱۰
مامعه‌شناسی (۱)	۱۰	۷۱-۸۰	۱۵
منطق	۱۰	۸۱-۹۰	۱۵
جمع کل	۹۰	۱-۹۰	۱۱۵ دقیقه

مراحم:

فاطمه منصورخاکی، درویشعلی ابراهیمی، اسماعیل یونس پور، خالد مشیربناهی، علی اکبر ایمان پرور	عربی، (بان قرآن (۱)
شهرام آموزگار، محمد بحیرایی، هاشم زمانیان، محمد گودرزی	ریاضی و آمار (۱)
احسان عالی‌نژاد، سارا معصوم‌زاده، سیدمحمد مدنی‌دینانی، فاطمه صفری	اقتصاد
محمد نورانی، سعید جعفری، ابراهیم رضایی‌مقدم، محسن فدایی، پرگل رحیمی	علوم و فنون ادبی (۱)
علی محمد کریمی، محدثه صفاری	تاریخ (۱) ایران و جهان باستان
علی محمد کریمی، محدثه صفاری	مضامین ایران
فروغ نجمی تیموریان، بهروز یحیی، حبیبه محبی، سید محمد مدنی دینانی	مامعه‌شناسی (۱)
مهسا عفتی، نیما جواهری، فرهاد علی‌نژاد، کیمیا طهماسبی، فرهاد قاسمی‌نژاد	منطق

گزینشگران و ویراستاران:

نام درس	مسئول درس	گزینشگر	ویراستار استاد	ویراستار دانشجو	مسئول درس‌های مستندسازی
عربی، (بان قرآن (۱)	فاطمه منصورخاکی	فاطمه منصورخاکی	درویشعلی ابراهیمی	امیرحسین کماتی	لیلا ایزدی
ریاضی و آمار (۱)	حمید زرین‌کفش	حمید زرین‌کفش	محمد بحیرایی، احسان غنی‌زاده	---	سمیه اسکندری
اقتصاد	آفرین ساجدی	آفرین ساجدی	---	---	زهره قموشی
علوم و فنون ادبی (۱)	پرگل رحیمی	پرگل رحیمی	الهام محمدی	سوگند بینگری	الناز معتمدی
تاریخ (۱) ایران و جهان باستان	محدثه صفاری	محدثه صفاری	بهروز یحیی، حبیبه محبی	---	فاطمه فوقانی
مضامین ایران	---	---	---	---	---
مامعه‌شناسی (۱)	حبیبه محبی	حبیبه محبی	---	سوگند بینگری	زهره قموشی
منطق	مهسا عفتی	مهسا عفتی	---	فرهاد علی‌نژاد	---

مدیر گروه	فاطمه منصورخاکی
مسئول دفترچه	فاطمه رئیس‌زیدی
مستندسازی و مطابقت با مصوبات	مدیر: مجیا اصغری، مسئول دفترچه: زهره قموشی
حروف‌نگار و صفحه‌آرا	زهره تاجیک
نظارت چاپ	سوران نعیمی

گروه آزمون

بنیاد علمی آموزشی قلمچی (وقف عام)

آدرس دفتر مرکزی: خیابان انقلاب - بین صبا و فلسطین - پلاک ۹۲۳ - تلفن چهار رقمی: ۰۲۱-۶۶۶۳

■ عَيْنِ الْأَصْحَحِّ وَ الْأَدَقِّ فِي الْجَوَابِ لِلتَّرْجَمَةِ: (۱-۴)

۱- «يَشْجَعُ تَتَوَّعُ مَعَالِمَ إِيرَانَ وَ طَبِيعَتَهَا الْخَلَابِيَّةَ وَ أَطْعَمَتَهَا اللَّذِيذَةَ السَّائِحِينَ عَلَى السَّفَرِ إِلَيْهَا!»:

(۱) تنوع آثار ایران و طبیعت زیبایش و غذاهای خوشمزه‌اش جهانگردان را به سفر به آن تشویق کرده است!

(۲) آثار ایران متنوع است و طبیعت جذابش و غذاهای لذیذش مشوق گردشگران به سفر به آن است!

(۳) تنوع آثار ایران و طبیعت جذابش و غذاهای لذیذش گردشگران را به سفر به آن تشویق می‌کند!

(۴) آثار ایران متنوع است و با طبیعت جذابش و غذاهای خوشمزه‌اش جهانیان را به سفر به آن ترغیب می‌کند!

۲- «عِنْدَمَا يُجْرَحُ الْقَطُّ يَلْعَقُ جُرْحَهُ حَتَّى يَلْتَمَّ لِأَنَّ لِسَانَهُ يُفَرِّزُ سَائِلًا مَطَهِّرًا!»:

(۱) وقتی گربه مجروح می‌شود، زخمش را لیس می‌زند و التیام می‌یابد، چون زبان او مایعی پاک‌کننده ترشح می‌کند!

(۲) هنگامی که گربه زخمی می‌شود، جراحتش را لیس می‌زند تا بهبود یابد، زیرا از زبانش مایعی پاک‌کننده خارج می‌شود!

(۳) گربه هنگام جراحات برای بهبود یافتن، زخم خود را لیس می‌زند، چون از زبان او مایعی پاک‌کننده خارج می‌شود!

(۴) وقتی گربه زخمی می‌شود، زخمش را لیس می‌زند تا بهبود یابد، زیرا زبانش مایعی پاک‌کننده ترشح می‌کند!

۳- «كُلُّ سَنَةٍ تَجِدُ الصَّنَاعَاتِ الْيَدَوِيَّةَ وَ مَعَالِمَ بِلَادِنَا التَّارِيخِيَّةَ عَدَدًا مَلْحُوظًا مِنَ السَّائِحِينَ لِقَضَاءِ عُطَلَاتِهِمْ!»:

(۱) هر ساله صنایع دستی و آثار تاریخی تعدادی قابل ملاحظه از جهانگردان را برای سپری کردن تعطیلات به کشور جذب می‌کند!

(۲) صنایع دستی و آثار تاریخی کشور ما هر سال تعداد قابل ملاحظه‌ای از گردشگران را برای گذراندن تعطیلاتشان جذب می‌کند!

(۳) صنایع دستی و آثار تاریخی کشور ما هر ساله تعداد قابل توجهی از جهانگردان را برای سپری کردن تعطیلاتشان جذب کرده است!

(۴) هر سال تعداد قابل ملاحظه‌ای از گردشگران جذب صنایع دستی و آثار تاریخی مان می‌شوند و تعطیلاتشان را در کشور ما می‌گذرانند!

#### ۴- عَيْنِ الْخَطَا:

- (۱) تُدِيرُ الْحِرَاءَ عَيْنَيْهَا فِي أَتْجَاهَاتٍ مُخْتَلِفَةٍ! آفتاب پرست چشمش را در جهت‌های مختلفی می چرخاند!
- (۲) ﴿وَلَمَّا رَأَى الْمُؤْمِنُونَ الْأَحْزَابَ قَالُوا هَذَا مَا وَعَدَنَا اللَّهُ﴾: وقتی مؤمنان احزاب را دیدند گفتند: این همان است که خدا به ما وعده داد!
- (۳) ﴿لَا يَكْلِفُ اللَّهُ نَفْسًا إِلَّا وُسْعَهَا﴾: خداوند کسی را جز به اندازه توانایی اش تکلیف نمی کند!
- (۴) العام الماضي تَشَرَّفْنَا بزيارة الحرمين المقدسين في كربلاء! سال گذشته برای زیارت دو حرم مقدس در کربلا مشرف شدیم!

#### ۵- عَيْنِ الْمُنَاسِبِ لِمَفْهُومِ هَذَا الْحَدِيثِ الشَّرِيفِ: «سَكُوتُ الْإِنْسَانِ سَلَامَةٌ الْإِنْسَانِ!»

- (۱) تا مرد سخن نگفته باشد / عیب و هنرش نهفته باشد
- (۲) زبان سرخ سر سبز می دهد بر باد / به هوش باش که سر در سر زبان نکنی
- (۳) عیب جان را در سکوت و عیب ابدان در لباس / عیب جویان از سکوت کس برون آرند عیب
- (۴) از عشق کز اوست بر لبم مهر سکوت / هر دم رسدم بر دل و جان قوت و قوت

#### ۶- عَيْنِ الْخَطَا فِي الْحَوَارَاتِ:

- (۱) أَيُّهَا السَّائِقُ، أُرِيدُ أَنْ أَذْهَبَ إِلَى كَرْمَانَ. / أَنَا فِي خِدْمَتِكَ، تَقَضَّلْ.
- (۲) كَمْ الْمَسَافَةَ مِنْ هُنَا إِلَى تِلْكَ الْمَدِينَةِ؟ / أَظَنَّ الْمَسَافَةَ خَمْسَةً وَ أَرْبَعِينَ كِيلُومِتْرًا.
- (۳) أُرِيدُ أَنْ أَشْتَرِيَ الدَّوَاءَ، هَلْ تَعْلَمُ أَيْنَ تَقَعُ الصِّيدَلِيَّةُ؟ / لَا، تَقَعُ فِي الشَّارِعِ التَّالِي. لِمَنْ تَشْتَرِي الدَّوَاءَ؟
- (۴) أَشْتَرِيهِ لِصَدِيقِي الْمَرِيضِ الَّذِي يَسْكُنُ فِي كَرْمَانَ. / الشِّفَاءُ مِنَ اللَّهِ.

#### ۷- عَيْنِ الْخَطَا فِي ضَبْطِ حَرَكَاتِ الْكَلِمَاتِ:

- (۱) لِلْغُرَابِ صَوْتٌ يُحَدَّرُ بِهِ بَقِيَّةَ الْحَيَوَانَاتِ!
- (۲) يَتَحَرَّكُ رَأْسُ الْبُومَةِ فِي كُلِّ جِهَةٍ!
- (۳) اسْتَحْرَجَ الْمُزَارِعُونَ الْمَاءَ مِنْ بئرِ الْقَرْيَةِ!

- (۴) يَا صَدِيقَتِي، لَا تَكْتُبِي عَلَى الْعِمَارَاتِ الْأَثَرِيَّةِ!

۸- عین الخبر مضافاً:

(۱) الطَّلَابُ الْمُؤَدَّبُونَ محترمونَ عند المعلمین!

(۲) الشَّعْبُ الْإِیرَانِي شعبٌ مضيافٌ!

(۳) المحررُ آلةٌ للإِطْلَاعِ على درجة حرارة الجسم و الجو!

(۴) اللُّونُ البنفسجي لغرفة النوم مهديُّ الأعصاب!

۹- عین جمله فعلیة:

(۱) أَحَبُّ عِبَادِ اللَّهِ إِلَى اللَّهِ أَنْفَعُهُمْ لِعِبَادِهِ!

(۲) في اليوم الثاني من الأسبوع ذهبْتُ إلى المكتبة!

(۳) جمال المرء فصاحة لسانه!

(۴) نَظَرُ الْوَالِدِ إِلَى وَالِدِيهِ حُبًّا لَهَا عِبَادَةٌ!

۱۰- عین الخطأ عما أُشير اليه بخط:

(۱) البَطَّ طائرٌ يعيش في البرِّ و البحر! (خبر و مرفوع بالضمة)

(۲) رَضَا اللهُ فِي رَضَا الْوَالِدِينَ! (مضافٌ اليه و مجرور بالياء)

(۳) يَقَعُ مُتَحَفٌ التَّرَاثِ الرَّيْفِي قُرْبَ بَيْتِنَا! (مفعول و منصوب)

(۴) الْمُسْلِمُونَ يَعِيشُونَ فِي مَسَاحَةٍ وَاسِعَةٍ مِنَ الْأَرْضِ! (مبتدأ و مرفوع بالواو)

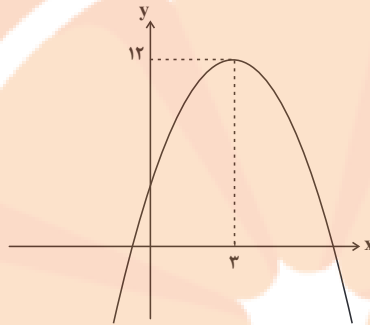
ریاضی و آمار (۱)

۱۵ دقیقه

تابع:

نمودار تابع درجه ۲  
کار با داده‌های آماری  
گردآوری داده‌ها، معیارهای  
گرایش به مرکز،  
معیارهای پراکندگی تا  
پایان فعالیت صفحه ۹۲  
صفحه ۶۳ تا صفحه ۹۲

۱۱- نمودار زیر، مربوط به تابع درجه دوم  $f(x) = ax^2 + bx + 3$  است. مقدار  $a$  کدام است؟



(۱)  $\frac{1}{2}$

(۲)  $-2$

(۳)  $-\frac{1}{2}$

(۴)  $-1$

۱۲- اگر تابع درآمد به صورت  $y = -\frac{1}{3}x^2 + 30x$  و تابع هزینه  $y = 20x + 50$  باشد، ماکسیمم مقدار سود کدام است؟

(۲) ۲۵

(۱) ۲۰

(۴) ۵۰

(۳) ۴۰

۱۳- بهترین روش جمع‌آوری داده در مورد تعداد تصادفات جاده‌ای در نوروز ۱۴۰۰ کدام است؟

(۲) دادگان‌ها

(۱) مشاهده

(۴) پرسش‌نامه

(۳) مصاحبه

۱۴- زمان شروع یک کلاس و مدت زمان یک کلاس به ترتیب، چه نوع متغیرهایی هستند؟

(۲) کمی فاصله‌ای - کمی فاصله‌ای

(۱) کمی نسبتی - کمی فاصله‌ای

(۴) کمی فاصله‌ای - کمی نسبتی

(۳) کمی نسبتی - کمی نسبتی

۱۵- میانگین ۱۰۰ داده آماری برابر  $\frac{2}{5}$  است. ۲۰ داده با مجموع ۹۰ را از این داده‌ها کنار می‌گذاریم. میانگین داده‌های باقی مانده کدام است؟

(۲)  $\frac{2}{4}$

(۱) ۲

(۴)  $\frac{2}{8}$

(۳)  $\frac{1}{8}$

۱۶- اگر میانگین موزون داده‌های آماری جدول زیر برابر  $\frac{7}{5}$  باشد،  $a$  کدام است؟

داده‌ها	$a$	$7$	$2a+1$	$9$
وزن (ضریب)	$2$	$a-2$	$1$	$2$

$$4 \quad (2)$$

$$3 \quad (1)$$

$$6 \quad (4)$$

$$5 \quad (3)$$

۱۷- اگر میانه داده‌های  $19, 22, 16, 8, 15, 8, 14, 11, 6, 10$  برابر  $\frac{13}{5}$  باشد، میانگین کل داده‌ها کدام است؟

$$12/6 \quad (2)$$

$$12/2 \quad (1)$$

$$13/8 \quad (4)$$

$$13/1 \quad (3)$$

۱۸- در یک سری از داده‌های آماری، تفاضل داده‌ها از میانگین عبارت‌اند از:  $3, 1, -2, 4, 0, -3, 2, -5$  واریانس داده‌ها کدام است؟

$$8/5 \quad (2)$$

$$\sqrt{8/5} \quad (1)$$

$$\frac{17}{4} \quad (4)$$

$$\frac{\sqrt{17}}{2} \quad (3)$$

۱۹- واریانس ۵ داده آماری برابر صفر است. اگر یکی از داده‌ها برابر ۱۲ باشد و سه داده ۶، ۱۵ و ۱۵ را به این داده‌ها اضافه کنیم، انحراف معیار ۸ داده

جدید کدام است؟

$$\frac{3\sqrt{3}}{4} \quad (2)$$

$$\frac{3\sqrt{3}}{2} \quad (1)$$

$$\frac{3\sqrt{6}}{2} \quad (4)$$

$$\frac{3\sqrt{2}}{4} \quad (3)$$

۲۰- انحراف معیار داده‌های  $1, 2a-2, 2a+3, 2a+1, 2a$  کدام است؟

$$\frac{\sqrt{6}}{4} \quad (2)$$

$$\frac{\sqrt{15}}{4} \quad (1)$$

$$\frac{\sqrt{59}}{4} \quad (4)$$

$$\frac{\sqrt{46/5}}{4} \quad (3)$$



۱۵ دقیقه

اقتصاد

رکود، بیکاری و فقر  
تورم و کاهش قدرت خرید  
مقاوم سازی اقتصاد  
رشد و پیشرفت اقتصادی  
صفحه ۸۲ تا صفحه ۱۲۸

۲۱- کدام گزینه در رابطه با فقر مطلق و نسبی درست است؟

(۱) در کل جهان حدود ۴/۱ میلیارد نفر در فقر مطلق به سر می‌برند.

(۲) مطابق با معیار بانک جهانی افرادی که زیر ۱/۹ دلار در روز درآمد دارند، زیر خط فقر نسبی‌اند.

(۳) با توجه به مفهوم فقر نسبی محاسبه تعداد افراد فقیر بسیار سخت و پیچیده است، از این رو از مفهوم فقر مطلق استفاده می‌کنیم.

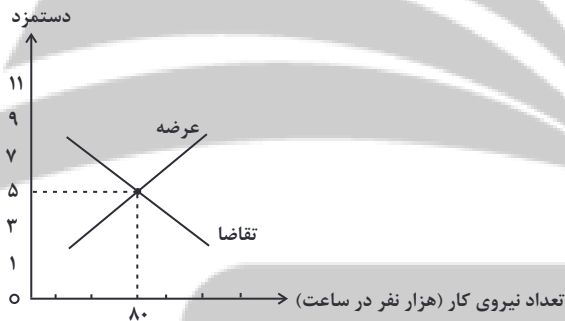
(۴) در فقر مطلق همیشه تعریف فقر نسبت به وضعیتی که فرد در آن است، صورت می‌گیرد.

۲۲- با توجه به نمودار عرضه و تقاضای روبه‌رو کدام گزینه، جاهای خالی را به درستی تکمیل می‌کند؟

الف) دستمزد تعادلی ... میلیون تومان است.

ب) در سطح دستمزد ۹ میلیون تومان، بازار دارای ... است.

پ) در سطح دستمزد ۳/۵ میلیون تومان، بازار دارای ... است.



(۱) ۵ - مازاد عرضه - کمبود عرضه

(۲) ۸۰ - مازاد تقاضا - کمبود عرضه

(۳) ۵ - کمبود عرضه - مازاد عرضه

(۴) ۸۰ - کمبود تقاضا - مازاد عرضه

۲۳- کدام گزینه پاسخ صحیح پرسش‌های زیر است؟

الف) پشتوانه پول به چه معناست؟

ب) به سیاست‌هایی که دولت از طریق ... برای ... اعمال می‌کند، سیاست‌های پولی می‌گویند.

ج) نابرابری عرضه و تقاضا در کدام حالت موجب ایجاد تورم می‌شود؟

(۱) الف) اطمینانی که مردم به ارزش پول در مبادلات دارند. ب) بانک مرکزی - مدیریت حجم پول ج) کمبود عرضه و مازاد تقاضا

(۲) الف) تضمین بانک مرکزی نسبت به ارزش پول در معاملات ب) دریافت مالیات - افزایش نقدینگی ج) کمبود تقاضا و مازاد عرضه

(۳) الف) تضمین بانک مرکزی نسبت به ارزش پول در معاملات ب) دریافت مالیات - مدیریت حجم پول ج) کمبود عرضه و مازاد تقاضا

(۴) الف) اطمینانی که مردم به ارزش پول در مبادلات دارند. ب) بانک مرکزی - حفظ ارزش پول ج) کمبود تقاضا و مازاد عرضه



۲۴- کدام گزینه مبین پاسخ صحیح پرسش‌های زیر است؟

الف) کدام گزینه از مشکلات رسیدهای صادر شده توسط تاجران نیست؟

ب) آسان‌سازی مبادله بیانگر کدام وظیفه پول است؟

پ) کدام عملیات بیانگر میزان نقدینگی است؟

۱) الف) دشوار شدن آشنایی و اعتبارسنجی رسیدها ب) وسیله سنجش ارزش پ) حجم پول + شبه پول

۲) الف) دشوار شدن آشنایی و اعتبارسنجی رسیدها ب) وسیله پرداخت در مبادلات پ) حجم پول + چک پول

۳) الف) با افزایش تجارت و مبادله پول بیش‌تری نیاز بود ب) وسیله پرداخت در مبادلات پ) حجم پول + شبه پول

۴) الف) با افزایش تجارت و مبادله پول بیش‌تری نیاز بود ب) وسیله سنجش ارزش پ) حجم پول + چک پول

۲۵- در چند مورد از عبارت‌های زیر نام دوران تاریخی اقتصاد ایران در عبارت مقابل آن درست آمده است؟

الف) وجود حکومت‌ها و سلسله‌های بزرگ، لشکرکشی‌ها و جنگ‌ها و تجارت با چین و امپراتوری روم، از اهمیت و بزرگی اقتصاد ایران در آن دوران حکایت می‌کند: ایران باستان.

ب) اقتصاد یکپارچه و مستقلی شکل گرفت که با سایر لایه‌های دینی، اجتماعی و فرهنگی کشور هماهنگی داشت: دوران پهلوی

پ) ویژگی عمده این دوره، جدا شدن اقتصاد ایران از ابعاد هویتی، فرهنگی، اجتماعی، تاریخی و دینی خود بود: دوران قاجار

ت) حاکمان وقت از موقعیت جهان و وظایف خطیر تاریخی خود تصور درستی نداشتند: نیمه پایانی حکومت صفویه

۱) ۳ ۲) ۲ ۳) ۱ ۴) صفر

۲۶- دستیابی به اهداف اقتصادی و سیاسی ملت ایران که در قانون اساسی بازتاب دارد، مستلزم غلبه بر ... اقتصاد ایران است که یکی از نمونه‌های آن ... است.

۱) استقلال اقتصادی - وابستگی به درآمدهای نفتی ۲) بیماری‌های ساختاری - وابستگی به درآمدهای نفتی

۳) استقلال اقتصادی - تاب‌آوری اقتصادی ۴) بیماری‌های ساختاری - بهره‌وری بالای شرکت‌های تولیدی

۲۷- عبارات «مقاوم‌سازی اقتصادی به معنای آن است که مجموع نیروهای مولد، شرکت‌ها و مؤسسات تولیدی و خدماتی یک کشور، روی پای خود

بایستند تا بتوانند در صورت به وجود آمدن بحران تمامی نیازهای اساسی و حیاتی‌شان را تأمین کنند و به بیگانگان وابسته نباشند» و «این‌که کشورها

در شرایط سخت پیش‌بینی نشده چه واکنشی نشان می‌دهند به توانایی تحریم آن‌ها بستگی دارد.» به ترتیب ... و ... هستند.

۱) درست - درست ۲) نادرست - درست

۳) درست - نادرست ۴) نادرست - نادرست

۲۸- توضیحات جدول زیر مربوط به کشور آمریکا است. اگر تولیدات این کشور به دو محصول قهوه و چای محدود باشد، تولید ناخالص داخلی این کشور

چقدر است؟

تولید چای خارجی‌های ساکن کشور	۸۰ میلیارد دلار
تولید چای مردمی که در خارج از کشور اقامت دارند	۱۵۰ میلیارد دلار
تولید چای آمریکایی‌های داخل کشور	۱,۶۰۰ میلیارد دلار
تولید قهوه خارجی‌های ساکن کشور	۱۱۲ میلیارد دلار
تولید قهوه مردمی که در خارج از کشور اقامت دارند	۶۰ میلیارد دلار
تولید قهوه آمریکایی‌های داخل کشور	۱,۴۷۲ میلیارد دلار

(۲) ۳,۰۷۲ میلیارد دلار

(۱) ۳,۴۷۴ میلیارد دلار

(۴) ۳,۲۶۴ میلیارد دلار

(۳) ۳,۲۸۲ میلیارد دلار

۲۹- کدام مورد در GDP محاسبه می‌شود؟

(۲) تدریس و تربیت دانش‌آموزان توسط دبیران مدرسه

(۱) تربیت فرزندان توسط خانواده

(۴) فروش خودروهای دست دوم

(۳) خرید و فروش پوند و دلار خارج از صرافی‌ها در بازار

۳۰- در جدول مقابل اطلاعات مربوط به وضعیت توزیع درآمد در چهار کشور مختلف آمده است با توجه به ارقام ذکر شده در این جدول:

الف) در کدام کشور وضعیت توزیع درآمد مناسب‌تر است و چه عددی را نشان می‌دهد؟

ب) در کدام کشور وضعیت توزیع درآمد در ناعدلانه‌ترین حالت قرار دارد؟

کشور	سهام دهک اول	سهام دهک دهم
A	۷	۳۵
B	۶	۳۳
C	۴	۲۹
D	۳	۲۵

(۲) الف) ۵/۵ - B (ب) C

(۱) الف) ۵ - A (ب) D

(۴) الف) ۵/۵ - B (ب) D

(۳) الف) ۵ - A (ب) C



علوم و فنون ادبی (۱)

۱۵ دقیقه

سبک و سبک‌شناسی  
(سبک خراسانی)  
وزن شعر فارسی /  
موازنه و ترصیع  
زبان و ادبیات فارسی در  
سده‌های پنجم و ششم و  
ویژگی‌های سبکی آن  
صفحه ۶۰ تا صفحه ۸۷

۳۱- همه موارد از ویژگی‌های شعر یا نثر فارسی در سبک خراسانی است به جز:

- (۱) قافیه و ردیف بسیار ساده است. - روح حماسه بر ادبیات این دوره حاکم است.
- (۲) فکر و کلام ساده است. - روح شادی و نشاط و خوش‌باشی، در شعر غلبه دارد.
- (۳) استفاده از آرایه‌های ادبی در نثر - استفاده از ترکیبات دشوار
- (۴) کهنه و مهجور بودن بخشی از لغات - توصیفات طبیعی، محسوس و عینی

۳۲- کدام موارد، از ویژگی‌های «فکری» سبک خراسانی محسوب می‌شود؟

- (الف) ساده بودن اشعار پندآموز و اندرزگونه این دوره
- (ب) واقع‌گرا بودن شعر و عینی بودن آن و سادگی توصیفات
- (ج) بهره‌گرفتن از تشبیهات حسی در توصیف پدیده‌ها
- (د) فراوانی ترکیبات نو

(۴) ب، ج

(۳) ب، د

(۲) الف، د

(۱) الف، ب

۳۳- کدام گزینه در مورد سبک‌شناسی دوره اول نادرست است؟

- (۱) سبک دوره غزنوی را باید «بینابین» نامید.
- (۲) رودکی، فردوسی، ناصر خسرو از شعرای معروف سبک خراسانی هستند.
- (۳) سبک خراسانی برحسب زمان به سه سبک فرعی سامانی، غزنوی و سلجوقی تقسیم می‌شود.
- (۴) قالب غزل در اواخر سبک خراسانی رشد می‌یابد.

۳۴- عبارات کدام گزینه «همگی» از ویژگی‌های نثر دوره غزنوی و سلجوقی است؟

- (الف) افزایش کاربرد نشانه‌های جمع فارسی بر جمع عربی
- (ب) تمثیل و استشهاد به آیات، احادیث و اشعار
- (ج) حذف افعال به قرینه
- (د) تکرار فعل یا اسم به حکم ضرورت معنی
- (ه) افزایش کاربرد لغات عربی

(۴) ب، ج، ه

(۳) الف، ج، ه

(۲) ب، د، ه

(۱) الف، ب، د

۳۵- خط عروضی در کدام گزینه درست آمده است؟

- (۱) هیچ فلک دفع کند از سر خود دور سفر: (هیچ فلک دفع کند از سر خود دور سفر)
- (۲) کار مده نفس تبه کار را: (کار مده نفس تبه کار را)
- (۳) همه آرام گرفتند و شب از نیمه گذشت: (هم آرام گرفتند شب از نیمه گذشت)
- (۴) بارها روی از پریشانی به دیوار آورم: (بارها روی پریشانی به دیوار آورم)

۳۶- تعداد هجاهای بلند کدام مصراع نادرست ذکر شده است؟

- (۱) که کمیگاه حوادث بود این مرحله‌ها: (۷)
- (۲) سحرگه عزم بستان کن صبحی در گلستان کن: (۱۲)
- (۳) عقل از جهان خاموش شد و از دل برفت آرام ما: (۱۳)
- (۴) راه تو دیدم پس از این همره ایشان نشوم: (۸)

۳۷- شاعر در کدام بیت از آرایه «ترصیع» بهره جسته است؟

- (۱) خام است شرابی که در او غلغله‌ای هست
- (۲) لعل تو در چشم من باده بود در قدح
- (۳) متازید و این کشتگان مسپرید
- (۴) دل همان به که گرفتار هوایی باشد

- (۱) پوچ است زمینی که در او زلزله‌ای هست
- (۲) مهر تو در جان من گنج بود در خراب
- (۳) بگردید و این خستگان بشمرید
- (۴) سر همان به که نثار کف پایی باشد

۳۸- کدام بیت فاقد «موازنه» است؟

- (۱) در سمن با آن طراوت حسن این رخسار نیست
- (۲) این طلعت و رخسار که دارد که تو داری
- (۳) دل را هوای چشم تو بیمار می‌کند
- (۴) ز صولت تو نرستی هژبر آهن چنگ

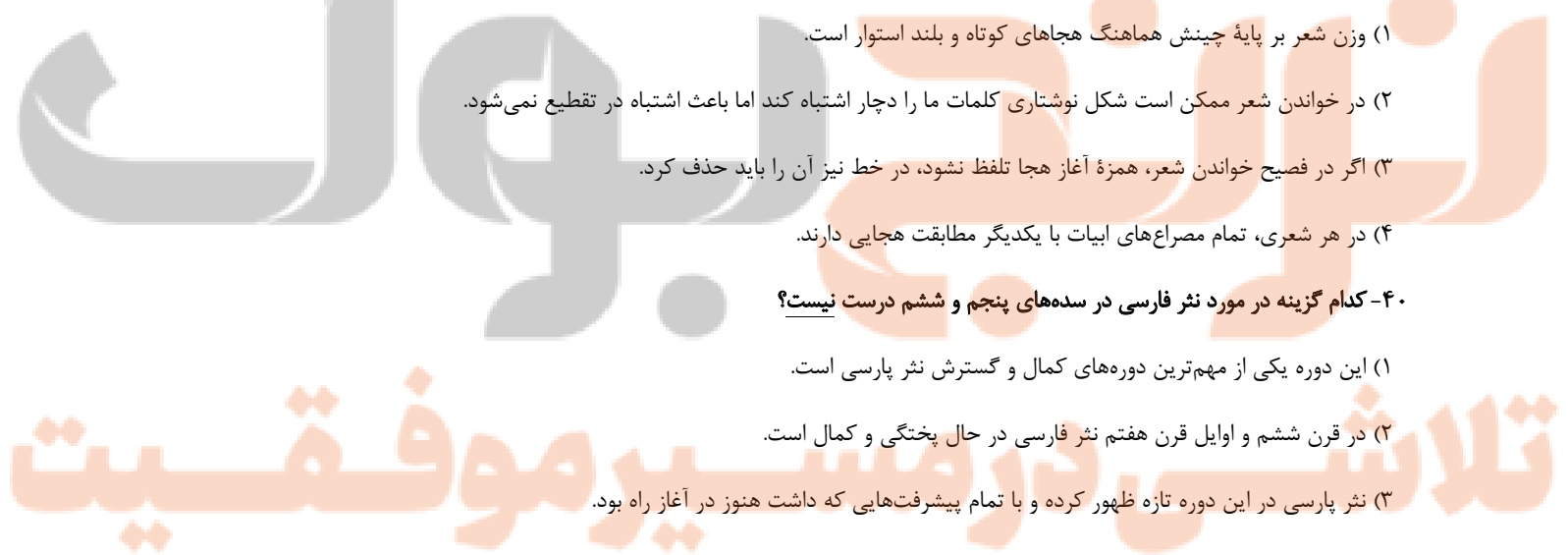
- (۱) در شکر با آن حلاوت ذوق این گفتار نیست
- (۲) این قامت و رفتار که دارد که تو داری
- (۳) جان را امید وصل تو تیمار می‌کند
- (۴) ز هیبت تو نجستی عقاب آتش پر

۳۹- همه عبارات زیر صحیح هستند، به جز:

- (۱) وزن شعر بر پایه چینش هماهنگ هجاهای کوتاه و بلند استوار است.
- (۲) در خواندن شعر ممکن است شکل نوشتاری کلمات ما را دچار اشتباه کند اما باعث اشتباه در تقطیع نمی‌شود.
- (۳) اگر در فصیح خواندن شعر، همزه آغاز هجا تلفظ نشود، در خط نیز آن را باید حذف کرد.
- (۴) در هر شعری، تمام مصراع‌های ابیات با یکدیگر مطابقت هجایی دارند.

۴۰- کدام گزینه در مورد نثر فارسی در سده‌های پنجم و ششم درست نیست؟

- (۱) این دوره یکی از مهم‌ترین دوره‌های کمال و گسترش نثر پارسی است.
- (۲) در قرن ششم و اوایل قرن هفتم نثر فارسی در حال پختگی و کمال است.
- (۳) نثر پارسی در این دوره تازه ظهور کرده و با تمام پیشرفتهایی که داشت هنوز در آغاز راه بود.
- (۴) نیمه اول قرن پنجم دوره بلوغ نثر فارسی است.



تاریخ (۱) ایران و جهان باستان

۱۵ دقیقه

از ورود آریایی‌ها تا پایان

هخامنشیان

اشکانیان و ساسانیان

آیین‌های دینی / جامعه و

خانواده

صفحه ۸۰ تا صفحه ۱۱۷

۴۱- کدام گزینه درباره حوادث تاریخ دوره هخامنشیان در فاصله سال‌های ۶۰۰ تا ۵۰۰ ق.م درست است؟

(۱) الف) فتح مصر توسط کمبوجیه، ب) جنگ‌های ایران و یونان، ج) پیروزی کوروش بر ماد، د) شورش کوروش کوچک در آسیای صغیر

(۲) الف) پیروزی کوروش بر ماد، ب) تصرف نینوا توسط کوروش، ج) فتح بابل توسط کوروش، د) شروع پادشاهی داریوش یکم

(۳) الف) پیروزی کوروش بر ماد، ب) فتح بابل توسط کوروش بزرگ، ج) فتح مصر توسط کمبوجیه، د) شروع پادشاهی داریوش یکم

(۴) الف) فتح مصر توسط داریوش، ب) آغاز پادشاهی خشایارشا، ج) شکست داریوش در نبرد ماراتن، د) تصرف آسیای صغیر توسط داریوش

۴۲- کدام گزینه درباره حوادث دوران پادشاهی داریوش یکم درست است؟

(۱) سپاهیان هخامنشی در زمان داریوش یکم در نبرد سالامیس توفیقی به دست نیاوردند.

(۲) در زمان داریوش یکم، برادرش کوروش کوچک در آسیای صغیر شورش کرد و با سپاهی عازم ایران شد و در جنگی کشته شد.

(۳) سپاهیان هخامنشی در زمان داریوش یکم ابتدا جزایر دریای اژه را تصرف کردند و سپاه ایران وارد خاک یونان شد.

(۴) در زمان داریوش یکم گومانه مغ به کمک عده‌ای دیگر شورش کرده و بر تخت پادشاهی نشست و حکومت هخامنشی را با مشکل مواجه کرد.

۴۳- کدام گزینه درباره حوادث دوران مهرداد یکم، پادشاه قدرتمند اشکانی، درست است؟

(۱) قدرت یافتن اشکانیان، به بیرون راندن سلوکیان از ایران، شروع جنگ‌های ایران و روم

(۲) فتح ماد، همدان، بابل و سلوکیه، تبدیل حکومت اشکانی به یک پادشاهی قدرتمند، توسعه قلمرو اشکانیان به‌طور چشمگیر

(۳) جنگ حران، انتخاب تیسفون به عنوان پایتخت، بیرون راندن سلوکیان از ایران

(۴) شروع جنگ‌های ایران و روم، جنگ با اردشیر بابکان ساسانی، تکمیل و گشایش جاده ابریشم

۴۴- کدام گزینه از حوادث دوران پادشاهی اردشیر بابکان است؟

(۱) شکست رومیان در نبرد حران - انتخاب تیسفون به پایتختی - سرکوب اعراب متجاوز

(۲) انتخاب تیسفون به پایتختی - جنگ با روم - شورش مزدک - حکومت او قبل از دوران اردوان چهارم اشکانی

(۳) شورش مزدک - شکست اردوان چهارم اشکانی - سرکوب اعراب متجاوز - از بین بردن حکومت ملوک طوایفی

(۴) سرکوب حاکمان محلی - شکست اردوان چهارم اشکانی - انتخاب تیسفون به پایتختی - از بین بردن حکومت ملوک طوایفی

۴۵- در عصر هخامنشی گروه مشورتی پادشاه شامل بلندپایگان چه حوزه‌هایی بودند؟

(۱) نظامی - سیاسی - مذهبی - خارجه - اداری

(۲) نظامی - سیاسی - تجاری - اداری - مذهبی

(۳) نظامی - سیاسی - اداری - حقوقی - مذهبی

(۴) نظامی - سیاسی - خارجه - مذهبی - حقوقی

۴۶- کدام پادشاه هخامنشی از طریق مشارکت دادن اقوام و ملتها در اداره حکومت هخامنشی، وفاداری و پشتیبانی آنها را جلب کرد و چه کسانی در

حکومت هخامنشی چشم و گوش شاه بودند؟

(۱) داریوش - دیوان شاهی

(۲) کوروش - مسئول ساتراپی‌ها

(۳) داریوش - مسئول ساتراپی‌ها

(۴) کوروش - دیوان شاهی

۴۷- کدام گزینه ویژگی‌های حکومت ملوک‌طوایفی است و این شیوه حکومت در کدام دوره به چشم می‌خورد؟

(۱) حاکمان محلی در اداره قلمروی خویش استقلال محدودی داشتند. - اشکانیان

(۲) داشتن سیاست مدارای دینی و آزادی - اشکانیان

(۳) ضرب سکه طلا به نام پادشاه - سلوکیان

(۴) مشارکت مستقیم در جنگ‌های احتمالی - سلوکیان

۴۸- چند گزاره زیر در رابطه با جامعه ایران در عصر باستان صحیح است؟

الف) دوره کوتاه فرمانروایی مادها، سرآغاز شکل‌گیری طبقات اجتماعی شد.

ب) نابرابری در عصر هخامنشی به مسائل اقتصادی محدود بود.

ج) در عصر هخامنشی، گروه جنگجویان نسبت به دو گروه دیگر، جایگاه بالاتری داشت.

(۱) صفر

(۲) یک

(۳) دو

(۴) سه

۴۹- در نتیجه اقدامات چه کسی قدرت و نفوذ اشراف و نجبای درجه اول کاهش یافت و بر قدرت و نفوذ اشراف و نجبای درجه دوم افزوده شد و در عصر

ساسانی کدام گروه جدید به طبقه حاکم افزوده شد؟

(۱) قباد - دبیران

(۲) خسرو انوشیروان - دبیران

(۳) قباد - موبدان

(۴) خسرو پرویز - موبدان

۵۰- کدام گزینه به درستی عبارات زیر را تکمیل می‌کند؟

- در قسمت‌های منسوب به زرتشت در اوستا، تفاوت بین مرد و زن وجود ....

- خانواده گسترده تا عهد ... تداوم داشت.

- همسر ... و دو دختر ... بر تخت سلطنت نشستند.

(۱) دارد - ساسانی - یزدگرد سوم - خسرو پرویز

(۲) ندارد - ساسانی - خسرو پرویز - یزدگرد سوم

(۳) دارد - هخامنشی - خسرو پرویز - یزدگرد دوم

(۴) ندارد - هخامنشی - یزدگرد دوم - خسرو پرویز

تلاشی در مسیر موفقیت

پاسخ دادن به این سوالات اجباری است و در تراز کل شما تأثیر دارد.

سوالات آشنا

۵۱- به ترتیب کدام گزینه پاسخ صحیح سؤال‌های زیر می‌باشد؟

- الف) علت حمله آشوریان به سرزمین‌های همسایه و مخصوصاً نواحی غربی ایران چه بود؟  
ب) حکومت محلی هخامنشیان در زمان ماد در فارس به مرکزیت چه شهری و توسط کدام گروه از آریاییان تشکیل شد؟
- (۱) الف) به دست آوردن فلزات و سنگ‌های قیمتی ب) انشان - پارسی‌ها  
(۲) الف) به دست آوردن سرزمین‌های سرسبز فلات ایران ب) هگمتانه - پارت‌ها  
(۳) الف) به دست آوردن فلزات و سنگ‌های قیمتی ب) هگمتانه - پارت‌ها  
(۴) الف) به دست آوردن سرزمین‌های سرسبز فلات ایران ب) انشان - پارسی‌ها

۵۲- به ترتیب کدام گزینه مبین پاسخ صحیح سؤال‌های زیر می‌باشد؟

- الف) منشور کورش به چه زبانی نوشته شده و در کدام منطقه کشف شد و در کجا نگهداری می‌شود؟  
ب) به ترتیب «بنای شهر اکباتان»، «پیروزی بر ماد» و «فتح بابل» مربوط به کدام یک از پادشاهان است؟
- (۱) الف) میخی، تخت جمشید، موزه لوور فرانسه ب) هوخشتر، داریوش، داریوش  
(۲) الف) بابلی، بابل، موزه بریتانیا در لندن ب) دهیوک، کورش دوم، کورش  
(۳) الف) میخی، تخت جمشید، موزه لوور فرانسه ب) دهیوک، کورش دوم، داریوش  
(۴) الف) بابلی، بابل، موزه بریتانیا در لندن ب) هوخشتر، داریوش، کورش

۵۳- تصرف شهر سلوکیه و بیرون راندن سلوکیان از ایران به ترتیب توسط کدام یک از پادشاهان اشکانی انجام شد؟

- (۱) مهرداد یکم - مهرداد دوم  
(۲) فرهاد دوم - مهرداد یکم  
(۳) مهرداد یکم - فرهاد دوم  
(۴) مهرداد دوم - فرهاد دوم

۵۴- صحیح یا غلط بودن هر یک از عبارت‌های زیر در کدام گزینه به ترتیب مشخص شده است؟

- الف) قیاد به سبب همراهی با بهرام چوبین توسط اشراف و موبدان از پادشاهی برکنار شد و به زندان افتاد.  
ب) پس از قتل خسرو پرویز رقابت و کشمکش در درون دربار ساسانی با شدت بیشتری ادامه یافت.  
پ) در اوایل پادشاهی یزدگرد سوم، اعراب مسلمان به ایران حمله و در چند جنگ بزرگ مانند قادسیه، جلولاء و نهاوند، سپاه ساسانی را شکست دادند.  
ت) یکی از عوامل مؤثر در سقوط ساسانیان، طغیان رودخانه‌های دجله و فرات و شکسته شدن سدها و به زیر آب رفتن زمین‌های حاصلخیز در ماوراءالنهر بود.

- (۱) ص - ص - غ - غ  
(۲) ص - غ - ص - غ  
(۳) غ - ص - ص - غ  
(۴) غ - غ - ص - ص

۵۵- پادشاهان ساسانی به منظور ایجاد تمرکز و افزایش دامنه نظارت و تسلط خود بر مناطق مختلف کشور، دست به چه اقداماتی زدند؟

- (۱) سپاهی دائمی و نیرومند تشکیل دادند - اقدام به توسعه و تقویت تشکیلات اداری منسجم و منظمی کردند.  
(۲) از شیوه غیرمتمرکز اداره حکومت استفاده نمودند - مسئولیت بازرسی و نظارت دقیق و کامل بر عملکرد مأموران دولتی را به خویشاوندان نزدیک شاه واگذار نمودند.

- (۳) در این دوره قدرت و مناصب مهم سیاسی و اداری و نظامی در اختیار پارسی‌ها قرار داده شد - اداره برخی از سرزمین‌ها و مناطق کشور در اختیار پادشاهان کوچک قرار گرفت.

- (۴) ساسانیان از شیوه حکومت ملوک طوایفی سود جستند - اقدام به توسعه و تقویت تشکیلات اداری منسجم و منظمی کردند.



۵۶- براساس باورهای کهن ایرانی ... ، ایزد پیمان و قانون و پشتیبان نظم اجتماعی بود و شکل غیررسمی قضاوت را اغلب ... برعهده داشتند و روحانیون عمدتاً به اختلافات ... رسیدگی می‌کردند و در سنگ‌نوشته‌هایی که از شاهان هخامنشی به‌ویژه ... برجای مانده، نکته‌ها و مطالبی دربارهٔ انصاف، عدالت و راستی به چشم می‌خورد.

(۱) آناهیتا - روحانیون زرتشتی - جرایم سیاسی و نظامی - کورش بزرگ

(۲) میترا - ریش‌سفیدان - حقوقی و مدنی - داریوش یکم

(۳) میترا - روحانیون زرتشتی - حقوقی و مدنی - کورش بزرگ

(۴) آناهیتا - ریش‌سفیدان - جرایم سیاسی و نظامی - داریوش یکم

۵۷- به‌ترتیب در کدام گزینه صحیح یا غلط بودن عبارت‌های زیر آمده است؟

- دهیوک، پادشاه ماد، سپاه خود را به دسته‌های کمان‌داران، نیزه‌داران و سواران تقسیم کرد.

- سپاه هخامنشی تا زمان داریوش یکم متکی بر واحدهای سواره نظام بود.

- سپاه جاویدان از میان جوانان برومند پارسی انتخاب می‌شدند.

- در سپاه اشکانی، نیروی پیاده‌نظام نقش چندانی نداشت.

(۲) غ - ص - غ - ص

(۱) غ - غ - ص - ص

(۴) غ - ص - ص - ص

(۳) ص - غ - ص - غ

۵۸- ویژگی برجسته جشن‌های باستانی ... بود و عامل مؤثری در ... به‌شمار می‌آمد.

(۱) جشن و شادی و تفریح - تقویت حس فرمانبرداری از شاه

(۲) عبادت و شکرگزاری به درگاه خداوند - تقویت حس فرمانبرداری از شاه

(۳) عبادت و شکرگزاری به درگاه خداوند - تقویت هویت جمعی

(۴) جشن و شادی و تفریح - تقویت هویت جمعی

۵۹- دربارهٔ طبقات اجتماعی مردم در دوره اشکانی نمی‌توان گفت ...

(۱) در این حکومت اعضای گروه حاکم به دو دستهٔ خانوادهٔ شاهی و خاندان‌های قدرتمند تقسیم می‌شدند.

(۲) تعداد بسیار بالای اسیران جنگی در فعالیت‌های کشاورزی، ساختمان‌سازی و معادن شاهی به‌کار گرفته می‌شدند.

(۳) طبقهٔ دوم از هرم اجتماعی اشکانی به دبیران، جنگاوران، پزشکان، منجمان و دهقانان اختصاص داشت.

(۴) تودهٔ مردم شامل کشاورزان، شبانان، صاحبان حرف و صنایع و بازرگانان می‌شد.

۶۰- در دوران ساسانیان چه گروهی مدافع نابرابری‌های اجتماعی و امتیازات طبقهٔ حاکم بودند؟

(۲) جنگاوران و دبیران

(۱) اشراف و نجای درباری

(۴) موبدان زرتشتی

(۳) صاحب‌منصبان عالی‌رتبه

جغرافیای ایران

۱۰ دقیقه

منابع آب ایران  
ویژگی‌های جمعیت ایران  
تقسیمات کشوری ایران  
سکونتگاه‌های ایران  
صفحه ۴۶ تا صفحه ۸۷

۶۱- کدام مورد عبارت جغرافیایی زیر را درباره کانون‌های دائمی آبگیر کامل می‌کند؟

«کانون‌های آبگیر ... از سال بارش و بیش از ... باران دارند.»

(۱) در فصول سرد سال - مناطق گرم و خشک

(۲) در فصول سرد سال - مناطق کوهستانی

(۳) حداقل هشت ماه - ۵۰۰ میلی‌متر

(۴) هشت ماه - ۴۵۰ میلی‌متر

۶۲- کدام رودهای زیر از سمت جنوب شرق و کدام رودها از سمت جنوب غرب به ترتیب به دریای خزر می‌ریزند؟

(۱) سفیدرود و هراز - چالوس و اترک

(۲) ارس و چالوس - هراز و سفیدرود

(۳) اورال و ولگا - گرگان و اترک

(۴) اترک و گرگان - ارس و کورا

۶۳- کدام مورد، عبارت زیر را به‌درستی تکمیل می‌کند؟

«تنها بندر اقیانوسی ایران ... نام دارد که در شمال ... واقع است.»

(۱) بندرعباس - دریای عمان

(۲) بندر چابهار - دریای عمان

(۳) بندرعباس - خلیج فارس

(۴) بندر چابهار - خلیج فارس

۶۴- در دهه‌های اخیر نقش کدام عامل تأثیرگذار در پراکندگی جمعیت نسبت به گذشته، افزایش چشمگیری داشته است؟

(۱) راه‌های ارتباطی

(۲) عوامل طبیعی

(۳) انسان

(۴) سرمایه

۶۵- متخصصان برای دستیابی به میزان افزایش و کاهش جمعیت چه چیزی را اندازه‌گیری می‌کنند؟

(۱) رشد طبیعی جمعیت

(۲) میزان مولید و مرگ و میر و مهاجرت

(۳) میزان مهاجرت جمعیت

(۴) رشد مطلق جمعیت

۶۶- درباره مهاجرت کدام گزینه درست است؟

- (۱) با پیشرفت فناوری و وسایل حمل و نقل، مهاجرت افزایش یافته است.
  - (۲) مهاجرت روستاییان باعث جذب نیروی انسانی و متخصص در شهرها می‌شود.
  - (۳) در کشور ما مهاجرت از شهرهای کوچک به شهرهای بزرگ از مهم‌ترین مهاجرت‌هاست.
  - (۴) مهاجرت یکی از عوامل رشد طبیعی جمعیت است.
- ۶۷- طبق تقسیمات کشوری سال ۱۳۱۶ ایران به ... استان و ... شهرستان تقسیم می‌شد و مجموعه‌ای از چند ... یک دهستان را شکل می‌دادند.

(۲) ۱۰ - ۴۹ - قصبه

(۱) ۱۲ - ۴۹ - شهر

(۴) ۱۰ - ۲۴ - قصبه

(۳) ۱۲ - ۲۴ - شهر

۶۸- چند مورد از عبارات زیر گزاره‌ای اشتباه در رابطه با سکونتگاه است؟

- عواملی مانند آب، خاک، شیب زمین و ... تنها در پیدایش سکونتگاه‌ها نقش دارند.
- از بین عوامل ذکر شده در بالا، خاک مناسب و حاصلخیز بیش‌ترین اهمیت را در شکل‌گیری سکونتگاه‌ها داشته‌است.
- اهمیت شهر بیشاپور به لحاظ ارتباطی بود.
- قدیمی‌ترین نوع سکونتگاه در ایران عشایری است.

(۲) ۳

(۱) ۴

(۴) ۱

(۳) ۲

۶۹- کدام یک از انواع سکونتگاه‌ها تحت‌تأثیر پدیده‌های اطراف خود هستند؟

(۲) روستایی پراکنده

(۱) شهری

(۴) روستایی متمرکز

(۳) عشایری

۷۰- چند مورد از نقش سکونتگاه‌ها به‌درستی بیان شده است؟

انزلی: بندری / تهران: اداری / سرچشمه: نظامی / شیراز: سیاسی / پیرانشهر: تفریحی / تبریز: دانشگاهی / اراک: صنعتی

(۲) ۷

(۱) ۳

(۴) ۶

(۳) ۴

جامعه‌شناسی (۱)

۱۵ دقیقه

بازتولید هویت اجتماعی  
تغییرات هویت اجتماعی  
تحولات هویتی جهان اجتماعی  
(علل درونی)  
تحولات هویتی جهان اجتماعی  
(علل بیرونی)  
هویت ایرانی (۱)  
صفحه ۷۵ تا صفحه ۱۱۰

۷۱- کدام فرهنگ‌ها از قدرت اقناعی بیش‌تری برخوردارند و کدام شیوه تشویق و تنبیه آثار و نتایج عمیق‌تری دارد؟

- ۱) فرهنگ‌هایی که افراد کنش‌ها و اعمال متناسب با آن فرهنگ را بهتر انجام می‌دهند - رسمی
- ۲) فرهنگ‌هایی که ظرفیت منطقی و عقلانی بیش‌تری دارند و با فطرت آدمیان سازگارترند - غیررسمی
- ۳) فرهنگ‌هایی که افراد کنش‌ها و اعمال متناسب با آن فرهنگ را بهتر انجام می‌دهند - غیررسمی
- ۴) فرهنگ‌هایی که ظرفیت منطقی و عقلانی بیش‌تری دارند و با فطرت آدمیان سازگارترند - رسمی

۷۲- کدام عبارت زیر نادرست است؟

- ۱) افراد در بدوتولد، هویت اجتماعی انتسابی خود را به گونه‌ای فعال می‌پذیرند.
- ۲) جابه‌جایی افراد از یک موقعیت اجتماعی به موقعیت اجتماعی دیگر را تحرک اجتماعی می‌گویند.
- ۳) موقعیت اجتماعی افراد صرفاً تابع مشاغل آنها نیست، بلکه به عوامل دیگر نیز بستگی دارد.
- ۴) در صورتی که شغل جدید فرد، موقعیت اجتماعی او را تغییر ندهد، تحرک اجتماعی افقی دارد.

۷۳- به ترتیب، کدام جوامع گرفتار از خود بیگانگی فطری و از خود بیگانگی تاریخی می‌شوند؟

- ۱) جوامعی که مانع رسیدن فطرت آدمی به آرامش می‌شوند - جوامعی که با آسیب عمیق فرهنگی مواجه هستند و مانع شناخت صحیح از عالم و آدم می‌شوند.
- ۲) جوامع باطلی که در مسیر تحولات هویتی خود ارزش‌ها و عقاید و فرهنگ دیگر را می‌پذیرند - جوامعی که مانع شناخت صحیح از هویت فرهنگی می‌شوند.
- ۳) جوامعی که ارزش‌های آن مغایر با ارزش‌های توحیدی است - جوامع خودباخته‌ای که هویت تاریخی خود را فراموش کرده‌اند.
- ۴) جوامع باطلی که ارزش‌ها و هنجارهای آن مغایر با فطرت انسان است - جوامع باطلی که هویت خود را از یاد می‌برند.

۷۴- هر یک از موارد زیر، به ترتیب با کدام گزینه مرتبط است؟

«مهم‌ترین تحولات در هر جهان اجتماعی»، «زبان سیاسی دربار ایران بعد از آشنایی ایرانیان با اسلام»، «نمونه دفع مهاجمان توسط جهان اسلام»،

«عناوین تقسیم‌بندی ملت اسلامی به ترک، عرب و فارس توسط مستشرقان غربی»، «دو بعد مهم هویت یک جامعه»

(۱) انقلاب‌ها - فارسی دری - جنگ‌های صلیبی - قوم‌گرایانه و ناسیونالیستی - تاریخی و جغرافیایی

(۲) انقلاب‌ها - عربی - حمله مغولان - قوم‌گرایانه و ناسیونالیستی - زمانی و مکانی

(۳) تغییر نظام سیاسی - عربی - حمله مغولان - عرب و عجم - زمانی و مکانی

(۴) تغییر نظام سیاسی - فارسی دری - جنگ‌های صلیبی - عرب و عجم - تاریخی و جغرافیایی

۷۵- تحریک‌های اجتماعی در جوامع مختلف به تناسب ... آن جامعه صورت می‌گیرد. تحریک اجتماعی سعودی در یک جامعه سرمایه‌داری متعلق به ...

است.

(۲) عقاید و ارزش‌های - دارندگان منابع ثروت

(۱) عقاید و ارزش‌های - زمین‌داران بزرگ

(۴) هنجارها و نمادهای - زمین‌داران بزرگ

(۳) هنجارها و نمادهای - دارندگان منابع ثروت

۷۶- در ابتدا آشنایی با هویت ... صورت می‌گیرد و در جوامع فئودالی غربی، موقعیت اجتماعی افراد به ... بستگی داشت.

(۲) اکتسابی - میزان سرمایه

(۱) انتسابی - میزان سرمایه

(۴) انتسابی - رابطه آن‌ها با زمین

(۳) اکتسابی - رابطه آن‌ها با زمین

۷۷- کدام گزینه بیانگر تحولات فرهنگی از یک جهان اجتماعی به جهان اجتماعی دیگر است؟

(۱) جهان اجتماعی (۱) ← تعارض فرهنگی ← تحول فرهنگی ← بحران هویت فرهنگی ← تزلزل فرهنگی ← جهان اجتماعی (۲)

(۲) جهان اجتماعی (۱) ← تحول فرهنگی ← بحران هویت فرهنگی ← تزلزل فرهنگی ← تعارض فرهنگی ← جهان اجتماعی (۲)

(۳) جهان اجتماعی (۱) ← تزلزل فرهنگی ← تعارض فرهنگی ← تحول فرهنگی ← بحران هویت ← جهان اجتماعی (۲)

(۴) جهان اجتماعی (۱) ← تعارض فرهنگی ← تزلزل فرهنگی ← بحران هویت فرهنگی ← تحول فرهنگی ← جهان اجتماعی (۲)

۷۸- هریک از موارد زیر با کدام مفهوم مرتبط است؟

- محصول عضویت گروهی

- منبع و منشأ هویت مدرسه

- هویت جهان اجتماعی

(۱) هویت اجتماعی افراد - تعلیم و تربیت - هویت فرهنگی جهان اجتماعی

(۲) هویت فرهنگی افراد - نقش‌های معلم و خانواده - هویت انتسابی

(۳) هویت اجتماعی افراد - نهاد آموزش و پرورش - نقش اجتماعی

(۴) هویت فرهنگی افراد - نهاد خانواده - هویت اکتسابی

۷۹- هریک از موارد زیر بیانگر کدام مفاهیم هستند؟

- خودباختگی جوامع غیرغربی در برابر جهان غرب

- واقعیت‌ها و آرمان‌های مطابق حق

- مهم‌ترین پیامدهای انقلاب

(۱) از خودبیگانگی فرهنگی - هویت تاریخی - تحولات هویتی

(۲) غربزدگی - هویت تاریخی - تعارض فرهنگی

(۳) غربزدگی - هویت حقیقی - تحولات هویتی

(۴) تعارض فرهنگی - هویت تاریخی - تزلزل فرهنگی

۸۰- تأخیر در ازدواج و افزایش طلاق نوعی ... است و بسیاری از متفکران شکل‌گیری دوران پسمدرن را ... می‌دانند و برخی آنرا تغییری می‌دانند که

درون این جهان اتفاق افتاده و پذیرفته شده است.

(۱) بحران هویت فرهنگی - بحران هویت اجتماعی

(۲) تعارض فرهنگی - تحول هویت جهان متجدد

(۳) تزلزل فرهنگی - فرصت‌ها و محدودیت‌ها در جهان مدرن

(۴) بحران هویت فرهنگی - تحول هویت جهان متجدد

۱۵ دقیقه

قضیه حملی  
احکام قضایا  
قیاس اقترانی  
صفحه ۵۵ تا صفحه ۸۲

منطق

۸۱- کدام گزینه عبارت زیر را به درستی کامل می کند؟

«قضایای حملی با توجه به ... به قضایای ... و ... تقسیم می شوند»

- (۱) سور قضیه - موجبه، سالبه  
(۲) نسبت قضیه - کلی، جزئی  
(۳) موضوع قضیه - محصوره، شخصی  
(۴) کم قضیه - مشروط، نامشروط

۸۲- در همه گزینه‌ها به جز گزینه ... رابطه قضیه اول و دوم با قضیه سوم به ترتیب تداخل و تضاد است.

- (۱) بعضی حقوق خوانده‌ها وکیل نیستند - هر حقوق خوانده‌ای وکیل است - هیچ حقوق خوانده‌ای وکیل نیست  
(۲) بعضی کنکوری‌ها دانش‌آموز نیستند - هیچ کنکوری دانش‌آموز نیست - هر کنکوری دانش‌آموز است  
(۳) بعضی استادها دکترا ندارند - هر استادی دکترا دارد - هیچ استادی دکترا ندارد  
(۴) بعضی دانشجوها معلم هستند - هیچ دانشجویی معلم نیست - هر دانشجویی معلم است

۸۳- درباره استدلال‌های زیر چه می توان گفت؟

- «شیر در قفس است، قفس از آهن است؛ پس شیر از آهن است»

- «در دست او تیر است، تیر یکی از سیارات منظومه شمسی است؛ پس در دست او یکی از سیارات منظومه شمسی است»

- (۱) هر دو استدلال به دلیل عدم تکرار معنایی حد وسط بی اعتبار هستند.  
(۲) در استدلال اول حد وسط به صورت لفظی تکرار نشده است و استدلال دوم مغالطه توسل به معنای ظاهری دارد.  
(۳) در هر دو استدلال، عدم تکرار حد وسط باعث ایجاد مغالطه شده است.  
(۴) اشتراک لفظ باعث بی اعتباری هر دو استدلال است.

۸۴- کدام قضیه از نظر دامنه مصادیق موضوع یا محمول با سایر قضایا متفاوت است؟

- (۱) حسین دیروز سرکارش رفت.  
(۲) محمد هفته گذشته خوب امتحان داد.  
(۳) ایران کشور ثروتمندی است.  
(۴) تبریز گدا ندارد.

۸۵- همه گزینه‌ها به جز گزینه ... دارای شروط اول و دوم و فاقد شرط سوم از شرایط اعتبار قیاس هستند.

- (۱) هیچ استدلالی تعریف نیست، هر تعریفی فکر است؛ هیچ استدلالی فکر نیست.  
(۲) بعضی کشورها دموکرات نیستند، هر کشوری دارای قانون است؛ بعضی دموکراسی‌ها دارای قانون نیستند.  
(۳) هیچ علف‌خواری اسب نیست، بعضی پستانداران علف‌خوار هستند؛ بعضی اسب‌ها پستاندار نیستند.  
(۴) هر تصویری غیر تصدیق است، هیچ غیر تصدیقی استدلال نیست؛ هیچ تصویری استدلال نیست.



۸۶- کدام یک از گزینه‌های زیر یک قیاس معتبر است؟

- (۱) هیچ دزدی پاک دست نیست. هیچ پاک دستی خائن نیست. پس هیچ دزدی خائن نیست.
- (۲) برخی از شرکت‌ها، دارای خدمات پس از فروش مناسب نیستند. هر شرکت ماندگاری، دارای خدمات پس از فروش مناسب است. پس برخی از شرکت‌ها، شرکت ماندگار نیستند.
- (۳) هر فرد مبتلا به کووید ۱۹، نیازمند به قرنطینه است. برخی از افراد نیازمند به قرنطینه، فقیر هستند. پس برخی افراد مبتلا به کووید ۱۹، فقیر هستند.
- (۴) هر کودک بالای هفت سال، در سن تحصیل است. بعضی از افراد محروم از تحصیل، کودک بالای هفت سال نیستند. پس بعضی از افراد در سن تحصیل، محروم از تحصیل نیستند.

۸۷- اگر در یک قیاس اقترانی معتبر، حدوسط در هر دو مقدمه علامت مثبت داشته باشد، نتیجه آن قیاس حتماً ...

- (۱) جزئی خواهد بود.
- (۲) کلی خواهد بود.
- (۳) موجب خواهد بود.
- (۴) سالبه خواهد بود.

۸۸- اگر قضیه کاذب «برخی انسان‌ها ارزشمند نیستند» را داشته باشیم، کدام گزینه درست است؟

- (۱) تناقض: هر انسانی ارزشمند است. (کاذب)
- (۲) تداخل: هیچ انسانی ارزشمند نیست. (کاذب)
- (۳) عکس مستوی: برخی ارزشمندان انسان نیستند. (صادق)
- (۴) تداخل تحت تضاد: برخی انسان‌ها ارزشمند هستند. (کاذب)

۸۹- اینکه در تداخل از صدق قضیه جزئی نمی‌توان ضرورتاً صدق کلی آن قضیه را نتیجه گرفت، اساس صدق و کذب کدام استدلال است؟

- (۱) استقرای تمثیلی
- (۲) استنتاج بهترین تبیین
- (۳) استدلال قیاسی
- (۴) استقرای تعمیمی

۹۰- اگر متناقض قضیه صادق «هر الف ب است» را عکس کنیم، کدام عبارت در مورد آن درست است؟

- (۱) حتماً کاذب است.
- (۲) ممکن است کاذب یا صادق باشد.
- (۳) حتماً صادق است.
- (۴) عکس لازم‌الصدق ندارد.

## آزمون شناختی ۱۸ فروردین ۱۴۰۲

دانش آموز عزیز!

اگر در آزمون‌های قبلی به سوالات آمادگی شناختی پاسخ داده‌اید از وضعیت پایه آمادگی شناختی خود بر اساس کارنامه آگاهی دارید. در این آزمون برنامه‌های حمایتی ما برای تقویت سازه‌های شناختی ادامه می‌یابد. این برنامه ارائه راهکارهای هفتگی و پایش مداوم دانش شناختی است. لطفاً برای سنجش آگاهی خود به سوالات پاسخ دهید و برای اطمینان از ماهیت راهبردهای آموزشی مورد سوال،

پاسخ نامه تشریحی را مطالعه فرمائید. **توجه: سوالات از شماره ۲۶۱ شروع می‌شود.**

۲۶۱. کدام مورد را برای مدیریت منابع توجهی مفید می‌دانید؟

۱. تغییر تکلیف
۲. استفاده از زمان سنج برای تمرکز در بازه‌های زمانی
۳. انتخاب محیط مناسب برای مطالعه
۴. همه موارد

۲۶۲. برای تمرکز بیشتر روی یک موضوع درسی کدام گزینه را مفید می‌دانید؟

۱. تعیین بازه زمانی مشخص برای مطالعه
۲. تعیین محتوای مشخص برای مطالعه
۳. هر دو مورد
۴. نمی‌دانم

۲۶۳. کدام گزینه مانع تمرکز برای مطالعه می‌شود؟

۱. تمرکز روی یک فعالیت در لحظه
۲. فواصل استراحت با تنفس عمیق
۳. دسترس بودن وسایل ارتباطی
۴. همه موارد

۲۶۴. کدام مورد را برای به خاطر سپاری یک لیست مفیدتر است؟

۱. یادگیری مبتنی بر معنی
۲. یادگیری مبتنی بر وزن/قافیه
۳. یادگیری مبتنی بر شکل ظاهری کلمات
۴. فرقی ندارد.

۲۶۵. کدام مورد در خصوص اثر خواب بر یادگیری صحیح است؟

۱. خواب مناسب، قبل از یادگیری، برای یادگیری ضروری است.
۲. خواب موجب تثبیت اطلاعاتی که قبلاً یاد گرفته‌ایم می‌شود.
۳. خواب اثری بر یادگیری ندارد.
۴. مورد ۱ و ۲

۲۶۶. کدام مورد برای استفاده از نشانه‌های محیطی برای یادگیری درست است؟

۱. مفید است و باید مطالب را وابسته به این نشانه‌ها حفظ کرد.
۲. مفید است اما باید وابستگی به این نشانه‌ها را به تدریج کم کرد.
۳. نشانه‌های محیطی اثری بر یادگیری ندارد.
۴. نمی‌دانم

۲۶۷. راه حل‌های متفاوت در چه زمانی بیشتر به ذهن می‌رسند؟

۱. در زمان هیجان مثبت به مساله
۲. در زمان هیجان منفی به مساله
۳. هیجان اثری بر خلاقیت ندارد.
۴. نمی‌دانم

۲۶۸. کدام مورد در مورد یادگیری مشارکتی صحیح است؟

۱. به دلیل احتمال اشتباه دیگران می‌تواند ما را به اشتباه بیاندازد.
۲. به دلیل بازسازی مطالب توسط دیگران موجب فراگیری بهتر مطالب می‌شود.
۳. اثری بر میزان یادگیری ندارد.
۴. نمی‌دانم

۲۶۹. کدام گزینه خلاقیت را در یادگیری بیشتر می‌کند؟

۱. پرسیدن از دیگران
۲. تلاش برای داشتن نگاه غیر واقعی
۳. گرفتن بازخورد دیگران
۴. همه موارد

۲۷۰. یکی از گزینه‌های زیر را در مورد سوالات امروز انتخاب کنید.

۱. مفید بود و انتظار دارم این آگاهی من را در یادگیری مطالب درسی کمک کند.
۲. مایل به دریافت اطلاعات، راهبردها و تکالیف تقویتی بیشتر هستم.
۳. هر دو
۴. هیچ‌کدام


تلاشی در مسیر موفقیت



- ✓ دانلود گام به گام تمام دروس
- ✓ دانلود آزمون های قلم چی و گاج + پاسخنامه
- ✓ دانلود جزوه های آموزشی و شب امتحانی
- ✓ دانلود نمونه سوالات امتحانی
- ✓ مشاوره کنکور
- ✓ فیلم های انگیزشی

 [www.ToranjBook.Net](http://www.ToranjBook.Net)

 [ToranjBook\\_Net](https://t.me/ToranjBook_Net)

 [ToranjBook\\_Net](https://www.instagram.com/ToranjBook_Net)