


تلاشی در مسیر موفقیت



- دانلود گام به گام تمام دروس ✓
- دانلود آزمون های قلم چی و گاج + پاسخنامه ✓
- دانلود جزوه های آموزشی و شب امتحانی ✓
- دانلود نمونه سوالات امتحانی ✓
- مشاوره کنکور ✓
- فیلم های انگیزشی ✓

 www.ToranjBook.Net

 [ToranjBook_Net](https://t.me/ToranjBook_Net)

 [ToranjBook_Net](https://www.instagram.com/ToranjBook_Net)



دفترچه سؤال

پایه دهم ریاضی
۱۸ فروردین ماه ۱۴۰۲

مدت پاسخگویی: ۱۰۵ دقیقه

تعداد سؤال های آزمون: ۷۰ سؤال

عنوان	نام درس	تعداد سؤال	شماره سؤال	شماره صفحه	زمان پاسخگویی
اختصاصی	ریاضی (۱) - عادی	۲۰	۱-۲۰	۳	۳۵ دقیقه
	ریاضی (۱) - موزی	۲۰	۲۱-۴۰	۵	
	هندسه (۱)	۱۰	۴۱-۵۰	۷	۱۵ دقیقه
	فیزیک (۱)	۲۰	۵۱-۷۰	۹	۳۵ دقیقه
	شیمی (۱) - عادی	۲۰	۷۱-۹۰	۱۲	۲۰ دقیقه
	شیمی (۱) - موزی	۲۰	۹۱-۱۱۰	۱۶	

طراحان

ریاضی (۱)	علی سرآبادانی - علی مرشد - مهرداد حاجی - محمد پوراحمدی - احسان غنی زاده - امیر وفائی - سجاد داوطلب - رحیم مشتاق نظم - علی ارجمند - بهرام حلاج - حمید علیزاده - کریم نصیری
هندسه (۱)	محمد خندان - هادی فولادی - رضا عباسی اصل - امیرحسین ابومحبوب - علی ایمانی - رضا سیدنجفی - افشین خاصه خان
فیزیک (۱)	پوریا علاقه مند - حمید زرین کفش - غلامرضا محبی - عبدالرضا امینی نسب - امیرحسین برادران - محمد بهلولی
شیمی (۱)	هادی زمانیان - هادی رحیمی کیاسری - علی فرزاد تبار - علی افخمی نیا - هادی مهدی زاده - مجتبی عبادی - محمد وزیری - فرزاد رضایی - سیدصدرا عادل - میرحسین حسینی - آروین شجاعی - علی مؤیدی - سیدمحمدرضا میرقائمی - کامران جعفری - سیدسحاب اعرابی - میلاد عزیزی - محمد حمیدی - مجتبی عبادی - محمدرضا زهرهوند - محمد فلاح نژاد - جمشاد تسلیمی - مهلا تابش نیا

گزینشگران، مسئولین درس و ویراستاران

نام درس	مسئول درس و گزینشگر	گروه ویراستاری	مسئول درس مستندسازی
ریاضی (۱)	عاطفه خان محمدی	مهرداد ملوندی - علی مرشد - رضا سیدنجفی	الهه شهبازی
هندسه (۱)	امیرحسین ابومحبوب	مهرداد ملوندی - حنا عابدینی - سجاد محمدنژاد	سرژ یقیا زاریان تبریزی
فیزیک (۱)	حمید زرین کفش	زهره آقامحمدی - بابک اسلامی - امیر محمودی انزلی	احسان صادقی
شیمی (۱)	علی افخمی	سیدمحمدحسن معروفی - سروش عبادی	سیدامیرحسین مرتضوی

گروه فنی و تولید

مدیر گروه	سیدعلی موسوی فرد
مسئول دفترچه	هانیه شکرانی
حروف نگار و صفحه آرا	لیلا عظیمی
مستندسازی و مطابقت با مصوبات	مدیر گروه: مهیا اصغری مسئول دفترچه اختصاصی: سیدامیرحسین مرتضوی
ناظر چاپ	حمید عباسی

بنیاد علمی آموزشی قلمچی (وقف عام)

دفتر مرکزی: خیابان انقلاب بین صبا و فلسطین پلاک ۹۲۳ بنیاد علمی آموزشی قلمچی (وقف عام) تلفن: ۶۴۶۳-۰۲۱



ریاضی (۱) - عادی

هدف گذاری قبل از شروع هر درس در دفترچه سؤال

لطفاً قبل از شروع پاسخ گویی به سؤال های درس ریاضی (۱)، هدف گذاری چند از ۱۰ خود را بنویسید: از هر ۱۰ سؤال به چند سؤال می توانید پاسخ صحیح بدهید؟ عملکرد شما در آزمون قبل چند از ۱۰ بوده است؟ هدف گذاری شما برای آزمون امروز چیست؟

چند از ۱۰ آزمون قبل	هدف گذاری چند از ۱۰ برای آزمون امروز

۳۵ دقیقه

معادله ها و نامعادله ها / تابع

فصل ۱۴ از ابتدای سهمی تا پایان

فصل و فصل ۵

مفهمه های ۷۸ تا ۱۱۷

۱- در سهمی به فرم $y = x^2 + ax + b$ اگر خط $x = 3$ ، نمودار سهمی را به دو بخش متقارن تقسیم کند و خط $y = 2$ بر سهمی مماس باشد، مقدار ab کدام است؟

- (۱) -۳۳ (۲) -۶۶ (۳) ۴۲ (۴) ۲۱

۲- جواب نامعادله $|x^2 + 1| < 2x - 1$ به کدام صورت است؟

- (۱) $(-\infty, -2] \cup [0, +\infty)$ (۲) $(-2, -1) \cup (0, +\infty)$
 (۳) $(-2, 0)$ (۴) $\mathbb{R} - [-2, 0]$

۳- کدام یک از رابطه های زیر تابع است؟

- (۱) $f = \{(x^2 + 2x, x^2 + x) | x \in \mathbb{R}\}$ (۲) $g = \{(x^2 - 4x + 6, x^2 + 4x) | x \in \mathbb{R}\}$
 (۳) $h = \{(x^2 + 5x + 2, -x^2 + 5x) | x \in \mathbb{R}\}$ (۴) $i = \{(x^2 - x - 1, -x^2 + x) | x \in \mathbb{R}\}$

۴- از مجموعه $A = \{a, b, c\}$ به مجموعه $B = \{a, b, c, d\}$ چند تابع می توان نوشت به طوری که تابع ثابت یا همانی نباشد؟

- (۱) ۷۶ (۲) ۵۹ (۳) ۶۰ (۴) ۷۷

۵- نمودار دو تابع $f(x) = -3x^2 + ax + b$ و $g(x) = 2bx + a$ یکدیگر را در نقطه ای به طول ۱ روی تابع $h(x) = 2x - 5$ قطع می کنند. حاصل $g(2a) + f(2b)$ کدام است؟

- (۱) -۲۴۳ (۲) -۲۷۳ (۳) -۳۰۶ (۴) -۲۶۳

۶- تابع خطی $g(x)$ ، دامنه $[-1, 5]$ و برد $[2, 8]$ دارد. در این صورت $g(2)$ کدام می تواند باشد؟

- (۱) ۶ (۲) ۵ (۳) ۵ یا ۳ (۴) ۱ یا ۶

۷- اگر در تابع همانی $f = \{(m^2 + 3, x), (2m, y), (m^2 + 3, z)\}$ ، یکی از اعضای برد تابع عدد ۲ باشد، مجموع مقادیر اعضای برد تابع f کدام است؟

- (۱) ۶ (۲) ۴ (۳) ۵ (۴) ۱۰

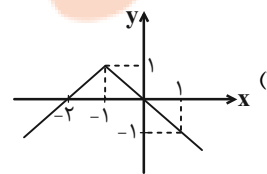
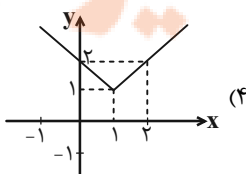
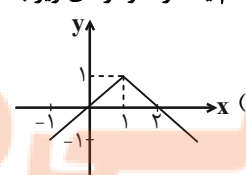
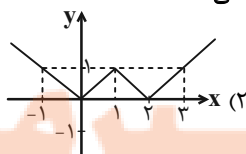
۸- اگر تابع $f(x) = |x| + |x - 1|$ را به صورت چند ضابطه ای بنویسیم، به کدام صورت خواهد بود؟

- (۱) $f(x) = \begin{cases} 2x - 1, & x \geq 1 \\ 1, & 0 \leq x < 1 \\ 1 - 2x, & x < 0 \end{cases}$ (۲) $f(x) = \begin{cases} 2x - 1, & x \geq 1 \\ 1, & 0 \leq x < 1 \\ -1 - 2x, & x < 0 \end{cases}$
 (۳) $f(x) = \begin{cases} 1 - 2x, & x \geq 1 \\ -1, & 0 \leq x < 1 \\ 2x - 1, & x < 0 \end{cases}$ (۴) $f(x) = \begin{cases} 2x + 1, & x \geq 1 \\ 1, & 0 \leq x < 1 \\ -1 - 2x, & x < 0 \end{cases}$

۹- اگر $f = \{(3, a), (b + 1, 5), (a + b, b - 2), (7, 2a + b - c)\}$ تابع ثابت باشد. آنگاه c کدام است؟

- (۱) ۷ (۲) ۱۲ (۳) ۵ (۴) ۱۷

۱۰- کدام یک از نمودارهای زیر به درستی تابع $y = -|x - 1| + 1$ را نشان می دهد؟



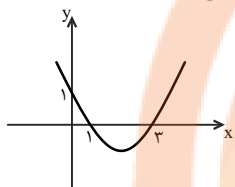
تلاش کن در مسیر موفقیت

آزمون (آشنا) - پاسخ دادن به این سؤالات اجباری است و در تراز کل شما تأثیر دارد.

۱۱- مجموعه جواب نامثبت نامعادله $\frac{x^2 |3x-1| + 2}{x^2} \geq \frac{1}{x^3} - \frac{1}{x^2}$ کدام است؟

- (۱) $[-2, -\frac{1}{3}]$ (۲) $(-\infty, -2]$ (۳) $[-2, 0)$ (۴) $[-2, -1)$

۱۲- نمودار سهمی $y_1 = ax^2 + bx + c$ به صورت زیر است. عبارت $y_2 = cx^2 + bx + a$ به ازای چه مقادیری از x منفی است؟



- (۱) $x > 2$ یا $x < \frac{4}{3}$ (۲) $\frac{1}{3} < x < 1$
 (۳) $\frac{4}{3} < x < 2$ (۴) $x < \frac{1}{3}$ یا $x > 1$

۱۳- رابطه $R = \{(x, y) | x, y \in Z, |x| + |y| = 2\}$ چند عضو زوج مرتب دارد؟

- (۱) ۴ (۲) ۶ (۳) ۷ (۴) ۸

۱۴- برد تابع $f(x) = (a-b-1)x^2 + (b-2)x + a+c-1$ مجموعه تک‌عضوی $R_f = \{2c-a\}$ و دامنه آن مجموعه اعداد حقیقی است. حاصل $a+b+c$ کدام است؟

- (۱) ۱۰ (۲) ۹ (۳) ۸ (۴) ۷

۱۵- تابع f به صورت $f = \{(1, 2), (m, 1), (1, m^2 + m), (m^2 - 2, m + 1)\}$ مفروض است. کدام زوج مرتب عضو تابع f نیست؟

- (۱) $(2, -1)$ (۲) $(1, 2)$ (۳) $(-2, 1)$ (۴) $(-1, 2)$

۱۶- اگر f یک تابع باشد که در رابطه $f(x+1) + f(x-1) = x$ صدق کند، آنگاه $f(1)$ کدام است؟

- (۱) ۲ (۲) $-\frac{1}{2}$ (۳) $\frac{1}{2}$ (۴) -2

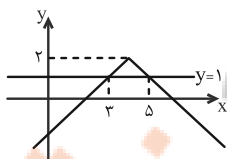
۱۷- با فرض $f(x) + f(1) = \frac{2x^2 + x}{3}$ ، مقدار $f(2)$ کدام است؟

- (۱) ۷ (۲) ۶ (۳) $\frac{6}{5}$ (۴) $\frac{7}{5}$

۱۸- مساحت دایره (A) ، به عنوان تابعی از محیط آن (P) کدام است؟

- (۱) $A(P) = 4\pi P^2$ (۲) $A(P) = \frac{P^2}{4\pi}$ (۳) $A(P) = \frac{P^2}{2\pi}$ (۴) $A(P) = 2\pi P^2$

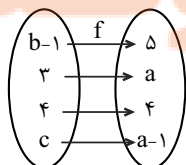
۱۹- نمودار تابع f در شکل زیر، از انتقال k واحد به راست و سپس m واحد به بالای تابع $y = -|x|$ به دست آمده است. خط $y = 1$ نمودار



تابع f را در دو نقطه به طول‌های ۳ و ۵ قطع می‌کند. مقدار $m+k$ کدام است؟

- (۱) ۲ (۲) ۴ (۳) ۸ (۴) ۶

۲۰- شکل زیر، نمودار تابع همانی f را نشان می‌دهد. حاصل $a+b-2c$ کدام است؟



- (۱) ۶ (۲) ۳ (۳) ۷ (۴) ۵

ریاضی (۱) - موازی

معادله‌ها و نامعادله‌ها / تابع
فصل ۴ از ابتدای سهمی تا پایان فصل
و فصل ۵ تا پایان دامنه و برد توابع
صفحه‌های ۷۸ تا ۱۰۸

۲۱- در سهمی به فرم $y = x^2 + ax + b$ اگر خط $x = 3$ ، نمودار سهمی را به دو بخش متقارن تقسیم

کند و خط $y = 2$ بر سهمی مماس باشد، مقدار ab کدام است؟

- (۱) -۳۳ (۲) -۶۶ (۳) ۴۲ (۴) ۲۱

۲۲- جواب نامعادله $|x^2 + 1| < 2x - 1$ به کدام صورت است؟

- (۱) $(-\infty, -2] \cup [0, +\infty)$ (۲) $(-2, -1) \cup (0, +\infty)$
(۳) $(-2, 0)$ (۴) $\mathbb{R} - [-2, 0]$

۲۳- مجموعه جواب نامعادله $2x^2 + 3 > |x^2 - 4x| + |x^2 + 4x + 3|$ به صورت $(a, b) \cup (c, d)$ می‌باشد. حاصل $a + b + c + d$ کدام است؟

- (۱) صفر (۲) ۴ (۳) ۶ (۴) ۸

۲۴- کدام یک از رابطه‌های زیر تابع است؟

- (۱) $f = \{(x^2 + 2x, x^2 + x) | x \in \mathbb{R}\}$ (۲) $g = \{(x^2 - 4x + 6, x^2 + 4x) | x \in \mathbb{R}\}$
(۳) $h = \{(x^2 + 5x + 2, -x^2 + 5x) | x \in \mathbb{R}\}$ (۴) $i = \{(x^2 - x - 1, -x^2 + x) | x \in \mathbb{R}\}$

۲۵- به ازای چند مقدار از a ، رابطه f بیانگر یک تابع است؟

$$f = \{(2, a^2 - 2a), (1, 2), (\frac{1}{2}(a-1)^2, -1), (2, 1)\}$$

- (۱) صفر (۲) ۱ (۳) ۲ (۴) بیشمار

۲۶- تابع $f = \{(x, y) | x \in \mathbb{N}, y \in \mathbb{Z}, y = \frac{5x+2}{x-2}\}$ شامل چند زوج مرتب می‌باشد؟

- (۱) ۶ (۲) ۷ (۳) ۸ (۴) ۹

۲۷- اشتراک دامنه و برد تابع $y = (x-3)^2 + 1$ کدام است؟

- (۱) \mathbb{R} (۲) $[0, +\infty)$ (۳) $[1, +\infty)$ (۴) $[3, +\infty)$

۲۸- نمودار دو تابع $f(x) = -3x^2 + ax + b$ و $g(x) = 2bx + a$ یکدیگر را در نقطه‌ای به طول ۱ روی تابع $h(x) = 2x - 5$ قطع می‌کنند.

حاصل $g(2a) + f(3b)$ کدام است؟

- (۱) -۲۴۳ (۲) -۲۷۳ (۳) -۳۰۶ (۴) -۲۶۳

۲۹- اگر نمودار تابع خطی f از نقاط $(2, 5)$ و $(-1, -4)$ عبور کند، مقدار $f(0) + 2f(5)$ کدام خواهد بود؟

- (۱) $\frac{23}{3}$ (۲) ۲۷ (۳) ۹ (۴) $-\frac{19}{3}$

۳۰- تابع خطی $g(x)$ ، دامنه $[-1, 5]$ و برد $[2, 8]$ دارد. در این صورت $g(2)$ کدام می‌تواند باشد؟

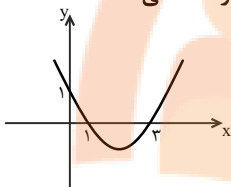
- (۱) ۶ (۲) ۵ (۳) ۳ یا ۵ (۴) ۱ یا ۶

آزمون (آشنا) - پاسخ دادن به این سؤالات اجباری است و در تراز کل شما تأثیر دارد.

۳۱- مجموعه جواب نامثبت نامعادله $\frac{x^2|3x-1|+2}{x^2} \geq \frac{1}{2} - \frac{1}{x^3}$ کدام است؟

- (۱) $[-2, -\frac{1}{2}]$ (۲) $(-\infty, -2]$ (۳) $[-2, 0)$ (۴) $[-2, -1)$

۳۲- نمودار سهمی $y_1 = ax^2 + bx + c$ به صورت زیر است. عبارت $y_2 = cx^2 + bx + a$ به ازای چه مقادیری از x منفی است؟



- (۱) $x < \frac{4}{3}$ یا $x > 2$ (۲) $\frac{1}{3} < x < 1$
 (۳) $\frac{4}{3} < x < 2$ (۴) $x < \frac{1}{3}$ یا $x > 1$

۳۳- رأس سهمی به معادله $y = -x^2 + ax + 5$ بر روی خط به معادله $x = 2$ قرار دارد. این سهمی از کدام نقطه زیر می‌گذرد؟

- (۱) $(-1, 4)$ (۲) $(-1, 5)$ (۳) $(1, 8)$ (۴) $(1, 9)$

۳۴- رابطه $R = \{(x, y) | x, y \in Z, |x| + |y| = 2\}$ چند عضو زوج مرتب دارد؟

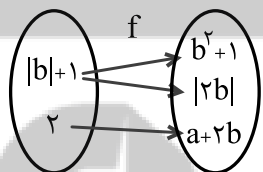
- (۱) ۴ (۲) ۶ (۳) ۷ (۴) ۸

۳۵- برد تابع $f(x) = (a-b-1)x^2 + (b-2)x + a+c-1$ مجموعه تک‌عضوی $R_f = \{2c-a\}$ و دامنه آن مجموعه اعداد حقیقی است. حاصل

$a+b+c$ کدام است؟

- (۱) ۱۰ (۲) ۹ (۳) ۸ (۴) ۷

۳۶- اگر نمودار زیر، مربوط به تابع f باشد، مقدار $a+b$ کدام می‌تواند باشد؟



- (۱) ۲ یا ۳
 (۲) ۱ یا ۳
 (۳) فقط ۱
 (۴) فقط ۳

۳۷- تابع f به صورت $f = \{(1, 2), (m, 1), (1, m^2 + m), (m^2 - 2, m + 1)\}$ مفروض است. کدام زوج مرتب عضو تابع f نیست؟

- (۱) $(2, -1)$ (۲) $(1, 2)$ (۳) $(-2, 1)$ (۴) $(-1, 2)$

۳۸- اگر f یک تابع باشد که در رابطه $f(x+1) + f(x-1) = x$ صدق کند، آنگاه $f(1)$ کدام است؟

- (۱) ۲ (۲) $-\frac{1}{2}$ (۳) $\frac{1}{2}$ (۴) -۲

۳۹- با فرض $f(x) + f(1) = \frac{2x^2 + x}{3}$ ، مقدار $f(2)$ کدام است؟

- (۱) ۷ (۲) ۶ (۳) $\frac{6}{5}$ (۴) $\frac{7}{5}$

۴۰- اگر رابطه $f = \{(-1, 1), (0, -1), (-1, a+2)\}$ یک تابع باشد و داشته باشیم: $\frac{af(-1)}{k+2f(0)} = 2$ ، آن‌گاه مقدار k کدام است؟

- (۱) ۱ (۲) $\frac{1}{5}$ (۳) ۲ (۴) $\frac{2}{5}$

۱۵ دقیقه

پندفصلها

فصل ۳

صفحه‌های ۵۳ تا ۷۴

هندسه (۱)

هدف‌گذاری قبل از شروع هر درس در دفترچه سؤال

لطفاً قبل از شروع پاسخ‌گویی به سؤال‌های هندسه (۱)، هدف‌گذاری چند از ۱۰ خود را بنویسید:

از هر ۱۰ سؤال به چند سؤال می‌توانید پاسخ صحیح بدهید؟

عملکرد شما در آزمون قبل چند از ۱۰ بوده است؟

هدف‌گذاری شما برای آزمون امروز چیست؟

چند از ۱۰ آزمون قبل	هدف‌گذاری چند از ۱۰ برای آزمون امروز

۴۱- به ازای کدام مقدار n ، در یک n ضلعی محدب، $\frac{1}{6}$ قطرها از رأس مشخص A عبور می‌کنند؟

۱۸ (۴)

۱۵ (۳)

۱۲ (۲)

۹ (۱)

۴۲- از برخورد نیمسازهای زوایای داخلی یک متوازی‌الاضلاع، یک نقطه حاصل شده است. در این متوازی‌الاضلاع الزاماً چه تعداد از گزاره‌های زیر

درست است؟

الف) زوایا برابر یکدیگرند.

ب) اضلاع برابر یکدیگرند.

پ) قطرها برابر یکدیگرند.

۳ (۴)

۲ (۳)

۱ (۲)

صفر (۱)

۴۳- مساحت یک چند ضلعی شبکه‌ای $\frac{13}{3}$ واحد مربع است. حداکثر تعداد نقاط درونی این چند ضلعی شبکه‌ای کدام است؟

۷ (۴)

۶ (۳)

۵ (۲)

۴ (۱)

۴۴- در مثلث متساوی‌الساقین ABC ، $AB = AC = 18$ و $\hat{A} = 30^\circ$ است. اگر نقطه D واقع بر قاعده BC به فاصله ۳ واحد از AB باشد،

فاصله D از AC کدام است؟

۶ (۴)

۵ (۳)

۴ (۲)

۳ (۱)

۴۵- در دوزنقه متساوی‌الساقین $ABCD$ ، $\hat{A} = \hat{B} = 120^\circ$ ، اندازه ساق برابر x و اندازه قاعده کوچک برابر a است. نسبت اندازه قاعده بزرگ

به ساق کدام است؟

$a+1$ (۴)

a (۳)

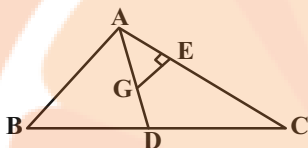
$\frac{x}{a}$ (۲)

$\frac{a}{x} + 1$ (۱)

۴۶- در یک چند ضلعی شبکه‌ای، مجموع تعداد نقاط درونی و مرزی، ۳ برابر عدد مساحت چند ضلعی است. مساحت این چند ضلعی کدام است؟

- (۱) $1/5$ (۲) ۲ (۳) $2/5$ (۴) ۳

۴۷- در مثلث ABC ، G نقطه تلاقی میانه‌ها است. اگر $CE = 6$ ، $AE = 4$ و $GE = 3$ باشد، مساحت مثلث ABC کدام است؟



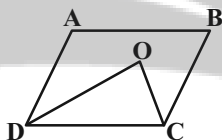
(۱) ۱۵

(۲) ۳۰

(۳) ۴۵

(۴) ۶۰

۴۸- در شکل زیر $AB = 12$ ، $BC = 8$ و $\hat{B} = 30^\circ$ است. اگر CO و DO نیمسازهای دو زاویه C و D باشند، مساحت مثلث COD کدام است؟



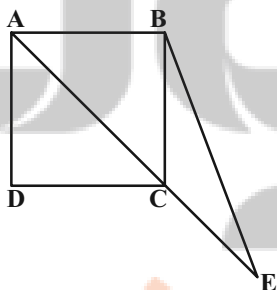
(۱) ۱۸

(۲) ۲۴

(۳) ۳۶

(۴) ۴۸

۴۹- در شکل زیر، چهار ضلعی $ABCD$ مربع و $CE = BC$ است. اگر مساحت مثلث BEC برابر $6\sqrt{2}$ باشد، اندازه قطر مربع کدام است؟



(۱) $4\sqrt{3}$

(۲) $2\sqrt{6}$

(۳) $3\sqrt{2}$

(۴) ۶

۵۰- یک مربع و یک مثلث متساوی‌الاضلاع به ضلع a مفروض‌اند. مجموع فواصل یک نقطه دلخواه درون مربع از اضلاع آن را m و مجموع

فواصل یک نقطه دلخواه درون مثلث متساوی‌الاضلاع از اضلاع آن را n می‌نامیم. حاصل $\frac{n}{m}$ برابر کدام است؟

(۴) $\frac{\sqrt{3}}{4}$

(۳) $\frac{\sqrt{3}}{2}$

(۲) $\frac{3}{2}$

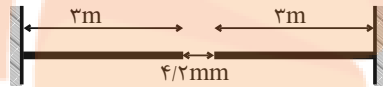
(۱) $\sqrt{3}$



۵۷- ضریب انبساط طولی یک میله فلزی $1/2 \times 10^{-5} K^{-1}$ می‌باشد. اگر طول میله در دمای $20^\circ C$ برابر 60cm باشد، به ازای چه دمایی بر حسب درجه فارنهایت بر طول میله $0/36$ میلی‌متر افزوده می‌شود؟

- ۵۰ (۱) ۷۰ (۲) ۱۲۲ (۳) ۱۵۸ (۴)

۵۸- در شکل زیر، دو میله آهنی و آلومینیمی هم‌دما هر یک به طول 3m به گونه‌ای قرار داده شده‌اند که بین آن‌ها فاصله‌ای وجود دارد. دمای دو میله را حداقل چند درجه سلسیوس افزایش دهیم تا با یکدیگر تماس پیدا کنند؟ $(\alpha_{Al} = 23 \times 10^{-6} \frac{1}{K}$ و $\alpha_{Fe} = 12 \times 10^{-6} \frac{1}{K}$)



- ۳۰ (۱)
۴۰ (۲)
۵۰ (۳)
۶۰ (۴)

۵۹- دماهای دو گلوله مسی تو پُر به شعاع‌های $R_1 = 2\text{cm}$ و $R_2 = 3\text{cm}$ را به ترتیب به اندازه $20^\circ C$ و $10^\circ C$ افزایش می‌دهیم. نسبت تغییرات حجم گلوله (۱) به تغییرات حجم گلوله (۲) کدام است؟

- $\frac{16}{27}$ (۴) $\frac{27}{16}$ (۳) $\frac{28}{7}$ (۲) $\frac{8}{27}$ (۱)

۶۰- اگر دمای یک جسم جامد به اندازه $50^\circ C$ افزایش یابد، مساحت آن به اندازه $0/2$ درصد افزایش می‌یابد. اگر دمای این جسم را $100^\circ C$ زیاد کنیم، چگالی آن چند درصد کاهش می‌یابد؟

- $0/8$ (۴) $1/2$ (۳) $0/4$ (۲) $0/6$ (۱)

۶۱- درون ظرفی با گنجایش ۲ لیتر، مایعی به حجم 1980cm^3 ریخته شده است. اگر دمای مجموعه را 50K بالاتر ببریم، چند سانتی‌متر مکعب از مایع درون ظرف بیرون می‌ریزد؟ $(\beta_{\text{مایع}} = 5 \times 10^{-4} \frac{1}{K}$ و $\beta_{\text{ظرف}} = 1 \times 10^{-5} \frac{1}{K}$)

- $18/5$ (۴) $28/5$ (۳) 20 (۲) $48/5$ (۱)

۶۲- اگر به یک مکعب فلزی توپُر به ضلع 20cm که از فلزی با چگالی $8 \frac{\text{g}}{\text{cm}^3}$ ساخته شده است، 20kJ گرما دهیم، دمایش به اندازه $2/5^\circ C$ افزایش می‌یابد. گرمای ویژه این فلز چند ژول بر گرم درجه سلسیوس است؟ (تغییر حالت رخ نمی‌دهد و چگالی ثابت فرض شود.)

- $0/125$ (۱) $0/25$ (۲) $0/5$ (۳) 1 (۴)

۶۳- گرمای لازم برای اینکه دمای یک قطعه آلومینیمی $91^\circ C$ افزایش پیدا کند، برابر Q است. حال اگر بخواهیم دمای یک قطعه مسی را که جرم آن دو برابر جرم قطعه آلومینیمی است، $35^\circ C$ افزایش دهیم، مقدار گرمای Q' مورد نیاز است. $\frac{Q'}{Q}$ کدام است؟

$(c_{\text{مس}} = 390 \frac{\text{J}}{\text{kg.K}}$ و $c_{\text{آلومینیم}} = 900 \frac{\text{J}}{\text{kg.K}})$

- $\frac{2}{3}$ (۱) $\frac{1}{3}$ (۲) $\frac{3}{4}$ (۳) 3 (۴)

۶۴- دو کره فلزی همجنس، هم‌دما و هم‌شعاع A و B در اختیار داریم. کره A توپر و کره B توخالی است، به طوری که $m_A = 2m_B$. اگر به هر دو کره گرمای یکسان دهیم، افزایش حجم کره A چند برابر افزایش حجم کره B خواهد بود؟

- (۱) ۲ (۲) ۱ (۳) $\frac{1}{2}$ (۴) $\frac{1}{6}$

۶۵- قطعه‌ای فلزی به ظرفیت گرمایی $150 \frac{J}{K}$ را که دمایش $90^\circ C$ است، در 600 گرم آب $10^\circ C$ وارد می‌کنیم. اگر تبادل گرما با محیط اطراف ناچیز باشد، تا رسیدن به دمای تعادل، تقریباً چند کیلوژول گرما بین آب و فلز مبادله می‌شود؟ ($c_{\text{آب}} = 4/2 \frac{kJ}{kg \cdot K}$)

- (۱) $201/6$ (۲) $190/26$ (۳) $36/54$ (۴) $11/34$

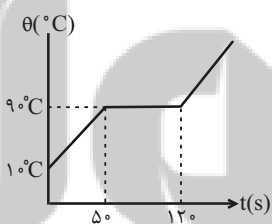
۶۶- یک قطعه آلومینیومی به جرم $210g$ و دمای اولیه $180^\circ C$ را در یک ظرف شامل $1/8kg$ آب با دمای $16^\circ C$ می‌اندازیم. اگر دمای تعادل $18^\circ C$ شود، چند ژول از انرژی‌ای که قطعه آلومینیومی از دست می‌دهد، صرف افزایش دمای آب نشده است؟ ($c_{\text{آب}} = 4200 \frac{J}{kg \cdot C}$ و $c_{\text{آلومینیوم}} = 900 \frac{J}{kg \cdot C}$)

- (۱) 11255 (۲) 16000 (۳) 15498 (۴) 15222

۶۷- چه مقدار گرما برحسب کیلوژول باید به 200 گرم یخ $15^\circ C$ بدهیم تا به آب $25^\circ C$ تبدیل شود؟ ($L_F = 336 \frac{kJ}{kg}$ ، $c_{\text{آب}} = 4/2 \frac{kJ}{kg \cdot C}$ و $c_{\text{یخ}} = 2/1 \frac{kJ}{kg \cdot C}$)

- (۱) $94/5$ (۲) $67/2$ (۳) $73/5$ (۴) $88/2$

۶۸- به یک جسم جامد به جرم $2kg$ توسط یک گرمکن با توان ثابت گرما می‌دهیم. منحنی تغییرات دمای این جسم با زمان در شکل زیر نشان داده شده است. گرمایی که صرف تغییر حالت 100 گرم از این ماده از حالت جامد به مایع در دمای ذوب می‌شود، چند برابر گرمایی است که صرف افزایش دمای 500 گرم از ماده جامد به مقدار $10^\circ C$ می‌شود؟



- (۱) $1/5625$ (۲) $5/6$ (۳) $1/4$ (۴) $2/24$

۶۹- دو کیلوگرم آب $20^\circ C$ را با $1kg$ یخ $10^\circ C$ مخلوط می‌کنیم. در این صورت چند درصد از جرم یخ ذوب می‌شود؟

$$(c_{\text{آب}} = 4200 \frac{J}{kg \cdot C}, L_F = 336 \frac{kJ}{kg} \text{ و } c_{\text{یخ}} = 2100 \frac{J}{kg \cdot C})$$

- (۱) $56/25$ (۲) $37/5$ (۳) $43/75$ (۴) $62/5$

۷۰- یک قطعه یخ صفر درجه سلسیوس را در مقداری آب $60^\circ C$ می‌اندازیم، تمام یخ ذوب شده و $280g$ آب $15^\circ C$ به دست می‌آید. اگر اتلاف

$$\text{گرما ناچیز فرض شود، جرم آب اولیه چند گرم بوده است؟ (} L_F = 336000 \frac{J}{kg} \text{ و } c_{\text{آب}} = 4200 \frac{J}{kg \cdot C} \text{)}$$

- (۱) 140 (۲) 160 (۳) 170 (۴) 190

شیمی (۱) - عادی

۲۰ دقیقه

(دپای گازها در زندگی)

آب، آهنگ زندگی

فصل ۲ از ابتدای واکنش‌های

شیمیایی و قانون پایستگی

جرم تا پایان فصل و فصل ۳ تا

پایان همراهان ناپیدای آب

صفحه‌های ۶۱ تا ۹۲

هدف‌گذاری قبل از شروع هر درس در دفترچه سؤال

لطفاً قبل از شروع پاسخ‌گویی به سؤال‌های شیمی (۱)، هدف‌گذاری چند از ۱۰ خود را بنویسید:

از هر ۱۰ سؤال به چند سؤال می‌توانید پاسخ صحیح بدهید؟

عملکرد شما در آزمون قبل چند از ۱۰ بوده است؟

هدف‌گذاری شما برای آزمون امروز چیست؟

چند از ۱۰ آزمون قبل	هدف‌گذاری چند از ۱۰ برای آزمون امروز
---------------------	--------------------------------------

۷۱- تفاوت اطلاعاتی که معادله نمادی و معادله نوشتاری به ما می‌دهد، در کدام گزینه به طور کامل ذکر شده است؟

(۱) نام مواد، فرمول شیمیایی مواد، حالت فیزیکی مواد، چگونگی اختلاط واکنش‌دهنده‌ها

(۲) فرمول شیمیایی مواد، شرایط لازم برای انجام واکنش، حالت فیزیکی مواد

(۳) فرمول شیمیایی مواد، شرایط لازم برای انجام واکنش، حالت فیزیکی مواد و نام مواد

(۴) فرمول شیمیایی مواد، حالت فیزیکی مواد

۷۲- با توجه به شکل روبه‌رو که سوختن کامل متان را نمایش می‌دهد، چه تعداد از عبارت‌های زیر درست است؟

الف) در معادله موازنه شده این واکنش، مجموع ضرایب واکنش‌دهنده‌ها با فراورده‌ها برابر است.

ب) اگر مقدار گاز A کاهش یابد علاوه بر تغییر رنگ شعله، نوع فراورده کربن‌دار تولیدی نیز تغییر می‌کند.

ج) برای تبدیل گاز D به مواد معدنی می‌توان از اکسید بازی استفاده کرد.

د) تعداد جفت الکترون‌های پیوندی هر واحد گاز B با گاز D برابر است.



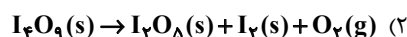
۱ (۴)

۴ (۳)

۲ (۲)

۳ (۱)

۷۳- در کدام واکنش، پس از موازنه ضریب فراورده گازی بزرگ‌تر است؟



۷۴- یک واحد صنعتی برای تأمین برق مورد نیاز خود به طور مساوی، از سه منبع زغال سنگ، نفت خام و گاز طبیعی استفاده می‌کند. اگر کربن

دی‌اکسید تولیدی سالانه این واحد دقیقاً برابر کربن دی‌اکسید مصرفی سالانه ۶۰ درخت تنومند باشد، با توجه به جدول زیر، برق مصرفی این

واحد صنعتی در یک ماه، حدوداً چند کیلووات ساعت است؟ (A میزان برق مصرفی در یک ماه، برحسب کیلووات ساعت از هر کدام از منابع

تولید برق را نشان می‌دهد. هر درخت تنومند سالانه ۵۰kg کربن دی‌اکسید را مصرف می‌کند.)

منبع تولید برق	مقدار CO ₂ تولیدی در یک ماه (برحسب کیلوگرم)
زغال سنگ	۰/۹ × A
نفت خام	۰/۷ × A
گاز طبیعی	۰/۳۶ × A

۳۱/۸۸ (۱)

۳۸۲/۶۵ (۲)

۱۲۷/۵۵ (۳)

۶۳/۷۷ (۴)

۷۵- چه تعداد از عبارت‌های بیان شده، نادرست است؟

• به هریک از شکل‌های بلوری یا اتمی از یک عنصر، دگرشکل می‌گویند.

• اصطلاح لایه اوزون به منطقه مشخصی از تروپوسفر گفته می‌شود که بیشترین مقدار اوزون در آن محدوده قرار می‌گیرد.

• در صنعت از گاز اوزون برای گندزدایی میوه‌ها، سبزیجات و از بین بردن جانداران ذره‌بینی درون آب استفاده می‌شود.

• مولکول‌های اوزون، مانع از ورود بخش عمده‌ای از تابش فرابنفش خورشید به سطح زمین می‌شوند.

۲ (۴)

۱ (۳)

۴ (۲)


۳ (۱)

۷۶- در فشار ثابت، دمای مقداری گاز نیتروژن را 55°C افزایش می‌دهیم اگر حجم گاز به $1/2$ برابر مقدار اولیه‌اش برسد، دمای اولیه گاز چند درجه سلسیوس می‌باشد؟

- (۱) ۴ (۲) ۲ (۳) -۴ (۴) -۲

۷۷- مخلوطی از ترکیب‌های آلومینیم سولفات و پتاسیم پرمنگنات طبق واکنش‌های موازنه نشده زیر تجزیه می‌شوند. اگر از تجزیه کامل مخلوط جامد اولیه، 140 گرم ترکیب آلومینیم‌دار در ظرف داشته باشیم و $111/3$ لیتر گاز در شرایط استاندارد تولید شده باشد، به تقریب چند درصد

جرم مخلوط اولیه را آلومینیم سولفات تشکیل می‌دهد؟ ($\text{Al} = 27, \text{K} = 39, \text{S} = 32, \text{O} = 16, \text{Mn} = 55 : \text{g.mol}^{-1}$)



(۳) ۷۳

(۴) ۷۰/۸

۷۸- با توجه به جرمی که ترازو نشان می‌دهد و اینکه میخ آهنی در هوای مرطوب زنگ می‌زند و زنگ آهن تشکیل شده فقط Fe_2O_3 باشد، چند

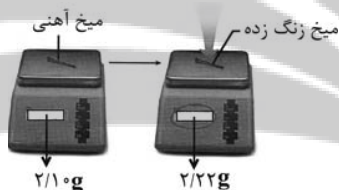
گرم از آهن زنگ زده باقی می‌ماند؟ ($\text{Fe} = 56, \text{O} = 16 : \text{g.mol}^{-1}$) $\text{Fe}(\text{s}) + \text{O}_2(\text{g}) \rightarrow \text{Fe}_2\text{O}_3(\text{s})$ (واکنش را موازنه کنید).

(۱) ۱/۹

(۲) ۲

(۳) ۱/۹۲

(۴) ۱/۸۲



۷۹- چه تعداد از عبارتهای زیر درست است؟

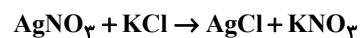
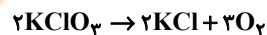
- (الف) برای تبدیل کربن دی‌اکسید حاصل از نیروگاه‌ها به مواد معدنی می‌توان از برخی از اکسیدهای فلزی گروه دوم جدول دوره‌ای استفاده کرد.
 (ب) پلاستیک‌های سبز هزینه ساخت بالاتری دارند اما با توجه به توسعه پایدار به صرفه‌تر از پلاستیک‌هایی با پایه نفتی هستند.
 (ج) در کشور استرالیا برای تولید سوخت سبز از مزارع سویا استفاده می‌شود زیرا این سوخت برخلاف سوخت‌های فسیلی گازهای گلخانه‌ای تولید نمی‌کند.
 (د) یکی از راه‌های کاهش رد پای گاز کربن دی‌اکسید، دفن کردن آن در میدان‌های گازی و چاه‌های نفتی فعال است.
 (و) در میان ۴ سوخت زغال سنگ، بنزین، گاز طبیعی و هیدروژن، سوختی که نسبت به بقیه قیمت بالاتری دارد تولید و نگهداری آن بسیار پر هزینه است.

- (۱) ۵ (۲) ۲ (۳) ۳ (۴) ۴

۸۰- مقداری KClO_3 طبق واکنش زیر تجزیه می‌شود و KCl حاصل از آن با AgNO_3 واکنش داده و $574/0$ گرم رسوب حاصل می‌شود.

چند میلی‌لیتر CH_4 با چگالی $0/8 \frac{\text{g}}{\text{L}}$ با اکسیژن حاصل از تجزیه KClO_3 واکنش می‌دهد؟

($\text{Ag} = 108, \text{K} = 39, \text{Cl} = 35/5, \text{N} = 14, \text{O} = 16, \text{C} = 12, \text{H} = 1 : \text{g.mol}^{-1}$)



(۴) ۲۳۰

(۳) ۲۴۰

(۲) ۶۰

(۱) ۴۰

۸۱- مطابق جدول زیر، چه تعداد از موارد زیر نادرست است؟ (شرایط را STP در نظر بگیرید.)

($H_2 = 2, O_2 = 32, S_8 = 256, Ar = 39/6, He = 4, N_2 = 28 : g.mol^{-1}$)

شماره نمونه	۱	۲	۳	۴	۵
گاز	H_2	Ar	SO_2	N_2	He
مول (mol)	a	۰/۷۵			۰/۲۵
حجم (L)	۱۱/۲	c	d	۵/۶	
جرم (g)	b		۶/۴	e	f

- مطابق جدول، رابطه $e > b = f$ برقرار است.

- نمونه‌های گازی ۱ تا ۵ در فشار یک اتمسفر و دمای ۲۵ درجه سلسیوس هستند.

- مقدار $c + d$ از حجم مولی گازها در STP کمتر است.

- مقدار a، مساوی تفاضل مول‌های دو گاز نجیب جدول است.

۱ (۱) ۲ (۲)

۳ (۳) ۴ (۴)

۸۲- از واکنش $38/6$ گرم کربنات یک فلز (MCO_3) با مقدار کافی هیدروکلریک اسید، $4/4$ لیتر گاز CO_2 به دست آمده است. جرم مولی این

فلز کدام است؟ (چگالی CO_2 در شرایط انجام آزمایش را ۲ گرم بر لیتر در نظر بگیرید و تنها مواد کربن‌دار در معادله این واکنش MCO_3

و CO_2 می‌باشند.) ($C = 12, O = 16 : g.mol^{-1}$)

۲۴ (۱) ۴۰ (۲) ۸۴ (۳) ۱۳۳ (۴)

۸۳- برای جداسازی فراورده فرایند هابر از مخلوط نهایی آن، دمای سامانه را تا رسیدن به ...، سرد می‌کنند و سپس گازهای باقی مانده را ...

می‌کنند.

(۱) پایین‌تر از نقطه جوش آمونیاک، جداسازی

(۲) پایین‌تر از نقطه جوش آمونیاک، وارد محفظه واکنش

(۳) پایین‌تر از نقطه جوش نیتروژن، جداسازی

(۴) پایین‌تر از نقطه جوش نیتروژن، وارد محفظه واکنش

۸۴- دریاها مخلوطی همگن از انواع یون‌ها و مولکول‌ها در آب هستند. شکل زیر نمونه‌ای از آب یک دریاچه فرضی را نشان می‌دهد. فرمول شیمیایی

ترکیب‌های یونی حل شده در آب این دریاچه، در کدام گزینه به درستی نشان داده شده است؟

(۱) $NaCl, KCl, NaSO_4, KSO_4$

(۲) $NaCl, KCl, Na_2SO_4, K_2SO_4$

(۳) $NaCl, KCl_2, Na_2SO_4, KSO_4$

(۴) $NaCl, KCl_2, NaSO_4, K_2SO_4$

کلرید	سولفات
پتاسیم	سدیم

۸۵- در کدام گزینه پاسخ درست پرسش‌های (آ) و (پ) و پاسخ نادرست پرسش (ب) آورده شده است؟ (به ترتیب از راست به چپ)

(آ) درشت مولکول‌ها در کدام بخش از کره زمین نقشی ندارند؟

(ب) سهم کوه‌های یخ از کل آب کره در زمین چقدر است؟

(پ) کدام یون بیشترین مقدار حل شده در هر کیلوگرم آب دریا را دارد؟

(۲) زیست کره، کمتر از ۲ درصد، Cl^-

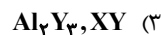
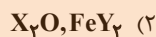
(۱) هواکره، بیشتر از ۲ درصد، Na^+

(۴) زیست کره، کمتر از ۲ درصد، Na^+

(۳) آب کره، کمتر از ۲ درصد، Cl^-

۸۶- اگر فرمول سولفات فلز X به صورت XSO_4 و فرمول ترکیب یونی از فلز کلسیم به صورت CaY باشد، در کدام گزینه فرمول شیمیایی

ترکیبات یونی داده شده درست است؟



۸۷- با توجه به جدول مقابل، کدام یک از گزینه‌های زیر نادرست است؟

آنیون \ کاتیون	کلرید	سولفات	هیدروکسید
یون لیتیم	IV		
یون منیزیم			III
یون آلومینیم		I	
یون آمونیوم	II		V

(۱) از انحلال هر واحد از ترکیب I در آب، ۵ یون تولید می‌شود.

(۲) در ساختار لوویس هر واحد کاتیون ترکیب II برخلاف هر واحد آنیون

ترکیب I، چهار پیوند اشتراکی وجود دارد.

(۳) تعداد آنیون در هر واحد از فرمول شیمیایی ترکیب III از تعداد کاتیون

در ترکیب IV بیش تر است.

(۴) هر دو یون ترکیب V چند اتمی است.

۸۸- چه تعداد از عبارتهای داده شده، جمله زیر را به درستی تکمیل می‌کنند؟

«برای شناسایی یون ... می‌توان از محلول ... استفاده کرد.»

(ب) کربنات - آمونیوم نیترات

(آ) کلرید - نقره نیترات

(ت) فسفات - کلسیم نیترات

(پ) نیترات - باریم کلرید

(۴) ۱

(۳) ۴

(۲) ۳

(۱) ۲

۸۹- در میان منابع غیرآقایانوسی آب، کدام بخش سهم بیشتری دارد؟

(۲) آبهای شیرین و شور دریاچه‌ها

(۱) آبهای زیرزمینی

(۴) نهرها و جوی‌ها

(۳) کوه‌های یخ

۹۰- چه تعداد از مطالب زیر درست است؟

• برای شناسایی وجود یون سدیم در یک نمونه آب چشمه از واکنش $BaCl_2$ با Na_2SO_4 استفاده می‌شود.

• هر واحد آلومینیم کربنات شامل دو یون آلومینیم و سه یون چهار اتمی کربنات است.

• ترکیب‌های $NaCl$ و $NaNO_3$ به ترتیب به شکل رسوب و محلول در آب هستند.

(۴) صفر

(۳) ۳

(۲) ۲

(۱) ۱

شیمی (۱) - موازی

(دپای گازها در زندگی
 فصل ۲ از ابتدای واکنش‌های
 شیمیایی و قانون پایستگی جرم
 تا پایان فصل
 صفحه‌های ۶۱ تا ۸۴

۹۱- تفاوت اطلاعاتی که معادله نمادی و معادله نوشتاری به ما می‌دهد، در کدام گزینه به طور کامل ذکر شده است؟

(۱) نام مواد، فرمول شیمیایی مواد، حالت فیزیکی مواد، چگونگی اختلاط واکنش‌دهنده‌ها

(۲) فرمول شیمیایی مواد، شرایط لازم برای انجام واکنش، حالت فیزیکی مواد

(۳) فرمول شیمیایی مواد، شرایط لازم برای انجام واکنش، حالت فیزیکی مواد و نام مواد

(۴) فرمول شیمیایی مواد، حالت فیزیکی مواد

۹۲- چه تعداد از عبارت‌های بیان شده، نا درست است؟

• به هریک از شکل‌های بلوری یا اتمی از یک عنصر، دگرشکل می‌گویند.

• اصطلاح لایه اوزون به منطقه مشخصی از تروپوسفر گفته می‌شود که بیشترین مقدار اوزون در آن محدوده قرار می‌گیرد.

• در صنعت از گاز اوزون برای گندزدایی میوه‌ها، سبزیجات و از بین بردن جانداران ذره‌بینی درون آب استفاده می‌شود.

• مولکول‌های اوزون، مانع از ورود بخش عمده‌ای از تابش فرابنفش خورشید به سطح زمین می‌شوند.

(۱) ۳ (۲) ۴ (۳) ۱ (۴) ۲

۹۳- با توجه به شکل روبه‌رو که سوختن کامل متان را نمایش می‌دهد، چه تعداد از عبارت‌های زیر درست است؟



(الف) در معادله موازنه شده این واکنش، مجموع ضرایب واکنش دهنده‌ها با فراورده‌ها برابر است.

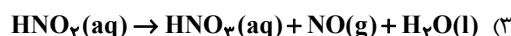
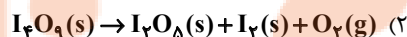
(ب) اگر مقدار گاز A کاهش یابد، علاوه بر تغییر رنگ شعله، نوع فراورده کربن‌دار تولیدی نیز تغییر می‌کند.

(ج) برای تبدیل گاز D به مواد معدنی می‌توان از اکسید بازی استفاده کرد.

(د) تعداد جفت الکترون‌های پیوندی هر واحد گاز B با گاز D برابر است.

(۱) ۳ (۲) ۲ (۳) ۴ (۴) ۱

۹۴- در کدام واکنش، پس از موازنه ضریب فراورده گازی بزرگ‌تر است؟



۹۵- در فشار ثابت، دمای مقداری گاز نیتروژن را 55°C افزایش می‌دهیم اگر حجم گاز به $1/2$ برابر مقدار اولیه‌اش برسد، دمای اولیه گاز چند

درجه سلسیوس می‌باشد؟

(۱) ۴ (۲) ۲ (۳) -۴ (۴) -۲

۹۶- یک واحد صنعتی برای تأمین برق مورد نیاز خود به طور مساوی، از سه منبع زغال سنگ، نفت خام و گاز طبیعی استفاده می‌کند. اگر کربن دی‌اکسید تولیدی سالانه این واحد دقیقاً برابر کربن دی‌اکسید مصرفی سالانه ۶۰ درخت تنومند باشد، با توجه به جدول زیر، برق مصرفی این واحد صنعتی در یک ماه، حدوداً چند کیلووات ساعت است؟ (A میزان برق مصرفی در یک ماه، برحسب کیلووات ساعت از هر کدام از منابع تولید برق را نشان می‌دهد. هر درخت تنومند سالانه ۵۰kg کربن دی‌اکسید مصرف می‌کند.)

منبع تولید برق	مقدار CO ₂ تولیدی در یک ماه (برحسب کیلوگرم)	
زغال سنگ	$0.9 \times A$	۳۱/۸۸ (۱)
نفت خام	$0.7 \times A$	۳۸۲/۶۵ (۲)
گاز طبیعی	$0.36 \times A$	۱۲۷/۵۵ (۳)
		۶۳/۷۷ (۴)

۹۷- در واکنش $Ca_3P_2 + 6H_2O \rightarrow 3Ca(OH)_2 + 2PH_3$ برای تولید ۲/۲۲ گرم $Ca(OH)_2$ چند گرم Ca_3P_2 لازم است و چند گرم PH_3 تولید می‌شود؟ ($Ca = 40, O = 16, H = 1, P = 31 : g.mol^{-1}$)

(۱) ۰/۶۸-۱/۸۲ (۲) ۰/۳۴-۳/۶۴ (۳) ۰/۳۴-۱/۸۲ (۴) ۰/۶۸-۳/۶۴

۹۸- کدام یک از گزینه‌های زیر نادرست است؟

- شکل و حجم یک نمونه جامد برخلاف یک نمونه گازی به شکل ظرف بستگی ندارد.
- بوی گل محمدی ناشی از انتشار مولکول‌های گازی آن است.
- گازها و مایع‌ها برخلاف جامدها تراکم‌پذیر هستند.
- مایع‌ها و گازها هر دو به شکل ظرف محتوی شان درمی‌آیند.

۹۹- مخلوطی از ترکیب‌های آلومینیم سولفات و پتاسیم پرمنگنات طبق واکنش‌های زیر تجزیه می‌شوند. اگر از تجزیه کامل مخلوط جامد اولیه، ۱۴۰ گرم ترکیب آلومینیم‌دار در ظرف داشته باشیم و ۱۱۱/۳ لیتر گاز در شرایط استاندارد تولید شده باشد، به تقریب چند درصد جرم

مخلوط اولیه را آلومینیم سولفات تشکیل می‌دهد؟ ($Al = 27, K = 39, S = 32, O = 16, Mn = 55 : g.mol^{-1}$)



(۳) ۷۳

(۴) ۷۰/۸

۱۰۰- با توجه به جرمی که ترازو نشان می‌دهد و اینکه میخ آهنی در هوای مرطوب زنگ می‌زند و زنگ آهن تشکیل شده فقط Fe_2O_3 باشد، چند

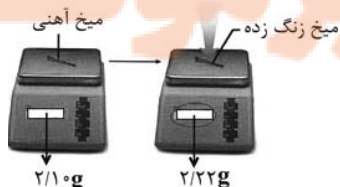
گرم از آهن زنگ نزنه باقی می‌ماند؟ ($Fe(s) + O_2(g) \rightarrow Fe_2O_3(s)$ ($Fe = 56, O = 16 : g.mol^{-1}$) (واکنش را موازنه کنید.)

(۱) ۱/۹

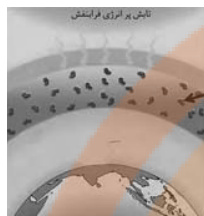
(۲) ۲

(۳) ۱/۹۲

(۴) ۱/۸۲



۱۰۶- در شکل زیر مولکول‌های A، گاز ... هستند که در منطقه مشخصی از ... وجود دارند. در این منطقه واکنش تبدیل گاز A به گاز اکسیژن



... است و مقدار گاز A به طور طبیعی ثابت ...

- (۱) کربن دی‌اکسید - تروپوسفر - برگشت‌ناپذیر - نیست
- (۲) کربن دی‌اکسید - استراتوسفر - برگشت‌ناپذیر - نیست
- (۳) اوزون - استراتوسفر - برگشت‌پذیر - است
- (۴) اوزون - تروپوسفر - برگشت‌پذیر - است

۱۰۷- کدام یک از عبارات‌های زیر نادرست است؟ ($H = 1, C = 12, N = 14, O = 16 \text{ g.mol}^{-1}$)

- (۱) در شرایط یکسان دما و فشار، یک گرم گاز هیدروژن نسبت به یک گرم گاز نیتروژن، حجم کمتری اشغال می‌کند.
- (۲) تعداد اتم‌ها در 0.25 مول گاز گوگرد دی‌اکسید و 0.25 مول گاز کربن دی‌اکسید، برابر است.
- (۳) در شرایط STP، 5 گرم گاز کربن مونوکسید و 5 گرم گاز نیتروژن، حجم یکسانی دارند.
- (۴) مجموع ضرایب استوکیومتری گازها در معادله نمادی و موازنه شده واکنش «گوگرد تری‌اکسید \rightarrow اکسیژن + گوگرد دی‌اکسید»، برابر با 5 است.

۱۰۸- اگر درصد حجمی گازهای هوا به صورت N_2 برابر 78 و O_2 برابر 21 و Ar برابر 1 درصد باشد از تقطیر 200 میلی‌لیتر هوای مایع چند

کیلوگرم گاز نیتروژن به دست می‌آید؟ (چگالی نیتروژن در شرایط آزمایش برابر 1 g.L^{-1} می‌باشد).

- (۱) $1/716$ (۲) $1/56 \times 10^{-4}$ (۳) $1/716 \times 10^{-4}$ (۴) $1/56$

۱۰۹- طبق معادله نوشتاری واکنش «آب + مس \rightarrow هیدروژن + مس (I) اکسید» برای تولید 20 گرم مس، چند لیتر گاز H_2 در شرایط STP باید

مصرف شود؟ ($Cu = 64 \text{ g.mol}^{-1}$)

- (۱) 7 (۲) $3/5$ (۳) $7/5$ (۴) 4

۱۱۰- برای جداسازی فرآورده فرایند هابر از مخلوط نهایی آن، دمای سامانه را تا رسیدن به ... سرد می‌کنند و سپس گازهای باقی مانده را ...

می‌کنند.

- (۱) پایین‌تر از نقطه جوش آمونیاک، جداسازی
- (۲) پایین‌تر از نقطه جوش آمونیاک، وارد محفظه واکنش
- (۳) پایین‌تر از نقطه جوش نیتروژن، جداسازی
- (۴) پایین‌تر از نقطه جوش نیتروژن، وارد محفظه واکنش

تلاشی در مسیر موفقیت

آزمون شناختی ۱۸ فروردین ۱۴۰۲

دانش آموز عزیز!

اگر در آزمون‌های قبلی به سوالات آمادگی شناختی پاسخ داده‌اید از وضعیت پایه آمادگی شناختی خود بر اساس کارنامه آگاهی دارید. در این آزمون برنامه‌های حمایتی ما برای تقویت سازه‌های شناختی ادامه می‌یابد. این برنامه ارائه راهکارهای هفتگی و پایش مداوم دانش شناختی است. لطفاً برای سنجش آگاهی خود به سوالات پاسخ دهید و برای اطمینان از ماهیت راهبردهای آموزشی مورد سوال،

پاسخ نامه تشریحی را مطالعه فرمائید. **توجه: سوالات از شماره ۲۶۱ شروع می‌شود.**

۲۶۱. کدام مورد را برای مدیریت منابع توجهی مفید می‌دانید؟

۱. تغییر تکلیف
۲. استفاده از زمان سنج برای تمرکز در بازه‌های زمانی
۳. انتخاب محیط مناسب برای مطالعه
۴. همه موارد

۲۶۲. برای تمرکز بیشتر روی یک موضوع درسی کدام گزینه را مفید می‌دانید؟

۱. تعیین بازه زمانی مشخص برای مطالعه
۲. تعیین محتوای مشخص برای مطالعه
۳. هر دو مورد
۴. نمی‌دانم

۲۶۳. کدام گزینه مانع تمرکز برای مطالعه می‌شود؟

۱. تمرکز روی یک فعالیت در لحظه
۲. فواصل استراحت با تنفس عمیق
۳. در دسترس بودن وسایل ارتباطی
۴. همه موارد

۲۶۴. کدام مورد را برای به خاطر سپاری یک لیست مفیدتر است؟

۱. یادگیری مبتنی بر معنی
۲. یادگیری مبتنی بر وزن/قافیه
۳. یادگیری مبتنی بر شکل ظاهری کلمات
۴. فرقی ندارد.

۲۶۵. کدام مورد در خصوص اثر خواب بر یادگیری صحیح است؟

۱. خواب مناسب، قبل از یادگیری، برای یادگیری ضروری است.
۲. خواب موجب تثبیت اطلاعاتی که قبلاً یاد گرفته‌ایم می‌شود.
۳. خواب اثری بر یادگیری ندارد.
۴. مورد ۱ و ۲

۲۶۶. کدام مورد برای استفاده از نشانه‌های محیطی برای یادگیری درست است؟

۱. مفید است و باید مطالب را وابسته به این نشانه‌ها حفظ کرد.
۲. مفید است اما باید وابستگی به این نشانه‌ها را به تدریج کم کرد.
۳. نشانه‌های محیطی اثری بر یادگیری ندارد.
۴. نمی‌دانم

۲۶۷. راه حل‌های متفاوت در چه زمانی بیشتر به ذهن می‌رسند؟

۱. در زمان هیجان مثبت به مساله
۲. در زمان هیجان منفی به مساله
۳. هیجان اثری بر خلاقیت ندارد.
۴. نمی‌دانم

۲۶۸. کدام مورد در مورد یادگیری مشارکتی صحیح است؟

۱. به دلیل احتمال اشتباه دیگران می‌تواند ما را به اشتباه بیاندارد.
۲. به دلیل بازسازی مطالب توسط دیگران موجب فراگیری بهتر مطالب می‌شود.
۳. اثری بر میزان یادگیری ندارد.
۴. نمی‌دانم

۲۶۹. کدام گزینه خلاقیت را در یادگیری بیشتر می‌کند؟

۱. پرسیدن از دیگران
۲. تلاش برای داشتن نگاه غیر واقعی
۳. گرفتن بازخورد دیگران
۴. همه موارد

۲۷۰. یکی از گزینه‌های زیر را در مورد سوالات امروز انتخاب کنید.


۱. مفید بود و انتظار دارم این آگاهی من را در یادگیری مطالب درسی کمک کند.
۲. مایل به دریافت اطلاعات، راهبردها و تکالیف تقویتی بیشتر هستم.
۳. هر دو
۴. هیچ‌کدام



- ✓ دانلود گام به گام تمام دروس
- ✓ دانلود آزمون های قلم چی و گاج + پاسخنانه
- ✓ دانلود جزوه های آموزشی و شب امتحانی
- ✓ دانلود نمونه سوالات امتحانی
- ✓ مشاوره کنکور
- ✓ فیلم های انگیزشی

 www.ToranjBook.Net

 [ToranjBook_Net](https://t.me/ToranjBook_Net)

 [ToranjBook_Net](https://www.instagram.com/ToranjBook_Net)