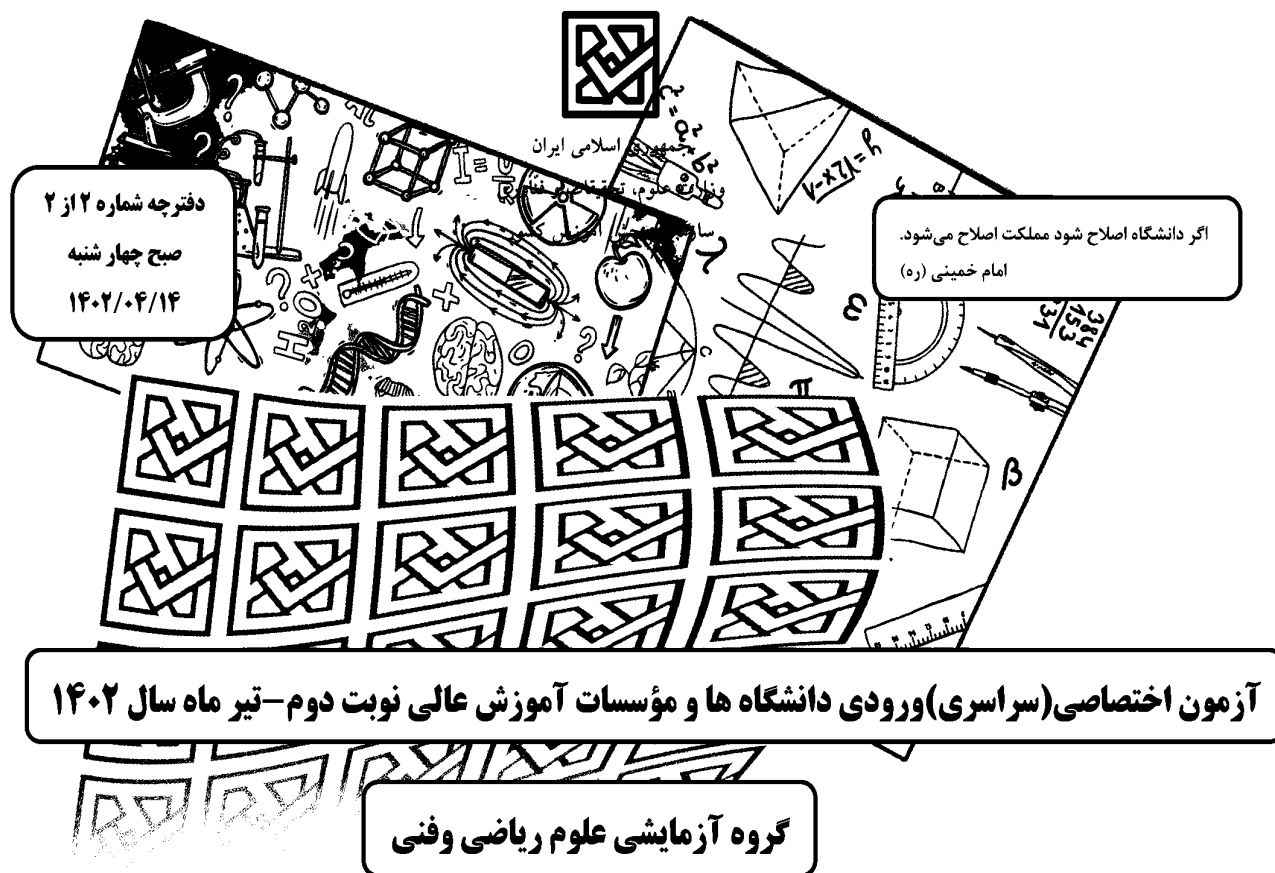


122A

کد کنترل

122

A



ملاحظات	زمان پاسخ‌گویی	تا شماره	از شماره	تعداد سؤال	مواد امتحانی	ردیف
۶۵ سؤال	۴۵ دقیقه	۷۵	۴۱	۳۵	فیزیک	۱
۷۵ دقیقه	۳۰ دقیقه	۱۰۵	۷۶	۳۰	شیمی	۲

استفاده از ماشین حساب ممنوع می‌باشد

این آزمون نمره منفی دارد

حق چاپ، تکثیر و انتشار سؤالات به هر روش (الکترونیکی و.....) پس از برگزاری آزمون، برای تمامی اشخاص حقیقی و حقوقی تنها با مجوز این سازمان مجاز می‌باشد و با متخلفین برابر مقررات رفتار می‌شود

\* داوطلب گرامی، عدم درج مشخصات و امضا در مندرجات جدول زیر، به منزله عدم حضور شما در جلسه آزمون است.

اینجانب ..... با شماره داوطلبی ..... با آکاهی کامل، یکسان بودن شماره صندلی خود را با شماره داوطلبی مندرج در بالای کارت ورود به جلسه، بالای پاسخنامه و دفترچه سؤالات، نوع و کد کنترل درج شده بر روی دفترچه سؤالات تأیید می‌نمایم.

امضا:

۴۱- در فرایند واپاشی  ${}_{6}^{11}\text{C} \rightarrow {}_{5}^{11}\text{B} + x$ ،  $x$  کدام است؟

- (۱) پروتون (۲)  $\beta^+$  (۳)  $\beta^-$  (۴) نوترون

۴۲- گلوله‌ای از سطح زمین در راستای قائم رو به بالا پرتاب می‌شود و تا رسیدن گلوله به ارتفاع ۴۲ متری از سطح زمین، انرژی جنبشی آن ۳۰ درصد کاهش می‌یابد. این گلوله حداکثر تا ارتفاع چند متری از سطح زمین بالا می‌رود؟

(مقاومت هوا ناچیز است و  $g = 10 \frac{m}{s^2}$ )

$$\frac{1}{2}mv^2 = \frac{1}{2}mv^2 \times \frac{7}{10} + m \times 10 \times 42 \rightarrow v^2 = 14 \times 20$$

(۱) ۹۶ (۲) ۱۲۰ (۳) ۱۴۰ (۴) ۱۴۹

۴۳- طول یک پل معلق فولادی در سردترین موقع سال ۹۰۰ متر بوده و در آن سال بیشترین طول پل به ۹۰۰/۹ متر رسیده است. اختلاف بیشترین دما و کمترین دمای پل در آن سال، چند درجه سلسیوس است؟

$$\alpha = 1,25 \times 10^{-5} \text{ K}^{-1} \quad \frac{\Delta L}{L} = \alpha \Delta T \times \frac{5}{4} \times 10^{-5} \times 50 \rightarrow 50 = 80$$

(۱) ۷۰ (۲) ۸۰ (۳) ۹۰ (۴) ۱۰۰

۴۴- در کدام فرایند، کار انجام‌شده روی گاز مثبت است و انرژی درونی گاز کاهش می‌یابد؟

- (۱) تراکم هم‌فشار (۲) تراکم بی‌دررو (۳) انبساط هم‌فشار (۴) انبساط بی‌دررو

۴۵- در یک مسیر مستقیم و از یک نقطه، متحرک A در مبدأ زمان با شتاب ثابت a از حال سکون به حرکت درمی‌آید و

در لحظه  $t = 2s$ ، متحرک B از همان نقطه و در همان مسیر با شتاب ثابت  $a + 0,5 \frac{m}{s^2}$  از حال سکون به حرکت

درمی‌آید. اگر در لحظه  $t = 6s$  دو متحرک به هم برسند، فاصله آنها در لحظه  $t = 10s$  چند متر است؟

- (۱) ۴/۴ (۲) ۸/۸ (۳) ۱۲/۴ (۴) ۲۴/۸

۴۶- گلوله‌ای از فاصله ۱۰۰ متری زمین از یک نقطه رها می‌شود. یک ثانیه بعد، گلوله دیگری از ده متر پایین‌تر از گلوله

اول رها می‌شود. از لحظه رهاشدن گلوله دوم تا لحظه‌ای که اولین گلوله به زمین می‌رسد، فاصله دو گلوله چه تغییری

می‌کند؟ (مقاومت هوا ناچیز فرض شود).

(۱) ثابت می‌ماند. (۲) افزایش می‌یابد.

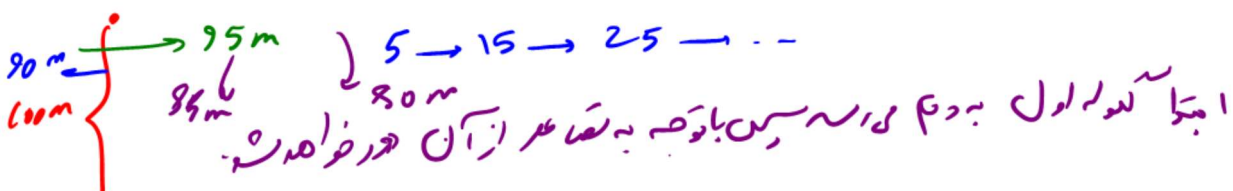
(۳) کاهش می‌یابد. (۴) ابتدا کاهش می‌یابد و سپس افزایش می‌یابد.

محل انجام محاسبات

$$\frac{1}{2} a (6)^2 = \frac{1}{2} (a + 0,5) \times 4^2 \rightarrow a = \frac{8}{20}$$

$$t=1 \rightarrow \frac{1}{2} \times \frac{8}{20} \times 1^2 = 20m \Rightarrow 28,8 - 20 = 8,8$$

$$\frac{1}{2} \times (a + 0,5) \times 8^2 = 28,8$$



$$\overleftarrow{46\text{m}} \Rightarrow \overleftarrow{26+7=33\text{m}}$$

فیزیک 122-A صفحه 3  
 $\Delta X = \frac{1}{2}at^2 + v \cdot t + x_0 \Rightarrow t^2 - 14t + 33 = 0 \Rightarrow t = 3$

۴۷- خودرو A با سرعت ثابت  $8 \frac{\text{m}}{\text{s}}$  در مسیر مستقیم در حرکت است و پشت سر آن خودرو B با سرعت ثابت  $20 \frac{\text{m}}{\text{s}}$

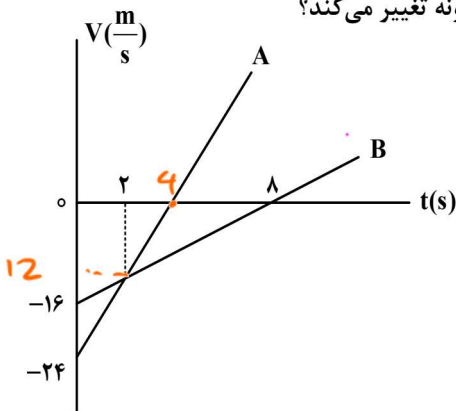
در همان جهت حرکت می کند. وقتی فاصله بین آنها به ۴۶ متر کاهش می یابد، خودرو A با شتاب ثابت  $2 \frac{\text{m}}{\text{s}^2}$  سرعت

خود را کم می کند و یک ثانیه بعد خودرو B نیز با شتاب ثابت  $4 \frac{\text{m}}{\text{s}^2}$  سرعت خود را کم می کند. سرعت خودرو B در

لحظه رسیدن به خودرو A چند متر بر ثانیه است؟  
 $u = at + v_0 = -4(3) + 20 = 8$   
 (۱) ۲ (۲) ۸ (۳) ۴ (۴) ۶

۴۸- دو متحرک در مبدأ زمان، از مبدأ محور می گذرند و نمودار سرعت - زمان آنها مطابق شکل است. در بازه زمانی که

دو متحرک در خلاف جهت هم حرکت می کنند، فاصله بین آنها چگونه تغییر می کند؟



- (۱) ۴۸ متر افزایش می یابد.
- (۲) ۴۸ متر کاهش می یابد.
- (۳) ۶۴ متر افزایش می یابد.
- (۴) ۶۴ متر کاهش می یابد.

$$a_1 = \frac{1}{2} \times 4 \times 8 = 16$$

$$a_2 = \frac{1}{2} \times 4 \times 24 = 48$$

64m

۴۹- فرض کنید ماهواره‌ها روی مدارهای دایره‌ای به دور زمین به طور یکنواخت می چرخند. کدام مورد صحیح است؟

- (۱) تندی مداری ماهواره در گردش به دور زمین، متناسب با جذر فاصله ماهواره از مرکز زمین است.
- (۲) مربع دوره گردش ماهواره به دور زمین، متناسب با مکعب فاصله ماهواره از مرکز زمین است.
- (۳) شتاب حرکت ماهواره متناسب با جذر فاصله ماهواره از مرکز زمین است.
- (۴) وزن یک ماهواره با جذر فاصله ماهواره از مرکز زمین رابطه عکس دارد.

۵۰- معادله تکانه متحرکی به جرم  $500$  گرم که روی محور x حرکت می کند، در SI به صورت  $\vec{P} = (3t - 6)\vec{i}$  است. نیروی

خالص متوسطی که در بازه زمانی  $t_1 = 1\text{s}$  تا  $t_2 = 3\text{s}$  بر این متحرک وارد می شود، بر حسب نیوتون، کدام است؟

- (۱)  $3\vec{i}$
- (۲)  $-3\vec{i}$
- (۳)  $6\vec{i}$
- (۴)  $-6\vec{i}$

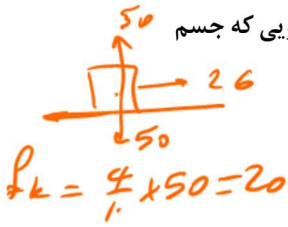
$$t = 1 \rightarrow P_1 = 3(1) - 6 = -3$$

$$t = 3 \rightarrow P_2 = 3(3) - 6 = 3$$

$$F = \frac{\Delta P}{\Delta t} = \frac{3 - (-3)}{3 - 1} = 3$$

محل انجام محاسبات

۵۱- جسمی به جرم ۵ kg روی سطح افقی قرار دارد و ضریب اصطکاک ایستایی و جنبشی بین جسم و سطح به ترتیب ۰/۴ و ۰/۵ است. اگر به جسم نیروی افقی و ثابت ۲۶ N وارد کنیم، در حین حرکت، شتاب جسم و نیرویی که جسم



به سطح وارد می‌کند، در SI کدام‌اند؟ ( $g = 10 \frac{m}{s^2}$ )  
 $26 - 20 = 5a \rightarrow a = 1/2$   
 (۱)  $10\sqrt{29}$  و  $0/2$  (۲)  $25\sqrt{5}$  و  $0/2$

(۳)  $10\sqrt{29}$  و  $1/2$  (۴)  $25\sqrt{5}$  و  $1/2$   
 $R = \sqrt{50^2 + 20^2} = 10\sqrt{29}$

۵۲- خودرویی به جرم ۲ تن روی سطح افقی با تندی ثابت  $18 \frac{km}{h}$  مسیر دایره‌ای به شعاع ۲۰ متر را دور می‌زند. نیروی مرکزگرای خودرو چند نیوتون است و کدام نیرو آن را تأمین می‌کند؟

(۱) ۲۵۰۰ - نیروی اصطکاک جنبشی (۲) ۲۵۰۰ - نیروی اصطکاک ایستایی  
 (۳) ۱۲۵۰ - نیروی اصطکاک جنبشی (۴) ۱۲۵۰ - نیروی اصطکاک ایستایی  
 $F = \frac{1000 \times 25}{4} = 2500$

۵۳- تار به طول ۶۰ cm با دو انتهای ثابت ارتعاش می‌کند و در طول آن ۳ شکم تشکیل شده است. اگر بسامد ایجادشده ۳۰۰ هرتز باشد، تندی موج عرضی در تار چند متر بر ثانیه است و بسامد صوت اصلی تار چند هرتز است؟

(۱) ۳۰۰ و ۵۰۰ (۲) ۱۲۰ و ۳۰۰ (۳) ۱۲۰ و ۱۰۰ (۴) ۵۰۰ و ۱۰۰

۵۴- اگر فاصله از چشمه صوت نصف شود و همزمان توان چشمه صوت دو برابر شود، تراز شدت صوت چگونه تغییر می‌کند؟ ( $\log 2 = 0/3$ )

(۱) ۸ برابر می‌شود. (۲) ۹ برابر می‌شود.  
 (۳) ۴ دسی‌بل افزایش می‌یابد. (۴) ۹ دسی‌بل افزایش می‌یابد.  
 $\frac{L_2}{L_1} = 2 \times 4 = 8 \rightarrow \Delta B = 10 \log 2^3 = 3.1092 = 3$

۵۵- طول آونگ ساده‌ای را ۱۷ سانتی‌متر تغییر می‌دهیم، دوره آن  $12/5$  درصد افزایش می‌یابد. دوره آونگ (قبل از تغییر طول) چند ثانیه است؟ ( $g = \pi^2 \frac{m}{s^2}$ )

(۱)  $1/2$  (۲)  $1/4$  (۳)  $1/6$  (۴)  $1/8$   
 $11.25 = \sqrt{\frac{L+17}{L}} \Rightarrow T = 2\pi \sqrt{\frac{L}{\pi^2}} = 1.6$

۵۶- معادله مکان - زمان حرکت هماهنگ ساده‌ای در SI به صورت  $x = A \cos 50\pi t$  است. اگر تندی متوسط نوسانگر در بازه زمانی  $t_1 = 0s$  تا  $t_2 = 0/2s$  برابر با  $1/5 \frac{m}{s}$  باشد، دامنه نوسان چند سانتی‌متر است؟

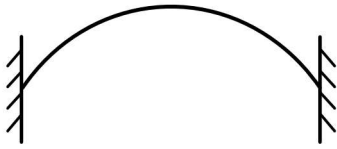
(۱)  $1/5$  (۲) ۳ (۳)  $4/5$  (۴) ۶  
 $5_2 \pi = \frac{2\pi}{T}$   
 $T = \frac{1}{2.5} = 0.4$

محل انجام محاسبات

$L = S \cdot t = 1.5 \times \frac{2}{1} = \frac{3}{1} = 3 \text{ cm} = 2 \text{ A}$

$A = 1.5$

۵۷- مطابق شکل، تار ی که بین دو تکیه‌گاه محکم شده است، در هماهنگ اول خود با بسامد  $f$  به نوسان درمی‌آید. اگر فاصله دو تکیه‌گاه  $50\text{ cm}$  و تندی موج عرضی در آن  $250 \frac{\text{m}}{\text{s}}$  باشد، چند میلی‌ثانیه طول می‌کشد تا هریک از ذرات تار یک نوسان انجام دهند؟



$$f = 250 \text{ Hz}$$

$$\lambda = \frac{100}{2} = 50$$

- (۱) ۲۵
- (۲) ۲
- (۳) ۵
- (۴) ۴

۵۸- در اتم هیدروژن، الکترون با جذب فوتونی با انرژی  $12/75$  الکترون ولت از مدار  $n'$  به مدار  $n$  می‌رود.  $n$  و  $n'$  به ترتیب کدام‌اند؟ ( $E_R = 13/6 \text{ eV}$ )

- (۱) ۱ و ۴
- (۲) ۱ و ۶
- (۳) ۲ و ۴
- (۴) ۲ و ۶

۵۹- در یک دستگاه فوتوالکتریک، تابع کار فلز  $4 \text{ eV}$  است. با این دستگاه دو آزمایش انجام می‌دهیم. در آزمایش دوم طول موج پرتو به کار رفته را نصف می‌کنیم، بیشینه انرژی جنبشی فوتوالکترن‌ها نسبت به آزمایش قبلی ۶ برابر می‌شود. طول موج پرتو استفاده‌شده در آزمایش اول چند نانومتر است؟ ( $c = 3 \times 10^8 \frac{\text{m}}{\text{s}}$  و  $h = 4 \times 10^{-15} \text{ eV.s}$ )

$$k = hf - 4$$

$$6k = 2hf - 4$$

$$\lambda = \frac{1200}{5} = 240$$

- (۱) ۱۸۰
- (۲) ۲۴۰
- (۳) ۳۶۰
- (۴) ۴۸۰

۶۰- عمل غنی‌سازی در یک نمونه اورانیم، کدام است؟

- (۱) تبدیل هرچه بیشتر اورانیم ۲۳۵ به اورانیم ۲۳۸
- (۲) تبدیل هرچه بیشتر اورانیم ۲۳۸ به اورانیم ۲۳۵
- (۳) افزایش درصد ایزوتوپ‌های اورانیم ۲۳۸
- (۴) افزایش درصد ایزوتوپ‌های اورانیم ۲۳۵

۶۱- با کاهش بار الکتریکی یک خازن، چه کسری از انرژی آن را کاهش دهیم تا اختلاف پتانسیل الکتریکی آن  $\frac{3}{4}$  اختلاف پتانسیل اولیه آن شود؟

- (۱)  $\frac{1}{4}$
- (۲)  $\frac{3}{4}$
- (۳)  $\frac{7}{16}$
- (۴)  $\frac{9}{16}$

$$1 - \frac{9}{16} = \frac{7}{16}$$

محل انجام محاسبات

۶۲- بار الکتریکی  $q = -20 \text{ nC}$  در راستای میدان الکتریکی یکنواخت، از نقطه A به نقطه B منتقل می شود و انرژی پتانسیل الکتریکی آن  $2 \text{ mJ}$  افزایش می یابد.  $V_B - V_A$ ، چند ولت است و جهت حرکت بار الکتریکی در مقایسه با جهت میدان الکتریکی چگونه است؟

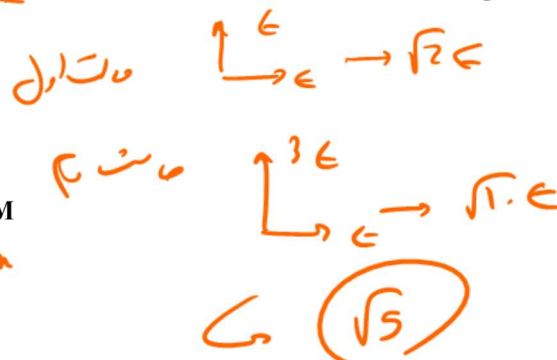
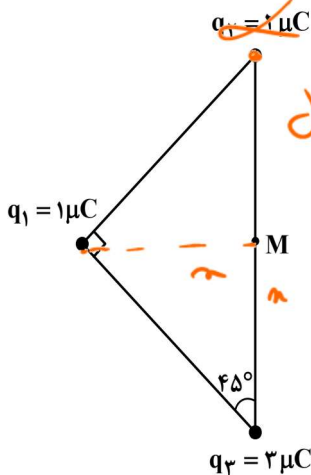
$$V_B - V_A = \frac{\Delta U}{q} = \frac{2 \times 10^{-3}}{-20 \times 10^{-9}} = -10^5$$

(۱)  $-10^5$  و در خلاف جهت میدان

(۳)  $+10^5$  و در جهت میدان

(۴)  $-10^5$  و در جهت میدان

۶۳- در شکل زیر، سه بار الکتریکی مثبت نقطه ای در سه رأس مثلث ثابت نگه داشته شده اند و بزرگی میدان الکتریکی خالص در نقطه M (وسط ضلع)، E است. اگر بار الکتریکی  $q_2$  را از آزمایش حذف کنیم، بزرگی میدان الکتریکی خالص در نقطه M چند برابر می شود؟



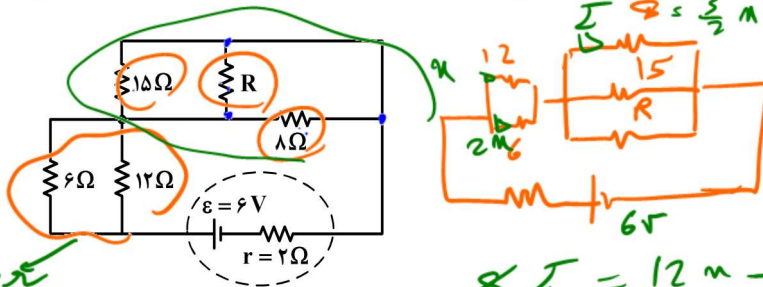
(۱)  $\sqrt{5}E$

(۲)  $2\sqrt{5}E$

(۳)  $\frac{3}{2}E$

(۴)  $\frac{2}{3}E$

۶۴- در شکل زیر، اختلاف پتانسیل دو سر مقاومت ۶ اهمی و ۸ اهمی با هم برابر است. شدت جریانی که از مقاومت ۸ اهمی می گذرد، چند آمپر است؟



(۱)  $0.2$

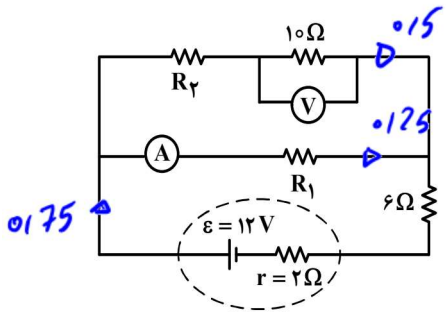
(۲)  $0.3$

(۳)  $0.4$

(۴)  $0.5$

محل انجام محاسبات  $\frac{6}{4+4+2} = \frac{6}{10} = 0.6 \text{ mA} \rightarrow I = \frac{0.6}{2} = 0.3 \text{ mA}$

۶۵- در مدار زیر، آمپرسنج آرمانی  $0.25$  آمپر و ولتسنج آرمانی  $5$  ولت را نشان می‌دهد.  $R_1$  چند اهم است؟

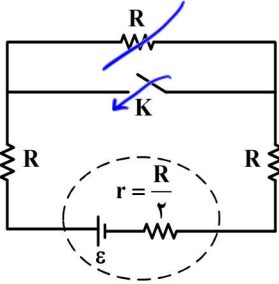


$$12 - 5 \times \frac{3}{4} = \frac{1}{4} \times R_1$$

$$R_1 = 24 \Omega$$

- (۱) ۱۲
- (۲) ۱۶
- (۳) ۱۸
- (۴) ۲۴

۶۶- در شکل زیر اگر کلید را ببندیم، اختلاف پتانسیل الکتریکی دو سر باتری چند برابر می‌شود؟



$$I = \frac{\epsilon}{3.5R} = \frac{2}{7} \frac{\epsilon}{R}$$

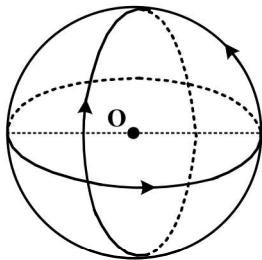
$$V = \epsilon - \frac{R}{2} \times \frac{2}{7} \frac{\epsilon}{R} = \frac{6}{7} \epsilon$$

$$I = \frac{\epsilon}{2.5R} = \frac{2}{5} \frac{\epsilon}{R}$$

$$V_2 = \epsilon - \frac{R}{2} \times \frac{2}{5} \frac{\epsilon}{R} = \frac{4}{5} \epsilon$$

- (۱)  $\frac{4}{5}$
- (۲)  $\frac{5}{6}$
- (۳)  $\frac{6}{7}$
- (۴)  $\frac{14}{15}$

۶۷- مطابق شکل، سه حلقه با جریان یکسان  $5A$  که شعاع هر یک  $15\text{ cm}$  است، قرار دارند. سطح هر حلقه بر دو حلقه دیگر عمود است. بزرگی میدان مغناطیسی در نقطه O (مرکز حلقه‌ها) چند تسلا است؟ ( $\mu_0 = 12 \times 10^{-7} \frac{T \cdot m}{A}$ )



$$B = \frac{12 \times 10^{-7} \times 1 \times 0.15}{0.3} = 2 \times 10^{-6} T$$

$$B_{total} = \sqrt{(2 \times 10^{-6})^2 + (2 \times 10^{-6})^2 + (2 \times 10^{-6})^2} = 2\sqrt{3} \times 10^{-6} T$$

محل انجام محاسبات

۶۸- یک الکترون از محیطی می‌گذرد که شامل یک میدان یکنواخت مغناطیسی و یک میدان یکنواخت الکتریکی است.

اگر اندازه و جهت سرعت الکترون در این مسیر ثابت بماند، کدام مورد درست است؟

- (۱) هر دو میدان موازی مسیر حرکت الکترون و در خلاف جهت یکدیگرند.
- (۲) هر دو میدان عمود بر مسیر حرکت الکترون و در خلاف جهت یکدیگرند.
- (۳) میدان مغناطیسی حتماً عمود بر مسیر حرکت الکترون است ولی میدان الکتریکی ممکن است بر این مسیر عمود نباشد.
- (۴) میدان الکتریکی حتماً عمود بر مسیر حرکت الکترون است ولی میدان مغناطیسی ممکن است بر این مسیر عمود نباشد.

۶۹- سیملوله آرمانی بدون هسته‌ای به طول  $15/7$  سانتی‌متر، دارای  $1000$  حلقه است. اگر مساحت هر حلقه آن  $8 \text{ cm}^2$  باشد، ضریب القاوری آن چند میلی‌هائری است؟  $(\mu_0 = 4\pi \times 10^{-7} \frac{\text{T.m}}{\text{A}})$

$L = \frac{N^2 \mu_0 A}{l} = \frac{(1000)^2 \times 4\pi \times 10^{-7} \times 8 \times 10^{-4}}{0.157} = 6.4$

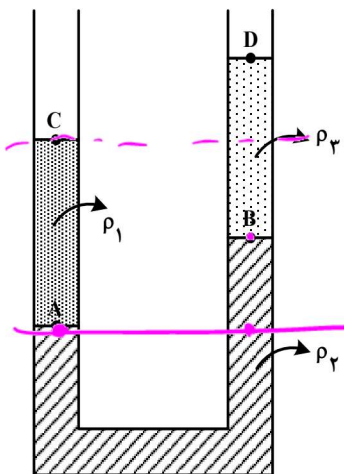
۶/۴ (۱)      ۶۴ (۲)      ۱/۶ (۳)      ۱/۶ (۴)

۷۰- سیمی را به شکل حلقه‌ای به شعاع  $10 \text{ cm}$  درمی‌آوریم و آن را روی یک سطح افقی قرار می‌دهیم. میدان مغناطیسی یکنواختی که با سطح قاب زاویه  $30^\circ$  درجه می‌سازد، در مدت  $15/7$  میلی‌ثانیه از  $6000$  گاوس به صفر کاهش می‌یابد.

نیروی محرکه القایی متوسط در حلقه چند ولت است؟  $\mathcal{E} = -N A \frac{\Delta B \cos \theta}{\Delta t} = 1 \times 3.14 \times 10^{-2} \times \frac{6000 \times \cos 30^\circ}{0.0157} = 0.6$

۰/۶ (۱)      ۱/۲ (۲)      ۱/۲ (۳)      ۱/۲ (۴)

۷۱- مطابق شکل، سه مایع مخلوط نشدنی در لوله ریخته شده‌اند. کدام رابطه بین فشار در نقاط مشخص شده درست است؟



- (۱)  $P_A > P_B > P_C = P_D$
- (۲)  $P_A = P_B > P_C > P_D$
- (۳)  $P_A - P_C = P_B - P_D$
- (۴)  $P_A + P_C = P_B + P_D$

۷۲- در یک دیگ زودپز، مساحت روزنه خروج بخار آب  $5$  میلی‌متر مربع است. جرم وزنه روی روزنه چند گرم باشد، تا فشار پیمانه‌ای بخار داخل دیگ در  $10^5$  پاسکال نگه داشته شود؟  $(g = 10 \frac{\text{m}}{\text{s}^2})$

$1.5 = \frac{m \times 10}{5 \times 10^{-6}} \rightarrow m \times 10 = 5 \times 10^{-6} \times 1.5 \rightarrow m = 5 \text{ g}$

۵۰ (۴)      ۴۰ (۳)      ۲۵ (۲)      ۲۰ (۱)

$1.5 = \frac{m \times 10}{5 \times 10^{-6}} \rightarrow m \times 10 = 5 \times 10^{-6} \times 1.5 \rightarrow m = 5 \text{ g}$


محل انجام محاسبات



۷۳- در شکل زیر، جرم کل سورت‌مه و بار آن ۲ تن است و تراکتور تحت زاویه  $\theta = 37^\circ$ ، نیروی ثابت  $6000\text{ N}$  را بر آن وارد می‌کند. اگر نیروی اصطکاک جنبشی که به سورت‌مه وارد می‌شود،  $4000\text{ N}$  باشد و با این وضعیت، سورت‌مه در مسیر مستقیم و افقی ۵ متر جابه‌جا شود، تغییر انرژی جنبشی سورت‌مه چند ژول است؟ ( $\cos 37^\circ = 0.8$ )

$$W_T = \Delta K = (6000 \times 0.137 - 4000) \times 5 = 4000$$

- (۱) ۴۰۰۰
- (۲) ۲۰۰۰۰
- (۳) ۲۴۰۰۰
- (۴) ۴۴۰۰۰



$$80 \times 4200 \times -20 + 20 \times 4200 \times (0 - 32) + 300 \times 400 \times (0 - 32) = 0 \rightarrow \theta = 32$$

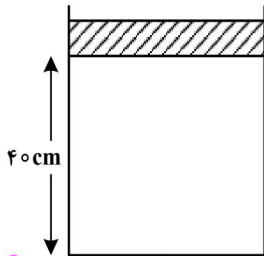
۷۴-  $80^\circ\text{C}$  گرم آب با دمای  $20^\circ\text{C}$  را به همراه  $20^\circ\text{C}$  گرم آب با دمای  $80^\circ\text{C}$  درون ظرف فلزی  $300^\circ\text{C}$  گرمی با دمای  $32^\circ\text{C}$  می‌ریزیم. دمای تعادل چند درجه سلسیوس است؟

$$(c = 400 \frac{\text{J}}{\text{kg.K}} \text{ ظرف} \text{ و } c = 4200 \frac{\text{J}}{\text{kg.K}} \text{ آب})$$

- (۱) ۵۰
- (۲) ۴۲
- (۳) ۴۰
- (۴) ۳۲

۷۵- در شکل زیر بیستونی به جرم  $1/75\text{ kg}$  و سطح قاعده  $5\text{ cm}^2$  روی گاز آرمانی به حالت تعادل قرار دارد. اگر وزنه‌ای به جرم ۹ برابر جرم بیستون روی آن قرار دهیم، بیستون به اندازه  $1\text{ cm}$  پایین می‌آید و دوباره به حالت تعادل

می‌رسد. اگر دمای گاز ثابت بماند، فشار هوا چند پاسکال است؟ ( $g = 10 \frac{\text{m}}{\text{s}^2}$ )



- (۱)  $1.1 \times 10^5$
- (۲)  $1.2 \times 10^5$
- (۳)  $9.1 \times 10^4$
- (۴)  $9.6 \times 10^4$

$$P_1 V_1 = P_2 V_2 \Rightarrow (P_0 + 3.15 \text{ k}) \times 4 = (P_0 + 35 \text{ k}) \times 5$$

$$\hookrightarrow P_0 = 21.4 \text{ k}$$

محل انجام محاسبات