


تلاشی در مسیر موفقیت











- دانلود گام به گام تمام دروس ✓
- دانلود آزمون های قلم چی و گاج + پاسخنامه ✓
- دانلود جزوه های آموزشی و شب امتحانی ✓
- دانلود نمونه سوالات امتحانی ✓
- مشاوره کنکور ✓
- فیلم های انگیزشی ✓

 [www.ToranjBook.Net](http://www.ToranjBook.Net)

 [ToranjBook\\_Net](https://t.me/ToranjBook_Net)

 [ToranjBook\\_Net](https://www.instagram.com/ToranjBook_Net)

<p>جاهای خالی را طبق نمونه های داده شده ادامه بده.</p> <p>  </p> <p>  </p> <p>  </p> <p>  </p>	<p>۱</p>
<p>جمع های زیر را با استفاده از چوب خط و مداد رنگی حل کن.</p> <p> <math>4 + 5 + 8 = \dots\dots\dots</math> </p> <p> <math>9 + 3 + 6 = \dots\dots\dots</math> </p>	<p>۲</p>
<p>علامت مناسب <math>&gt;</math> <math>=</math> <math>&lt;</math> بگذار.</p> <p>  </p> <p>  </p> <p>  </p> <p>  </p>	<p>۳</p>
<p>علی ۱۴ جوجه زرد و سیاه خرید. ۵ تا از جوجه ها سیاه و بقیه زرد بودند. تعداد جوجه های زرد را بنویسید. ( با شکل هم نشان بده )</p>	

جمع های زیر را انجام بده.

$$20 + 10 + 5 + 5 = \dots\dots\dots$$

$$10 + 5 + 10 + 10 = \dots\dots\dots$$

۵

$$25 + 5 + 5 + 5 + 3 = \dots\dots\dots$$

$$10 + 20 + 20 = \dots\dots\dots$$

محمد ۱۶ مرغ و خروس و جوجه دارد. ۶ تا از آن ها مرغ و ۴ تا خروس هستند. تعداد مرغ و خروس ها چند تاست؟ تعداد جوجه ها چند تا است؟

۶



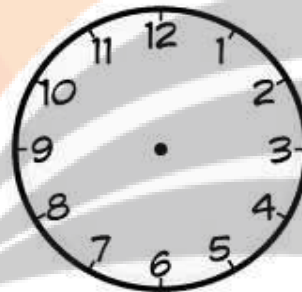
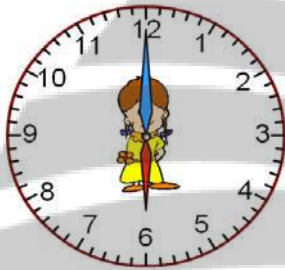
تعداد مرغ و خروس ها



تعداد جوجه ها

ساعت چند است.

۷



ساعت ۳ را با عقربه نشان بده

.....

.....

.....

.....

.....

.....

.....

.....

.....

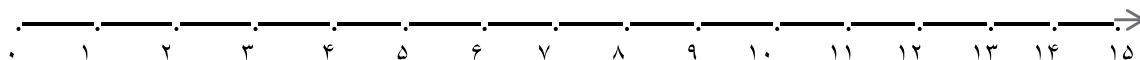
$$3 + 4 + 5 = \dots\dots$$

جمع و تفریق زیر را روی محور نشان بده.

۸



$$14 - 3 = \dots\dots$$



۹

تفریق های زیر را انجام بده

$$10 - 3 = \text{☆}$$

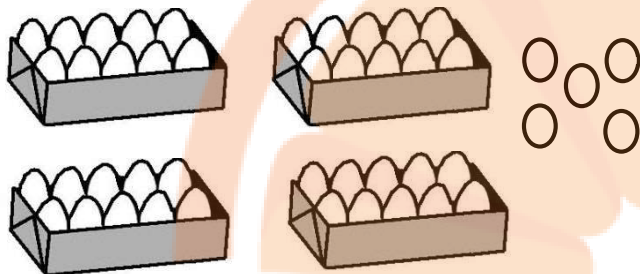
$$9 - 5 = \text{☆}$$

$$12 - 7 = \text{☆}$$

$$8 - 3 = \text{☆}$$

۱۰

جاهای خالی را با عدد مناسب کامل کن.

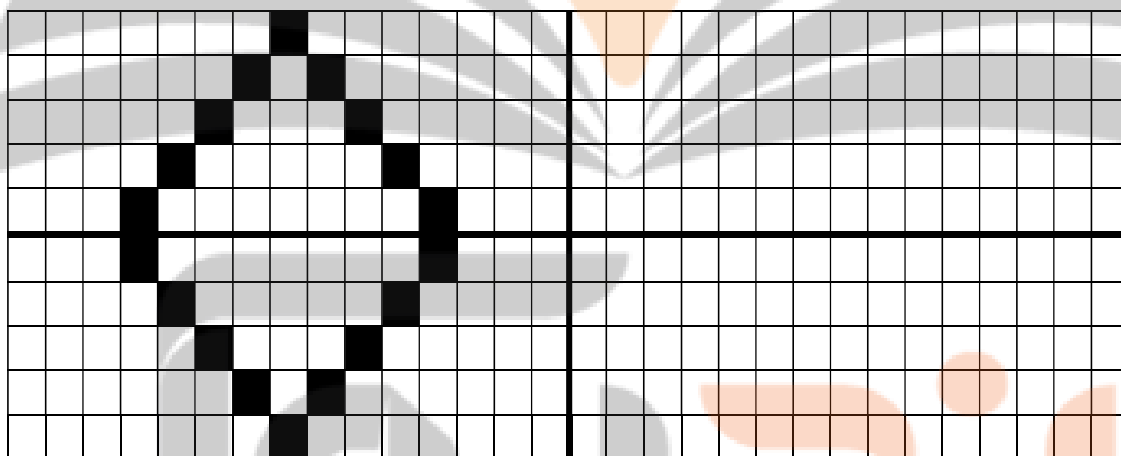


به رقم .....

به حروف .....

۱۱

نمونه الگو داده شده را در قرینه آن بکش.



۱۲

جدول سودوکو زیر را کامل کن.

۶	۲	۹	۸	۳	۷	۱	۴	۵
۷	۸	۱	۴	۹	۵	۳	۲	۶
۴	۳			۶			۹	۷
۵	۷			۴			۸	۱
۹	۴	۶	۳	۱	۸	۷	۵	۲
۸	۱			۵		۶	۳	۴
۲	۹			۸			۶	۳
۱	۶	۸	۵	۲	۳	۴	۷	۹
۳	۵	۴	۹	۷	۶	۲	۱	۸


تلاشی در مسیر موفقیت



- دانلود گام به گام تمام دروس ✓
- دانلود آزمون های قلم چی و گاج + پاسخنامه ✓
- دانلود جزوه های آموزشی و شب امتحانی ✓
- دانلود نمونه سوالات امتحانی ✓
- مشاوره کنکور ✓
- فیلم های انگیزشی ✓

 [www.ToranjBook.Net](http://www.ToranjBook.Net)

 [ToranjBook\\_Net](https://t.me/ToranjBook_Net)

 [ToranjBook\\_Net](https://www.instagram.com/ToranjBook_Net)