


تلاشی در مسیر موفقیت



- دانلود گام به گام تمام دروس ✓
- دانلود آزمون های قلم چی و گاج + پاسخنامه ✓
- دانلود جزوه های آموزشی و شب امتحانی ✓
- دانلود نمونه سوالات امتحانی ✓
- مشاوره کنکور ✓
- فیلم های انگیزشی ✓

 www.ToranjBook.Net

 [ToranjBook_Net](https://t.me/ToranjBook_Net)

 [ToranjBook_Net](https://www.instagram.com/ToranjBook_Net)

۱- دو شکل بعدی هر الگو را بکش.



۲- جدول را با شکل و عدد مناسب کامل کن.

۲	۱	۴	۳
۳			۲
۱			۴
۴	۳	۲	۱


△		□	☆
	☆		○
○		☆	△
☆	△	○	

△	○	□
	△	○
	□	

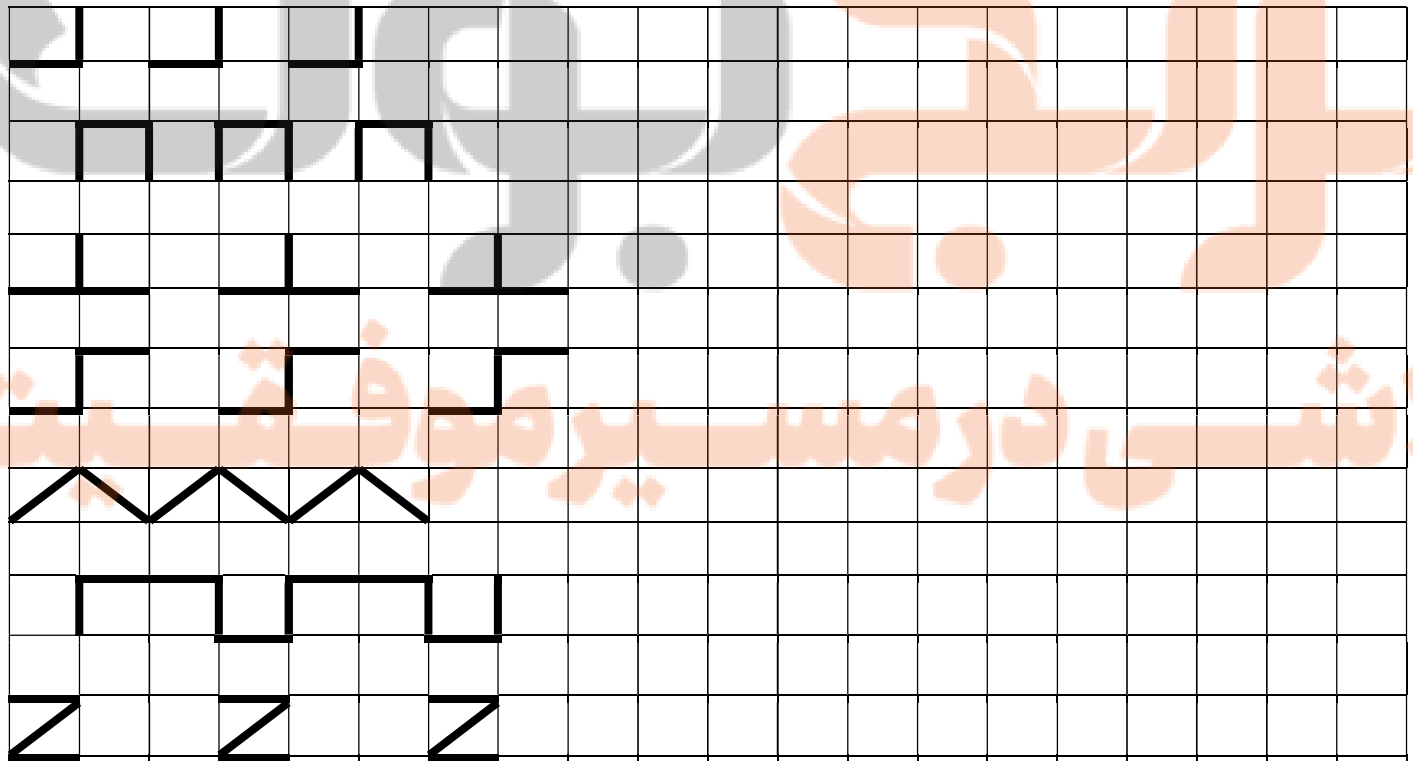
۳- از ۰ تا ۲۰ بنویس.



۴- عدد مناسب هر شکل را بنویس.



۵- الگوها را به همین ترتیب ادامه بده.



۶- بشمار و بنویس و بین دو عدد یکی از علامت های < = > بگذار.

۷- جدول زیر را با توجه به ردیف ها و ستون ها کامل کن.

۳	۱	۲		۹	۵	۴	۷	۶
۵	۶	۹	۱		۷	۳	۸	۲
۴	۸	۷	۲	۶		۵	۱	۹
۹	۵	۱	۷	۳	۶		۴	۸
۷	۲	۸	۵	۱	۴	۶		۳
۶	۳	۴	۹	۸	۲	۱	۵	
	۴	۵	۶	۷	۹	۸	۳	۱
۱		۶	۳	۵	۸	۹	۲	۴
۸	۹		۴	۲	۱	۷	۶	۵

۵	۱	۴	۳	۲	۶
۶	۳			۴	۵
۴	۶			۱	۲
۱	۲	۵	۴	۶	۳
۲	۵			۳	۴
۳	۴	۶	۲	۵	۱

۸- عدد مربوط به هر شکل را بنویس. با چوب خط حساب کن و حاصل جمع را بنویس.

..... + =


..... + =

۹- تفریق های زیر را انجام بده.

..... - =

۱۰- در جاهای خالی عدد مناسب بنویس.

۳ - ۶ - ۹ -
 +۳ +۳ +۳ +۳



۶ - ۸ - ۱۰ -
 +۲ +۲ +۲ +۲


تلاشی در مسیر موفقیت



- دانلود گام به گام تمام دروس ✓
- دانلود آزمون های قلم چی و گاج + پاسخنامه ✓
- دانلود جزوه های آموزشی و شب امتحانی ✓
- دانلود نمونه سوالات امتحانی ✓
- مشاوره کنکور ✓
- فیلم های انگیزشی ✓

 www.ToranjBook.Net

 [ToranjBook_Net](https://t.me/ToranjBook_Net)

 [ToranjBook_Net](https://www.instagram.com/ToranjBook_Net)