


تلاشی در مسیر موفقیت

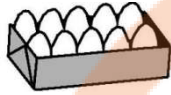
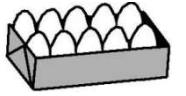


- دانلود گام به گام تمام دروس ✓
- دانلود آزمون های قلم چی و گاج + پاسخنامه ✓
- دانلود جزوه های آموزشی و شب امتحانی ✓
- دانلود نمونه سوالات امتحانی ✓
- مشاوره کنکور ✓
- فیلم های انگیزشی ✓


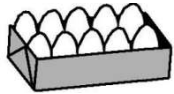
 www.ToranjBook.Net

 [ToranjBook_Net](https://t.me/ToranjBook_Net)

 [ToranjBook_Net](https://www.instagram.com/ToranjBook_Net)



0 0



0 0


۱ باتوجه به شکل جدول را کامل و عدد مربوط را خارج جدول بنویس

| | |
|---------|-----|
| ده تایی | یکی |
| | |

۲ پاسخ جمع ها را به کمک چوب خط بنویس.

$4 + 3 + 3 + 5 =$

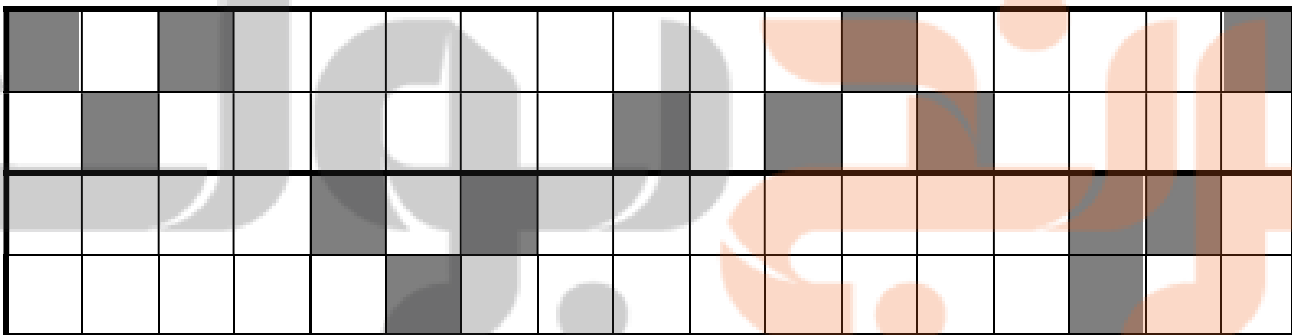
$6 + 7 =$



۳ جاهای خالی را با عدد مناسب کامل کن .

| | | | | | | | | | |
|---|----|--|--|--|--|----|--|--|--|
| ۵ | ۱۰ | | | | | ۳۵ | | | |
|---|----|--|--|--|--|----|--|--|--|

۴ شکل را طوری کامل کن که دونیمه ی آن مثل هم باشد .



۵ جواب هر جمع را به صورت ذهنی حساب کن و بنویس .

$20 + 10 + 5 + 10 =$

$10 + 5 - 3 =$

۶ دنباله ی عددها را به ترتیب بنویس.

| | | | | | | | | | |
|----|----|----|--|--|--|--|--|--|--|
| ۶۵ | ۶۶ | ۶۷ | | | | | | | |
|----|----|----|--|--|--|--|--|--|--|

۷ درهر ردیف پاسخ عبارت ها را بنویس ودور علامت مناسب $\langle \rangle$ خط بکش.

$20 + 20 = \square$ $\langle \quad = \quad \rangle$ $50 - 20 = \square$

$7 + 5 = \square$ $\langle \quad = \quad \rangle$ $6 + 8 = \square$


۸ با رقم یا حروف بنویس.

| | | | |
|------|----|------------|----|
| هفده | | هفتاد و شش | |
| | ۴۹ | | ۹۰ |


۹ با توجه به شکل جاهای خالی را کامل کن.



..... - =



..... + =



۱۰ اندازه ی مداد بین و است.

۱۱

مسئله را با چوب خط یا شکل ساده حل کن و عبارت جمع یا تفریق آن را بنویس.

۷ اردک در آب بودند. ۳ اردک دیگر هم به آن ها اضافه شدند.

حالا چند اردک در آب است؟

حالا..... اردک در آب است

۱۲

مسئله را به کمک محور حل کن. (عبارت جمع یا تفریق آن را هم بنویس)

۱۲ پرنده روی درخت بودند. ۴ تا از پرنده ها پرواز کردند و رفتند.

چند پرنده مانده است؟



۰ ۱ ۲ ۳ ۴ ۵ ۶ ۷ ۸ ۹ ۱۰ ۱۱ ۱۲ ۱۳ ۱۴ ۱۵

..... پرنده مانده است.

موفق و سربلند
باشید

تلاشی در مسیر موفقیت


تلاشی در مسیر موفقیت



- دانلود گام به گام تمام دروس ✓
- دانلود آزمون های قلم چی و گاج + پاسخنامه ✓
- دانلود جزوه های آموزشی و شب امتحانی ✓
- دانلود نمونه سوالات امتحانی ✓
- مشاوره کنکور ✓
- فیلم های انگیزشی ✓

 www.ToranjBook.Net

 [ToranjBook_Net](https://t.me/ToranjBook_Net)

 [ToranjBook_Net](https://www.instagram.com/ToranjBook_Net)