

تلاشی در مسیر موفقیت



- دانلود گام به گام تمام دروس ✓
- دانلود آزمون های قلم چی و گاج + پاسخنامه ✓
- دانلود جزوه های آموزشی و شب امتحانی ✓
- دانلود نمونه سوالات امتحانی ✓
- مشاوره کنکور ✓
- فیلم های انگیزشی ✓

 www.ToranjBook.Net

 [ToranjBook_Net](https://t.me/ToranjBook_Net)


 [ToranjBook_Net](https://www.instagram.com/ToranjBook_Net)

شکوفه ی قشنگم با دقت و حوصله به سوال ها پاسخ بده.

۱- به تعداد گوشه های شکل ها داخل آنها چوب خط بکش.




۲- به تعداد چوب خط ها شکل بکش.



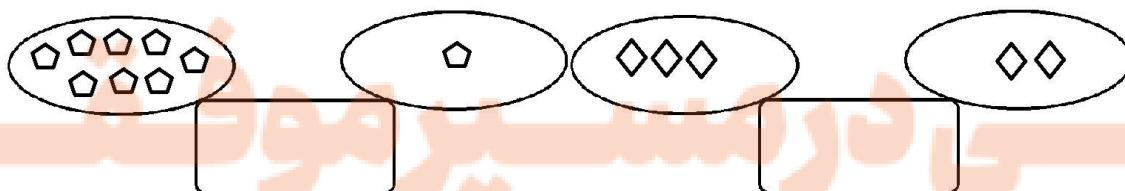
۳- عدد هر دسته را بنویس و دسته ی کمتر را رنگ بزن.




۴- به تعداد شکل ها از انگشتان دست ها رنگ بزن.



۵- شکل های دو قسمت با هم چند تا می شود با چوب خط نشان بده. (با دو رنگ)



۶- الگو را ادامه بده.



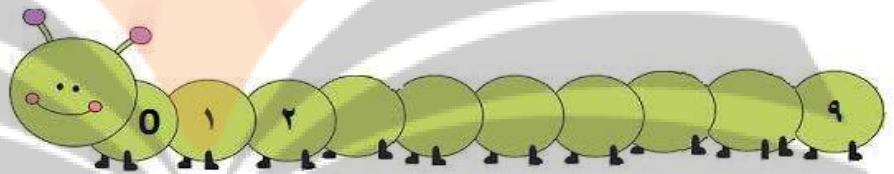
۷- مربع های شگفت انگیز را با عدد مناسب کامل کن.

۳		۱	۴	۵	۲
۴	۲	۵	۶		۳
۱	۴	۶		۲	۵
۲	۵	۳	۱	۴	۶
	۱	۲	۵	۳	
	۳	۴	۲	۶	۱


۸- بین عدد ها از علامت مساوی کمتر یا بیشتر <=> استفاده کن و جای خالی را کامل کن.




۹- اعداد را از ۰ تا ۹ به ترتیب بنویس.



۱۰- دور عدد مناسب خط بکش.



۳ ۹ ۷



۶ ۳ ۴

تلاشی در مسیر موفقیت

تلاشی در مسیر معرفت



- ✓ دانلود گام به گام تمام دروس
- ✓ دانلود آزمون های قلم چی و گاج + پاسخنامه
- ✓ دانلود جزوه های آموزشی و شب امتحانی
- ✓ دانلود نمونه سوالات امتحانی
- ✓ مشاوره کنکور
- ✓ فیلم های انگیزشی

 www.ToranjBook.Net

 [ToranjBook_Net](https://t.me/ToranjBook_Net)

 [ToranjBook_Net](https://www.instagram.com/ToranjBook_Net)