


تلاشی در مسیر موفقیت



- دانلود گام به گام تمام دروس ✓
- دانلود آزمون های قلم چی و گاج + پاسخنامه ✓
- دانلود جزوه های آموزشی و شب امتحانی ✓
- دانلود نمونه سوالات امتحانی ✓
- مشاوره کنکور ✓
- فیلم های انگیزشی ✓

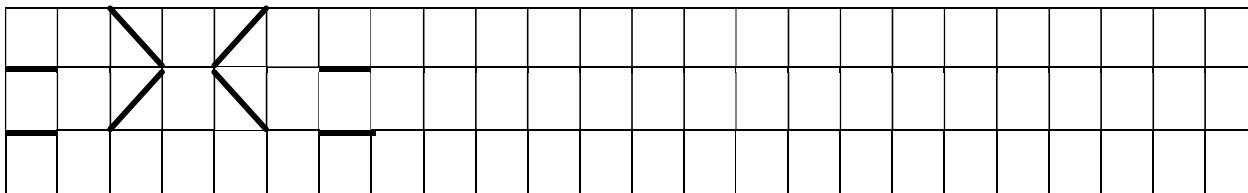
 www.ToranjBook.Net

 [ToranjBook_Net](https://t.me/ToranjBook_Net)

 [ToranjBook_Net](https://www.instagram.com/ToranjBook_Net)

ردیف

۱ مانند نمونه ادامه بده .




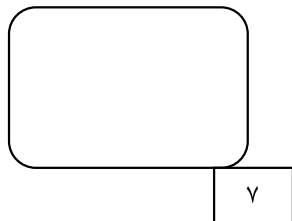
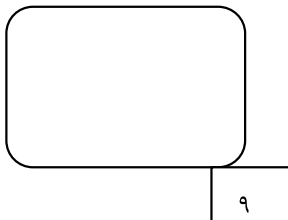
۲ برای شکل زیر یک عبارت تفریق بنویس .



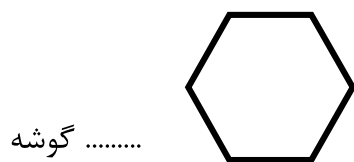
..... - =

۳ جدول را با شکل مناسب کامل کن .

۴ برای اعداد زیر شکل بکش .



۵ تعداد گوشه های شکل روبرو را بشمارو بنویس .



۶ مربع های شگفت انگیز را با عددهای مناسب کامل کن .

۳	۴	۱	۲
۱	۲		۴
۴		۲	۳
۲	۳		

۷ جمع و تفریق را انجام بده

$$5 + 2 = \text{-----}$$

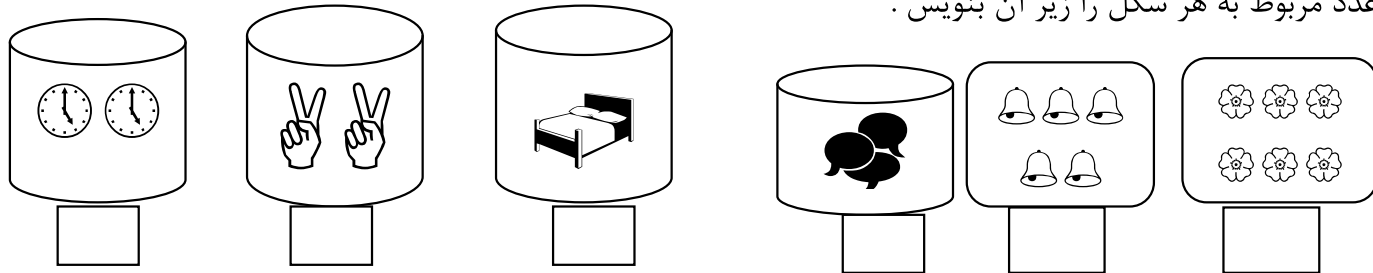
$$3 + 4 = \text{.....}$$

$$5 - 3 = \text{-----}$$

$$4 - 1 = \text{.....}$$

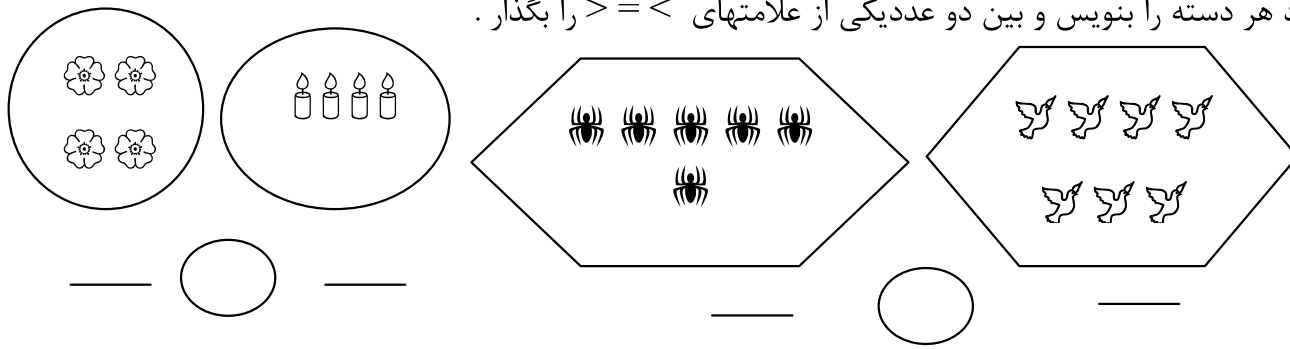
۸

عدد مربوط به هر شکل را زیر آن بنویس .



۹

عدد هر دسته را بنویس و بین دو عددیکی از علامتهای $>$ $=$ $<$ را بگذار .



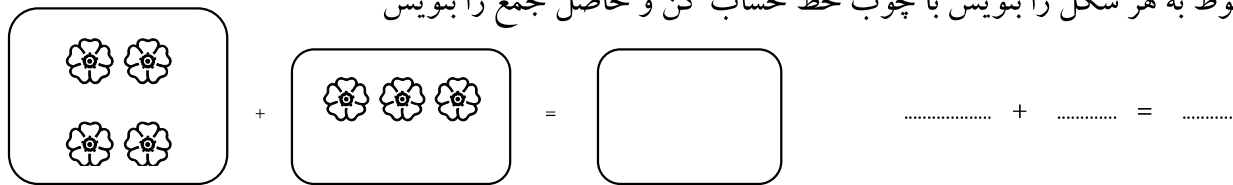
۱۰

به تعداد عددنوشته شده در ستون ها مربع رنگ کن و عدد ستون های رنگ شده را بنویس .

۲	۵		۷	

۱۱

عدد مربوط به هر شکل را بنویس با چوب خط حساب کن و حاصل جمع را بنویس




تلاشی در مسیر موفقیت



- دانلود گام به گام تمام دروس ✓
- دانلود آزمون های قلم چی و گاج + پاسخنامه ✓
- دانلود جزوه های آموزشی و شب امتحانی ✓
- دانلود نمونه سوالات امتحانی ✓
- مشاوره کنکور ✓
- فیلم های انگیزشی ✓

 www.ToranjBook.Net

 [ToranjBook_Net](https://t.me/ToranjBook_Net)

 [ToranjBook_Net](https://www.instagram.com/ToranjBook_Net)