




تلاشی در مسیر موفقیت



- دانلود گام به گام تمام دروس ✓
- دانلود آزمون های قلم چی و گاج + پاسخنامه ✓
- دانلود جزوه های آموزشی و شب امتحانی ✓
- دانلود نمونه سوالات امتحانی ✓
- مشاوره کنکور ✓
- فیلم های انگیزشی ✓

 [www.ToranjBook.Net](http://www.ToranjBook.Net)  
 [ToranjBook\\_Net](https://t.me/ToranjBook_Net)  
 [ToranjBook\\_Net](https://www.instagram.com/ToranjBook_Net)



## آمادگی و دبستان غیردولتی دخترانه روش نوین

### ارزشیابی علوم دوم دبستان

تاریخ: ۱۳۹۷ / ۰۲ / ۱۹

نام و نام خانوادگی: .....

۱- تعریف کنید .

..... مشاهده :

..... طوفان :

..... چشمه نور :

..... سوخت :

۲- جاهای خالی زیر را کامل کنید .

..... باد دارای ..... و ..... است .

..... به وسیله ای که جهت وزش باد را نشان می دهد ..... می گویند .

..... از دانه های ..... و ..... روغن خوراکی به دست می آید .

..... از دانه های ..... و ..... لوازم آرایشی به دست می آید .

..... از دانه های ..... نوشیدنی به دست می آید .

..... دانه های ..... و ..... استفاده دارویی دارند .

۳- به سوالات زیر پاسخ کامل بدهید .

..... آب در کجا قابل آشامیدن می شود؟ مراحل آن را توضیح دهید .

..... زمین چند نوع حرکت دارد؟ توضیح دهید

- صدا چگونه ایجاد می شود ؟

- مراحل زندگی کرم ابریشم را به ترتیب نام ببرید .

- دوره های مختلف زندگی را نام ببرید .

موفق باشی گلم ....

نخند جی بوک

تلاشی در مسیر موفقیت

تلاشی در مسیر موفقیت



دانلود گام به گام تمام دروس ✓

دانلود آزمون های قلم چی و گاج + پاسخنامه ✓

دانلود جزوه های آموزشی و شب امتحانی ✓


دانلود نمونه سوالات امتحانی ✓

مشاوره کنکور ✓

فیلم های انگیزشی ✓

 [www.ToranjBook.Net](http://www.ToranjBook.Net)

 [ToranjBook\\_Net](https://t.me/ToranjBook_Net)

 [ToranjBook\\_Net](https://www.instagram.com/ToranjBook_Net)