


تلاشی در مسیر موفقیت



- دانلود گام به گام تمام دروس ✓
- دانلود آزمون های قلم چی و گاج + پاسخنامه ✓
- دانلود جزوه های آموزشی و شب امتحانی ✓
- دانلود نمونه سوالات امتحانی ✓
- مشاوره کنکور ✓
- فیلم های انگیزشی ✓

 [www.ToranjBook.Net](http://www.ToranjBook.Net)

 [ToranjBook\\_Net](https://t.me/ToranjBook_Net)

 [ToranjBook\\_Net](https://www.instagram.com/ToranjBook_Net)



۷- الگوهای زیر از دایره تشکیل شده اند. با توجه به هر کدام، جدول را کامل کنید و به سؤال ها پاسخ دهید.



شکل ۱



شکل ۲



شکل ۳

شکل ۴

تعداد دایره	۱		۶	
شماره شکل	۱	۲		۴

۸- جواب جمع و تفریق های داده شده کدام گزینه است؟

الف)  $\frac{2}{3} - \frac{1}{2}$

۳۳-۴

۱-۳

$\frac{1}{6} - 2$

۴۵-۱

ب)  $\frac{1}{3} + \frac{3}{6} =$

$\frac{5}{6} - 4$

$\frac{1}{6} - 3$

۱۲-۲

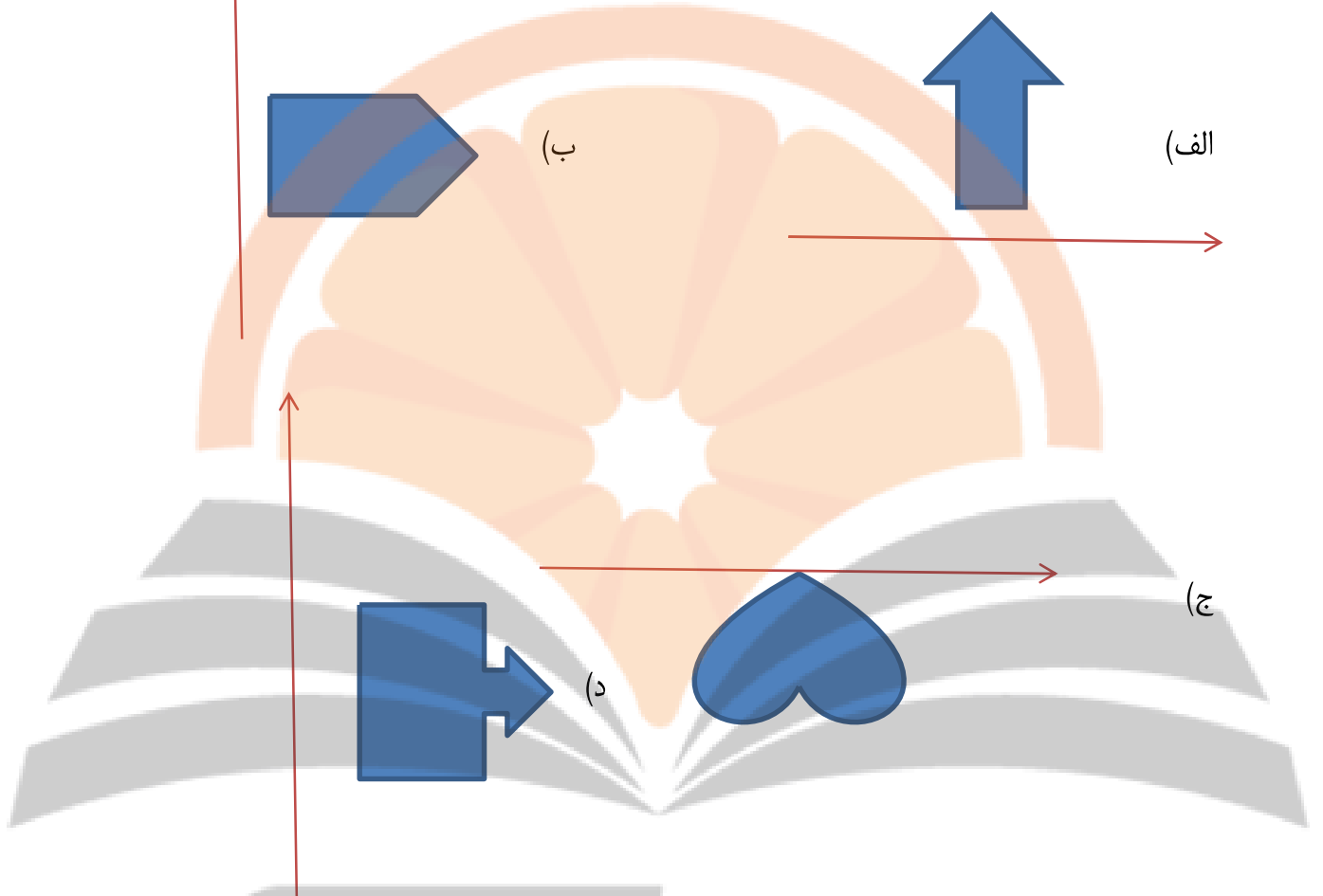
۸-۱

۹- حاصل ضرب و تقسیم کسرهای زیر را به دست آورید؟

الف)  $5 \div \frac{1}{5} =$

ب)  $\frac{6}{4} \times \frac{8}{3} =$

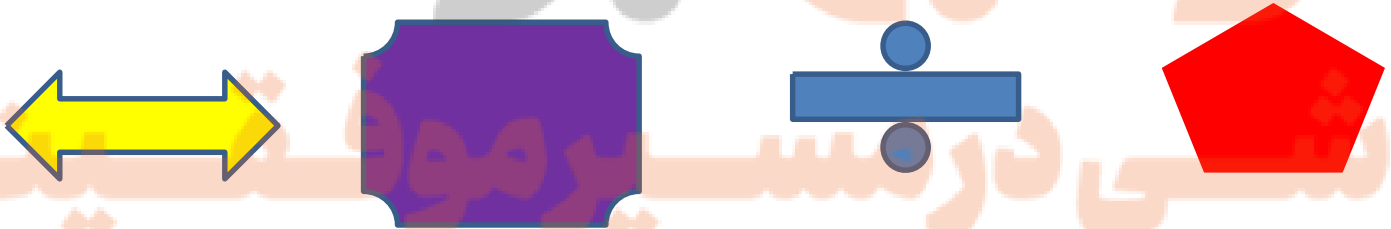
۱۰- قرینه ی اشکال زیر را نسبت به خط تقارن رسم کنید؟



۱۱- اعداد زیر را در جدول ارزش مکانی نشان دهید؟

۱۳۵۹۸۴۰۹۶۴ - ۱۲۸۳۵۶۹۸ - ۲۳۴۹۲۸

۱۲- خط تقارن شکل‌های زیر را رسم کنید؟



پاسخنامه تشریحی ریاضی پنجم

۱- الف- ۲- صد هزار- صد ب- ۳- میلیون =  $2 \div 6 = 3$  ج-  $1200 = 500 - 1700$

۲- الف-  $30 = 90 \div 3 = (9000 \div 100) \div 3$  ب-  $20 = 40 \div 2 = (4000 \div 100) \div 2$

۳- الف-  $4000000000 - 5000000000 - 6000000000$   
ب- ۶ میلیارد- ۵ میلیارد- ۴ میلیارد

۴-  $8 = \frac{24}{3} = \frac{2}{3} \times 12$

۵-

الف-  $4/0.2 = 4/0.2$

ب-  $78 < 7896$

د-  $3045782 > 3045682$

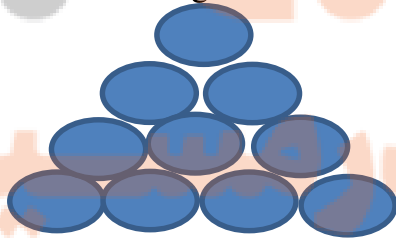
ج-  $45/1 = 45/1$

۶-

زاویه بزرگ	۵	۲۵
زاویه کوچک	۳	۱۵
اختلاف دوزاویه	۲	۱۰



۷- الف- ۳ ب- ۱۰ ج- ۲ د- ۴



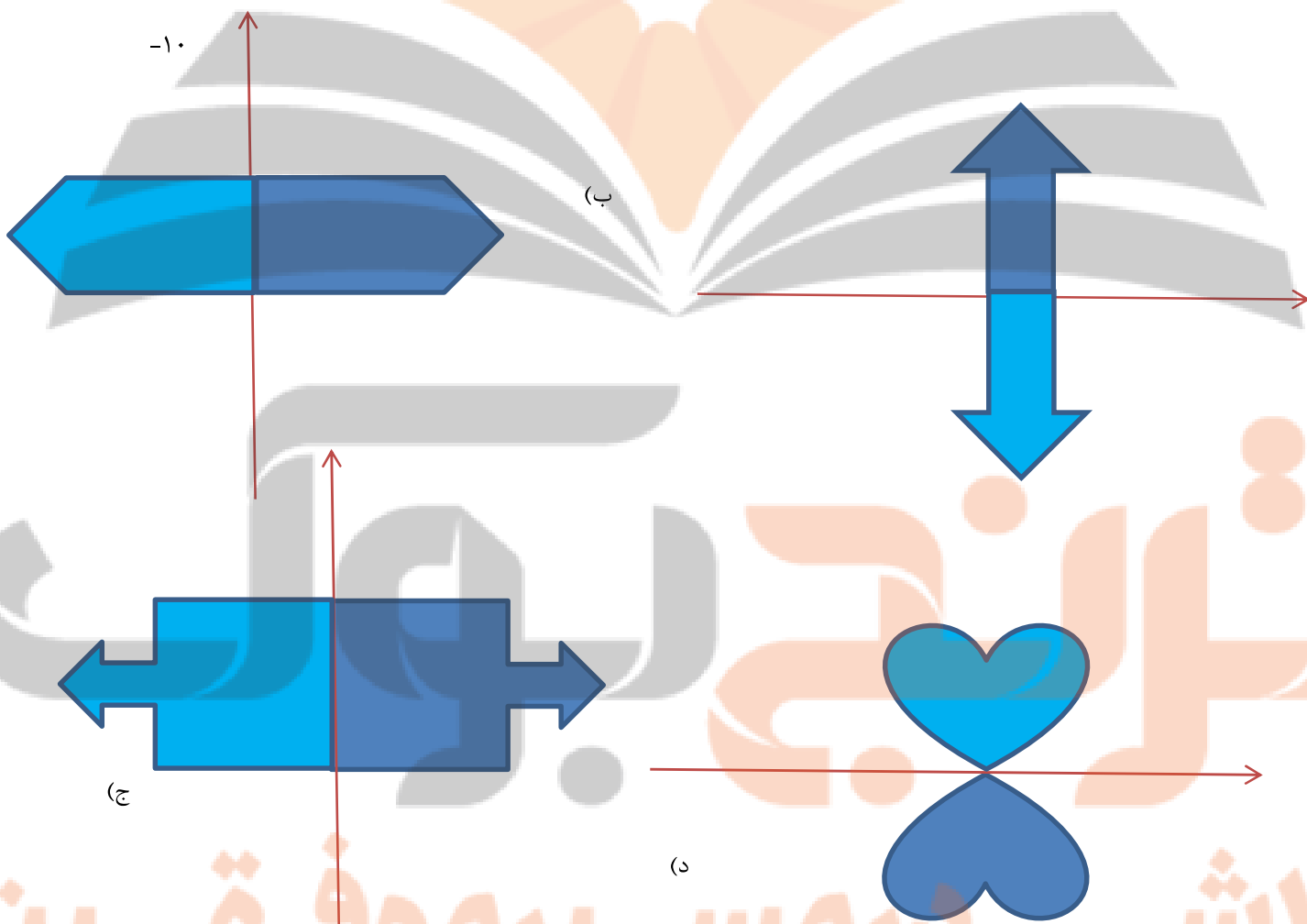
شکل ۴

$$8 - \text{الف) } \frac{2}{2} - \frac{1}{2} = \frac{4-3}{2} = \frac{1}{2}$$

$$\text{ب) } \frac{1}{2} + \frac{3}{6} = \frac{2+3}{6} = \frac{5}{6}$$

$$9 - \text{الف) } 5 \div \frac{1}{5} = \frac{5}{1} \times \frac{5}{1} = 25$$

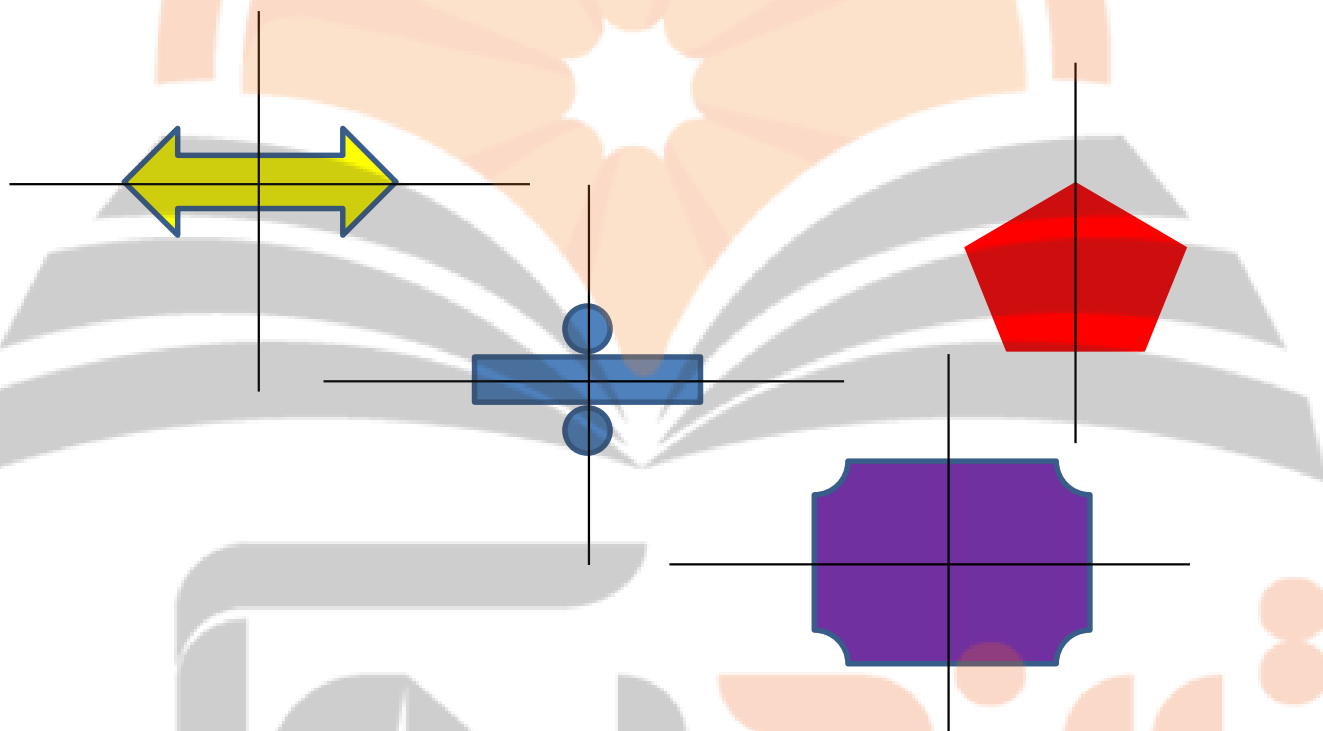
$$16 = \frac{6}{4} \times \frac{8}{2} = \frac{48}{12}$$



۱۱- جدول ارزش مکانی

میلیارد			میلیون			هزارگان					
ص	د	ی	ص	د	ی	ص	د	ی	ص	د	ی
						۲	۳	۴	۹	۲	۸
			۲	۱		۸	۳	۵	۶	۹	۸
		۱	۳	۵	۹	۸	۴	۰	۹	۶	۴

-۱۲



نشر آنگاه بیوگراف

تلاشی در مسیر موفقیت


تلاشی در مسیر موفقیت



- دانلود گام به گام تمام دروس ✓
- دانلود آزمون های قلم چی و گاج + پاسخنامه ✓
- دانلود جزوه های آموزشی و شب امتحانی ✓
- دانلود نمونه سوالات امتحانی ✓
- مشاوره کنکور ✓
- فیلم های انگیزشی ✓

 [www.ToranjBook.Net](http://www.ToranjBook.Net)

 [ToranjBook\\_Net](https://t.me/ToranjBook_Net)

 [ToranjBook\\_Net](https://www.instagram.com/ToranjBook_Net)