

تلاشی در مسیر موفقیت



دانلود گام به گام تمام دروس ✓

دانلود آزمون های قلم چی و گاج + پاسخنامه ✓

دانلود جزوه های آموزشی و شب امتحانی ✓


دانلود نمونه سوالات امتحانی ✓

مشاوره کنکور ✓

فیلم های انگیزشی ✓

 [www.ToranjBook.Net](http://www.ToranjBook.Net)

 [ToranjBook\\_Net](https://t.me/ToranjBook_Net)

 [ToranjBook\\_Net](https://www.instagram.com/ToranjBook_Net)



## ریاضی

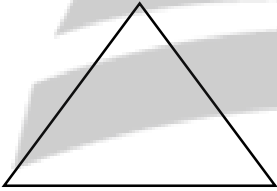
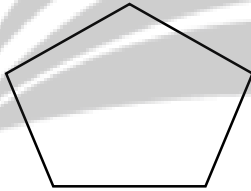
<p>۱ عددی هستم که از ۱۱ دسته ی صد میلیون تایی و ۹ دسته ی صد هزارتایی و ۱۲ دسته ی صدتایی ساخته شده ام. (الف) من چه عددی هستم به رقم و حروف بنویسید. (ب) اگر عدد را صد برابر کنیم رقم ۹ دارای چه ارزش مکانی می شود؟</p>	۱
<p>۲ جاهای خالی را با دقت کامل کنید. (الف) تقریب کمتر از صدگان میلیون عدد ۹۰۴، ۵۷۸، ۹۷۶ برابر با ..... است (به روش گرد کردن) (ب) <math>\frac{2}{4}</math> از نصف مبلغ ۸۰۰۰۰۰ تومان ..... ریال است. (ج) ..... درصد اعداد یک تا ۱۰۰ یک رقمی هستند. (د) به جای اینکه عددی را بر <math>\frac{1}{3}</math> تقسیم کنیم می توانیم آن را در ..... ضرب کنیم.</p>	۲
<p>۳ عبارت های درست را با علامت <math>\checkmark</math> و نادرست را با علامت <math>\times</math> مشخص کنید. (الف) اگر صورت کسری صفر باشد آن کسر برابر با صفر است. <input type="radio"/> درست <input type="radio"/> نادرست (ب) <math>\frac{3}{4}</math> هر عدد، از خود آن عدد بزرگتر است. <input type="radio"/> درست <input type="radio"/> نادرست (ج) عدد پنجم الگوی مثلثی برابر با ۱۵ است. <input type="radio"/> درست <input type="radio"/> نادرست (د) علی ۵ برابر رضا پول دارد یعنی نسبت پول علی به رضا <math>\frac{5}{1}</math> است. <input type="radio"/> درست <input type="radio"/> نادرست</p>	۳
<p>۴ حاصل ضرب های زیر را با رسم شکل بدست آورید. <math>2 \times \frac{3}{4} =</math></p>	۴
<p>۵ حاصل عبارت های زیر را بدست آورید (در صورت امکان ابتداء ساده کنید) <math>2 \frac{4}{5} + 3 \frac{7}{8} =</math> <math>2 \frac{4}{7} - 1 \frac{4}{5} =</math> <math>\frac{27}{33} \times \frac{11}{63} =</math> <math>\frac{7}{8} \times \frac{24 \times 32}{49 \times 9} =</math></p>	۵

۶ در جاهای خالی علامت  $< > =$  بگذارید.

$$4:69:70 \quad \bigcirc \quad 5:8:7$$

$$1 \frac{7}{8} \quad \bigcirc \quad \frac{15}{8}$$

$$\frac{3}{4} \quad \bigcirc \quad \frac{3}{8}$$

۷	<p>فاطمه ۹ متر نخ دارد و برای بستن جعبه های شیرینی به نخ هایی با اندازه های <math>2\frac{1}{3}</math> متر احتیاج دارد او با این مقدار نخ ، چه تعداد جعبه شیرینی را می تواند ببندد.</p>
۸	<p>اختلاف دو عدد ۲۸ و نسبت آن <math>\frac{2}{13}</math> است. این دو عدد را به دست آورید.</p>
۹	<p>کالایی را بعد از ۳۰٪ تخفیف به قیمت ۲۱۰۰۰۰ تومان خریدیم . الف) قیمت اولیه کالا را بدست آورید؟ ب) چند درصد پرداخت کرده ایم؟</p>
۱۰	<p>شکل های زیر را با توجه به درصد داده شده رنگ کنید.</p> <div style="display: flex; justify-content: space-around; align-items: center;"> <div style="text-align: center;">  <p>۷۵٪</p> </div> <div style="text-align: center;">  <p>۴۰٪</p> </div> </div>
۱۱	<p>به سوالات چهارگزینه ای زیر با دقت پاسخ دهید.</p> <p>الف) در ساعت ۷ عصر روز دوشنبه کاری را شروع کردیم و دو روز و ۱۰ ساعت بعد آن کار را به پایان رساندیم در چه روز و چه ساعتی این کار را به پایان رساندیم.</p> <p>(۱) ۵ عصر - چهارشنبه      (۲) ۵ عصر - پنجشنبه      (۳) ۵ صبح - پنجشنبه      (۴) ۵ صبح - چهارشنبه</p> <p>ب) ارزش مکانی کوچکترین رقم در عدد « ۹۲۸۵۰۲۳۴۶۷ » کدام است ؟</p> <p>(۱) یکان میلیون      (۲) صدگان هزار      (۳) صدگان میلیون      (۴) یکان میلیارد</p> <p>ج) نسبت های کدام گزینه می توانند یک تناسب را تشکیل دهند؟</p> <p>(۱) <math>\frac{7}{6}</math> و <math>\frac{14}{30}</math>      (۲) <math>\frac{49}{9}</math> و <math>\frac{7}{3}</math>      (۳) <math>\frac{12}{20}</math> و <math>\frac{4}{10}</math>      (۴) <math>\frac{36}{30}</math> و <math>\frac{12}{10}</math></p>

تلاشی در مسیر موفقیت



دانلود گام به گام تمام دروس ✓

دانلود آزمون های قلم چی و گاج + پاسخنامه ✓

دانلود جزوه های آموزشی و شب امتحانی ✓


دانلود نمونه سوالات امتحانی ✓

مشاوره کنکور ✓

فیلم های انگیزشی ✓

 [www.ToranjBook.Net](http://www.ToranjBook.Net)

 [ToranjBook\\_Net](https://t.me/ToranjBook_Net)

 [ToranjBook\\_Net](https://www.instagram.com/ToranjBook_Net)