


تلاشی در مسیر موفقیت




- دانلود گام به گام تمام دروس ✓
- دانلود آزمون های قلم چی و گاج + پاسخنامه ✓
- دانلود جزوه های آموزشی و شب امتحانی ✓
- دانلود نمونه سوالات امتحانی ✓
- مشاوره کنکور ✓
- فیلم های انگیزشی ✓


 www.ToranjBook.Net

 [ToranjBook_Net](https://t.me/ToranjBook_Net)

 [ToranjBook_Net](https://www.instagram.com/ToranjBook_Net)

<p>۱ با توجه به عدد ۷۵۸۰۱۹۴۳۰۵۶۲ پاسخ پرسش های زیر را بنویس.</p> <p>الف) رقم های طبقه ی میلیون را بنویس.</p> <p>ب) اگر رقم ۳ عدد بالا را در ۱۰۰ ضرب کنید؛ ارزش آن چه تغییری پیدا می کند؟</p> <p>ج) حروف عدد بالا را در پایین بنویس.</p> <p>-----</p>	<p>۱</p>
<p>۲ عدد ۸۹۵ / ۶۳ را در جدول ارزش مکانی بگذار.</p> <p>با توجه به جدول بالا، ارزش کدام رقم از همه کمتر است؟</p>	<p>۲</p>
<p>۳ الف) نهمین عدد در الگوهای مربعی، چه عددی است؟</p> <p>ب) به کسر تبدیل کن.</p> $4\frac{2}{3} =$ <p>ج) پنجمین عدد الگوهای مثلثی، چه عددی است؟</p> $\frac{29}{4} =$ <p>د) به عدد مخلوط، تبدیل کن.</p>	<p>۳</p>
<p>۴ جمع و تفریق کسره های زیر را انجام بده.</p> $\frac{7}{4} - \frac{2}{5} = \text{-----} =$ $7\frac{1}{4} + 1\frac{1}{3} =$	<p>۴</p>
<p>۵ حاصل ضربها و تقسیم های زیر را بنویس.</p> $\frac{1}{4} \div 7 =$ $.3 \times .105 =$ $6 \times \frac{2}{3} =$	<p>۵</p>
<p>۶ ساده کن.</p> $\frac{12 \times 5}{8 \times 4} =$ $\frac{8}{14} \times \frac{21}{24} =$	<p>۶</p>
<p>۷ در جاهای خالی عدد مناسب بنویس تا نسبت های مساوی به دست آیند.</p> $\frac{6}{8} = \frac{\quad}{4}$ $\frac{180}{\quad} = \frac{9}{10}$	<p>۷</p>
<p>۸ در شکل زیر، اندازه ی زاویه خواسته شده را بنویس.</p> 	<p>۸</p>

۹	<p>مقدار کدام بیشتر است؟ داخل خط بسته بگذار.</p> <p>۸۷۵ سی سی ۲/۵ لیتر ۴۰۴ میلی لیتر ۱۰۰۰ سانتی متر مکعب</p>
۱۰	<p>عدد $\frac{۸}{۷۰۵}$ را به حروف بنویس.</p> <p>الف) عدد $\frac{۸}{۷۰۵}$ بین کدام دو عدد صحیح است؟ _____ و _____</p> <p>ب) عدد $\frac{۸}{۷۰۵}$ به کدام عدد صحیح نزدیک تر است؟ _____</p> <p>ج) گستره ی عدد $\frac{۸}{۷۰۵}$ را بنویس. _____</p>
۱۱	<p>به همین ترتیب، ادامه بده و بنویس.</p> <p>_____ و _____ و _____ و $\frac{۲۰}{۵۰}$ و $\frac{۲۰}{۴۵}$ و $\frac{۲۰}{۴۰}$</p> <p>_____ و _____ و _____ و $\frac{۰}{۹۱}$ و $\frac{۰}{۹۰۵}$ و $\frac{۰}{۹}$.</p>
۱۲	<p>جمع و تفریق عددهای مرکب زیر را انجام بده.</p> <div style="display: flex; justify-content: space-around; align-items: center;"> <div style="text-align: center;"> $\begin{array}{r} + ۲ \quad ۵۷ \quad ۴۹ \\ \hline ۵ \quad ۱ \quad ۲۲ \end{array}$ </div> <div style="text-align: center;"> $\begin{array}{r} - ۵ \quad ۰۲ \quad ۴۹ \\ \hline ۴ \quad ۲۳ \quad ۳۸ \end{array}$ </div> </div>
۱۳	<p>با توجه به محور، در جاهای خالی عدد مناسب بنویس.</p> 
۱۴	<p>با توجه به شکل های زیر، در کدام شکل؛ نیم خط ((ب س))، نیمساز زاویه ی ((ب)) است؟ _____</p> <p>چرا؟ _____</p> <div style="display: flex; justify-content: space-around; align-items: center;">   </div>
۱۵	<p>دوزنقه ای رسم کن که</p> <p>الف - خط تقارن داشته باشد.</p> <p>ب - مساحت دوزنقه ای را که کشیده ای: محاسبه کن و بنویس.</p>

۱۶	<p>محاسبه کن و بنویس. (توجه : هر خانه ی بالایی ؛ حاصل جمع دو خانه ی پایینی است.)</p> 
۱۷	<p>نیما ۱۲ کتاب بیشتر از هادی دارد ؛ اگر نسبت کتاب های نیما به کتاب های هادی ۵ به ۳ باشد ؛ نیما و هادی ، هر کدام چند کتاب دارند؟ راهنمایی : به اختلاف نسبت ها توجه کن و سپس از تناسب استفاده کن.</p>
۱۸	<p>چهارده نفر از دانش آموزان کلاس بیست نفره ای ؛ در اردیبهشت ، در مصرف برق در منزل ، صرفه جویی کرده اند ؛ حساب کنید ؛ چند درصد از دانش آموزان آن کلاس در مصرف برق در منزل ، صرفه جویی کرده اند ؟</p>
۱۹	<p>شعاع میدان شهدای ۷ پوشیر سردشت ، پنجاه متر است . شهرداری می خواهد ، دور این میدان را سنگ نما بزند. اگر هزینه ی هر متر سنگ نما کاری ۲۰۰ هزار تومان باشد ؛ هزینه کل سنگ نما کاری دور این میدان ؛ چقدر می شود ؟</p>

نرخه بولک

تلاشی در مسیر موفقیت

تلاشی در مسیر موفقیت



دانلود گام به گام تمام دروس ✓

دانلود آزمون های قلم چی و گاج + پاسخنامه ✓

دانلود جزوه های آموزشی و شب امتحانی ✓


دانلود نمونه سوالات امتحانی ✓

مشاوره کنکور ✓

فیلم های انگیزشی ✓

 www.ToranjBook.Net

 [ToranjBook_Net](https://t.me/ToranjBook_Net)

 [ToranjBook_Net](https://www.instagram.com/ToranjBook_Net)