


تلاشی در مسیر موفقیت



- دانلود گام به گام تمام دروس ✓
- دانلود آزمون های قلم چی و گاج + پاسخنامه ✓
- دانلود جزوه های آموزشی و شب امتحانی ✓
- دانلود نمونه سوالات امتحانی ✓
- مشاوره کنکور ✓
- فیلم های انگیزشی ✓

 [www.ToranjBook.Net](http://www.ToranjBook.Net)

 [ToranjBook\\_Net](https://t.me/ToranjBook_Net)

 [ToranjBook\\_Net](https://www.instagram.com/ToranjBook_Net)

«به نام خداوند مهربان»

آزمون و ارزیابی نوبت دوم  
شنبه ۱/۵/۱۴۰۰

درس: ریاضی  
مدت: ۱ ساعت و ۲۰ دقیقه

کلاس: پنجم ۲  
دبستان: دکتر حسایی

الف: گزینه‌ی درست را انتخاب کنید:

$$\frac{3}{5} \times \frac{5}{12}$$

۱- عبارت ساده‌شده‌ی روبه‌رو، کدام است؟

(۱)  $\frac{1}{4}$       (۲)  $\frac{2}{4}$       (۳)  $\frac{1}{3}$       (۴)  $\frac{5}{12}$

۲- برای نشان دادن درصد قبولی یک مدرسه در آزمون تیزهوشان، کدام نمودار مناسب‌تر است؟

(۱) نمودار میله‌ای      (۲) نمودار خط شکسته      (۳) نمودار دایره‌ای

۳- نسبت خط تقارن به اضلاع در مستطیل مثل ..... به ..... است.

(۱) ۴ به ۴      (۲) ۲ به ۴      (۳) ۴ به ۲      (۴) ۱ به ۴

ب: در جای خالی عدد یا کلمه‌ی مناسب بنویسید:

۴- عدد ۷۲۵۰۰۰ را می‌توان ۷۲۵ ..... تایی خواند.

۵- در یک بازی عادلانه، احتمال برنده شدن بازیکنان ..... است.

۶- مجموع زوایای داخلی چهارضلعی ..... درجه است.

پ: پاسخ و راه‌حل کامل سؤالات را بنویسید:

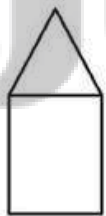
۷- عدد  $\frac{4}{169}$  را به حروف بنویسید:

- این عدد بین کدام دو عدد صحیح قرار دارد؟

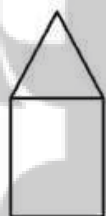
- به کدام عدد نزدیک‌تر است؟

- گسترده‌ی این عدد را بنویسید:

۸- شکل بیستم از چند پاره خط تشکیل شده است؟



شکل (۱)



شکل (۲)



شکل (۳)

.....

شکل (۲۰)

تلاشی در مسیر موفقیت

«به نام خداوند مهربان»

آزمون و ارزیابی نوبت دوم  
شنبه ۱/۵/۱۴۰۰

درس: ریاضی  
مدت: ۱ ساعت و ۲۰ دقیقه

کلاس: پنجم ۲  
دبستان: دکتر حسایی

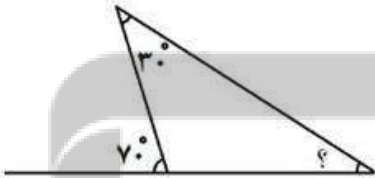
۹- ستایش در یک مرحله از یک مسابقه به ترتیب ۱۷، ۱۸ و ۱۶ نمره کسب کرده است. میانگین نمرات او را حساب کنید:

- در مرحله‌ی چهارم چه نمره‌ای کسب کند تا میانگین تغییری نکند؟

۱۰- گنجایش استخری با ابعاد ۱۰، ۸ و ۳ متر چند لیتر است؟

۱۱- علی هر صفحه از کتابی را در ۵ دقیقه مطالعه می‌کند. مطالعه‌ی ۱۵ صفحه از این کتاب چه مدت طول می‌کشد؟ چند ساعت و چند دقیقه؟

۱۲- در شکل زیر، اندازه‌ی زاویه‌ی خواسته‌شده چه قدر است؟



۱۳- عملیات زیر را انجام دهید؟

$$3\frac{2}{5} + 2\frac{1}{10} =$$

$$14\frac{3}{4} - 5\frac{1}{3} =$$

$$10\frac{2}{4} \div 3\frac{1}{4} =$$

$$17 - 3\frac{0}{10} =$$

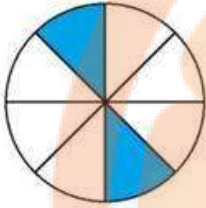
«به نام خداوند مهربان»

آزمون و ارزیابی نوبت دوم  
شنبه ۱/۵/۱۴۰۰

درس: ریاضی  
مدت: ۱ ساعت و ۲۰ دقیقه

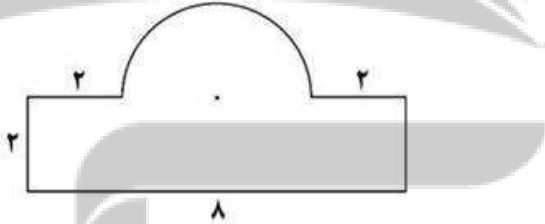
کلاس: پنجم ۲  
دبستان: دکتر حسایی

۱۴- چند درصد شکل زیر، رنگی است؟



۱۵- مساحت یک لوزی ۳۰ سانتی‌متر مربع است. اگر یکی از قطرهایش ۵ سانتی‌متر باشد. اندازه‌ی قطر دیگر لوزی چند است؟

۱۶- محیط شکل زیر را به دست آورید:



نشان بده

تلاشی در مسیر موفقیت

معلم شما: پیرکه

«آرزوی سلامتی و موفقیت برای شما عزیزان»


تلاشی در مسیر موفقیت



- دانلود گام به گام تمام دروس ✓
- دانلود آزمون های قلم چی و گاج + پاسخنامه ✓
- دانلود جزوه های آموزشی و شب امتحانی ✓
- دانلود نمونه سوالات امتحانی ✓
- مشاوره کنکور ✓
- فیلم های انگیزشی ✓

 [www.ToranjBook.Net](http://www.ToranjBook.Net)

 [ToranjBook\\_Net](https://t.me/ToranjBook_Net)

 [ToranjBook\\_Net](https://www.instagram.com/ToranjBook_Net)