


تلاشی در مسیر موفقیت



- دانلود گام به گام تمام دروس ✓
- دانلود آزمون های قلم چی و گاج + پاسخنامه ✓
- دانلود جزوه های آموزشی و شب امتحانی ✓
- دانلود نمونه سوالات امتحانی ✓
- مشاوره کنکور ✓
- فیلم های انگیزشی ✓

 [www.ToranjBook.Net](http://www.ToranjBook.Net)

 [ToranjBook\\_Net](https://t.me/ToranjBook_Net)

 [ToranjBook\\_Net](https://www.instagram.com/ToranjBook_Net)

نام و نام خانوادگی: .....

مقطع و رشته: ریاضی پنجم

تعداد صفحه سؤال: ۲ صفحه

جمهوری اسلامی ایران

اداره ی کل آموزش و پرورش شهر تهران

اداره ی آموزش و پرورش شهر تهران منطقه ۴ تهران

دبستان غیردولتی دخترانه سرای دانش واحد الغدیر

(ارزشیابی پایان ترم نوبت دوم سال تحصیلی ۱۴۰۰-۱۳۹۹)


نام درس: ریاضی

نام دبیر: نسیم جوادی

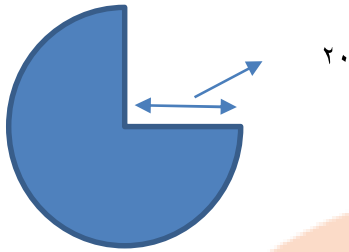
تاریخ امتحان: ۱۴۰۰/۰۳/۰۱

ساعت امتحان: 11:50

مدت امتحان: ۶۰ دقیقه

نمره به عدد:		نمره به حروف:	
نام دبیر: نسیم جوادی		نام دبیر:	
تاریخ و امضاء:		تاریخ و امضاء:	
محل مهر و امضاء مدیر		نمره به عدد:	
نمره به حروف:		نمره به حروف:	
ردیف	سؤالات	نمره به عدد	نمره به حروف
	جاهای خالی را تکمیل کنید. بزرگترین عدد شش رقمی غیر تکراری فرد..... است. کوچک ترین عدد هفت رقمی غیر تکراری فرد ..... است. میانگین ۴ عدد ۱۱، ۲۰، ۱۴، ۱۵..... است.	1	
	گزینه ی درست را انتخاب کنید. حجم مکعبی به ضلع ۳ سانتی متر ..... است. ۹(الف) ۲۷(ب) ۰/۸ لیتر چند سی سی است؟ ۸۰۰(الف) ۸۰۰۰(ب)	2	
	میانگین ۵ عدد زیر را به دست آورید. ۴۵، ۳۴، ۲۱، ۴۲، ۴۳	3	
	مساحت قسمت رنگی را به دست آورید. 	4	
	در یک لوزی اندازه ی زاویه ی تند ۴۰ درجه است. اندازه ی ۳ زاویه ی دیگر را به دست آورید.	5	
	حجم مکعب مستطیلی ۶۰۰ سانتی متر مربع است. اگر طول و عرض ۱۲ و ۵ باشد، ارتفاع را به دست آورید.	6	

محیط شکل زیر را به دست آورید. عدد پی = ۳



۷

مستطیل چند محور تقارن دارد؟  
مربع چند محور تقارن دارد؟  
آیا لوزی مرکز تقارن دارد؟  
آیا متوازی الاضلاع مرکز تقارن دارد؟

۸

حاصل را به دست آورید.

$$4\frac{6}{10} - 1\frac{2}{6} =$$

$$\frac{2}{5} + 2\frac{5}{9} =$$

۹

۲۰ درصد عددی ۸۰۰ می باشد. کل عدد چند است؟

۱۰

نسبت دو عدد سه به پنج است. اگر مجموع آن ها ۲۴ باشد هر کدام را به دست آورید.

۱۱

جمع بارم : ۲۰ نمره

تلاشی در مسیر موفقیت

تلاشی در مسیر موفقیت



دانلود گام به گام تمام دروس ✓

دانلود آزمون های قلم چی و گاج + پاسخنامه ✓

دانلود جزوه های آموزشی و شب امتحانی ✓


دانلود نمونه سوالات امتحانی ✓

مشاوره کنکور ✓

فیلم های انگیزشی ✓

 [www.ToranjBook.Net](http://www.ToranjBook.Net)

 [ToranjBook\\_Net](https://t.me/ToranjBook_Net)

 [ToranjBook\\_Net](https://www.instagram.com/ToranjBook_Net)