

تلاشی در مسیر موفقیت



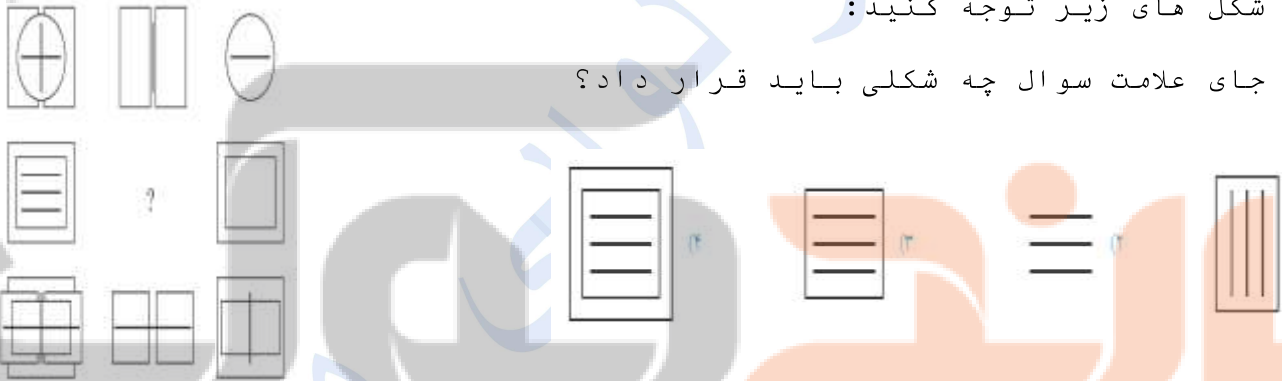
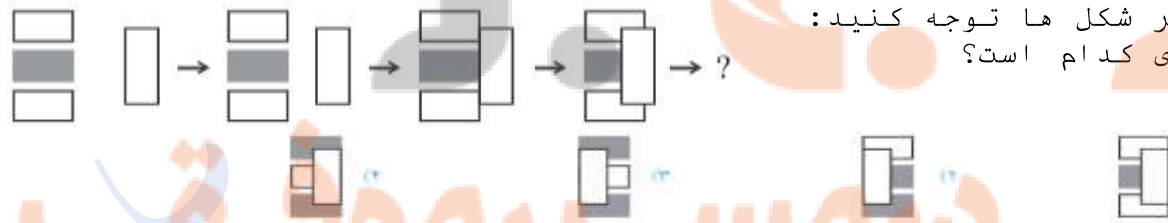
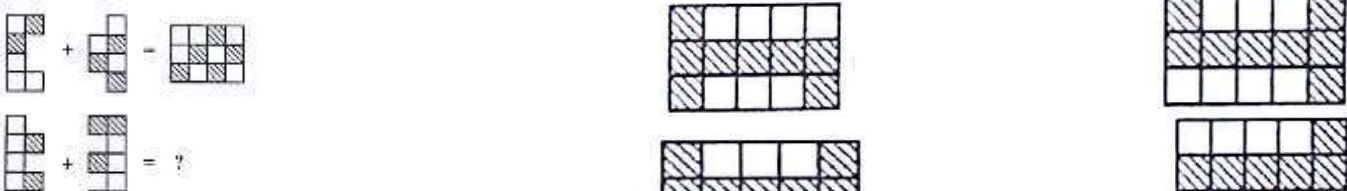


- دانلود گام به گام تمام دروس ✓
- دانلود آزمون های قلم چی و گاج + پاسخنامه ✓
- دانلود جزوه های آموزشی و شب امتحانی ✓
- دانلود نمونه سوالات امتحانی ✓
- مشاوره کنکور ✓
- فیلم های انگیزشی ✓

 www.ToranjBook.Net

 [ToranjBook_Net](https://t.me/ToranjBook_Net)

 [ToranjBook_Net](https://www.instagram.com/ToranjBook_Net)

نام و نام خانوادگی :	
۱	واژه مناسب برای تکمیل کردن سری زیر کدام است؟ فراستان - آمدن - ناراحت کردن - ؟ (۱) مداد (۲) همیشه (۳) بستن (۴) پسر
۲	کدام عدد به مجموعه مقابل تعلق ندارد؟ ۱۶ (۱) ۱۱ (۲) ۱۲ (۳) ۱۴ (۴) ۲۰
۳	کدام عدد به مجموعه مقابل تعلق ندارد؟ ۰/۶ (۱) ۰/۵۵ (۲) ۰/۶ (۳) ۰/۵۵ (۴) $\frac{2}{4}$ $\frac{1}{100}$ $\frac{2}{4}$ $\frac{2}{4}$
۴	شکل کدام گزینه با بقیه متفاوت است؟ 
۵	کدام کلمه با بقیه کلمات مطابقت ندارد؟ آسمان (۱) خرامان (۲) شتابان (۳) هراسان (۴)
۶	به جای علامت سوال چه عددی باید گذاشت؟ ۸ (۱) ۱۲ (۲) ۱۴ (۳) ۱۱ (۴) ۵ ۵ ۳ ۸ ۶ ۱۱ ۱۴
۷	سه برابر خمس ۱۰۰ کدام است؟ ۷۵ (۱) ۱۵۰ (۲) ۳۰۰ (۳) ۶۰ (۴)
۸	به جای علامت سوال چه عددی باید قرار داد؟  ۱۱ (۱) ۱۲ (۲) ۱۳ (۳) ۱۴ (۴)
۹	به شکل های زیر توجه کنید: به جای علامت سوال چه شکلی باید قرار داد؟ 
۱۰	به تغییر شکل ها توجه کنید: شکل بعدی کدام است؟ 
۱۱	با جابه جایی حروف کدام دسته از حروف زیر، نمی توان نام کشوری را ساخت؟ (۱) ن، چ، ی (۲) ا، ن، د، ک، ا، ا (۳) ن، د، ه، ل (۴) ه، ن، ر، ت، ا
۱۲	

		۱۳
		۱۴
		۱۵
		۱۶
		۱۷
		۱۸
		۱۹
		۲۰
		۲۱
	<p>کدام گزینه شباهت کمتری به بقیه دارد؟</p>	۲۲

۲۳ کدام گزینه با بقیه هماهنگ نیست؟

۲۴ اگر کاغذ شفاف مقابل را از روی خط چین تا کنیم، به کدام شکل دیده می شود؟

۲۵ کدام گزینه با شکل مقابل تشکیل یک مربع می دهد؟

۲۶ تصویر مقابل در آینه به چه شکل دیده می شود؟

۲۷ کلمه ی مقابل در آب به چه شکل دیده می شود؟

AMBULANCE

۲۸ چند مربع می توان رسم کرد که رأسشان روی نقاط مقابل باشد؟

۲۹ کدام گزینه دوران یافته ی شکل مقابل نیست؟

۳۰ گسترده ی مقابل، مربوط به کدام مکعب است؟

۳۱


۳۲

۳۳

۳۴

<p>شهره: \triangle \square</p> <p>محمد حسین: \triangle \circ</p> <p>پویا: \square \square</p> <p>نیوشا: ?</p>	<p>\square \square \square</p> <p>\square \square \square</p> <p>\square \square \square</p> <p>\square \square \square</p>	۳۵
	<p>۲ (۲)</p> <p>۴ (۴)</p>	۳۶
<p>۱۵) (۲</p>	<p>۷۱۷ (۱)</p> <p>۱۲۱ (۴)</p>	۳۷
<p>E M U</p> <p>N O P</p> <p>I ? S</p>	<p>M \square</p> <p>N \square</p> <p>O \square</p> <p>P \square</p>	۳۸
	<p>۳ (۳)</p> <p>۲ (۲)</p>	۳۹
	<p>P \square</p> <p>M \square</p> <p>R \square</p> <p>Q \square</p>	۴۰
	<p>۴۴ (۳)</p> <p>۳۴ (۲)</p>	۴۱
	<p>۶ (۱)</p> <p>۲ (۴)</p>	۴۲
	<p>۹ (۳)</p> <p>۷ (۲)</p>	۴۳
<p>۱۵) (۱)</p>	<p>۱۶ (۲)</p> <p>۲۰ (۴)</p>	۴۴
<p>بزرگ ترین عدد صحیح که ۶ برابر آن از ۱۰۰ کوچک تر باشد، چند است؟</p>	<p>۱۶ (۲)</p> <p>۱۷ (۳)</p> <p>۱۸ (۴)</p>	۴۵
<p>مجموع ۲۴ عدد طبیعی، ۳۸۰ است. از این ۲۴ عدد چند عدد ممکن است از ۱۶ بزرگ تر باشند؟</p>	<p>۲۳ (۱)</p> <p>۱۸ (۲)</p> <p>۲۲ (۳)</p> <p>۲۰ (۴)</p>	۴۶
<p>سه برابر عددی را با خودش جمع کردیم و حاصل ۱۲۸ شد. خمس این عدد چند است؟</p>	<p>۶ (۱)</p> <p>۵ (۴)</p> <p>۳۲ (۲)</p> <p>۶/۴ (۳)</p>	۴۷
<p>اگر $n! = ۴۲ \times ۱۲ \times ۱۰$ باشد کدام است؟</p> <p>$(n! = ۱ \times ۲ \times ۳ \times \dots \times n)$</p>	<p>۶ (۱)</p> <p>۱۰ (۲)</p> <p>۷ (۳)</p> <p>۹ (۴)</p>	۴۸
<p>مجموع دو عدد، ۲۰ و مجموع عدد اول با سه برابر عدد دوم، ۴۰ است. عدد دوم چند است؟</p>		۴۸

۴۹	تفاوت عدد ۵۱۷۸۰ و تصویرش در آینه، چند است؟ (۱) ۴۳۰۶۵ (۲) ۲۸۹۳۵ (۳) ۴۶۶۰۲ (۴) هیچ کدام
۵۰	اعداد مختلف را طوری در جدول مقابل قرار می دهیم که حاصل جمع هر ۳ خانه ی متوالی، برابر ۲۰ باشد. X کدام است؟ (۱) ۱۰ (۲) ۸ (۳) ۵ (۴) ۳
۵۱	چند عدد سه رقمی داریم که حداقل یک رقم ۹ داشته باشند؟ (۱) ۶۴۸ (۲) ۸۰۰ (۳) ۲۵۲ (۴) ۳۶۱



نخستین بزرگ

تلاشی در مسیر موفقیت


تلاشی در مسیر موفقیت



- دانلود گام به گام تمام دروس ✓
- دانلود آزمون های قلم چی و گاج + پاسخنامه ✓
- دانلود جزوه های آموزشی و شب امتحانی ✓
- دانلود نمونه سوالات امتحانی ✓
- مشاوره کنکور ✓
- فیلم های انگیزشی ✓

 www.ToranjBook.Net

 [ToranjBook_Net](https://t.me/ToranjBook_Net)

 [ToranjBook_Net](https://www.instagram.com/ToranjBook_Net)