


تلاشی در مسیر موفقیت



- دانلود گام به گام تمام دروس ✓
- دانلود آزمون های قلم چی و گاج + پاسخنامه ✓
- دانلود جزوه های آموزشی و شب امتحانی ✓
- دانلود نمونه سوالات امتحانی ✓
- مشاوره کنکور ✓
- فیلم های انگیزشی ✓

 www.ToranjBook.Net

 [ToranjBook_Net](https://t.me/ToranjBook_Net)

 [ToranjBook_Net](https://www.instagram.com/ToranjBook_Net)

۱- آره‌ها را ادامه دهید:

۲۵ و ۳۱ و ۳۷ و — و — و —

۲۴۰۰ و ۲۸۰۰ و ۳۰۰۰ و — و — و —

۲۵۰۰ و ۳۵۰۰ و ۴۵۰۰ و — و — و —

$\frac{2}{2}$ و $\frac{4}{4}$ و — و —
 $\frac{2}{2}$ و $\frac{4}{4}$ و — و —

(شکل هم بکشید)

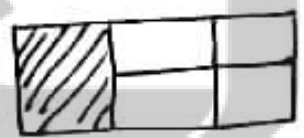
جایزه - بیست و یک و — و — و —

۲- قاطعه در آپارتمان زندگی کرد که چهار طبقه دارد، در هر طبقه ۲ واحد وجود دارد. اگر هر واحد ۳ اتاق داشته باشد

واحد				
اتاق				

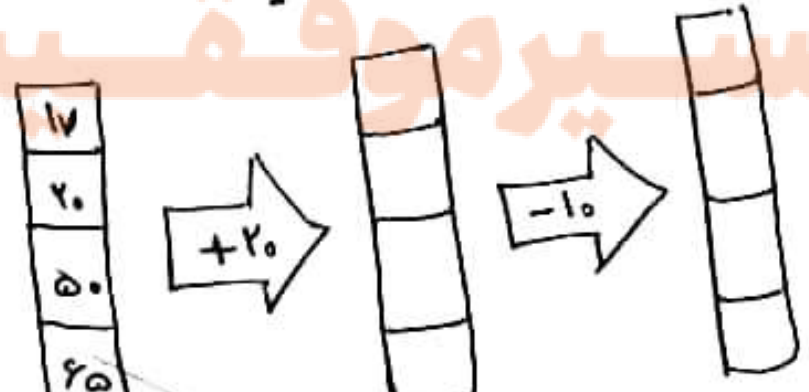
الف) این آپارتمان چند اتاق دارد؟
ب) این آپارتمان روی هم چند واحد دارد؟


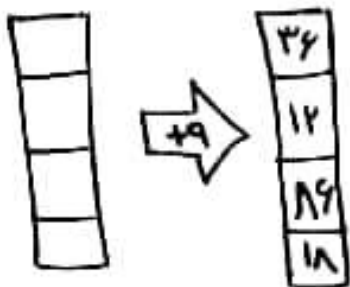
۳- چه کسری از شکل مقابل رنگ است؟



- الف) $\frac{2}{6}$ ب) $\frac{1}{3}$ ج) $\frac{2}{3}$ د) $\frac{3}{6}$

۴- درماشین‌های معدنی و فوری زیر، اجزای تقالی را با عدد مناسب کامل کنید:

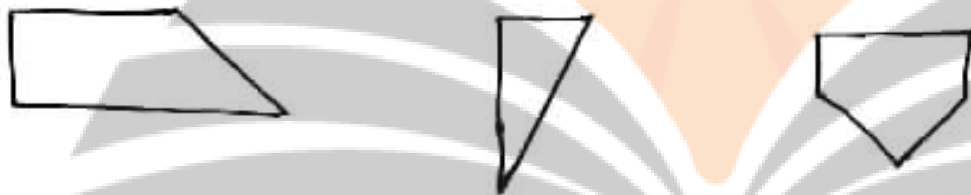




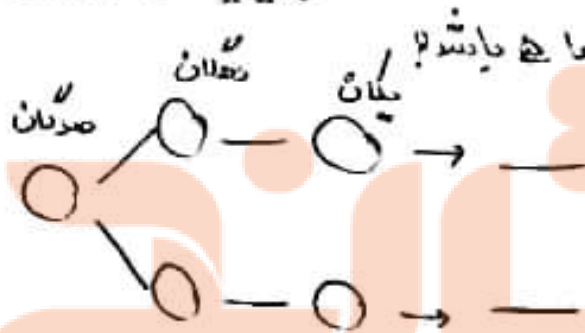
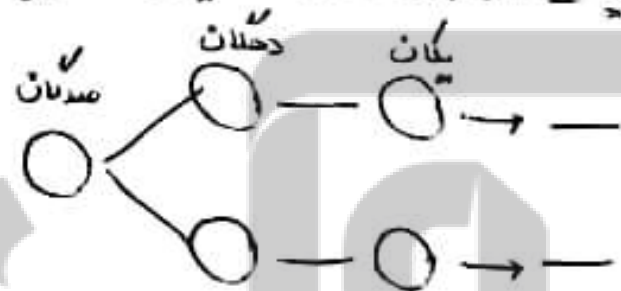
۵- جدول زیر را کامل کنید:

زمان	۱۳		۲۳:۱۵'		۷:۳۰'
بعد از ظهر		۴:۳۰'		۹ ربع ۱۴	

۶- زاویه‌ی راست شکل‌های زیر را مشخص کنید:



۷- عدد‌های سه رقمی را بنویسید که رقم صدگان آن‌ها ۳ یا ۵، رقم دهگان آن‌ها ۲ یا ۴ و رقم یکان آن‌ها ۵ باشد:



۸- جاهای خالی را کامل کنید:

۳ کیلومتر و ۴۷ متر _____ متر است.

۹۷۲ سانتی متر _____ متر و _____ سانتی متر است.

۳۶ گرم _____ کیلوگرم و _____ گرم است.

چهار کیلوگرم _____ گرم است.

عوامل ضرب هر عددی در یک برابر است با _____

در الگوی شمارش ۷ تا ۷ یا ۴۹ _____ عدد است (کمترین عدد است)

۹- کلاسها و عبارت های مناسب را به هم وصل کنید.

خط کش

بهترین وسیله برای کشیدن زاویه راست

گوتیا

بهترین وسیله برای کشیدن دایره

بردار

بهترین وسیله برای کشیدن خط راست

○○○○○
○○○○○
○○○○○
○○○○○

۱۰- کدام ضرب مربوط به شکل روبرو است؟

الف) 5×6 ب) 1×7 ج) 2×9 د) 5×4

○○ ○○
○○ ○○

□□□ □□□
□□□ □□□
□□□ □□□

△△

۱۱- برای شکل های زیر یک ضرب بنویسید

۱۲- عددهای زیر را روی محور نشان دهید



$\frac{3}{4}$ واحد بزرگتر عدد ۳



$\frac{2}{5}$ واحد قبل از عدد ۲

۱۳- یک دایره بکشید که قطر آن ۴ سانتی متر باشد. $\frac{3}{8}$ آن را رنگ کنید و بنویسید چه کسری از دایره رنگ شده است؟

۱۴- بار رسم شکل برای کسر زیر کسرهای تساوی بنویسید (شکل بکشید)

$\frac{2}{4} = \frac{\quad}{\quad} = \frac{\quad}{\quad}$

۱۵- عددهای زیر را به صورت گسترده (باز نموده) بنویسید

$37.2 =$

$2010 =$

$9547 =$

$7890 =$

$2235 =$

$1290 =$

$2040 =$


تلاشی در مسیر موفقیت



- دانلود گام به گام تمام دروس ✓
- دانلود آزمون های قلم چی و گاج + پاسخنامه ✓
- دانلود جزوه های آموزشی و شب امتحانی ✓
- دانلود نمونه سوالات امتحانی ✓
- مشاوره کنکور ✓
- فیلم های انگیزشی ✓

 www.ToranjBook.Net

 [ToranjBook_Net](https://t.me/ToranjBook_Net)

 [ToranjBook_Net](https://www.instagram.com/ToranjBook_Net)