


تلاشی در مسیر موفقیت



- دانلود گام به گام تمام دروس ✓
- دانلود آزمون های قلم چی و گاج + پاسخنامه ✓
- دانلود جزوه های آموزشی و شب امتحانی ✓
- دانلود نمونه سوالات امتحانی ✓
- مشاوره کنکور ✓
- فیلم های انگیزشی ✓

 [www.ToranjBook.Net](http://www.ToranjBook.Net)

 [ToranjBook\\_Net](https://t.me/ToranjBook_Net)

 [ToranjBook\\_Net](https://www.instagram.com/ToranjBook_Net)

یکان	دهگان	صدگان	هزارگان

۱. با توجه به شکل جاهای خالی را کامل کنید.

به عدد : .....

به حروف : .....

۲. الگوهای عددی زیر را کامل کنید.

..... - ..... - ۲۸۰۰ - ..... - ۲۴۰۰ - ۲۲۰۰ .....  
 ..... - ..... - ۱۲۴ - ..... - ۱۱۸ - ۱۱۵

۳. به سوالهای زیر جواب بده.

(الف) امروز فوتبال ساعت ۱۶ پخش می شود. فوتبال چه ساعتی از بعد از ظهر پخش می شود؟

(ب) حسن ۵۰ تومان پول دارد. او چند ریال پول دارد؟

۴. جواب درست را انتخاب کن.

(الف) ۱۰۰۰ آدم در یک ..... جا می گیرند. ( اتاق - خانه - باغ )

(ب) هر ۱۰۰ سانتی متر یک ..... است. ( متر - کیلومتر )

(ج) هر یک کیلومتر ..... است. ( ۱۰۰ متر - ۱۰۰۰ متر )

(د) ۲ کیلوگرم یعنی ..... ( ۲ هزار گرم - ۲۰ کیلوگرم )

(ه) بهترین وسیله برای کشیدن زاویه راست ..... است. ( پرگار - گونیا )

۵. باز شده ی اعداد را طبق نمونه بنویسید.

$$۲۵۶ = ۲۰۰ + ۵۰ + ۶$$

$$۴۰۵۸ =$$

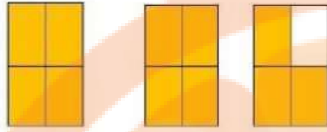
$$۵۰۰ + ۴۰ + ۲ =$$

$$۳۰۰۰ + ۳۰۰ + ۳۰ + ۰ =$$

ریاضی  
پایه سوم  
دبستان امام سجاد

تلاشی در مسیر موفقیت

۶. با توجه به شکل جای خالی را کامل کن.



..... واحد و ..... از یک واحد رنگ شده

۷. علی  $\frac{1}{4}$  و حمید  $\frac{1}{3}$  از پول خود را پس انداز می کنند. با کشیدن شکل نشان دهید کدام یک از آنها بیشتر

ریاضی  
پایه سوم

پس انداز کرده اند؟

دبستان امام سجاد

۸. در جای خالی علامت  $< = >$  بگذار.

۶۸۹۹  ۶۸۵۵

۱۰۰۰  ۲۰۰۰

۳۳۵۰  ۳۳۵۲

۱۵+۵  ۱۰+۱۵

۹. سعید ۶ بسته شکلات دارد و در هر بسته ی آن ۳ شکلات وجود دارد. سعید چند شکلات دارد؟

۱۰. مادر من ۲۸ سیب دارد و می خواهد آنها را به ۴ نفر از همسایه ها بدهد. به هر همسایه چند سیب می رسد؟

تلاشی در مسیر موفقیت


تلاشی در مسیر موفقیت



- دانلود گام به گام تمام دروس ✓
- دانلود آزمون های قلم چی و گاج + پاسخنامه ✓
- دانلود جزوه های آموزشی و شب امتحانی ✓
- دانلود نمونه سوالات امتحانی ✓
- مشاوره کنکور ✓
- فیلم های انگیزشی ✓

 [www.ToranjBook.Net](http://www.ToranjBook.Net)

 [ToranjBook\\_Net](https://t.me/ToranjBook_Net)

 [ToranjBook\\_Net](https://www.instagram.com/ToranjBook_Net)