


تلاشی در مسیر موفقیت



- دانلود گام به گام تمام دروس ✓
- دانلود آزمون های قلم چی و گاج + پاسخنامه ✓
- دانلود جزوه های آموزشی و شب امتحانی ✓
- دانلود نمونه سوالات امتحانی ✓
- مشاوره کنکور ✓
- فیلم های انگیزشی ✓

 www.ToranjBook.Net

 [ToranjBook_Net](https://t.me/ToranjBook_Net)

 [ToranjBook_Net](https://www.instagram.com/ToranjBook_Net)

جاهای خالی را با کلمه های مناسب کامل کنید .

- ۱- حاصل ضرب هر عدد در صفر برابر است با
- ۲- جای نون سوزن پرگار است.
- ۳- واحد مساحت است.
- ۴- مساحت هر مستطیل برابر است با حاصل ضرب اندازه های و آن.

جواب صحیح را با علامت (X) مشخص کنید.

۱- یک ساعت دقیقه است.

- ۴۰ دقیقه ۲۰ دقیقه ۵۰ دقیقه ۶۰ دقیقه

۲- جواب تقسیم را می گویند.

- حاصل ضرب باقی مانده خارج قسمت حاصل جمع

۳- دو خط که همدیگر را قطع نکنند و خط می گویند.

- متقاطع متوازی راست پاره خط

۴- اگر قطر دایره ای ۱۸ سانتی متر باشد شعاع این دایره چند سانتی متر است؟

- ۸ ۶ ۵ ۹

عدد ۴۵۰ را با حروف بنویسید.

با حروف این عدد چند رقمی است؟

رقم ۴ در چه مرتبه ای از ارزش مکانی قرار دارد؟

۲- جاهای خالی را با عدد مناسب کامل کنید؟

$$(4 \times 10) + (4 \times 8) = 4 \times \square$$

$$1 \times \square = 21$$

$$25 \div 5 = \square$$

$$4 \times 6 = \square$$

$$2 \times 3 \times 10 = \square$$

$$81 \div 9 = \square$$

$$\square \times 14 = 140$$

$$9 \times 30 = \square$$

$$\square \div 6 = \square$$

۳- حاصل ضرب های زیر را بدست آورید؟

$$\begin{array}{r} 43 \\ \times 3 \\ \hline \end{array}$$

$$\begin{array}{r} 65 \\ \times 6 \\ \hline \end{array}$$

به نام خدا

مدرسه نیکان

پایه سوم

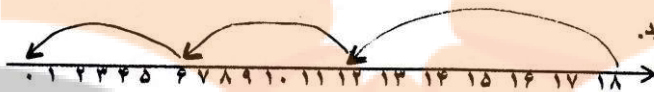
نام و نام خانوادگی



۴- خط تقارن شکل را مشخص کنید.



۵- ساعت را با عملیات بخوانید.



۶- تساوی محور زیر را بنویسید.

۷- شکل استوانه را رسم کنید.

۸- اتوبوسی ساعت ۹ صبح از اصفهان حرکت کرد و ساعت ۶ بعد از ظهر به تهران رسید. این اتوبوس چند ساعت در راه بوده است؟

۹- حوضی داریم به شکل مربع که هر ضلع آن ۸ متر است محیط و مساحت این حوض را حساب کنید؟

موفق باشید

نیکان
تلاشی در مسیر موفقیت


تلاشی در مسیر موفقیت



- دانلود گام به گام تمام دروس ✓
- دانلود آزمون های قلم چی و گاج + پاسخنامه ✓
- دانلود جزوه های آموزشی و شب امتحانی ✓
- دانلود نمونه سوالات امتحانی ✓
- مشاوره کنکور ✓
- فیلم های انگیزشی ✓

 www.ToranjBook.Net

 [ToranjBook_Net](https://www.toranjbook.net)

 [ToranjBook_Net](https://www.toranjbook.net)