


تلاشی در مسیر موفقیت



- دانلود گام به گام تمام دروس ✓
- دانلود آزمون های قلم چی و گاج + پاسخنامه ✓
- دانلود جزوه های آموزشی و شب امتحانی ✓
- دانلود نمونه سوالات امتحانی ✓
- مشاوره کنکور ✓
- فیلم های انگیزشی ✓

 [www.ToranjBook.Net](http://www.ToranjBook.Net)

 [ToranjBook\\_Net](https://www.toranjbook.net)

 [ToranjBook\\_Net](https://www.toranjbook.net)

## بسمه تعالی

نام و نام خانوادگی : آزمون ریاضی نوبت اول دی ماه کلاس سوم

امام علی (ع) می فرمایند : یاد خدا عقل را آرامش می دهد، دل را روشن می کند و رحمت او را فرود می آورد.

۱- جاهای خالی را کامل کنید .

۲ هزارتایی و ۶ یکی و ۵ ده تایی و ۰ صدتایی می شود .....

۷۰۸۶ به حروف می شود .....

دو هزار و سیصد و هفتاد و شش به رقم می شود .....

مکعب از ..... مربع درست شده است .

یک سانتی متر ..... میلی متر است .

۳ متر ..... سانتی متر است .

۲ کیلوگرم و ۲۵۰ گرم ..... گرم است .

۴۵۰۰ متر ..... کیلومتر و ..... متر است .

..... وسیله ای برای تشخیص زاویه ی راست است . مربع ..... زاویه ی راست دارد .

..... نصف قطر است . دایره ..... قطر دارد .

ساعت ۲۰ می شود ساعت ..... بعد از ظهر

ساعت ۳ بعد از ظهر می شود ساعت .....

\*\*\*\*\*

۲- یک صندلی ۴ پایه دارد . ۲ صندلی چند پایه دارد ؟

۳ صندلی چند پایه دارد ؟

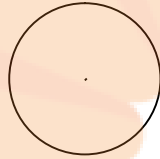
\*\*\*\*\*

۳- تمام عدد های سه رقمی که رقم صدگان آن ۲ و ۳ ، رقم دهگان آن ۵ و رقم یکان آن ۴ باشد را بنویسید .

۴- ۲۰۰۰ لیره ی کشوری ۱۰ ریال است . ۳ تومان چند لیره ی این کشور است ؟

\*\*\*\*\*

۵- ساعت یک ربع مانده به ۸ را نشان دهید.



۶- عدد داه شده را روی محور نشان دهید . ۲ واحد بعد از عدد ۱

۳

\*\*\*\*\*

۷- کسر های زیر را با زدن علامت ( $<$   $=$   $>$ ) مقایسه کنید .

$$\frac{1}{3} \bigcirc \frac{1}{2}$$

$$\frac{2}{3} \bigcirc \frac{1}{3}$$

$$\frac{4}{8} \bigcirc \frac{1}{8}$$

$$\frac{5}{8} \bigcirc \frac{2}{8}$$

\*\*\*\*\*

۸- عددی را به اضافه ی ۱۰ کردیم ، حاصل ۱۷ شد . آن عدد چیست ؟

\*\*\*\*\*

۹- دایره ای به شعاع ۲ سانتی متر رسم کنید .

بهترین وسیله برای رسم دایره چیست ؟ .....

۱۰- حاصل ضرب ها را به روش های خواسته شده به دست آورید .

$3 \times 4$

بارسم شکل

$5 \times 9$

با نوشتن

$6 \times 5$

با شمارش ۵ تا ۵ تا

$2 \times 6$

با محور

\*\*\*\*\*

$8500 \square 6800$

$3520 \square 3589$

۱۱- دخترم عدد ها را باهم مقایسه کنید .

۱۲- فاطمه ۲۷ کیک خرید . او می خواهد کیک ها را به ۹ نفر از دوستانش بدهد . به هر نفر چند کیک می رسد ؟

\*\*\*\*\*

۱۳- زهرا ۸ سال و مادرش ۳۲ سال دارد . سن مادر زهرا چند برابر سن اوست ؟

۱۴- دو خط موازی رسم کنید .

\*\*\*\*\*

امید های آینده روشنیست و سربلندی شما آرزوی همیشگی مااست .

پارخورک معلم :

تاشی درمسیر موفقیت


تلاشی در مسیر موفقیت



- دانلود گام به گام تمام دروس ✓
- دانلود آزمون های قلم چی و گاج + پاسخنامه ✓
- دانلود جزوه های آموزشی و شب امتحانی ✓
- دانلود نمونه سوالات امتحانی ✓
- مشاوره کنکور ✓
- فیلم های انگیزشی ✓

 [www.ToranjBook.Net](http://www.ToranjBook.Net)

 [ToranjBook\\_Net](https://www.toranjbook.net)

 [ToranjBook\\_Net](https://www.toranjbook.net)