


تلاشی در مسیر موفقیت



- دانلود گام به گام تمام دروس ✓
- دانلود آزمون های قلم چی و گاج + پاسخنامه ✓
- دانلود جزوه های آموزشی و شب امتحانی ✓
- دانلود نمونه سوالات امتحانی ✓
- مشاوره کنکور ✓
- فیلم های انگیزشی ✓

 www.ToranjBook.Net


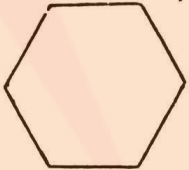
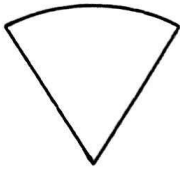
 [ToranjBook_Net](https://t.me/ToranjBook_Net)

 [ToranjBook_Net](https://www.instagram.com/ToranjBook_Net)

۱ عدد ۷۵۲۳ را با حروف بنویسید.

باز شده ی این عدد را بنویسید

۲ برای شکل های زیر خط تقارن رسم کنید؟



۳ عدد های زیر را روی محور نشان بده.



$\frac{1}{2}$ واحد بعد از عدد ۳



$\frac{3}{4}$ واحد مانده به عدد ۱

۵۳۲۰ ○ ۱۹۶۷

$\frac{3}{5}$ ○ $\frac{1}{5}$

علامت < = > قرار دهید.

۲۳۲۴ ○ ۲۲۲۴

۲ واحد و $\frac{1}{4}$ واحد ○

۵ واحد و $\frac{2}{3}$ واحد

۵ یک مثلث زاویه دارد و یک مستطیل زاویه راست دارد.

۶ جاهای خالی را کامل کن.

الف) عدد یعنی ۳ بی. ۴ ده تایی، صفر صد تایی، ۵ هزار تایی

ب) ۲۷۰۰ گرم یعنی کیلوگرم و گرم



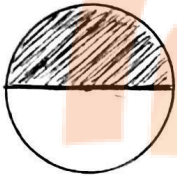
پ) ۳۲۵ سانتی متر یعنی متر و سانتی متر

ت) بهترین وسیله برای کشیدن دایره است.

۷ با رشم شکل حاصل جمع و تفریق را به دست آورید.

$$۱۲۳۲ + ۲۱۵۳$$

۸ برای هر شکل یک کسر بنویس.



۹ حاصل ضرب های زیر را بنویس.

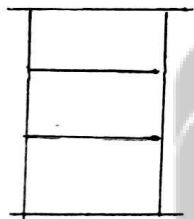
$۳ \times ۴ =$

$۵ \times ۲ =$

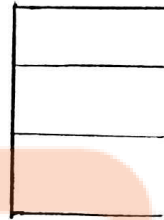
$۸ \times ۸ =$

$۹ \times ۲ =$

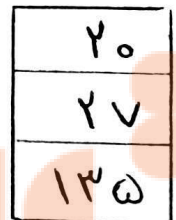
۱۰ با توجه به عددهای خروجی و کاری که ماشین انجام می دهد عددهای ورودی را بنویس.



+۱۲
→



-۵
→



۱۱ حاصل $۳ \times ۳ =$ را با روش های مختلف به دست آورید.

تلاشی در مسیر موفقیت


تلاشی در مسیر موفقیت



- دانلود گام به گام تمام دروس ✓
- دانلود آزمون های قلم چی و گاج + پاسخنامه ✓
- دانلود جزوه های آموزشی و شب امتحانی ✓
- دانلود نمونه سوالات امتحانی ✓
- مشاوره کنکور ✓
- فیلم های انگیزشی ✓

 www.ToranjBook.Net

 [ToranjBook_Net](https://t.me/ToranjBook_Net)

 [ToranjBook_Net](https://www.instagram.com/ToranjBook_Net)