


تلاشی در مسیر موفقیت



- دانلود گام به گام تمام دروس ✓
- دانلود آزمون های قلم چی و گاج + پاسخنامه ✓
- دانلود جزوه های آموزشی و شب امتحانی ✓
- دانلود نمونه سوالات امتحانی ✓
- مشاوره کنکور ✓
- فیلم های انگیزشی ✓

 www.ToranjBook.Net

 [ToranjBook_Net](https://t.me/ToranjBook_Net)

 [ToranjBook_Net](https://www.instagram.com/ToranjBook_Net)

باسمه تعالی

آموزش و پرورش ناحیه ۶ مشهد
دبستان دخترانه غیردولتی ترنج دانش

کلاس:

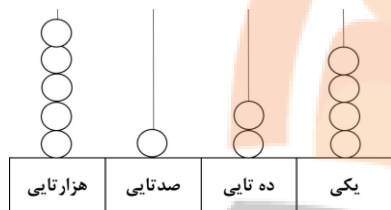
نام و نام خانوادگی:

نام درس:

نام آموزگار:

صفحات تا آخر فصل ۴

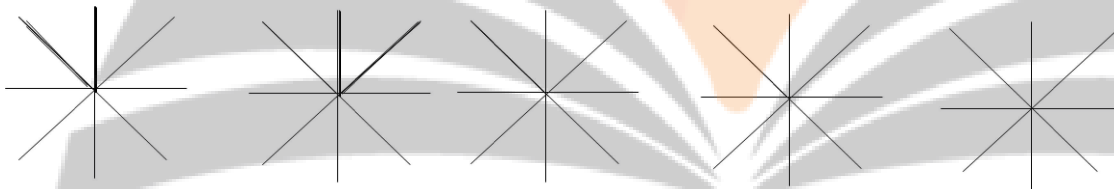
۱- عددی را که چرتکه نشان می دهد با رقم و حروف بنویس.



با رقم:

با حروف:

۲- الگوی زاویه ها را ادامه بده.

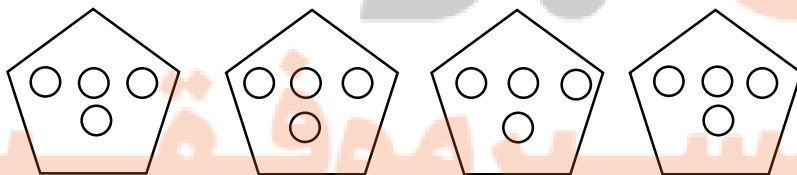


۳- زمان های زیر را با کامل کردن جاهای خالی نشان بده.

..... ساعت و $\frac{20}{60}$ از ساعت

۹ ساعت و از ساعت

۴- برای شکل زیر، یک تساوی ضرب بنویس.



..... × =

۵- در داخل عدد مناسب بنویس.

$$7 + 7 + 7 = \square \times 7$$



$$\square + \square + \square = 3 \times 6$$

۶- الگوها را ادامه بده.

۴, ۸, ۱۲, , , ,

۸, ۱۶, ۲۴, , , ,



۷- در الگوی شمارش ۹ تا ۹ تا، عدد بعد از ۴۵ چیست؟

۸- هر دست لیوان ۶ لیوان دارد. سه دست لیوان چند لیوان دارد؟

۹- در جای خالی عدد مناسب بنویس.

$$7 \times 8 = (\square \times \square) + (2 \times 8) = \square$$

$$9 \times 5 = (6 \times 5) + (3 \times \square) = \square$$

۱۰- عدد نویسی را به ترتیب ادامه بده.

۷۰۰۸ - ۷۰۰۹ - - -

۴۴۳۸ - ۴۴۳۹ - - -


۱۱- به دو خطی که هیچ وقت هم دیگر را قطع نمی کنند، خط های می گویند.

۱۲- برای شکل مقابل، یک ضرب و دو تقسیم بنویس.

$$\square \times \square = \square$$

$$\square \div \square = \square$$

$$\square \div \square = \square$$




۱۳- آقای سروری خیاطی می کند، او برای هر مانتو ۶ دکمه می دوزد.

۱۸ دکمه را به چند مانتو می تواند بدوزد؟

۱۴- امیرعلی ۱۴ سال دارد. برادرش ۷ ساله است.

سن امیرعلی چند برابر سن برادرش است؟



۱۵- کتاب خانه ی کلاسی ۴۲ کتاب دارد. اگر در هر قفسه ۷ کتاب چیده شود. این کتاب ها

در چند قفسه قرار می گیرند؟



نیازمند تلاش بیش تر

قابل قبول

خوب

خیلی خوب

نشانجی بوک
تلاشی در مسیر موفقیت


تلاشی در مسیر موفقیت



- دانلود گام به گام تمام دروس ✓
- دانلود آزمون های قلم چی و گاج + پاسخنامه ✓
- دانلود جزوه های آموزشی و شب امتحانی ✓
- دانلود نمونه سوالات امتحانی ✓
- مشاوره کنکور ✓
- فیلم های انگیزشی ✓

 www.ToranjBook.Net

 [ToranjBook_Net](https://t.me/ToranjBook_Net)

 [ToranjBook_Net](https://www.instagram.com/ToranjBook_Net)