


تلاشی در مسیر موفقیت




- دانلود گام به گام تمام دروس ✓
- دانلود آزمون های قلم چی و گاج + پاسخنامه ✓
- دانلود جزوه های آموزشی و شب امتحانی ✓
- دانلود نمونه سوالات امتحانی ✓
- مشاوره کنکور ✓
- فیلم های انگیزشی ✓

 [www.ToranjBook.Net](http://www.ToranjBook.Net)

 [ToranjBook\\_Net](https://t.me/ToranjBook_Net)

 [ToranjBook\\_Net](https://www.instagram.com/ToranjBook_Net)

مدت زمان آزمون: ۴۵ دقیقه	ساعت شروع آزمون:	نوع آزمون: مداد کاغذی نام آزمون: ریاضی	دبستان غیردولتی ره آورد حویق سال تحصیلی ۱۴۰۰-۱۳۹۹ 
پایه: سوم	تاریخ آزمون: ۱۴۰۰/۲/۲۵	نام و نام خانوادگی آموزگار: فاطمه هاشمی	نام و نام خانوادگی:

آموختن علم بر هر انسانی واجب است. همانا خداوند علم آموزان را دوست دارد. حضرت رسول اکرم (ص)

۱\_ صحیح و غلط بودن عبارات را مشخص کنید.

- الف) در مستطیل ضلع های رو به رو مساوی و موازی هستند.      ص      غ
- ب) در شمارش ۶ تا ۶ تا عدد بعد از ۳۶ ، ۴۸ است.      ص      غ
- ج) بهترین وسیله برای رسم دایره پرگار است.      ص      غ
- د) مساحت مربع یک ضلع ضربدر خودش است.      ص      غ

۲\_ ۶۳۲۸ گرم یعنی ..... کیلوگرم و ..... گرم

۳\_ خط های تقارن شکل های زیر را بکشید.

۴\_ روی محور مشخص کنید.

واحد بعد از عدد ۲



۵\_ با توجه به اینکه زهرا هر شکلات را ۱۵۰ تومان می خرد و ۲۰۰ تومان می فروشد. جدول زیر را کامل کرده و به

سوالات پاسخ درست دهید.

تعداد شکلات	۱	۲	۳	۴	۵
سود شکلات	۵۰	۱۰۰			

زهرا چند شکلات باید بفروشد تا با سودش بتواند یک شکلات دیگر بخرد؟

۶\_ کسر های زیر را روی یک شکل نشان دهید.

۷\_ ضرب های زیر را به روش های خواسته شده نشان دهید .

به روش محور :

به روش رسم شکل :


۸\_ محیط شکل های داده شده را حساب کنید .



۹\_ مقدار برداشت یک کشاورز از مزرعه اش به شرح زیر است ،

آن را در نمودار ستونی و دایره ای قرار دهید .

گندم	جو	برنج
۱۰	۱۰	۴۰



۱۰\_ حاصل عبارت های زیر را بدست آورید .

تلاشی در مسیر موفقیت



- دانلود گام به گام تمام دروس ✓
- دانلود آزمون های قلم چی و گاج + پاسخنامه ✓
- دانلود جزوه های آموزشی و شب امتحانی ✓
- دانلود نمونه سوالات امتحانی ✓
- مشاوره کنکور ✓
- فیلم های انگیزشی ✓

 [Www.ToranjBook.Net](http://Www.ToranjBook.Net)

 [ToranjBook\\_Net](https://t.me/ToranjBook_Net)

 [ToranjBook\\_Net](https://www.instagram.com/ToranjBook_Net)