


تلاشی در مسیر موفقیت



- دانلود گام به گام تمام دروس ✓
- دانلود آزمون های قلم چی و گاج + پاسخنامه ✓
- دانلود جزوه های آموزشی و شب امتحانی ✓
- دانلود نمونه سوالات امتحانی ✓
- مشاوره کنکور ✓
- فیلم های انگیزشی ✓

 www.ToranjBook.Net

 [ToranjBook_Net](https://www.toranjbook.net)

 [ToranjBook_Net](https://www.toranjbook.net)



به نام خالق زیبایی ها

دبستان شاهد حسین و فاطمه

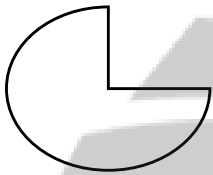
موضوع : ریاضی

تاریخ :

ناحیه یک یزد

نام و نام خانوادگی :

۱- تمام عدد های چهار رقمی که یکان آنها ۵۰ و دهگانهاشان ۸ و ۱ و صدگانهاشان ۶ و ۷ هزارگانهاشان ۲ باشد را به روش شاخه ای بنویسید



۲- هر کدام گسترده ی چه شکلی است ؟



۳- دو عدد ۴۳۵۸ و ۲۴۹۲ را به روش فرایندی جمع و تفریق کنید .

۴- ضرب دو عدد ۱۷۹ (هر دسته) و ۶ (دسته) را به صورت ستونی و سطری به روش فرایندی انجام دهید.

$$۴ \times \square = ۱۲$$

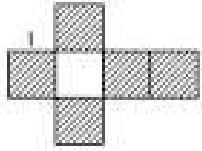
۵- با توجه به ضرب داده شده کارهای خواسته شده را انجام دهید.

الف) تقسیم مربوط به ضرب را بنویسید.

ب) برای تقسیمی که نوشتید شکل بکشید.

برای تقسیم مسئله بسازید.

۶- تقسیم را به کمک مضربهای مربوط به آن حل کنید



۷- مساحت قسمت رنگ شده را بدست آورید .

$$۳ \times ۲ \times ۵ =$$

۸- مسئله بسازید و در آن از کلمه های (کیک ، روز و هفته) استفاده کنید.

۹- نمودار دایره ای و ستونی تعداد درختان باغ را رسم کنید.

نام درخت	تعداد
گردو	۲۰۰
آلو	۱۰۰
سیب	۲۵۰
هلو	۱۵۰
بادام	۳۰۰

۱۰- می خواهیم دور تادور باغچه ای به طول ۴ و عرض ۳ متر را دو ردیف نرده بکشیم. چه مقدار نرده نیاز است ؟

۱۱- کیوان ۵ کیلو سیب و محسن ۴ برابر او سیب خرید . محسن و کیوان چند کیلو سیب خریدند؟ (به روش زیر مسئله حل شود .)



۱۲- محصول میوه ی باغی را در ۲۸ جعبه ی ۳۴ کیلویی گذاشتند . این باغ به طور تقریبی چه مقدار محصول دارد؟

۱۳- زهرا ساعت ۸ از منزل خارج شد و ساعت ۲ باز گشت. چند ساعت خارج از منزل بوده است ؟ زمان رسیدن را به روش دیگر محاسبه کرده و بنویسید.

۱۴- با سیمی به طول ۳۲ سانتی متر یک مربع درست کردیم . مساحت این مربع چه مقدار است ؟

۱۵- سیما و سیمین هر دو به یک مقدار پول دارند . سیما یک چهارم و سیمین دو پنجم پول خود را خرج کرد . چه کسی بیشتر پول برایش باقی مانده است؟ (رسم شکل و جمله ی حل مسئله)

نشان بده
بزرگ
تلاشی در مسیر موفقیت


تلاشی در مسیر موفقیت



- دانلود گام به گام تمام دروس ✓
- دانلود آزمون های قلم چی و گاج + پاسخنامه ✓
- دانلود جزوه های آموزشی و شب امتحانی ✓
- دانلود نمونه سوالات امتحانی ✓
- مشاوره کنکور ✓
- فیلم های انگیزشی ✓

 www.ToranjBook.Net

 [ToranjBook_Net](https://www.toranjbook.net)

 [ToranjBook_Net](https://www.toranjbook.net)