


تلاشی در مسیر موفقیت



- دانلود گام به گام تمام دروس ✓
- دانلود آزمون های قلم چی و گاج + پاسخنامه ✓
- دانلود جزوه های آموزشی و شب امتحانی ✓
- دانلود نمونه سوالات امتحانی ✓
- مشاوره کنکور ✓
- فیلم های انگیزشی ✓

 www.ToranjBook.Net

 [ToranjBook_Net](https://t.me/ToranjBook_Net)

 [ToranjBook_Net](https://www.instagram.com/ToranjBook_Net)

به نام خدا

ارزشیابی ریاضی

دبستان ترنج دانش

نام :

پایه دوم-ترم پایانی خردادماه(۱۴۰۰)

آموزگار: خانم گرامی

نام خانوادگی :

۱- پاسخ صحیح را با علامت (X) داخل مشخص کنید.

- | | | |
|-------------------------------|---------------------------------|---|
| <input type="checkbox"/> درست | <input type="checkbox"/> نادرست | ❖ یک هشت ضلعی ۸ ضلع و گوشه دارد. |
| <input type="checkbox"/> درست | <input type="checkbox"/> نادرست | ❖ با رقم های ۳ و ۶ می توان دو عدد ساخت. |
| <input type="checkbox"/> درست | <input type="checkbox"/> نادرست | ❖ یک ربع همان ۱۵ دقیقه است. |
| <input type="checkbox"/> درست | <input type="checkbox"/> نادرست | ❖ عدد ۴۸ به ۴۰ نزدیک تر است. |
| <input type="checkbox"/> درست | <input type="checkbox"/> نادرست | ❖ عدد ۱۴۵ زوج است. |
| <input type="checkbox"/> درست | <input type="checkbox"/> نادرست | ❖ ده سکه ی ۱۰ ریالی برابر است با یک سکه ی صد ریالی. |
| <input type="checkbox"/> درست | <input type="checkbox"/> نادرست | ❖ در مستطیل همه ی ضلع ها با هم برابر است. |
| <input type="checkbox"/> درست | <input type="checkbox"/> نادرست | ❖ دو دسته ی ۳ تایی برابر است با ۹ تا |
| <input type="checkbox"/> درست | <input type="checkbox"/> نادرست | ❖ مثلث تقارن ۴ قسمتی دارد. |

۲- در جای خالی عدد یا عبارت مناسب بنویس.

- در شکل های چند ضلعی به تعداد ضلع ها داریم.
- ۷ دسته ی ده تایی منهای ۳ دسته ی ده تایی می شود
- کوچکترین عدد سه رقمی می باشد.
- ۱ سانتی متر همان میلی متر است.
- ۴۵ میلی متر برابر است با سانتی متر و میلی متر.
- در دایره تعداد ضلع ها و تعداد گوشه ها می باشد.

۳- با سه کارت ۲ و ۱ و ۷ چند عدد سه رقمی می توان نوشت؟ عددها را نوشته و دور عددهای فرد خط بسته بکشید.

۴- علامت $< = >$ بگذار.

$$\begin{array}{r} 22 \square 10+1+1+3+2 \\ +48 \\ \hline \end{array}$$

$$256 \square 265$$

$$37 \square 36+1$$

۵- در شمارش ده تا ده تا هر عدد بین چه اعدادی قرار می گیرد و به کدام عدد نزدیک تر است؟

- ۶۱ بین و و به نزدیک تر است.

- ۹۸ بین و و به نزدیک تر است.

۶- جمع و تفریق های زیر را انجام دهی

به روش فرآیندی

به روش فرآیندی

به روش انتقالی

به روش انتقالی

۲۵۱

۸۷۸

۴۷۱

۷۱۵

+۴۳۸

-۳۲۴

+۳۹۹

-۲۹۸

۷- عددی را پیدا کنید که اگر با ۴۶ جمع کنیم جواب ۷۸ می شود. (از هر روشی که دوست دارید

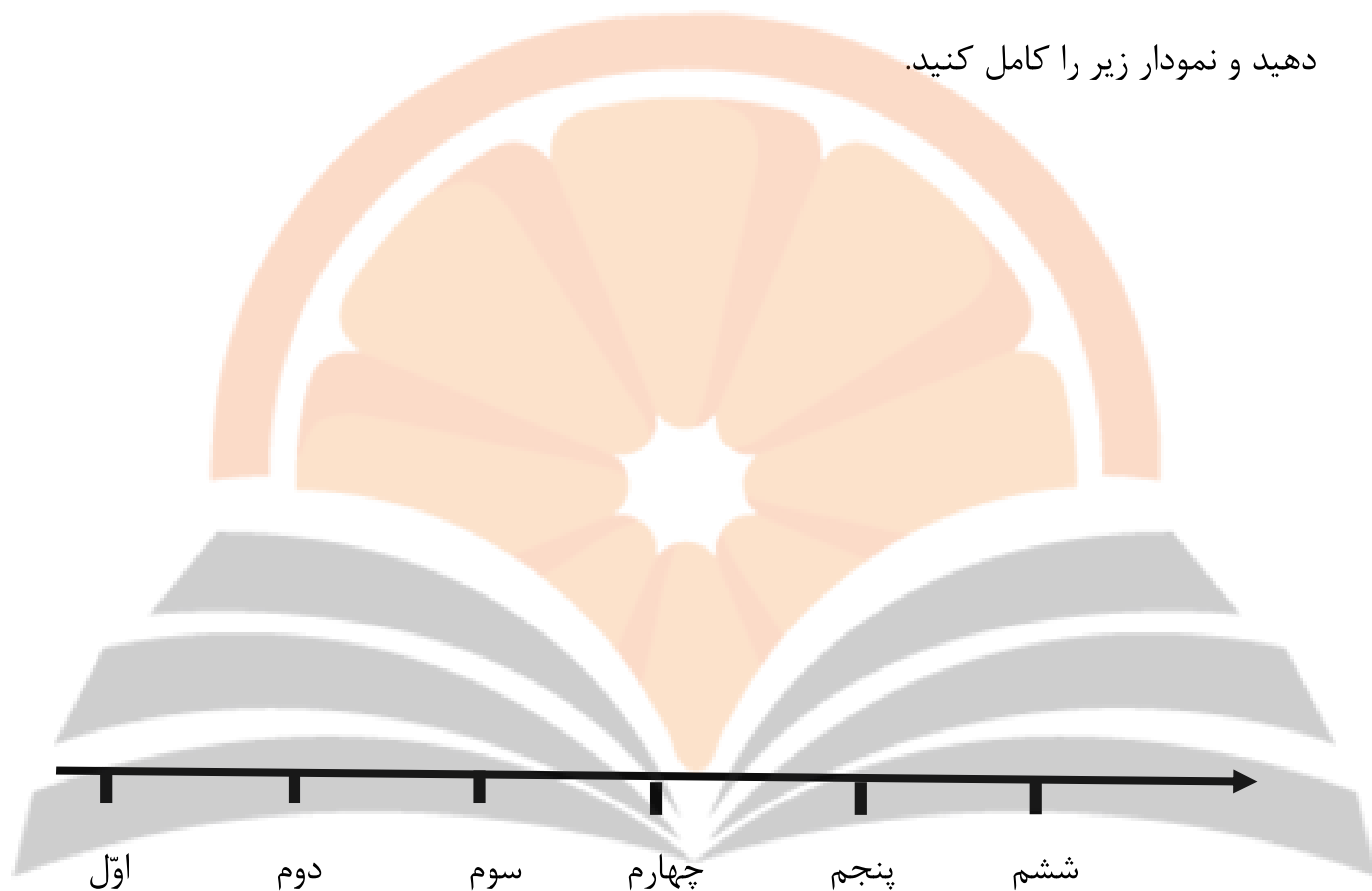
پاسخ دهید.)

$$\square + 46 = 78$$

۸- ملیکا ۲۵۰ صفحه از یک کتاب را خوانده است. اگر کتاب ۴۳۰ صفحه داشته باشد. چند صفحه از

کتاب باقی مانده است؟

ابتدا تعداد تقریبی دانش آموزان را در جدول بنویسید و سپس هر ۱۰ دانش آموز را با 😊 نشان دهید و نمودار زیر را کامل کنید.



پنجم بزرگ بوک
تلاشی در مسیر موفقیت

گرامی


تلاشی در مسیر موفقیت



- دانلود گام به گام تمام دروس ✓
- دانلود آزمون های قلم چی و گاج + پاسخنامه ✓
- دانلود جزوه های آموزشی و شب امتحانی ✓
- دانلود نمونه سوالات امتحانی ✓
- مشاوره کنکور ✓
- فیلم های انگیزشی ✓

 www.ToranjBook.Net

 [ToranjBook_Net](https://t.me/ToranjBook_Net)

 [ToranjBook_Net](https://www.instagram.com/ToranjBook_Net)

تلاشی در مسیر موفقیت



- دانلود گام به گام تمام دروس ✓
- دانلود آزمون های قلم چی و گاج + پاسخنامه ✓
- دانلود جزوه های آموزشی و شب امتحانی ✓
- دانلود نمونه سوالات امتحانی ✓
- مشاوره کنکور ✓
- فیلم های انگیزشی ✓

 www.ToranjBook.Net

 [ToranjBook_Net](https://t.me/ToranjBook_Net)

 [ToranjBook_Net](https://www.instagram.com/ToranjBook_Net)